

بِسْمِ اللَّهِ الرَّحْمَنِ الرَّحِيمِ

جزوه

سازه های فولادی

دانشگاه

علم و صنعت

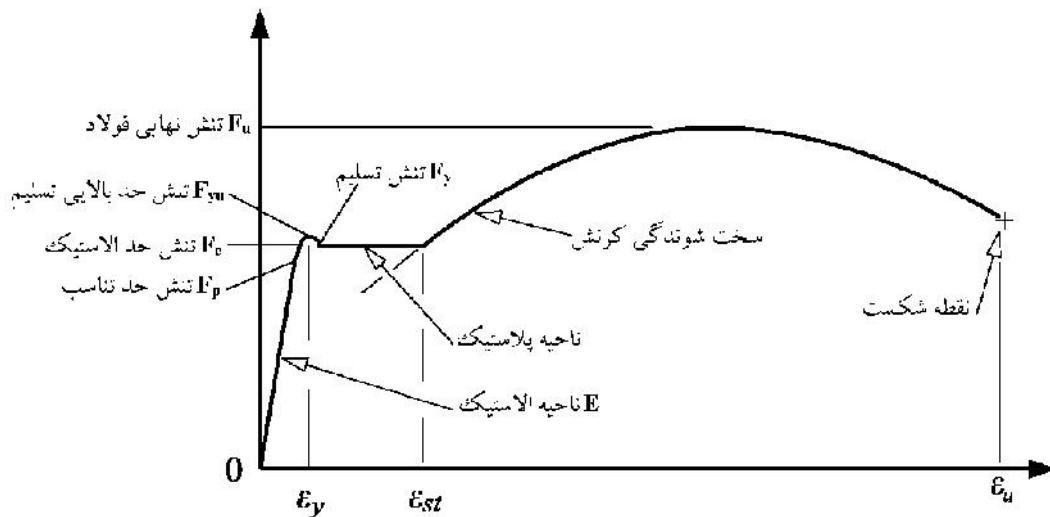
استاد

دکتر حسن زاده

طراحی سازه‌های فولادی

- ۱) مشخصات فیزیکی فولاد ۱
- ۲) اعضای کششی ۷
- ۳) ستونها ۲۱
- ۳-۱- تنش های پسماند ۲۱
- ۳-۲- ضریب K ۲۴
- ۴) تیر ۴۲
- ۴-۱- ضریب شکل ۴۳
- ۴-۲- کماتش موضعی ۴۴
- ۴-۳- کماتش پیچشی جانبی ۴۷
- ۴-۴- صفحات تقویتی ۵۲
- ۴-۵- کاهش لنگر ۵۶
- ۴-۶- خمش دو محوره ۵۸
- ۴-۷- کنترل خیز در تیرها ۵۸
- ۴-۸- تیر نعل درگاهی ۶۱
- ۴-۹- تیر مرکب ۶۲
- ۴-۱۰- تیر لانه رنبوری ۶۲
- ۴-۱۱- برش در تیر ۶۴
- ۴-۱۲- پیچش ۶۶
- ۵) تیر سنون ۶۹
- ۶) جوش ۷۴
- ۷) بیج ها ۸۲
- ۸) اتصالات ۹۱
- ۹) ورق پای سنون (Base plate) ۱۰۱
- ۱۰) تیرورق ها ۱۰۵
- ۱۰-۱- انواع کماتش ها ۱۰۵
- ۱۰-۲- اثر بار متمرکز ۱۰۷
- ۱۱) مسائل لرنه‌ای ۱۱۳

(۱) مشخصات فیزیکی فولاد



شکل ۱: منحنی تنش کرنش فولاد نرمه ساختمانی

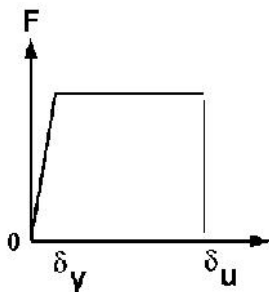
F_p : رفتار فولاد تا این نقطه به صورت خطی است و شیب منحنی تنش-کرنش تا این نقطه به صورت خط راست می باشد.
 F_e : رفتار فولاد تا این نقطه به صورت الاستیک است و هنگام بار برداری، برگشت منحنی دقیقاً مطابق منحنی اولیه (منحنی بارگذاری) می باشد.

F_{yu} : این نقطه حد بالای تسلیم را نشان می دهد. پس از این نقطه یک پله تسلیم خواهیم داشت و پس از پله تسلیم به نقطه ای می رسمیم که در شکل با F_y نشان داده شده است.

F_y : این نقطه حد پایینی تسلیم را نشان می دهد که نشان دهنده تنش تسلیمی است که به عنوان مشخصه اصلی فولاد بیان می شود. این مقدار برای فولاد نرمه موجود در ایران معمولاً برابر 2400 kg/cm^2 می باشد.

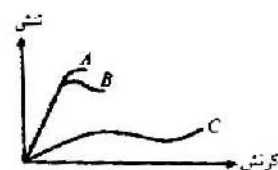
نکته: E فولاد برعکس بتن، بستگی به F_y ندارد و برای فولادهای با مقاومت بالاتر مقدار E تغییر نمی کند.

نکته: منحنی فوق مربوط به فولاد نرمه ساختمانی با $F_y=2400 \text{ kg/cm}^2$ می باشد. در منحنی های مربوط به فولادهای با مقاومت بالاتر پله تسلیم نداریم:



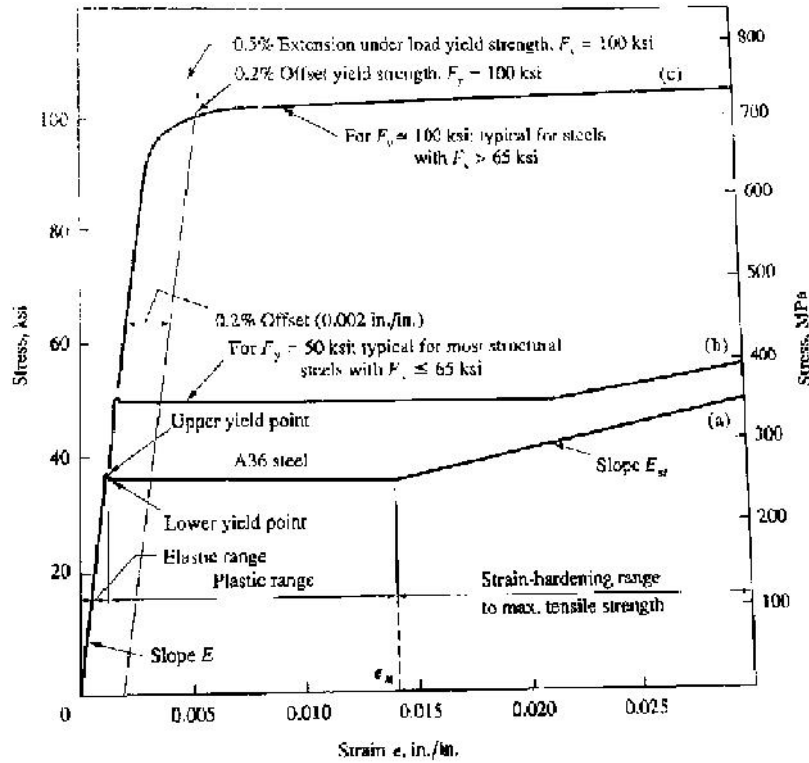
شکل پذیری (نرمی) = نسبت کرنش نهایی به کرنش تسلیم $\mu = \frac{\epsilon_u}{\epsilon_y}$
 = نسبت تغییر شکل نهایی به تغییر شکل ارتجاعی $\mu = \frac{\delta_u}{\delta_y}$

۴- نمودار تنش - کرنش سه نوع فولاد در شکل داده شده است. کدام نوع فولاد شکل پذیرتر می باشد؟ (۷۹۹)

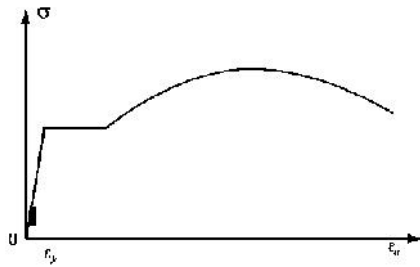


- A (۱)
- B (۲)
- C (۳)

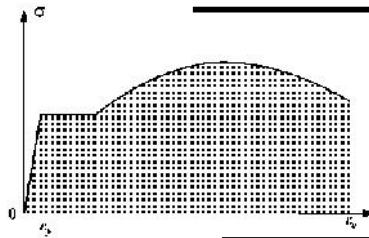
(۴) هر سه نوع فولاد شکل پذیری یکسانی دارند.



شکل ۲: منحنی تنش کرنش فولادهای مختلف ساختمانی



ضریب فنریت = سطح زیر منحنی تنش-کرنش تا ناحیه ارتجاعی
 = میزان جذب انرژی در ناحیه خطی

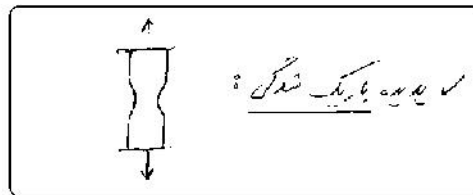


سفتی (چقرمگی) = سطح زیر منحنی تنش-کرنش تا ناحیه گسیختگی
 = میزان جذب انرژی ماده


$\left\{ \begin{array}{l} \downarrow \text{شکل پذیری} \\ \downarrow \text{جوش پذیری} \\ \uparrow I_y \\ \uparrow F_u \end{array} \right\}$	افزایش درصد کرن ←	$\left\{ \begin{array}{l} \uparrow \text{شکل پذیری} \\ \downarrow E \\ \downarrow F_y \\ \downarrow F_u \end{array} \right\}$	← افزایش حرارت

$$\left\{ \begin{array}{l} \text{بارگذاری دینامیکی} \\ \text{جوشکاری} \\ \text{وجود پارگی یا زدگی} \\ \text{تنش چند محوره} \end{array} \right\} \leftarrow \uparrow \text{تردشکنی}$$

✓ تکریب دایره ای $d = 2b_f$:
 دایره ای $d = b_f$:
 (مورد دوم خود)
 (۷۷)



تکریب تکریب : ✓ یا $d = 2b_f$ شکل :



✓ اثر باد و سگره فاصله بین تسلیم کشش و فشاری همیشه $2F_y$ است (نقطه زناهی استیک موقع است) $2F_y$

۱- کدام یک از موارد زیر در مورد فولاد ساختمانی صحیح است؟ (مهاجر ۷۷)

- ۱) هر چه مقاومت نهایی نسبت به مقاومت جاری شدن فولاد بزرگتر باشد، شکل پذیری آن بیشتر است.
 - ۲) هر چه تغییر شکل نسبی گسیختگی فولاد نسبت به تغییر شکل نسبی تسلیم بیشتر باشد، شکل پذیری آن بیشتر است.
 - ۳) هر چه سطح زیر منحنی تنش - کرنش فولاد از شروع بارگذاری تا نقطه گسیختگی بزرگتر باشد شکل پذیری بیشتر است.
 - ۴) هر چه میزان کربن، فسفر و گوگرد در آلیاژ فولاد بیشتر باشد، شکل پذیری آن بیشتر است.
- گزینه ۲ صحیح است.
- گزینه ۳ تعریف سفتی است.

(آی.آی. ۸۱)

۱۱- چنانچه فولاد در برابر حرارت قرار گیرد:

- ۱) مقاومت تسلیم آن کاهش می یابد.
- ۲) مقاومت تسلیم آن افزایش می یابد.
- ۳) مقاومت تسلیم آن تغییری نمی کند.
- ۴) مقاومت تسلیم به حد جاری شدن می رسد.

(مهاجر ۷- و نظام مهندسی)

۲- با افزایش مقدار کربن در آلیاژ فولاد:

- ۱) جوش پذیری فولاد بهتر می شود.
- ۲) فولاد شکننده شده، مقاومت آن افزایش یافته و جوش پذیری آن کاهش می یابد.
- ۳) فولاد شکننده شده، شکل پذیری آن افزایش یافته و جوش پذیری آن کاهش می یابد.
- ۴) هیچ تأثیری در خواص فولاد به وجود نمی آید.

۳- فولادهای مصرفی در سازه های مقاوم در برابر زلزله باید دارای مقاومت نهایی کششی حداقل

(آی.آی. ۸۱)

برابر مقاومت حد جاری شدن باشند.

- ۱) ۱/۲۵
- ۲) ۱/۳۰
- ۳) ۱/۳۰
- ۴) ۱/۴۰

استاندارد 2800 (بردی) گفته 1.3 بار بردی آیین نامه فولاد گفته 1.2

همه اگر بر صورت تست به زلزله است در صورت پاسخ 1.3

..... 1.2

۱۴- سازه‌های فولادی که در مقابل بارهای دینامیکی قرار می‌گیرند. (۷۷، ۷۶)

(۱) شکنندگی ترد آنها کاهش می‌یابد.

(۲) تغییر در شکنندگی ترد آنها اتفاق نمی‌افتد.

(۳) شکنندگی ترد آنها افزایش می‌یابد.

(۴) خمیدگی آنها افزایش می‌یابد.

(۷۷، ۷۶)

۱۵- فولاد در مقابل حرارت:

(۱) به ضریب الاستیسیته آن اضافه می‌شود.

(۲) به مقاومت کشش نهایی آن افزوده می‌شود.

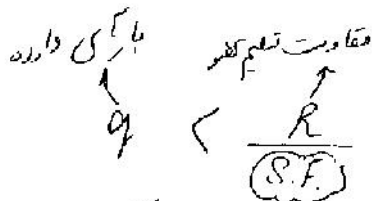
(۳) هیچ کدام

(۴) ضریب الاستیسیته آن کاهش می‌یابد.

طراحی استقامتی (ASD)

طراحی بردش مقاومت نهایی (LRFD) روش ضریب بار و مقاومت

طراحی خمیری (استیسی)



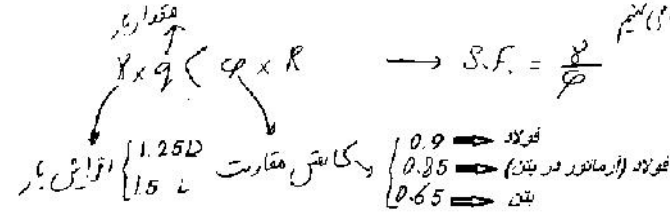
روش ASD

ضریب استقامتی = 1.67

مثال: یک عضو کشش در بار ۱۰ تن تسلیم شود اگر ضریب استقامتی ۲ باشد، حداکثر چه باربری می‌توان بر آن وارد کرد؟

$$Q_p = \frac{10}{2} = 5 \text{ بار مجاز}$$

روش LRFD به جای S.F. از ضرایب مختلف استفاده می‌کنیم



✓ تحت بارهای فوق العاده (زلزله) بارها را 25% کاهش می‌دهیم و یا مقاومت را 33% افزایش می‌دهیم.

اگر در طراحی یک عضو فولادی، بارهای واقعی از بار پیش‌بینی شده به میزان ۳۰٪ بیشتر و مقاومت واقعی از مقدار مقاومت محاسبه شده به میزان ۲۰٪ کمتر باشد، ضریب اطمینان طراحی چقدر می‌باشد؟

سراسری ۸۹

(۱) ۰/۶۷

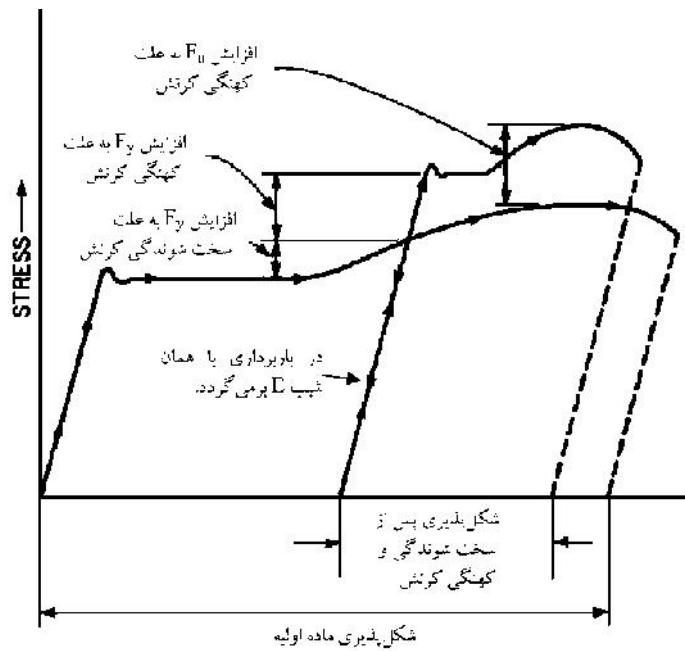
(۲) ۱/۳۳

(۳) ۱/۵

(۴) ضریب اطمینان برای اعضای فولادی همیشه ثابت و برابر ۱/۶۷ باشد

$$\left. \begin{aligned} \gamma &= 1.2 \\ \phi &= 0.8 \end{aligned} \right\} \rightarrow S.F. = 1.5$$

اثر کهنگی کرنش



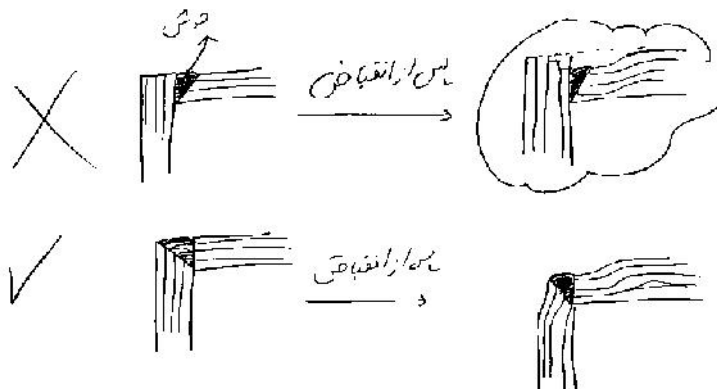
۵- اگر فولاد نرمه را تا پایان مرحله جاری شدن (تسلیم) تحت کشش قرار دهیم و بعد آزاد کنیم: (۳م مهندس)

(۱) فولاد مقاومت خود را از دست می‌دهد. (۲) فولاد تنش تسلیم بیشتری را بدست می‌آورد.

(۳) در شکل‌پذیری فولاد تغییری به وجود نمی‌آید. (۴) ضریب ارتجاعی فولاد تغییر نمی‌یابد.

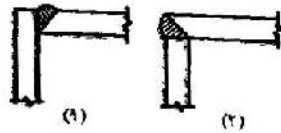
توجه: ورق‌های فولادی گودک یکدخت به‌نظری هستند و پس از تولید

شکل لایه‌های مجزای روی هم در می‌آیند



(تکامل مهندسی)

۱۶. کدام یک از دو وضعیت جوشکاری زیر صحیح تر است؟



(۱) هر دو گزینه یکسان هستند.

(۲) گزینه (۱)

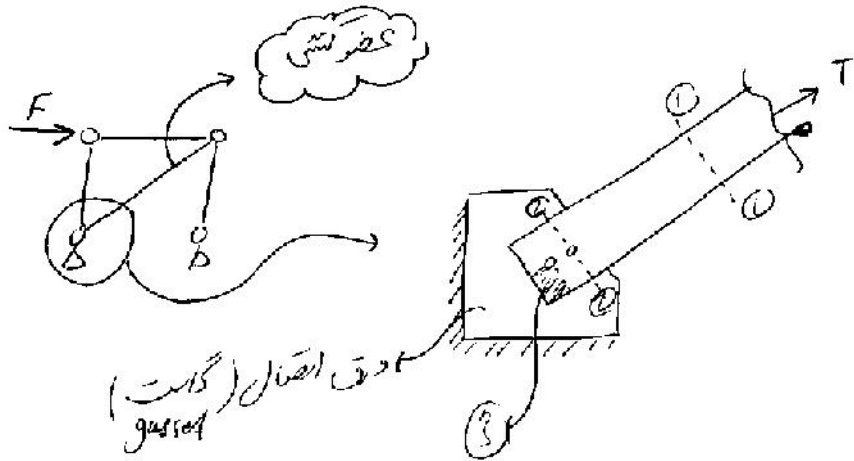
(۳) گزینه (۲)

(۴) هیچ کدام

اثر خستگی

اگر عضوی تحت اثر سیکل های بارگذاری و باربرداری زیاد قرار گیرد (مانند سازه پلها که هر بار با عبور ماشین یک سیکل بارگذاری و باربرداری را تجربه می کنند) تنش تسلیم آن کاهش می یابد.

۲) اعضای کششی



- ۱- تسلیم در مقطع کل
- ۲- گسیختگی در محل سوراخ

۳- برش قابلی

۴- کنترل لافری

۵- ترکست (زوال) بودت کم

نیروی کششی عضو \rightarrow $\frac{T}{A_g} < \{F_t = 0.6F_y\}$

مساحت مقطع عضو \rightarrow

تنش مجاز کششی \leftarrow

۱- کنترل تنش تسلیم مجاز کششی :

۲- کنترل پارگی یا گسیختگی کششی در مقطع موثر:

در مقاطع آهکسوراخ داریم تمرکز تنش داریم
در مقاطع فولادی F_y و F_u استفاده کنیم

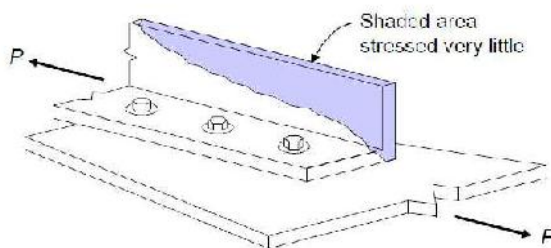
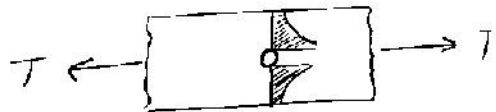
$\frac{T}{A_e} < 0.5F_u$

$A_e = U \times A_n$

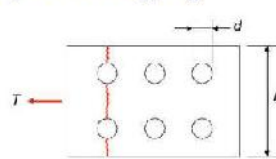
مساحت مقطع موثر \rightarrow

مساحت مقطع خالص \rightarrow

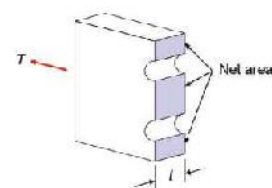
تأثیر برشی \rightarrow

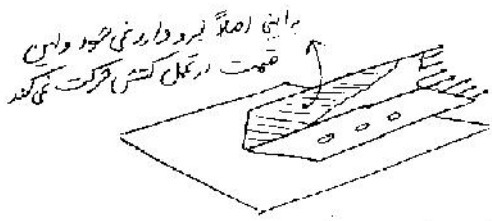


(Net Area), A_n



$A_g =$ Gross Area



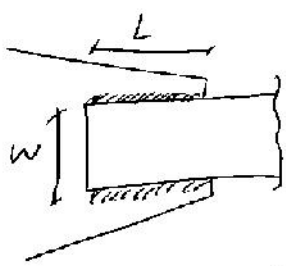


فقط در آن در تحمل کوش مور است که در آن سطح مقطع مور را بگیرند (A_e)

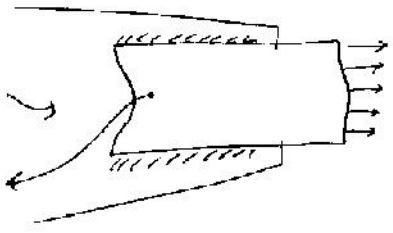
بگوییم تاثیر (A_e) اگر در یک صورت تمام اوزان تغییر ندهد

مقطع عضو حرکت کنند، به جای آن مقطع تنها

نیمه اگر تمام مقطع متصل باشد $A_e = A_n$



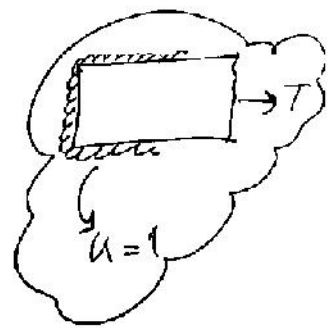
در ورق که با جوی بر روی لبه سر



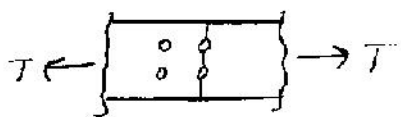
بعد از اعمال کوش

این قسمت در تحمل کوش مشارکت ندارد $(u < 1)$

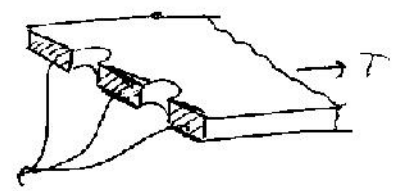
- $L > 2w \rightarrow u = 1$
 - $1.5w < L < 2w \rightarrow u = 0.87$
 - $w < L < 1.5w \rightarrow u = 0.75$
 - $L < w \rightarrow$ کار نیست
- اگر اینها در ورق جوی نشود

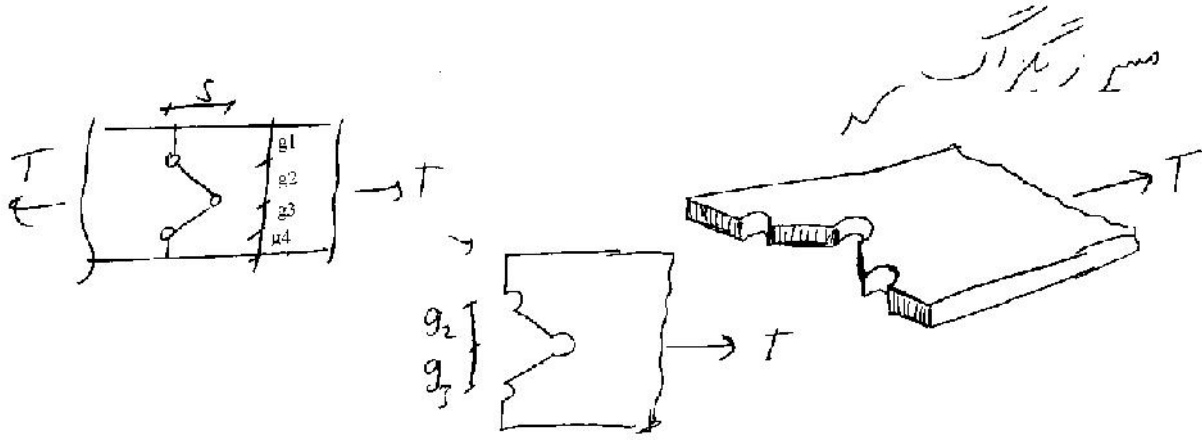


نمونه های سه سطح مقطع خالص:



مساحت کل $A_n = A_g - 2 \times D \times t$
 که تعداد سوراخ
 که قطر سوراخ
 که ضخامت ورق





$$A_n = A_g - 3Dt + \frac{s^2}{4g_2}t + \frac{s^2}{4g_3}t$$

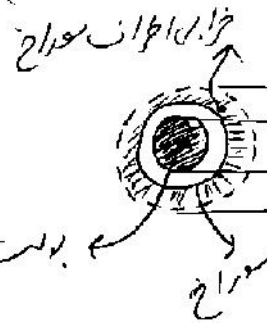
مقدار سوراخ

بازار هر چه عدد بزرگتر $\frac{s^2}{4g}$

مقدار A_n افزوده می شود

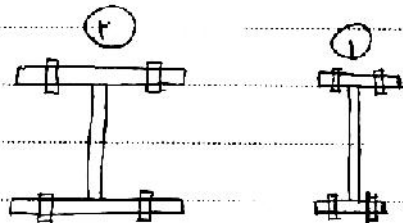
مقدار D (قطر سوراخ) \checkmark اگر d_b قطر بولت (بیج) باشد
 قطر سوراخ باید 2mm بیشتر از آن باشد

$$D = d_b + 2 + 2 = d_b + 4 \text{ mm}$$



\checkmark اگر سوراخ بیج شده باشد قطر سوراخ را 2mm بیشتر از قطر بیج می گیریم

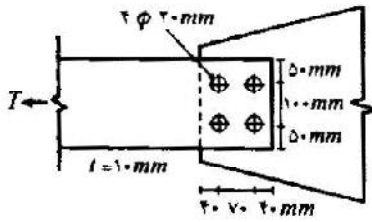
در دو مقطع زیر اگر مقدار واقعی u محاسب شود (ضریب کاهش مقطع خاص - علت بریده ناخیز برش) کدام مقطع u بیشتری دارد؟



هر دو مقطع دارای مساحت جان یکسان می باشند
 ولی مساحت جان مقطع (2) بیشتر از (1) است
 از 3 بیج برای هر طرف جان استفاده شده است؟

در مقطع (2) درصد بیشتری از مساحت مقطع به انتقال نیرو کمک می کند و در حالت (1) درصد کمتری از مساحت به سطح بیج متصل شده است بنابراین $u_2 > u_1$

۱- در شکل زیر یک قطعه کششی فولادی با مقطع تسمه با ضخامت ۱ cm و پهنای ۲۰ cm تحت نیروی محوری کششی T قرار دارد. در صورتی که تنش کششی مجاز با توجه به معیار جاری شدن و معیار گسیختگی به ترتیب برابر 1400 kg/cm^2 و 2000 kg/cm^2 باشد، مطلوب است تعیین حداکثر بار محوری کششی مجاز T. قطر سوراخها ۲۰ mm است که با استفاده از مته ایجاد شده‌اند. (مباحثی ۸۶)



(۱) ۲۸ تن

(۲) ۳۲ تن

(۳) ۳۴/۹ تن

(۴) ۳۵/۶ تن

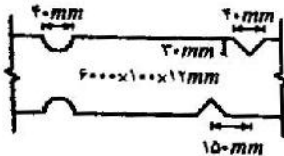
$$T < A \times 1400 = (20 \times 1) \times 1400 = 28000 \text{ kg}$$

$$T < A_n \times 2000 = (20 \times 1 - 2 \times 1 \times 2) \times 2000 = 32000 \text{ kg}$$

← تنش سوراخ
 ← تنش ورق
 ← تعداد سوراخ

→ T = 28000

۲- مقاومت کششی حداکثر (بدون اعمال ضرایب اطمینان) تسمه فولادی شکل زیر را که دو فرورفتگی منحنی و دو فرورفتگی نیم‌دایره در لبه‌های آن ایجاد شده تعیین نمایید. در محاسبات از تمرکز تنش صرف‌نظر نمایید. (تنش جاری شدن فولاد = 4000 kg/cm^2 و تنش نهایی = 6000 kg/cm^2 باشد) (مباحثی ۸۶)



(۲) ۴۲/۲ تن

(۴) ۶۴/۲ تن

(۱) ۲۸/۸ تن

(۳) ۴۸/۱۰ تن

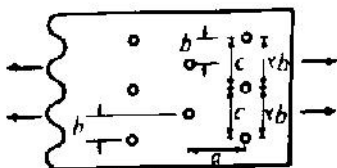
(۲) $A_n = (10 \times 1.2 - 4 \times 1.2) = 7.2 \text{ cm}^2$

(۳) $A_{n3} = (10 \times 1.2 - 6 \times 1.2 + \frac{15 \times 1.2}{4 \times 4}) = 21.675 \text{ cm}^2$

(۴) $A_{n2} = (10 \times 1.2 - 3 \times 1.2) = 8.4 \text{ cm}^2$

البته A_{n2} لازم نیست حساب شود چون منتهی است
بیشتر از A_{n2} است

در اتصالات پیچی هنگام محاسبه سطح خالص، لازم است به ازا، هر خط زیگزاگ به مقدار زیر به عرض اتصال اضافه شود. (مباحثی ۷۳ نظام مهندسی)



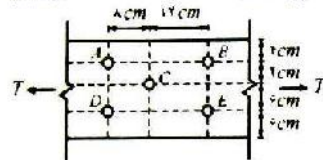
(۲) $\frac{d^2}{4c}$

(۴) $\frac{c^2}{4d}$

(۱) $\frac{b^2}{4c}$

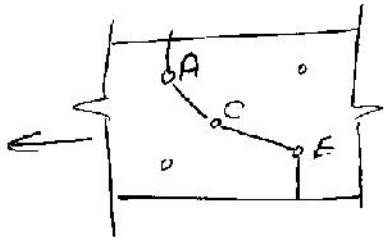
(۳) $\frac{d^2}{4b}$

با فرض اینکه مسیر بین پیچ‌های ACE، مسیر بحرانی در طراحی ورق تحت کشش باشد، ماکزیم نیروی کششی قابل انتقال توسط این ورق برابر کدام گزینه می‌باشد؟ (تنش کششی مجاز ورق 1000 kg/cm^2 ، ضخامت ورق 1 cm و قطر سوراخ‌ها 2 cm می‌باشد.) (۸۸، ۹۱)



- ۱۴ (۱) تن
- ۲۴ (۲) تن
- ۲۶/۳ (۳) تن
- ۱۶/۳ (۴) تن

۱۰ مسیر را از قبل مشخص کرده



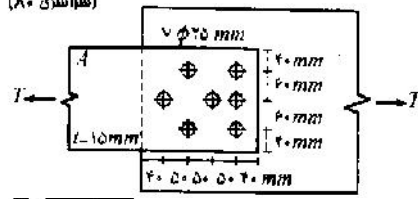
تنش مجاز کششی $T = A_n \times 1000$

$$= (20 \times 1 - 3 \times 2 \times 1 + \frac{8^2}{4 \times 4} \times 1 + \frac{12^2}{4 \times 6} \times 1) \times 1000$$

که عرض ورق
 عرض ورق
 قطر سوراخ
 عرض ورق
 مسیر مورب AC
 مسیر مورب CE

$\rightarrow T = 24000 \text{ kg}$
 $= 24 \text{ ton}$

۵- مقاومت گسیختگی مجاز ورق A (شکل زیر) در کشش. تقریباً چند تن است؟ فولاد ورق ST-۵۲ با تنش جاری شدن $F_y = 3600 \text{ kg/cm}^2$ و مقاومت نهایی $F_u = 5200 \text{ kg/cm}^2$ می‌باشد. تنش مجاز برای کنترل گسیختگی $F_t = 0.15 F_u$ در نظر گرفته شود. (سراسری ۸۰)



- ۴۱ (۱)
- ۴۹ (۲)
- ۵۷ (۳)
- ۶۸ (۴)

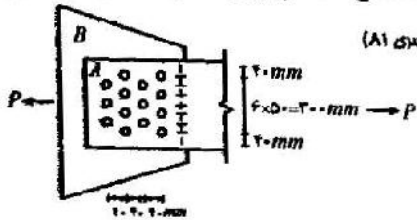
۵ چون مقاومت گسیختگی را خواسته نیاز به کنترل تسلیم شدن داریم $(T_1 = A_n \times 0.6 F_u)$

نیست نیاز داریم

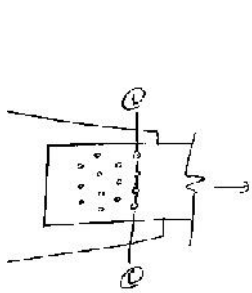
$$T (A_n \times 0.5 F_u) \rightarrow \begin{cases} A_{n1} = (20 \times 1.5 - 2.5 \times 1.5) = 26.25 \text{ cm}^2 \\ A_{n2} = (20 \times 1.5 - 3 \times 2.5 \times 1.5 + 2 \times \frac{5^2}{4 \times 6} \times 1.5) = 21.875 \text{ cm}^2 \\ A_{n3} = (20 \times 1.5 - 2 \times 2.5 \times 1.5) \times \frac{7}{6} = 26.25 \text{ cm}^2 \end{cases}$$

$\rightarrow T < 21.875 \times 0.5 \times 5200 = 56875 \text{ kg} \rightarrow 57 \text{ ton}$

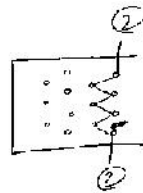
۳- اگر ضخامت ورق A برابر $t = 12 \text{ mm}$ و قطر سوراخ‌ها با منظور کردن افزایش $1/5$ میلی‌متر به خاطر روش سوراخکاری $d = 20 \text{ mm}$ باشد، در این صورت سطح مقطع خالص ورق A در اتصال کششی مطابق شکل چند میلی‌متر مربع (mm^2) می‌باشد؟ (سراسری ۸۱)



$A_n = 3456 (2)$ $A_n = 2000 (1)$
 $A_n = 2600 (4)$ $A_n = 2552 (3)$



مساحت مقطع ورق
 $A_{n1} = (38 \times 12) - (4 \times 2 \times 12)$
 قطر سوراخ
 قطر سوراخ
 ضخامت ورق
 $\rightarrow A_{n1} = 360 \text{ cm}^2$



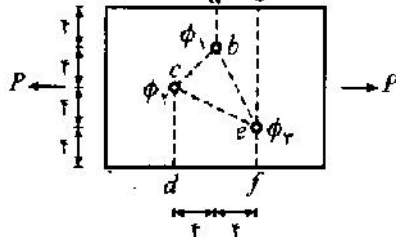
$A_{n2} = (38 \times 12) - (7 \times 2 \times 12) \times \left(\frac{4^2}{4 \times 5} \times 1.2 \right)$
 کلاس سوراخ
 $\rightarrow A_{n2} = 3456 \text{ cm}^2$

$\rightarrow A_n = \text{Min} \{ A_{n1}, A_{n2} \} = 3456 \text{ mm}^2$

۶- در تسمه‌ای که تحت اثر کشش قرار دارد سوراخ‌هایی مطابق شکل تعبیه شده است. مسیر مقطع مفید

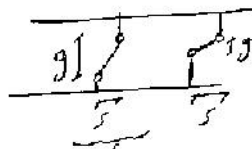
(سراسری ۷۹)

(بهرانی) کدام است؟ $(\phi_1 = 1.6 \text{ cm}, \phi_2 = 1.8 \text{ cm}, \phi_3 = 2 \text{ cm})$



- gef (۱)
- abef (۲)
- abcd (۳)
- abcef (۴)

ک نکته: از دو مسیر که دارای ۵ یکسان هستند، آن مسیر که به خط قائم‌الزاویه است باید انتخاب شود



این مسیر بهتر است

دلی این مسئله چون قطر سوراخ یک است که باید کنترل شوند

$A_{abef} = A - (1.6 + 2 - \frac{4^2}{4 \times 8})t = A - 3.1t$

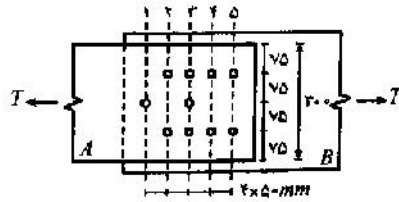
$A_{abcd} = A - (1.6 + 1.8 - \frac{4^2}{4 \times 4})t = A - 2.4t$

$A_{gef} = A - 2t$

$A_{abcef} = A - (1.6 + 1.8 + 2 - \frac{4^2}{4 \times 4} - \frac{8^2}{4 \times 4})t = A - 0.4t$

A_{abef} از همه کمتر است

۷- گسیختگی ورق A از کدام مسیر محتمل تر است؟ (ضخامت ورق A برابر 16 mm است.) (سراسری ۷۸)
 قطر سوراخها 20 میلی متر است و از آن‌ها پیچ‌هایی به قطر 27 میلی متر عبور کرده‌اند.



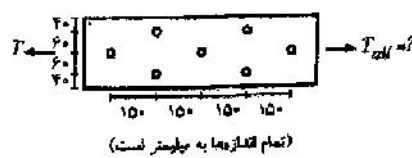
- (۱) شماره ۱
- (۲) شماره ۲
- (۳) شماره ۳
- (۴) شماره ۲ یا ۴ یا ۵

① $A_{n1} = A - 3 \times 1.6 = A - 4.8 = 30 \times 1.6 - 4.8 = 43.2 \text{ cm}^2$ 7

② $A_{n2} = (A - 2 \times 3 \times 1.6) \times \frac{10}{9} = 42.66 \text{ cm}^2$ ✓

③ $A_{n3} = (A - 3 \times 3 \times 1.6) \times \frac{10}{7} = 48 \text{ cm}^2$

۸- تنش مجاز کششی روی سطح مقطع خالص ورق شکل زیر 2000 kg/cm^2 و روی سطح مقطع ناخالص آن 1500 kg/cm^2 است. چنانچه قطر هر یک از سوراخها 20 mm باشد، نیروی کششی مجاز ورق چند تن خواهد بود؟ ضخامت ورق 10 mm و عرض آن 200 mm است. (سراسری ۷۸)

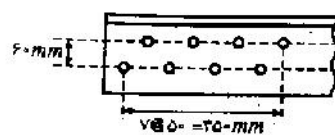


- (۱) ۱۶
- (۲) ۲۸
- (۳) ۲۲
- (۴) ۲۰

$T_1 = 20 \times 1 \times 1500 = 30000 \text{ kg}$ $T_2 = (20 \times 1 - 2 \times 1) \times 2000 = 36000 \text{ kg}$ 8

$T_3 = (20 \times 1 - 3 \times 1 + 2 \times \frac{15^2}{4 \times 6}) \times 2000 = 71500$
 بنا بر این در صورت جواب ۳ برگرد.

۱۸- یک نبشی $L 100 \times 100 \times 12$ تحت تأثیر نیروی کششی قرار دارد. این نبشی در انتها از طریق پال بزرگتر خود و توسط ۸ عدد پیچ مطابق شکل به ورق لچکی متصل است. قطر سوراخ پیچ‌ها 25 میلی متر است. چنانچه تنش جاری شدن فولاد $F_y = 2400 \text{ kg/cm}^2$ و تنش نهایی آن $F_u = 3600 \text{ kg/cm}^2$ باشد، بار کششی مجاز که می‌تواند به این نبشی اعمال شود برابر است با: (نظام واحد)



- (۱) $35/77$ تن
- (۲) $41/33$ تن
- (۳) $42/08$ تن
- (۴) $27/5$ تن



Figure 7-17. Misc. Connection: Truss Column C2 / Truss B7



Figure 7-18. Misc. Connection: Truss Column C3 / Truss B7

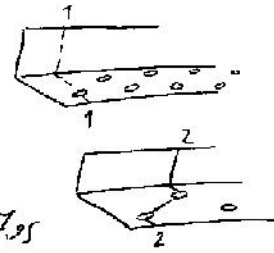
فرمان استاندارد \uparrow

کنترل سطح
از مقطع بدون
سوراخ $\rightarrow T_1 = 0.6 F_y \times A_g = (0.6 \times 2400) \times 22.7 = 32700 \text{ kg}$

کنترل مقطع
سوراخ رار $A_{n1} = A_g - 1 \times 2.5 \times 1.2 = 12.7 \text{ cm}^2$

که نکات دونه
که تکرار

$A_{n2} = A_g - 2 \times 2.5 \times 1.2 + \frac{5^2}{4 \times 6} \times 1.2 = 17.95$



چون با این بزرگتر است باید تاخیر برسی را هم در نظر بگیریم



$U = 0.85$

$\Rightarrow A_e = 0.85 \times 17.95 = 15.26$

لازم به گفتن این است که این مقدار نیست $\rightarrow T_2 = 0.5 \times F_u \times 15.26 = 27500 \text{ kg}$

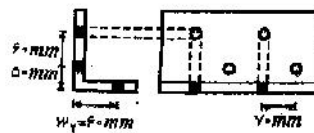
3600

$T = \text{Min} \{T_1, T_2\} = 27500 \text{ kg}$

۱۶- سطح مقطع خالص یعنی زیر را بدست آورید. ضخامت نبشی ۱ cm، قطر سوراخ ۲ cm و سطح مقطع

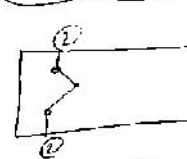
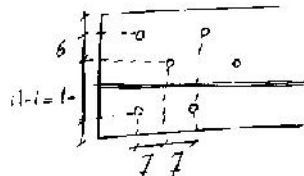

(مقادیر استاندارد)

نبشی ۳۰ cm (می باشد).

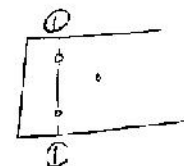


- ۲۲ cm² (۱)
- ۲۵ cm² (۲)
- ۲۷ cm² (۳)
- ۲۶ cm² (۴)

باید ابتدا بنویسید و بعد درج تبدیل کنیم



$A_{n2} = 30 - 2 \times 2 \times 1 + \frac{7^2}{4 \times 6} \times 1 + \frac{7^2}{4 \times 6} \times 1 = 27.2 \text{ cm}^2$



$A_{n1} = 30 - 2 \times 2 \times 1 = 26 \text{ cm}^2$


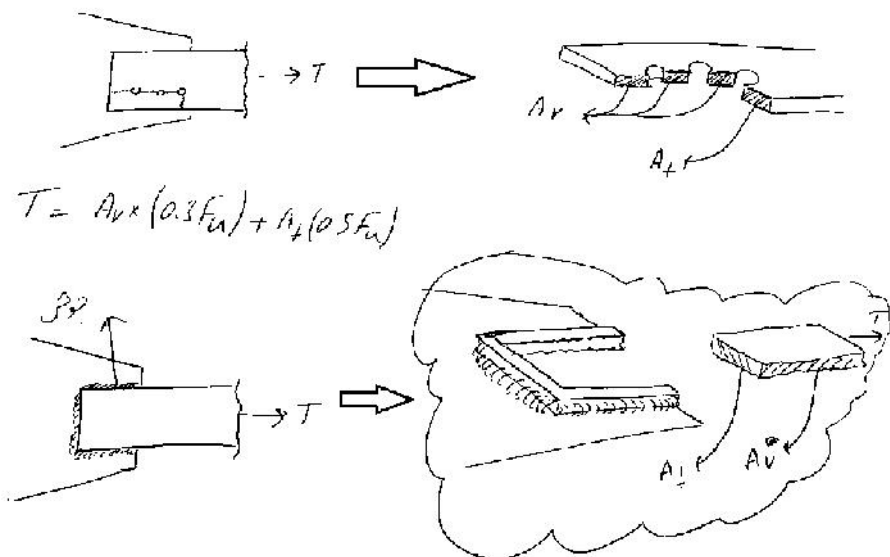

$$T < \{A_t \times 0.5F_u + A_v \times 0.3F_u\}$$

۳- کنترل برش قالبی:

ساحت قسمت کششی \rightarrow A_t (آ ۸۷ و آ ۸۴)
 ساحت قسمت برشی \rightarrow A_v

کنترل پدیده پارگی ناشی از برش (برش قالبی) فقط در حالات زیر باید انجام پذیرد:

- (۱) وقتی که اتصال پیچی داریم.
- (۲) وقتی که اتصال جوشی داریم.
- (۳) وقتی که اتصال تحت نیروی برشی و کششی همزمان قرار دارد.
- (۴) تمام موارد ذکر شده.



۴- کنترل لاغری (سر ویس دهی):

$$\frac{L}{r} < 300$$

$r = \sqrt{\frac{I}{Ag}}$

شعاع زیراسیرن مقطع

طول عضو کشش L

لاغری $\lambda = \frac{L}{r}$

$r = \sqrt{\frac{I_{min}}{A}}$

لاغری

مثل یک مقطع مستطیل به طول L در مقطع آن $\frac{h}{b}$ باشد. لاغری آن چند است؟

$$I_{min} = \frac{hb^3}{12}$$

$$\rightarrow r = \sqrt{\frac{hb^3}{12(bh)}} \approx 0.3b$$

$$\lambda = \frac{L}{0.3b}$$

آین ماده λ از حد کشش باید کمتر از ۳۰۰ باشد $\frac{L}{r} < 300$

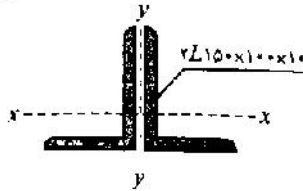
نکته: بدگسار را تغییر شکل هندسه سمت ابروزن خود (مثل با س)

تنگیم اصل طول لاغری کمتر است
از درون خود

بافتگی کافی را بر کار بار جانبی ندارد

نکته: برای میل ها که کشش تنیده شده اند محدودیت فوق لازم نیست به شرطی که $\frac{L}{b} < 100$

۴- حداکثر طول آزاد عضو کششی شکل زیر چند سانتی متر است؟ (با ماشین حساب حل شود). (سراسری آ) مشخصات تک تئبسی: $A = 24.2 \text{ cm}^2, I_x = 552 \text{ cm}^4, I_y = 198 \text{ cm}^4, e_x = 4.78 \text{ cm}, e_y = 2.34 \text{ cm}$



- ۸۵۶ (۱)
- ۱۱۱۰ (۲)
- ۹۱۰ (۳)
- ۹۳۵ (۴)

۴. بزرگترین طول آزاد بر اساس $\frac{L}{r} < 300$ تعیین می شود

$$r_x = \sqrt{\frac{2I_x}{2A}} = \sqrt{\frac{2 \times 552}{2 \times 24.2}} = 4.77 \text{ cm}$$

$$r_y = \sqrt{\frac{2I_y + 2 \times 24.2 \times 2.34^2}{2 \times 24.2}} = 3.6955 \text{ cm}$$

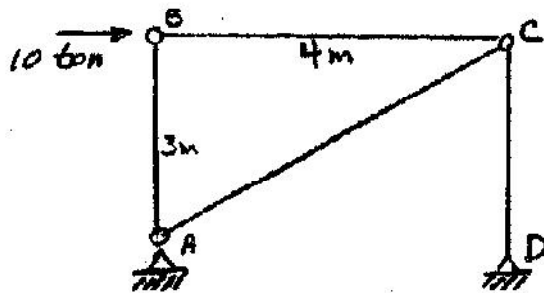
$$\rightarrow \frac{L}{3.6955} < 300 \rightarrow L < 300 \times 3.6955 = 1108.7 \text{ cm} \rightarrow \text{گزینه (۲)}$$

برای جلوگیری از تغییر شکل خمشی عنصر کششی تحت اثر وزن خودش و داشتن سختی کافی. (آ ۷۷)

- (۱) برای مقاطع اصلی ۳۰۰ باشد.
- (۲) برای مقاطع اصلی ۲۴۰ باشد.
- (۳) برای مقاطع اصلی ۲۵۰ باشد.
- (۴) برای مقاطع اصلی ۲۵۰ باشد.

عضو بادبندی AC از دو میلگرد ساده تشکیل شده است. مقاومت تسلیم ۴۰۰۰ و مقاومت نهایی کششی این میلگردها 5000 kg/cm^2 و ضریب اطمینان نیز در مقابل گسیختگی ۲ و فرض شود به علت تراشکاری دنده‌ها روی میلگرد ۳۷۱۵ درصد از سطح آن کاسته شده است. در این صورت حداقل سطح اسمی لازم برای هر یک از این میلگردها بر حسب cm^2 چقدر است؟

سراسری ۸۹



- ۳ (۱)
- ۴ (۲)
- ۸ (۳)
- ۵ (۴)

تقریباً ضریب اطمینان در برابر گسیختگی را در نظر گرفته است (۲)

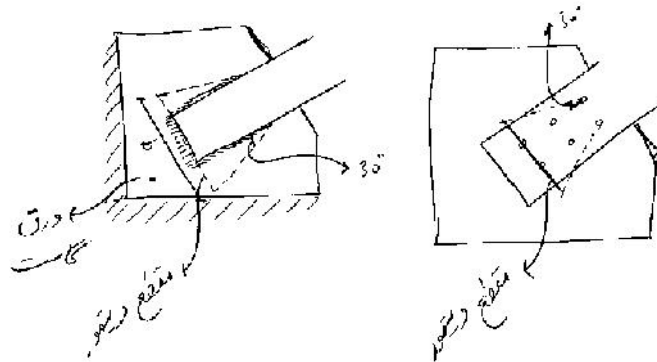
$$F = \frac{10 \times 5}{4} = 12.5 \text{ ton} \Rightarrow \frac{F}{A_n} < \frac{5000}{2} \rightarrow \frac{12500}{A_n} < 2500 \rightarrow A_n = 2 \text{ cm}^2$$

$$A_g \times (1 - 0.375) = A_n \rightarrow A_g = \frac{2}{1 - 0.375} = 3.2 \text{ cm}^2 \quad \text{با سطح گزیده ۴}$$

(آ ۸۶ د)

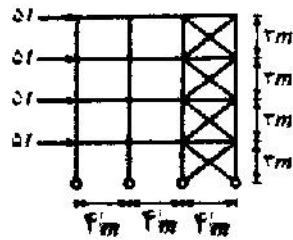
در طراحی ورق گاست یک بادبند موارد زیر باید در نظر گرفته شود.

- ۱) ورق گاست باید برای جاری شدن روی مقطع ویتورمور چک شود.
- ۲) ورق گاست باید برای شکست از محل سوراخ پیچ‌ها روی مقطع ویتورمور چک شود.
- ۳) ورق گاست باید برای برش قالی چک شود.
- ۴) تمامی موارد مذکور



۲۱- با فرض اتصال لولایی تیرها به ستون‌ها و صرف نظر از رفتار فشاری بادبند، چنانچه تنش کششی مجاز فولاد 1250 kg/cm^2 باشد، سطح مقطع لازم برای بادبند طبقه همکف چقدر است؟

(مباحث ۷۶ و نظام مهندسی)



۱) 20 cm^2

۲) 2617 cm^2

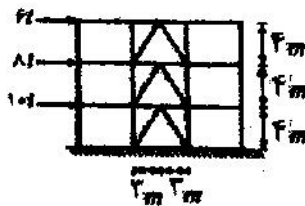
۳) 10 cm^2

۴) 1314 cm^2

۲۳- قاب ساده زیر نیروهای زلزله مطابق شکل را باید تحمل کند. هر یک از اعضای بادبند طبقه بالا برای

(آ ۸۱ د)

چه نیرویی باید طراحی شود؟ (با صرف نظر از رفتار فشاری مهاربند)



۱) ۵

۲) ۷/۵

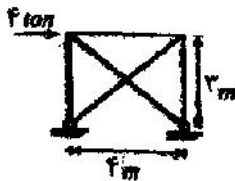
۳) ۱۰

۴) ۷

۲۴- سطح مقطع بادبند در سازه مقابل چنانچه از بادبند فشاری صرف نظر شود با فرض

(آ ۸۱ د)

$F_y = 2400 \text{ kg/cm}^2$ برابر است با:




۱) $2/47$ سانتی متر مربع

۲) $2/74$ سانتی متر مربع

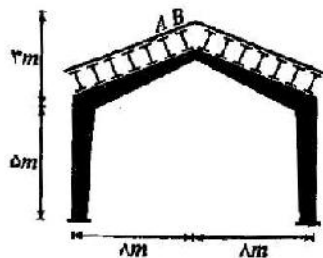
۳) $2/47$ سانتی متر مربع

۴) $2/74$ سانتی متر مربع



برای مصالح با تنش تا نوبه می‌شود می‌توان
 لایه‌ها را در راستای شیب سقف
 مطابق شکل توسط میل مهار به یکدیگر
 متصل نمود.

۲۹- در قاب شیبدار زیر فواصل قاب‌ها از یکدیگر 6 m و فاصله محور میل مهارهای عرضی (*sagrod*) از یکدیگر 2 m می‌باشد. چنانچه وزن مرده سازه برابر 80 kg/m^2 روی سطح شیبدار باشد و بار برف برابر 200 kg/m^2 روی تصویر افقی سطح بام باشد، مطلوب است حداقل سطح لازم برای میل مهار *AB* در صورتی که تنش مجاز آن برابر 1420 kg/cm^2 باشد.
 (سازسوی ۷۰ و ۵۵م مهندسی)



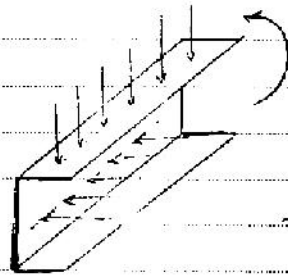
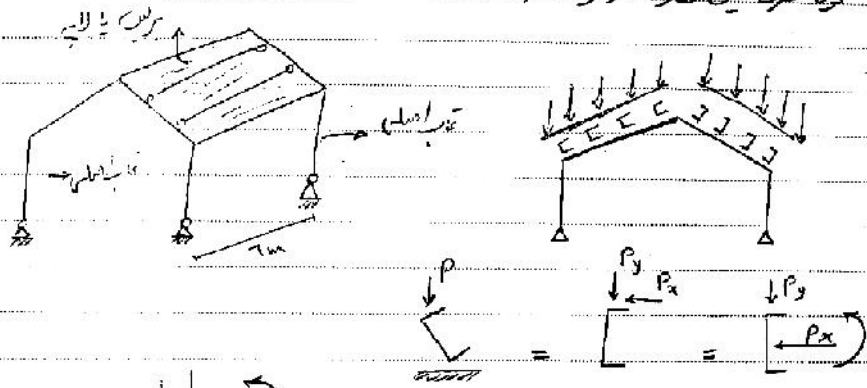
$$\frac{120 + \frac{2400}{\sqrt{73}}}{355} \quad (1)$$

$$\frac{160\sqrt{73} + 3200}{1420} \quad (2)$$

$$\frac{80\sqrt{73} + 1600}{1420} \quad (3)$$

$$\frac{120\sqrt{73} + 2400}{355} \quad (4)$$

نحوه گسترش میل مهارها در سازه ها



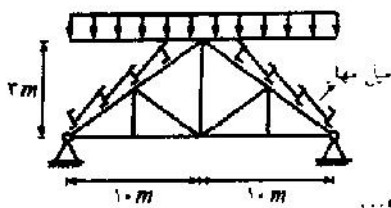
لایه تحت اثر بار قائم بخش فول مورد مدد خواهد داشت.
 جانچه بخش فول مورد ضعیف و تنز
 بیشتر خواهد داشت.

$$F = \left[1200 \times [18 \times 12] + 100 \times (2 \sqrt{18^2 + 3^2}) \right] \times \frac{3}{\sqrt{18^2 + 3^2}}$$

$$\frac{F}{A} < 1420 \rightarrow A > \frac{F}{1420} \rightarrow \text{مقرر لایه بریت مه آید}$$

تشریح بازگشتی میل مهارها : $F_L = 0.33 F_u$

اگر بار برف 150 kg/m^2 روی سطح افقی وارد شود و فاصله میل مهارها از یکدیگر برابر 2 m فرض گردد، حداقل سطح مقطع برای میل مهار بحرانی کدام است؟ ($F_u = 4000 \text{ kg/cm}^2$) (۸۸ و ۸۹)



(۱) 0.145 cm^2

(۲) 0.15 cm^2

(۳) 1 cm^2

(۴) در حالت بارگذاری برف، میل مهارها نیروی محوری تحمل نمی کنند.

اگر فرض کنیم روضت بالای میل مهارها یک سگدگیر مقل معتد: $862 = \left[150 \times (10 \times 2) \right] \times \frac{3}{\sqrt{10^2 + 2^2}}$ (مورد دوم)

نامده میل مهارها برقم

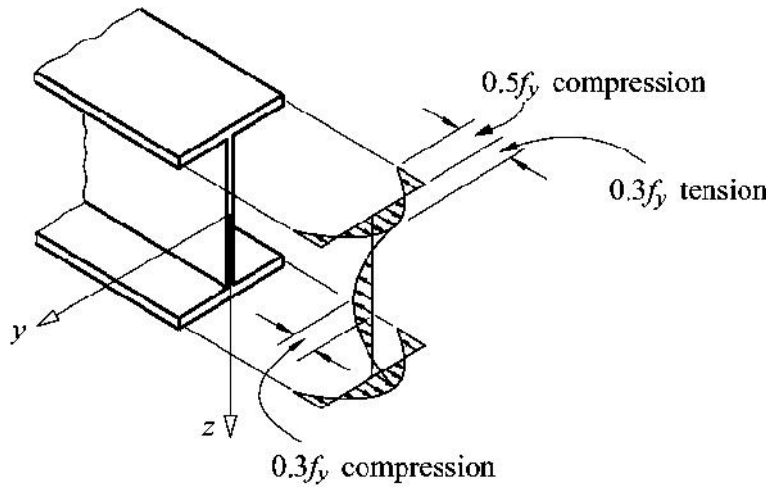
$$\frac{F}{A} < 0.33 F_u \rightarrow A > \frac{862}{0.33 \times 4000} = 0.65 \text{ cm}^2$$

اگر میل مهارها سگدگیر مقل معتد باشد هرگز نیز ۴ صحیح است.

۳) ستونها

۳-۱- تنش های پسماند

در مقاطع نورد شده، پس از خروج از کوره آهن، در هنگام خنک شدن مقطع، لبه های آزاد زودتر به جسم جامد تبدیل می شوند. سپس قسمت های داخلی هنگام خنک شدن به علت انقباض کاهش طول می یابند و در نتیجه لبه های آزاد تحت اثر فشار، و قسمتهای داخلی تحت اثر کشش قرار می گیرند. به این تنش های ناشی از سرد شدن غیر یکنواخت، تنش های پسماند گویند.

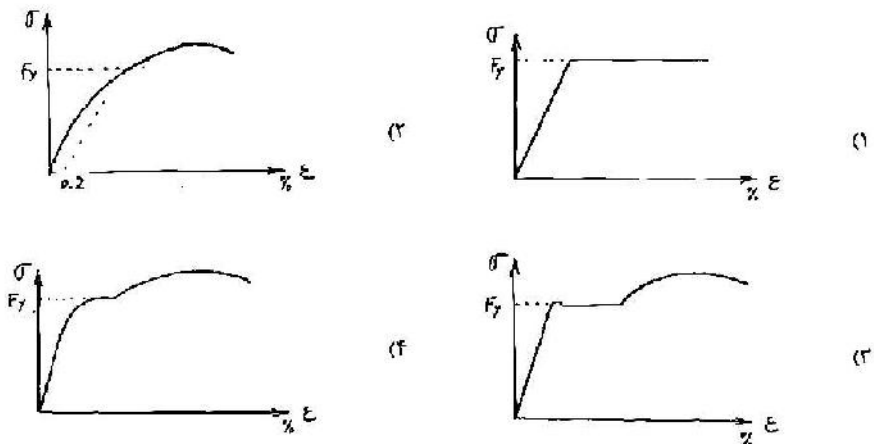


- ۱. تنش های پسماند
- ۲. تنش های پسماند منتهی به
- ۳. تنش های پسماند منتهی به
- ۴. تنش های پسماند منتهی به
- ۵. تنش های پسماند منتهی به

توجه:

- ۱- تنش های پسماند مقاومت کششی را کاهش نمی دهند ولی مقاومت فشاری را کاهش می دهند.
- ۲- تنش های پسماند رفتار غیر خطی را در هر دو عضو کششی و فشاری تسریع می کند.

۸- نمودار تنش - کرنش حاصل از انجام آزمایش کشش بر روی یک مقطع کامل نبشی شکل با نورد گرم از فولاد نرمة ساختمانی به کدام یک از شکل های زیر شبیه است؟ (سازنده ۸۷)



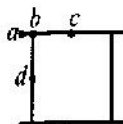
۱۲- تنش پسماند از نورد گرم (در پروفیل نورد گرم) یا جوشکاری (در مقاطع ساخته شده) به‌طور معمول معادل کدام یک از مقادیر زیر در نظر گرفته می‌شود؟ (مباحث ۷۵ و ۷۴)

- (۱) حدود ۱۰٪ حد ارتجاعی فولاد
 (۲) حدود ۵۰٪ حد ارتجاعی فولاد
 (۳) معادل حد ارتجاعی (فقط برای فولاد نرمه)
 (۴) خیلی جزئی و در محاسبات دخالت داده نمی‌شود.

۱۸- در مقاطع بال‌پهن تولید شده در کارخانه، تنش‌های پسماند به‌صورت زیر می‌باشند؟ (آزاد ۸۰)

- (۱) در وسط جان و انتهای بال‌ها فشاری است.
 (۲) در وسط جان و وسط بال‌ها فشاری است.
 (۳) در وسط جان و انتهای بال‌ها کششی است.
 (۴) در وسط جان و وسط بال‌ها کششی است.

۱۶- در مقطع قوطی ساخته شده از ورق به شکل زیر، تنش‌های پسماند حرارتی به چه نحوی خواهد بود؟ (آزاد ۸۶)



- (۱) فشار در b و d
 (۲) فشار در b و کشش در c و d
 (۳) کشش در b و فشار در d
 (۴) کشش در a و c

۱۳- تأثیر تنش پسماند (*residual stress*) در باربری نهایی نیمرخ‌های فولادی تحت کشش و تحت فشار چگونه است؟ (مباحث ۷۵)

- (۱) باربری هر دو نوع قطعه کششی و فشاری را تقلیل می‌دهد.
 (۲) در باربری فشاری قطعات تأثیری ندارد ولی باربری کششی نیمرخ‌ها را تقلیل می‌دهد.
 (۳) در باربری کششی قطعات تأثیری ندارد ولی باربری فشاری نیمرخ‌ها را تقلیل می‌دهد.
 (۴) هیچگونه تأثیری در باربری نهایی قطعات کششی و فشاری ندارد.

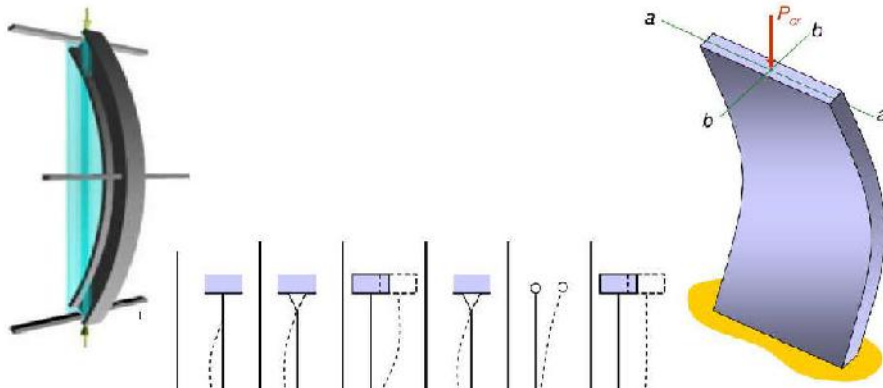
۱۱- ظرفیت کمانشی ستون‌های فولادی نوردشده را تا زمانی می‌توان از فرمول اولر به‌دست آورد که تنش موجود در ستون از تنش (مباحث ۷۷)

- (۱) پسماند تجاوز نکند.
 (۲) تسلیم تجاوز نکند.
 (۳) تسلیم به اضافه حداکثر تنش پسماند تجاوز نکند.
 (۴) تسلیم منهای حداکثر تنش پسماند تجاوز نکند.

۱۷- در رابطه با تنش‌های پسماند و پدیده تمرکز تنش در پروفیل‌های نوردشده کدام گزینه صحیح است؟ (آزاد ۸۱)

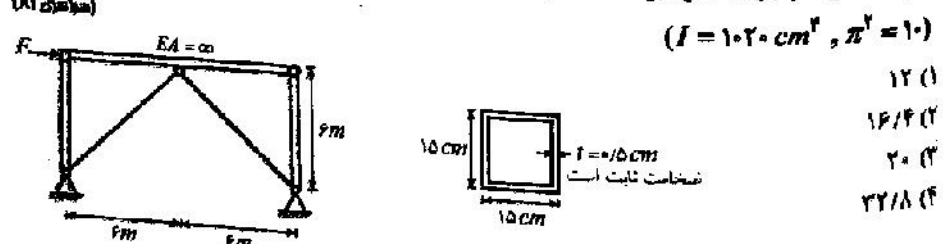
- (۱) در طرح اعضای فشاری اهمیت بیشتری دارند.
 (۲) در طرح اعضای کششی اهمیت بیشتری دارند.
 (۳) در طرح اعضای خمشی اهمیت بیشتری دارند.
 (۴) در طرح اعضای فشاری، کششی و خمشی اهمیت یکسان دارند.

۱۰- تنش‌های پسماند حرارتی به صورت تقریبی در بال یک عضو کششی با مقطع $IPB\ ۳۰۰$ با تنش جاری شدن $F_y = ۲۴۰۰\ kg/cm^2$ و تنش نهایی $F_u = ۳۷۰۰\ kg/cm^2$ مطابق شکل زیر فرض شده است. درصد کاهش در مقاومت عضو کششی ناشی از این تنش کدام است؟ (مهره‌ری ۸۰)



تئوریک	0.5	0.7	1.0	1.0	2.0	2.0
طراحی	0.65	0.8	1.2	1.0	2.1	2.0

۲۳- برای سازه شکل زیر چنانچه مقطع نشان داده شده برای بادبندها به کار رفته باشد، حداکثر نیروی F که سازه می‌تواند فقط با توجه به گمانش بادبندها با ضریب اطمینان ۲ تحمل کند، چند تن است؟ (حرکت سازه در جهت عمود بر صفحه قاب مقید است). $(E = ۲ \times 10^6\ kg/cm^2)$ (مهره‌ری ۸۱)



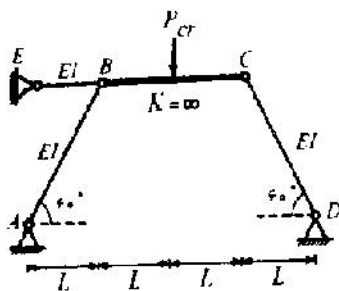
- ۱۲ (۱)
- ۱۶/۴ (۲)
- ۲۰ (۳)
- ۲۲/۸ (۴)

رویه اتصالات تیر به ستون مفصل است
 کل نیروی جابجایی را باربزرگ تحمل می‌کنند

سازه مفصل است که از باربزرگ‌ها می‌تواند بگذرد، اینجاست که تکیه دار را که گمانش را بررسی کنیم (تاس و ورق نظیر نمود)


$$\left. \begin{aligned} \text{نیروی مابین} &= (F/2) \times \frac{6\sqrt{2}}{6} = \frac{F\sqrt{2}}{2} \\ \text{نیروی بار باریند} &= \frac{P_{cr}}{2} = \frac{11^2 EI}{2L^2} = \frac{1 \times 2 \times 10^6 \times 1.6 \times 20}{2 \times (600 \times \sqrt{2})^2} = 14167 \text{ kg} \end{aligned} \right\} \frac{F\sqrt{2}}{2} < 14167 \rightarrow F < 20034 \text{ kg} = 20 \text{ t}$$

۳۷- سازه روبه رو در نقاط B و C، تکیه گاه های جانبی دارد. عضو BC نیز کاملاً صلب می باشد. چنانچه رفتار سیستم کاملاً الاستیک باشد، بار بحرانی P_{cr} را برای این سیستم محاسبه کنید. (سازاری ۷۸)



$$P_{cr} = \frac{\pi^2 EI}{L^2} \left(\frac{\sqrt{3}}{4} + 1 \right) \quad (۳) \quad P_{cr} = \frac{2\pi^2 EI}{L^2} \quad (۱)$$

$$P_{cr} = \frac{\sqrt{3}\pi^2 EI}{4L^2} \quad (۴) \quad P_{cr} = \frac{\sqrt{3}\pi^2 EI}{2L^2} \quad (۲)$$



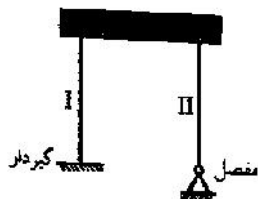
مؤلفه قائم این ستون باید $P/2$ باشد

$$F \sin 60^\circ = P/2 \rightarrow F = \frac{P_{cr}}{\sqrt{3}} \rightarrow \frac{\pi^2 EI}{(2L)^2} = \frac{P_{cr}}{\sqrt{3}} \rightarrow P_{cr} = \frac{\sqrt{3}\pi^2 EI}{4L^2}$$

نیروی ستون طول ستون $2L$

۳-۲- ضریب K

مقدار ضریب طول مؤثر کمانش (K) به ترتیب برای ستون های I و II سازه شکل مقابل که با انتهای فوقانی گیردار به عضو صلب فوقانی متصل شده اند کدام است؟ (سازاری ۸۰)



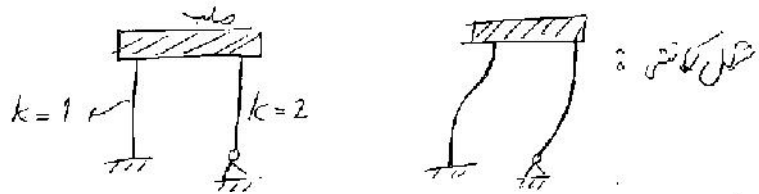
(۲) ۱/۵ و ۱/۷

(۴) ۱ و ۱/۵

(۱) ۱ و ۲

(۳) ۱ و ۱

هر دو ستون برین مهارتابی هستند $\left\{ \begin{matrix} k=1 & \text{دو سر گیر} \\ k=2 & \text{یک سر گیر} \end{matrix} \right.$

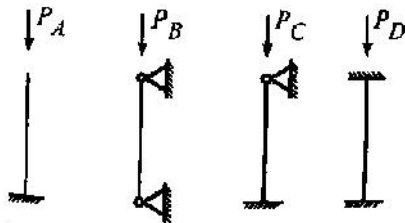


۳۶- طول گمانش یک ستون فولادی به طول L در یک قاب ساختمانی مهار نشده که حرکت جانبی در آن آزاد است کدام یک از مقادیر زیر را می‌تواند دارا باشد؟

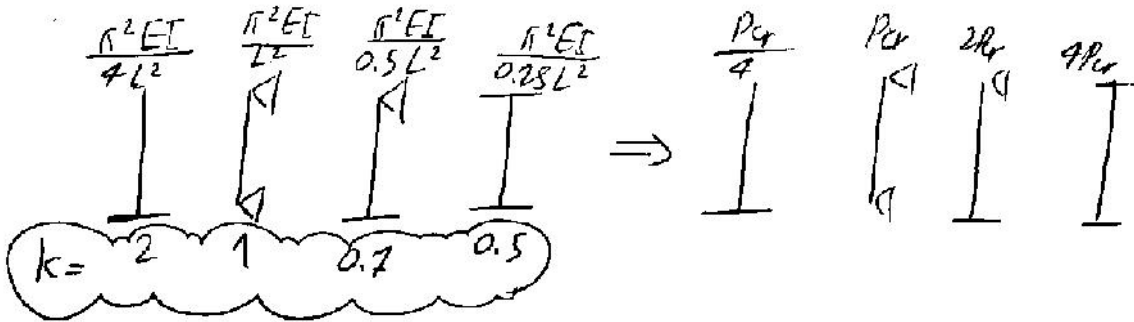
- (۱) برابر L می‌باشد.
- (۲) بزرگتر از L می‌باشد.
- (۳) کوچکتر از L بوده و بستگی به سختی ستون‌های بالا و پایین ستون مورد نظر دارد.
- (۴) کوچکتر از L بوده و بستگی به سختی تیرهای متصل به دو انتهای ستون مورد نظر دارد.

(آزاد ۷۸ و نظام مهندسی)

۳۷- تناسب ظرفیت باربری ستون‌های مطابق شکل چگونه است؟ $P_A : P_B : P_C : P_D$

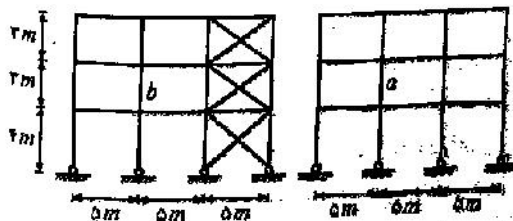


- (۱) ۱:۴:۸:۱۶
- (۲) ۱:۲:۱/۴:۴
- (۳) ۱:۲:۱/۴:۱۶
- (۴) ۱:۲:۲/۵:۴/۳



۳۸- دو ستون a و b دارای مشخصات هندسی مقطع یکسان می‌باشند. باربری کدام یک بیشتر است؟ (مشخصات هندسی قاب‌ها یکسان است).

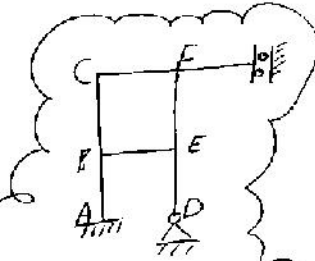
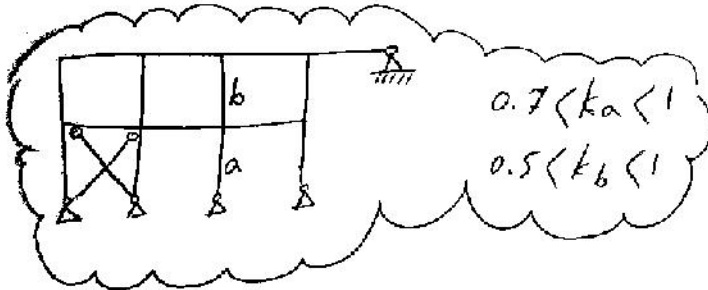
(نظام مهندسی)



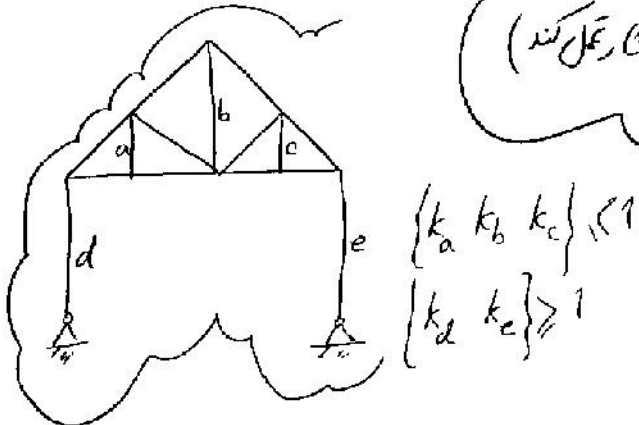

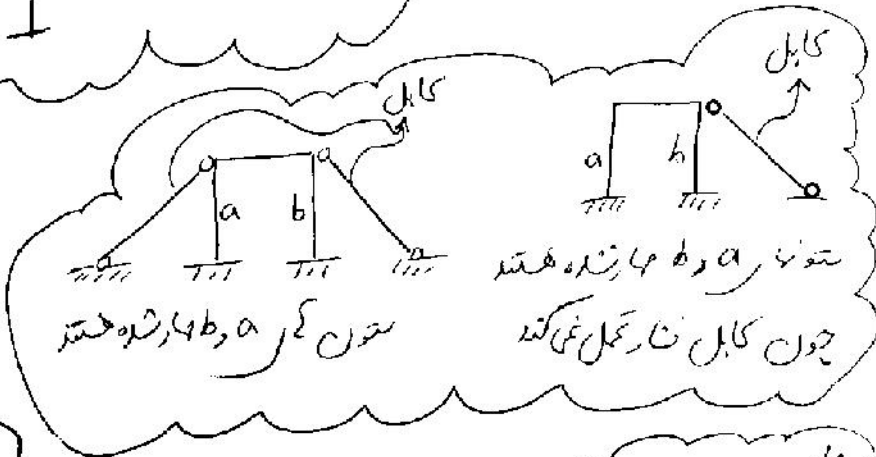
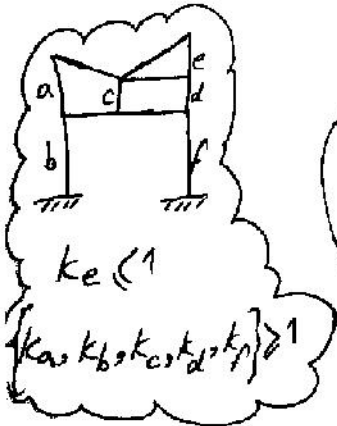
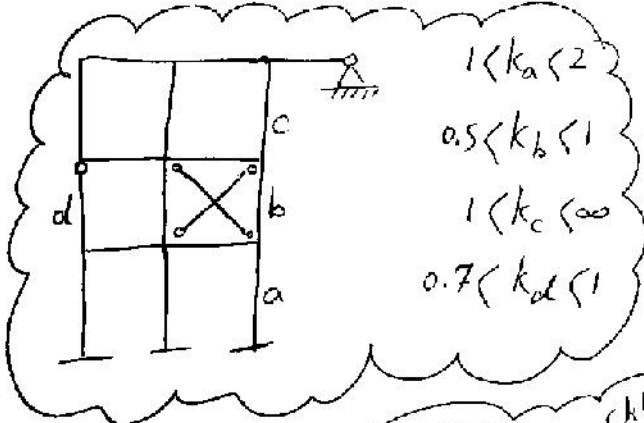
- (۲) ستون b
- (۲) ستون a
- (۳) هر دو مسطری هستند چون مشخصات هندسی مساوی دارند.
- (۴) هر دو کدام از جواب‌های فوق

ستون a فایده‌آمیزتر گمانش می‌کنم $\left\{ \begin{matrix} \text{ستون } a \text{ مهار شده است و } k_a \\ \text{ستون } b \text{ مهار شده است و } k_b \end{matrix} \right.$

ضریب طول موثر برای حالت‌های مختلف (k)



$1 < k_{AB} < 2$ $1 < k_{AC} < \infty$
 $2 < k_{DE} < \infty$ $0.7 < k_{FD} < 1$
 $1 < k_{BC} < \infty$



۳۹- اگر نیروی محوری بحرانی (برای حالت کمانش) ستون دو سرگیردار P_1 و ستون دو سر مفصل P_2 و ستون یک سرگیردار - یک سر آزاد P_3 باشد (برای ابعاد و جنس یکسان فلزی) داریم: (نظایر مهندسی)

$$P_1 < P_2 < P_3 \quad (۱)$$

$$P_1 < P_3 < P_2 \quad (۲)$$

$$P_2 < P_1 < P_3 \quad (۳)$$

$k=0.5 \rightarrow P_1 = \frac{\pi^2 EI}{(0.5L)^2} = 4 P_{cr}$	$k=1 \rightarrow P_2 = \frac{\pi^2 EI}{(L)^2} = P_{cr}$	$k=2 \rightarrow P_3 = \frac{\pi^2 EI}{(2L)^2} = \frac{P_{cr}}{4}$
--	---	--

۴۰- در قاب شکل مقابل. کدام گزینه صحیح است؟ K ضریب طول مؤثر کمانش ستون (سراسری ۷۹)

$K_{ef} > 1 \quad (۲)$
 $K_{ab} > 1 \quad (۴)$
 $K_{gh} > 1 \quad (۱)$
 $K_{cd} < 1 \quad (۳)$

ستون ae مهار شده است $(k \leq 1)$
 دل ستون ab مهار شده است $(k \geq 1)$

ستون ae مهار شده است $(k \leq 1)$

۴۵- ضریب طول کمانش ستون EF چقدر است؟ (آر ۷۹)

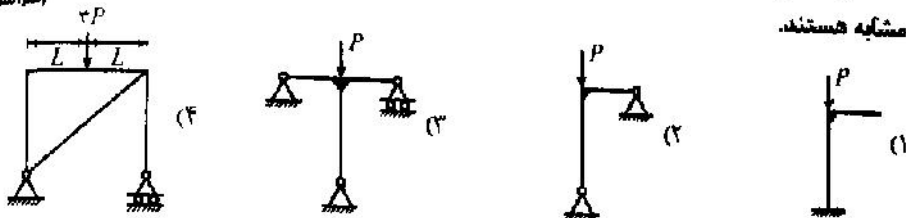
$2 \leq K_{EF} \leq \infty \quad (۱)$
 $0 \leq K_{EF} \leq 0.167 \quad (۲)$
 $1 \leq K_{EF} \leq 2 \quad (۳)$
 $K_{EF} = 0.167 \quad (۴)$

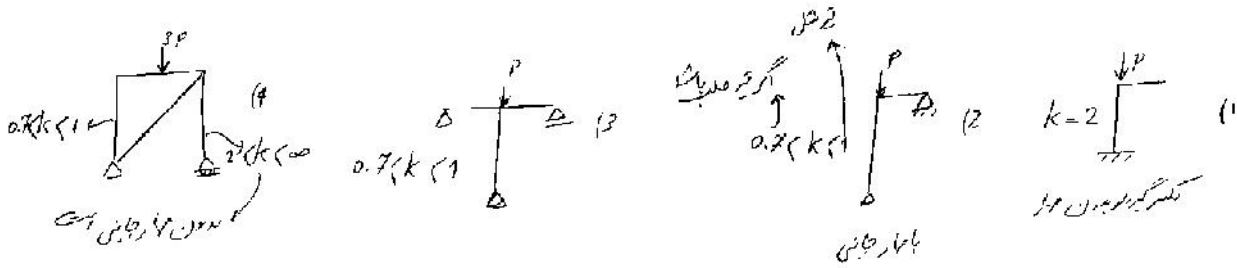
ستون EF مهار شده است.

تیر صلب $\rightarrow k=1$ (دو سرگیردار)

تیر مفصل $\rightarrow k=2$ (یک سرگیردار)

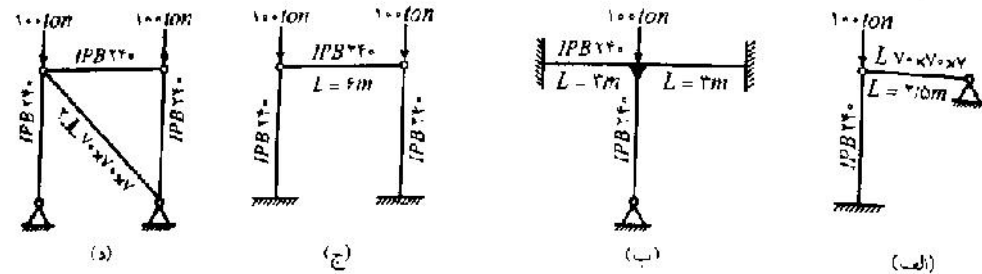
۴۶- احتمال کمانش کدام ستون در صفحه کاغذ بیشتر است. تمام ستون‌ها دارای طول، مقطع و فولاد (سراسری ۷۸)





کمانش در گره ۴ از ۲۰٪ بیشتر است و در گره ۳ از ۱۰٪ بیشتر است (۱.۵P) بنابراین در هر کمانش را بگیرند.

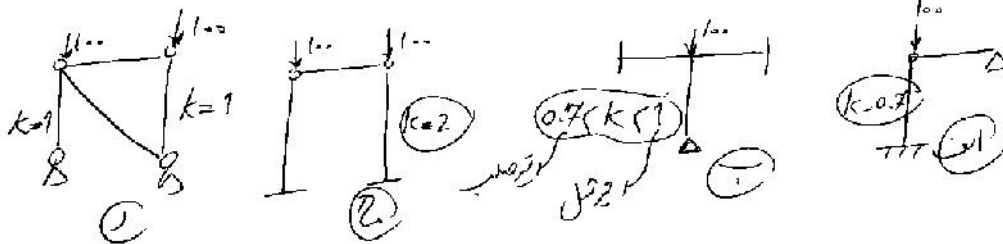
۲- احتمال وقوع کمانش در کدام یک از ستون‌های شکل زیر در صفحه کاغذ بیشتر است؟ طول تمام ستون‌ها برابر ۶ متر می‌باشد و مقطع آن‌ها نیز مشابه و از نیمرخ IPB ۲۴۰ است. عمود بر صفحه کاغذ تمام ستون‌ها در برابر کمانش نگهداری شده‌اند.



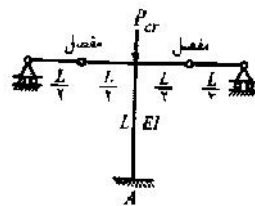
$L \times V \times V \times V (A = 91.6 \text{ cm}^2, r_x = 21.28 \text{ cm}, r_y = 11.37 \text{ cm})$

$IPB 240 (A = 10.6 \text{ cm}^2, I_x = 11260 \text{ cm}^4, r_x = 10.3 \text{ cm})$

- (۱) به ترتیب موارد الف، ب، ج، د
- (۲) به ترتیب موارد ب، الف، د، ج
- (۳) به ترتیب موارد ج، د، ب، الف
- (۴) به ترتیب موارد د، ج، ب، الف



(ج، د، ب، الف)

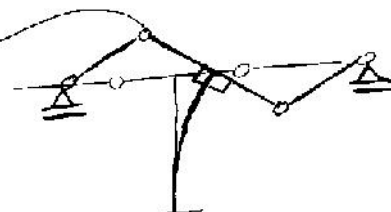


۲۱- در شکل زیر در صورتی که EI اعضاء افقی بی‌نهایت فرض شود.

ضریب طول مؤثر تئوریک عضو قائم چقدر است؟ (سوابق ۸)

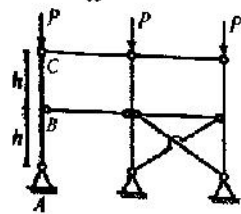
- $K = 0.7$ (۱)
- $K = 1$ (۲)
- $K = 1/8$ (۳)
- $K = 2$ (۴)

بدلت در جور مفصل که تیر نمی‌توانند جدا شوند را بگیرند
بنابراین ستون مانند ستون کله عمل می‌کند ($k=2$)



۵۹- در قاب الاستیک مطابق شکل، ستون‌ها یکسره بوده و تیرها با آنها اتصال مفصلی دارند. اتصال ستون

به بی نیز مفصلی می‌باشد. برای بار کماتش ستون ABC در صفحه قاب بر حسب $P_E = \frac{\pi^2 EI}{h^2}$



(۸۰ و ۸۱)


$$P_{cr} = P_E \quad (۲)$$

$$P_{cr} < 0.۲۵ P_E \quad (۴)$$

می‌توان گفت:

$$0.۱۵ P_E < P_{cr} < P_E \quad (۱)$$

$$0.۲۵ P_E < P_{cr} < 0.۱۵ P_E \quad (۳)$$

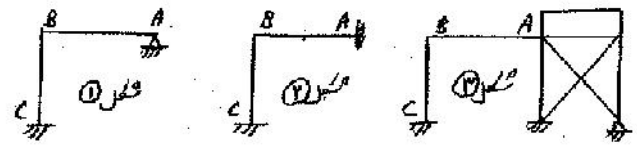


در صورت BC: $k = 2 \frac{I_C}{I_B}$ ← اگر ستون ABC قوی‌تر باشد (صلب)
 اگر ستون AB ضعیف‌تر باشد (نرم) $k = \infty$

$$\frac{\pi^2 EI}{2L^2} < P < \frac{\pi^2 EI}{(2L)^2} \Rightarrow 0 < P_{cr} < \frac{P_E}{4}$$

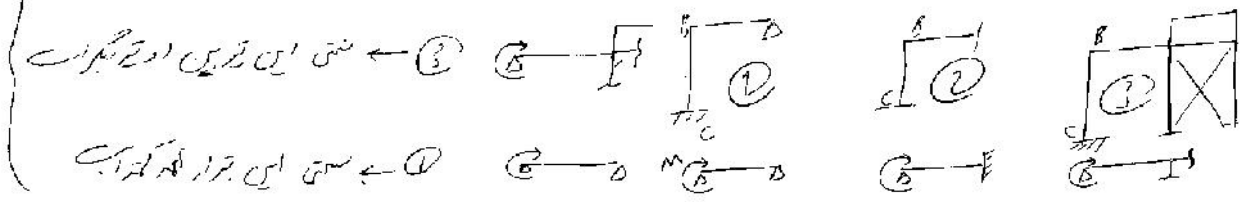
۶۸- در سازه‌های شکل زیر چنانچه در هر سه شکل مشخصات تیر AB و ستون BC یکسان باشد، ضریب طولی موثر ستون BC در کدام شکل بیشتر خواهد بود؟

سوالی ۸۱



$$K_1 > K_2 > K_3 \quad K_1 > K_2 > K_3 \quad K_1 > K_2 > K_3 \quad K_1 > K_2 > K_3$$

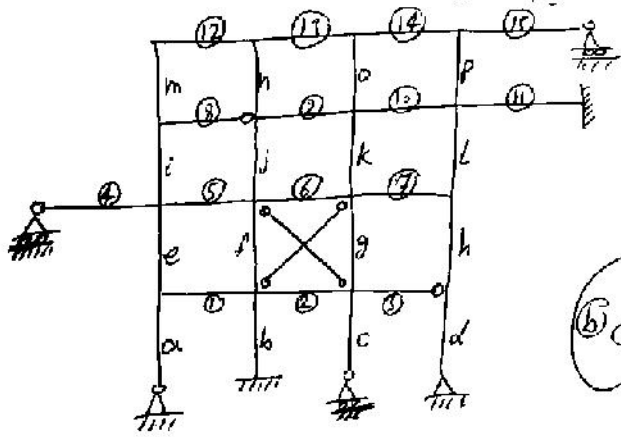
این تیرها در حالت ثابت است



$$k_1 > k_3 > k_2$$

تیر در ستون چهارگانه است که ستون با همان مشخصات تیرها خواهد بود

ضریب اصلاح سختی تیر یک برابر با ضریب ستون



ستون ۱: $2 < k < \infty$
 $G_{top} = \frac{a+e}{1}$
 $G_{bot} = 1_0$

ستون ۲: $1 < k < 2$
 $G_{top} = \frac{f+h}{1+2}$ $G_{bot} = 1$

ستون ۳: $2 < k < \infty$, $G_{top} = \frac{c+g}{2+0.5 \times 3}$

ستون ۴: $2 < k < \infty$
 $G_{top} = 1_0$
 $G_{bot} = 1_0$

ستون ۵: $0.5 < k < 1$, $G_{top} = \frac{e+i}{1.5 \times 4 + 5}$, $G_{bot} = \frac{a+e}{1}$

ستون ۶: $1 < k < \infty$
 $G_{top} = \frac{n+j}{3}$
 $G_{bot} = \frac{j+l}{5+6}$

ستون ۷: $0.5 < k < 1$, $G_{top} = \frac{f+j}{5+6}$, $G_{bot} = \frac{f+b}{1+2}$

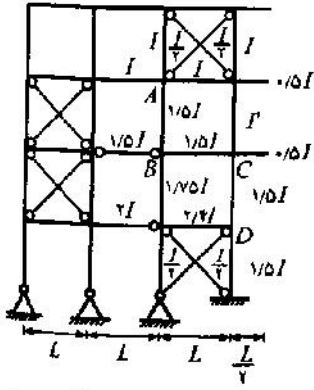
ستون ۸: $1 < k < \infty$, $G_{top} = \frac{i+m}{0.5 \times 8}$, $G_{bot} = \frac{i+e}{0.5 \times 4 + 5}$

ستون ۹: $1 < k < \infty$, $G_{top} = \frac{p+l}{10 + \frac{2}{3} \times 11}$, $G_{bot} = \frac{l+h}{7}$

ستون ۱۰: $1 < k < \infty$, $G_{top} = \frac{m}{12}$, $G_{bot} = \frac{m+i}{0.5 \times 8}$

ستون ۱۱: $1 < k < \infty$, $G_{top} = \frac{l}{14 + 0.5 \times 15}$, $G_{bot} = \frac{p+l}{10 + \frac{2}{3} \times 11}$

۲۷- مطلوب است تعیین مقدار I' به طوری که ضریب طول مؤثر اعضای AB و CD یکسان باشد. (سراسری ۱۷۶)



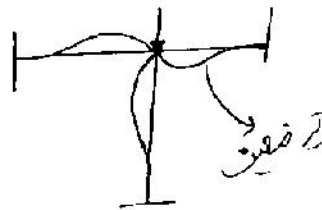
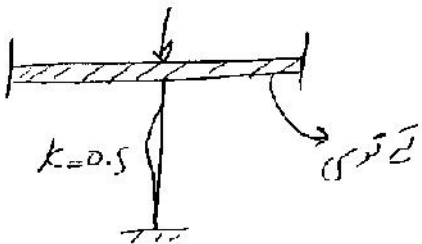
(۱) $I' = 1/2 I$

(۲) $I' = 1/3 \cdot 25 I$

(۳) $I' = 1/75 I$

(۴) مقدار I' قابل محاسبه نمی باشد.

فرجه سختی تیر که در مفصل به ستون نسبت به ستون بیشتر باشد،
تیر که بهتر می توانند به ستون کمک کنند و k ستون کاهش می یابد



$$G = \frac{\sum (EI/L) \text{ ستون}}{\sum (EI/L) \text{ تیر}}$$

$G_A = \frac{AG \left(\begin{matrix} I + 1.5I \\ I + I \end{matrix} \right)}{AF \left(\begin{matrix} I + I \end{matrix} \right)} = 1.25$

$G_B = \frac{AB \left(\begin{matrix} 1.5I + 1.75I \\ 1.5I + 1.5I \times 0.5 \end{matrix} \right)}{BJ \left(\begin{matrix} 1.5I \end{matrix} \right)} = \frac{3.25}{1.5}$

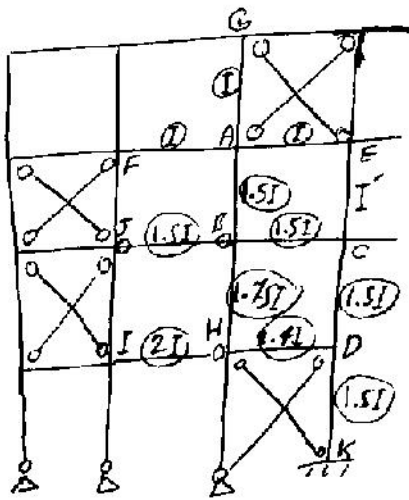
ستون AB

$\Rightarrow I' = 1/75 I$

$G_C = \frac{CD \left(\begin{matrix} 1.5I + I' \\ 1.5I \end{matrix} \right)}{1.5I}$

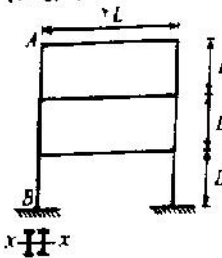
ستون CD

$G_D = \frac{DK \left(\begin{matrix} 1.5I + 1.5I \\ 1.5I \end{matrix} \right)}{DH \left(\begin{matrix} 2.4I \end{matrix} \right)} = 1.25$



۲۹- برای ستون AB از سازه شکل مقابل که تکیه‌گاه‌های جانبی آن فقط در نقاط A و B (عمود بر صفحه) قرار دارد، در صورتی که نسبت ضریب طول مؤثر در دو جهت برابر $K_y = 3K_x$ باشد، کدامیک از نسبت‌های شعاع زیراسیون برای مقطع داده شده مناسب‌تر است؟

(مراجعه ۷۶)



(۱) $r_x = r_y$

(۲) $r_x = 3r_y$

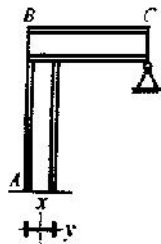
(۳) $3r_x = r_y$

(۴) $9r_x = r_y$

بست. یعنی در ستون باید $r_x = 3r_y$ باشد

$$\left(\frac{kL}{r}\right)_x = \left(\frac{kL}{r}\right)_y \rightarrow \frac{k_x L}{r_x} = \frac{(3k_x)L}{r_y} \rightarrow r_y = 3r_x$$

۳۰- قطعات قاب ABC از یک نیم‌رخ بال یکن تشکیل شده‌اند. وضع تکیه‌گاه‌ها در صفحه قاب مطابق شکل زیر بوده و در نقاط A و C دارای تکیه‌گاه جانبی است که از حرکت قاب در امتداد عمود بر صفحه قاب در این نقاط جلوگیری می‌نمایند. ضریب کماتش ستون AB در دو امتداد به ترتیب زیر است: (مراجعه ۷۶)

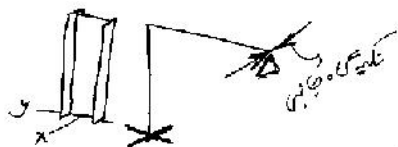


(۱) $K_y < 1, K_x < 1$

(۲) $K_y > 1, K_x < 1$

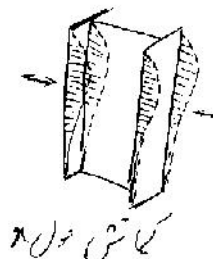
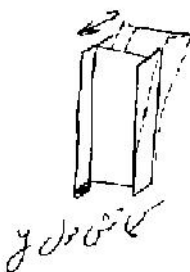
(۳) $K_y > 1, K_x > 1$

(۴) $K_y < 1, K_x > 1$



بار کماتش حول y ستون مهار شده است $k_y > 1$

بار کماتش حول x ستون مهار شده است $k_x < 1$



۳۴- در قاب‌های خمشی بدون یادبند، با کاهش صلبیت تیرها، ضریب طول مؤثر قطعات فشاری، (۱) کاهش می‌یابد، (۲) تغییر نمی‌کند، (۳) افزایش می‌یابد، (۴) به سمت ۱/۵ میل می‌کند.

۴۲- لاغری یک ستون با حد تسلیم $F_y = 2400 \text{ kg/cm}^2$ برابر $\lambda = 180$ و بار مجاز آن ۱۰۰ تن می‌باشد.

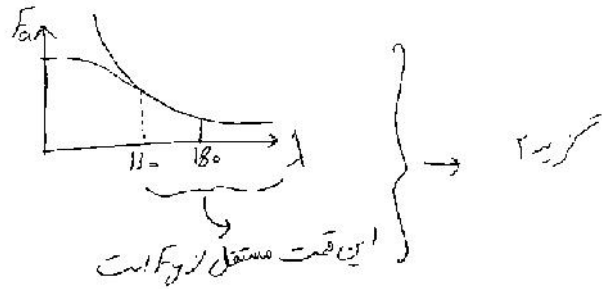
اگر به جای استفاده از فولاد نرمه فوق‌الذکر از فولادی که دارای حد تسلیم $F_y = 3600 \text{ kg/cm}^2$ است استفاده گردد، بار مجاز ستون به چند تن خواهد رسید؟ (مراجعه ۸۱)

۱۵۰ (۴)

۱۲۰ (۳)

۱۰۰ (۲)

۶۶/۶ (۱)



۴۸- اگر ستون شماره ۱ از فولاد $ST-۳۷$ ($F_y = ۲۴۰۰ \text{ kg/cm}^2$) و ستون شماره ۲ از فولاد $ST-۵۲$ ($F_y = ۳۶۰۰ \text{ kg/cm}^2$) ساخته شده باشند. تحت شرایط گمانش ارنجایی مقدار تنش فشاری مجاز (F_a) آن دو چه رابطه‌ای با یکدیگر دارند؟ (F_y تنش تسلیم فولاد است). (مراجعه ۷۷)

$$F_{a2} = ۰.۶۶ F_{a1} \quad (۴) \quad F_{a2} = ۲ F_{a1} \quad (۳) \quad F_{a2} = ۱.۵ F_{a1} \quad (۲) \quad F_{a2} = F_{a1} \quad (۱)$$

۴۹- اگر ضریب اطمینان طراحی ستون‌های لاغر را $۲/۵$ در نظر گرفته، حد تناسب (رفتار خطی) را برابر $۰.۶ F_y$ فرض کنیم، کدام یک از روابط طراحی زیر برای فولاد نرمه ساختمانی با $F_y = ۲۴۰۰$ کیلوگرم بر سانتی‌متر مربع صحیح می‌باشد؟ (مدول ارتجاعی فولاد $E = ۲/۱ \times ۱۰^۶$ کیلوگرم بر سانتی‌متر مربع و در تمام روابط F_a تنش فشاری مجاز بر حسب کیلوگرم بر سانتی‌متر مربع می‌باشد). (مراجعه ۷۷)

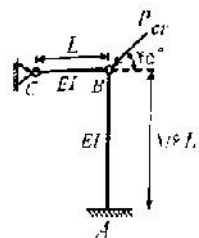
$$F_a = \frac{۸/۳ \times ۱۰^۶}{(KL/r)^2}, \frac{KL}{r} \geq ۱۲۰ \text{ برای } (۲) \quad F_a = \frac{۱۰/۴ \times ۱۰^۶}{(KL/r)^2}, \frac{KL}{r} \geq ۱۲۰ \text{ برای } (۱)$$

$$F_a = \frac{۱۰/۸ \times ۱۰^۶}{(KL/r)^2}, \frac{KL}{r} \geq ۱۳۱ \text{ برای } (۴) \quad F_a = \frac{۸/۳ \times ۱۰^۶}{(KL/r)^2}, \frac{KL}{r} \geq ۱۱۰ \text{ برای } (۳)$$

$$0.6 F_y = \frac{\pi^2 E}{\lambda_c^2} \rightarrow \lambda_c = \sqrt{\frac{\pi^2 E}{0.6 \times ۲۴۰۰}} = ۱۲۰$$

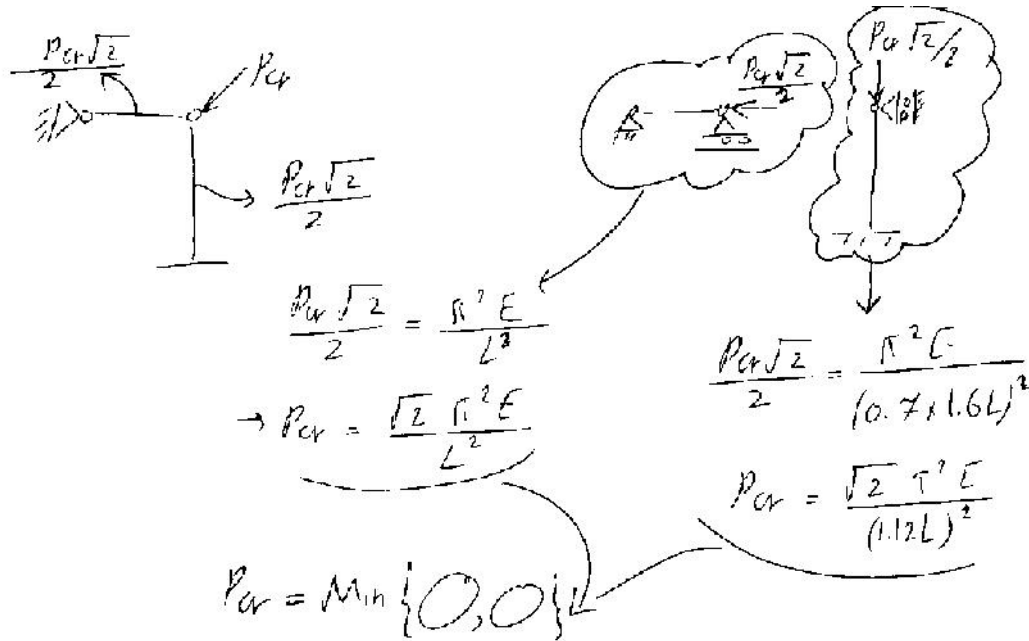
$$F_a = \frac{1}{2.5} \times \frac{\pi^2 E}{\lambda^2} = \frac{514^2 \times 2.1 \times 10^6}{2.5 \times \left(\frac{KL}{r}\right)^2} = \frac{8.22 \times 10^6}{\left(\frac{KL}{r}\right)^2}$$

۵۱- چنانچه رفتار سازه شکل مقابل الاستیک فرض شود و EI هر دو عضو یکسان باشد. بار بحرانی عبارت است از: (مراجعه ۷۶)



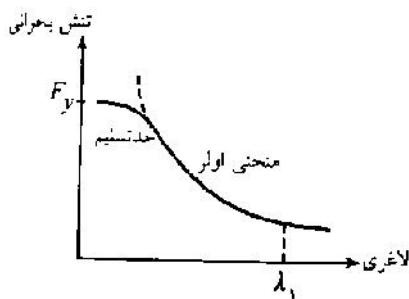
$$P_{cr} = \frac{\sqrt{2} \pi^2 \cdot EI}{L^2} \quad (۳) \quad P_{cr} = \frac{\sqrt{2} \pi^2 \cdot EI}{(1/2)L^2} \quad (۱)$$

$$P_{cr} = \sqrt{\left(\frac{\sqrt{2} \pi^2 \cdot EI}{1/2 L^2}\right)^2 + \left(\frac{\sqrt{2} \pi^2 \cdot EI}{L^2}\right)^2} \quad (۴) \quad P_{cr} = \frac{\sqrt{2} \pi^2 \cdot EI}{(1/2)L^2} \quad (۲)$$



(سراسری ۷۶)

۵۲- با توجه به شکل زیر که در مورد یک ستون با بار محوری رسم شده است:



- ۱) تنش مجاز ستون در لاغری نظیر λ_1 تنها تابع تنش تسلیم فولاد است.
- ۲) تنش مجاز ستون در لاغری نظیر λ_1 تنها تابع تنش تسلیم فولاد و مدول الاستیسیت فولاد است.
- ۳) تنش مجاز ستون در لاغری نظیر λ_1 تنها تابع مدول الاستیسیت فولاد است.
- ۴) تنش مجاز ستون در لاغری نظیر λ_1 تنها تابع مدول الاستیسیت مماسی فولاد است.

۵۸- ضریب لاغری هر دو ستون a و b برابر 180 می باشد، تنش حد جاری شدن فولاد ستون های a و b به ترتیب برابر 2400 و 2600 کیلوگرم بر سانتی متر مربع است. نسبت تنش فشاری مجاز ستون a به ستون b برابر است با:

(آب ۸۰)

$\frac{4}{9}$ (۴) $\frac{\sqrt{2}}{3}$ (۳) ۱ (۲) $\frac{2}{3}$ (۱)

۵۳- فرمول اولر برای محاسبه بار بحرانی ستون ها در محدوده الاستیک به صورت $P = \frac{\pi^2 EI}{(KL)^2}$ است.

(سراسری ۷۰)

چنانچه ستون دارای رفتار غیرالاستیک باشد:

- ۱) از فرمول فوق می توان بار بحرانی را به دست آورد.
- ۲) اصولاً چنین حالتی برای ستون ها پیش نمی آید.
- ۳) از فرمول اولر نمی توان استفاده کرد.
- ۴) از فرمول اولر با تغییراتی می توان بار بحرانی ستون را به دست آورد.

۵۵- برای عضو فشاری با ضریب لاغری بیشتر از C_c ، تنش مجاز متناسب با کاهش کاهش می یابد.
 $r =$ شعاع ژیراسیون، $F_y =$ تنش حد جاری شدن فولاد

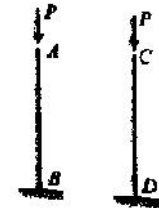
(آ) (۸۲)

$r^2 (۴)$ $r^2 (۳)$ $r^2 F_y (۲)$ $r^2 F_y (۱)$

لاغر بیشتر از C_c است بنابراین تنش مجاز برابر است با:

$$F_a = \frac{12}{23} \frac{\pi^2 E}{\lambda^2} = \frac{12}{23} \frac{\pi^2 E}{\left(\frac{kL}{r}\right)^2} = \frac{12}{23} \frac{\pi^2 E}{(kL)^2} r^2 \rightarrow \text{با کاهش } r^2 \text{ کاهش می یابد}$$

۶۰- ستون های AB و CD دارای مقطع، ارتفاع و شرایط تکیه گاهی یکسان می باشند. ستون AB از فولاد با $F_y = ۲۴۰۰ \text{ kg/cm}^2$ و ستون DC از فولاد با $F_y = ۳۶۰۰ \text{ kg/cm}^2$ می باشند. کدام یک از پاسخ های زیر صحیح است؟



(ب) (۷۹)


- (۱) ستون ها دارای ظرفیت باربری یکسان هستند.
- (۲) ستون CD دارای ظرفیت باربری بیشتر است.
- (۳) بر حسب ضریب لاغری هر یک از موارد (۱) و (۲) امکان پذیر است.
- (۴) بر حسب ضریب لاغری و مدول الاستیسیته فولاد هر یک از موارد (۱) و (۲) امکان پذیر است.

(آ) (۷۸)

۶۱- اعضای فشاری با لاغری متوسط چگونه خراب می شوند؟


- (۱) به واسطه کماتش الاستیک
- (۲) به واسطه جاری شدن
- (۳) به واسطه کماتش بعد از جاری شدن نقاطی از مقطع
- (۴) به واسطه تسلیم

۱۲۴- در ستون نشان داده شده حداقل سختی مهارجانی برای تکه کماتش ستون به صورت دو سر سفص نجام شود کدام است؟

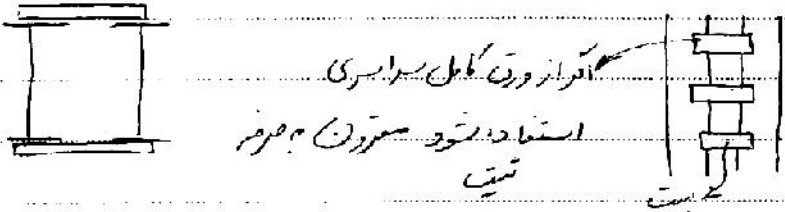


$k \geq \frac{\pi^2 EI}{L^2}$ (۳) $k \geq \frac{\pi^2 EI}{\Delta L}$ (۱)
 $k > \frac{\pi^2 EI}{4L^2}$ (۴) $k \geq \frac{4\pi^2 EI}{L^2}$ (۲)

تکه



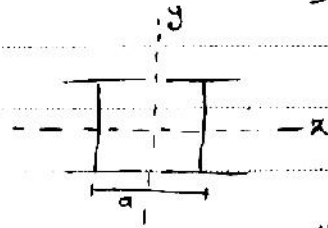
مستوهای خشک: علت استفاده برای افزایش I_y مستوهای آ شکل را با نامبره از هم فرار میدهند برای اتصال از نسبت استفاده میکنند.



برای این بار جدید از مستوهای خشک میتوان استفاده کرد که عضو تحت فشار حاصل و با فشار + تحت جرم محور با مصالح (محور x) قرار گیرد.

جول محور x با مصالح است.

و بدون ...

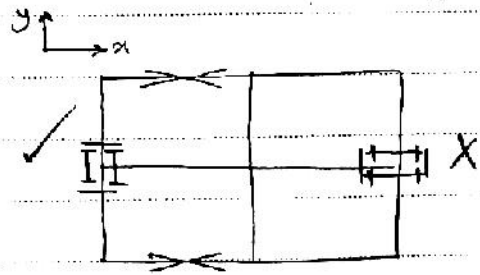


M_x میتوان دانست

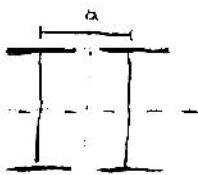
M_y نمیتوان دانست

نقطه: خروج نامبره a بیشتر شود I_y بیشتر خواهد شد.

درستار مشخص از a ، $I_x = I_y$ میشود



سؤال: اگر $I_x = I_y$ باشد گمانش حول کدام محور رخ میدهد؟



$$I_x = 2I'_x$$

با فرض صلب بودن بسترهاست اگر سست است چنانکه در شکل ضعیف باشند

$$I_y = 2I'_y + 2A\left(\frac{a}{2}\right)^2$$

خواهند شد $I_y = 2I'_y$

$$2I'_y < I_y < (2I'_y + 2A\left(\frac{a}{2}\right)^2)$$

جواب سؤال: حول محور y گمانش میکنند چون $I_y < I_x$ صمیم است.

نمود تعیین لایری موثر حول محور ۲

لایری حول محور ۲

$$\lambda_y = \frac{k_y L}{r_y} = \frac{k_y L}{\sqrt{\frac{I_y'}{A}}}$$

$$\Rightarrow \lambda_{ye} = \sqrt{\lambda_y^2 + \lambda_1^2}$$

لایری موثر

ستون حول محور

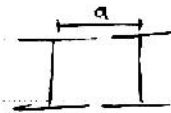
ضعیف

لایری حول
محور ۱
پرودین بین
بستها

$$\lambda_1 = \frac{L_1}{r_1} = \frac{\text{فاصله بین بستها}}{\sqrt{\frac{I_y'}{A}}}$$

$$\left. \begin{array}{l} \lambda_{ye} \uparrow \\ \lambda_y \neq \\ k_y \neq \end{array} \right\} \Leftrightarrow \uparrow L_1 \text{ فاصله بین بستها}$$

$$\left. \begin{array}{l} \lambda_{ye} \downarrow \\ \lambda_y \downarrow \\ k_y \neq \end{array} \right\} \Leftrightarrow \uparrow a \text{ با افزایش طول}$$



جهت یافتن بار مجاز طراحی $\lambda = \max \{ \lambda_x, \lambda_{ye} \}$ ← F_a

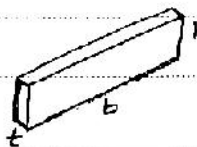
برای بستها می توان از تسمه، ناودان و یا نبش استفاده کرد.

$$\frac{L_1}{r_1} < \left\{ \frac{3}{4} \lambda_y, 40 \right\}$$

طراحی بست:

$$t \geq \frac{a}{40}$$

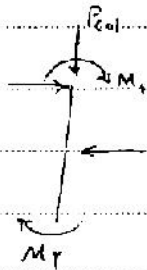
۱ ضخامت بست (t)



$$h \geq \frac{b}{2}$$

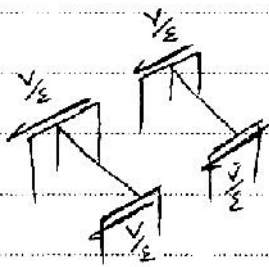

۱ پهنای بست (h)

✓ بست باید بتواند خمش و برش را شرح دهد تا تحمل کند



$$V = 0.5 P_{col} + V_{col} + \frac{M_1 + M_2}{L}$$

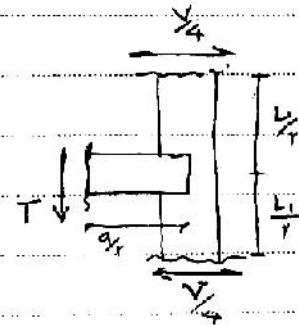
در این بار جدید حذف شده



این برش V توسط ۴ بار تحمل می شود

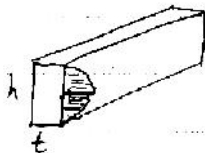
$$T = \frac{V/4 \times L_1}{a/r} = \frac{VL_1}{4a}$$

$$M = T \times \frac{a}{r} = \frac{VL_1}{4}$$



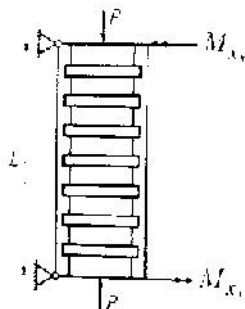
$$\frac{6M}{th^3} < 0.6 F_y$$

$$\frac{6 \left(\frac{VL_1}{4} \right)}{th^3} < 0.6 F_y$$



$$\frac{1.5 T}{ht} < 0.4 F_y$$

در طرح ستون های مرکب (مشیک) با قیدهای افقی که مطابق شکل بار گذاری شده اند و برای ساختمان به کار می روند، مقدار نیروی برشی در طول ستون از کدام گزینه بدست می آید؟ (۱۷۰)




$$V = 0.5 P \quad (1)$$

$$V = 0.5 P + \frac{M_{x1} - M_{x2}}{L} \quad (2)$$

$$V = 0.5 P + \frac{M_{x1} - M_{x2}}{2} \quad (3)$$

$$V = 0.5 P - \frac{M_{x1} - M_{x2}}{L} \quad (4)$$

نکته: مگرسی که موجب تغییر شکل در بستر که شش در اسیاب است در نظر گرفته نمی شود



ستونی دو سر مفصل به طول ۴ متر از دو نیمرخ I شکل تشکیل شده است و در آن از بست های افقی استفاده گردیده است. طبق ضوابط خاصی ضریب لاغری هر جزء ستون مابین بست ها نباید بیشتر از $\frac{2}{3}$ ضریب لاغری کل ستون باشد. در عین حال ضریب لاغری هر جزء ستون مابین بست ها نباید از ۴۰ نیز بیشتر شود. بر این اساس حداکثر فاصله S چقدر می تواند باشد؟

(مراستی ۷۸)

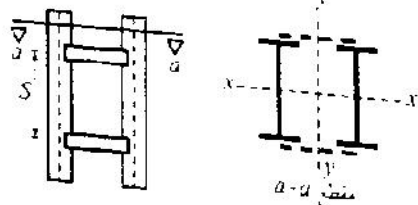
$$A = 60 \text{ cm}^2, I_x = 4000 \text{ cm}^4, I_y = 4000 \text{ cm}^4$$

مشخصات هندسی نیرخ دوپل:

$$A' = 30 \text{ cm}^2, I_x' = 2000 \text{ cm}^4, I_y' = 2000 \text{ cm}^4$$

$$r_x' = 8.2 \text{ cm}, r_y' = 2.6 \text{ cm}$$

مشخصات هندسی تک نیمرخ:



۴۲ cm (۱)

۸۴ cm (۲)

۱۰۳ cm (۳)

۱۲۶ cm (۴)

$$\frac{L_1}{r_1} < \frac{2}{3} \left(\frac{L}{r} \right)_{\text{کل ستون}} \rightarrow \frac{S}{2.6} < \frac{2}{3} \times \frac{400}{\sqrt{\frac{4000}{2.6}}} \rightarrow S < 84.9 \text{ cm}$$

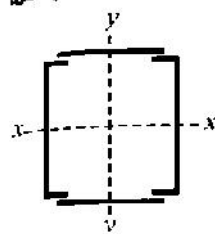
طول ستون
I کل ستون
مقطع کل ستون

$$\frac{S}{2.6} < 40 \rightarrow S < 104 \text{ cm}$$

گزین ۱ صحیح است

۶۸- هر یک ستون یا مقطع مرکب که از دو پروفیل ناودانی ساخته شده و در آن از بست های افقی استفاده شده و فقط نیروی محوری را تحمل می کند، اگر $(\frac{KL}{r})_x = (\frac{KL}{r})_y$ باشد، مقدار بار ماکزیممی که

(مراستی ۷۴ و لقمه مهندسی)



ستون می تواند تحمل کند چگونه محاسبه خواهد شد؟

(۱) از محاسبه حول محور Zها

(۲) از محاسبه حول محور Xها

(۳) باربری ستون در دو جهت برابر است.

(۴) بار محاسبه شده حول محور Z را باید ۲٪ افزایش داد.

۶۹- ستونی از $2INP$ با فاصله مرکز تا مرکز a تشکیل شده است. اگر ستون تحت نیروی محوری و M_x قرار گیرد (خمش حول محور x). مناسب ترین فاصله a چگونه محاسبه می شود؟ (مراسمی ۷۴ و نظام مهندس)

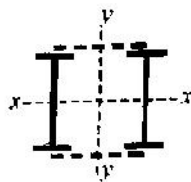
(۱) ضریب لاغری مؤثر ستون حول دو محور یکسان باشد.

(۲) شعاع ژیراسیون حول دو محور یکسان باشد.

(۳) طول مؤثر $(\frac{KL}{\mu})$ ستون نسبت به دو محور یکسان باشد.

(۴) هرچه a بیشتر انتخاب شود بهتر است.

۷۳- ستون مرکب حاصل از دو تیر آهن $IPE 200$ که فاصله محور آنها 200 mm است را در نظر بگیرید. اگر ورق های بست دارای فاصله محور تا محور 500 mm و ابعاد هر ورق برابر $240 \times 100 \times 10$ باشد، بر اثر بار محوری 30 تن برای ستون، ورق بست برای چه تنش خمشی باید جوابگو باشد؟ (آاد ۸۰)



(۱) 900 kg/cm^2

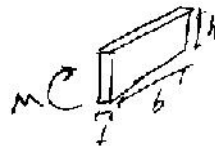
(۲) 1400 kg/cm^2

(۳) 450 kg/cm^2

(۴) 1800 kg/cm^2

$V = 0.02 \times P = 0.02 \times 30000 = 600\text{ kg} \Rightarrow M = \frac{V \cdot L_1}{4} = \frac{600 \times 50}{4} = 7500\text{ kg} \cdot \text{cm}$

$\sigma = \frac{6M}{h^2} = \frac{6 \times 7500}{10 \times 10^2} = 4500\text{ kg/cm}^2$



(آاد ۷۸)

۷۲- بست های موازی در ستون های دویل بر اساس طراحی می شوند.

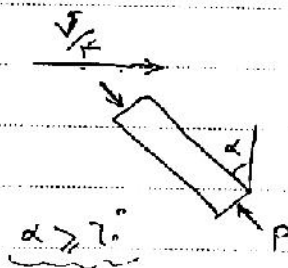
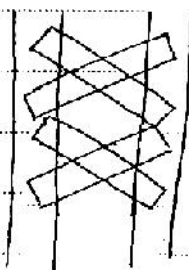
(۴) ترکیب برش و خمش

(۳) کشش و خمش

(۲) برش

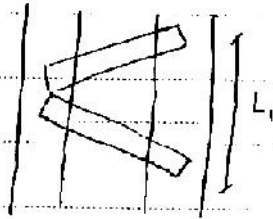
(۱) خمش

نکته: در ستون های با بست های موازی، بست ها بر اساس بررسی فشاری طراحی می شوند.



$P \sin \alpha = \frac{V}{2}$
 نیروی برش
 $P = \frac{V}{\sin \alpha}$

بست ضربه ای



بر = حوزب تکلی ← $P = \frac{V}{r \sin \alpha}$

$$\frac{L_1}{r_1} < \frac{3}{4} \lambda_{\text{کل ستون}}$$

$$\lambda = \max(\lambda_y, \lambda_x)$$

نکته: $\frac{L}{r} < \begin{cases} 140 & \text{تک} \\ 200 & \text{ضربدری} \end{cases}$

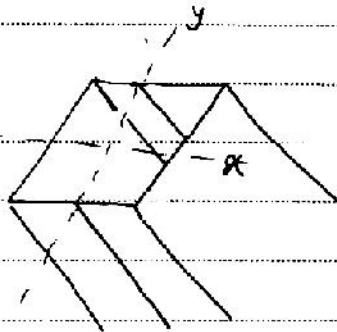
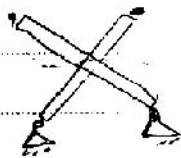
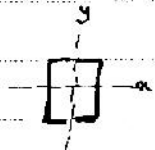
ضربدری طول ستون

↑
 $\lambda = \frac{kL}{r} = \begin{cases} 0.7 \frac{L}{r} & \text{بر = ضربدری} \end{cases}$

تبع تیر ایوان بر =
 که نسبتاً برابر ۰.۳۴
 میباشد.

نکته: در همین بار مجاز عماری بست های دور

نکته: در بادبندها، چگونه باد در دو را حساب کنیم.



$$\lambda_x = \frac{0.8 \times L}{\sqrt{\frac{I_x}{A}}}$$

اگر بادبند در صنف خود گماش کند ←

$$\lambda_y = \frac{0.7 \times L}{\sqrt{\frac{I_y}{A}}}$$

اگر بادبند در جهت عمود بر صنف گماش کند ←

■ Compact $\frac{b_f}{2t_f} < \frac{5.15}{\sqrt{F_y}}, \frac{d}{t_w} < \frac{5365}{\sqrt{F_y}}$

■ Laterally supported $L_b < \left(\frac{6356t_f}{\sqrt{F_y}}, \frac{1.4 \times 10^5}{\left(\frac{d}{A_f}\right)F_y} \right) \Rightarrow$

$: F_b = 0.66F_y$,  $: F_b = 0.75F_y$

■ flanges are continuously connected to the webs

■ Noncompact $\left(\frac{545}{\sqrt{F_y}} < \frac{b_f}{2t_f} < \frac{795}{\sqrt{F_y}} \right), \left(\frac{5365}{\sqrt{F_y}} < \frac{d}{t_w} < \frac{6370}{\sqrt{F_y}} \right)$

■ Laterally supported $L_b < \left(\frac{6356t_f}{\sqrt{F_y}}, \frac{1.4 \times 10^5}{\left(\frac{d}{A_f}\right)F_y} \right) \Rightarrow F_b = 0.6F_y$

■ flanges need not to be continuously connected to the webs

■ Compact or non compact $\frac{h_f}{2t_f} < \frac{795}{\sqrt{F_y}}, \frac{d}{t_w} < \frac{6370}{\sqrt{F_y}}$

■ Laterally Unsupported $L_b < \left(\frac{6356t_f}{\sqrt{F_y}}, \frac{1.4 \times 10^5}{\left(\frac{d}{A_f}\right)F_y} \right)$

■ flanges need not to be continuously connected

$$\left\{ \begin{array}{l} \text{if } \sqrt{\frac{72 \times 10^5 \times C_b}{F_y}} \leq \frac{L_b}{r_T} < \sqrt{\frac{360 \times 10^5 \times C_b}{F_y}} \rightarrow F_b = \text{Min} \left(\text{Max} \left[\left(\frac{2}{3} - \frac{F_y \left(\frac{L_b}{r_T}\right)^2}{1075 \times 10^5 \times C_b} \right) F_y, \frac{84 \times 10^4 \times C_b}{A_f} \right], 0.6F_y \right) \\ \text{if } \frac{L_b}{r_T} > \sqrt{\frac{360 \times 10^5 \times C_b}{F_y}} \rightarrow F_b = \text{Min} \left(\text{Max} \left[\frac{120 \times 10^5 \times C_b}{\left(\frac{L_b}{r_T}\right)^2}, \frac{84 \times 10^4 \times C_b}{\frac{L_b \times d}{A_f}} \right], 0.6F_y \right) \end{array} \right.$$

A_f : Area of the compression flange

L_b : Unsupported length of compression flange

r_T : Radius of gyration of a section consisting of the compression flange + $\frac{1}{3}$ of the

compression web taken about the plane of the web

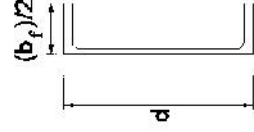
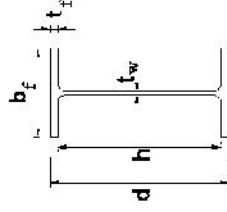
$C_b = M_{in} \left\{ 1.75 + 1.05 \times \frac{M_1}{M_2} + 0.3 \left(\frac{M_1}{M_2} \right)^2 \right\} \leq 2.3$

{ For cantilever beams: $C_b = 1$
if M_{max} is not at the ends: $C_b = 1$

M_1 is the smaller and M_2 is the larger bending moment at the ends of the unbraced length

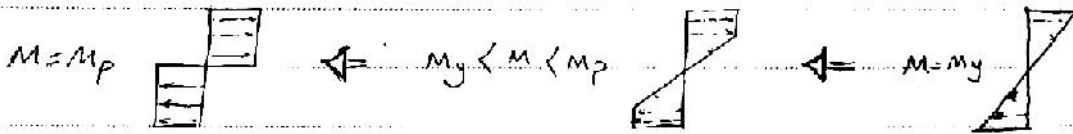
for single curvature : $\frac{M_1}{M_2} < 0$

for reverse curvature : $\frac{M_1}{M_2} > 0$

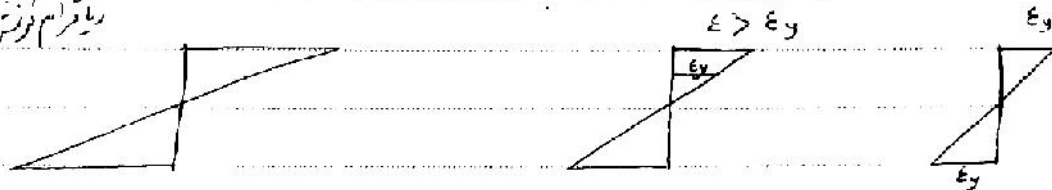


۴-۱- ضریب شکل
منحرف ضریب شکل :

ریگراسیون



ریگراسیون



مقدار ظرفیت خمشی مقطع (Mp) بیشتر از My است و نسبت $\frac{M_p}{M_y}$ ضریب شکل نامیده می شود.

$$M_p = (F_y \cdot S) \cdot S.F$$

$$S.F = \frac{M_p}{M_y}$$

$M_y = F_y \cdot \frac{bh^3/12}{\frac{h}{4}} = F_y \cdot \frac{bh^3}{3}$
 $M_p = F_y \cdot \frac{bh^3}{4}$
 $\Rightarrow S.F = \frac{bh^3/4}{bh^3/3} = 1.5$

S.F	۱.۱۲	۱.۱۲	۱.۵	۱.۳	۱.۱۲
	I	تشریحی			

(مقادیر ۱۷)

۹۱- تعریف ضریب شکل (shape factor) در تیرهای خمشی چیست؟


- ۱) نسبت ممان اینرسی به ممان اولیه سطح
- ۲) نسبت ممانی که در مقطع ایجاد حالت پلاستیک کامل می کند به ممان ماکزیمم الاستیک
- ۳) نسبت سطح مقطع به محیط تیر
- ۴) نسبت ارتفاع به عرض مقطع

۹۲- برای مقطع قوطی مربع شکل با ابعاد خارجی ۶۰×۶۰ سانتی متر و ضخامت ورق ۲ سانتی متر، مقدار اساس مقطع پلاستیک نسبت به محوری که از مرکز سطح گذشته و موازی دو ضلع آن باشد چقدر است؟ (بر حسب cm^3)

- ۱) ۶۷۰۰ (۲) ۲) ۸۷۰۰ (۲) ۳) ۹۵۰۰ (۲) ۴) ۱۰۱۰۰ (۲)

۲۴- نحوه محاسبه اسفند مقطع پلاستیک (اسفند الاستیک ← $S = \frac{I}{c}$) :

ابتدای فرضی پلاستیک را می‌بینیم: این دو حالت باید برابر باشند



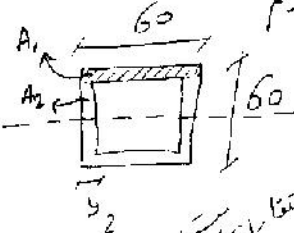
$$A_1 = \frac{x^2}{2}$$

$$A_2 = \frac{a^2}{2} - \frac{x^2}{2}$$

$$\left. \begin{matrix} A_1 = A_2 \end{matrix} \right\} \rightarrow A_1 = A_2 \rightarrow x = \frac{a\sqrt{2}}{2}$$

در حالتی داریم تا وقتی الاستیک در $x = \frac{2a}{3}$ قرار دارد.

برای محاسبه هر دو مساحت را نسبت به فرضی محاسبه کنیم



$$Z = 2 \left[A_1 \times 29 + 2 \times A_2 \times 14 \right] = 10096 \approx 10100$$

نشان دهنده این مقادیر است


۲-۴- کماتش موضعی



برای اینکه بتوان از M_p بجای M_y استفاده کرد باید شرایط زیر ارضا شود:

- ✓ مقطع فشرده باشد ← اگر فشرده نباشد قسمتی از مقطع بصورت موضعی کماتش می‌کند.

✓ تیر دارای مهار جانبی باواصل کافی برای جلوگیری از فشردگی باشد.



مقطع غیر فشرده ← مقطع که تارسیدن به M_y گمانش موضعی نمی‌کند ولی قبل از رسیدن به M_p گمانش موضعی می‌کند.

$$M_y < M < M_p \longrightarrow F_b = 0.7 F_y$$

مقطع لاغر ← قبل از رسیدن به M_y گمانش موضعی نخواهد داشت.
استفاده از اجزای لاغر مجاز نیست مگر برای جان تیر و ورق‌ها.

نکته ۲ در مقطع غیر فشرده نیاز نیست که اتصال بال به جان پیوسته باشد.

۱- کنترل نسبت عرض به ضخامت بال و جان در تیرها و ستون‌های فولادی I شکل و محدود کردن این نسبت اساساً به منظور جلوگیری از:

(سیاسی ۷۷)

- (۱) به تسلیم رسیدن جان و بال است.
- (۲) سنگین شدن عضو است.
- (۳) شکست و فروریختن عضو است.
- (۴) گمانش موضعی جان و بال است.

۲- شرط آن که پروفیلی به عنوان تیر فشرده محسوب شود، علاوه بر اتصال سرتاسری جان به بال چیست؟ (سیاسی ۷۴)

- (۱) نسبت عرض به ضخامت قسمت‌های مختلف آن از حد معینی تجاوز ننماید.
- (۲) نسبت عرض به ضخامت در عناصر فشاری آن از حد معینی تجاوز ننماید.
- (۳) نسبت طول دهانه تیر به عرض بال از حد معینی تجاوز ننماید.
- (۴) شرط دیگری وجود ندارد چون همه پروفیل‌های نوردشده از فولاد نرمه، فشرده محسوب می‌شوند.

۳- پروفیل‌های فشرده به پروفیل‌هایی گفته می‌شوند که دارای خاصیت زیر باشند: (سیاسی ۷۶ و نهم مهندسی)

- (۱) نسبت عرض به ضخامت قسمت‌های مختلف آنها از حد معینی تجاوز نکند.
- (۲) همه پروفیل‌های فولادی نوردشده از فولاد نرمه پروفیل فشرده می‌باشند.
- (۳) پروفیل‌هایی هستند که به روش خاصی در کارخانجات نورد شده‌اند.
- (۴) هیچ‌کدام از گزینه‌ها کامل نیست.

۴- حداکثر مجاز نسبت پهنای آزاد به ضخامت در بال پروفیل با مقطع فشرده متناسب است با: (آزاد ۸۶)

- (۱) تنش حد جاری شدن فولاد مصرفی
- (۲) جذر تنش حد جاری شدن فولاد مصرفی
- (۳) عکس جذر تنش حد جاری شدن فولاد مصرفی
- (۴) عکس تنش حد جاری شدن فولاد مصرفی

(آزاد ۸۶)

۷- معیار کنترل پدیده گمانش موضعی در آیین‌نامه فولاد ایران کدام است؟

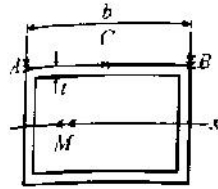
- (۱) مقدار $L_c = \frac{625b_f}{\sqrt{F_y}}$
- (۲) فرمول اولر
- (۳) نسبت عرض به ضخامت
- (۴) طول مهارى بال فشاری

(آزاد ۸۶)

۸- حداکثر مجاز نسبت پهنای آزاد به ضخامت در بال تیر یا مقطع فشرده متناسب است با:

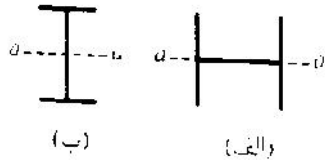
- (۱) تنش حد جاری شدن فولاد مصرفی
- (۲) جذر تنش حد جاری شدن فولاد مصرفی
- (۳) عکس جذر تنش حد جاری شدن فولاد مصرفی
- (۴) عکس تنش حد جاری شدن فولاد مصرفی

۴- در تیر مقطع قوطی اگر نسبت $\frac{b}{t}$ بیش از مقدار مجاز انتخاب گردد و در خمش حول محور x مقدار $\sigma_A, \sigma_B, \sigma_C$ به ترتیب تنش‌های ایجاد شده در A, B و C باشند، کدام رابطه صحیح است؟ (۱۰۰ نمره)



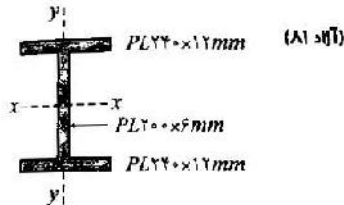
- (۱) $\sigma_A = \sigma_B < \sigma_C$
- (۲) $\sigma_A = \sigma_B > \sigma_C$
- (۳) $\sigma_A = \sigma_B = \sigma_C$
- (۴) $\sigma_A = -\sigma_B, \sigma_C = 0$

دو مقطع فشرده نشان داده شده دارای اساس مقطع مساوی حول محور $u-u$ می‌باشند. اگر از این دو مقطع به عنوان تیری با دهانه‌های مساوی استفاده شود، ظرفیت باربری خمشی کدام یک بزرگتر خواهد بود؟ (۱۰۰ نمره)



- (۱) مقطع ب
- (۲) مقطع الف
- (۳) ظرفیت خمشی هر دو مساوی است.
- (۴) بستگی به طول مهار نشده بال فشاری تیرها دارد.

۲۶- برای مقطع فشرده مطابق شکل نسبت لنگر خمشی مجاز M_x به لنگر خمشی مجاز M_y چقدر می‌باشد؟



- (۱) ۲/۳۴
- (۲) ۲/۷۱
- (۳) ۲/۸۷
- (۴) ۲/۸۱

$$M_x = S_x (0.66 F_y) = \frac{I_x}{22.4} (0.66 F_y) = \frac{\left[\frac{24 \times 22.4^3}{12} - \frac{22.4 \times 22.4^3}{12} \right]}{11.2} (0.66 F_y) = 405.4 F_y$$

$$M_y = S_y (0.75 F_x) = \frac{I_y}{12} (0.75 F_x) = \frac{\left[2 \times \frac{24 \times 11.2^3}{12} + \frac{22.4 \times 22.4^3}{12} \right]}{12} (0.75 F_x) \rightarrow M_y = 172.8 F_x \rightarrow \frac{M_x}{M_y} = 2.34$$

۲۷- در تیر با مقطع نورد شده (از نوع IPE) اگر F_{bx} و F_{by} تنش‌های خمشی مجاز نسبت به محورهای x و y بوده و W_x و W_y مدول مقطع نسبت به محورهای x و y باشند و تیر با داشتن تکیه‌گاه جانی جزء تیرهای با اتکاء جانی تلقی گردد، کدام گزینه صحیح است؟ (تیر دارای شرایط مقطع فشرده می‌باشد.) (۱۰۰ نمره)



$$W_x \gg W_y, F_{by} < F_{bx} \quad (1)$$

$$W_x \gg W_y, F_{by} > F_{bx} \quad (2)$$

$$\frac{W_x}{W_y} = \frac{F_{bx}}{F_{by}} \quad (3)$$

$$W_x = W_y, F_{bx} = F_{by} \quad (4)$$

۹- پروفیل‌های فولادی که شرایط مقطع فشرده و محدودیت فواصل تکیه‌گاه‌های جانبی را دارا می‌باشند: (آ ۸۱)


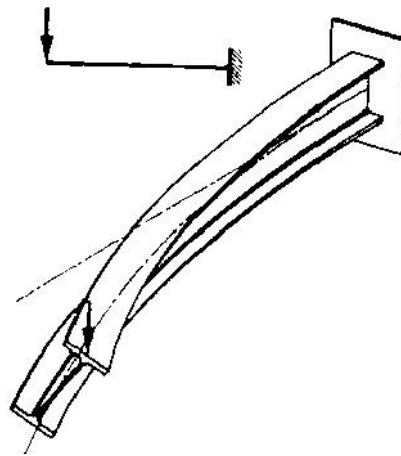
(۱) تا حد لنگر خمشی پلاستیک قادر به تحمل لنگر هستند.

(۲) تا حد لنگر خمشی جاری شدن قادر به تحمل لنگر هستند.

(۳) چنانچه تنش فشاری ناشی از خمش از $1.66 F_y$ تجاوز کند، قسمت‌های فشاری مقطع کماتش موضعی پیدا می‌کنند.

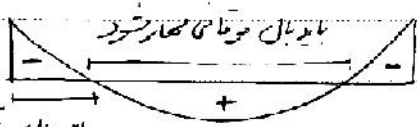
(۴) چنانچه تنش فشاری ناشی از خمش از تنش حد جاری شدن (F_y) تجاوز کند، قسمت‌های فشاری مقطع کماتش موضعی پیدا می‌کنند.

۳-۴- کماتش پیچشی جانبی



* کماتش پیچشی جانبی :

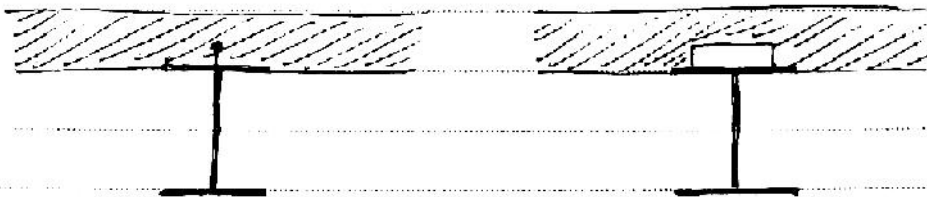
برای جلوگیری از کماتش پیچشی جانبی باید بال فشاری مقطع در فواصل مناسب مهار شود.



* در سمت‌های تعین کامیوریت

مقاومت و ضد تنش مهار جانبی را برای

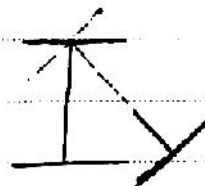
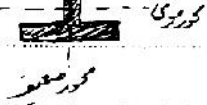
بال تراش (بال) دهد.



* در مقابل کماتش پیچشی جانبی در عاقل مقاومت می‌کند :

۱. مقاومت پیچشی مقطع

۲. مقاومت کماتش قسمت فشاری مقطع



$\uparrow F_y \leftarrow L_b$ باید کاهش یابد
 $\uparrow F_y \leftarrow$ احتمال کاهش بیشتر است
 $\uparrow b_p \leftarrow L_b$ می تواند افزایش یابد \leftarrow احتمال کاهش بیشتر کاهش میابد


$\uparrow A_p \leftarrow L_b \leftarrow$ احتمال کاهش بیشتر چانه کاهش میابد
 (برگشت کاهش)

\uparrow که عن تبر \leftarrow احتمال کاهش \uparrow و $\downarrow F_b$ و $\uparrow F_c$
 $F \ll 0.7 F_y$
 اگر تبر بدون بخار چانه محسوب شود \leftarrow
 $F_{bt} = 0.7 F_y$ (تنش مجاز کشش)
 $F_{bc} \leq 0.7 F_y$ (تنش مجاز شاری)

$F_{bt} = F_{bc} = 0.7 F_y \leftarrow$ اگر تبر دارای بخار چانه بود و غیر فشرده بود

نکته: کاهش بیشتر چانه نیز برابر کشش حول محور توی (M_x) اتفاق می افتد

$0.78 F_y \leftarrow$ فشرده باشد } \leftarrow برقی b \leftarrow M
 $0.7 F_y \leftarrow$ غیر فشرده باشد }

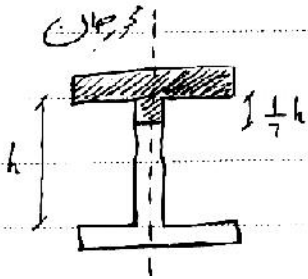


۴ در تیرهای تحت خمش M برابر است با:

(۷۷)۱

- ۱) شعاع زیراسیون قسمتی از مقطع شامل بال فشاری و $\frac{1}{3}$ مساحت جان تحت فشار حول محوری که در صفحه جان قرار دارد.
- ۲) شعاع زیراسیون قسمتی از مقطع شامل بال فشاری و $\frac{1}{3}$ مساحت جان تحت فشار حول محوری که در صفحه جان قرار دارد.
- ۳) شعاع زیراسیون قسمتی از مقطع شامل بال کششی و $\frac{1}{3}$ مساحت جان تحت فشار حول محوری که در صفحه جان قرار دارد.
- ۴) شعاع زیراسیون قسمتی از مقطع شامل بال کششی و $\frac{1}{3}$ مساحت جان تحت فشار حول محوری که در صفحه جان قرار دارد.

r_T : شعاع ژیراسیون بال فشاری + $\frac{1}{3}$ قسمت فشاری جان حول محور جان



لاغری طی شعاع حول محور $r_y = r_T = 1/2 r_y$

۲۱- اگر برای یک عضو خمشی، σ حداکثر تنش خمشی مجاز و ρ شعاع ژیراسیون و عمق آن r_y باشد، مساحت سطح مقطع مورد نیاز تحت لنگر M کدام است؟ (۱ آ)

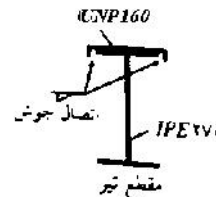
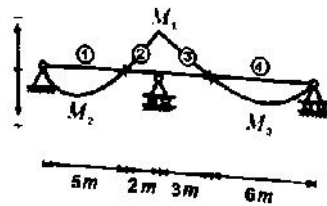
$A = \frac{My}{\rho^2 \sigma}$ (۴) $A = \frac{My}{\rho \sigma}$ (۳) $A = \frac{My^2}{\rho^2 \sigma}$ (۲) $A = \frac{My}{\rho^2 \sigma}$ (۱)

۱۱- کدام یک از تدابیر مطروحه در زیر برای افزایش مقاومت کمانش جانبی مؤثر نمی باشد؟ (۱ آ) (۷۹)

- (۱) تقویت بال های فشاری تیر
- (۲) استفاده از Stiffener و سخت کننده ها
- (۳) تقویت و اضافه نمودن صفحه در بال فشاری
- (۴) افزایش ضخامت جان تیر

کدام یک از مجموعه عوامل زیر در تعیین لنگر (بار) کمانش پیچشی جانبی تیرها بیشتر تأثیر گذار هستند؟ (۱ آ) (۸۲)

- (۱) طول تیر، فاصله سخت کننده های عرضی جان تیر و نوع تکیه گاه های انتهایی تیر.
 - (۲) فاصله مهارهای جانبی، محل مهارهای جانبی، ایجاد انحنای تک یا دوپل توسط لنگرهای انتهایی.
 - (۳) لاغری بال فشاری در فواصل مهارهای جانبی، مقاومت پیچشی مقطع تیر، نحوه توزیع لنگر خمشی در طول تیر.
 - (۴) نسبت های عرض به ضخامت ورق های تشکیل دهنده مقطع تیر، مقاومت و شکل پذیری فولاد مقطع.
- با توجه به شکل زیر، در کدام قطعه از تیر، احتمال کمانش پیچشی جانبی بال فشاری بیشتر است؟ تیر در تکیه گاه ها و نقاط عطف که با ضربه مشخص شده اند، دارای مهار جانبی بال فشاری می باشد. مقطع تیر از یک نیم رخ I که در بال بالا با یک ناودانی تقویت شده، تشکیل گردیده است. (۱ آ) (۸۰)



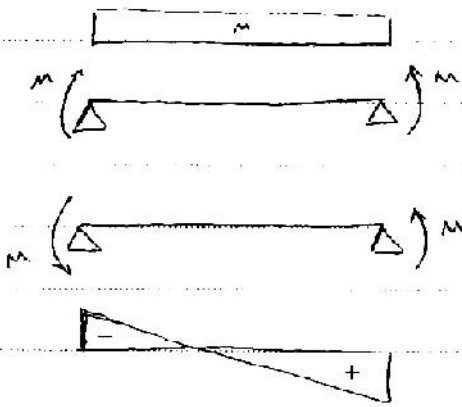
$|M_1^-| > |M_2^+| > |M_3^+|$

- (۱) شماره (۱)
- (۲) شماره (۲)
- (۳) شماره (۳)
- (۴) شماره (۴)

۱۳- پدیده کمانش پیچشی جانبی در کدام یک از حالات زیر بحرانی است؟ (۱ آ) (۸۳)

- (۱) خمش تیرها حول محور ضعیف
- (۲) کمانش ستون ها حول محور قوی
- (۳) کمانش ستون ها حول محور ضعیف
- (۴) خمش تیرها حول محور قوی

تأثیر دیاگرام لنگر در مقاومت پیشه جانته :



در این تیر احتمال گمانش پیشه جانته بیشتر است

$C_{bending}$

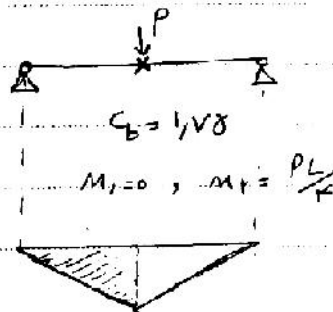
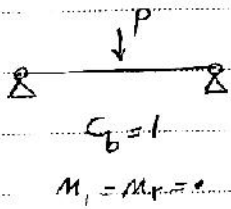
C_b : برای تأثیر دادن شکل نمودار لنگر بر روی تنش مجاز هست

بیشتر می‌باشد \rightarrow بجهتین حالت $1 < C_b < 2,3$ \leftarrow بزیون حالت


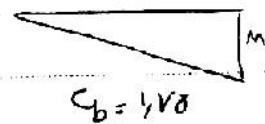
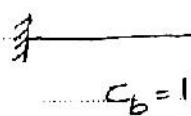

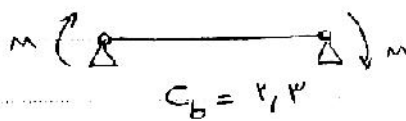
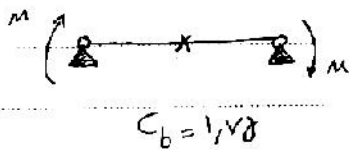
F_b کمتر

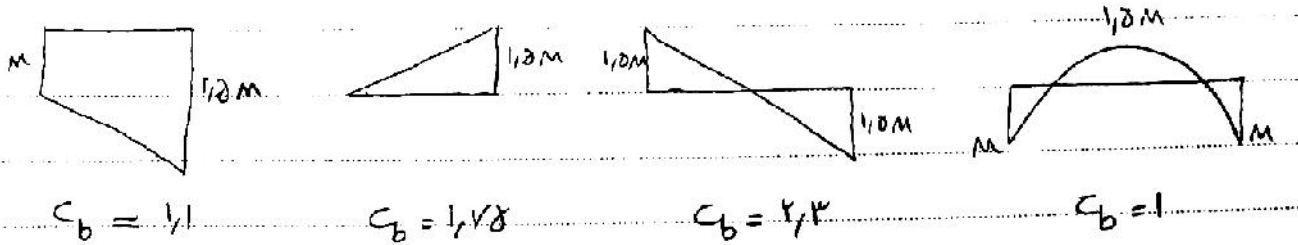
نکته : برای تیر مرکب حدار $C_b = 1$ است.

• اگر حداکثر لنگر در بین دو لنگر انتهایی باشد $C_b = 1$ است.



شکل ۲





$C_b = 1.1$


$C_b = 1.178$

$C_b = 2.3$

$C_b = 1$

دیگرام لنگر خمشی بین تکیه‌گاه‌های جانبی سه تیر مشابه، مطابق شکل زیر است. خطر کماتش بپوشی جانبی در کدام تیر نامحتمل‌تر است؟

سراسری ۸۹



- A (۱)
- B (۲)
- B, A (۳)
- C (۴)

۱۵۹ / استان کماتش



$C_b = 2.3$

$C_b = 1$

$C_b = 1$

در تقویت خمشی یک تیر با تقارن دوپل و مقطع جعبه‌ای فشرده، فاقد اتکای جانبی، ورق تقویت تنها برای یک بال موجود است. تقویت کدام بال به مقاومت تیر بیشتر می‌افزاید؟


سراسری ۸۹

(۴) تفاوتی ندارد

(۳) بال تحتانی

(۲) بال فشاری

(۱) بال کششی



تذکره
نیاز به تکیه‌گاه جانبی نداریم چون تنش حول محور منبسط و کماتش بپوشی جانبی نداریم. از طرف مقطع فشرده است پس هیچگونه کماتش نداریم در تیر نمی‌کنند کدام بال تقویت شود

سوال ۱۰۵ / مقطع جعبه‌ای M_n برابر است که I_x بال تقویت شود چه بال فشاری

۳۲- طاق ضربی یک ساختمان از تیرهای IPE ۱۸۰ به فواصل یک متر و آجر ساخته می‌شود. اگر طول دهانه تیر پنج متر باشد و بار مرده 500 kg/m^2 و زنده آن 200 kg/m^2 باشد، نسبت تنش موجود به تنش مجاز در خمش چقدر است؟ ($S_x = 146 \text{ cm}^3$)


(۴) ۰/۱۸

(۳) ۰/۹۵

(۲) ۱/۲

(۱) ۱/۰۳

عوامل برقرار کم یک متر است



مابین هم بگیرد هر چه 1m در ابعاد بود

$$q = 1 \times (500 + 20) = 700$$

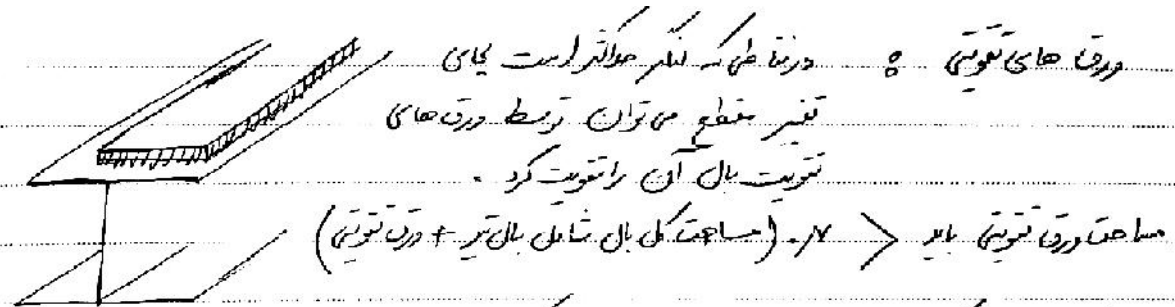
$$M = \frac{qL^2}{8} = \frac{700 \times 5^2}{8} \text{ kg.cm} = 218750 \text{ kg.cm} \Rightarrow \left. \begin{aligned} \text{تنش موجود} &= \frac{M}{S} = \frac{218750}{146} = 1498 \text{ kg/cm}^2 \\ \text{تنش مجاز} &= 0.66 F_y = 1584 \text{ kg/cm}^2 \end{aligned} \right\}$$

کد: IPE ۱۴۰ مقطع استاندارد است - به همراه

چون بر روی سطح است (در تصویر) همه جایی که تگر + رابع در بال فشاری
 زدن به بال پایه است. در چون بال بالای در داخل طاق فریب آسان گیر
 یک به ۲۰۰ جایی از ۱۹۰

$$F_b = 0.66 F_y$$

۴-۴- صفحات تقویتی

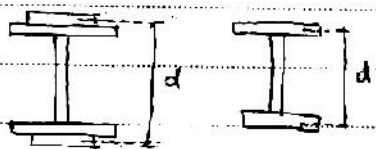


مثلاً اگر مساحت یکی از بال ها موجود 3 cm^2 باشد حلاله مساحت ورق تقویتی آن بال 7 cm^2 است.

اگر یک مقطع I شکل ورق های تقویتی به دو بال آن اضافه شود تحمل کمتر آن (مقدار کم) چقدر افزایش می یابد؟

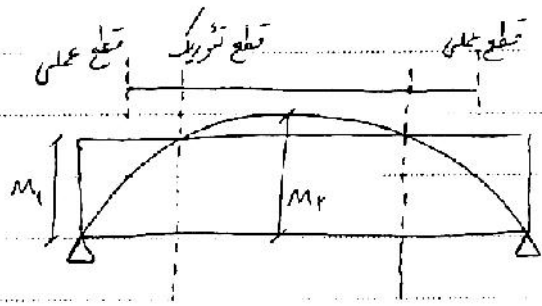
$$I_x \text{ جدید} = I_x + 2 I_x' + 2 A \left(\frac{d}{r}\right)^2$$

مان اینترسیا ورق تقویتی
 حول محور خودشان



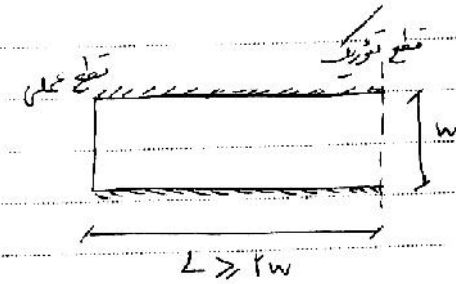
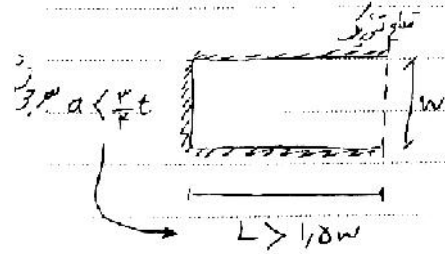
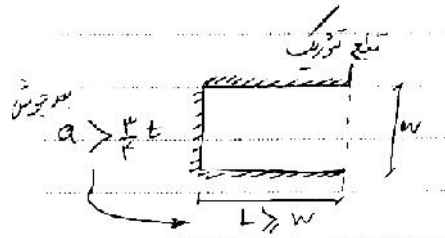
$$S_{\text{جدید}} = \frac{I_{\text{جدید}}}{\frac{2 A t d}{r}}$$

$$S_{\text{تقویتی}} \approx S_{\text{موجود}} + 2 A \left(\frac{d}{r}\right)$$



• نقطه قطع تئوریک و عملی ورق‌ها:

- M_2 مقاومت با برق تئوریک
- M_1 مقاومت مقطع بدون ورق تئوریک



۱۴. برای مقطع تیر دو سر ساده‌ای تحت بار گسترده یکنواخت 2 t/m در طول 6 متر از پروفیل IPE ۲۷۰ با مدول مقطع $S = 429 \text{ cm}^3$ استفاده شده است. چنانچه تنش خمشی مجاز برابر 1440 kg/cm^2 باشد، مساحت صفحات تقویتی که به‌طور مساوی بایستی به سال‌های کششی و فشاری اضافه نمود تقریباً چقدر است؟
(سازمان آ ۱ نظام مهندسی)

- (۱) 7 cm^2 (۲) 10 cm^2 (۳) 15 cm^2 (۴) نیازی به تقویت نیست

نگر محور \leftarrow
 مور نیار $S \leftarrow$

$$M = \frac{qL^2}{8} = \frac{2 \times 6^2}{8} = 9 \text{ t.m.}$$

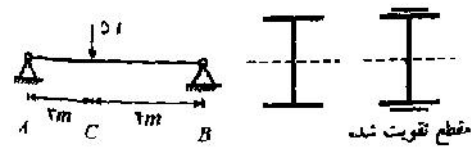
$$S \times 1440 = 9 \times 10^5 \text{ kg.cm.}$$

$$\rightarrow S = 625 \text{ cm}^3$$

$$\Rightarrow 625 = 429 + A \times 27 \rightarrow A = 7.25 \text{ cm}^2 \rightarrow \text{گزینه ۱}$$

مساحت ورق تقویتی

تنش مجاز فولاد در تیر زیر را 1400 kg/cm^2 در نظر بگیرید و طول تئوریک یک ورق لازم برای تقویت خمشی آن را بر حسب cm به دست آورید. اساس مقطع نیم‌رخ تقویت‌نشده نسبت به محور خمشی 430 cm^3 می‌باشد.
(سازمان ۷۹)




- (۱) ۲۸
 (۲) ۲۱
 (۳) ۲۰
 (۴) ورق نیاز ندارد.

از آنجا که $S = 430$ ، حداکثر نگر که تیر تقویت‌نشده بتواند تحمل کند

برابرت با: $M = 430 \times 1400 = 602000 \text{ kg.cm.} = 6.02 \text{ t.m.}$

اجتار انتهایی تیر نگر کم است و نیازی به تقویت نیست

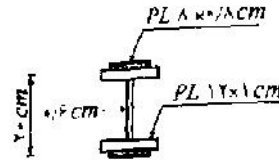
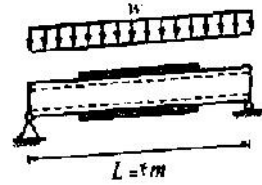


$$M_{N_2} = R_2 \times x_2 = 6.02 \rightarrow x_2 = \frac{6.02}{(\frac{15}{7})} = 2.81 \text{ m}$$

$$L = 7 - x_1 - x_2 = 2.08 \text{ m} = 208 \text{ cm} \rightarrow \text{در طول } L = 208 \text{ نیازی به تقویت است}$$

در سازه شکل زیر مطلوب است تعیین ظرفیت باربری تیر (۱۱) بدون تسمه تقویتی. تنش خمشی مجاز را برابر $0.6F_y$ فرض کنید.

(۱۷.۱۱)



- (۱) $18/188 \text{ kg/cm}$
- (۲) $17/188 \text{ kg/cm}$
- (۳) $17/171 \text{ kg/cm}$
- (۴) $22/222 \text{ kg/cm}$

$$M = \frac{wL^2}{8} = \frac{w \times 4^2}{8} = 20000w \text{ kg.cm.}$$

$$M = S_x \times 0.6F_y = \left[\frac{\left(\frac{12 \times 20^3}{12} - \frac{11.4 \times 18^3}{12} \right)}{10} \right] \times 0.6 \times 2400$$

$$\rightarrow M = 354182$$

$$\rightarrow M < M_{\text{موجود}} \Rightarrow 20000w < 354182 \rightarrow w < 17.71 \text{ kg/cm}$$

در سازه شکل فوق ظرفیت باربری تیر را در حالت تقویت شده (با تسمه تقویتی) محاسبه نمایید.

(۱۷.۱۲)

- (۱) $52/62 \text{ kg/cm}$
- (۲) $25/62 \text{ kg/cm}$
- (۳) $22/22 \text{ kg/cm}$
- (۴) $28/17 \text{ kg/cm}$

$$M = S_x \times 0.6F_y = \left[\frac{\left(\frac{12 \times 20^3}{12} - \frac{11.4 \times 18^3}{12} \right) + 2(8 \times 0.8 \times 10.4^2)}{10.8} \right] \times 0.6F_y$$

در محاسبه I از همان اینس درن که حل فرمودیم صرف نظر می‌شود

$$\rightarrow M = 512540 \text{ kg.cm.}$$

$$\rightarrow M < M_{\text{موجود}} \Rightarrow 20000w < 512540 \rightarrow w < 25.63 \text{ kg/cm.}$$

اگر بار درش تقویت محاسبه کنیم

$$M = \left[8 \times 0.8 \times 20 \times (0.6F_y) \right] + M = 184320 + 354182$$

$$= 538502$$

$$20000w < 538502 \rightarrow w < 26.92$$

در شکل فوق طول تئوریک تسمه تقویتی را تعیین کنید. (حل با ماشین حساب) (آ) (۷۷)

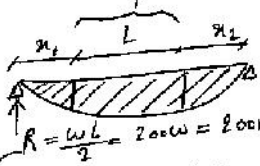
۲۲۲/۴۷ cm (۴)

۲۲۴/۸۷ cm (۳)

۱۲۶ cm (۲)

۲۳۴/۸۷ cm (۱)

مقدار نیاز به تقویت



$$R = \frac{\omega L}{2} = 200 \times 25.63 = 5126 \text{ kg}$$

با توجه به اینکه توانیت ضمن بدون تقویت برابر ۳۵۴۱۸۲ است

لتران مقدار α_1 را بدست آورده

$$\rightarrow \alpha_1 = 88.82 \text{ cm}$$

$$\rightarrow L = 400 - 2 \times \alpha_1 = 222.37 \text{ cm}$$

$$R \alpha_1 - \frac{\omega \alpha_1^2}{2} = M \Rightarrow 5126 \alpha_1 - \frac{25.63 \alpha_1^2}{2} = 354182$$

تأثیر سوراخ در بال های تیر

$$\left\{ \frac{A P_n}{A P_g} < \frac{F_y}{18000} + 0.79 \right.$$

وجود سوراخ جزئی باید منظور کرد

$$\left\{ \begin{array}{l} \text{بازرسی در نظر گرفتن سوراخ نیست} \\ \text{بازرسی} \end{array} \right.$$

۴-۵- کاهش لنگر

شرایط استفاده از کاهش لنگر (باز توزیع لنگر) در تیرها:

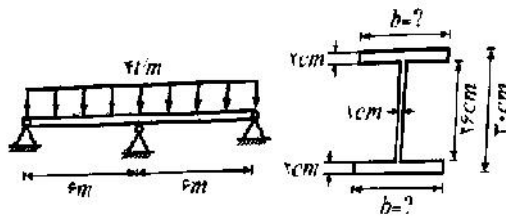
- مقطع فشرده باشد
- تیر دارای تکیه گاه جانبی باشد
- بار گذاری نقلی
- تیر طره (معین) نباشد
- اتصال صلب انتهایی و یا سراسری
- حداکثر لنگر در تکیه گاه ها

اگر $f_a < 0.15 F_a$ می توان لنگر ستون را نیز کاهش داد

تحت شرایط خاصی می توان لنگر ماکزیمم منفی را در تیرهای ممتد به میزان ۱۰ درصد کاهش داد و تیر را بر این اساس طراحی نمود. کدام گزینه بیشترین تعداد این شرایط را در بر دارد؟ (سراسری) (۷۸)

- (۱) مقطع باید فشرده باشد و لنگر ماکزیمم مثبت پس از باز توزیع از قدر مطلق لنگر ماکزیمم منفی کمتر باشد.
- (۲) مقطع باید فشرده باشد و لنگر ماکزیمم مثبت پس از باز توزیع از قدر مطلق لنگر ماکزیمم منفی بیشتر باشد.
- (۳) مقطع باید غیر فشرده باشد و لنگر ماکزیمم مثبت پس از باز توزیع از قدر مطلق لنگر ماکزیمم منفی بیشتر باشد.
- (۴) مقطع باید غیر فشرده باشد و لنگر ماکزیمم مثبت پس از باز توزیع از قدر مطلق لنگر ماکزیمم منفی کمتر باشد.

در صورتی که تیر مطابق شکل به طور کامل از جانب نگهداری شده باشد، عرض ورق پال را حساب کنید. (تنش خمشی مجاز فولاد 1415 kg/cm^2 می باشد.) (مراجعه ۷۵)



- ۱) ۱۰ cm
- ۲) ۱۲ cm
- ۳) ۱۵ cm
- ۴) ۲۰ cm

$M = 0.9 \left(\frac{qL^2}{8} \right) = 0.9 \left(\frac{4 \times 6^2}{8} \right) = 16.2 \text{ t.m.}$
 (تکامل گشتاور منفی)

$M = S \times 1415 = \frac{[b(\frac{30^3}{12} - \frac{26^3}{12}) + \frac{26^3 \times 1}{12}]}{15} \times 1415$

$M = (74083)b + 138167$

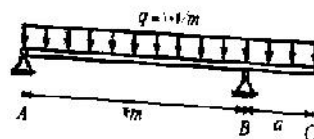
$16.2 \times 10^5 \text{ kg.cm} \leq (74083b + 138167)$

$b \geq 20 \text{ cm}$ (گزینه ۴)

در تیرهای با مقطع فشرده و مهار جانبی کافی که دو سر آنها با اتصال صلب به ستون‌ها متصل شده‌اند، با شرایطی در آیین نامه اجازه داده شده که برای ۹۰ درصد لنگر منفی ناشی از بار گسترده قائم طراحی شوند، علت چیست؟ (مراجعه ۷۴ و ۷۵ و ۷۶)

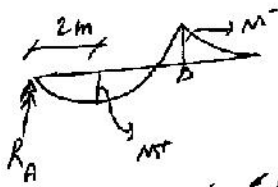
- ۱) چون تیر مشکل کمناش نخواهد داشت.
- ۲) ایجاد لولای پلاستیک در دو انتهای تیر و تغییر رفتار تیر
- ۳) چون در این تیرها جلوی کمناش گرفته شده و در نتیجه مقاومت خمشی آنها افزایش یافته است.
- ۴) چون لنگر خمشی در تیر دو سر گیردار در انتها حداکثر است و لنگر ناشی از کمناش در وسط تیر حداکثر است.

تیری با همان اینرسی ثابت در تمام طول خود مطابق شکل بارگذاری شده است. به ازای چه طولی از قسمت طره تیر (a) اقتصادی ترین نیمرخ به دست می آید؟ (لنگر ماکزیمم در دهانه AB را در وسط دهانه تیر فرض می کنیم.) (مراجعه ۷۰)



- ۱) ۱.۷۲ m
- ۲) ۱.۵۵ m
- ۳) ۲ m
- ۴) ۱.۶۳ m

جهت پهن شدن باید نگر منفی برابر نگر مثبت باشد:



$$M^- = \frac{qa^2}{2}$$

$$(2, 2) M^+ = R_A \times 2 - \frac{q(2)^2}{2} = 4q - \frac{qa^2}{4} - 2q = 2q - \frac{qa^2}{4}$$

$$R_A \times 4 = \frac{q(4)^2}{2} - \frac{qa^2}{2} \rightarrow R_A = 2q - \frac{qa^2}{8}$$

$$M^- = M^+ \rightarrow \frac{qa^2}{2} = 2q - \frac{qa^2}{4} \rightarrow \frac{3a^2}{4} = 2 \rightarrow a = \sqrt{\frac{8}{3}} = 1.63 \text{ m}$$

۶-۴- خمش دو محوره

- در تیر دو سر مفصل به طول ۶ متر چنانچه بار گسترده یکنواختی با شدت ۱/۲ تن بر متر مطابق شکل اثر کند و 1500 kg/cm^2 تنش خمشی مجاز حول محور x ، 1875 kg/cm^2 تنش خمشی مجاز حول محور y ، کدام یک از روابط زیر درست می باشد؟ (حل با ماشین حساب)



مقدار خمشی حول محور x S_x

مقدار خمشی حول محور y S_y

$$\frac{352/12}{S_x} + \frac{59/88}{S_y} \leq 1 \quad (2)$$

$$\frac{352/12}{S_x} \leq 1, \frac{59/88}{S_y} \leq 1 \quad (1)$$

$$\frac{352/12}{S_x} \leq 1 \text{ یا } \frac{59/88}{S_y} \leq 1 \quad (4)$$

$$\frac{352/12}{S_x} \leq 1 \quad (3)$$

۷-۴- کنترل خمش در تیرها

کنترل خمش سازه:

- در محاسبه خمش تنها از بارهای سرویس استفاده می شود

علت کنترل:

۱- آسیب اجزای غیرسازه ای ۲- احساس امنیت ساکنین

در دهانه های بزرگ باید از پیش خمش استفاده کرد

- ارتفاع تیرهایی که سطوح بزرگ خالی از تیغه بندی دارند: $\frac{d}{L} > \frac{1}{20}$

$$\left\{ \begin{array}{l} \Delta_{D+L} < \frac{L}{240} \\ \Delta_L < \frac{L}{360} \end{array} \right\} \text{ افتادگی در سقف های نازک کاری شده:}$$