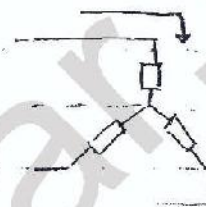




بارساز باز وندما خط < انتهای خط
 و پهنای باز است که خط < انتهای خط

(3) اسکالین زیر است

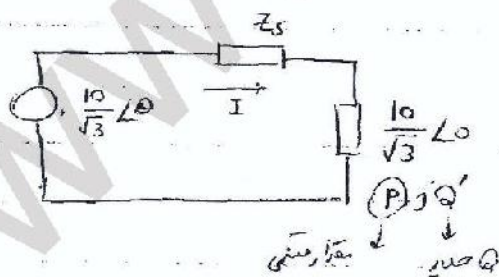
$$I = \frac{200}{0.8 \times 10\sqrt{3}} \angle -\cos^{-1} 0.8$$



$$S = P + jQ = \sqrt{3} V I^*$$



در نهایت جریان واحد کنیم



$$Z' = \frac{V^2}{S^*} = \frac{V^2}{P - jQ'}$$

$$10\sqrt{3} L_0 = \frac{10}{\sqrt{3}} L_0 \times \frac{Z'}{Z' + Z_s}$$

$$1 \angle -\theta = \frac{Z'}{Z' + Z_s} \Rightarrow 1 = \frac{|Z'|}{|Z' + Z_s|} = \frac{\frac{V^2}{S^*}}{\frac{V^2}{S^*} + Z_s} \angle -\theta$$

$$1 \angle -\theta = \frac{1}{6 + j15 + jX_c}$$

$$I = \frac{S^*}{V^*} = \frac{P - jQ}{V} \Rightarrow \underbrace{V \angle \theta} = \underbrace{V \angle \phi} + \underbrace{(R + jX)}_{Z_s} \left(\frac{P - jQ}{V} \right)$$

کامپلکس توان / ولتاژ

$$\Rightarrow |V| \angle \theta = \left(|V| + \frac{PR + XQ}{|V|} \right) + j \left(\frac{PX - RQ}{|V|} \right)$$

$$|V|^2 = \left(|V| + \frac{PR + XQ}{|V|} \right)^2 + \left(\frac{PX - RQ}{|V|} \right)^2$$

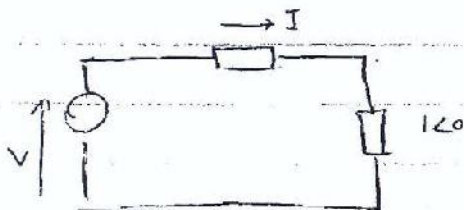
$$= |V|^2 + \left(\frac{PR + XQ}{|V|} \right)^2 + 2(PR + XQ) + \frac{(PX - RQ)^2}{|V|^2}$$

$$\rightarrow |V|^4 = |V|^4 + (PR + XQ)^2 + 2|V|^2(PR + XQ) + (PX - RQ)^2$$

$$\Rightarrow Q = ? \quad \checkmark$$

$$Q' - Q = Q_c$$

در مدار متوازن داریم در ولتاژ یکسان می‌گذارد Z_{in} را در نظر بگیریم

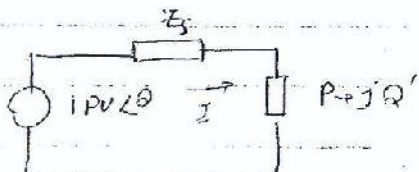


$$P = 1PV$$

$$I = \frac{1}{1 \times \cos \phi} = \frac{1}{0.8} = 1.25 \times 36.8$$

$$\text{توان عکس شده در منبع} = V I^*$$

$$I = \frac{(10 \times 10^3)^2}{200 \times 10^3} = 500$$






به نام خدا

بررسی سیستم‌های قدرت (۱)

تمرین‌های سری ششم (کاپاسیتانس خط انتقال)



۱- خط انتقال تک‌فازی متشکل از دو سیم یکپارچه هر یک به قطر 0.229 inch مفروض است. چنانچه فاصله سیمها از یکدیگر 10 ft و فاصله هر یک از زمین 25 ft باشد؛ مطلوبست محاسبه ظرفیت خط نسبت به زمین بر



$$C_{m} = \frac{2\pi\epsilon_0}{\ln \frac{10 \times 224}{0.229}}$$

$$C_{m} = \frac{2\pi\epsilon_0}{\ln \frac{10 \times 224}{0.229} - 2 \ln \frac{50^2 + 10^2}{50^2}}$$

حساب F/m در دو حالت زیر:

الف) بدون در نظر گرفتن اثر زمین،

ب) با در نظر گرفتن اثر زمین.

۲- راکتانس ظرفیتی نسبت به زمین یک سیم از خط سه‌فازی با فاصله‌گذاری متظم معادل 5 ft $(k\Omega \cdot \text{mile})$ 196.1 می‌باشد.

$$X_c = 196.1 \text{ k}\Omega \cdot \text{mile} = 1.329$$

می‌باشد.

الف) سطح مقطع هادی را بر حسب C_{mil} بیاید.

ب) راکتانس نسبت به زمین این سیم در فرکانس 25 Hz و با فاصله‌گذاری 1 ft چند $\Omega \cdot \text{mile}$ است؟

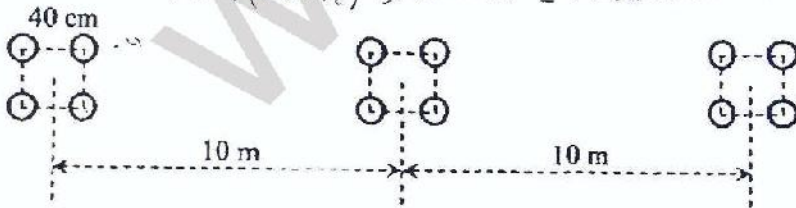
۳- خط انتقال سه‌فاز 60 Hz شکل زیر، از هادی‌های بانند از نوع Pheasant تشکیل شده است. مطلوبست:

الف) تعیین ظرفیت خط نسبت به زمین و راکتانس کاپاسیتیو خط در طول $124/3$ mile،

ب) محاسبه $I_{charging}$ در سطح ولتاژ 230 kV و در طول $124/3$ mile، $r = \frac{1.382 \text{ inch}}{2} \times \frac{1}{12} \times 0.3048 = 17.55 \times 10^{-3}$

ج) تعیین توان راکتیو تولیدی خط انتقال.

$$V = \sqrt{(rD^2F_2)^4} = \sqrt{rD^2F_2} = 199.638 \times 10^{-3}$$

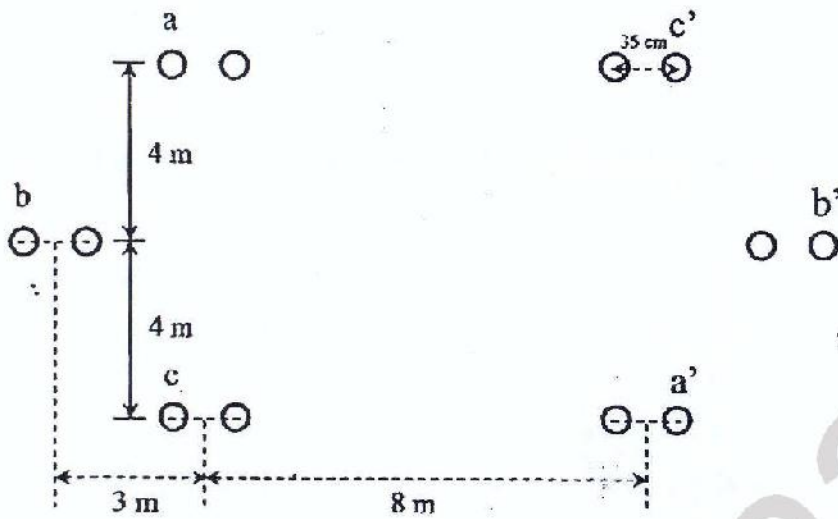


$$C = \frac{2\pi \times 8.85 \times 10^{-12}}{\ln \frac{10\sqrt{2}}{199.638}} = 13.415 \times 10^{-12} \text{ F/m} \times 124.3 \times 1609 = 2.683 \times 10^{-6}$$

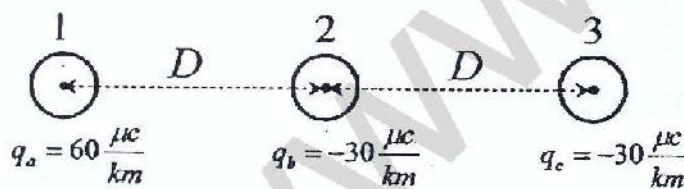
$$X_c = \frac{10^6}{2\pi \times 2.683}$$

$$I_{charging} = \frac{230/\sqrt{3}}{X_c} = 174.2$$

۴- مطلوبست محاسبه کاپاسیتانس و راکتانس کاپاسیتیو نسبت به زمین خط سه فاز دو مداره زیر، متشکل از هادی‌های Drake و در فرکانس ۶۰ Hz.



۵- در یک خط انتقال سه فاز یا فاصله‌گذاری افقی نخست بین هادی‌های مجاور برابر D ، در یک لحظه معین بار روی یک هادی $60 \mu\text{C}/\text{km}$ و بار روی هادی‌های مرکزی و کناری، هر یک $-30 \mu\text{C}/\text{km}$ است. با در نظر گرفتن شعاع هادی برابر 0.8 cm و نادیده در نظر گرفتن اثر زمین، افت ولتاژ بین دو هادی هم بار را بدست آورید.



$$V_2 = \frac{1}{2\pi\epsilon_0} \left(60 \times 10^{-6} \ln \frac{1}{D} - 30 \times 10^{-6} \ln \frac{1}{0.008} - 30 \times 10^{-6} \ln \frac{1}{D} \right)$$

$$V_3 = \frac{1}{2\pi\epsilon_0} \left(60 \times 10^{-6} \ln \frac{1}{2D} - 30 \times 10^{-6} \ln \frac{1}{0.008} - 30 \times 10^{-6} \ln \frac{1}{D} \right)$$

Merlin GMD = 1.5
 $T = 50^\circ C$
 $P = 2 MW, v =$

با این R و این راهها کنیم
 $L = L_n \frac{GMD}{GMR}$ از جدول براندازی 50°
 اضلاع کوسین ←

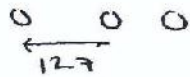
$C, D = A$
 $AD - BC = 1 \rightarrow B = ?$

$v = 1 pu$
 $P = 0.6 pu$
 $\cos \phi = 0.8 \rightarrow \phi = ?$

12

ک مقدار pu است. همه هم مقادیر pu هستند. لذا یک جا با دیگر هم نتوانیم که pu است چون
 سوختش است و مقدار مزرکی دارد. این جا با دس $C = 0.141$ بر حسب pu است.

13 100 mile طول متوسط و افت ولتاژ مستطوری: $v_s - v_R$ است.



$Deq = 16$
 cardinal $\rightarrow L, C$
 باها هم کنیم
 $I_R = 214 \angle -25.8^\circ$
 $I_S = 199$

50 MVA
 $PF = 0.9$
 $\rightarrow I = ?$

14) r, x, y, c

A طول جوش 0.98, 0.99
 π مادی در آن

$Z' = Z_c \sinh(\gamma l)$

$\frac{Y'}{Z} = \frac{1}{Z_c} \tanh\left(\frac{\gamma l}{2}\right)$

$\sqrt{\frac{Z}{Y}} = 397.64 \angle -9.2^\circ \Omega$

$\gamma l = \sqrt{ZY} =$

$\rightarrow I_R = 0$
 $I_S = Y' \left(1 + \frac{\gamma Z'}{4}\right) V_R \rightarrow \frac{230}{\sqrt{3}}$

2) 100 MW

$PF = 0.85$

$\rightarrow I_R = 245 \angle -65^\circ 0.85$

$V_R = \frac{230}{\sqrt{3}} kV$

$V_R / = \frac{V_S - V_R}{|A|} \times 100 \%$

$\frac{246 - 230}{0.976} = 19.5 \%$

جواب های بررسی هشتم :

11
 $C = 7.99 \times 10^{-12} \frac{F}{m}$
 با اثر زمین

$C = 3.01 \times 10^{-12} \frac{F}{m}$

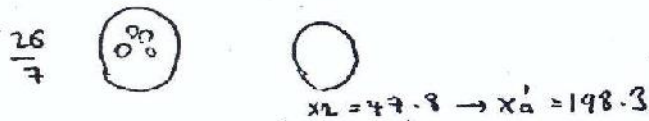
* برای تبدیل به cm دیگر اینم ضرایب!

12
 $\text{مساحت} = 26250 \text{ cmill}$

$n \left(\frac{1}{2}\right)^2 = A$

$n \left(\frac{1}{2}\right)^2 = n x^2 \left(\frac{1}{2}\right)^2 = x^2 A^2 \rightarrow$

چون نسبت مساحت را می توانیم پس x^2 می شود
 1 cmill (= قطرش 1cm باشد)



13
 $C = 13.4 \times 10^{-12} \frac{F}{m}$

$X_C = \frac{1}{\omega C} = 989.8 (\Omega)$

14
 1) $I_{\text{charging}} = 134.2$

2) $R = 53.4 \text{ m}\Omega$

$C = 25.9 \times 10^{-12} \frac{F}{m}$

$X_C = 02.4 \text{ m}\Omega$



16

$$\begin{bmatrix} V_S \\ I_S \end{bmatrix} = \begin{bmatrix} A & B \\ C & D \end{bmatrix} \begin{bmatrix} V_R \\ I_R \end{bmatrix}$$


$V_S = \underbrace{AV_R}_{(\Omega)} + \underbrace{BI_R}_{\text{مورد}}$

باید I هم بر اساس تقارن داشته باشد نه pu

بررسی هفتم :
 حدود صدم : تقارن A, D -> pu
 اگر 2, 3 در آورده باشند خط است
 B -> Ω
 C -> 1/a : برعکس

55h(881)
 * در دقتی بود می دهیم بر حسب رادیان است

17
 $\sinh(\beta l) = \sinh(\alpha l) \cos(\beta l)$
 رادیان هستند



به نام خدا

بررسی سیستم‌های قدرت (۱)
تمرین‌های سری هفتم (مدل‌سازی خط انتقال)

۱- خط انتقال سه فاز تک مداره ۶۰ Hz به طول ۲۰ km از هادی Merlin با فاصله‌گذاری منظم ۱/۵ m بین مراکز هادی‌ها، تشکیل شده است. این خط توان ۲ MW را در سطح ولتاژ ۱۱ kV به بار متعادلی تحویل می‌دهد. مطلوبست محاسبه ولتاژ ابتدای خط در هر یک از حالات زیر، با این فرض که دمای سیم‌ها ۵۰ درجه سانتی‌گراد در نظر گرفته شود.

$$D_m = 1.5m \quad D_s = \quad \tau = 0.9839$$

$$L = 2.015 \times 10^{-7} \frac{m}{\text{m}^2} \times \frac{1.5}{0.0212 \times 0.3042}$$

الف) ضریب توان واحد بار،

ب) ضریب توان ۰/۸ پس‌فاز،

ج) ضریب توان ۰/۸ پیش‌فاز.

۲- مقادیر پیریونیتی دو پارامتر از ثابت‌های خط انتقال سه فازی عبارتست از:

$$C = 0.1910 \angle 90.12^\circ (\Omega^{-1}), \quad D = 0.9897 + j0.0043$$

با انتخاب مقادیر مبنای ۲۳۰ kV و ۱۰۰ MVA و نیز با فرض ثابت ماندن ولتاژ ابتدای خط، چنانچه بار انتهای خط در سطح ولتاژ ۲۳۰ kV، توان ۶۰ MW را در ضریب توان ۰/۸ پس‌فاز جذب نماید؛ مطلوبست تعیین اندازه ولتاژ ابتدای خط و میزان افت ولتاژ.

۳- خط انتقال سه فاز ۶۰ Hz به طول ۱۰۰ mile، قدرت ۵۰ MVA را در ضریب توان ۰/۸ پس‌فاز در سطح ولتاژ ۱۳۲ kV به باری تحویل می‌دهد. این خط از هادی Cardinal با فاصله‌گذاری افقی ۱۲/۷ فوت بین هادی‌های مجاور تشکیل شده است. چنانچه دمای سیم‌ها ۵۰ درجه سانتی‌گراد در نظر گرفته شود؛ مطلوبست محاسبه ولتاژ، جریان و توان ابتدای خط.

۴- خط انتقال سه فاز ۶۰ Hz به طول ۲۰۰ mile با مشخصات زیر مفروض است:

$$r = 0.25 (\Omega/mi), \quad x_L = 0.75 (\Omega/mi), \quad y_C = 5 \times 10^{-6} (\Omega^{-1}/mi)$$

با این فرض که سطح ولتاژ انتهای خط ۲۳۰ kV باشد؛ مطلوبست:

الف) تعیین مدار معادل π خط انتقال،

ب) محاسبه جریان ابتدای خط در حالت بی‌باری،

ج) محاسبه جریان و ولتاژ ابتدای خط، در صورت وجود بار ۱۰۰ MW در ضریب توان ۰/۸۵ پس‌فاز،

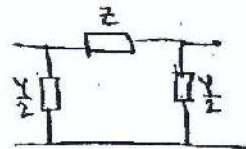
د) تعیین افت ولتاژ و درصد تنظیم ولتاژ.

۱۴۹

$l = 100 \text{ mile}$

$50 \text{ MVA}, \text{ pf} = 0.9 \text{ (lag)}$

$V_R = 132 \text{ kv}$



(3)

Cardinal
Deq = 16' → $I_R = 2194 - 25.8$

$T = 50^\circ\text{C} \rightarrow r = 0.1022 \frac{\Omega}{\text{mile}} \rightarrow R = 10.22$

$L = 2 \times 10^{-7} \ln \frac{16}{0.0402} = 11.973 \times 10^{-7} \text{ H/m} \rightarrow Z = 10.22 + j72.63 (\Omega)$

→ $X_L = j\omega l = 72.63 (\Omega)$

$X_1 = 0.089 \text{ m}\Omega\text{-mile}$
 $X_2 = 0.0823$

$X_C \text{ m}\Omega$

→ $X_C = (X_1 + X_2) l = 0.001713 \text{ m}\Omega$

$Y = \frac{1}{-jX_C} = j5.84 \times 10^{-4}$

$\begin{bmatrix} V_S \\ I_S \end{bmatrix} = \begin{bmatrix} A & B \\ C & D \end{bmatrix} \begin{bmatrix} V_R \\ I_R \end{bmatrix}$

$A = 1 + \frac{YZ}{2} = D = 0.9788$

$B = Z$

$C = Y \left(1 + \frac{YZ}{4} \right) = 5.78 \times 10^{-4} \angle 90.1$

$V_S = A V_R + B I_R = 8.47 \angle 9.2^\circ$
 $\frac{132}{\sqrt{3}} \angle 0 \quad \text{and } I_R = 146.8 \text{ kv}$

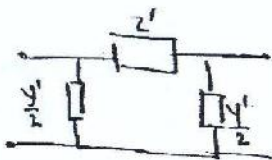
$A, D < 1$
فول رجوش 0.9

$I_S = C V_R + D I_R = 199.2 \angle -14.1^\circ$

C مقارنت ترددی Y است
مقدور کویفتر یکبار

$S = \sqrt{3} V_S I_S^* = 50.69 \angle 23.3^\circ = \frac{46.52}{P} + j \frac{20}{Q}$

نابرس C 90 سینت مقدور فول رجوش 0.92, 0.91
B ترددی Z



14 الف ا در مدارک n خط انتقال

$Z' = Z_c \sinh \gamma l$

$\frac{Y'}{2} = \frac{1}{Z_c} \tanh \left(\frac{\gamma l}{2} \right)$

$Z_c = \sqrt{\frac{Z}{Y}} = 397.7 \angle -9.2^\circ$

$\gamma l = \sqrt{ZY} l = \sqrt{ZY} = 0.0636 + j0.393$

$\sinh \gamma l = 0.388 \angle 81.4^\circ$

بازم ترددی
100

PSCAD : برای تحلیل حالت گذری (با دست)، Simulink : MATLAB هم می‌تواند

حل سری هفتم :

(1)

$l = 20 \text{ km}$
Merlin
 $D_{eq} = 1.5 \text{ m}$



$P = 2 \text{ MW}$
 $V = 11 \text{ KV}$

تبدیل $r = 0.3057 \frac{\Omega}{\text{mile}} \rightarrow R = 3.775 (\Omega)$

$GMR = 0.0222 \text{ ft}$

$\rightarrow L = 2 \times 10^{-7} \ln \frac{GMD}{GMR} = 10.8 \times 10^{-7} \text{ H/m} \Rightarrow Z = R + jX_L$

$\Rightarrow X_L = 8.143 (\Omega)$

(1)

$V_S = V_R + Z I_R$

$I_R = \frac{P_L - \cos^2 \theta}{\sqrt{3} V \cos \theta}$

$\begin{cases} 109.2 \text{ A} \\ 131.25 \text{ A} - 36.9^\circ \\ 131.25 \text{ A} \ 36.9^\circ \end{cases}$

$V_{L-L} \text{ در انتهای خط} = \begin{cases} 11.78 \text{ (kV)} \\ 12.83 \text{ (kV)} \\ 10.76 \text{ (kV)} \end{cases}$
در ابتدای خط

(2)

$C, D = \text{مقدار}$

$AD - BC = 1 \rightarrow B = ? \rightarrow B = 0.04479 + j0.1073$

$V_R = 1 \text{ pu} \rightarrow I = \frac{0.6}{1 \times 0.8} \angle -\cos^{-1} 0.8 = 0.75 \angle -36.9^\circ$

$V_S = AV_R + BI_R = 1.066 \angle 2.6^\circ = 245.2 \text{ (kV)}$ در انتهای خط \rightarrow

در 230 کیلوولت خط ل
می‌دهد ولتاژ را از 230
به $\sqrt{3}$ ضرب کنیم.

تیران خط = $\frac{|V_S| - |V_R|}{|V_S|} \times 100 = 6.2\%$

مقدار C جولا در هوش

$\begin{bmatrix} V_S \\ I_S \end{bmatrix} = \begin{bmatrix} A & B \\ C & D \end{bmatrix} \begin{bmatrix} V_R \\ I_R \end{bmatrix}$

↓
در ابتدا
↓
در ابتدا
↓
در ابتدا

$$I_R = 0 \Rightarrow I_S = ?$$

$$\begin{bmatrix} U_S \\ I_S \end{bmatrix} = \begin{bmatrix} A & B \\ C & D \end{bmatrix} \begin{bmatrix} V_R \\ I_R \end{bmatrix}$$

$$I_S = C V_R = \left(\frac{1}{Z_L} \sinh \theta L \right) V_R = Y' \left(1 + \frac{Z_L}{Z_0} \right) V_R = 135.64 \angle 40.7^\circ \text{ (A)}$$

$\frac{230}{\sqrt{3}}$

$$I_R = 245.34 \angle -31.8^\circ = \frac{100 \text{ MW}}{\sqrt{3} \times 230 \times 0.85}$$

$$B = Z_C \sinh \theta L$$

$$\rightarrow V_S = 161 \angle 11.7^\circ \Rightarrow V_{S,LL} = 278.9 \text{ (kV)}$$

$$I_S = 234.54 \angle -0.6^\circ$$

$$\cosh \theta L = \cosh \alpha L \cosh \beta L + j \sinh \alpha L \sinh \beta L$$

$$\theta L = \alpha L + j \beta L \rightarrow \text{(rad)}$$


$$\Delta V_{LL} = |V_S| - V_R = 98.9 \text{ (kV)}$$

$$\Delta I_{FL} = \frac{|V_S|}{|A|} - V_{R,FL} = 31 \%$$

$$\# \text{ mil} \rightarrow r \rightarrow 2r \rightarrow (2r)^2$$

↑
mill

1/2



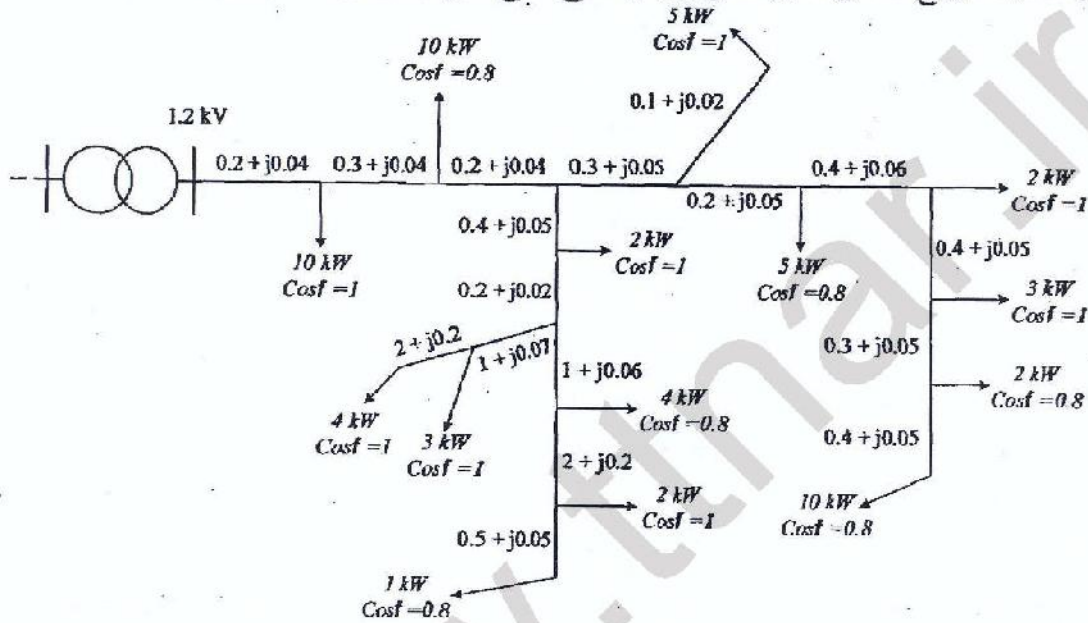
به نام خدا

بررسی سیستم‌های قدرت (1)

تمرین‌های سری هشتم (افت ولتاژ در شبکه‌های توزیع)

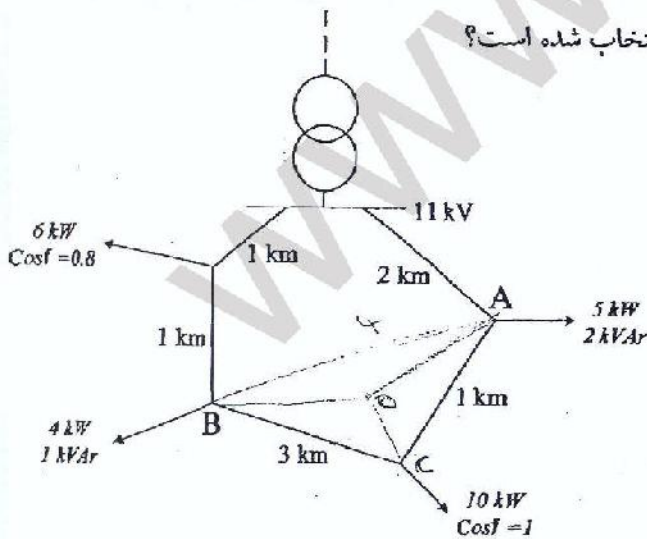


۱- در یک شبکه توزیع شعاعی مطابق شکل زیر، آیا سطح مقطع کابل به درستی انتخاب گردیده است؟



۲- در شبکه حلقوی زیر، آیا مقاطع کابل به درستی انتخاب شده است؟

$Z = 0.4 + j0.05 (\Omega/km)$ کابل




$$\begin{aligned}
 \phi A &= x_1 = \frac{v_1 + v_3}{x_1 + x_2 + x_3} = BC \times AC \\
 \phi C &= x_2 = \frac{x_1 \times x_3}{x_1 + x_2 + x_3} = AC \times AB \\
 \phi B &= x_3 = \frac{v_1 \times v_2}{x_1 + x_2 + x_3} = AB \times BC
 \end{aligned}$$

۳- در شبکه تمرین ۲، چنانچه با کشیدن کابلی با همان ابعاد مورد نظر و به طول ۲ km بین نقاط A و B، شبکه حلقوی به شبکه غربالی تبدیل گردد؛ آنگاه صحت انتخاب سطح مقطع کابل‌ها را بررسی نمایید.

1.5

$$\frac{11}{10} = \frac{3 \times 4}{2^2} = 1.5$$



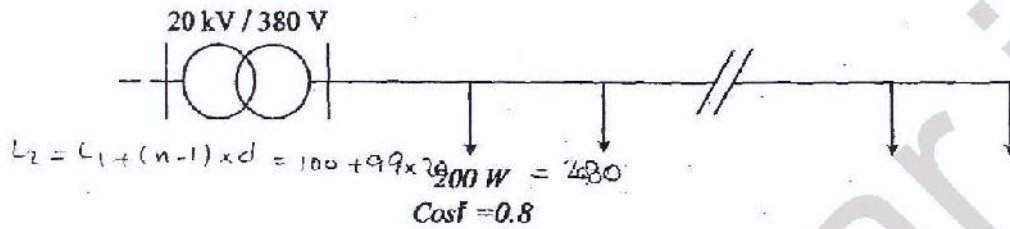
به نام خدا

بررسی سیستم‌های قدرت (۱)



تمرین‌های سری نهم (روشنایی و تعیین سطح مقطع اقتصادی)

۱- در یک خیابان، روشنایی به صورت شکل زیر تأمین می‌شود.



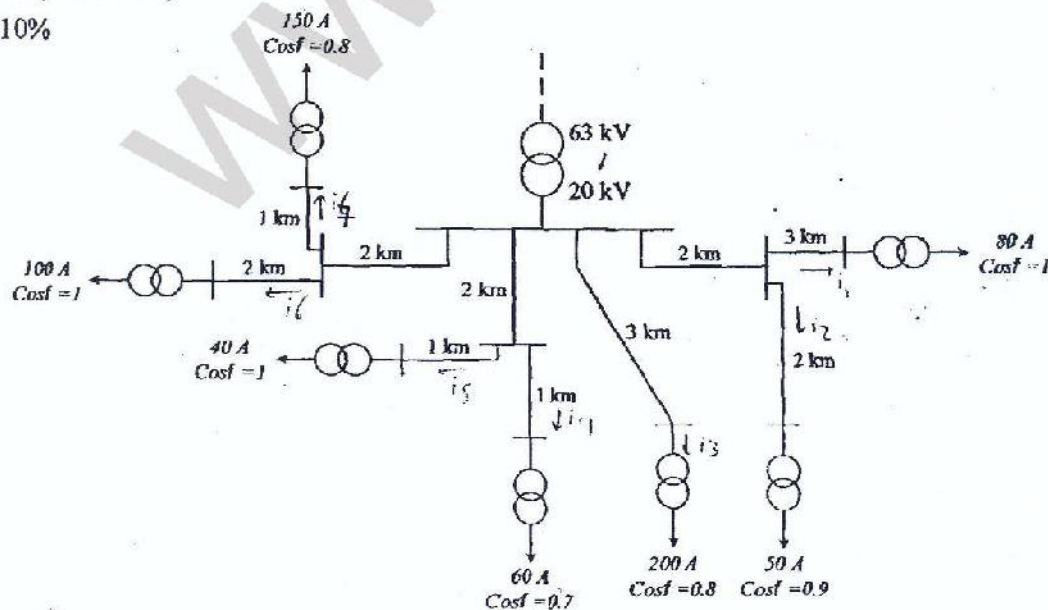
مصرف هر لامپ ۲۰۰ W با $\cos\phi = 0.8$ (Lag) و فاصله لامپ‌ها ۲۰m و تعداد لامپ‌ها ۱۰۰ عدد و فاصله اولین لامپ از پست ۱۰۰m است. در صورتی که مقاومت اهمی هر km کابل معادل ۵ برابر راکتانس اندوکتیو آن باشد؛ ابعاد آن از کابل را طوری تعیین کنید که افت ولتاژ از ۳٪ کمتر گردد.

۲- در پست توزیع اصلی ۶۳ / ۲۰ kV، پست‌های فرعی مطابق شکل زیر تغذیه می‌شوند. سطح مقطع اقتصادی را برای مسیرهای مختلف محاسبه نمایید. افت ولتاژ در هیچ مقطعی نباید از ۵٪ بیشتر باشد. کابل مسی است و قیمت هر کیلومتر آن $C = 20000(A+90)$ Rial/km می‌باشد. ساعت بهره‌برداری را ۴۵۰۰ ساعت در نظر بگیرید.

$$\sigma_{Cu} = 55 (\Omega^{-1} m / mm^2)$$

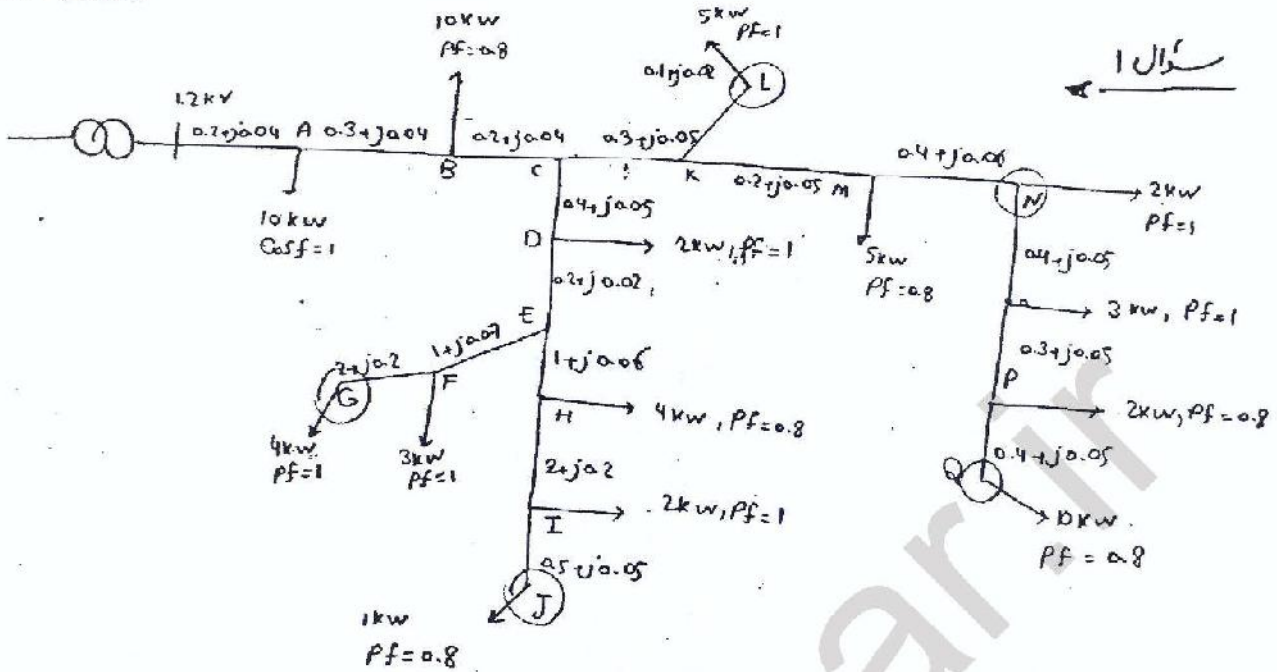
$$g = 20 (\text{Rial} / kWh)$$

$$S = 10\%$$



پروفیسر گل محمد رضا صوفیانی
810184200

بررسی سیستم‌ها قدرت (1)، #8 +NW



سوال 1

$$\textcircled{L} \rightarrow \% \Delta U = \frac{10^{-3}}{1.2^2} \sum r_k P_k + x_k Q_k \times 100$$

$$= \frac{10}{1.2} (0.2 \times 10 + (0.2+0.3) \times 10 + (0.2+0.3+0.2+0.3+0.1) \times 5$$

$$+ 0.04 \times 0 + (0.04+0.07) \times 10 \times (-0.75) + (0.04 \times 3 + 0.07) \times 0) = 0.826\%$$

$$\textcircled{G} \rightarrow \% \Delta U = \frac{10^{-3} \times 100}{1.2^2} (0.2 \times 10 + 0.5 \times 10 + 1.1 \times 2 + 2.3 \times 3 + 5.3 \times 4$$

$$- (0.04 \times 0 + 0.08 \times 10 \times 0.75 + 0.17 \times 0 + 0)) = 2.54\%$$

$$\textcircled{J} \rightarrow \% \Delta U = \frac{10^{-3} \times 100}{1.2^2} (0.2 \times 10 + 0.5 \times 10 + 1.1 \times 2 + 2.3 \times 4 + 4.3 \times 2 + 4.5 \times 1$$

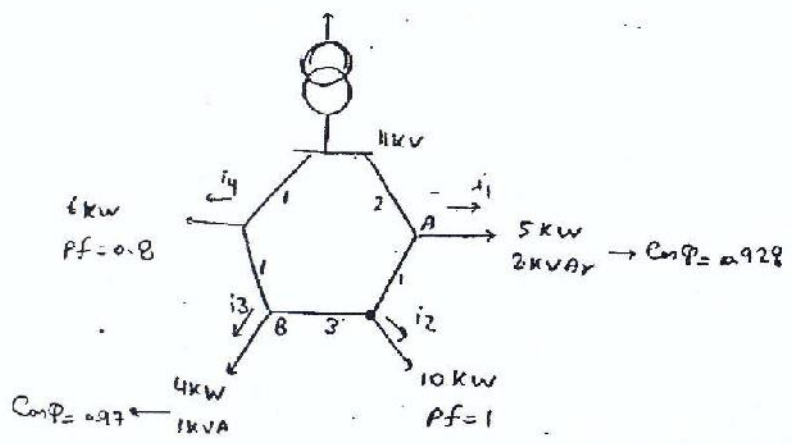
$$- (0.08 \times 10 \times 0.75 + 0.25 \times 4 \times 0.75 + 0.5 \times 1 \times 0.75)) = 2.06\%$$

$$\textcircled{Q} \rightarrow \% \Delta U = \frac{10^{-1}}{(1.2)^2} (0.2 \times 10 + 0.5 \times 10 + 1.2 \times 5 + (1.6+4) \times 3 + 2.3 \times 2 + 2.7 \times 10$$

$$- (0.08 \times 10 \times 0.75 + 0.22 \times 5 \times 0.75 + 0.38 \times 2 \times 0.75 + 0.43 \times 10 \times 0.75))$$

$$= 3.15\%$$

$$\textcircled{N} \rightarrow \% \Delta U = \frac{10^{-1}}{1.2^2} (0.2 \times 10 + 0.5 \times 10 + 1.2 \times 5 + 1.6 \times 2 - 0.75 \times 0.08 \times 10 - 0.22 \times 5 \times 0.75)$$



200

$$Z = 0.4 + j0.05 \text{ (2 km)}$$

$$i_1 = \frac{5}{\sqrt{3} \times 11 \times 0.928} = 0.283 \rightarrow 0.262$$

$$i_2 = \frac{6}{\sqrt{3} \times 11} = 0.525 \rightarrow 0.528$$

$$i_3 = \frac{4}{\sqrt{3} \times 11 \times 0.97} = 0.216 \rightarrow 0.209$$

$$i_4 = 0.393 \rightarrow 0.314$$

$$\Delta U = 0 \rightarrow i \times 2 + (i - 0.283 \times 0.928) \times 1 + (i - 0.283 \times 0.928 - 0.525) \times 3$$

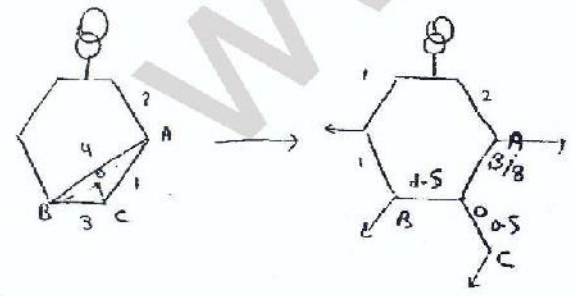
$$+ (i - 0.283 \times 0.928 - 0.525 - 0.216 \times 0.97) \times 1 + (i - 0.283 \times 0.928 - 0.525 - 0.216 \times 0.97 - 0.393) \times 1 = 0$$

$$\rightarrow i = 0.617 \text{ Amp}$$

$$i - i_1 = 0.355 \quad i - i_1 - i_2 < 0 \rightarrow \textcircled{2} : \text{Deep point}$$

$$\Delta V = (0.4 + j0.05) \{ (0.617) \times 2 + (0.617 - 0.262) \times 1 \} = 0.635 + j0.071$$

$$\Delta U = \sqrt{3} \times \Delta V = 1.109 \quad \Delta U = \frac{1.109}{11 \times 10^3} \times 10^2 = 0.01\%$$



$$0A = 3/8$$

$$0B = \frac{3 \times 1}{8} = 1.5$$

$$0C = 4/8 = 0.5$$


300

$$i \times 2 + (i - 0.262) \times 3/8 + (i - 0.262 - 0.525) \times 1.5 + (i - 0.262 - 0.525 - 0.209)$$

$$+ (i - 0.262 - 0.525 - 0.209 - 0.314) \times 1 = 0 \rightarrow i = 0.610$$

$$\rightarrow \text{Deep point} : 0 \quad 0.610 - 0.262 - 0.525 < 0$$

$$\Delta V = (0.4 + j0.05) \{ 2 \times 0.610 + (0.610 - 0.262) \times 7/8 \} = 0.609 + j0.076$$

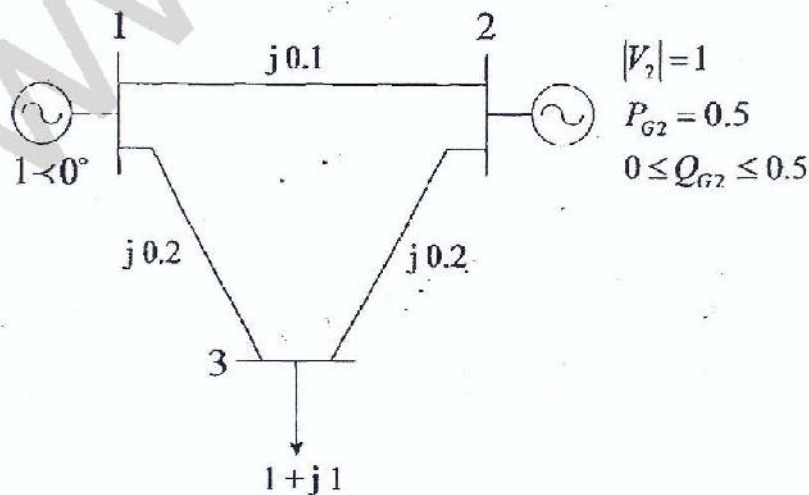
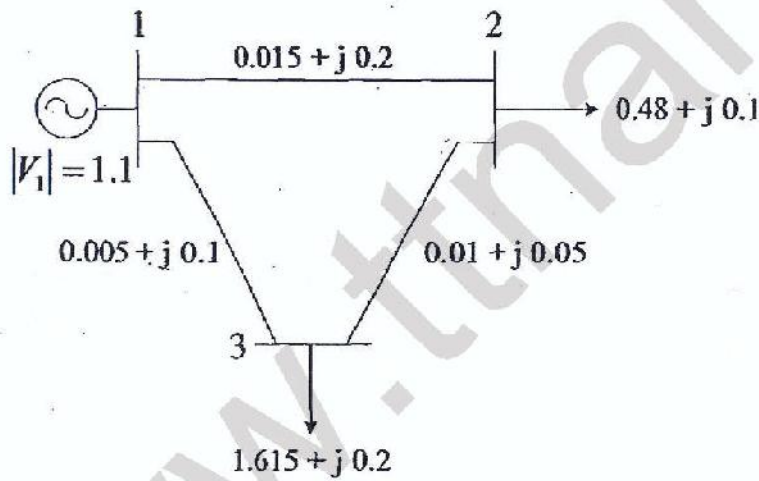


به نام خدا

بررسی سیستم‌های قدرت (1)
تمرین‌های سری دهم (پخش بار)

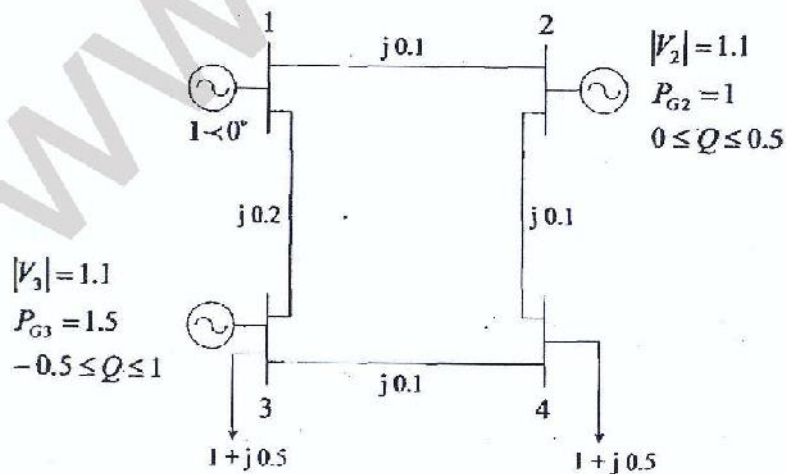
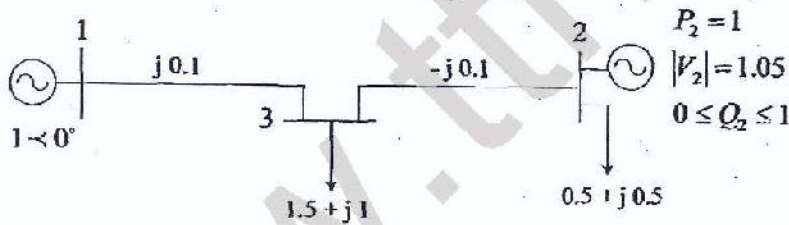
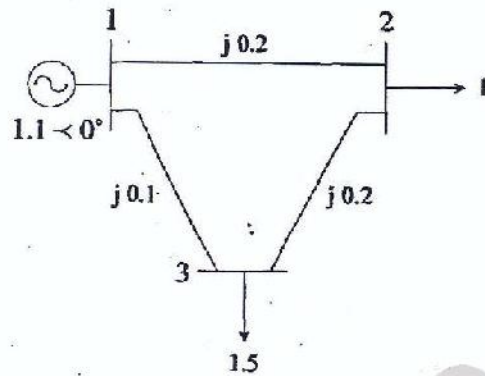


- ۱- در هر یک از شبکه‌های زیر:
الف) جدول شین‌ها را تشکیل دهید؛
ب) ماتریس Y_{BUS} را محاسبه نمایید؛
ج) معادلات پخش بار را نوشته و حل این معادلات را برای دو مرحله با استفاده از روش G-S تکرار نمایید.



۱۴۲

۲- در هر یک از شبکه‌های زیر:
 الف) جدول شین‌ها را تشکیل دهید؛
 ب) ماتریس Y_{BUS} را محاسبه نمایید؛
 ج) معادلات پخش بار را نوشته و حل این معادلات را برای دو مرحله با استفاده از روش NR تکرار نمایید.



۳- اختلاف دو روش NR و DNR چیست؟ با نوشتن معادلات، اختلاف آنها را نشان دهید.

810184200

زیرا طاق

تعمیراتی ۹، برقی سیستم کی مدد ۱

سوال ۱

$P = 200 \text{ w}$

$Pf = 0.8$

$\rightarrow Q = P \tan(\cos^{-1} 0.8) = 150$

$n = 100 \rightarrow L_2 = L_1 + (n-1) \times d$
 $= 100 + 99 \times 20 = 2080$

$0.03 = \frac{1}{380^2} (r \times 100 \times 200 + \frac{r}{5} \times 100 \times 150) (100 + 2080)$

$r = 86.39 \times 10^{-6} \Omega/m = 86.39 \times 10^{-3} \Omega/km$

$T_0 = 4500$

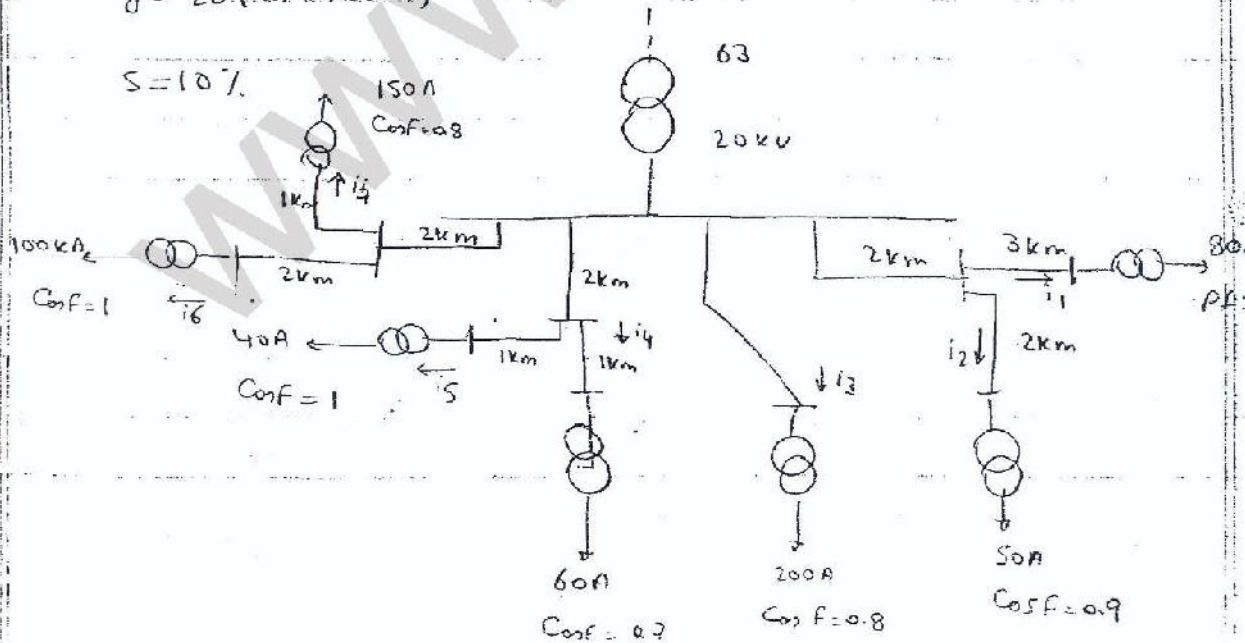
سوال ۲

$C = 20,000 \cdot (A^{1.90}) \text{ Prial/km}$

$\sigma_{cu} = 55 \text{ v m/mm}^2$

$g = 20 \cdot (\text{Prial/kwh})$

$S = 10\%$



1ca

$$j_{dcu} = \sqrt{\frac{\sigma \alpha S}{3gT_0}} = \sqrt{\frac{55 \times 20000 \times 0.1}{3 \times 20 \times 4500}} = 0.638 \text{ Amp/mm}^2$$

$$i_1 \rightarrow A_1 = \frac{80}{0.638} = 125.392 \text{ mm}^2 \rightarrow r_1 = \frac{1}{\sigma} \frac{I}{A} = 0.435 \Omega$$

$$i_2 \rightarrow A_2 = \frac{50}{0.638} = 78.369 \text{ mm}^2 \rightarrow r_2 = 0.166 \Omega$$

$$i_1 + i_2 \rightarrow A'_1 = \frac{|80 \angle 0^\circ + 50 \angle -25.84^\circ|}{0.638} = 198.85 \text{ mm}^2 \rightarrow r'_1 = 0.193 \Omega$$

$$i_3 \rightarrow A_3 = \frac{200}{0.638} = 313.48 \text{ mm}^2$$

$$i_4 \rightarrow A_4 = \frac{60}{0.638} = 94.04 \text{ mm}^2$$


$$i_5 \rightarrow A_5 = \frac{40}{0.638} = 62.896 \text{ mm}^2$$

$$i_4 + i_5 \rightarrow A'_4 = \frac{|60 \angle 45^\circ + 40 \angle 0^\circ|}{0.638} = 143.305$$

$$i_6 \rightarrow A_6 = \frac{100}{0.638} = 156.74$$

$$i_7 \rightarrow A_7 = \frac{150}{0.638} = 237.11$$

$$i_6 + i_7 \rightarrow A'_6 = \frac{|150 \angle -36.87^\circ + 100|}{0.638} = 372.639$$



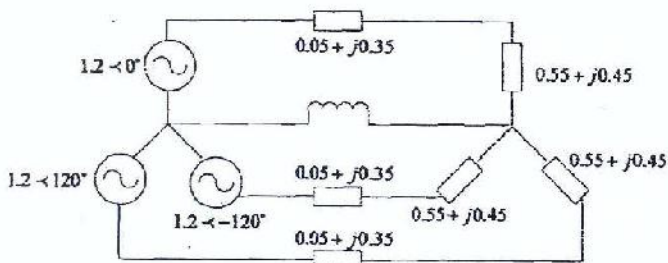
به نام خدا

بررسی سیستم‌های قدرت (۱)

مسائل تکمیلی



۱- موتور القایی سه فاز با مشخصات زیر در اختیار است: $V = 220 (v)$, $P = 25 (kW)$, $\text{Cos}\varphi = 0.8 (\text{Lag})$
جهت اصلاح ضریب قدرت به مقدار 0.95 ، خازنی با این موتور موازی می‌کنیم. قدرت خازن و جریان موتور را قبل و پس از نصب خازن تعیین نمایید.



۲- در مدار شکل مقابل:

اولاً: مدار معادل تک‌فاز را رسم کنید.

ثانیاً: جریانهای I_a , I_b و I_c را محاسبه نمایید.

(مقادیر بر حسب pu هستند.)

۳- خط انتقال سه فاز ۵۰ Hz با امپدانس $0.15 + j2 \Omega$ مفروض است.

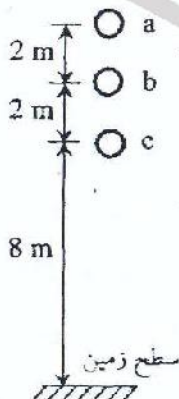
الف) چنانچه بار انتهای خط در سطح ولتاژ ۱۰ kV ، توان ۲۰۰ kW را در ضریب توان 0.8 پس‌فاز جذب نماید؛ ولتاژ، قدرت اکتیو و قدرت راکتیو ابتدای خط را تعیین نمایید.

ب) اگر $V_s = 10 \text{ kV}$ و بار انتهای خط دارای امپدانس $Z_A = 18 + j25 \Omega$ باشد؛ ولتاژ انتهای خط را حساب کنید.

ج) قدرت و ظرفیت سه خازن یا اتصال ستاره و موازی با بار را به طریقی تعیین کنید که ولتاژ انتهای خط در حالت (ب) در سطح ۱۰ kV ثبیت شود.

د) با انتخاب ولتاژ مبنای ۱۰ kV و قدرت مبنای ۲۰۰ kW ، سه بند قبل را تکرار نموده و جواب‌های بدست آمده را با پاسخ‌های قبلی مقایسه نمایید.

۴- هادی‌های یک خط انتقال از نوع Pheasant به طول ۱۵۰ km ، بصورت زیر قرار دارند. مطلوب است:



الف) محاسبه اندوکتانس و کاپاسیتانس خط با در نظر گرفتن اثر زمین.

ب) اگر ولتاژ در ابتدای خط ۱۳۲ kV باشد؛ ولتاژ در انتهای خط در

حالت بی‌باری چقدر است؟

(فرکانس را ۶۰ Hz و دمای سیم‌ها را 50°C در نظر بگیرید.)

$R = 0.0821 \text{ } \Omega / \text{mile}$

$X_a = 0.0947 \text{ } \Omega / \text{mile}$

$X_a = 0.372 \text{ } \Omega / \text{mile}$

۵- خط انتقال ۴۰۰ kV و ۳۲۰ km دارای مشخصات زیر است:

امپدانس شانت $= j3.5 \times 10^{-6} (\Omega^{-1}/km)$ و امپدانس سری $= 0.091 + j0.52 (\Omega/km)$

Load: 400 (kV), 180 (MW), 0.9 (Lag)

ولتاژ ابتدای خط و درصد تنظیم ولتاژ را در سه حالت زیر تعیین نمایید.

الف) مدل خط انتقال کوتاه ب) مدل خط انتقال متوسط ج) مدل خط انتقال بلند

۶- خط انتقالی با ولتاژ ابتدای خط ۲۳۰ kV و به طول ۳۵۰ km با مشخصات زیر مفروض است:

$r = 0.12 (\Omega/km)$, $x = 1.1 (\Omega/km)$, $y = j8 \times 10^{-6} (\Omega^{-1}/km)$

در حالت بی‌باری مطلوبست:

الف) تعیین جریان ابتدای خط و قدرت راکتیو تولیدی در ابتدای خط انتقال،

ب) چنانچه ولتاژ انتهای خط ۲۵۰ kV باشد؛ در این صورت طول حداکثر خط چقدر است؟

۷- خط انتقال ۴۵۰ km با ثابت‌های زیر، بار ۴۰۰ kV، ۴۰۰ MW و ۰/۸ پس‌فاز را تغذیه می‌کند.

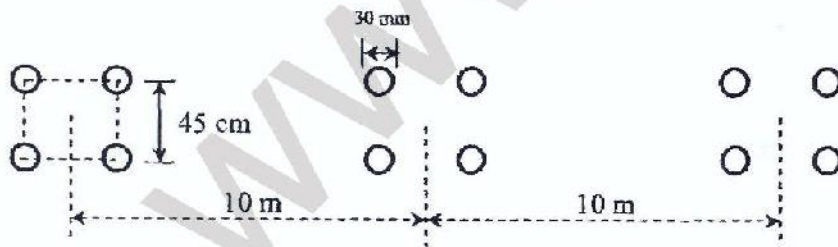
$A = D = 0.82 \angle -1.5^\circ$, $B = 168.9 \angle -87.5^\circ (\Omega)$, $C = 0.0018 (\Omega^{-1})$

با فرض ثابت ماندن ولتاژ ابتدای خط در اثر تغییرات بار، مطلوبست:

الف) محاسبه V_S ، V_R و I_S در بار کامل،

ب) تعیین ولتاژ انتهای خط و جریان ابتدای خط در حالت بی‌باری.

۸- خط انتقال ۷۶۵ kV، ۵۰ Hz و ۶۰۰ km مطابق شکل زیر در اختیار است.



با فرض بی‌اتلاف بودن خط انتقال، مطلوبست:

الف) محاسبه اندوکتانس و کاپاسیتانس خط انتقال،

ب) اگر $V_R = 765$ kV باشد؛ ولتاژ وسط خط را تعیین نمایید؛

ج) اگر $V_S = 765$ kV باشد؛ MVA_r تولیدی خط انتقال چقدر است؟

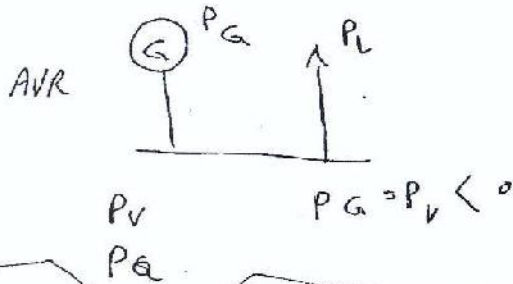
د) تعیین مقدار اندوکتیویته راکتورها در ابتدا و انتهای خط برای جذب توان راکتیو تولیدی خط در حالت بی‌باری.

$V_{(0)} = V_L \cosh \beta l + I_L \sinh \beta l$
 $I_{(0)} = I_L \cosh \beta l - \frac{V_L}{Z_C} \sinh \beta l$

$$I_R = I_S \cosh \beta l - \frac{V_S}{Z_C} \sinh \beta l$$

$\left\{ \begin{array}{l} 0.4 < \text{مقاومت} < 0.4 \\ 0.4 < \text{مقاومت} < 0.4 \end{array} \right.$

مقاومت برای:



PSCAD : در شبیه سازی

سری ۱ : ۱۰، ۱۲، ۱۴

۱.۹ : ۱۴، ۱۰، ۱۲ (مجموع)



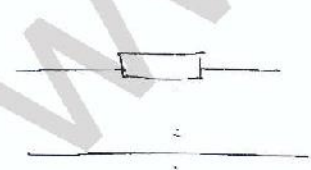
$$L = \frac{r \cdot X_L \cdot V}{\ln \frac{GMR}{GMD}} = \frac{1}{1000} \text{ km}$$

بسیار کوچک

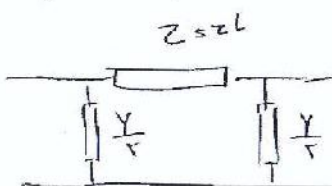
$$C = \frac{r \cdot A \cdot \epsilon_0}{\ln \frac{D_{eq}}{r}} = \frac{r \cdot A \cdot \epsilon_0}{\ln \frac{D_{eq}}{r} - \ln \sqrt{\frac{D_{ab} \cdot D_{bc} \cdot D_{ca}}{D_{aa} \cdot D_{bb} \cdot D_{cc}}}}$$

$$V_S = \frac{1.2 \cdot r \cdot k \cdot V}{\rho \cdot A}$$

$$V_{RNL} = \frac{V_S}{A}$$



$$V_{R1} = \frac{V_S}{|A|} - V_{R2} = I \cdot Z$$



$$V_S = AVR + BSR$$

$$1 + \frac{YZ}{r}$$

۱۳۹

$$A = 1 + \frac{YZ}{r} \Rightarrow 130 \text{ km} \rightarrow \text{خط متوسط}$$

مقدار اندازه C را در ادامه $A=D$ $C, B, A=D$ \leftarrow باید از رابطه

در میان استفاده کنیم تا از آنجا که بدست آید

$$AD - BC = 1 \quad 1.019 \times 14.4^\circ$$

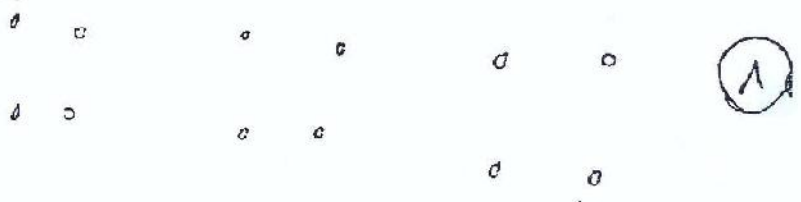
مقدار در ادامه C \leftarrow باید از آنجا که \leftarrow تغییرات پس با رابطه کار را ادامه دهیم فقط عیب

الف) V_S, V_R, I_S, I_R در بار اول

$$V_S = AV_R + B I_R \rightarrow \text{از مشخصات بار}$$

$$I_S = CV_R + D I_R$$

$$\begin{matrix} I_{S,nl} & V_{R,nl} \\ \downarrow & \downarrow \\ CV_R & \left| \frac{V_S}{A} \right| \end{matrix}$$



$$L = 2 \times 1. \rightarrow L_n \frac{GMD}{GMR} \quad \text{الف)}$$

$$C = \frac{r n r}{L_n \frac{P}{r}}$$

$$GMR = \sqrt{r' P_s D^2 r}$$

۱۴۴

$$V_R \rightarrow V_L/r$$

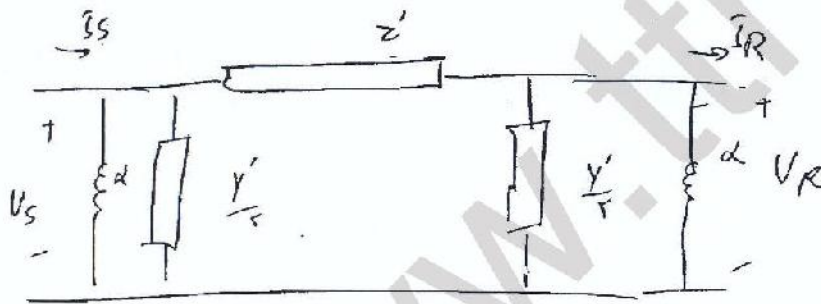
$$V(x) = V_R \cos h \gamma x + z_c I_R \sinh h \delta x = V_R V_{ker}$$

\downarrow \downarrow
 $n = L/r$ \downarrow
 \downarrow \downarrow
 \downarrow \downarrow

$$\# V_S \rightarrow Q = ?$$

$$Q = \text{Im} \left\{ \sqrt{r} \frac{V_S^* I_S}{S} \right\} \quad ; \quad I_S = C V_R + \frac{D I_R}{S} = 0$$

$$= \frac{C V_S}{A}$$



$$z' = z \quad z_c$$

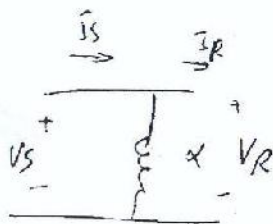
$$Y' = Y$$

$$A = 1 + \frac{Y' z'}{r}$$

$$C = Y \left(1 + \frac{Y' z'}{r} \right)$$

$$B = z'$$

$$D = A$$



فقط في cascade ليد

$$\begin{bmatrix} V_S \\ I_S \end{bmatrix} = \begin{bmatrix} 1 & 0 \\ a & 1 \end{bmatrix} \begin{bmatrix} V_R \\ I_R \end{bmatrix}$$

$$\begin{bmatrix} A' & B' \\ C' & D' \end{bmatrix} = \begin{bmatrix} 1 & : \\ \alpha & 1 \end{bmatrix} \begin{bmatrix} A & B \\ C & D \end{bmatrix} \begin{bmatrix} 1 & 0 \\ \alpha & 1 \end{bmatrix}$$

$$\begin{bmatrix} A' & B' \\ C' & D' \end{bmatrix} = \begin{bmatrix} A + \alpha B & B \\ \alpha A + \alpha' B & D + \alpha B \end{bmatrix}$$

$\alpha = 0$ → اگر α را صفر بگذاریم ضریب B در C' و D' حذف می‌شود.
 عمل ضربه است.

$$\alpha^2 B + \alpha A + C = 0 \Rightarrow k = \begin{cases} 0/0 & 1234 \quad \times \\ -0/00 & 1234 \quad \text{😊} \end{cases}$$

$\alpha = \alpha k$
 k باید منفی باشد

در خط جداولی α شود
 α جمع می‌شود

$$\begin{bmatrix} I_s \\ I_R \end{bmatrix} = [Y] \begin{bmatrix} V_s \\ V_R \end{bmatrix}$$

۱۳۰۰

$$\begin{bmatrix} A' & B' \\ C' & D' \end{bmatrix} = \begin{bmatrix} 1 & : \\ \alpha & 1 \end{bmatrix} \begin{bmatrix} A & B \\ C & D \end{bmatrix} \begin{bmatrix} 1 & 0 \\ \alpha & 1 \end{bmatrix}$$

$$\begin{bmatrix} A' & B' \\ C' & D' \end{bmatrix} = \begin{bmatrix} A + \alpha B & B \\ \alpha A + \alpha' B & D + \alpha B \end{bmatrix}$$

$\alpha = 0$ → اولی سطر نده از خارج حذف شود
 عمل ضربه ۰

$$\alpha^2 B + \alpha A + C = 0 \Rightarrow k = \begin{cases} 0/0 & 1234 \quad X \\ -0/00 & 1234 \quad \text{😊} \end{cases}$$

$\alpha = \alpha k$
 k به دست می آید

در خط جداولی شود
 X جمع می شود

$$\begin{bmatrix} I_s \\ I_R \end{bmatrix} = [Y] \begin{bmatrix} V_s \\ V_R \end{bmatrix}$$

۱۳۰۰

$$\begin{bmatrix} A' & B' \\ C' & D' \end{bmatrix} = \begin{bmatrix} 1 & 0 \\ \alpha & 1 \end{bmatrix} \begin{bmatrix} A & B \\ C & D \end{bmatrix} \begin{bmatrix} 1 & 0 \\ \alpha & 1 \end{bmatrix}$$

$$\begin{bmatrix} A' & B' \\ C' & D' \end{bmatrix} = \begin{bmatrix} A + \alpha B & B \\ \alpha A + \alpha^2 B + C + \alpha D & D + \alpha B \end{bmatrix}$$

$\alpha = 0$ \Rightarrow فرض کنیم $\alpha = 0$ \Rightarrow فرض کنیم $\alpha = 0$ \Rightarrow فرض کنیم $\alpha = 0$ \Rightarrow فرض کنیم $\alpha = 0$

$$\alpha^2 B + \alpha A + C = 0 \Rightarrow k = \begin{cases} 0/0 & 1234 \quad X \\ -0/00 & 1234 \quad \text{😊} \end{cases}$$

$\alpha = k$
 k به سببی است

در خط موازی شود
 X جمع می شود

$$\begin{bmatrix} I_s \\ I_R \end{bmatrix} = [Y] \begin{bmatrix} V_s \\ V_R \end{bmatrix}$$

۱۲۰۰

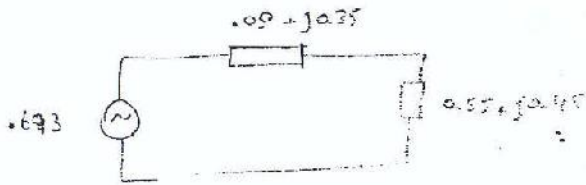
$$I_m = \frac{25 \times 10^3}{\sqrt{3 \times 220 \times 0.8}} \angle -36.8^\circ$$

$$\sin \theta = P \times \tan^{-1} \theta = +18.75$$

$$\tan \theta = \frac{1}{0.95} = -0.329 \rightarrow \theta = +8.217$$

$$\omega_c = -10.533 \text{ rad/s}$$

$$I'_m = \frac{25 \times 10^3}{\sqrt{3 \times 220 \times 0.95}} \angle$$



$$I_a = 2.696 \angle -53.1^\circ$$

$$I_b = \dots \angle -173.1^\circ$$

$$I_c = \dots \angle -293.1^\circ$$

(2)

$$f = 50 \text{ Hz}, Z_L = 0.5 + j2$$

(3)

$$\text{ii) } V_R = 10 \text{ kV}, P = 200 \text{ kW}, \text{ pf} = 0.8 \text{ lag}$$

$$I_R = 11.745 \angle -36.9^\circ$$

$$V_S = V_R + Z_L \times I_R = 10 \text{ k} + (0.5 + j2) \times 11.745 \angle -36.9^\circ$$

$$D_{eq} = \sqrt[3]{4 \times 4 \times 8} = 5.04 \text{ m}$$

$$L = 2 \times 10^{-7} \ln \frac{D_m}{D_s} = 2 \times 10^{-7} \ln \frac{5.04}{0.0082} = 12.7 \times 10^{-7} \text{ H/m}$$

$$C = \frac{2\pi\epsilon_0}{\ln \frac{D_m}{D_s}} = \frac{2\pi \times \frac{10^{-9}}{36\pi}}{\ln \frac{5.04}{0.0082}} = 9.04 \times 10^{-17} \text{ F/m}$$

$$X_L = \omega L l = 2\pi \times 50 \times 12.7 \times 10^{-7} \times 10^3 \times 200 = 79.8 \Omega$$

$$B = \omega C l = 2\pi \times 50 \times 9.04 \times 10^{-17} \times 10^3 \times 200 = 5.68 \times 10^{-9} \text{ S}$$

$$Z = R + jX_L = 26.4 + j79.8 = 84 \angle 71.7^\circ \Omega$$

$$Y = G + jB = j5.68 \times 10^{-9} = 5.68 \times 10^{-9} \angle 90^\circ \text{ S}$$

$$V_R = \frac{230}{\sqrt{3}} \angle 0^\circ = 132.8 \angle 0^\circ \text{ kV}$$

$$I_R = \frac{150 \times 10^3 \text{ kW}}{\sqrt{3} \times 230 \times 0.85} = 4.43 \angle -31.8^\circ \text{ A}$$

$$V_S = \left(1 + \frac{YZ}{2}\right) V_R + Z I_R = 160.23 \angle 8.92^\circ \text{ kV}$$

$$|V_S| = 160.23 \times \sqrt{3} = 277.5 \text{ kV}$$

$$V_{NL} = A = 1 + \frac{YZ}{2} = 0.977 \angle 0.44^\circ \Rightarrow |A| = 0.977$$

$$V_{R,NL} = \frac{|V_S|}{|A|} = 284 \text{ kV}$$

$$V_R = \frac{284 - 230}{230} \times 100 = 23.4 \%$$

122