

فصل چهارم

تبدیل فوریه گسسته زمان

مقدمه

روش‌های پیوسته زمان که در فصل ۳ مورد بررسی قرار گرفتند، دارای اهمیت زیادی هستند. در حقیقت این ابزارها به همراه نوع گسسته زمان آن تشکیل یک زوج ابزار قوی و کارآمد را در تجزیه و تحلیل سیستم‌های LTI می‌دهند. اگرچه وجوه تشابه زیادی میان تبدیل فوری پیوسته زمان و گسسته زمان وجود دارد، اما هنوز تفاوت‌های عمده‌ای میان این دو نوع وجود دارد که ناشی از ماهیت متفاوت آنهاست.

در این فصل بر آن نیستیم که از لحاظ تاریخی، منشأ تبدیل فوری پیوسته زمان را مورد بررسی قرار دهیم. اما واضح است که تبدیل فوری اساساً برای سیگنال‌های پیوسته زمان ارائه شده است و بعدها با توجه به کاربرد وسیع دنباله‌های گسسته زمان، نوع دیگری از این تبدیل که مناسب برای استفاده در حالت گسسته زمان است، ارائه شده است. لذا منطقی است که بتوان با ایجاد برخی تناظرها و با استفاده از تعاریف و خواص حالت پیوسته زمان، تعاریف و خواص متناظر برای حالت گسسته زمان را بدست آورد.

از لحاظ مفهوم، شناخت و درک برخی خواص در حوزه پیوسته زمان بسیار ساده‌تر و بدیهی‌تر از نوع گسسته زمان آن است. به عنوان مثال مفهوم پایین‌گذر یا بالاگذر بودن طیف یک سیگنال در حالت پیوسته زمان کاملاً بدیهی است. به عبارت دیگر اگر طیف سیگنال بیشتر در حوالی فرکانس‌های پایین و صفر متمرکز باشد، آن سیگنال پایین‌گذر است و متناسب با میزان دور بودن محل طیف از فرکانس‌های حوالی صفر، سیگنال میان‌گذر و یا بالاگذر می‌شود. اما در مورد سیگنال‌های گسسته زمان، طیف حوزه فرکانس متناوب است و در فاصله فرکانسی 2π مرتباً تکرار می‌شود، لذا تعریف پایین‌گذر یا بالاگذر بودن باید دقیق‌تر اعمال گردد. در این مورد اگر طیف سیگنال حول مضارب زوج $(2k\pi), \pi$ متمرکز باشد، سیگنال پایین‌گذر است و اگر طیف سیگنال حول مضارب فرد $[(2k+1)\pi], \pi$ متمرکز باشد، سیگنال بالاگذر است.

در این فصل پس از بررسی مختصری بر روی دنباله‌های متفاوت و استخراج ضرایب سری فوری، توجه خاص خود را به تبدیل فوری و بررسی خواص آن متمرکز می‌کنیم. در این رهگذر ضرایب DFT یک دنباله را تعریف کرده و از آن در محاسبه کانولوشن از کامپیوتر کمک می‌گیریم. با توجه به اهمیت تفاوت‌ها و شباهت‌های روش‌های پیوسته و گسسته زمان در تمام مراحل فوق و به مناسبت، از این تفاوت‌ها و شباهت‌ها صحبت به میان خواهیم آورد و قسمت خاصی را به آن اختصاص خواهیم داد و در انتهای فصل به بررسی روش‌های ساخت سیستم‌های مختلف گسسته زمان LTI به کمک بلوک‌های اساسی می‌پردازیم.

۴-۱ توابع ویژه سیستم‌های LTI گسسته‌زمان

مراحل نمایش فوریه در حالت گسسته‌زمان (یا به عبارت دیگر مراحل نمایش یک دنباله (تابع) دلخواه به صورت ترکیب خطی توابع نمایی مختلط)، با آنچه در حالت پیوسته‌زمان انجام دادیم، یکسان است. نشان می‌دهیم که دنباله‌های مختلط نمایی، توابع ویژه برای سیستم‌های LTI گسسته‌زمان هستند. به عنوان مثال فرض کنید که یک سیستم LTI با پاسخ ضربه $h[n]$ دارای ورودی زیر باشد.

$$x[n] = z^n \quad (1-4)$$

که در آن z یک عدد مختلط است. خروجی سیستم را می‌توان از جمع کانولوشن بدست آورد.

$$y[n] = h[n] * x[n] = \sum_{k=-\infty}^{+\infty} h[k]x[n-k] \quad (2-4)$$

$$= \sum_{k=-\infty}^{+\infty} h[k]z^{n-k} = \sum_{k=-\infty}^{+\infty} z^n h[k]z^{-k} = z^n \sum_{k=-\infty}^{+\infty} h[k]z^{-k}$$

در این جا دیده می‌شود که اگر ورودی $x[n]$ یک تابع نمایی مختلط مثل تابع (۱-۴) باشد، خروجی نیز شامل همان تابع نمایی مختلط خواهد بود که در یک ضریب ثابت (که تابع مقدار z است) ضرب شده است.

$$y[n] = H(z)z^n \quad (3-4)$$

که در آن

$$H(z) = \sum_{k=-\infty}^{+\infty} h[k]z^{-k} \quad (4-4)$$

در اینجا $H(z)$ مقدار ویژه مربوط به تابع ویژه z^n خواهد بود.

در حالت کلی‌تر می‌بینیم که معادله (۳-۴) با توجه به خاصیت جمع اثر که در مورد سیستم‌های LTI صادق است، روشن‌گر این مطلب است که نمایش سیگنال‌ها برحسب توابع نمایی مختلط می‌تواند ما را به عبارت‌های مناسبی برای پاسخ یک سیستم LTI راهنمایی کند. بدین صورت که اگر ورودی یک سیستم LTI گسسته به صورت ترکیب خطی از توابع نمایی مختلط نمایش داده شود، یعنی اگر $x[n]$ به صورت زیر نوشته شود:

$$x[n] = \sum_k a_k z_k^n \quad (5-4)$$

در آن صورت خروجی با توجه به خاصیت جمع آثار و رابطه (۳-۴) به صورت زیر بیان می‌گردد

$$y[n] = \sum_k a_k H(z_k) z_k^n \quad (6-4)$$

به عبارت دیگر خروجی را می‌توان به صورت ترکیب خطی از همان دنباله‌های مختلط نمایش داد که در تولید $x[n]$ به صورت مجموع (۴-۵) شرکت داشته‌اند، با این تفاوت که علاوه بر ضرایب a_k که

¹ Eigen Function

مربوط به بسط ورودی بر حسب توابع نمایی هستند، باید ضریب $H(z_k)$ را نیز به عنوان مقدار ویژه تابع z_k^n اضافه کرد.

مشابه روش فصل سوم ما بحث خود را به توابعی به صورت $e^{j\Omega n}$ (به عبارت دیگر z^n با $|z|=1$) محدود می‌کنیم. در فصل هفتم حالت کلی را در نظر خواهیم گرفت.

در قسمت‌های بعدی ابتدا نمایش فوریه سیگنال‌های تناوبی را در نظر خواهیم گرفت و در قسمت (۴-۳) تبدیل فوریه گسسته زمان را به عنوان تعمیمی از سری فوریه، دقیقاً مشابه آنچه در بخش (۳-۴) انجام دادیم، مطرح خواهیم کرد. روش کار دقیقاً مشابه روش پیوسته زمانی است که در فصل سوم بحث شده است. همانگونه که قبلاً اشاره شد میان حالت پیوسته و گسسته زمانی شاهد اختلافات و تشابهات مهمی خواهیم بود که به تفصیل به بررسی هر یک خواهیم پرداخت.

۴-۲ نمایش دنباله‌های متناوب

۴-۲-۱ ترکیب خطی نمایی‌های مختلط

همانگونه که در فصل ۲ توضیح داده شد، یک دنباله گسسته زمان $x[n]$ تناوبی است اگر بازاء عدد ثابت و مثبت N داشته باشیم.

$$x[n] = x[n + N] \quad (۷-۴)$$

به عنوان مثال همان‌گونه که در قسمت (۲-۴-۳) دیدیم، تابع نمایی مختلط به صورت $e^{j\frac{2\pi}{N}n}$ تناوبی با دوره تناوب N می‌باشد. بعلاوه مجموعه دنباله‌های نمایی مختلط که با دوره N تناوبی هستند، به صورت زیر قابل نمایش هستند.

$$\phi_k[n] = e^{jk\left(\frac{2\pi}{N}\right)n}, \quad k = 0, \pm 1, \pm 2, \dots \quad (۸-۴)$$

فرکانس زاویه‌ای همه این دنباله‌ها ضربی از فرکانس زاویه‌ای اصلی $\frac{2\pi}{N}$ است. بنابراین همه این سیگنال‌ها را می‌توان به عنوان هم‌آهنگ‌های^۲ مختلف این فرکانس زاویه‌ای تلقی کرد.

اختلاف مهم میان مجموعه سیگنال‌های هم‌آهنگ در حالت پیوسته و گسسته زمان این است که تمامی سیگنال‌های موجود در مجموعه سیگنال‌ها، در حالت پیوسته زمان که در معادله (۳-۱۲) داده شده‌اند، مجزا و دارای فرکانس مخصوص به خود هستند، ولی در مجموعه دنباله‌های گسسته زمان (۴-۷) تنها N دنباله مجزا با فرکانس مخصوص به خود دیده می‌شود. دلیل این امر نیز واضح است چون تمامی دنباله‌هایی که فرکانس زاویه‌ای آنها ضربی از 2π با هم تفاوت دارند، مشابه هستند. یعنی

$$e^{j(\Omega+2\pi r)n} = e^{j\Omega n} e^{j2\pi r n} = e^{j\Omega n} \quad (۹-۴)$$

نتیجه مستقیم این مبحث این است که $\phi_0[n] = \phi_N[n]$ ، $\phi_1[n] = \phi_{N+1}[n]$ و در حالت کلی تر

$$\phi_k[n] = \phi_{k+rN}[n] \quad (۱۰-۴)$$

² Harmonics

یعنی هنگامی که k با ضریب صحیحی از N تغییر کند، دوباره همان دنباله قبلی تولید خواهد شد. اکنون می‌خواهیم یک دنباله تناوبی دلخواه را به صورت مجموعی از دنباله‌های $\phi_k[n]$ بنویسیم.

$$x[n] = \sum_k a_k \phi_k[n] = \sum_k a_k e^{jk \frac{2\pi}{N} n} \quad (11-4)$$

از آنجائیکه $\phi_k[n]$ فقط به ازاء N مقدار متوالی از k تولید دنباله‌های مجزا می‌کند، مجموع (11-4) فقط احتیاج به N عبارت متوالی دارد، یعنی

$$x[n] = \sum_{k=\langle N \rangle} a_k \phi_k[n] = \sum_{k=\langle N \rangle} a_k e^{jk \left(\frac{2\pi}{N}\right) n} \quad (12-4)$$

به عنوان مثال می‌توان k را در محدوده $k=0,1,2,\dots,N$ و یا $k=3,4,\dots,N+2$ متغیر فرض کرد. توجه شود که در اینجا فرض شده است که بتوان $x[n]$ را به صورت مجموع (12-4) بسط داد، بنابراین در مورد شرایط وجود سری فوریه یا به عبارت دیگر شرط همگرایی سری (12-4) به $x[n]$ بحث نخواهیم کرد. در جای خود شرایط وجود سری فوریه گسسته زمان را با استفاده از شرایط وجود سری فوریه پیوسته زمان ارائه می‌کنیم. همچنین لازم به ذکر است که سری فوریه پیوسته زمان در حالت کلی یک سری نامتناهی است (با تعداد جملات نامتناهی)، در حالیکه سری فوریه گسسته زمان یک سری متناهی است. بنابراین تحقیق شرط همگرایی برای سری فوریه گسسته زمان³ بسیار ساده‌تر است.

معادله (12-4) را به عنوان سری فوریه گسسته زمانی و ضرایب a_k را به عنوان ضرایب سری فوریه می‌شناسند. همانگونه که اشاره شد در حالت گسسته زمانی این مجموع محدود است که نتیجه مستقیم رابطه (10-4) است.

4-2-2 تعیین سری فوریه دنباله‌های متناوب

اکنون فرض کنید که یک دنباله به نام $x[n]$ با دوره تناوب N داشته باشیم. می‌خواهیم ببینیم آیا می‌توان $x[n]$ را به صورت مجموع (12-4) نوشت. در صورت مثبت بودن جواب، می‌خواهیم a_k را تعیین کنیم. این سوال را می‌توان به صورت پیدا کردن جواب برای یک مجموعه معادلات خطی مطرح کرد.

اگر معادله (12-4) را برای مقادیر متوالی n محاسبه کنیم، داریم.

³ Discrete Fourier Series

$$\begin{aligned}
 x[0] &= \sum_{k=\langle N \rangle} a_k \\
 x[1] &= \sum_{k=\langle N \rangle} a_k e^{j\frac{2\pi}{N}k} \\
 &\vdots \\
 x[N-1] &= \sum_{k=\langle N \rangle} a_k e^{j2\pi k(N-1)/N}
 \end{aligned} \tag{۱۳-۴}$$

از آنجا که هر دو طرف معادله با دوره تناوب N ، متناوب هستند، رابطه $x[N]$ مشابه $x[0]$ خواهد شد. بنابراین معادله (۱۳-۴) نمایش دهنده یک مجموعه از N معادله و N مجهول a_k می باشد. می توان نشان داد که این مجموعه N معادله ای به صورت خطی مستقل هستند و بنابراین جهت بدست آوردن a_k بر حسب مقادیر معلوم $x[n]$ قابل حل می باشند. اما رابطه ساده تری جهت تعیین a_k نیز وجود دارد. برای بدست آوردن این رابطه استفاده از معادله زیر مفید است.

$$\sum_{n=0}^{N-1} e^{jk(\frac{2\pi}{N})n} = \begin{cases} N & k=0, \mp N, \dots \\ 0 & \text{در غیر اینصورت} \end{cases} \tag{۱۴-۴}$$

رابطه فوق مشابه حالت پیوسته زمان زیر است.

$$\int_0^T e^{jk(\frac{2\pi}{T})t} dt = \begin{cases} T & k=0 \\ 0 & \text{در غیر اینصورت} \end{cases} \tag{۱۵-۴}$$

برای بدست آوردن رابطه (۱۴-۴) از مجموع زیر استفاده کردیم.

$$\sum_{n=0}^{N-1} \alpha^n = \begin{cases} N & \alpha=1 \\ \frac{1-\alpha^N}{1-\alpha} & \alpha \neq 1 \end{cases} \tag{۱۶-۴}$$

همچنین می دانیم تابع $e^{j\frac{2\pi}{N}k}$ فقط گاهی که k ضربی از N باشد مساوی واحد است. اگر α را مساوی $e^{j\frac{2\pi}{N}k}$ بگیریم، داریم.

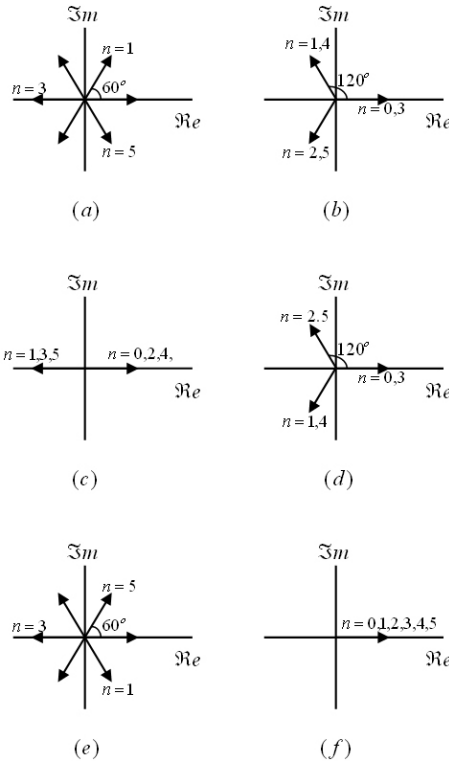
$$\sum_{n=0}^{N-1} e^{jk(\frac{2\pi}{N})n} = \begin{cases} N & k=0, \mp N, \mp 2N, \dots \\ \frac{1-e^{jk\frac{2\pi}{N}N}}{1-e^{j\frac{2\pi}{N}k}} = 0 & \text{در غیر اینصورت} \end{cases} \tag{۱۷-۴}$$

از آنجایی که نمایی های مختلط در مجموع (۱۴-۴) متناوب با دوره تناوب N می باشند، تساوی مطرح شده در معادله (۱۴-۴) برای هر مجموعی که در فاصله N گرفته شود، صادق است.

$$\sum_{n=r}^{r+N-1} e^{jk(\frac{2\pi}{N})n} = \begin{cases} N & k=0, \mp N, \dots \\ 0 & \text{در غیر اینصورت} \end{cases} \tag{۱۸-۴}$$

فصل چهارم: تبدیل فوریه گسسته‌زمان

نمایش تصویری معادله (۱۸-۴) در شکل (۱-۴) برای $N = 6$ داده شده است (به ازاء k های مختلف) در این شکل اعداد مختلط به صورت بردارهایی در صفحه مختلط داده شده‌اند که طول همه آنها واحد است و زاویه آنها $\frac{2\pi}{6}n$ می‌باشد که $n = 0, 1, 2, \dots, 5$.



شکل (۱-۴): دنباله‌های نمایی مختلط $\phi_k[n] = e^{jk(\frac{2\pi}{6})n}$ در یک دوره تناوب بازاء مقادیر مختلف k .

$$k = 6(f) \quad k = 5(e) \quad k = 4(d) \quad k = 3(c) \quad k = 2(b) \quad k = 1(a)$$

از حالت تقارن هر یک از این شکل‌ها می‌توان دید که مجموع $e^{jk(\frac{2\pi}{6})n}$ در یک دوره تناوب صفر است به جز هنگامی که $k = 0, 6, 12$ است که در حالت اخیر همه بردارها روی هم می‌افتند و به طور عددی با هم جمع می‌شوند.

اکنون سری فوریه معادله (۱۲-۴) را در نظر گرفته، هر دو طرف را در $e^{-jr(\frac{2\pi}{N})n}$ ضرب کرده و در یک دوره تناوب N جمع می‌زنیم. طبق روابط (۱۴-۴) تا (۱۸-۴) نتیجه حاصل Na_k خواهد بود چون

$$\sum_{n=\langle N \rangle} x[n] e^{-jr(\frac{2\pi}{N})n} = \sum_{n=\langle N \rangle} \sum_{k=\langle N \rangle} a_k e^{jk(\frac{2\pi}{N})n} e^{-jr(\frac{2\pi}{N})n} \quad (۱۹-۴)$$

با تعویض مرتبه جمع در سمت راست داریم.

$$\sum_{n=\langle N \rangle} x[n] e^{-jr(\frac{2\pi}{N})n} = \sum_{k=\langle N \rangle} a_k \sum_{n=\langle N \rangle} e^{j(\frac{2\pi}{N})m(k-r)} \quad (20-4)$$

باتوجه به معادله (۱۸-۴) مجموع دوم در طرف راست مساوی صفر است مگر در مواقعی که $k-r$ مساوی صفر یا مضرب صحیحی از N باشد. بنابراین اگر r در محدوده تغییرات k وجود داشته باشد، در آنصورت معادله (۴-۲۰) مساوی N است اگر $k=r$ و مساوی صفر است اگر $k \neq r$. پس سمت راست مساوی Na_r می شود و به این ترتیب a_r بدست می آید.

$$a_r = \frac{1}{N} \sum_{n=\langle N \rangle} x[n] e^{-jr(\frac{2\pi}{N})n} \quad (21-4)$$

بنابراین ما زوج سری فوریه (۲۲-۴) و (۲۳-۴) را به ترتیب به عنوان معادلات ترکیب و تحلیل خواهیم داشت.

$$x[n] = \sum_{k=\langle N \rangle} a_k e^{jk(\frac{2\pi}{N})n} \quad (22-4)$$

$$a_k = \frac{1}{N} \sum_{n=\langle N \rangle} x[n] e^{-jk(\frac{2\pi}{N})n} \quad (23-4)$$

ضرایب سری فوریه a_k را اغلب به عنوان ضرایب طیفی $x[n]$ می نامند. این ضرایب، $x[n]$ را به صورت N دنباله هم‌هنگ نمایش می دهند. با توجه به معادله (۱۲-۴) می بینیم که اگر k در محدوده ۰ تا $N-1$ تغییر کند، می توان $x[n]$ را به صورت زیر نوشت.

$$x[n] = a_0 \phi_0[n] + a_1 \phi_1[n] + \dots + a_{N-1} \phi_{N-1}[n] \quad (24-4)$$

و اگر k در محدوده ۱ تا N تغییر کند، می توان $x[n]$ را به صورت زیر نشان داد.

$$x[n] = a_1 \phi_1[n] + a_2 \phi_2[n] + \dots + a_N \phi_N[n]$$

اما چون $\Phi_0[N] = \Phi_N[N]$ ، $a_0 = a_N$ می باشد پس باید $a_0 = a_N$ شود. بنابراین

$$a_k = a_{k+N} \quad (25-4)$$

بنابراین ضرایب سری فوریه نیز متناوب بوده و دوره تناوب آنها نیز همان دوره تناوب دنباله مربوطه می باشد.

مثال (۱-۴): سری فوریه دنباله $x[n] = \sin \Omega_0 n$ را بیابید اگر

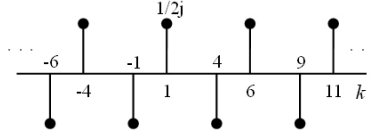
حل: این دنباله در صورتی متناوب است که $\Omega_0 = 2\pi \frac{m}{N}$ باشد (N, m هر دو عدد صحیح هستند).

پس

$$x[n] = \frac{1}{j2} e^{j(\frac{2\pi}{N}m)n} - \frac{1}{j2} e^{-j(\frac{2\pi}{N}m)n}$$

از مقایسه با رابطه (۲۲-۴) داریم.

$$a_m = \frac{1}{j2}, \quad a_{-m} = -\frac{1}{j2}$$



شکل (۲-۴): نمایش ضرایب سری فوریه $x[n]$ در حالت $N=5, m=1$.

و بقیه ضرایب در فاصله جمع بندی صفر هستند. همانطور که گفتیم این ضرایب با دوره تناوب N

تکرار می‌شوند. مثلاً اگر $m=1, N=5$ باشند: $a_1 = a_6, a_{-1} = a_4$

اگر $N=5, m=3$ باشد $x[n]$ را به صورت زیر خواهیم داشت.

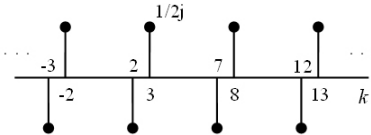
$$x[n] = \frac{1}{j2} e^{j(\frac{2\pi}{5})3n} - \frac{1}{j2} e^{-j(\frac{2\pi}{5})3n}$$

در نتیجه داریم

$$a_3 = \frac{1}{j2}, \quad a_{-3} = -\frac{1}{j2}$$

و با استفاده از خاصیت تناوبی داریم.

$$a_{-3+5} = a_2 = -\frac{1}{j2}, \quad a_{3-5} = a_{-2} = \frac{1}{j2}$$



شکل (۳-۴): نمایش ضرایب سری فوریه $x[n]$ در حالتی که $m=1, N=5$ باشد.

مثال (۲-۴): سری فوریه دنباله زیر را بیابید.

$$x[n] = 1 + \text{Sin}\left(\frac{2\pi}{N}n\right) + 3\text{Cos}\left(\frac{2\pi}{N}n\right) + \text{Cos}\left(\frac{4\pi}{N}n + \frac{\pi}{2}\right)$$

حل: سیگنال فوق تناوبی با دوره تناوب N است. بابت $x[n]$ داریم.

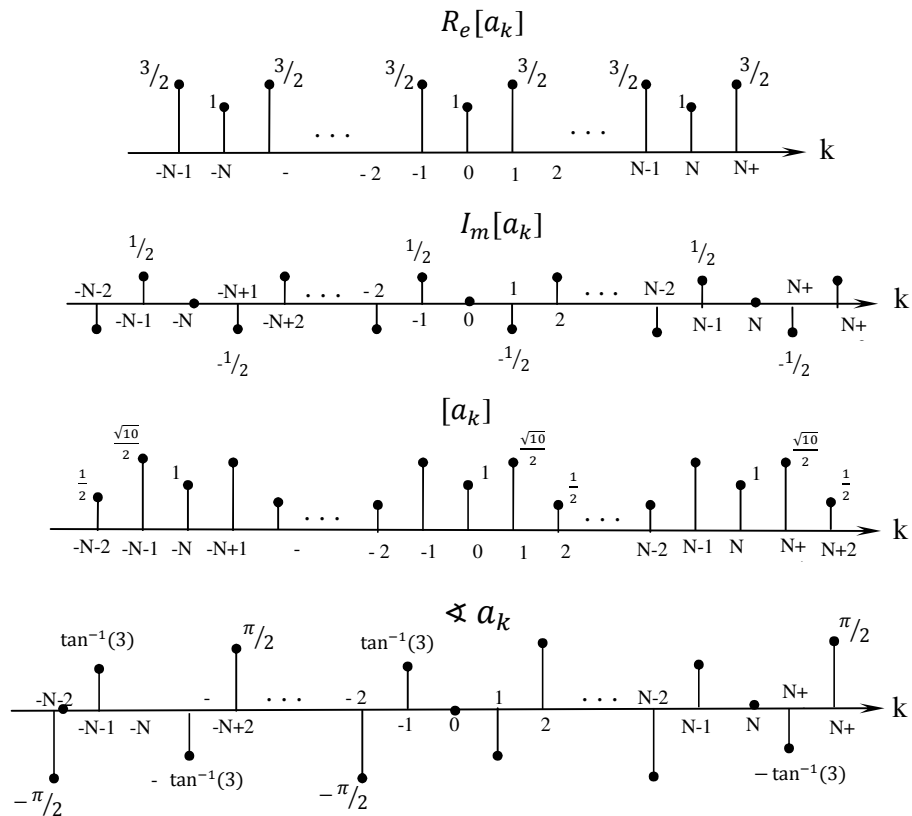
$$\begin{aligned} x[n] &= 1 + \frac{1}{j2} \left[e^{j(\frac{2\pi}{N})n} - e^{-j(\frac{2\pi}{N})n} \right] + \frac{3}{2} \left[e^{j(\frac{2\pi}{N})n} + e^{-j(\frac{2\pi}{N})n} \right] + \\ & \frac{1}{2} \left[e^{j\left[\left(\frac{2\pi}{N}\right)2n + \frac{\pi}{2}\right]} + e^{-j\left[\left(\frac{2\pi}{N}\right)2n + \frac{\pi}{2}\right]} \right] \\ &= 1 + \left(\frac{3}{2} + \frac{1}{j2}\right) e^{j(\frac{2\pi}{N})n} + \left(\frac{3}{2} - \frac{1}{j2}\right) e^{-j(\frac{2\pi}{N})n} + \frac{1}{2} e^{j\pi/2} e^{j(\frac{2\pi}{N})2n} + \\ & \frac{1}{2} e^{-j\pi/2} e^{-j(\frac{2\pi}{N})2n} \end{aligned}$$

بنابراین ضرایب سری فوریه بدست می آیند.

$$a_0 = 1, \quad a_1 = \frac{3}{2} + \frac{1}{j2}, \quad a_{-1} = \frac{3}{2} - \frac{1}{j2}$$

$$a_2 = \frac{1}{2} e^{j\pi/2} = \frac{j}{2}, \quad a_{-2} = \frac{1}{2} e^{-j\pi/2} = -\frac{j}{2}$$

که به صورت های زیر می توان آن را نمایش داد.

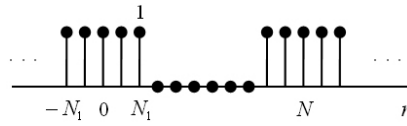


شکل (۴-۴): (a) قسمت های حقیقی و موهومی ضرایب سری فوریه مثال (۲-۴) (b) دامنه همان ضرایب توجه کنید که در مثال، برای تمام مقادیر k صادق است. البته این تساوی هنگامی صادق است که $x[n]$ حقیقی باشد.

مثال (۳-۴): برای دنباله مربعی به صورت شکل (۵-۴) مطلوبست تعیین ضرایب سری فوریه.

حل: با استفاده از رابطه (۲۲-۴) داریم

$$a_k = \frac{1}{N} \sum_{n=-N_1}^{N_1} e^{-jk(\frac{2\pi}{N})n}$$



شکل (۴-۵): دنباله مربعی

چون فقط $2N_1 + 1$ جمله داریم. اگر m را مساوی $n + N_1$ قرار دهیم.

$$\begin{aligned} a_k &= \frac{1}{N} \sum_{m=0}^{2N_1} e^{-jk \left(\frac{2\pi}{N}\right)(m-N_1)} \\ &= \frac{1}{N} e^{jk \left(\frac{2\pi}{N}\right)N_1} \sum_{m=0}^{2N_1} e^{-jk \frac{2\pi}{N} m} \\ &= \frac{1}{N} e^{jk \left(\frac{2\pi}{N}\right)N_1} \frac{1 - e^{-jk \frac{2\pi}{N} (2N_1+1)}}{1 - e^{-jk \frac{2\pi}{N}}} \\ &= \frac{1}{N} \frac{e^{jk \frac{2\pi}{N} N_1} - e^{-jk \frac{2\pi}{N} (N_1+1)}}{1 - e^{-jk \frac{2\pi}{N}}} \\ &= \frac{1}{N} \frac{e^{-jk \frac{2\pi}{2N}} e^{jk \frac{2\pi}{N} [N_1 + 1/2]} - e^{-jk \frac{2\pi}{N} [N_1 + 1/2]}}{e^{-jk \frac{2\pi}{2N}} - e^{-jk \frac{2\pi}{N}}} \end{aligned}$$

بنابراین می توان ضرایب سری فوریه یک دنباله مربعی را به صورت زیر نوشت.

$$a_k = \frac{1}{N} \frac{\text{Sin} \left[k \left(\frac{2\pi}{N} \right) \left(N_1 + \frac{1}{2} \right) \right]}{\text{Sin} \left[k \left(\frac{2\pi}{2N} \right) \right]} \quad k \neq 0, \pm N, \dots \quad (\text{a-۲۶-۴})$$

$$a_k = \frac{1}{N} (2N_1 + 1) \quad k = 0, \pm N, \dots \quad (\text{b-۲۶-۴})$$

عبارتی را که برای ضرایب سری فوریه بدست آوریم می توانیم به صورت ضرایبی از نمونه های پوش تابع زیر فرض کنیم.

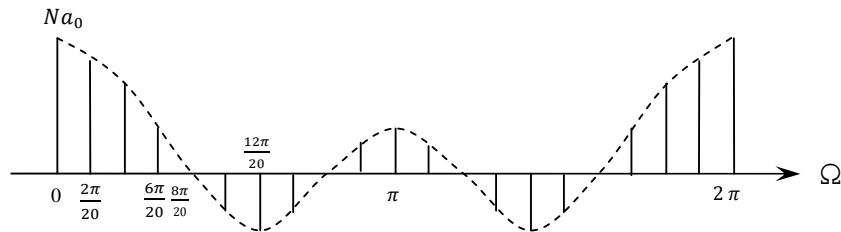
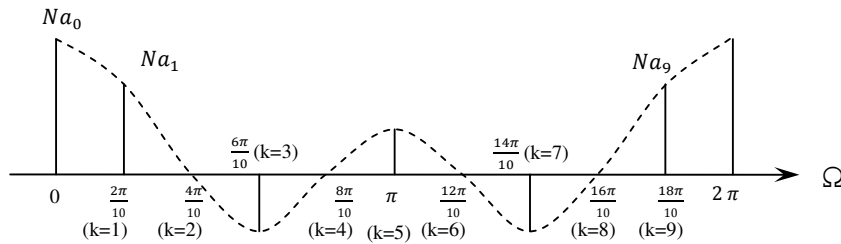
$$Na_k = \frac{\text{Sin} \left[(2N_1 + 1) \frac{\Omega}{2} \right]}{\text{Sin} \left(\frac{\Omega}{2} \right)} \Bigg|_{\Omega = \frac{2\pi}{N} k} \quad (\text{۲۷-۴})$$

در شکل (۴-۶) ضرایب Na_k برای $2N_1 + 1 = 5$ و $N = 10, 20$ رسم شده اند.

با افزایش N و ثابت بودن N_1 پوش Na_k ثابت می ماند اما فاصله نمونه هایی که برای محاسبه ضرایب سری فوریه به کار برده می شوند، کمتر می شود. توجه شود که در حالت پیوسته زمان پوش بدست آمده برای یک پالس مربعی یک تابع Sinc بود ولی در اینجا و در مورد دنباله مربعی به دلیل تناوبی

بودن ضرایب سری فوریه یک $Sinc$ بدست نمی آید. بنابراین معادل گسسته زمان یک تابع $Sinc$ به صورت $\frac{\sin[\beta n]}{\sin[n]}$ خواهد بود.

یکی دیگر از تفاوت های سری فوریه گسسته و پیوسته زمان در این است که در حالت پیوسته زمان برای یک سیگنال موج مربعی متقارن دیدیم که هر چه تعداد عبارات مجموع سری فوریه به سمت ∞ میل می کرد، مجموع به سمت موج مربعی میل می کرد ولی در نقاط ناپیوستگی پدیده گیبس^۱ مشاهده می شد. اما در حالت گسسته زمان تعداد جملات سری فوریه محدود و همچنین پدیده گیبس مشاهده نمی شود.



شکل (۴-۶): ضرایب سری فوریه مربوط به دنباله مربعی بازاء

$$N = 40(c) \quad N = 20(b) \quad N = 10(a), 2N_1 + 1 = 5$$

بنابراین با توجه به شکل (۴-۶) دیده می شود که با افزایش N یا دوره تناوب، طیف ضرایب سری فوریه به سمت یک طیف پیوسته میل می کند و این کاملاً منطقی و قابل پیش بینی می باشد، چرا که با

افزایش دوره تناوب و میل کردن آن به سمت مقادیر خیلی بزرگ دنباله، $x[n]$ به یک دنباله محدود تبدیل خواهد شد و بعدها خواهیم دید که دنباله‌های دوره محدود، دارای طیف پیوسته می‌باشند. یکی دیگر از مهمترین تشابهات بین سیستم‌های پیوسته و گسسته ناشی از این حقیقت است که نمایی‌های مختلط، توابع ویژه برای سیستم‌های LTI پیوسته و گسسته زمان می‌باشند. فرض کنید $x[n]$ ورودی یک سیستم LTI گسسته زمان با پاسخ ضربه $h[n]$ باشد. اگر $x[n]$ یک دنباله متناوب با دوره تناوب N باشد، با توجه به خاصیت خطی بودن سیستم انتظار داریم که پاسخ سیستم ($y[n]$) نیز متناوب باشد. هدف، ارائه رابطه برای ضرایب سری فوریه خروجی برحسب ضرایب سری فوریه ورودی است. ابتدا بسط دنباله $x[n]$ را برحسب ضرایب سری فوریه می‌نویسیم.

$$x[n] = \sum_{k=-\infty}^{+\infty} a_k e^{jk \left(\frac{2\pi}{N}\right)n} \quad (28-4)$$

اگر پاسخ ضربه سیستم $h[n]$ باشد، می‌توان با استفاده از (۴-۶) رابطه زیر را برای خروجی نوشت.

$$y[n] = \sum_{k=-\infty}^{+\infty} a_k H\left(\frac{2\pi k}{N}\right) e^{jk \left(\frac{2\pi}{N}\right)n} \quad (29-4)$$

بنابراین ضرایب سری فوریه خروجی به صورت $a_k H\left(\frac{2\pi k}{N}\right)$ هستند که در آن

$$H(z) = \sum_{n=-\infty}^{+\infty} z^{-k} h[n] \quad (30-4)$$

بنابراین

$$H\left(\frac{2\pi k}{N}\right) = \sum_{n=-\infty}^{+\infty} h[n] e^{-jk \left(\frac{2\pi}{N}\right)n} \quad (31-4)$$

برای توضیح بیشتر به مثال زیر توجه کنید.

مثال (۴-۵): فرض کنیم پاسخ ضربه سیستم LTI به صورت $h[n] = \alpha^n u[n]$ باشد که در آن $-1 < \alpha < 1$ است. اگر ورودی این سیستم به صورت $x[n] = \cos\left(\frac{2\pi}{N}n\right)$ باشد، مطلوبست خروجی

سیستم و سری فوریه آن.

حل: ابتدا ورودی را به صورت سری فوریه بسط می‌دهیم.

$$x[n] = \frac{1}{2} e^{-j\left(\frac{2\pi}{N}\right)n} + \frac{1}{2} e^{j\left(\frac{2\pi}{N}\right)n}$$

با توجه به پاسخ ضربه سیستم و رابطه (۴-۳۱) داریم.

$$\begin{aligned} H\left(\frac{2\pi}{N}k\right) &= \sum_{n=0}^{+\infty} \alpha^n e^{-jk \left(\frac{2\pi}{N}\right)n} \\ &= \sum_{n=0}^{+\infty} \left[\alpha e^{-jk \left(\frac{2\pi}{N}\right)} \right]^n = \frac{1}{1 - \alpha e^{-jk \frac{2\pi}{N}}} \end{aligned}$$

بنابراین می‌توان خروجی را به صورت سری فوریه نوشت.

$$\begin{aligned} y[n] &= \frac{1}{2} H\left(\frac{2\pi}{N}\right) e^{j\frac{2\pi}{N}n} + \frac{1}{2} H\left(-\frac{2\pi}{N}\right) e^{-j\frac{2\pi}{N}n} \\ &= \frac{1}{2} \left(\frac{1}{1 - \alpha e^{-j\frac{2\pi}{N}}} \right) e^{j\frac{2\pi}{N}n} + \frac{1}{2} \left(\frac{1}{1 - \alpha e^{j\frac{2\pi}{N}}} \right) e^{-j\frac{2\pi}{N}n} \end{aligned}$$

اگر فرض کنیم.

$$\frac{1}{1 - \alpha e^{-j\frac{2\pi}{N}}} = r e^{j\theta}$$

در آن صورت داریم.

$$y[n] = \frac{1}{2} r e^{j\theta} e^{j\frac{2\pi}{N}n} + \frac{1}{2} r e^{-j\theta} e^{-j\frac{2\pi}{N}n} = r \cos\left(\frac{2\pi}{N}n + \theta\right)$$

۳-۴ دنباله‌های غیرمتناوب-تبدیل فوریه گسسته زمان^۴ (DTFT)

در مثال (۳-۴) و در شکل (۶-۴) دیدیم که با افزایش دوره تناوب فاصله این نمونه‌ها از هم کمتر می‌شود. با مشاهدات مشابه در مورد سیگنال‌های پیوسته زمان توانستیم با افزایش دوره تناوب به سمت ∞ نمایش تبدیل فوریه را برای یک سیگنال غیرمتناوب ارائه کنیم. در این فصل دقیقاً همان عملیات را پیش می‌گیریم و ابتدا تابع $\tilde{x}[n]$ متناوب را به گونه‌ای تعریف می‌کنیم که در یک دوره تناوب مساوی سیگنال غیرمتناوب باشد.

فرض می‌کنیم $x[n]$ در فاصله $|n| > N_1$ مساوی صفر باشد. هرچه دوره تناوب N بیشتر می‌شود، در ناحیه بزرگتری می‌توان $x[n]$ را با $\tilde{x}[n]$ مساوی گرفت و اگر N به سمت بینهایت ∞ میل کند آنگاه $\tilde{x}[n] = x[n]$ می‌گردد.

اکنون سری فوریه $\tilde{x}[n]$ را در نظر بگیرید.

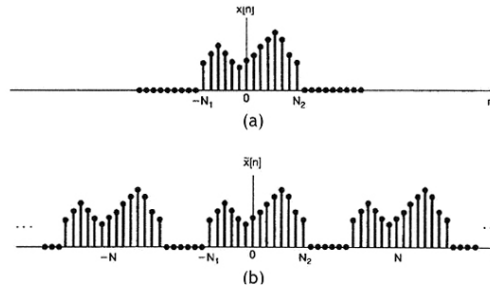
$$\tilde{x}[n] = \sum_{k=\langle N \rangle} a_k e^{jk\left(\frac{2\pi}{N}\right)n} \quad (۳۲-۴)$$

$$a_k = \frac{1}{N} \sum_{n=\langle N \rangle} \tilde{x}[n] e^{-jk\left(\frac{2\pi}{N}\right)n} \quad (۳۳-۴)$$

از آنجا که در یک دوره تناوب که شامل $|n| \leq N_1$ است، $x[n]$ مساوی $\tilde{x}[n]$ است، مناسب است که حدود مجموع را در فاصله مذکور در نظر بگیریم. در این صورت می‌توان جای $\tilde{x}[n]$ را با $x[n]$ عوض کرد و نوشت.

$$a_k = \frac{1}{N} \sum_{n=-N_1}^{N_1} \tilde{x}[n] e^{-jk\left(\frac{2\pi}{N}\right)n} = \frac{1}{N} \sum_{n=-\infty}^{+\infty} x[n] e^{-jk\left(\frac{2\pi}{N}\right)n} \quad (۳۴-۴)$$

⁴ Discrete Time Fourier Transform



شکل (۷-۴): (a) سیگنال با دوره محدود $x[n]$

(b) سیگنال تناوبی $\tilde{x}[n]$ که در یک دوره تناوب با $x[n]$ مساوی است

اگر دوره تناوب N به سمت بینهایت میل کند، در آن صورت $k \frac{2\pi}{N}$ مقادیر پیوسته را اتخاذ می‌کند و اگر چه a_k به سمت صفر میل می‌کند ولی Na_k مقادیر محدود غیر صفر را اتخاذ می‌کند. اکنون پوش $X(\Omega)$ مربوط به Na_k را به صورت رابطه (۴-۳۵) می‌نویسیم.

$$X(\Omega) = \sum_{n=-\infty}^{\infty} x[n]e^{-j\Omega n} \quad (۴-۳۵)$$

در رابطه (۴-۳۵)، $\Omega = k \frac{2\pi}{N}$ مقادیر پیوسته را اتخاذ می‌کند. رابطه فوق تبدیل فوریه مستقیم نامیده می‌شود. بنابراین می‌توان ضرایب فوریه دنباله $\tilde{x}[n]$ (که از تکرار مداوم $x[n]$ با دوره تناوب N واحد بدست می‌آید) را از رابطه (۴-۳۵) بدست آورد.

$$Na_k = X(\Omega) \Big|_{\Omega = \frac{2\pi}{N}k} \quad (۴-۳۶)$$

$$a_k = \frac{1}{N} X(k\Omega_0) \quad (۴-۳۷)$$

که در آن $\Omega_0 = \frac{2\pi}{N}$ می‌باشد.

بنابراین ضرایب a_k متناسب با نمونه‌های متساوی‌فاصله از تابع پوش می‌باشند. از ترکیب معادلات (۴-۳۲) و (۴-۳۷) داریم.

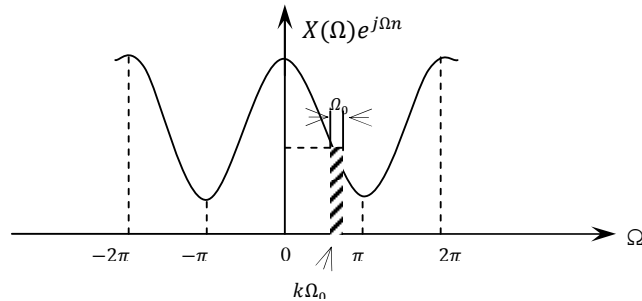
$$\tilde{x}[n] = \sum_{k=-N}^N \frac{1}{N} X(k\Omega_0) e^{jk\Omega_0 n} \quad (۴-۳۸)$$

از آنجائیکه $\Omega_0 = \frac{2\pi}{N}$ یا $\frac{1}{\Omega_0} = \frac{N}{2\pi}$ است، معادله (۴-۳۸) را می‌توان به صورت زیر نوشت.

$$\tilde{x}[n] = \frac{1}{2\pi} \sum_{k=-N}^N X(k\Omega_0) e^{jk\Omega_0 n} \Omega_0 \quad (۴-۳۹)$$

هنگامیکه $N \rightarrow \infty$ آنگاه $\Omega_0 \rightarrow 0$ و $k\Omega_0$ مقادیر پیوسته را اتخاذ می‌کند. بنابراین $\tilde{x}[n]$ برای هر مقدار محدود n مساوی $x[n]$ خواهد شد و از اینجا می‌توان رابطه تبدیل معکوس فوریه گسسته‌زمان را بدست آورد. در حالت حدی مذکور، معادله (۴-۳۹) در فاصله یک دوره تناوب به انتگرال تبدیل

می‌شود. برای واضح‌تر شدن مطلب فرض کنید $X(\Omega)e^{j\Omega n}$ به صورت نمایش داده شده در شکل (۴-۸) باشد.



شکل (۴-۸): نمایش معادله (۴-۳۹)

از معادله (۴-۳۵) پی می‌بریم که $X(\Omega)$ متناوب و دوره تناوب آن 2π است. همچنین $e^{j\Omega n}$ نیز متناوب با دوره تناوب 2π است. بنابراین حاصل ضرب $X(\Omega)e^{j\Omega n}$ نیز تناوبی با دوره تناوب 2π است. همانگونه که از شکل پیداست، هر عبارت در مجموع (۴-۳۹) نمایانگر مساحتی به ارتفاع $X(k\Omega_0)e^{jk\Omega_0 n}$ و پهنای Ω_0 است.

هنگامی که $\Omega_0 \rightarrow 0$ مجموع تبدیل به انتگرال شده و $x[n] = \tilde{x}[n]$ می‌شود. بنابراین رابطه (۴-۳۹) به صورت زیر تبدیل می‌شود.

$$x[n] = \frac{1}{2\pi} \int_{2\pi} X(\Omega)e^{j\Omega n} d\Omega \quad (4-40)$$

محدوده انتگرال‌گیری دلخواه ولی طول آن 2π است. بنابراین زوج تبدیل فوریه زیر را بدست آوردیم.

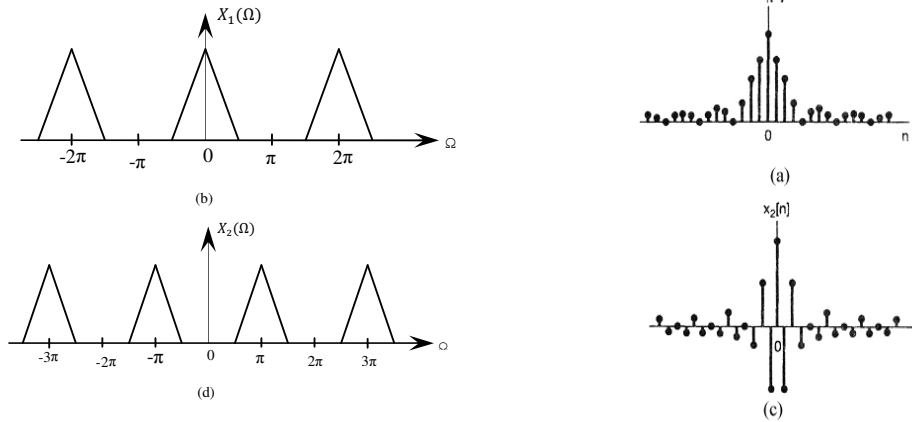
$$x[n] = \frac{1}{2\pi} \int_{2\pi} X(\Omega)e^{j\Omega n} d\Omega \quad (4-41)$$

$$X(\Omega) = \sum_{n=-\infty}^{\infty} x[n]e^{-j\Omega n} \quad (4-42)$$

$X(\Omega)$ را معمولاً طیف $x[n]$ می‌نامند و متناوب با دوره تناوب 2π می‌باشد و این یکی از تفاوت‌های تبدیل فوریه گسسته و پیوسته زمان می‌باشد. تبدیل فوریه سیگنال پیوسته زمان غیرمتناوب است در حالیکه تبدیل فوریه دنباله گسسته زمان متناوب است و دوره تناوب آن در حوزه فرکانس مستقل از نوع و شکل دنباله گسسته زمان، مساوی 2π است. تفاوت دیگر در محدود بودن حدود انتگرال‌گیری در معادله (۴-۴۱) است که باز ناشی از تناوبی بودن $X(\Omega)$ می‌باشد. بنابراین چون $\Omega = 2\pi, \Omega = 0$ یک فرکانس را مشخص می‌کنند، فرکانسهای نزدیک به این مقادیر و یا هر مضرب زوجی از π را فرکانس پایین گویند. همچنین فرکانسهایی که نزدیک مضارب فرد π باشند را فرکانسهای بالا گویند.

فصل چهارم: تبدیل فوریه گسسته‌زمان

بنابراین دنباله $x_1[n]$ رسم شده در شکل (۹-۴) بسیار آهسته‌تر از $x_2[n]$ تغییر میکند و دارای مؤلفه‌های فرکانسی پایین می‌باشد که در شکل مشخص شده است.



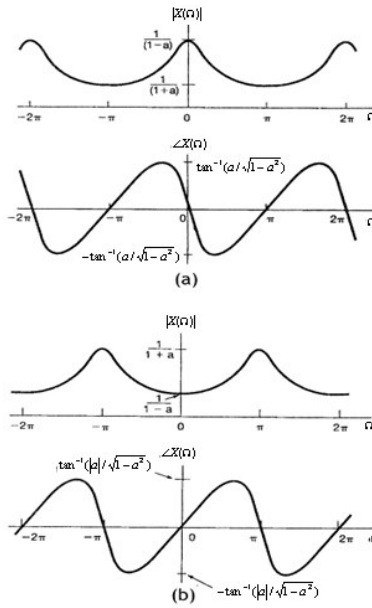
شکل (۹-۴): (a) دنباله گسسته‌زمان $x_1[n]$ تبدیل فوریه $X_1(\Omega)$ که در حوالی $\Omega = \pm\pi, \pm3\pi$ متمرکز است. مثال (۵-۴): تبدیل فوریه دنباله زیر را بیابید.

$$x[n] = a^n u[n] \quad |a| < 1$$

حل: با استفاده از رابطه (۴۲-۴) داریم.

$$X(\Omega) = \sum_{n=-\infty}^{\infty} x[n] e^{-j\Omega n} = \sum_{n=0}^{\infty} [ae^{-j\Omega}]^n = \frac{1}{1 - ae^{-j\Omega}}$$

دامنه و فاز $X(\Omega)$ در شکل (۹-۴) برای $a > 0$ و در شکل (۱۰-۴) برای $a < 0$ نشان داده شده است. توجه می‌کنیم که در هر دو حالت دوره تناوب 2π است و طیف دامنه زوج و طیف زاویه، فرد می‌باشد. در ضمن توجه می‌کنیم که اگر $a > 0$ باشد، دنباله فوق در فرکانسهای پایین بیشینه دامنه را خواهد داشت و اگر $a < 0$ باشد در فرکانسهای بالا بیشینه دامنه را خواهد داشت. البته در هر دو حالت لازمه همگرا شدن تبدیل فوریه، شرط $|a| < 1$ می‌باشد.

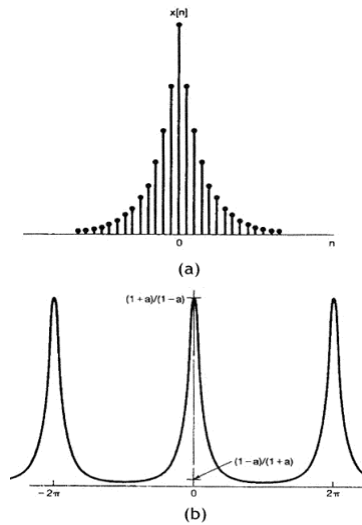


شکل (۴-۱۰): دامنه و زاویه تبدیل فوریه مثال (۴-۵) برای (a) $a > 0$ (b) $a < 0$

مثال (۴-۶): تبدیل فوریه دنباله زیر را بیابید.

$$x[n] = \alpha^{|n|}$$

حل: شکل سیگنال به ازاء $0 < \alpha < 1$ در شکل (۴-۱۱) رسم شده است.



شکل (۴-۱۱): (a) سیگنال $x[n]$ مثال (۴-۶) و (b) تبدیل فوریه آن $0 < \alpha < 1$

فصل چهارم: تبدیل فوریه گسسته‌زمان

تبدیل فوریه این سیگنال برابر است با

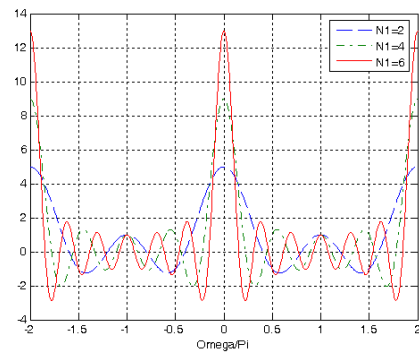
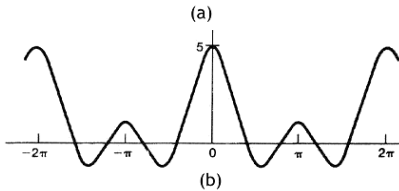
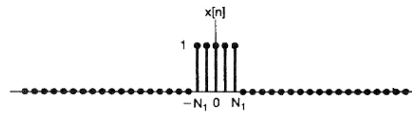
$$\begin{aligned} X(\Omega) &= \sum_{n=-\infty}^{-1} \alpha^{-n} e^{-j\Omega n} + \sum_{n=0}^{+\infty} \alpha^n e^{-j\Omega n} \\ &= \sum_{m=1}^{+\infty} \alpha^m e^{j\Omega m} + \sum_{n=0}^{+\infty} \alpha^n e^{-j\Omega n} \\ &= \frac{1}{1 - \alpha e^{j\Omega}} - 1 + \frac{1}{1 - \alpha e^{-j\Omega}} = \frac{1 - \alpha^2}{1 - 2\alpha \cos \Omega + \alpha^2} \end{aligned}$$

در این حالت $X(\Omega)$ حقیقی و برای $0 < \alpha < 1$ در شکل (۴-۱۱-ب) رسم شده است. مثال (۴-۷): تبدیل فوریه پالس مربعی را بدست آورید.

$$x[n] = \begin{cases} 1 & |n| \leq N_1 \\ 0 & |n| > N_1 \end{cases} \text{ پالس مربعی:}$$

حل:

$$X(\Omega) = \sum_{n=-N_1}^{+N_1} e^{-j\Omega n} = \sum_{m=0}^{2N_1} e^{-j\Omega(m-N_1)}$$



شکل (۴-۱۲): (a) پالس مربعی مثال (۴-۷) برای $N_1 = 2$ (b) تبدیل فوریه آن برای $N_1 = 2$ (c) مقایسه تبدیل فوریه پالس مربعی برای سه مقدار مختلف $N_1 = 2, 4, 6$

مجموع دوم به کمک تبدیل زیر از مجموع اول بدست آمده است.

$$m = n + N_1$$

بنابراین می توان نوشت.

این تبدیل در شکل (۱۲-۴) رسم شده است.

$$\begin{aligned} X(\Omega) &= e^{j\Omega N_1} \frac{1 - e^{-j\Omega(2N_1+1)}}{1 - e^{-j\Omega}} = \frac{e^{j\Omega N_1} - e^{-j\Omega(N_1+1)}}{1 - e^{-j\Omega}} \\ &= \frac{e^{-j\Omega/2} e^{j\Omega(N_1+\frac{1}{2})} - e^{-j\Omega(N_1+\frac{1}{2})}}{e^{-j\Omega/2} - e^{j\Omega/2}} \\ X(\Omega) &= \frac{\text{Sin}\Omega(N_1 + \frac{1}{2})}{\text{Sin}\frac{\Omega}{2}} \end{aligned}$$

جهت مشاهده تاثیر افزایش طول پالس مربعی طیف این سیگنال به ازاء افزایش N_1 طیف این پالس برای سه مقدار مختلف $N_1 = 2, 4, 6$ در شکل ۱۲-۴ نیز رسم شده است. دیده می شود که با افزایش N_1 طیف سیگنال در حوزه فرکانس بسته تر می شود که به مفهوم کاهش دامنه در فرکانسهای بالاتر است.

۴-۴ دنباله های متناوب و تبدیل فوریه گسسته زمانی

همانند حالت پیوسته زمان، روابط مهمی بین نمایش سری فوریه دنباله های متناوب و تبدیل فوریه دنباله های غیرمتناوب وجود دارد. در این بخش ابتدا نحوه بدست آوردن ضرایب سری فوریه یک دنباله متناوب از روی تبدیل فوریه یک دوره تناوب از آن دنباله را تشریح می کنیم. سپس نشان خواهیم داد که چگونه سری فوریه دنباله های متناوب را می توان به کمک نمایش تبدیل دنباله متناوب به صورت قطار ضربه، در چهار چوب تبدیل فوریه جای داد.

۴-۴-۱ ضرایب سری فوریه به عنوان نمونه های تبدیل فوریه در یک دوره تناوب

فرض کنید که $\tilde{x}[n]$ یک دنباله متناوب با دوره تناوب N باشد و همچنین فرض کنید $x[n]$ در یک دوره تناوب به صورت زیر باشد

$$x[n] = \begin{cases} \tilde{x}[n] & M \leq n \leq M + N - 1 \\ 0 & \text{در غیر اینصورت} \end{cases} \quad (۴۳-۴)$$

که در آن M یک عدد دلخواه است.

قبلاً نشان دادیم که

$$Na_k = X(k \frac{2\pi}{N}) \quad (۴۴-۴)$$

که در آن a_k ضرایب سری فوریه $\tilde{x}[n]$ و $X(\Omega)$ تبدیل فوریه $x[n]$ می باشد. بنابراین Na_k معادل است با نمونه های تبدیل فوریه در یک دوره تناوب. نکته دیگری که باید به آن توجه کرد این است که

فصل چهارم: تبدیل فوریه گسسته‌زمان

اگرچه شکل $x[n]$ و $X(\Omega)$ به انتخاب M وابسته است ولی مقادیر $X(\Omega)$ در فرکانسهای نمونه برداری $\frac{2\pi k}{N}$ به مقدار M بستگی ندارد. مثال (۴-۸): فرض کنیم دنباله تناوبی به صورت زیر تعریف گردد.

$$\tilde{x}[n] = \sum_{k=-\infty}^{+\infty} \delta[n - kN]$$

این دنباله در شکل (۴-۱۳-۲) رسم شده است. مطلوبست محاسبه ضرایب سری فوریه دنباله فوق. حل:

$$a_k = \frac{1}{N} \sum_{n \in \langle N \rangle} \tilde{x}[n] e^{-jk \frac{2\pi}{N} n}$$

اگر فاصله مجموع را $0 \leq n \leq N-1$ در نظر بگیریم، خواهیم داشت.

$$a_k = \frac{1}{N}$$

اکنون اگر $x_1[n]$ را به صورت رابطه (۴-۴۳) با $M = 0$ تعریف کنیم، داریم.

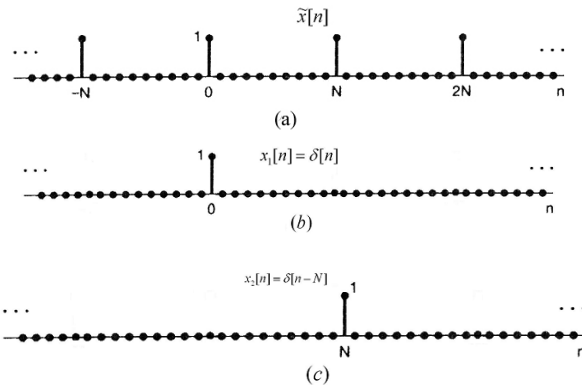
$$x_1[n] = \delta[n]$$

که در شکل (۴-۱۳-۲) رسم شده است.

تبدیل فوریه این دنباله به سادگی از تعریف تبدیل فوریه قابل محاسبه است.

$$X(\Omega) = \sum_{n=-\infty}^{+\infty} \delta[n] e^{-j\Omega n} = 1$$

در اینجا می‌بینیم که رابطه $a_k = \frac{1}{N}$ برقرار است. چون در اینجا $(X(\Omega))_{\Omega=k\frac{2\pi}{N}}$ مساوی واحد و مستقل از مقدار k است.



شکل (۴-۱۳): (a) قطار ضربه تناوبی گسسته زمانی (b, c) دو دنباله غیرتناوبی که هر کدام مساوی $\tilde{x}[n]$ در یک دوره تناوب دنباله هستند.

اکنون اگر $0 < M < N$ اختیار کنیم و سیگنال $x_2[n]$ را به صورت زیر تعریف کنیم.

$$x_2[n] = \delta[n - N] \quad (۴۵-۴)$$

که تبدیل فوریه آن نیز متفاوت خواهد بود.

$$X(\Omega) = e^{-j\Omega N} \quad (۴۶-۴)$$

ولی به هر حال در فرکانسهای نمونه برداری $k \frac{2\pi}{N}$ ، مقدار $e^{-j\Omega N}$ نیز مساوی واحد است. در اینصورت

نیز رابطه (۴۴-۴) در فرکانسهای $k \frac{2\pi}{N}$ برقرار است.

۴-۴-۲ تبدیل فوریه برای دنباله‌های متناوب

اکنون می‌خواهیم تبدیل فوریه دنباله‌های متناوب را بیابیم. برای شروع، ابتدا دنباله زیر را در نظر بگیرید.

$$x[n] = e^{j\Omega_0 n} \quad (۴۷-۴)$$

در حالت پیوسته زمان، دیدیم که تبدیل فوریه $e^{j\omega_0 t}$ یک ضربه در $\omega = \omega_0$ می‌باشد. بنابراین انتظار داریم که در حالت گسسته زمان نیز چنین شود. اما تبدیل فوریه در حالت گسسته زمان با دوره تناوب

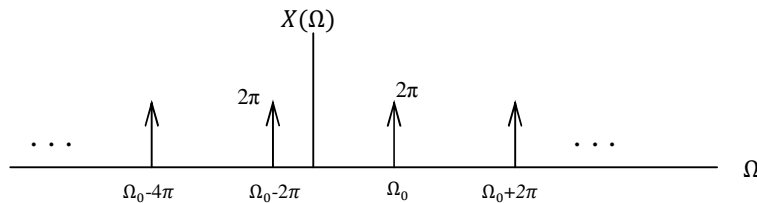
2π متناوب است، چون

$$e^{j\Omega_0 n} = e^{j(\Omega_0 + 2\pi r)n} \quad (۴۸-۴)$$

توجه شود که این تابع بر حسب Ω متناوب است، حتی اگر بر حسب n متناوب نباشد. بنابراین تبدیل فوریه (۴۸-۴) را باید به صورت (۴۹-۴) نوشت.

$$X(\Omega) = \sum_{l=-\infty}^{+\infty} 2\pi \delta(\Omega - \Omega_0 - 2\pi l) \quad (۴۹-۴)$$

که در شکل (۱۴-۴) نشان داده شده است.



شکل (۱۴-۴): تبدیل فوریه $x[n] = e^{j\Omega_0 n}$

جهت اطمینان از صحت رابطه می‌خواهیم تبدیل فوریه معکوس رابطه (۴۹-۴) را بیابیم.

$$x[n] = \frac{1}{2\pi} \int_{2\pi} X(\Omega) e^{j\Omega n} d\Omega = \frac{1}{2\pi} \int_{2\pi} \sum_{l=-\infty}^{+\infty} 2\pi \delta(\Omega - \Omega_0 - 2\pi l) e^{j\Omega n} d\Omega \quad (۵۰-۴)$$

توجه کنید که فاصله طیفی به طول 2π دقیقاً شامل یک ضربه است. بنابراین اگر ضربه را فقط در Ω_0 در نظر بگیریم، نتیجه (۵۰-۴) به صورت زیر خواهد بود.

$$x[n] = e^{j\Omega_0 n} \quad (۵۱-۴)$$

فصل چهارم: تبدیل فوریه گسسته‌زمان

در حالت کلی‌تر اگر $x[n]$ شامل مجموعی از نمایی‌های مختلط باشد.

$$x[n] = b_1 e^{j\Omega_1 n} + \dots + b_M e^{j\Omega_M n} \quad (52-4)$$

طبق (49-4) تبدیل فوریه (52-4) برابر است با (53-4)

$$X(\Omega) = b_1 \sum_{l=-\infty}^{+\infty} 2\pi \delta(\Omega - \Omega_1 - 2\pi l) + b_2 \sum_{l=-\infty}^{+\infty} 2\pi \delta(\Omega - \Omega_2 - 2\pi l) + \dots + b_M \sum_{l=-\infty}^{+\infty} 2\pi \delta(\Omega - \Omega_M - 2\pi l) \quad (53-4)$$

این رابطه به ما می‌گوید $X(\Omega)$ یک قطارضربه متناوب است که ضربه‌های آن در فرکانس‌های $\Omega_1, \dots, \Omega_M$ و در فاصله مضارب صحیحی از 2π قرار دارند. بنابراین هر فاصله 2π دقیقاً یک ضربه از هر یک از مجموعه‌های طرف راست در (53-4) را دارا خواهد بود.

توجه کنید که معادله (49-4) تبدیل فوریه دنباله مشخص شده توسط رابطه (47-4) است، چه این دنباله متناوب و چه غیرمتناوب باشد، یعنی چه Ω_0 را بتوان به صورت کسر گویایی از 2π نوشت و چه نتوان. به طور مشابه دنباله رابطه (52-4) فقط هنگامی تناوبی است که تمام Ω_0 ‌های آن را به صورت کسر گویایی از 2π بتوان نوشت.

اکنون فرض کنید $x[n]$ تناوبی با دوره تناوب N باشد، در اینصورت می‌توان $x[n]$ را به صورت سری فوریه نوشت.

$$x[n] = \sum_{k \leq N} a_k e^{jk(\frac{2\pi}{N})n} \quad (54-4)$$

اگر رابطه فوق را به صورت جمله به جمله بنویسیم، داریم.

$$x[n] = a_0 + a_1 e^{j(\frac{2\pi}{N})n} + a_2 e^{j2(\frac{2\pi}{N})n} + \dots + a_{N-1} e^{j(N-1)\frac{2\pi}{N}n} \quad (55-4)$$

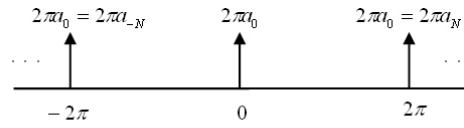
در مقایسه با (52-4) می‌توان تناظر زیر را میان Ω_i ‌ها و فرکانس‌های موجود در (54-4) ایجاد کرد.

$$\Omega_1 = 0, \Omega_2 = \frac{2\pi}{N}, \Omega_3 = 2\left(\frac{2\pi}{N}\right), \dots, \Omega_N = (N-1)\frac{2\pi}{N} \quad (56-4)$$

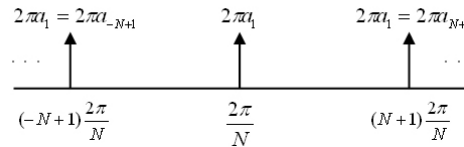
بنابراین از معادله (53-4) داریم.

$$X(\Omega) = a_0 \sum_{l=-\infty}^{+\infty} 2\pi \delta(\Omega - 2\pi l) + a_1 \sum_{l=-\infty}^{+\infty} 2\pi \delta(\Omega - \frac{2\pi}{N} - 2\pi l) + \dots + a_N \sum_{l=-\infty}^{+\infty} 2\pi \delta(\Omega - (N-1)\frac{2\pi}{N} - 2\pi l) \quad (57-4)$$

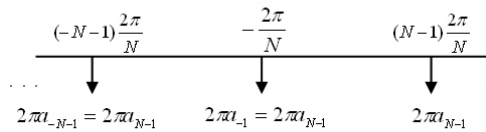
که در شکل (15-4) نمایش داده شده است.



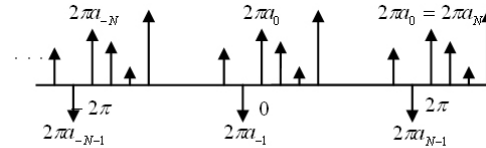
(a)



(b)



(c)



(d)

شکل (۴-۱۵): تبدیل فوریه سیگنال تناوبی گسسته زمان

در شکل (۴-۱۵-۲) اولین مجموع در سمت راست معادله (۴-۷۱) را رسم کرده‌ایم و از خاصیت تناوبی استفاده کردیم و نوشتیم.

$$a_0 = a_N = a_{-N} \quad (۴-۵۸)$$

در شکل (۴-۱۵-۲) اولین مجموع و در شکل (۴-۱۵-۳) آخرین مجموع را رسم کرده‌ایم. شکل (۴-۱۵-۲) مجموع کلی را برای $X(\Omega)$ نمایش می‌دهد.

$$X(\Omega) = \sum_{k=\langle N \rangle} a_k \sum_{l=-\infty}^{+\infty} 2\pi\delta(\Omega - k \frac{2\pi}{N} - 2\pi l) \quad (۴-۵۹)$$

$$= \sum_{k=\langle N \rangle} a_k \sum_{l=-\infty}^{+\infty} 2\pi\delta(\Omega - \frac{k - lN}{N} 2\pi)$$

در اینجا فقط با تغییر k می‌توان تمام جملات مجموع را ساخت یعنی می‌توان نوشت.

فصل چهارم: تبدیل فوریه گسسته‌زمان

$$X(\Omega) = \sum_{k=-\infty}^{+\infty} 2\pi a_k \delta\left(\Omega - \frac{2\pi k}{N}\right) \quad (۴-۶۰)$$

بنابراین (۴-۶۰) تبدیل فوریه دنباله متناوب $x[n]$ با ضرایب سری فوریه a_k می‌باشد. بدین ترتیب هر دو نوع دنباله‌های متناوب و غیرمتناوب در یک قالب قابل بیان توسط تبدیل فوریه می‌شوند. همه این مراحل مرهون تعریف تابع جادویی ضربه می‌باشند.

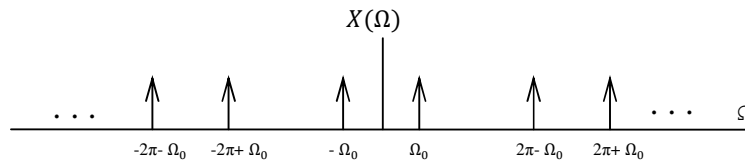
مثال (۴-۹): مطلوبست تبدیل فوریه دنباله متناوب زیر

$$x[n] = \cos \Omega_0 n = \frac{1}{2} e^{j\Omega_0 n} + \frac{1}{2} e^{-j\Omega_0 n}$$

حل: از معادله (۴-۵۳) بلافاصله داریم.

$$X(\Omega) = \sum_{l=-\infty}^{+\infty} \pi \{ \delta(\Omega - \Omega_0 - 2\pi l) + \delta(\Omega - \Omega_0 + 2\pi l) \}$$

که در شکل (۴-۱۶) رسم شده است.



شکل (۴-۱۶): تبدیل فوریه گسسته زمانی $x[n] = \cos \Omega_0 n$

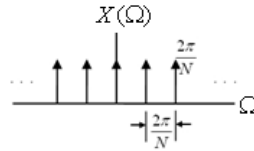
مثال (۴-۱۰): مطلوبست تبدیل فوریه دنباله زیر

$$x[n] = \sum_{k=-\infty}^{+\infty} \delta[n - kN]$$

حل: چون سیگنال تناوبی با دوره تناوب N است.

$$X(\Omega) = 2\pi \sum_{k=-\infty}^{+\infty} a_k \delta\left(\Omega - \frac{2\pi}{N} k\right) = 2\pi \sum_{k=-\infty}^{+\infty} \delta\left(\Omega - \frac{2\pi}{N} k\right)$$

که در شکل (۴-۱۷) رسم شده است. در اینجا مشاهده می‌شود که هر چه فاصله بین ضربه‌ها در زمان بیشتر می‌شود (دوره تناوب بیشتر می‌شود)، فاصله ضربه‌ها در حوزه فرکانس کمتر می‌گردد (فرکانس اصلی کمتر می‌شود) و این نتیجه‌ای آشنا می‌باشد که در حوزه پیوسته زمان نیز کم و بیش در مورد آن بحث شد. در واقع شدت تغییرات سیگنال (دنباله) در حوزه زمان بیانگر وجود مؤلفه‌های فرکانس بالا در حوزه فرکانس سیگنال (دنباله) می‌باشد. بنابراین برای یک دنباله تناوب با دوره تناوب کوچک می‌توان انتظار مؤلفه‌های فرکانس بالا در حوزه فرکانس را داشت و برعکس اگر دوره تناوب بزرگ باشد، می‌توان انتظار داشت که مؤلفه‌های فرکانس بالا کمتر شوند. در اینجا دوباره لازم به ذکر است که به علت متناوب بودن حوزه فرکانس برای دنباله‌های گسسته زمان، تعریف فرکانسهای پایین شامل ضرایب زوج π می‌باشد کمالینکه فرکانسهای بالا شامل ضرایب فرد از π است.



شکل (۴-۱۷): تبدیل فوریه قطار ضربه گسسته زمان

۴-۵ خواص تبدیل فوریه گسسته زمان

در این قسمت به بررسی چند خاصیت مهم از خواص تبدیل فوریه گسسته زمان می‌پردازیم. همانگونه که قبلاً اشاره شد برخی از این خواص بسیار مشابه خاصیت متناظر در مورد سیگنال‌های پیوسته زمان هستند. در برخی موارد میزان این شباهت به حدی است که می‌توان با توجه به خاصیت پیوسته زمان متناظر، مستقیماً خاصیت گسسته زمان را استخراج کرد.

اما در همه موارد وضع بدین صورت نیست و گاهی برخی خواص تبدیل فوریه گسسته زمان دارای تفاوت‌های اساسی با نوع پیوسته زمان هستند. اصولاً دلیل اصلی این تفاوت‌ها در تناوبی بودن تبدیل فوریه گسسته زمان نهفته است.

اگر تبدیل فوریه گسسته زمان $x[n]$ را $X(\Omega)$ بنامیم، جهت نمایش این رابطه و برای سهولت از علامت‌های زیر استفاده می‌کنیم.

$$\begin{aligned} X(\Omega) &= F\{x[n]\} \\ x[n] &= F^{-1}\{X(\Omega)\} \\ x[n] &\stackrel{F}{\Leftrightarrow} X(\Omega) \end{aligned} \quad (۴-۶۱)$$

همه علائم فوق معادل یکدیگر بوده و یک مفهوم را می‌رسانند.

۴-۵-۱ تناوبی بودن تبدیل فوریه گسسته زمان

همانطور که قبلاً گفتیم تبدیل فوریه گسسته زمان یک تابع پیوسته و متناوب از Ω می‌باشد که دوره تناوب آن 2π است.

$$X(\Omega) = X(\Omega + 2\pi r) \quad (۴-۶۲)$$

این خاصیت ارتباطی به نوع دنباله در حوزه زمان ندارد و یک خاصیت عمومی در حوزه فرکانس برای دنباله‌های گسسته زمان است.

۴-۵-۲ خطی بودن

اگر تبدیل فوریه دنباله گسسته زمان $x_i[n]$ را $X_i(\Omega)$ بنامیم، مثلاً اگر

$$x_1[n] \stackrel{F}{\Leftrightarrow} X_1(\Omega) \quad (۴-۶۳)$$

$$x_2[n] \stackrel{F}{\Leftrightarrow} X_2(\Omega) \quad (۴-۶۴)$$

در آن صورت

فصل چهارم: تبدیل فوریه گسسته زمان

$$a_1x_1[n] + bx_2[n] \stackrel{F}{\Leftrightarrow} a_1X_1(\Omega) + bX_2(\Omega) \quad (۶۵-۴)$$

همانگونه که در مورد خاصیت متناظر در حوزه پیوسته زمان بیان کردیم، خاصیت خطی بودن شامل دو خاصیت جمع آثار و همگن بودن است. خاصیت همگن بودن به صورت زیر قابل بیان است. اگر

$$X_i(\Omega) = F\{x_i[n]\} \quad (۶۶-۴)$$

در آن صورت تبدیل فوریه $ax_i[n]$ برابر است با

$$aX_i(\Omega) = F\{ax_i[n]\} \quad (۶۷-۴)$$

و همچنین خاصیت جمع آثار بیان می‌دارد که

$$F\{\sum x_i[n]\} = \sum F\{x_i[n]\} = \sum X_i(\Omega) \quad (۶۸-۴)$$

بنابراین در حالت کلی

$$\begin{aligned} F\{\sum a_i x_i[n]\} &= \sum F\{a_i x_i[n]\} = \sum a_i F\{x_i[n]\} \\ &= \sum a_i X_i(\Omega) \end{aligned} \quad (۶۹-۴)$$

عدم مشخص کردن حد مجموع به مفهوم دلخواه بودن آن است.

۴-۵-۳ تقارن

با توجه به رابطه تبدیل فوریه گسسته زمان به سادگی میتوان ثابت کرد که اگر $x[n]$ حقیقی باشد.

$$X(\Omega) = X^*(-\Omega) \quad (۷۰-۴)$$

اثبات: طبق تعریف تبدیل فوریه داریم.

$$X(\Omega) = \sum_{n=-\infty}^{+\infty} x[n]e^{-j\Omega n} \quad (۷۱-۴)$$

بنابراین

$$X^*(-\Omega) = \sum_{n=-\infty}^{+\infty} x^*[n]e^{-j\Omega n} \quad (۷۲-۴)$$

که اگر $x[n]$ حقیقی باشد رابطه فوق مساوی $X(\Omega)$ خواهد بود.

اگر تبدیل فوریه را طبق رابطه اولر بر حسب توابع سینوس و کسینوس بنویسیم، داریم.

$$X(\Omega) = \sum_{n=-\infty}^{+\infty} x[n]\cos\Omega n - j \sum_{n=-\infty}^{+\infty} x[n]\sin\Omega n$$

بنابراین رابطه دامنه و زاویه بصورت زیر بدست می‌آیند.

$$|X(\Omega)| = \sqrt{\left\{ \sum_{n=-\infty}^{+\infty} x[n]\cos\Omega n \right\}^2 + \left\{ \sum_{n=-\infty}^{+\infty} x[n]\sin\Omega n \right\}^2} \quad (۷۳-۴)$$

$$X(\Omega) = -\tan^{-1} \frac{\sum_{n=-\infty}^{+\infty} x[n]\sin\Omega n}{\sum_{n=-\infty}^{+\infty} x[n]\cos\Omega n} \quad (۷۴-۴)$$

از اینجا نتیجه می‌گیریم که قسمت حقیقی و دامنه $X(\Omega)$ تابعی زوج از Ω و قسمت موهومی و همچنین زاویه آن تابع فردی از Ω می‌باشد. بنابراین تبدیل فوریه قسمت‌های زوج و فرد $x[n]$ به ترتیب مساوی قسمت‌های حقیقی و موهومی $X(\Omega)$ خواهند بود.

$$\mathcal{E}\nu\{x[n]\} \stackrel{F}{\leftrightarrow} \Re\{X(\Omega)\} \quad (۷۵-۴)$$

$$\mathcal{O}d\{x[n]\} \stackrel{F}{\leftrightarrow} -j\Im\{X(\Omega)\} \quad (۷۶-۴)$$

اثبات: از بسط $x[n]$ به قسمت‌های زوج و فرد و از بسط $X(\Omega)$ به قسمت‌های حقیقی و موهومی داریم.

$$\begin{aligned} X(\Omega) &= \sum_{n=-\infty}^{+\infty} x[n]e^{-j\Omega n} = \sum_{n=-\infty}^{+\infty} [\mathcal{E}\nu\{x[n]\} + \mathcal{O}d\{x[n]\}]e^{-j\Omega n} \\ &= \sum_{n=-\infty}^{+\infty} \mathcal{E}\nu\{x[n]\}\cos\Omega n - j \sum_{n=-\infty}^{+\infty} \mathcal{O}d\{x[n]\}\sin\Omega n \\ &\quad - j \sum_{n=-\infty}^{+\infty} \mathcal{E}\nu\{x[n]\}\sin\Omega n + \sum_{n=-\infty}^{+\infty} \mathcal{O}d\{x[n]\}\cos\Omega n \\ &= \sum_{n=-\infty}^{+\infty} \mathcal{E}\nu\{x[n]\}\cos\Omega n - j \sum_{n=-\infty}^{+\infty} \mathcal{O}d\{x[n]\}\sin\Omega n \\ &= \Re\{X[\Omega]\} + j\Im\{X(\Omega)\} \end{aligned} \quad (۷۷-۴)$$

بنابراین روابط زیر را خواهیم داشت که مؤید ادعای ما می‌باشند.

$$\Re\{X[\Omega]\} = \sum_{n=-\infty}^{+\infty} \mathcal{E}\nu\{x[n]\}\cos\Omega n \quad (۷۸-۴)$$

$$\Im\{X[\Omega]\} = - \sum_{n=-\infty}^{+\infty} \mathcal{O}d\{x[n]\}\sin\Omega n \quad (۷۹-۴)$$

۴-۵-۴ انتقال در حوزه زمان و فرکانس

با توجه به رابطه تبدیل فوریه گسسته زمان می‌توان به سادگی تبدیل فویه دنباله انتقال داده شده در حوزه زمان را بدست آورد.

$$x[n-n_0] \stackrel{F}{\leftrightarrow} e^{-j\Omega n_0} X(\Omega) \quad (۸۰-۴)$$

همچنین می‌توان تبدیل را به صورت انتقالی از $X(\Omega)$ بدست آورد.

$$e^{j\Omega_0 n} x[n] \stackrel{F}{\leftrightarrow} X(\Omega - \Omega_0) \quad (۸۱-۴)$$

تمرین (۱-۴): روابط (۸۰-۴) و (۸۱-۴) را ثابت کنید.

۴-۵-۵ تفاضل و مجموع

فصل چهارم: تبدیل فوریه گسسته زمان

در حقیقت معادل انتگرال گیری در حوزه گسسته زمان، مجموع می باشد. متناظر با آن، معادل مشتق گیری در حوزه گسسته زمان، تفاضل می باشد. فرض کنید دنباله $x[n]$ دارای تبدیل فوریه $X(\Omega)$ باشد، در آن صورت با استفاده از خواص خطی بودن تبدیل فوریه و انتقال در حوزه زمان، می توان تبدیل فوریه تفاضل (به عنوان معادل گسسته زمان مشتق گیری) $x[n] - x[n-1]$ را به صورت زیر ارائه کرد.

$$x[n] - x[n-1] \xleftrightarrow{F} (1 - e^{-j\Omega}) X(\Omega) \quad (۸۲-۴)$$

اما مجموع زیر را در نظر بگیرید

$$y[n] = \sum_{m=-\infty}^n x[m] \quad (۸۳-۴)$$

چون

$$y[n] - y[n-1] = x[n] \quad (۸۴-۴)$$

شاید تصور کنیم که تبدیل فوریه $y[n]$ باید تبدیل فوریه $x[n]$ تقسیم بر $(1 - e^{-j\Omega})$ بشود. اما این فقط قسمتی از جواب است و جواب کلی باید شامل مولفه DC سیگنال هم بشود. پس

$$\sum_{m=-\infty}^n x[m] \xleftrightarrow{F} \frac{1}{1 - e^{-j\Omega}} X(\Omega) + \pi X(0) \sum_{k=-\infty}^{+\infty} \delta(\Omega - 2\pi k) \quad (۸۵-۴)$$

که جمله دوم یک مؤلفه DC در سیگنال می باشد.

تمرین (۲-۴): سعی کنید با ایجاد تناظر میان حالت پیوسته زمان و گسسته زمان رابطه (۸۵-۴) را استخراج کنید.

مثال (۱۲-۴): مطلوبست تبدیل فوریه دنباله $u[n]$.

حل: با توجه به (۸۵-۴) می توان تبدیل فوریه $u[n]$ را به عنوان مجموع $\delta[n]$ بدست آورد، چون

$$u[n] = \sum_{k=-\infty}^n \delta[k]$$

و چون تبدیل فوریه $\delta[n]$ برابر واحد است، داریم.

$$F\{u[n]\} = \frac{1}{1 - e^{-j\Omega}} + \pi \sum_{k=-\infty}^{+\infty} \delta(\Omega - k2\pi)$$

۴-۵-۶ مقیاس بندی در حوزه زمان و فرکانس

به خاطر ماهیت گسسته مقادیر متغیر مستقل، در مورد دنباله های گسسته زمان خاصیت مقیاس بندی باید به گونه ای دیگر برای این نوع دنباله ها تعریف شود. ابتدا فرض کنید $y[n] = x[-n]$ باشد، در این صورت داریم.

$$Y(\Omega) = \sum_{n=-\infty}^{+\infty} x[-n] e^{-j\Omega n} \quad (۸۶-۴)$$

با تغییر متغیر $m = -n$ داریم.

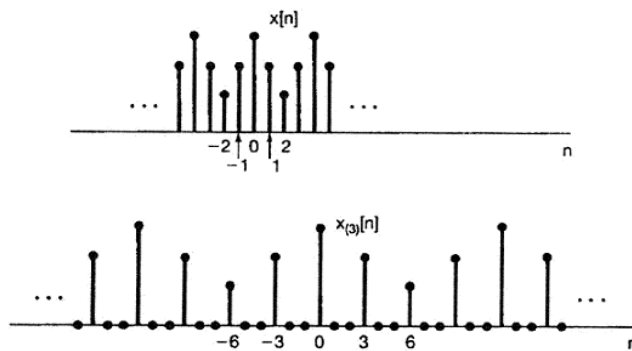
$$Y(\Omega) = \sum_{n=-\infty}^{+\infty} x[n]e^{j\Omega n} = X(-\Omega) \quad (۸۷-۴)$$

اگر چه رابطه فوق مشابه رابطه متناظر پیوسته زمان آن است، اما تفاوت‌های اصلی هنگامی ظاهر می‌شوند که بخواهیم مقیاس‌بندی دنباله‌های گسسته زمان را تعریف کنیم. همانگونه که قبلاً نشان دادیم در مورد دنباله‌های گسسته زمان نتیجه عملیات مقیاس‌بندی لزوماً مشابه دنباله اصلی نیست و گاهی بسیار متفاوت است. بنابراین نباید انتظار داشت که در حالت کلی میان تبدیل فوریه یک دنباله و تبدیل فوریه دنباله مقیاس‌بندی شده، یک رابطه مشخص وجود داشته باشد. در حالت پیوسته در حقیقت $x(at)$ اگر $a < 1$ باشد یک نمونه سیگنال مشابه $x(t)$ است که فقط تغییرات آن روی محور زمان آهسته‌تر شده (در حوزه زمان سیگنال بازر شده) است. همین سیگنال اگر $a > 1$ باشد، هنوز مشابه سیگنال $x(t)$ است و فقط تغییرات آن روی محور زمان سریعتر شده (در حوزه زمان سیگنال بسته‌تر شده) است.

اما ارتباط $x[n]$ و $x[an]$ به این سادگی نیست. به عبارت دیگر $x[an]$ نمی‌تواند در حالت کلی بیانگر یک دنباله با تغییراتی مشابه $x[n]$ باشد. بنابراین نمی‌توانیم تغییرات حوزه زمانی دنباله $x[n]$ را با انتخاب $a < 1$ آهسته‌تر کنیم. و یا اینکه اگر $a > 1$ را عدد صحیح بگیریم (مثلاً $a = 2$) در واقع دنباله را در حوزه زمان بازر نکرده‌ایم، چون n فقط اعداد صحیح را اختیار می‌کند. بنابراین دنباله $x[2n]$ فقط شامل نمونه‌های زوج $x[n]$ خواهد بود. برای اینکه رفتار دنباله مقیاس‌بندی شده شبیه رفتار دنباله اصلی باشد، دنباله $x_k[n]$ را به صورت زیر تعریف می‌کنیم.

$$x_{(k)}[n] = \begin{cases} x[\frac{n}{k}] & \text{اگر } n \text{ مضربی از } k \text{ باشد} \\ 0 & \text{اگر } n \text{ مضربی از } k \text{ نباشد} \end{cases} \quad (۸۸-۴)$$

به عنوان مثال در شکل (۴-۱۹) $x[n]$ و $x_{(3)}[n]$ نمایش داده شده است



شکل (۴-۱۸): دنباله $x_{(3)}[n]$ که از $x[n]$ با قرار دادن دو صفر بین مقادیر متوالی دنباله اصلی بدست آمده است.

فصل چهارم: تبدیل فوریه گسسته زمان

بنابراین $x_{(k)}[n]$ از $x[n]$ با قرار دادن $k-1$ صفر بین مقادیر مختلف دنباله اصلی بدست می‌آید. بنابراین می‌توان $x_{(k)}[n]$ را شکل آهسته‌تر $x[n]$ فرض کرد. در این صورت می‌توان رابطه‌ای میان تبدیل فوریه این دو دنباله بدست آورد. بنابراین داریم

$$\begin{aligned} X_{(k)}(\Omega) &= \sum_{n=-\infty}^{+\infty} x_{(k)}[n]e^{-j\Omega n} = \sum_{r=-\infty}^{+\infty} x_{(k)}[kr]e^{-j\Omega kr} \\ &= \sum_{r=-\infty}^{+\infty} x[r]e^{-j(k\Omega)r} = X(k\Omega) \end{aligned} \quad (۸۹-۴)$$

بنابراین تبدیل فوریه $x_{(k)}[n]$ برابر است با

$$x_{(k)}[n] \stackrel{F}{\leftrightarrow} X(k\Omega) \quad (۹۰-۴)$$

این نتیجه با توجه به خاصیت دوگانی حوزه‌های زمان و فرکانس کاملاً قابل توجیه است. به عبارت دیگر چون $x_{(k)}[n]$ در حقیقت شکل بازتر $x[n]$ است، انتظار داریم که تبدیل فوریه آن شکل فشرده‌تر تبدیل فوریه دنباله اصلی باشد.

۷-۵-۴ مشتق‌گیری در حوزه فرکانس

با مشتق‌گیری از رابطه تبدیل فوریه گسسته زمان داریم.

$$\frac{dX(\Omega)}{d\Omega} = - \sum_{n=-\infty}^{+\infty} jnx[n]e^{-j\Omega} \quad (۹۱-۴)$$

بنابراین $\frac{dX(\Omega)}{d\Omega}$ تبدیل فوریه $-jnx[n]$ می‌باشد یا

$$-jnx[n] \stackrel{F}{\leftrightarrow} \frac{dX(\Omega)}{d\Omega} \quad (۹۲-۴)$$

۸-۵-۴ قضیه پارسوال

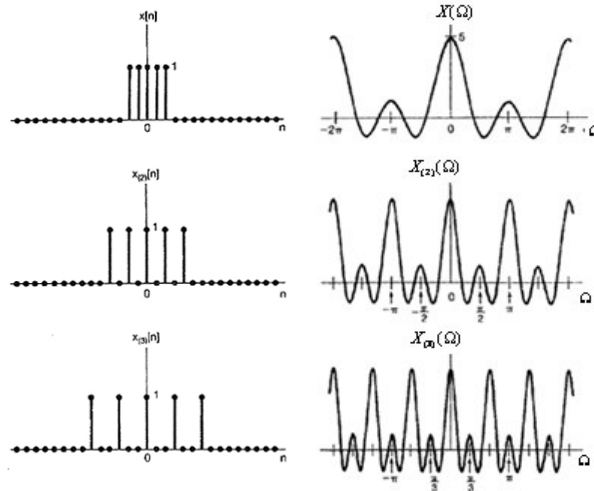
همانگونه که قبلاً بیان گردید، رابطه پارسوال بیانگر تساوی انرژی موجود در حوزه زمان و فرکانس برای یک دنباله می‌باشد.

$$\sum_{n=-\infty}^{+\infty} |x[n]|^2 = \frac{1}{2\pi} \int_{-\pi}^{\pi} |X(\Omega)|^2 d\Omega \quad (۹۳-۴)$$

اثبات: با توجه به اینکه $|x[n]|^2 = x[n]x^*[n]$ و با توجه به رابطه تبدیل معکوس فوریه در حوزه گسسته زمان، می‌توان نوشت.

$$\sum_{n=-\infty}^{+\infty} |x[n]|^2 = \sum_{n=-\infty}^{+\infty} \frac{1}{2\pi} x[n] \int_{-\pi}^{\pi} X^*(\Omega)e^{-j\Omega n} d\Omega \quad (۹۴-۴)$$

با تغییر ترتیب انتگرال و مجموع داریم.



شکل (۹۴-۱): ارتباط بین حوزه‌های زمان و فرکانس؛ با افزایش k ، بازتر می‌شود ولی تبدیل فوریه آن فشرده‌تر می‌شود.

$$\sum_{n=-\infty}^{+\infty} |x[n]|^2 = \frac{1}{2\pi} \int_{-\infty}^{+\infty} X^*(\Omega) d\Omega \sum_{n=-\infty}^{+\infty} x[n] e^{-j\Omega n} \quad (۹۵-۴)$$

$$= \frac{1}{2\pi} \int_{-\infty}^{+\infty} |X(\Omega)|^2 d\Omega$$

به $|X(\Omega)|^2$ طیف چگالی انرژی نیز گفته می‌شود. انرژی در دنباله متناوب بینهایت است و رابطه پارسوال به شکل (۹۵-۴) در مورد این دنباله‌ها مفید نخواهد بود. برای دنباله‌های متناوب قضیه پارسوال به صورت زیر بیان می‌شود.

$$\frac{1}{N} \sum_{n \in \langle N \rangle} |x[n]|^2 = \sum_{k \in \langle N \rangle} |a_k|^2 \quad (۹۶-۴)$$

تمرین (۴-۳): رابطه فوق را با توجه به تعریف توان در مورد دنباله‌های متناوب ثابت کنید.

۹-۵-۴ خاصیت کانولوشن

قبلاً راجع به خاصیت مهم تبدیل فوریه در تبدیل عمل کانولوشن به عمل ضرب صحبت کرده‌ایم. اگر ورودی سیستمی باشد که پاسخ ضربه آن $h[n]$ است، در این صورت خروجی از رابطه کانولوشن بدست می‌آید که جهت یاد آوری، دوباره تکرار می‌شود.

$$y[n] = x[n] * h[n] \quad (۹۷-۴)$$

در آن صورت می‌توان ارتباط بین تبدیل فوریه دنباله‌های ورودی، خروجی و پاسخ ضربه را به صورت زیر نوشت.

$$Y(\Omega) = X(\Omega)H(\Omega) \quad (۹۸-۴)$$

$H(\Omega)$ را پاسخ حوزه فرکانس یا تابع انتقال سیستم گسسته می‌گویند. رابطه (۹۸-۴) قبلاً در مورد سیگنال‌های پیوسته زمان ثابت شده است و اکنون این رابطه را برای حالت گسسته زمان ثابت می‌کنیم.

اثبات: همانطور که می‌دانیم جمع کانولوشن به صورت زیر بیان می‌شود.

$$y[n] = \sum_{k=-\infty}^{+\infty} x[n-k]h[k] \quad (۹۹-۴)$$

اگر طرفین رابطه (۹۹-۴) را در $e^{-j\Omega n}$ ضرب کرده و روی n از $-\infty$ تا $+\infty$ جمع بزنیم، داریم.

$$\sum_{n=-\infty}^{+\infty} y[n]e^{-j\Omega n} = \sum_{n=-\infty}^{+\infty} \sum_{k=-\infty}^{+\infty} h[n-k]x[k]e^{-j\Omega n} \quad (۱۰۰-۴)$$

از تغییر مرتبه مجموع می‌توان طرف دوم رابطه (۱۰۰-۴) را به صورت (۱۰۱-۴) نوشت

$$\sum_{k=-\infty}^{+\infty} x[k] \sum_{n=-\infty}^{+\infty} h[n-k]e^{-j\Omega n} \quad (۱۰۱-۴)$$

با تغییر متغیر $n-k = m$ رابطه (۱۰۱-۴) به رابطه (۱۰۲-۴) تبدیل می‌شود.

$$\begin{aligned} & \sum_{k=-\infty}^{+\infty} x[k] \sum_{m=-\infty}^{+\infty} h[m]e^{-j\Omega(m+k)} \\ &= \sum_{k=-\infty}^{+\infty} x[k]e^{-j\Omega k} \sum_{m=-\infty}^{+\infty} h[m]e^{-j\Omega m} \end{aligned} \quad (۱۰۲-۴)$$

بنابراین رابطه (۹۸-۴) حاصل می‌شود و اثبات کامل می‌گردد.

مثال (۱۳-۴): یک سیستم LTI با پاسخ ضربه‌ای به صورت زیر را در نظر بگیرید

$$h[n] = \delta[n - n_0]$$

مطلوبست تعیین رابطه ورودی و خروجی سیستم مذکور.

حل: پاسخ فرکانسی سیستم مذکور به صورت زیر است.

$$H(\Omega) = e^{-j\Omega n_0}$$

بنابراین برای هر ورودی $x[n]$ با تبدیل فوریه $X(\Omega)$ ، تبدیل فوریه خروجی برابر است با

$$Y(\Omega) = e^{-j\Omega n_0} X(\Omega)$$

بنابراین می‌توان رابطه ورودی و خروجی سیستم را به این صورت نوشت.

$$y[n] = x[n - n_0]$$

مثال (۱۴-۴): فرض کنید پاسخ ضربه یک سیستم به صورت زیر باشد.

$$h[n] = \alpha^n u[n]$$

اگر ورودی این سیستم به صورت زیر در نظر گرفته شود، مطلوبست تعیین خروجی سیستم.

$$x[n] = \beta^n u[n]$$

فصل چهارم: تبدیل فوریه گسسته‌زمان

حل: طی مراحل زیر می‌توان پاسخ را در حوزه زمان و فرکانس بدست آورد. ابتدا تابع انتقال فرکانسی سیستم محاسبه می‌گردد و سپس تبدیل فوریه ورودی بدست می‌آید.

$$H(\Omega) = \frac{1}{1 - \alpha e^{-j\Omega}}$$

$$X(\Omega) = \frac{1}{1 - \beta e^{-j\Omega}}$$

در نهایت حاصل ضرب تابع انتقال در تبدیل فوریه ورودی محاسبه می‌شود.

$$Y(\Omega) = \frac{1}{(1 - \alpha e^{-j\Omega})(1 - \beta e^{-j\Omega})}$$

اگر $\alpha \neq \beta$ باشد، می‌توان $Y(\Omega)$ را به صورت زیر نوشت.

$$Y(\Omega) = \frac{A}{1 - \alpha e^{-j\Omega}} + \frac{B}{1 - \beta e^{-j\Omega}}$$

که در آن

$$A = \frac{\alpha}{\alpha - \beta}, \quad B = -\frac{\beta}{\alpha - \beta}$$

بنابراین $y[n]$ برابر است با

$$\begin{aligned} y[n] &= A\alpha^n u[n] + B\beta^n u[n] \\ &= \frac{1}{\alpha - \beta} [\alpha^{n+1} u[n] - \beta^{n+1} u[n]] \end{aligned}$$

اما اگر $\alpha = \beta$ باشد.

$$Y(\Omega) = \left(\frac{1}{1 - \alpha e^{-j\Omega}} \right)^2$$

که می‌توان آن را به صورت زیر نوشت.

$$Y(\Omega) = \frac{e^{j\Omega}}{-j\alpha} \frac{d}{d\Omega} \left(\frac{1}{1 - \alpha e^{-j\Omega}} \right)$$

بنابراین داریم.

$$y[n] = \frac{j}{\alpha} [-j(n+1)\alpha^{n+1} u[n+1]]$$

و یا

$$y[n] = (n+1)\alpha^n u[n+1]$$

از آنجائیکه فاکتور $n+1$ برای $n = -1$ مساوی صفر است، می‌توان نوشت.

$$y[n] = (n+1)\alpha^n u[n]$$

همانطوریکه قبلاً گفتیم عملکرد $h[n]$ در سیستم‌های گسسته همانند عملکرد $h(t)$ در سیستم‌های پیوسته زمان است. بنابراین باید بتوان کلیه خواص سیستم از قبیل پایداری، علیت، حافظه‌دار بودن را از

روی این پاسخ بدست آورد. به عنوان مثال، یک سیستم گسسته، پایدار است وقتی که پاسخ ضربه آن در رابطه زیر صدق کند.

$$\sum_{n=-\infty}^{+\infty} |h[n]| < \infty \quad (۱۰۳-۴)$$

به عنوان مثال سیستمی با پاسخ ضربه $h[n] = z^n$ هرگز پایدار نخواهد بود. در نتیجه برای چنین سیستمی تبدیل فوریه $h[n]$ واگرا خواهد بود. بنابراین در حالت کلی شرط لازم برای وجود یا همگرایی تبدیل فوریه هر دنباله گسسته زمان $x[n]$ این است که در رابطه (۱۰۳-۴) صدق کند.

۴-۵-۱۰ کانولوشن تناوبی^۵

خاصیت کانولوشن آنگونه که قبلاً مطرح شد، قابل اعمال برای دو دنباله متناوب نیست. چون در آن حالت جمع کانولوشن همگرا نخواهد شد. اما در اینجا کانولوشن تناوبی برای دو دنباله $\tilde{x}_2[n], \tilde{x}_1[n]$ که هر دو با دوره تناوب مشترک N متناوب هستند را به صورت زیر تعریف می کنیم.

$$\tilde{y}[n] = \tilde{x}_1[n] \otimes \tilde{x}_2[n] = \sum_{m=\langle N \rangle} \tilde{x}_1[m] \tilde{x}_2[n-m] \quad (۱۰۴-۴)$$

کاربرد معادله فوق را در شکل (۴-۲۱) نمایش داده شده است. سیگنال های $\tilde{x}_2[n-m], \tilde{x}_1[m]$ همانند کانولوشن معمولی در یکدیگر ضرب می شوند. توجه کنید که چون دو دنباله روی محور n با دوره تناوب N تناوبی هستند بنابراین حاصلضرب آن دو نیز روی محور n با دوره تناوب N متناوب است. همچنین توجه کنید که مجموع در یک دوره تناوب محاسبه می شود. برای محاسبه $\tilde{y}[n]$ برای مقادیر متوالی $n, \tilde{x}_2[n-m]$ انتقال داده می شود با فرض اینکه m محور زمان است و با خارج شدن تدریجی یک دوره تناوب از فاصله مجموع، دوره تناوب دیگر وارد فاصله مشخص شده، می شود. بنابراین با افزایش n به اندازه N واحد، $\tilde{x}_2[n-m]$ به اندازه یک دوره تناوب کامل انتقال داده می شود و از اینجا می توان گفت که $\tilde{y}[n+N] = \tilde{y}[n]$ یا به عبارت دیگر $\tilde{y}[n]$ نیز با دوره تناوب N متناوب است. نتایج حاصل بستگی به انتخاب محل حدود مجموع ندارد و فقط باید حد مجموع یک دوره تناوب را شامل شود. برای کانولوشن تناوبی، خاصیت کانولوشن که قبلاً مطرح شد را می توان برحسب ضرایب سری فوریه مستقیماً بیان کرد، که در آن a_k, b_k, c_k به ترتیب ضرایب سری های فوریه، $\tilde{x}_2[n], \tilde{x}_1[n]$ می باشند.

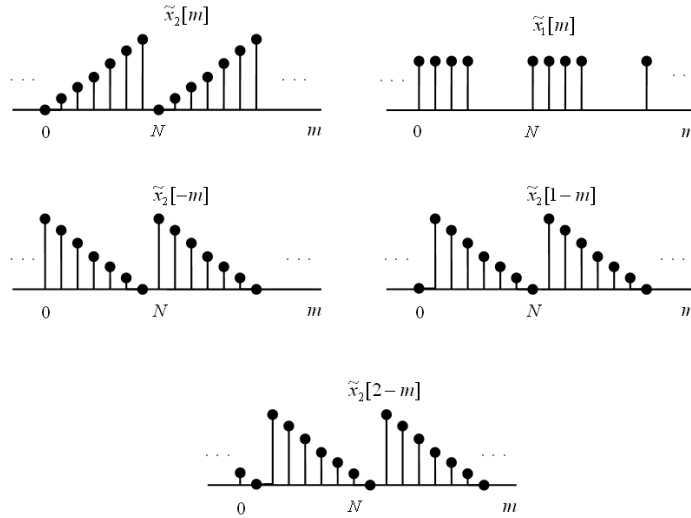
$$c_k = N a_k b_k \quad (۱۰۵-۴)$$

اثبات: اگر $\tilde{x}_1[n]$ و $\tilde{x}_2[n]$ به ترتیب دارای ضرایب سری فوریه a_k و b_k باشند، داریم (دوره تناوب هر دنباله N است).

$$\tilde{y}[n] = \sum_{k=\langle N \rangle} \tilde{x}_1[k] \tilde{x}_2[n-k] \quad (۱۰۶-۴)$$

⁵ Periodic Convolution

فصل چهارم: تبدیل فوریه گسسته‌زمان



شکل (۴-۲۰) مراحل شکل‌گیری کانولوشن تناوبی در دنباله تناوبی

$$\tilde{x}_1[n] = \sum_{m=\langle N \rangle} a_m e^{jm(\frac{2\pi}{N})n} \quad (107-4)$$

$$\tilde{x}_2[n] = \sum_{r=\langle N \rangle} b_r e^{jr(\frac{2\pi}{N})n}$$

حدود مجموع را به صورت زیر انتخاب می‌کنیم.

$$0 < r < N-1 \quad (108-4)$$

$$0 < m < N-1$$

با قرار دادن (۴-۱۰۷) و (۴-۱۰۸) در (۴-۱۰۶) داریم.

$$\begin{aligned} \tilde{y}[n] &= \sum_{k=\langle N \rangle} \sum_{m=0}^{N-1} a_m e^{j(\frac{2\pi}{N})mk} \sum_{r=0}^{N-1} b_r e^{jr(\frac{2\pi}{N})(n-k)} \\ &= \sum_{k=\langle N \rangle} \sum_{m=0}^{N-1} \sum_{r=0}^{N-1} a_m b_r e^{jr(\frac{2\pi}{N})n} e^{jk(\frac{2\pi}{N})(m-r)} \end{aligned} \quad (109-4)$$

با تغییر ترتیب مجموع داریم.

$$\tilde{y}[n] = \sum_{m=0}^{N-1} \sum_{r=0}^{N-1} a_m b_r e^{jr\frac{2\pi}{N}n} \sum_{k=\langle N \rangle} e^{jk\frac{2\pi}{N}(m-r)} \quad (110-4)$$

می‌بینیم مجموع آخر یعنی مجموعی که روی k عمل می‌کند، همواره مساوی صفر است مگر به ازاء $m=r$ در این حالت مقدار آن مساوی N می‌گردد که این مطلب تاکنون بارها مشاهده شده است. بنابراین می‌توان مجموع روی m و r را به یک مجموع تبدیل کرد و نوشت.

$$\tilde{y}[n] = \sum_{m=0}^{N-1} a_m b_m e^{jm\frac{2\pi}{N}n} N \quad (111-4)$$

اما سری فوریه $\tilde{y}[n]$ به صورت زیر است.

$$\tilde{y}[n] = \sum_{m=0}^{N-1} c_m e^{jm \frac{2\pi}{N} n} \quad (112-4)$$

از مقایسه (۱۱۱-۴) با (۱۱۲-۴) رابطه (۱۱۳-۴) را نتیجه می‌گیریم.

$$c_k = N a_k b_k \quad (113-4)$$

۴-۵-۱۱ تبدیل فوریه گسسته DFT^۶

همانگونه که گفتیم از مزیت‌های عمده روش‌های گسسته زمان بر پیوسته زمان وجود روش‌های مناسب و سریع در تجزیه و تحلیل دنباله‌ها و سیستم‌های گسسته زمان می‌باشد. با توجه به کاربرد روزافزون رایانه در علوم مهندسی می‌توان با سرعت و دقت مطلوب هرگونه عملیات دلخواهی را روی دنباله‌ها و سیستم‌های گسسته زمان از قبیل کانولوشن و غیره را انجام داد. در میان روش‌های مختلف تحلیل، روشی مناسب جهت استفاده در رایانه‌های دیجیتال بنام DFT وجود دارد که تحقق آن به روش سخت‌افزاری و یا نرم‌افزاری نیز بسیار ساده است. DFT نوعی تبدیل فوریه برای دنباله‌های دوره محدود به شمار می‌رود که در حقیقت نمونه‌های تبدیل فوریه گسسته زمان یا DTFT در فرکانس‌های $k \frac{2\pi}{N}$ می‌باشد و در جای خود نحوه انتخاب N به تفصیل مورد بررسی قرار می‌گیرد.

تعریف DFT

فرض کنید $x[n]$ دنباله‌ای با دوره محدود باشد، بنابراین یک عدد N_1 را می‌توان به قسمی یافت که

$$x[n] = 0 \quad n > N_1 - 1 \quad \text{و} \quad n < 0 \quad (114-4)$$

اکنون می‌توان دنباله تناوبی $\tilde{x}[n]$ را به قسمی تعریف کرد که در یک دوره تناوب مساوی $x[n]$ باشد.

اگر $N \geq N_1$ باشد و $\tilde{x}[n]$ با دوره تناوب N متناوب باشد، داریم.

$$\tilde{x}[n] = x[n] \quad 0 \leq n \leq N - 1 \quad (115-4)$$

ضرایب سری فوریه برای $\tilde{x}[n]$ با رابطه زیر داده می‌شوند.

$$\begin{aligned} a_k &= \frac{1}{N} \sum_{n=-\infty}^{\infty} \tilde{x}[n] e^{-jk \left(\frac{2\pi}{N}\right) n} \\ &= \frac{1}{N} \sum_{n=0}^{N-1} x[n] e^{-jk \left(\frac{2\pi}{N}\right) n} \end{aligned} \quad (116-4)$$

N جمله اول از مجموع ضرایب که بوسیله (۱۱۶-۴) نمایش داده می‌شوند، را DFT مربوط به $x[n]$

می‌نامند که آن را با $\tilde{X}[k]$ نمایش می‌دهند.

$$\tilde{X}[k] = a_k = \frac{1}{N} \sum_{n=0}^{N-1} x[n] e^{-jk \left(\frac{2\pi}{N}\right) n} \quad k = 0, \dots, N - 1 \quad (117-4)$$

⁶ Discrete Fourier Transform

اهمیت عملی DFT در این است که از روی آن می‌توان دنباله اصلی دوره محدود را بازسازی کرد. از معادله (۴-۲۲) که برای دنباله متناوب $\tilde{x}[n]$ نوشتیم، می‌توان $\tilde{x}[n]$ را از روی a_k بدست آورد. بنابراین از معادلات (۴-۱۱۵) و (۴-۱۱۷) می‌توان رابطه (۴-۱۱۸) را بدست آورد

$$x[n] = \sum_{k=0}^{N-1} \tilde{X}[k] e^{jk \left(\frac{2\pi}{N}\right)n} \quad n = 0, 1, \dots, N-1 \quad (4-118)$$

رابطه (۴-۱۱۸) را رابطه معکوس DFT یا (IDFT) می‌نامند. بنابراین یک دنباله دوره محدود را می‌توان به عنوان مجموعه‌ای محدود از مقادیر غیرصفر و یا به عنوان مجموعه‌ای محدود از $\tilde{X}[k]$ در DFT تصور کرد، به عبارت دیگر این تناظر یک‌به‌یک است.

اهمیت دوم DFT این است که الگوریتم‌های سریعی چون FFT برای محاسبه آن وجود دارد. می‌توان نشان داد که $\tilde{X}[k]$ در واقع با یک نمونه‌برداری در حوزه فرکانس از $X(\Omega)$ بدست می‌آید، که در

فرکانسهای متوالی $\frac{2\pi k}{N}$ برداشته می‌شوند. یعنی

$$\tilde{X}[k] = \frac{1}{N} X\left(\frac{2\pi k}{N}\right) \quad \text{در یک دوره تناوب } 2\pi \quad (4-119)$$

برای این کار به جای Ω در رابطه تبدیل فوریه مقدار $k \frac{2\pi}{N}$ را قرار می‌دهیم.

$$X(\Omega) = \sum_{n=-\infty}^{\infty} x[n] e^{-j\Omega n} \quad (4-120)$$

$$X\left(\frac{2\pi k}{N}\right) = \sum_{n=-\infty}^{\infty} x[n] e^{-jk \frac{2\pi}{N} n} \quad (4-121)$$

با مقایسه این رابطه با رابطه زیرمی‌توان به نتیجه مورد نظر رسید.

$$\tilde{X}(k) = \left(\frac{1}{N}\right) \sum_{n=0}^{N-1} x[n] e^{-jk \frac{2\pi}{N} n} \quad (4-122)$$

اما چون $x[n]$ فقط در دوره $0 \leq n \leq N_1 < N$ است، مقدار غیرصفر دارد می‌توان رابطه (۴-۱۲۲) را به صورت (۴-۱۲۳) نوشت.

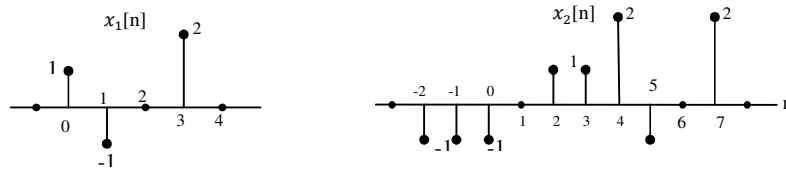
$$\tilde{X}(k) = \frac{1}{N} \sum_{n=-\infty}^{\infty} x[n] e^{-jk \left(\frac{2\pi}{N}\right)n} \quad (4-123)$$

که این همان رابطه (۴-۱۱۹) است.

باید دقت کرد که دوره تناوب نمونه‌برداری در حوزه فرکانس بگونه‌ای باشد که $N > N_1$ شود. در

غیراینصورت در بازسازی $x[n]$ از $X\left(\frac{2\pi k}{N}\right)$ یا $\tilde{X}(k)$ دچار اشتباه خواهیم شد.

برای روشن شدن مطلب دو دنباله $x_1[n], x_2[n]$ را در نظر بگیرید.

شکل (۴-۲۱): نمایش دنباله‌های $x_1[n]$, $x_2[n]$ در حوزه زمان

تبدیل فوریه $X_1(\Omega)$ و $X_2(\Omega)$ به سادگی قابل محاسبه می‌باشند.

$$\begin{aligned} X_1(\Omega) &= 1 - e^{-j\Omega} + 2e^{-j3\Omega} \\ X_2(\Omega) &= -e^{j2\Omega} - e^{j\Omega} - 1 + e^{-j2\Omega} + e^{-j3\Omega} \\ &\quad + 2e^{-j4\Omega} - e^{-j5\Omega} + 2e^{-j7\Omega} \end{aligned} \quad (۴-۱۲۴)$$

اگر دوره تناوب نمونه‌برداری را $N = 4$ در نظر بگیریم به ازاء جمیع مقادیر k رابطه زیر را داریم.

$$X_1\left(\frac{2\pi}{4}k\right) = X_2\left(\frac{2\pi}{4}k\right) \quad (۴-۱۲۵)$$

چون

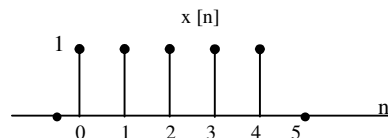
$$X_1\left(\frac{2\pi}{4}k\right) = 1 - e^{-j\frac{\pi k}{2}} + 2e^{-j\frac{3\pi k}{2}} \quad (۴-۱۲۶)$$

$$X_2\left(\frac{2\pi}{4}k\right) = -e^{jk\pi} - e^{j\frac{\pi k}{2}} - 1 + e^{-jk\pi} + e^{-j\frac{3\pi k}{2}} \quad (۴-۱۲۷)$$

$$+ 2e^{-j2k\pi} - e^{-j\frac{5\pi k}{2}} + 2e^{-j\frac{7\pi k}{2}} = 1 - e^{-j\frac{\pi k}{2}} + 2e^{-j\frac{3\pi k}{2}}$$

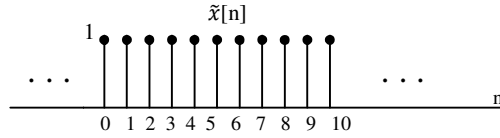
بنابراین نمونه‌های بدست آمده از طیف هر دو دنباله یکسان هستند. بنابراین اگر چه از این نمونه‌ها می‌توان دوباره $x_1[n]$ را بازسازی کرد چون دوره تناوب آن ۴ است، ولی نمی‌توان $x_2[n]$ را بازسازی کرد چون دوره تناوب آن ۱۰ است. بنابراین اگر بخواهیم نمونه‌های برداشته شده از $X_2(\Omega)$ به طور یکتا $x_2[n]$ را بازسازی کند. لازم است حداقل $N \geq 10$ شود.

مثال (۴-۱۵): ضرایب DFT مربوط به دنباله $x[n]$ که در شکل (۴-۲۳) نمایش داده شده است را بیابید.

شکل (۴-۲۲) دنباله مربعی $x[n]$

حل: اگر دنباله متناوب $\tilde{x}[n]$ را از روی $x[n]$ با دوره تناوب $N = 5$ بسازیم دنباله شکل (۴-۲۴) حاصل می‌شود. در این صورت ضرایب سری فوریه دنباله متناوب $\tilde{x}[n]$ به صورت (۴-۱۲۵) بدست می‌آیند.

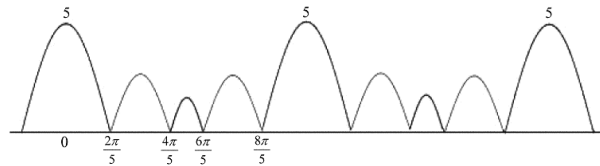
فصل چهارم: تبدیل فوریه گسسته زمان



شکل (۲۳-۴): دنباله متناوب که از روی $x[n]$ با دوره تناوب $N = 5$ ساخته شده است.

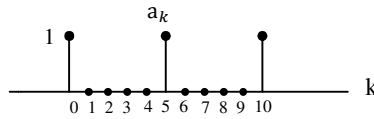
$$a_k = \frac{1}{5} \sum_{n=0}^4 e^{-jk(\frac{2\pi}{5}k)n} = \begin{cases} 1 & k = 0, \pm 5, \pm 10, \dots \\ 0 & \text{در غیر این صورت} \end{cases} \quad (۱۲۸-۴)$$

و البته می‌توان این ضرایب را به صورت نمونه‌های $F(x[n]) = X(\Omega)$ در فرکانس‌های $\Omega = k \frac{2\pi}{5}$ از $k = 1, 2, 3, \dots$ بدست آورد. قبلاً دیدیم که قدر مطلق تبدیل فوریه گسسته زمانی $x[n]$ به صورت زیر است.



شکل (۲۴-۴): طیف دامنه $|X(\Omega)|$

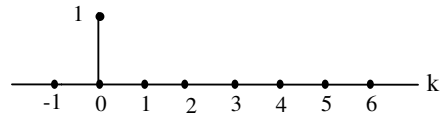
می‌توان به سادگی a_k را بدست آورد.



شکل (۲۵-۴): ضرایب سری فوریه $\tilde{x}[n]$

و ضرایب DFT مساوی ضرایب a_k در یک دوره متناوب می‌باشند.

$$X(k)$$



شکل (۲۶-۴): ضرایب DFT مربوط به $x[n]$

بنابراین

$$X[k] = \begin{cases} 1 & k = 0 \\ 0 & k = 1, 2, 3, 4 \end{cases}$$

باشد و دنباله‌های $\tilde{x}_1[n]$ و $\tilde{x}_2[n]$ را با دوره تناوب N از روی سیگنالهای متناظر $x_1[n]$ و $x_2[n]$ می‌سازیم.

$$\tilde{x}_1[n] = x_1[n] \quad 0 \leq n \leq N-1 \quad (134-4)$$

$$\tilde{x}_2[n] = x_2[n] \quad 0 \leq n \leq N-1 \quad (135-4)$$

اگر $y[n]$ نمایانگر کانولوشن متناوب $\tilde{x}_1[n]$ و $\tilde{x}_2[n]$ باشد، داریم.

$$\tilde{y}[n] = \sum_{m \in \langle N \rangle} \tilde{x}_1[m] \tilde{x}_2[n-m] \quad (136-4)$$

در آن صورت در یک دوره تناوب حاصل کانولوشن تناوبی و معمولی یکسان است.

$$\tilde{y}[n] = y[n] \quad 0 \leq n \leq N-1 \quad (137-4)$$

توضیح معادله فوق در شکل (۴-۳۰) بوضوح دیده می‌شود. در این شکل فرض شده است که $N_1 = 5$ و $N_2 = 7$. بنا براین با انتخاب $N = 12$ سیگنالهای متناوب $\tilde{x}_1[n]$ و $\tilde{x}_2[n]$ ایجاد شده‌اند و حاصل کانولوشن تناوبی آنها در یک دوره تناوب گرفته شده است. دیده می‌شود که این حاصل با حاصل کانولوشن معمولی در یک دوره تناوب برابر است.

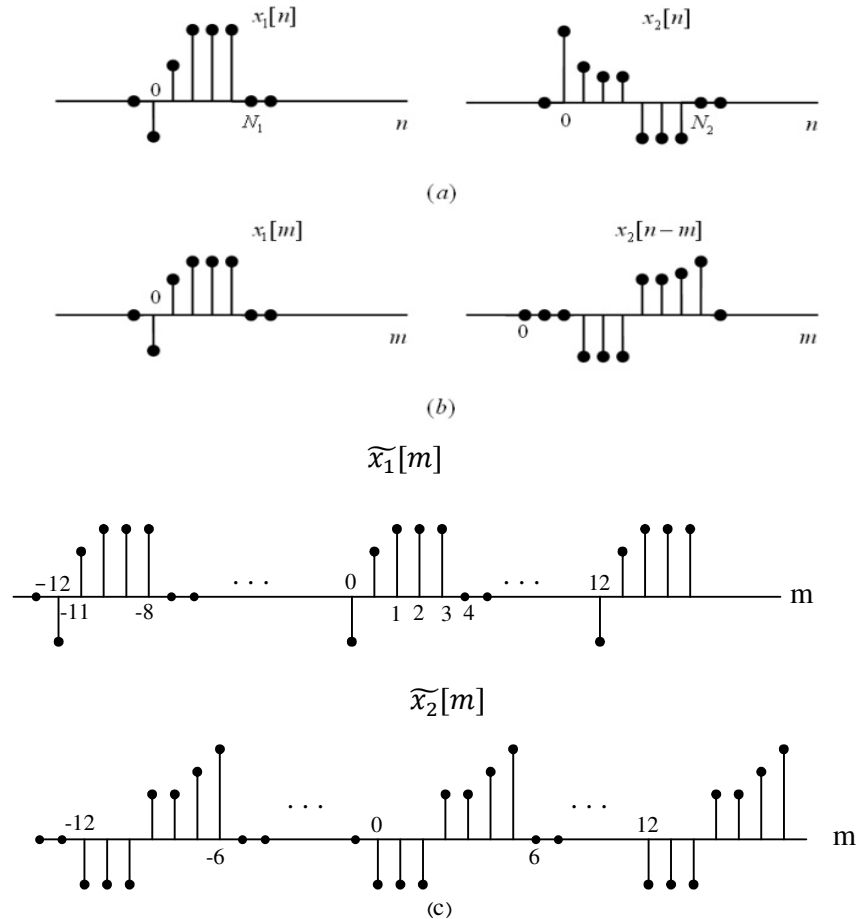
بنابراین ابتدا باید به $x_1[n]$ و $x_2[n]$ به اندازه کافی صفر اضافه کرد تا دوره تناوب سیگنال متناوب متناظر N شود (به گونه‌ای که $N \geq N_1 + N_2 - 1$ است). پاسخ کانولوشن معمولی $y[n]$ در خارج ناحیه $0 \leq n \leq N-1$ صفر است، بنابراین $y[n]$ که از کانولوشن معمولی (غیرتناوبی) $x_1[n]$ و $x_2[n]$ بدست می‌آید را می‌توان از کانولوشن تناوبی $\tilde{x}_1[n]$ و $\tilde{x}_2[n]$ بدست آورد. البته به شرط اینکه نتیجه را فقط در یک دوره تناوب N در نظر بگیریم. از طرفی می‌دانیم که سری فوریه $\tilde{y}_2[n]$ را می‌توان از روی سری‌های فوریه $\tilde{x}_1[n]$ و $\tilde{x}_2[n]$ بدست آورد و چون $\tilde{y}[n]$ و $\tilde{x}_1[n]$ و $\tilde{x}_2[n]$ متناظر با $y[n]$ و $x_1[n]$ و $x_2[n]$ در فاصله $0 \leq n \leq N-1$ می‌باشند، بنابراین از معادله (۴-۱۱۷) می‌بینیم که ضرایب سری‌های فوریه برای سیگنال‌های متناوب مساوی DFT‌های سه سیگنال غیرمتناوب می‌باشند.

بنابراین الگوریتم زیر را می‌توان برای پیدا کردن کانولوشن غیرمتناوب $x_1[n]$ و $x_2[n]$ ارائه کرد.

۱- ابتدا DFT، N نقطه‌ای مربوط به $x_1[n]$ و $x_2[n]$ ($X_1(k)$ و $X_2(k)$) را محاسبه می‌کنیم.

۲- دو DFT را در هم ضرب می‌کنیم تا DFT مربوط به $y[n]$ بدست آید.

$$Y(k) = X_1(k)X_2(k) \quad (138-4)$$



شکل (۴-۳۰): محاسبه کانولوشن معمولی دو دنباله با دوره‌های محدود (a) دنباله اصلی (b) کانولوشن معمولی $x_1[n]$ و

$x_2[n]$ (c) کانولوشن تناوبی $\tilde{x}_1[n]$ و $\tilde{x}_2[n]$

۳-IDFT را حساب کرده و $y[n]$ را بدست می‌آوریم (معادله (۴-۱۱۸)) تنها محدودیت عملیات فوق این است که باید حتماً DFT، N نقطه‌ای را حساب کرد به گونه‌ای که $N \geq N_1 + N_2 - 1$ باشد. با توجه به وجود الگوریتم FFT برای محاسبه سریع DFT مجموع سه عملیات گفته شده روش بسیار ساده و سریعی را جهت محاسبه کانولوشن غیرتناوبی دو دنباله دوره محدود، ارائه میکند.

۴-۵-۱۲ خاصیت مدولاسیون

فرض کنید $y[n] = x_1[n]x_2[n]$ در این صورت طبق خاصیت مدولاسیون تبدیل فوریه حاصل ضرب دنباله‌ها در حوزه زمان به کانولوشن تبدیل‌های فوریه در حوزه فرکانس تبدیل می‌شوند.

فصل چهارم: تبدیل فوریه گسسته‌زمان

$$x_1[n]x_2[n] \leftrightarrow \frac{1}{2\pi} \int_{\langle 2\pi \rangle} X_1(\theta)X_2(\Omega - \theta)d\theta \quad (139-4)$$

اثبات: رابطه تبدیل فوریه به صورت زیر نوشته می‌شود.

$$Y(\Omega) = \sum_{n=-\infty}^{+\infty} y[n]e^{-j\Omega n} = \sum_{n=-\infty}^{+\infty} x_1[n]x_2[n]e^{-j\Omega n} \quad (140-4)$$

از طرفی می‌توان به جای $x_1[n]$ مقدارش را نوشت.

$$x_1[n] = \frac{1}{2\pi} \int_{2\pi} X_1(\theta) e^{j\theta n} d\theta \quad (141-4)$$

با جایگذاری در (140-4) داریم

$$\begin{aligned} Y(\Omega) &= \sum_{n=-\infty}^{+\infty} x_2[n] \frac{1}{2\pi} \left\{ \int_{2\pi} X_1(\theta) e^{j\theta n} d\theta \right\} e^{-j\Omega n} \\ &= \frac{1}{2\pi} \int_{2\pi} \sum_{n=-\infty}^{+\infty} x_2[n] X_1(\theta) e^{j\theta n} d\theta e^{-j\Omega n} = \frac{1}{2\pi} \int_{2\pi} X_1(\theta) d\theta \sum_{n=-\infty}^{+\infty} x_2[n] e^{-jn(-\theta+\Omega)} \end{aligned}$$

و بالاخره

$$Y(\Omega) = \frac{1}{2\pi} \int_{2\pi} X_1(\theta) X_2(\Omega - \theta) d\theta \quad (142-4)$$

مثال (16-4): مطلوبست تبدیل فوریه دنباله $(-1)^n$.

$$x_1[n] = e^{j\pi n} = (-1)^n$$

حل: چون دنباله $x_1[n]$ متناوب است، داریم.

$$X_1(\Omega) = 2\pi \sum_{k=-\infty}^{\infty} a_k \delta(\Omega - \frac{2\pi}{N} k)$$

توجه می‌شود که برای $x_1[n]$ دوره تناوب $N = 2$ می‌باشد.

$$a_k = \frac{1}{N} \sum_{n=\langle N \rangle} x[n] e^{-jk(\frac{2\pi}{N})n} = \frac{1}{2} [1 - e^{-j\frac{2\pi}{2}k}] = \frac{1}{2} [1 - e^{-jk\pi}]$$

بنابراین ضرایب سری فوریه به صورت زیر بدست می‌آیند.

$$a_0 = 0, \quad a_1 = 1$$

و با استفاده از تعریف تبدیل فوریه برای دنباله‌های متناوب می‌توان تبدیل فوریه دنباله $x_1[n]$ را بدست آورد.

$$X_1(\Omega) = 2\pi \sum_{k=-\infty}^{+\infty} a_k \delta(\Omega - k\pi)$$

که مجموع فوق فقط به ازاء k های فرد مقدار دارد، پس می‌توان رابطه فوق را به صورت زیر نیز نوشت.

$$X_1(\Omega) = 2\pi \sum_{k=-\infty}^{+\infty} \delta(\Omega - (2k+1)\pi)$$

در شکل (31-4) مراحل کانولوشن $X_1(\Omega)$ و یک تبدیل فوریه دلخواه $X_2(\Omega)$ نشان داده شده است.

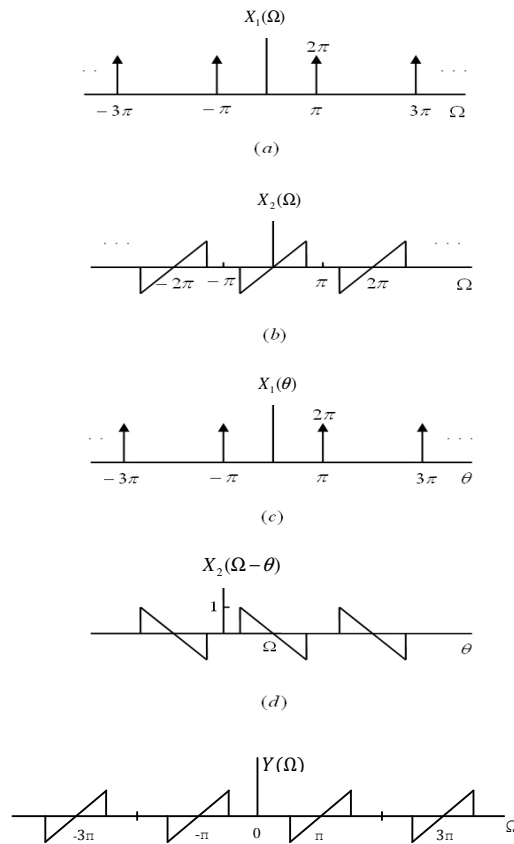
اگر $X_2(\Omega)$ را همانند شکل (b-۳۱-۴) را در نظر بگیریم، در آن صورت با انتخاب ناحیه انتگرال گیری بین 0 و 2π داریم.

$$\int_0^{2\pi} X_1(\theta)X_2(\Omega-\theta)d\theta = \int_0^{2\pi} X_2(\Omega-\theta)\delta(\theta-\pi)d\theta = X_2(\Omega-\pi) \quad (۱۴۳-۴)$$

که طیف حاصل از حاصل ضرب $x_1[n]$ و $x_2[n]$ در شکل (d-۳۱-۴) رسم شده است. البته این نتیجه را از خاصیت انتقال به حوزه فرکانس نیز می توانستیم بدست آوریم. چون $e^{jm} = (-1)^n$ و طبق خواص تبدیل فوریه، ضرب یک دنباله مفروض در یک دنباله نمایی موجب انتقال طیف دنباله مفروض خواهد شد.

$$e^{jm} x_2[n] \stackrel{F}{\leftrightarrow} X_2(\Omega - \pi) \quad (۱۴۴-۴)$$

در اینجا می بینیم که ضرب یک دنباله در $(-1)^n$ باعث می شود که فرکانسهای بالا و پایین در طیف دنباله جابه جا شوند که این خاصیت بسیار مهمی است.



شکل (۳۱-۴): مراحل مختلف مدولاسیون گسسته زمان یک سیگنال دلخواه $x_2[n]$ با $x_1[n] = (-1)^n$

فصل چهارم: تبدیل فوریه گسسته‌زمان

۴-۵-۱۳ خواص دوگانی

در اینجا به بررسی چند نوع دوگانی جدید و جالب می‌پردازیم.

ضرایب سری فوریه متناوب

در حالت پیوسته زمان، خاصیت تقارن یا دوگانی بین دو معادله مستقیم و معکوس تبدیل فوریه دیده می‌شد ولی در حالت تبدیل فوریه گسسته زمان چنین خاصیتی وجود ندارد، اما یک نوع تقارن در سری فوریه گسسته زمان دیده می‌شود. برای روشن شدن مطلب دو دنباله متناوب با دوره تناوب N را در نظر بگیرید که بوسیله رابطه زیر به هم مربوط می‌شوند.

$$f[m] = \frac{1}{N} \sum_{r \in \langle N \rangle} g[r] e^{-jr \left(\frac{2\pi}{N}\right)m} \quad (۱۴۵-۴)$$

اگر $r=n, m=k$ در نظر بگیریم، داریم.

$$f[k] = \frac{1}{N} \sum_{n \in \langle N \rangle} g[n] e^{-jk \left(\frac{2\pi}{N}\right)n} \quad (۱۴۶-۴)$$

بنابراین $f[k]$ متناظر با ضرایب سری فوریه دنباله $y[n]$ خواهد بود.

$$g[n] \stackrel{F}{\leftrightarrow} f[k] \quad (۱۴۷-۴)$$

توجه شود که در نمایش فوق عملگر F مبین ارتباط سری فوریه بین دو دنباله می‌باشد.

اگر $r=-k, m=n$ در نظر بگیریم، داریم.

$$f[n] = \frac{1}{N} \sum_{k \in \langle N \rangle} y[-k] e^{jk \left(\frac{2\pi}{N}\right)n} = \sum_{k \in \langle N \rangle} \frac{1}{N} g[-k] e^{jk \left(\frac{2\pi}{N}\right)n} \quad (۱۴۸-۴)$$

و در نتیجه $\frac{1}{N} g[-k]$ متناظر با ضرایب سری فوریه دنباله $f[n]$ خواهد بود.

$$f[n] \stackrel{F}{\leftrightarrow} \frac{1}{N} g[-k] \quad (۱۴۹-۴)$$

در واقع عملیات فوق بیانگر این حقیقت است که ضرایب سری فوریه دنباله متناوب، a_k ، متناسب با دنباله اصلی $x[n]$ است که در زمان معکوس شده باشد ($x[n]$ دنباله‌ای است که a_k ضرایب سری فوریه آن است). این دوگانی در تمام خواص سری فوریه مشاهده می‌شود. دانشجویان به عنوان مثال می‌توانند موارد زیر را تحقیق کنند.

$$\begin{cases} e^{jm \left(\frac{2\pi}{N}\right)n} x[n] \stackrel{F}{\leftrightarrow} a_{k-m} \\ x[n-n_0] \stackrel{F}{\leftrightarrow} a_k e^{-jk \left(\frac{2\pi}{N}\right)n_0} \end{cases} \quad (۱۵۰-۴)$$

$$\begin{cases} \sum_{r \in \langle N \rangle} x[r] y[n-r] \stackrel{F}{\leftrightarrow} N a_k b_k \\ x[n] y[n] \stackrel{F}{\leftrightarrow} \sum_{l \in \langle N \rangle} a_l b_{k-l} \end{cases} \quad (۱۵۱-۴)$$

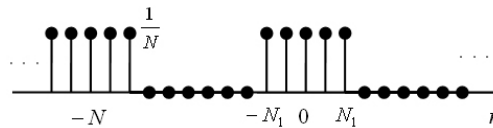
تمرین (۴-۴): صحت روابط فوق را تأیید کنید.

هر دستگاه نمایانگر یک جفت دوگانی است. کاربرد خاصیت دوگانی در مثال زیر نشان داده شده است. مثال (۴-۱۷): دنباله متناوب زیر را در نظر بگیرید.

$$x[n] = \frac{1}{N} \frac{\text{Sin}\left[\left(\frac{2\pi n}{N}\right)\left(N_1 + \frac{1}{2}\right)\right]}{\text{Sin}\left(\frac{2\pi n}{2N}\right)}$$

ضرایب سری فوریه این دنباله را با استفاده از خاصیت دوگانی بدست آورید.

حل: دیدیم که اگر $x[k] \xleftrightarrow{F} g[n]$ ، در آن صورت $x[n] \xleftrightarrow{F} \frac{1}{N} g[-k]$. بنابراین ضرایب سری فوریه $x[n]$ همان دنباله مربعی است که دامنه‌اش در $\frac{1}{N}$ ضرب شده و در زمان نیز معکوس شده است (به شکل (۴-۳۲) توجه کنید).



شکل (۴-۳۲): ضرایب سری فوریه دنباله $x[n]$ که در مثال (۴-۱۷) ذکر شده است.

تبدیل فوریه گسسته زمان و سری فوریه پیوسته زمان

نوعی دوگانی بین تبدیل فوریه گسسته زمان و ضرایب سری فوریه پیوسته زمان وجود دارد که از مقایسه معادلات مربوطه بوضوح مشاهده می‌شود. جهت مقایسه بهتر فرمول‌ها را دوباره تکرار می‌کنیم.

$$x[n] = \frac{1}{2\pi} \int_{2\pi} X(\Omega) e^{j\Omega n} d\Omega \quad (۴-۱۵۲)$$

$$X(\Omega) = \sum_{n=-\infty}^{+\infty} x[n] e^{-j\Omega n} \quad (۴-۱۵۳)$$

$$x(t) = \sum_{k=-\infty}^{+\infty} a_k e^{jk\omega_0 t} \quad (۴-۱۵۴)$$

$$a_k = \frac{1}{T_0} \int_{T_0} x(t) e^{-jk\omega_0 t} dt \quad (۴-۱۵۵)$$

فرض کنید که $f(u)$ نمایانگر یک تابع متناوب پیوسته زمان باشد که دوره تناوب آن 2π است و همچنین فرض کنید $g[m]$ یک دنباله گسسته باشد که با $f(u)$ به صورت زیر مربوط باشد.

$$f(u) = \sum_{m=-\infty}^{+\infty} g[m] e^{-jum} \quad (۴-۱۵۶)$$

با قرار دادن $u = \Omega$ و $m = n$ می‌بینیم که $f(\Omega)$ تبدیل فوریه $g[n]$ است، همچنین می‌توان $g[m]$ را از $f(u)$ بازسازی کرد.

$$g[n] \leftrightarrow f(\Omega) \quad (۴-۱۵۷)$$

فصل چهارم: تبدیل فوریه گسسته زمان

$$g[m] = \frac{1}{2\pi} \int_{-\pi}^{\pi} f(u) e^{jmu} du \quad (158-4)$$

اگر در رابطه (155-4) $m = -k, u = t$ قرار دهیم، رابطه زیر را بدست خواهیم آورد.

$$f(t) = \sum_{k=-\infty}^{+\infty} g[-k] e^{jkt} \quad (159-4)$$

بنابراین $g[-k]$ ضرایب سری فوریه $f(t)$ می باشند.

$$f(t) \stackrel{F}{\leftrightarrow} g[-k] \quad (160-4)$$

که سری فوریه فوق مربوط به حالت پیوسته زمان باشد. معنی عبارات فوق این است که اگر فرض کنیم $x[n]$ یک دنباله گسسته زمان با تبدیل فوریه $X(\Omega)$ باشد، از آنجائیکه $X(\Omega)$ متناوب و تابعی پیوسته از Ω است، می توان ضرایب سری فوریه آن را بدست آورد به طوریکه $\omega_0 = 1$ و به جای t از متغیر Ω به عنوان متغیر پیوسته استفاده خواهیم کرد. از خاصیت دوگانی درمی یابیم که ضرایب سری فوریه $X(\Omega)$ همان دنباله اصلی $x[n]$ هستند که در زمان معکوس شده باشد. مثال (18-4): سیگنال پیوسته زمان $x(t)$ که با دوره تناوب 2π متناوب است را در نظر بگیرید. فرض کنید $x(t)$ دارای ضرایب سری فوریه به صورت زیر باشد.

$$a_k = \begin{cases} 1 & |k| \leq N_1 \\ 0 & \text{در غیر این صورت} \end{cases}$$

شکل (4-33): نمایش ضرایب سری فوریه سیگنال پیوسته زمانی $x(t)$

مطلوبست پیدا کردن سیگنال $x(t)$.

حل: اگر از خاصیت دوگانی استفاده شود، می توان به سادگی $x(t)$ را بدست آورد.

$$x(t) = \frac{\text{Sin}(N_1 + \frac{1}{2})t}{\text{Sin} \frac{t}{2}}$$

به طریق مشابه تبدیل فوریه گسسته زمان $X(\Omega)$ که در یک دوره تناوب $-\pi < \Omega < \pi$ تعریف شده است را در نظر می گیریم.

$$X(\Omega) = \begin{cases} 1 & |\Omega| \leq w \\ 0 & w < |\Omega| \leq \pi \end{cases} \quad (161-4)$$

می توان $X(\Omega)$ را به عنوان یک سیگنال مربعی متناوب با سری فوریه زیر در نظر گرفت.

$$x[n] = \frac{\text{Sin}wn}{\pi n} = \frac{w}{\pi} \text{Sinc} \left(\frac{wn}{\pi} \right) \quad (162-4)$$

چون برای چنین سیگنالی $T_1 = w$ ، $\omega_0 = 1$ می باشد (به فصل 3 مراجعه شود).

در جدول (۴-۱) خواص دوگانی در حوزه پیوسته و گسسته زمان نمایش داده شده‌اند.

	پیوسته زمان		گسسته زمان	
	حوزه زمان	حوزه فرکانس	حوزه زمان	حوزه فرکانس
سری فوریه	$x(t) = \sum_{k=-\infty}^{+\infty} a_k e^{jk\omega_0 t}$ پیوسته زمان متناوب در زمان	$a_k = \frac{1}{T_0} \int_{T_0} x(t) e^{-jk\omega_0 t} dt$ فرکانس گذشته غیرمتناوب در فرکانس	$x[n] = \sum_{n \in \langle N \rangle} a_k e^{jk(\frac{2\pi}{N})n}$ گسسته زمان متناوب در زمان	$a_k = \frac{1}{N} \sum_{n \in \langle N \rangle} x[n] e^{-jk(\frac{2\pi}{N})n}$ گسسته در فرکانس متناوب در فرکانس
تبدیل فوریه	$x(t) = \frac{1}{2\pi} \int_{-\infty}^{+\infty} X(\omega) e^{-j\omega t} d\omega$ پیوسته زمان غیرمتناوب	$X(\omega) = \int_{-\infty}^{+\infty} x(t) e^{-j\omega t} dt$ پیوسته در فرکانس غیرمتناوب در فرکانس	$x[n] = \frac{1}{2\pi} \int_{-\pi}^{+\pi} X(\Omega) e^{j\Omega n} d\Omega$ گسسته زمان غیرمتناوب در زمان	$X(\Omega) = \sum_{n=-\infty}^{+\infty} x[n] e^{-j\Omega n}$ پیوسته در فرکانس متناوب در فرکانس

جدول (۴-۱)

۴-۶ نمایش تبدیل فوریه گسسته زمانی DTFT به صورت قطبی

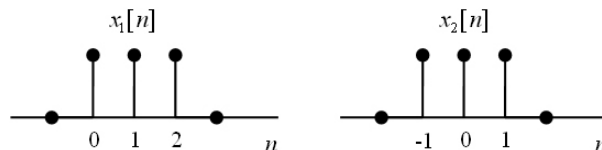
فرض کنید $x[n]$ یک دنباله گسسته زمانی با تبدیل فوریه $X(\Omega)$ باشد، همانطور که می‌دانیم $X(\Omega)$ یک تابع مختلط می‌باشد، بنابراین می‌توان آن را به صورت قطبی نمایش داد.

$$X(\Omega) = |X(\Omega)| e^{j\angle X(\Omega)} \quad (۴-۱۶۳)$$

چون $X(\Omega)$ با دوره تناوب 2π متناوب است، لازم است دامنه و زاویه $X(\Omega)$ نیز با دوره تناوب 2π متناوب باشند. $|X(\Omega)|$ شامل اطلاعات مربوط به دامنه نمایی‌های مختلطی است که در $x[n]$ وجود دارند و $\angle X(\Omega)$ نیز زاویه نمایی‌ها را معین می‌کند. بنابراین دانستن هر دو عامل قدر مطلق و زاویه برای تعیین یکتای $X(\Omega)$ لازم و کافی است. به هر حال می‌توان چندین دنباله متفاوت را یافت که دارای دامنه تبدیل فوریه یکسان باشند.

برای روشن شدن مطلب به مثال زیر توجه کنید.

مثال (۴-۱۹): تبدیل فوریه گسسته زمان DTFT مربوط به دو دنباله زیر را بیابید.



فصل چهارم: تبدیل فوریه گسسته‌زمان

شکل (۴-۳۴): دو دنباله متفاوت که دارای قدر مطلق تبدیل فوریه یکسان هستند

حل: ابتدا برای $x_1[n]$ داریم

$$X_1(\Omega) = \sum_{n=0}^2 e^{-j\Omega n} = 1 + e^{-j\Omega} + e^{-j2\Omega}$$

و برای $x_1[n]$ نیز داریم.

$$X_2(\Omega) = \sum_{n=-1}^1 e^{-j\Omega n} = e^{j\Omega} + 1 + e^{-j\Omega}$$

اگر از رابطه اول عبارت $e^{-j\Omega}$ را فاکتور بگیریم، رابطه دوم بدست می‌آید، یعنی

$$X_1(\Omega) = e^{-j\Omega} [X_2(\Omega)]$$

بنابراین دامنه هر دو تبدیل فوریه یکسان است.

$$|X_1(\Omega)| = |X_2(\Omega)|$$

نمایش DTFT به صورت قطبی بسیار مفید است. مثلاً در مورد سیستم‌های LTI که در آنها رابطه بین خروجی، ورودی و تابع شبکه به صورت زیر است.

$$Y(\Omega) = H(\Omega)X(\Omega) \quad (۴-۱۶۴)$$

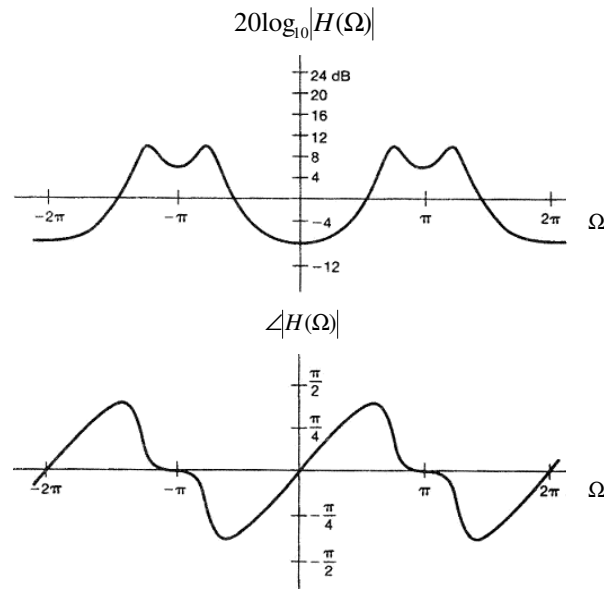
می‌توان ارتباط بین دامنه‌ها و زاویه‌ها را به صورت زیر نوشت.

$$|Y(\Omega)| = |H(\Omega)||X(\Omega)| \quad (۴-۱۶۵)$$

$$\angle Y(\Omega) = \angle H(\Omega) + \angle X(\Omega) \quad (۴-۱۶۶)$$

لازم است توجه شود که دامنه $X(\Omega)$ تابعی زوج و متناوب از Ω است و زاویه $X(\Omega)$ تابعی فرد و متناوب از Ω می‌باشد. این مطلب با توجه به نمایش تبدیل فوریه به صورت قطبی کاملاً آشکار می‌شود (به روابط (۴-۷۱) الی (۴-۷۴) مراجعه کنید). پس $|X(\Omega)|$ یک تابع زوج و متناوب از Ω است، چون از مجموع دو تابع زوج و متناوب با دوره تناوب یکسان تشکیل شده است و همچنین $\angle X(\Omega)$ یک تابع فرد و متناوب از Ω است، چون از حاصل تقسیم دو تابع زوج و فرد که هر دو با یک دوره تناوب یکسان متناوب هستند، تشکیل شده است. به عنوان مثالی از $|X(\Omega)|$ و $\angle X(\Omega)$ به شکل (۴-۳۵) توجه کنید.

به دلیل زوج بودن دامنه تبدیل فوریه، دانستن آن فقط در هر فاصله به طول π کافی است. همچنین با فرد بودن زاویه تبدیل فوریه، دانستن آن در هر فاصله به طول π جهت مشخص کردن $X(\Omega)$ به طور یکتا کافی می‌باشد.



شکل (۴-۳۵): نمای قدر مطلق و زاویه تبدیل فوریه.

۷-۴ تابع انتقال سیستم‌هایی که بوسیله معادله تفاضلی با ضرایب ثابت توصیف می‌گردند

۱-۷-۴ محاسبه پاسخ ضربه و تابع انتقال

همانگونه که در فصل دوم توضیح داده شد سیستم‌های LTI گسسته زمان را می‌توان به وسیله یک معادله تفاضلی با ضرایب ثابت و با فرض شرایط استراحت اولیه توصیف نمود. در حالت کلی یک معادله تفاضلی از مرتبه M ام به صورت زیر نوشته می‌شود.

$$\sum_{k=0}^N a_k y[n-k] = \sum_{k=0}^M b_k x[n-k] \quad (۴-۱۶۷)$$

در اولین قدم جهت محاسبه پاسخ ضربه لازم است فرض کنیم که تبدیل فوریه $h[n]$ ، $y[n]$ و $x[n]$ وجود دارند و همگرا هستند. در این صورت می‌توان از طرفین رابطه (۴-۱۶۷) تبدیل فوریه گرفت و رابطه (۴-۱۶۸) و سپس (۴-۱۶۹) را بدست آورد.

$$\sum_{k=0}^N a_k e^{-jk\Omega} Y(\Omega) = \sum_{k=0}^M b_k e^{-jk\Omega} X(\Omega) \quad (۴-۱۶۸)$$

$$H(\Omega) = \frac{Y(\Omega)}{X(\Omega)} = \frac{\sum_{k=0}^M b_k e^{-jk\Omega}}{\sum_{k=0}^N a_k e^{-jk\Omega}} \quad (۴-۱۶۹)$$

بنابراین با داشتن معادله تفاضلی به راحتی می‌توان تابع انتقال سیستم را بدست آورد.

مثال (۴-۲۱): پاسخ فرکانسی یک سیستم LTI که توسط معادله تفاضلی زیر توصیف می‌گردد را با فرض شرایط استراحت اولیه بدست آورید.

فصل چهارم: تبدیل فوریه گسسته‌زمان

$$y[n] - \alpha y[n-1] = x[n] \quad (۱۷۰-۴)$$

حل: اگر فرض کنیم $|\alpha| < 1$ باشد با گرفتن تبدیل فوریه از دو طرف رابطه (۱۷۰-۴) به رابطه (۱۷۱-۴) می‌رسیم.

$$Y(\Omega) - \alpha e^{-j\Omega} Y(\Omega) = X(\Omega) \quad (۱۷۱-۴)$$

بنابراین تابع انتقال سیستم از رابطه زیر بدست می‌آید

$$H(\Omega) = \frac{Y(\Omega)}{X(\Omega)} = \frac{1}{1 - \alpha e^{-j\Omega}} \quad (۱۷۲-۴)$$

رابطه (۱۷۲-۴) یک رابطه آشنا برای دانشجویان و در حقیقت تبدیل فوریه دنباله زیر می‌باشد.

$$h[n] = \alpha^n u[n] \quad (۱۷۳-۴)$$

مثال (۲۲-۴): با توجه به معادله تفاضلی زیر که مبین یک سیستم LTI و علی می‌باشد، مطلوبست تابع انتقال سیستم.

$$y[n] - y[n-1] + \frac{2}{9} y[n-2] = x[n] \quad (۱۷۴-۴)$$

حل: با فرض وجود تبدیل فوریه $x[n], y[n], h[n]$ از تبدیل فوریه (۱۷۴-۴) به رابطه (۱۷۵-۴) می‌رسیم.

$$Y(\Omega) - e^{-j\Omega} Y(\Omega) + \frac{2}{9} e^{-j2\Omega} Y(\Omega) = X(\Omega) \quad (۱۷۵-۴)$$

و یا

$$H(\Omega) = \frac{Y(\Omega)}{X(\Omega)} = \frac{1}{1 - e^{-j\Omega} + \frac{2}{9} e^{-j2\Omega}} \quad (۱۷۶-۴)$$

با تفکیک (۱۷۶-۴) به کسور جزئی داریم.

$$H(\Omega) = \frac{-1}{1 - \frac{1}{3} e^{-j\Omega}} + \frac{2}{1 - \frac{2}{3} e^{-j\Omega}} \quad (۱۷۷-۴)$$

بنابراین به سادگی می‌توان $h[n]$ را بدست آورد.

$$h[n] = -\left(\frac{1}{3}\right)^n u[n] + 2\left(\frac{2}{3}\right)^n u[n] \quad (۱۷۸-۴)$$

مثال (۲۲-۴): فرض کنید ورودی سیستم مذکور در رابطه (۱۷۷-۴) به صورت زیر باشد.

$$x[n] = \left(\frac{1}{4}\right)^n u[n]$$

مطلوبست پاسخ سیستم.

حل: تبدیل فوریه ورودی برابر است با

$$X(\Omega) = \frac{1}{1 - \frac{1}{4} e^{-j\Omega}}$$

بنابراین طبق خاصیت مدولاسیون می توان تبدیل فوری خروجی را بدست آورد.

$$Y(\Omega) = X(\Omega)H(\Omega) = \frac{1}{(1 - \frac{1}{3}e^{-j\Omega})(1 - \frac{1}{4}e^{-j\Omega})(1 - \frac{2}{3}e^{-j\Omega})}$$

می توان رابطه فوق را به کسور جزئی بسط داد، در این صورت داریم:

$$Y(\Omega) = \frac{a}{1 - \frac{1}{3}e^{-j\Omega}} + \frac{b}{1 - \frac{1}{4}e^{-j\Omega}} + \frac{c}{1 - \frac{2}{3}e^{-j\Omega}}$$

مقادیر a, b, c باید در روابط زیر صدق کنند.

$$a + b + c = 1$$

$$-\frac{11}{12}a - b - \frac{7}{12}c = 0$$

$$\frac{1}{6}a + \frac{2}{9}b + \frac{1}{12}c = 0$$

از حل معادلات فوق به روش کرامر می توان a, b, c را بدست آورد.

$$a = \frac{\begin{vmatrix} 1 & 1 & 1 \\ 0 & 1 & 7/12 \\ 0 & 2/9 & 1/12 \end{vmatrix}}{\begin{vmatrix} 1 & 1 & 1 \\ 11/12 & 1 & 7/12 \\ 1/6 & 2/9 & 1/12 \end{vmatrix}} = \frac{-5}{\frac{108}{432}} = -4$$

و به همین ترتیب می توان مقادیر b, c را بدست آورد.

$$b = 1.8, c = 3.2$$

۴-۷-۲ نمایش سیستم LTI گسسته زمان به کمک بلوک های اساسی

هر سیستم LTI گسسته زمان که به صورت یک معادله تفاضلی با ضرایب ثابت داده شده است، را می توان به کمک بلوک های اساسی نمایش داد. در اینجا منظور ما از بلوک های اساسی بلوک تأخیر، ضرب کننده و جمع کننده می باشد. این نوع نمایش کاربرد فراوانی در شبیه سازی سیستم های گسسته زمان به کمک رایانه دارد.

دو نوع ساختار برای نمایش سیستم های LTI گسسته زمان به کمک بلوک های اساسی وجود دارد که این دو نوع ساختار کاملاً معادل می باشند (اگرچه از لحاظ ظاهر و تعداد بلوک های مورد استفاده متفاوت هستند). به عنوان مثال جهت سادگی فرض می کنیم در معادله تفاضلی (۴-۱۶۷)، $M = N$ باشد.

فصل چهارم: تبدیل فوریه گسسته‌زمان

ساختار سری هنگامی بدست می‌آید که بتوان صورت و مخرج رابطه (۴-۱۶۹) را به صورت حاصل ضرب عوامل تجزیه کرد. در اینصورت می‌توان $H(\Omega)$ را به صورت زیر نوشت.

$$H(\Omega) = \frac{b_0 \prod_{k=1}^N (1 + \mu_k e^{-j\Omega})}{a_0 \prod_{k=1}^N (1 + \eta_k e^{-j\Omega})} \quad (۴-۱۷۹)$$

توجه شود که در حالت کلی η_k, μ_k اعداد مختلطی هستند. آن تعداد از ریشه‌ها که مختلط هستند به صورت دو به دو مزدوج ظاهر می‌شوند، در نتیجه می‌توان با یکی کردن ریشه‌های مزدوج به فرم زیر به $H(\Omega)$ دست یافت.

$$H(\Omega) = \frac{b_0 \prod_{k=1}^P (1 + \beta_{1k} e^{-j\Omega} + \beta_{2k} e^{-j2\Omega}) \prod_{k=1}^{N-2P} (1 + \mu_{1k} e^{-j\Omega})}{a_0 \prod_{k=1}^Q (1 + \alpha_{1k} e^{-j\Omega} + \alpha_{2k} e^{-j2\Omega}) \prod_{k=1}^{N-2Q} (1 + \eta_k e^{-j\Omega})} \quad (۴-۱۸۰)$$

در رابطه فوق P و Q تعداد جفت ریشه‌های مزدوج صورت و مخرج می‌باشند. بنابراین اکنون تمام ضرایب معادله (۴-۱۸۰) حقیقی هستند و می‌توان تابع $H(\Omega)$ را به صورت حاصلضرب توابع درجه یک و درجه دو نوشت و در نتیجه ساختاری که توسط معادله (۴-۱۸۰) پیشنهاد می‌شود یک ساختار سری از سیستم‌های مرتبه اول و دوم می‌باشد. جهت روشن‌تر شدن مطلب به مثال زیر توجه کنید. مثال (۴-۲۳): $H(\Omega)$ را توسط بلوک‌های اساسی بسازید.

$$H(\Omega) = \frac{b_0 (1 + \beta_{11} e^{-j\Omega} + \beta_{21} e^{-j2\Omega}) (1 + \mu_1 e^{-j\Omega})}{a_0 (1 + \alpha_{11} e^{-j\Omega} + \alpha_{21} e^{-j2\Omega}) (1 + \eta_1 e^{-j\Omega})}$$

حل: ابتدا $H(\Omega)$ را به دو جزء به صورت زیر تقسیم می‌کنیم.

$$H(\Omega) = H_1(\Omega) H_2(\Omega)$$

که در آن

$$H_1(\Omega) = \frac{b_0 (1 + \beta_{11} e^{-j\Omega} + \beta_{21} e^{-j2\Omega})}{a_0 (1 + \alpha_{11} e^{-j\Omega} + \alpha_{21} e^{-j2\Omega})}$$

$$H_2(\Omega) = \frac{1 + \mu_1 e^{-j\Omega}}{1 + \eta_1 e^{-j\Omega}}$$

با نوشتن $H_1(\Omega)$ به صورت $\frac{Y_1(\Omega)}{X(\Omega)}$ داریم.

$$\frac{Y_1(\Omega)}{X(\Omega)} = \frac{b_0 (1 + \beta_{11} e^{-j\Omega} + \beta_{21} e^{-j2\Omega})}{a_0 (1 + \alpha_{11} e^{-j\Omega} + \alpha_{21} e^{-j2\Omega})}$$

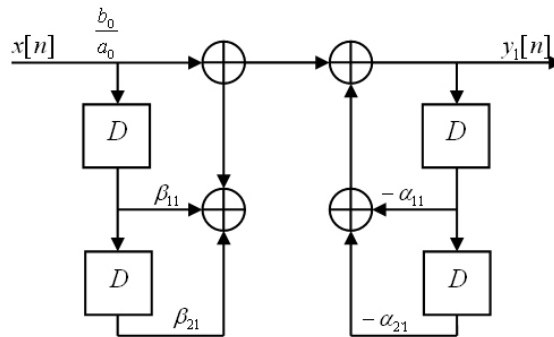
و در نتیجه

$$Y_1(\Omega) [1 + \alpha_{11} e^{-j\Omega} + \alpha_{21} e^{-j2\Omega}] = \frac{b_0}{a_0} X(\Omega) [1 + \beta_{11} e^{-j\Omega} + \beta_{21} e^{-j2\Omega}]$$

و در حوزه زمان می‌توان رابطه ورودی و خروجی را بدین صورت نوشت.

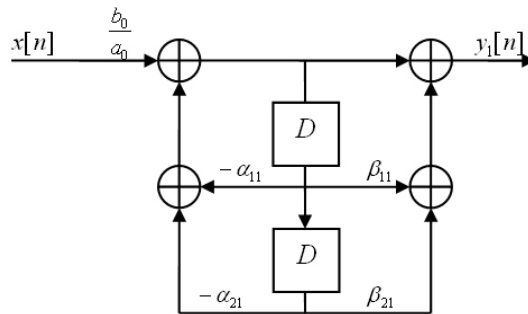
$$\begin{aligned}
 & y_1[n] + \alpha_{11}y_1[n-1] + \alpha_{21}y_1[n-2] \\
 &= \frac{b_0}{a_0} \{x[n] + \beta_{11}x[n-1] + \beta_{21}x[n-2]\} \\
 y_1[n] &= \frac{b_0}{a_0} \{x[n] + \beta_{11}x[n-1] + \beta_{21}x[n-2]\} - \alpha_{11}y_1[n-1] + \alpha_{21}y_1[n-2]
 \end{aligned}$$

ساختار رابطه فوق به صورت شکل صفحه بعد است. (نوع مستقیم شماره ۱)



شکل (۴-۲۶): نمایش نوع مستقیم شماره ۱ مربوط $H_1(\Omega)$ در مثال (۴-۲۳)

البته می‌توان ساختار فوق را با جابه‌جا کردن جزئی در سیستم به صورت زیر نمایش داد. (نوع مستقیم شماره ۲)



شکل (۴-۳۷): نمایش نوع مستقیم شماره ۲ مربوط به $H_1(\Omega)$ در مثال (۴-۲۳)

اکنون لازم است $H_2(\Omega)$ را نیز به کمک بلوک‌های اساسی بسازیم. این کار را با نوشتن $H_2(\Omega)$ به صورت حاصل تقسیم $Y(\Omega)$ بر $Y_1(\Omega)$ آغاز می‌کنیم.

$$H_2(\Omega) = \frac{Y(\Omega)}{Y_1(\Omega)} = \frac{1 + \mu_1 e^{-j\Omega}}{1 + \eta_1 e^{-j\Omega}}$$

رابطه فوق را می‌توان به صورت زیر نوشت.

$$Y(\Omega)(1 + \eta_1 e^{-j\Omega}) = Y_1(\Omega)(1 + \mu_1 e^{-j\Omega})$$

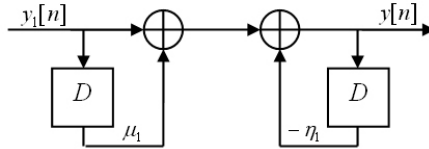
و در حوزه زمان می‌توان نوشت.

$$y[n] + \eta_1 y[n-1] = y_1[n] + \mu_1 y_1[n-1]$$

و یا

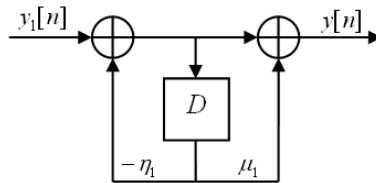
$$y[n] = y_1[n] + \mu_1 y_1[n-1] - \eta_1 y_1[n-1]$$

بنابراین می‌توان نمایش زیر را برای تابع انتقال $H_2(\Omega)$ ارائه نمود (نوع مستقیم شماره ۱).



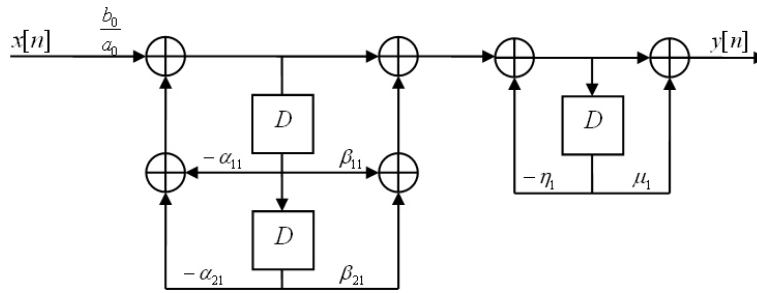
شکل (۳۸-۴): نمایش نوع مستقیم شماره ۱ مربوط به $H_2(\Omega)$ در مثال (۲۳-۴)

و نمایش نوع مستقیم شماره ۲ به صورت زیر بدست می‌آید.



شکل (۳۹-۴): نمایش نوع مستقیم شماره ۲ مربوط به $H_2(\Omega)$ در مثال (۲۳-۴)

اکنون از ترکیب دو شکل (۳۷-۴) و (۳۹-۴) می‌توان ساختار سری مربوط به مثال (۲۳-۴) را بدست آورد.



شکل (۴۰-۴): نمایش ساختار سری مثال (۲۳-۴)

واضح است که می‌توان جای دو بلوک $H_1(\Omega)$ و $H_2(\Omega)$ را در ساختار سری عوض کرد. ساختار معادل دیگری که برای سیستم با پاسخ فرکانسی (۱۶۹-۴) می‌توان در نظر گرفت بنام ساختار موازی معروف است. این ساختار از نوشتن معادله (۱۶۹-۴) به صورت (۱۸۱-۴) استخراج می‌گردد.

$$H(\Omega) = \frac{b_N}{b_N} + \sum_{k=1}^N \frac{A_k}{1 + \eta_k e^{-j\Omega}} \quad (181-4)$$

در اینجا نیز η_k در حالت کلی عدد مختلط می‌باشد. اگر هر زوج ریشه‌های مختلط مزدوج را در یک جمله مختصر کنیم، رابطه (۱۸۱-۴) بصورت (۱۸۲-۴) تبدیل می‌شود.

$$H(\Omega) = \frac{b_N}{b_N} + \sum_{k=1}^Q \frac{\beta_{0k} + \beta_{1k} e^{-j\Omega}}{1 + \alpha_{1k} e^{-j\Omega} + \alpha_{2k} e^{-j2\Omega}} + \sum_{k=1}^{N-2Q} \frac{A_k}{1 + \eta_k e^{-j\Omega}} \quad (182-4)$$

در رابطه (۴-۱۸۱) تمام ضرایب حقیقی هستند و می توان آن را بوسیله بلوک های اساسی ساخت. جهت روشن تر شدن مطلب به مثال (۴-۲۴) توجه کنید.
مثال (۴-۲۴): $H(\Omega)$ را توسط بلوک های اساسی بسازید.

$$H(\Omega) = 1 + \sum_{k=1}^2 \frac{\beta_{0k} + \beta_{1k}e^{-j\Omega}}{1 + \alpha_{1k}e^{-j\Omega} + \alpha_{2k}e^{-j2\Omega}} + \sum_{k=1}^2 \frac{A_k}{1 + \eta_k e^{-j\Omega}}$$

حل: می توان $H(\Omega)$ را به صورت زیر نوشت.

$$H(\Omega) = 1 + H_1(\Omega) + H_2(\Omega) + H_3(\Omega) + H_4(\Omega)$$

که در آن

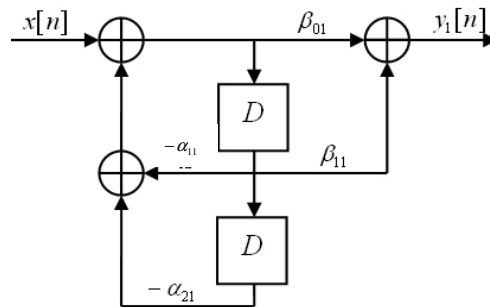
$$H_1(\Omega) = \frac{\beta_{01} + \beta_{11}e^{-j\Omega}}{1 + \alpha_{11}e^{-j\Omega} + \alpha_{21}e^{-j2\Omega}}$$

$$H_2(\Omega) = \frac{\beta_{02} + \beta_{12}e^{-j\Omega}}{1 + \alpha_{12}e^{-j\Omega} + \alpha_{22}e^{-j2\Omega}}$$

$$H_3(\Omega) = \frac{A_1}{1 + \eta_1 e^{-j\Omega}}$$

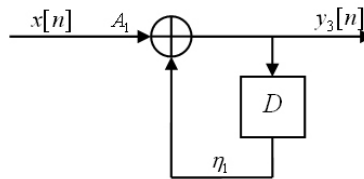
$$H_4(\Omega) = \frac{A_2}{1 + \eta_2 e^{-j\Omega}}$$

ابتدا $H_1(\Omega)$ را مشابه روشی که قبلاً توضیح دادیم، می سازیم. نتیجه کار به صورت شکل زیر است.



شکل (۴-۴۱): نمایش نوع مستقیم شماره ۲ برای $H_1(\Omega)$ مربوط به مثال (۴-۲۴)

همچنین می توان ساختار شکل (۴-۴۲) را برای $H_3(\Omega)$ بدست آورد.



شکل (۴-۴۲): نمایش ساختار سیستم $H_3(\Omega)$ مربوط به مثال (۴-۲۴)

فصل چهارم: تبدیل فوریه گسسته زمان

همین کار را برای هر چهار سیستم تشکیل دهنده سیستم اصلی نیز انجام می‌دهیم و در نهایت ساختار سیستم کلی از ترکیب موازی این سیستم‌ها بدست می‌آید. این کار به صورت تمرین به عهده دانشجویان گذاشته می‌شود.

۴-۸ پاسخ ضربه و پله سیستم‌های LTI گسسته زمان مرتبه اول و دوم

به دلیل اهمیت این دو سیستم در ساخت سیستم‌های مراتب بالاتر می‌توان این سیستم‌ها را سیستم‌های پایه در نظر گرفت بنابراین بررسی آنها لازم و ضروری است.

۴-۸-۱ پاسخ ضربه و پله سیستم مرتبه اول

سیستم مرتبه اول در حالت کلی با معادله تفاضلی زیر مشخص می‌گردد.

$$y[n] - \alpha y[n-1] = x[n] \quad (183-4)$$

و پاسخ فرکانسی آن به صورت زیر است (با فرض $|\alpha| < 1$).

$$H(\Omega) = \frac{1}{1 - \alpha e^{-j\Omega}} \quad (184-4)$$

بنابراین پاسخ ضربه سیستم مرتبه اول برابر است با

$$h[n] = \alpha^n u[n] \quad (185-4)$$

چند نمونه از این پاسخ ضربه‌ها به ازاء مقادیر مختلف α در شکل (۴-۴۳) نمایش داده شده است. پاسخ پله نیز به صورت زیر از کانولوشن پاسخ ضربه در دنباله پله واحد قابل محاسبه است.

$$s[n] = h[n] * u[n] = \sum_{k=-\infty}^{+\infty} h[n-k] u[k] \quad (186-4)$$

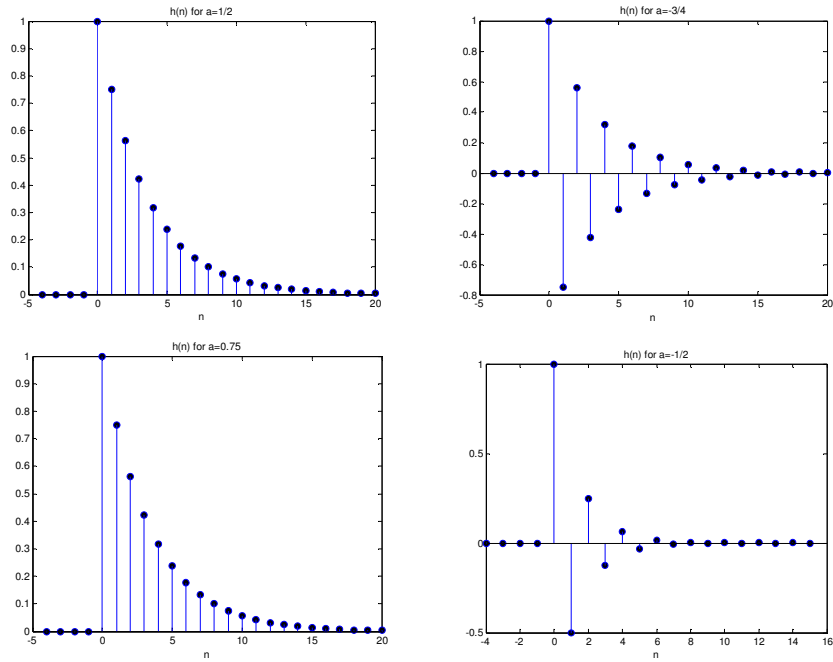
$$s[n] = \sum_{k=0}^{\infty} \alpha^{n-k} u[n-k] = \alpha^n \sum_{k=0}^n \alpha^{-k} = \alpha^n \frac{1 - \alpha^{-(n+1)}}{1 - \alpha^{-1}} \quad (187-4)$$

و یا

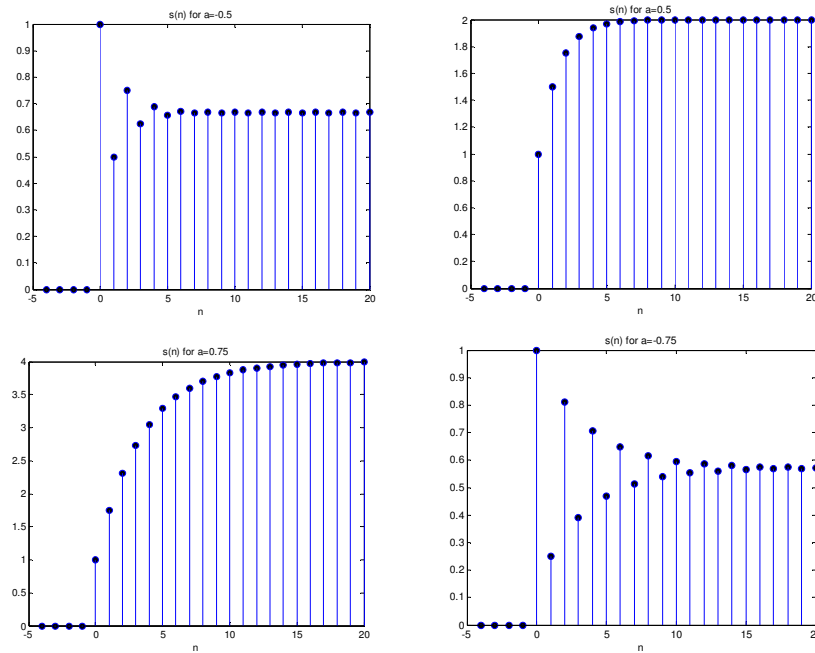
$$s[n] = \frac{1 - \alpha^{n+1}}{1 - \alpha} u[n] \quad (188-4)$$

چند نمونه از این پاسخ پله‌ها به ازاء مقادیر مختلف $\alpha = a$ از روی رابطه (۴-۱۸۴) در شکل (۴-۴۴) رسم شده است.

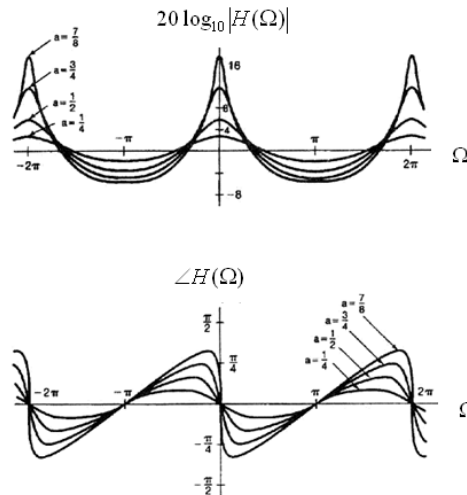
همچنین دامنه و فاز تابع انتقال این سیستم به ازاء مقادیر مختلف $\alpha = a$ در شکل (۴-۴۵) رسم شده است.



شکل (۴۳-۴): نمونه‌هایی از پاسخ ضربه سیستم‌های مرتبه اول به صورت رابطه (۴-۱۸۵) به ازاء مقادیر مختلف a



شکل (۴۴-۴): چند نمونه از پاسخ پله سیستم مرتبه اول به صورت رابطه (۴-۱۸۸) به ازاء مقادیر مختلف a



شکل (۴-۴۵): دامنه و فاز پاسخ فرکانسی سیستم مرتبه اول به ازاء مقادیر مختلف a

۴-۸-۲ پاسخ ضربه و پله سیستم‌های مرتبه دوم

در حالت کلی می‌توان یک سیستم مرتبه دوم را توسط معادله تفاضلی به صورت زیر نمایش داد.

$$y[n] - 2r \cos \theta y[n-1] + r^2 y[n-2] = x[n] \quad (۴-۱۸۹)$$

با فرض $0 < r < 1$ و $0 \leq \theta \leq \pi$ پاسخ فرکانسی برابر است با

$$H(\Omega) = \frac{1}{1 - 2r \cos \theta e^{-j\Omega} + r^2 e^{-j2\Omega}} \quad (۴-۱۹۰)$$

می‌توان مخرج $H(\Omega)$ را به حاصلضرب دو عامل تجزیه کرد.

$$H(\Omega) = \frac{1}{[1 - (re^{-j\theta})e^{-j\Omega}][1 - (re^{j\theta})e^{-j\Omega}]} \quad (۴-۱۹۱)$$

می‌توان $H(\Omega)$ را با فرض $\theta \neq 0, \pi$ به صورت زیر نمایش داد.

$$H(\Omega) = \frac{A}{1 - (re^{j\theta})e^{-j\Omega}} + \frac{B}{1 - (re^{-j\theta})e^{-j\Omega}} \quad (۴-۱۹۲)$$

که در آن

$$A = \frac{e^{j\theta}}{j2 \sin \theta}, \quad B = \frac{-e^{-j\theta}}{j2 \sin \theta} \quad (۴-۱۹۳)$$

در این صورت پاسخ ضربه برابر است با

$$h[n] = [A(re^{j\theta})^n + B(re^{-j\theta})^n] u[n] = \frac{r^n \sin[(n+1)\theta]}{\sin \theta} u[n] \quad (۴-۱۹۴)$$

اگر $\theta = 0$ باشد می‌توان $H(\Omega)$ را به صورت زیر نوشت.

$$H(\Omega) = \frac{1}{(1 - re^{-j\Omega})^2} \quad (۴-۱۹۵)$$

و در این حالت خاص $h[n]$ برابر است با

$$h[n] = (n+1)r^n u[n+1] = (n+1)r^n u[n] \quad (۱۹۶-۴)$$

و اگر $\theta = \pi$ باشد.

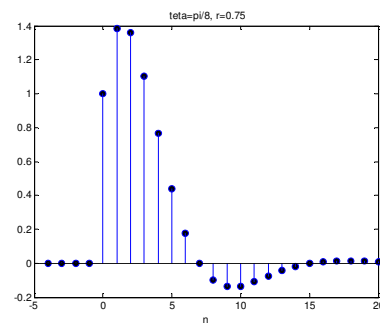
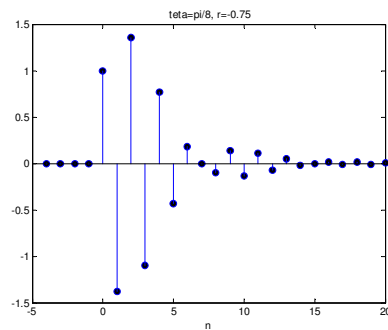
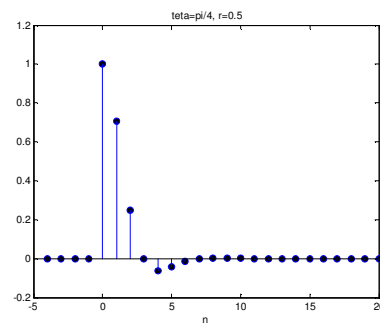
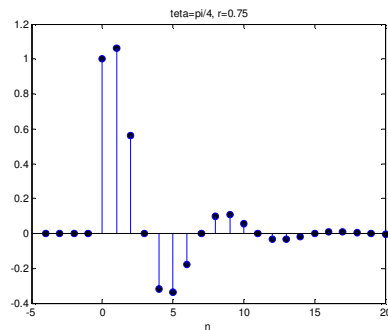
$$H(\Omega) = \frac{1}{(1 + re^{-j\Omega})^2} \quad (۱۹۷-۴)$$

و پاسخ ضربه برابر است با

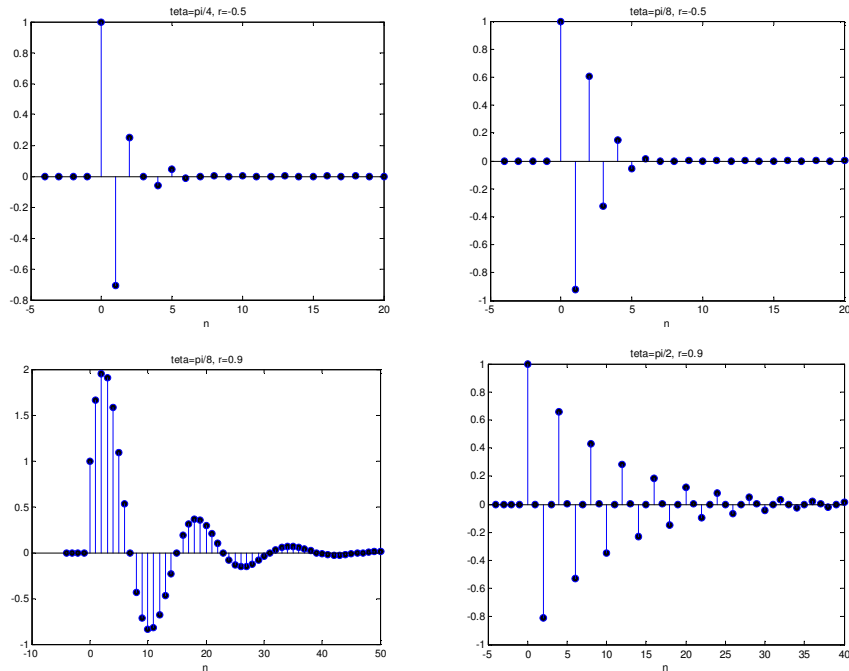
$$h[n] = (n+1)(-r)^n u[n+1] = (n+1)(-r)^n u[n] \quad (۱۹۸-۴)$$

چند نمونه از تابع انتقال و پاسخ ضربه سیستم‌های مرتبه دوم در شکل های ۴-۴۶ و ۴-۴۷ نشان داده شده است.

از این شکل‌ها نتیجه می‌گیریم که نرخ نزول $h[n]$ با تغییر r کنترل می‌شود، هر چه r به واحد نزدیکتر باشد، نرخ نزول کمتر می‌شود. همچنین θ تعیین کننده فرکانس نوسان پاسخ حول مقدار نهایی خود می‌باشد. اگر $\theta = 0$ باشد، هیچگونه نوسانی در $h[n]$ مشاهده نمی‌شود، اما اگر $\theta = \pi$ باشد، نوسان‌ها سریع خواهند شد.



فصل چهارم: تبدیل فوریه گسسته‌زمان



شکل (۴-۴۶) چند نمونه از پاسخ ضربه سیستم‌های مرتبه دوم به ازاء مقادیر مختلف θ, r

اثر تغییر r و θ را در شکل موج پاسخ پله نیز می‌توان مشاهده کرد اگر $\theta \neq 0, \pi$ باشد، پاسخ پله برابر است با

$$s[n] = u[n] * h[n] = \left[A \frac{1 - (re^{j\theta})^{n+1}}{1 - re^{j\theta}} + B \frac{1 - (re^{-j\theta})^{n+1}}{1 - re^{-j\theta}} \right] u[n] \quad (۴-۱۹۹)$$

و اگر $\theta = 0$ باشد.

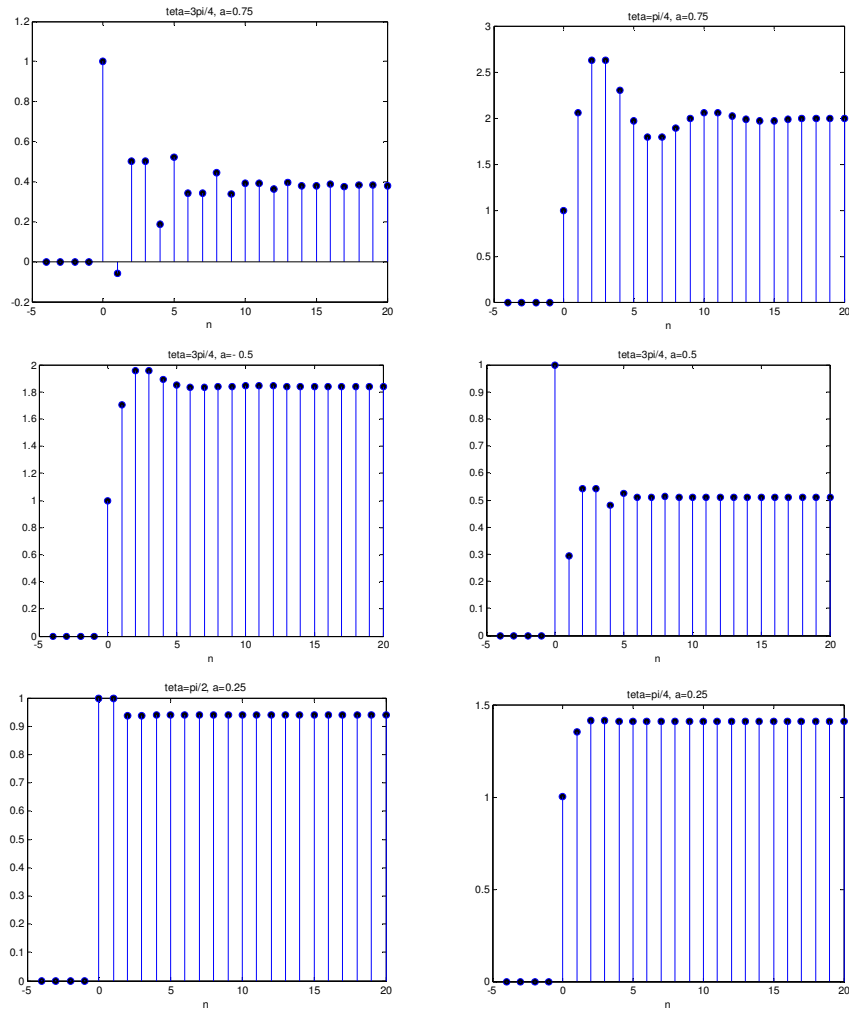
$$s[n] = \left[\frac{1}{(r-1)^2} - \frac{r}{(r-1)^2} r^n + \frac{r}{r-1} (n+1)r^n \right] u[n] \quad (۴-۲۰۰)$$

و اگر $\theta = \pi$ باشد.

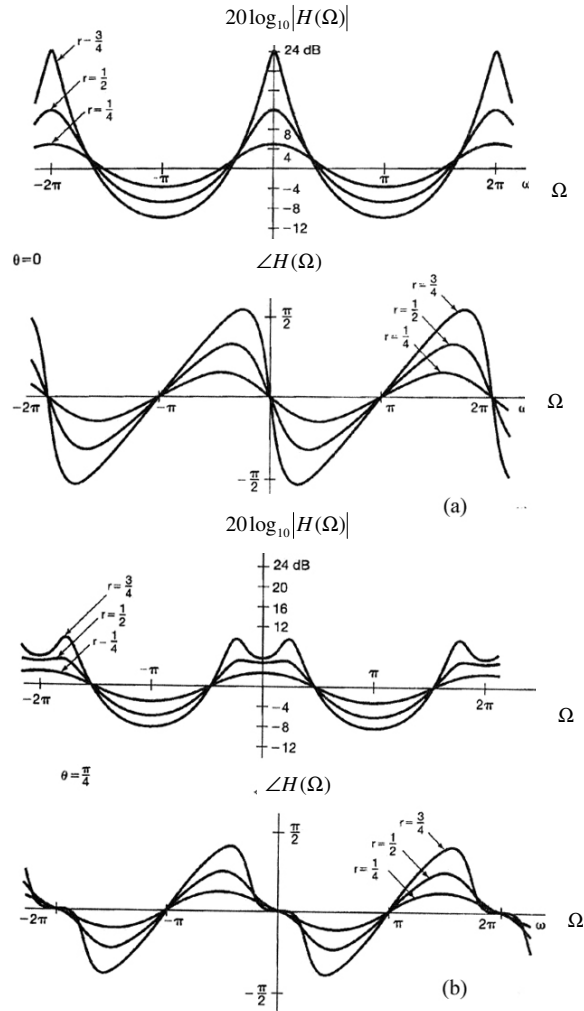
$$s[n] = \left[\frac{1}{(r+1)^2} + \frac{r}{(r+1)^2} (-r)^n + \frac{r}{r+1} (n+1)(-r)^n \right] u[n] \quad (۴-۲۰۱)$$

شکل پاسخ ضربه برای مقادیر مختلف θ, r در شکل (۴-۴۷) رسم شده است. می‌توان نشان داد که به ازاء هر مقدار θ غیر از صفر پاسخ ضربه دارای نوسانات میرا خواهد بود و پاسخ پله دارای بالاپرش و نوسان حول مقدار نهایی می‌باشد و جالب است توجه کنیم که θ در حقیقت تعیین کننده باند فرکانسی است که توسط سیستم مرتبه دوم تقویت می‌شود و r تعیین کننده میزان قله و تیزی آن در پاسخ فرکانسی و در باند عبور می‌باشد.

چند نمونه از پاسخ فرکانسی سیستم‌های مرتبه دوم به ازاء مقادیر مختلف θ, r در شکل (۴۸-۴) رسم شده‌اند.



شکل ۴-۴۷ پاسخ پله سیستم مرتبه دوم به ازاء مقادیر مختلف $\theta, r = a$



شکل (۴-۴۸): رسم پاسخ فرکانسی سیستم مرتبه دوم به ازاء مقادیر مختلف θ, r

در پایان این بحث لازم به ذکر است که اگر معادله تفاضلی سیستم مرتبه دوم به صورت زیر باشد.

$$y[n] - (d_1 + d_2)y[n-1] + d_1d_2y[n-2] = x[n] \quad (۲۰۲-۴)$$

که در آن d_1, d_2 اعداد حقیقی هستند و در آن صورت می‌توان سیستم مرتبه دوم را به حاصلضرب دو سیستم مرتبه اول تفکیک نمود. مراحل تفکیک به صورت زیر است.

$$H(\Omega) = \frac{1}{(1 - d_1 e^{-j\Omega})(1 - d_2 e^{-j\Omega})} = \frac{A}{1 - d_1 e^{-j\Omega}} + \frac{B}{1 - d_2 e^{-j\Omega}} \quad (۲۰۳-۴)$$

که در آن

$$A = \frac{d_1}{d_1 - d_2}, \quad B = \frac{d_2}{d_2 - d_1} \quad (۲۰۴-۴)$$

در این صورت پاسخ ضربه و پاسخ پله به صورت زیر خواهند بود.

$$h[n] = [Ad_1^n + Bd_2^n]u[n] \quad (۲۰۵-۴)$$

$$s[n] = \left[A \left(\frac{1-d_1^{n+1}}{1-d_1} \right) + B \left(\frac{1-d_2^{n+1}}{1-d_2} \right) \right] u[n] \quad (۲۰۶-۴)$$

می‌بینیم در این حالت پاسخ ضربه شامل دو تابع نمایی حقیقی نزولی خواهد بود. چنین سیستمی را می‌توان از ترکیب سری دو سیستم مرتبه اول بدست آورد. اگر d_1, d_2 منفی باشند پاسخ نوسانی خواهد بود.

تاکنون توجه خود را به سیستم‌های پایدار معطوف کرده بودیم (سیستم‌هایی که تبدیل فوریه دارند). در حالت کلی سیستم مرتبه اولی که توسط معادله تفاضلی (۱۸۳-۴) مشخص می‌شود به ازاء $|a| > 1$ ناپایدار است و سیستم مرتبه دوم که توسط معادله تفاضلی (۱۸۹-۴) یا معادله تفاضلی (۲۰۲-۴) مشخص می‌شوند متناظراً به ازاء $|d_1| \geq 1, |d_2| \geq 1$ ناپایدار می‌باشند و خارج از مبحث فعلی ما قرار می‌گیرند.

۴-۹ خلاصه

در این فصل با توجه به اهمیت دنباله‌ها و سیستم‌های گسسته زمان ابتدا سری فوریه گسسته مورد بحث قرار گرفته و سپس تبدیل فوریه گسسته زمان (DTFT) مورد بحث قرار گرفت. روش استفاده از ضرایب DFT در محاسبه کانولوشن و خواص DTFT به تفصیل مورد بحث قرار گرفت. روش ساخت سیستم‌های مراتب بالا به کمک بلوک‌های اساسی و بررسی سیستم‌های مراتب اول و دوم به عنوان بلوک‌های اصلی سازنده سیستم‌های مراتب بالاتر در پایان مورد بحث قرار گرفتند. مثال (۲۵-۴): سری فوریه گسسته زمان دنباله زیر را بنویسید.

$$f[n] = \text{Cos}(0.1\pi n)$$

حل: در این حالت بدلیل اینکه $\frac{\Omega}{2\pi} = \frac{1}{20}$ می‌باشد، $f[n]$ متناوب است و دوره تناوب آن به صورت زیر محاسبه می‌شود.

$$N_0 = m \left(\frac{2\pi}{\Omega} \right) = m \left(\frac{2\pi}{0.1\pi} \right) = 20m$$

کوچکترین عدد صحیح m که $20m$ را به یک عدد صحیح تبدیل نماید به ازاء $m=1$ حاصل می‌شود، بنابراین دوره تناوب این دنباله $N_0 = 20$ می‌باشد و سری فوریه به صورت زیر است.

فصل چهارم: تبدیل فوریه گسسته‌زمان

$$f[n] = \sum_{k=0}^{19} a_k e^{j0.1\pi k n}$$

$$a_k = \frac{1}{20} \sum_{n=0}^{19} f[n] e^{-j0.1\pi k n} = \frac{1}{20} \sum_{n=0}^{19} \text{Cos}(0.1\pi n) e^{-j0.1\pi k n}$$

$$= \frac{1}{40} \sum_{n=0}^{19} (e^{j0.1\pi n} + e^{-j0.1\pi n}) e^{-j0.1\pi k n}$$

$$= \frac{1}{40} \left[\sum_{n=0}^{19} e^{j0.1\pi n(1-k)} + \sum_{n=0}^{19} e^{-j0.1\pi n(1+k)} \right]$$

نتیجتاً اولین مجموع به ازاء جميع مقادير k صفر است به جز $k = 1$. همچنين دومين مجموع به ازاء جميع مقادير k صفر است به جز $k = 19$ ، در اين صورت داريم.

$$a_1 = a_{19} = \frac{1}{2}$$

$$f[n] = \frac{1}{2} (e^{j0.1\pi n} + e^{j1.9\pi n})$$

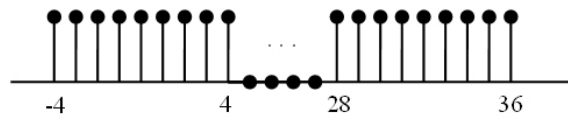
$$= \frac{1}{2} (e^{j0.1\pi n} + e^{-j0.1\pi n})$$

مثال (۴-۲۶): سری فوریه گسسته زمانی $f[n] = \text{Sin}0.1\pi n$ را بیابید.

حل: مشابه حل مثال قبلی به نتیجه زیر می‌رسیم.

$$f[n] = \frac{1}{j2} [e^{j0.1\pi n} - e^{-j0.1\pi n}]$$

مثال (۴-۲۷): سری فوریه گسسته زمانی دنباله رسم شده در زیر را بیابید.



شکل (۴-۴۹) سیگنال مربوط به مثال ۴-۲۷

حل: دوره تناوب این دنباله مساوی ۳۲ است پس $\Omega_0 = \frac{2\pi}{32} = \frac{\pi}{16}$ در نتیجه سری فوریه به صورت

زیر است.

$$f[n] = \sum_{k=\langle 32 \rangle} a_k e^{jk \frac{\pi}{16} n}, \quad a_k = \frac{1}{32} \sum_{n=\langle 32 \rangle} f[n] e^{-jk \frac{\pi}{16} n}$$

برای سادگی فرض می‌کنیم در مجموع دوم $-16 \leq n \leq 15$ انتخاب گردد، در این صورت

$$a_k = \frac{1}{32} \sum_{n=-16}^{15} f[n] e^{-jk \frac{\pi}{16} n}$$

و چون در فاصله مذکور فقط $f[n]$ به ازاء $-4 \leq n \leq 4$ مقدار دارد.

$$a_k = \frac{1}{32} \sum_{n=-4}^4 e^{-jk\frac{\pi}{16}n}$$

بنابراین

$$\begin{aligned} a_k &= \frac{1}{32} \left[\frac{e^{-j\frac{5\pi k}{16}} - e^{j\frac{4\pi k}{16}}}{e^{-j\frac{\pi k}{16}} - 1} \right] \\ &= \frac{1}{32} \frac{e^{-j\frac{0.5\pi k}{16}} \left[e^{-j\frac{4.5\pi k}{16}} - e^{j\frac{4.5\pi k}{16}} \right]}{e^{-j\frac{0.5\pi k}{16}} \left[e^{-j\frac{0.5\pi k}{16}} - e^{j\frac{0.5\pi k}{16}} \right]} \\ &= \frac{1}{32} \frac{\text{Sin}\left(\frac{4.5\pi k}{16}\right)}{\text{Sin}\left(\frac{0.5\pi k}{16}\right)} \\ &= \frac{1}{32} \frac{\text{Sin}(4.5k\Omega_0)}{\text{Sin}(0.5k\Omega_0)}, \quad \Omega_0 = \frac{\pi}{16} \end{aligned}$$

مثال (۴-۲۸): نشان دهید که دنباله‌هایی به صورت

$$\varphi_k[n] = \delta[n-k], \quad k = 0, \pm 1, \pm 2, \dots, \pm N$$

در فاصله $[-N, N]$ متعامد یکه (ارتونرمال) می‌باشند.

حل: کافی است شرایط زیر را تحقیق کنیم.

$$\sum_{n=-N_1}^{N_1} \varphi_k[n] \varphi_m^*[n] = \begin{cases} 1 & k = m \\ 0 & k \neq m \end{cases}$$

با قرار دادن $\varphi_m[n], \varphi_k[n]$ در رابطه فوق داریم.

$$\sum_{n=-N_1}^{N_1} \delta[n-k] \delta[n-m]$$

ولی می‌بینیم که این مجموع به ازاء تمام مقادیر k, m مساوی صفر است، مگر اینکه $k = m$ باشد.

در آن صورت داریم.

$$\sum_{n=-N_1}^{N_1} (\delta[n-k])^2 = 1$$

و اثبات کامل می‌شود.

مثال (۴-۲۹): تبدیل فوریه دنباله زیر را بیابید.

$$x[n] = a^n u[-(n+1)]$$

حل:

فصل چهارم: تبدیل فوریه گسسته زمان

$$\begin{aligned}
 X(\Omega) &= \sum_{n=-\infty}^{+\infty} a^n u[-(n+1)] e^{-j\Omega n} \\
 &= \sum_{n=-\infty}^{-1} (ae^{-j\Omega})^n = \sum_{n=1}^{\infty} \left(\frac{1}{a} e^{j\Omega}\right)^n = -1 + \sum_{n=0}^{\infty} \left(\frac{1}{a} e^{j\Omega}\right)^n \\
 &= -1 + \frac{1}{1 - \frac{1}{a} e^{j\Omega}} = \frac{1}{ae^{-j\Omega} - 1} = \frac{1}{(a\cos\Omega - 1) - ja\sin\Omega} \quad |a| > 1 \text{ به شرط}
 \end{aligned}$$

بنابراین

$$\begin{aligned}
 |X(\Omega)| &= \frac{1}{\sqrt{1 + a^2 - 2a\cos\Omega}} \\
 \angle X(\Omega) &= \text{tg}^{-1} \left[\frac{a\sin\Omega}{a\cos\Omega - 1} \right]
 \end{aligned}$$

مثال (۳۰-۴): تبدیل معکوس فوریه طیف پالس مربعی $X(\Omega)$ را بیابید.

$$X(\Omega) = \text{rect}\left(\frac{\Omega}{2\Omega_c}\right)$$

که در آن

$$\text{rect}\left(\frac{x}{2a}\right) = \begin{cases} 1 & -a < x < a \\ 0 & |x| > a \end{cases}$$

حل: طبق رابطه تبدیل معکوس فوریه داریم.

$$\begin{aligned}
 x[n] &= \frac{1}{2\pi} \int_{-\pi}^{\pi} X(\Omega) e^{j\Omega n} d\Omega \\
 &= \frac{1}{2\pi} \int_{-\Omega_c}^{\Omega_c} e^{j\Omega n} d\Omega \\
 &= \frac{1}{j2\pi n} e^{j\Omega n} \Big|_{-\Omega_c}^{\Omega_c} = \frac{\sin(\Omega_c n)}{\pi n} = \frac{\Omega_c}{\pi} \text{Sinc}\left(\frac{\Omega_c n}{\pi}\right)
 \end{aligned}$$

مثال (۴-۳۱): تبدیل فوریه دنباله‌های $x_2[n] = \delta[n - n_0]$, $x_1[n] = \delta[n]$ را بیابید.

حل:

$$\begin{aligned}
 X_1(\Omega) &= \sum_{n=-\infty}^{+\infty} x_1[n] e^{-j\Omega n} = \sum_{n=-\infty}^{+\infty} \delta[n] e^{-j\Omega n} \\
 &= \sum_{n=-\infty}^{+\infty} \delta[n] e^{-j\Omega n \times 0} = 1
 \end{aligned}$$

برای دنباله دوم نیز داریم.

$$X_2(\Omega) = \sum_{n=-\infty}^{+\infty} \delta[n - n_0] e^{-j\Omega n} = e^{-j\Omega n_0} \sum_{n=-\infty}^{+\infty} \delta[n - n_0] = e^{-j\Omega n_0}$$

مثال (۴-۳۲): نشان دهید که مجموعه سیگنالی به صورت $\phi_k(n) = e^{jk\frac{2\pi}{N}n}$ به ازاء $k = 0, 1, \dots, N-1$ در فاصله‌ای به طول N متعامد هستند. حل: کفایت مجموع زیر را حساب کنیم و تساوی را ثابت کنیم.

$$\sum \phi_k[n]\phi_m^*[n] = \begin{cases} 0 & k \neq m \\ A & k = m \end{cases}$$

که A عدد دلخواهی است.

با جایگذاری داریم (فاصله را به طور دلخواه از 0 تا $N-1$ در نظر می‌گیریم ولی هر فاصله دیگری با همین طول نیز همین جواب را می‌دهد).

$$\sum_{n=0}^{N-1} e^{jk\frac{2\pi}{N}n} e^{-jm\frac{2\pi}{N}n} = \sum_{n=0}^{N-1} e^{j(k-m)\frac{2\pi}{N}n}$$

در متن درس ثابت شده است که مجموعی به صورت فوق به ازاء $k \neq m$ مساوی صفر است و به ازاء $k = m$ مساوی N است. پس

$$\sum \phi_k[n]\phi_m^*[n] = \begin{cases} 0 & k \neq m \\ N & k = m \end{cases}$$

مثال (۴-۳۳): نشان دهید اگر $x[n] = \sum_{i=1}^M a_i \phi_i[n]$ باشد، که در آن $\phi_i[n]$ یک مجموعه سیگنال متعامد در فاصله (N_1, N_2) هستند، در آن صورت

$$\sum_{n=N_1}^{N_2} |x[n]|^2 = \sum_{i=1}^M |a_i|^2 A_i$$

که در آن A_i عدد ثابت است که البته تابع اندیس نیز می‌تواند باشد. حل:

$$\begin{aligned} \sum_{n=N_1}^{N_2} |x[n]|^2 &= \sum_{n=N_1}^{N_2} x[n]x^*[n] = \sum_{n=N_1}^{N_2} \left[\sum_{i=1}^M a_i \phi_i[n] \sum_{j=1}^M a_j^* \phi_j^*[n] \right] \\ &= \sum_{i=1}^M \sum_{j=1}^M a_i a_j^* \sum_{n=N_1}^{N_2} \phi_i[n] \phi_j^*[n] \end{aligned}$$

اما در مثال (۴-۳۲) ثابت باشد که اگر $\phi_i[n]$ تشکیل یک مجموعه سیگنال متعامد به ازاء مقادیر مشخصی از i, j در فاصله مشخص را بدهد در آن صورت مجموع $\sum_{n=N_1}^{N_2} \phi_i[n] \phi_j^*[n]$ فقط به ازاء

مقادیر $i = j$ غیر صفر و مساوی A_i می‌باشد، بنابراین

$$\sum_{n=N_1}^{N_2} |x[n]|^2 = \sum_{i=1}^M |a_i|^2 A_i$$

و قضیه ثابت می‌شود.

فصل چهارم: تبدیل فوریه گسسته زمان

مثال (۴-۳۴): پاسخ ضربه یک سیستم LTI گسسته زمان به صورت زیر است.

$$h[n] = \left(\frac{1}{2}\right)^{|n|}$$

سری فوریه خروجی سیستم را بیابید اگر ورودی آن به صورت زیر باشد.

$$x[n] = \sum_{m=-\infty}^{+\infty} \delta[n-4m]$$

حل: ابتدا تبدیل فوریه ورودی را پیدا می‌کنیم، برای این کار احتیاج به ضرایب سری فوریه $x[n]$ داریم.

$$a_k = \frac{1}{4} \sum_{n=0}^3 e^{-jk\frac{2\pi}{4}n} \sum_{m=-\infty}^{\infty} \delta[n-4m] = \frac{1}{4} \sum_{n=0}^3 e^{-jk\frac{2\pi}{4}n} \delta[n] = \frac{1}{4}$$

بنابراین می‌توان $X(\Omega)$ را بدین صورت نوشت.

$$X(\Omega) = 2\pi \sum_{k=-\infty}^{+\infty} a_k \delta\left(\Omega - \frac{k\pi}{2}\right)$$

اما تبدیل فوریه ورودی را قبلاً در متن درس حساب کرده‌ایم.

$$X(\Omega) = \frac{1 - \frac{1}{4}}{1 - \cos\Omega + \frac{1}{4}} = \frac{3}{5 - 4\cos\Omega}$$

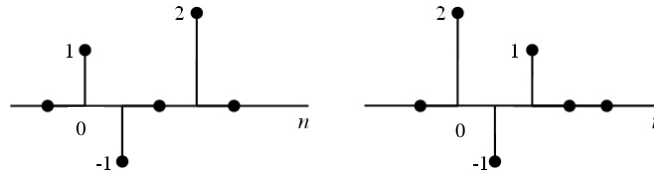
تبدیل فوریه خروجی از حاصلضرب تبدیل فوریه ورودی در تبدیل فوریه پاسخ ضربه سیستم به صورت زیر بدست می‌آید.

$$\begin{aligned} Y(\Omega) &= H(\Omega)X(\Omega) = \frac{3}{5 - 4\cos\Omega} \times 2\pi \sum_{k=-\infty}^{+\infty} a_k \delta\left(\Omega - \frac{k\pi}{2}\right) \\ &= 2\pi \sum_{k=-\infty}^{+\infty} \frac{3a_k}{5 - 4\cos\frac{k\pi}{2}} \delta\left(\Omega - \frac{k\pi}{2}\right) \end{aligned}$$

بنابراین ضرایب سری فوریه خروجی از رابطه زیر بدست می‌آیند.

$$b_k = \frac{\frac{3}{4}}{5 - 4\cos\frac{k\pi}{2}}$$

مثال (۴-۳۵): مراحل کانولوشن معمولی دو دنباله زیر را به کمک استفاده از DFT توضیح دهید.



شکل (۴-۵۰) مربوط به مثال (۴-۳۵)

حل: ابتدا DFT شش نقطه‌ای $x_1[n]$ و $x_2[n]$ را حساب می‌کنیم. چون $N_2=3, N_1=4$ می‌باشد، لذا دوره تناوب برای حاصل کانولوشن را برابر $N = N_1 + N_2 - 1 = 6$ در نظر می‌گیریم.

$$\begin{aligned}\tilde{X}_1(k) &= \frac{1}{N} \sum_{n=0}^3 x_1[n] e^{-jk(\frac{2\pi}{N})n} \\ &= \frac{1}{6} \sum_{n=0}^3 x_1[n] e^{-jk(\frac{2\pi}{6})n} = \frac{1}{6} \left[1 - e^{-jk\frac{\pi}{3}} + 2e^{-jk\pi} \right]\end{aligned}$$

که در آن $k = 0, 1, 2, 3, 4, 5$.

همین کار را برای $x_2[n]$ نیز انجام می‌دهیم.

$$\tilde{X}_2(k) = \frac{1}{6} \left[2 - e^{-jk\frac{\pi}{3}} + e^{-jk\frac{2\pi}{3}} \right], \quad k = 0, 1, 2, 3, 4, 5$$

مرحله بعدی محاسبه حاصلضرب دو DFT می‌باشد.

$$\begin{aligned}\tilde{Y}(k) &= 6\tilde{X}_1(k)\tilde{X}_2(k) = \frac{1}{6} \sum_{n=0}^5 y[n] e^{-jk\frac{2\pi}{3}n} \\ &= \frac{6}{36} \left[2 - e^{-jk\frac{\pi}{3}} + e^{-jk\frac{2\pi}{3}} - 2e^{-jk\frac{\pi}{3}} + e^{-j\frac{2k\pi}{3}} - e^{-jk\pi} + 4e^{-jk\pi} \right. \\ &\quad \left. - 2e^{-j4\frac{k\pi}{3}} + 2e^{-j5\frac{k\pi}{3}} \right] \\ &= \frac{6}{36} \left[2 - 3e^{-jk\frac{\pi}{3}} + 2e^{-j\frac{2k\pi}{3}} + 3e^{-jk\pi} - 2e^{-j\frac{4k\pi}{3}} + 2e^{-j\frac{5k\pi}{3}} \right]\end{aligned}$$

بنابراین با توجه به رابطه معکوس DFT یا IDFT می‌توان حاصل کانولوشن معمولی $x_1[n]$ و $x_2[n]$ را بدست آورد.

$$y[n] = \sum_{k=0}^5 \tilde{Y}(k) e^{jk\frac{2\pi}{N}n} \quad n = 0, 1, 2, 3, 4, 5$$

$$y[0] = 2, \quad y[1] = -3, \quad y[2] = 2, \quad y[3] = 3, \quad y[4] = -2, \quad y[5] = 2$$

که البته مقادیر فوق از روش کانولوشن معمولی نیز به سادگی قابل محاسبه می‌باشد.

مثال (۳۶-۴): فرض کنید $X(\Omega)$ تبدیل فوریه یک دنباله غیرحقیقی $x[n]$ باشد. تبدیل فوریه دنباله‌های زیر را برحسب تبدیل فوریه $X(\Omega)$ بیابید.

الف) $\Re\{x[n]\}$

ب) $x^*[-n]$

ج) $\mathcal{E}\{x[n]\}$

حل: الف)

$$y[n] = \Re\{x[n]\} = \frac{1}{2} \{x[n] + x^*[n]\}$$

فصل چهارم: تبدیل فوریه گسسته‌زمان

با گرفتن تبدیل فوریه از طرفین رابطه فوق داریم.

$$Y(\Omega) = \frac{1}{2} \{F\{x[n]\} + F\{x^*[n]\}\}$$

اکنون فقط لازم است تبدیل فوریه $x^*[n]$ را بیابیم. تبدیل فوریه $x[n]$ به صورت زیر است.

$$X(\Omega) = \sum_{n=-\infty}^{+\infty} x[n]e^{-j\Omega n}$$

در نتیجه داریم.

$$X^*(\Omega) = \sum_{n=-\infty}^{+\infty} x^*[n]e^{j\Omega n}$$

و بالاخره با تبدیل Ω به $-\Omega$ رابطه فوق به صورت زیر تبدیل می‌شود

$$X^*(-\Omega) = \sum_{n=-\infty}^{+\infty} x^*[n]e^{-j\Omega n}$$

پس تبدیل $x^*[n]$ فوریه مساوی است با $X^*(-\Omega)$ بنابراین

$$Y(\Omega) = \frac{1}{2} \{X(\Omega) + X^*(-\Omega)\}$$

(ب) به سادگی با توجه به رابطه تبدیل فوریه و تبدیل n به $-n$ داریم.

$$X(\Omega) = \sum_{n=-\infty}^{+\infty} x[-n]e^{j\Omega n}$$

در نتیجه خواهیم داشت.

$$X^*(\Omega) = \sum_{n=-\infty}^{+\infty} x^*[-n]e^{-j\Omega n}$$

بنابراین تبدیل فوریه $x^*[-n]$ مساوی $X^*(\Omega)$ می‌باشد.

$$y[n] = \mathcal{EV}\{x[n]\} = \frac{1}{2} \{x[n] + x[-n]\} \quad (\text{ج})$$

برای بدست آوردن تبدیل فوریه $\mathcal{EV}\{x[n]\}$ کافی است تبدیل فوریه $x[-n]$ را یافت. با توجه به رابطه تبدیل فوریه می‌توان به سادگی تبدیل فوریه $x[-n]$ را یافت.

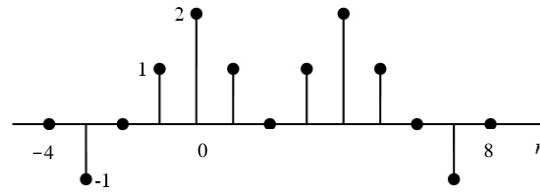
$$X(-\Omega) = \sum_{n=-\infty}^{+\infty} x[-n]e^{-j\Omega n}$$

بنابراین تبدیل فوریه $y[n]$ برابر است با

$$Y(\Omega) = \frac{1}{2} \{X(\Omega) + X(-\Omega)\} = \mathcal{EV}\{X(\Omega)\}$$

مثال (۴-۳۷): فرض کنید $X(\Omega)$ تبدیل فوریه دنباله $x[n]$ باشد (در شکل رسم شده است). بدون محاسبه مستقیم $X(\Omega)$ مطلوبست.

$$\int_{-\pi}^{\pi} |X(\Omega)|^2 d\Omega \quad (\text{و}) \quad X(\pi) \quad (\text{د}) \quad \int_{-\pi}^{\pi} X(\Omega) d\Omega \quad (\text{ج}) \quad \angle X(\Omega) \quad (\text{ب}) \quad X(0) \quad (\text{الف})$$



شکل (۴-۱) (۵)

الف) با توجه به رابطه تبدیل فوریه داریم

$$X(\Omega) = \sum_{n=-\infty}^{+\infty} x[n]e^{-j\Omega n} \rightarrow X(0) = \sum_{n=-\infty}^{+\infty} x[n] = 6$$

ب) با توجه به شکل $x[n]$ می بینیم دنباله $x[n+2]$ یک دنباله حقیقی زوج می باشد، بنابراین تبدیل فوریه دنباله $y[n] = x[n+2]$ دارای فاز صفر است (حقیقی می باشد) در نتیجه دنباله $x[n]$ برابر است با

$$x[n] = y[n-2]$$

و ارتباط تبدیل فوریه $x[n]$ بر حسب تبدیل فوریه $y[n]$ به صورت زیر بیان می گردد.
 $X(\Omega) = Y(\Omega)e^{-j2\Omega}$ و چون $Y(\Omega)$ دارای فاز صفر است، بنابراین $X(\Omega)$ دارای فاز $e^{-j2\Omega}$ می باشد.

ج) با توجه به رابطه تبدیل معکوس فوریه داریم.

$$x[n] = \frac{1}{2\pi} \int_{-\pi}^{\pi} X(\Omega) e^{j\Omega n} d\Omega$$

$$2\pi x[0] = \int_{-\pi}^{\pi} X(\Omega) d\Omega = 4\pi$$

بنابراین

د)

$$\begin{aligned} X(\pi) &= \sum_{n=-\infty}^{+\infty} x[n]e^{-j\pi n} = \sum_{n=-\infty}^{+\infty} (-1)^n x[n] \\ &= (-1)^{-3}(-1) + (-1)^{-1}(1) + (-1)^0(2) + (-1)^1(1) + (-1)^3(1) \\ &\quad + (-1)^4(2) + (-1)^5(1) + (-1)^7(-1) \\ &= 1 - 1 + 2 - 1 - 1 + 2 - 1 + 1 = 2 \end{aligned}$$

و) طبق رابطه پارسوال

$$\begin{aligned} \int_{-\pi}^{\pi} |X(\Omega)|^2 d\Omega &= 2\pi \sum_{n=-\infty}^{+\infty} |x[n]|^2 \\ &= 2\pi[1+1+4+1+1+4+1+1] = 28\pi \end{aligned}$$

مثال (۴-۳۸): یک سیستم LTI علی که بوسیله معادله تفاضلی زیر بیان می گردد را در نظر بگیرید، مطلوبست پاسخ ضربه سیستم.

$$y[n] - \frac{3}{8}y[n-1] + \frac{1}{32}y[n-2] = x[n]$$

فصل چهارم: تبدیل فوریه گسسته‌زمان

حل: با استفاده از تبدیل فوریه طرفین معادله تفاضلی فوق داریم.

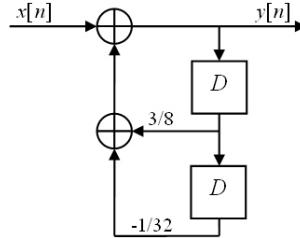
$$Y(\Omega) - \frac{3}{8}Y(\Omega)e^{-j\Omega} + \frac{1}{32}Y(\Omega)e^{-j2\Omega} = X(\Omega)$$

$$\frac{Y(\Omega)}{X(\Omega)} = \frac{1}{1 - \frac{3}{8}e^{-j\Omega} + \frac{1}{32}e^{-j2\Omega}} = \frac{1}{(1 - \frac{1}{4}e^{-j\Omega})(1 - \frac{1}{8}e^{-j\Omega})}$$

$$= \frac{2}{1 - \frac{1}{4}e^{-j\Omega}} + \frac{-1}{1 - \frac{1}{8}e^{-j\Omega}} \quad \text{و} \quad h[n] = \left[2\left(\frac{1}{4}\right)^n - \left(\frac{1}{8}\right)^n \right] u[n]$$

مثال (۴-۳۹): سیستم مثال (۴-۳۸) را به کمک بلوک‌های اساسی بسازید.

حل: با توجه به معادله تفاضلی به سادگی سیستم را به صورت شکل ۴-۵۲ خواهیم داشت.



شکل (۴-۵۲): مربوط به مثال (۴-۳۹)

مثال ۴-۴۰ معکوس سیستم با معادله تفاضلی

$$y[n] + y[n-1] + \frac{1}{4}y[n-2] = x[n-1] + \frac{1}{2}x[n-2]$$

را بیابید.

حل: یک روش حل این است که ابتدا تابع سیستم را بسازیم و بعد آن را معکوس کنیم. با گرفتن تبدیل فوریه از معادله فوق داریم.

$$Y(\Omega) + Y(\Omega)e^{-j\Omega} + \frac{1}{4}Y(\Omega)e^{-j2\Omega} = X(\Omega)e^{-j\Omega} + \frac{1}{2}X(\Omega)e^{-j2\Omega}$$

و بنابراین

$$H(\Omega) = \frac{e^{-j\Omega} + \frac{1}{2}e^{-j2\Omega}}{1 + e^{-j\Omega} + \frac{1}{4}e^{-j2\Omega}}$$

در نتیجه سیستم معکوس دارای تابع شبکه به صورت زیر است.

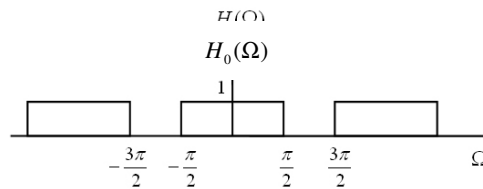
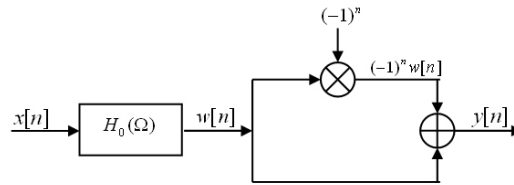
$$H_i(\Omega) = \frac{1}{H(\Omega)} = \frac{1 + e^{-j\Omega} + \frac{1}{4}e^{-j2\Omega}}{e^{-j\Omega} + \frac{1}{2}e^{-j2\Omega}}$$

$$= \frac{(1 + \frac{1}{2}e^{-j\Omega})^2}{e^{-j\Omega}(1 + \frac{1}{2}e^{-j\Omega})} = \frac{1 + \frac{1}{2}e^{-j\Omega}}{e^{-j\Omega}} = e^{j\Omega} + \frac{1}{2}$$

در حوزه زمان $h_i[n] = \delta[n+1] + \frac{1}{2}\delta[n]$ همانگونه که می بینیم این سیستم علی نمی باشد.

مثال (۴-۴): طیف $H(\Omega)$ را برای سیستم زیر بیابید.

$$H(\Omega) = \frac{Y(\Omega)}{X(\Omega)}$$



شکل ۴-۵ تابع انتقال سیستم $H_0(\Omega)$

حل: برای رسم طیف $H(\Omega)$ کافیسست ورودی را $x[n] = \delta[n]$ در نظر گرفته، در آن صورت $y[n] = \delta[n]$ بدست می آید. البته لازم به ذکر است که تبدیل فوریه $(-1)^n$ قبلاً بدست آمده است.

$$(-1)^n = \cos \pi n = \frac{1}{2} [e^{j\pi n} - e^{-j\pi n}]$$

$$(-1)^n \leftrightarrow \frac{1}{2} \left[2\pi \sum_{k=-\infty}^{+\infty} \delta(\Omega - \pi - 2k\pi) + 2\pi \sum_{k=-\infty}^{+\infty} \delta(\Omega + \pi - 2k\pi) \right]$$

که البته هر دو جمله طرف ثانی یکی هستند، پس

$$(-1)^n \leftrightarrow 2\pi \sum_{k=-\infty}^{+\infty} \delta(\Omega - \pi - 2k\pi)$$

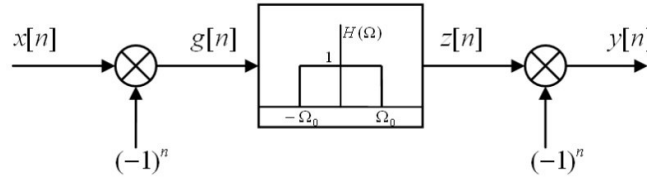
بنابراین طبق خاصیت مدولاسیون داریم.

$$H(\Omega) = H_0(\Omega) + \frac{1}{2\pi} \int_{2\pi}^{+\infty} 2\pi \sum_{k=-\infty}^{+\infty} \delta(\lambda - \pi - 2k\pi) H_0(\Omega - \lambda) d\lambda = H_0(\Omega) + H_0(\Omega - \pi) = 1$$

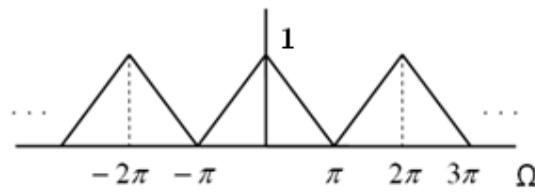
فصل چهارم: تبدیل فوریه گسسته‌زمان

یعنی این سیستم یک سیستم تمام گذر است.

مثال (۴-۸): خروجی سیستم زیر را بیابید اگر $\Omega_0 = \frac{\pi}{2}$.

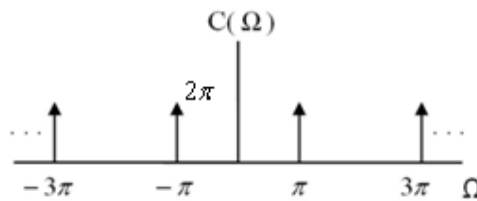


فرض کنید طیف $x[n]$ بصورت زیر باشد.

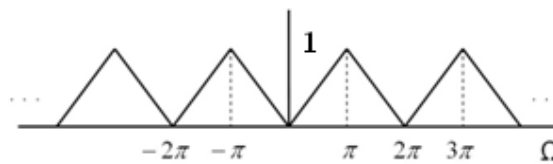


حل: طیف دنباله $c[n] = (-1)^n$ بصورت زیر است.

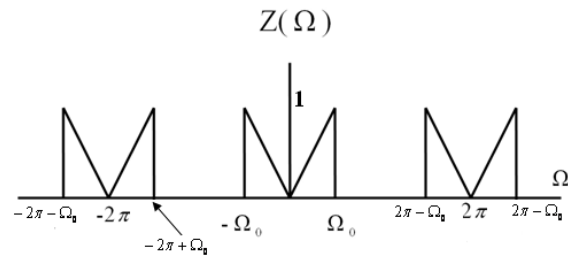
$$F[(-1)^n] = C(\Omega) = \sum_{k=-\infty}^{\infty} 2\pi\delta(\Omega - (2k+1)\pi)$$



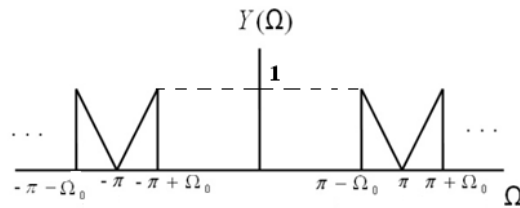
بنابراین دنباله $g[n]$ در حقیقت یک دنباله مدولاسیون دامنه می‌باشد که از سوار شدن دنباله مدوله‌کننده $x[n]$ بر روی دنباله حامل $c[n]$ یا $(-1)^n$ حاصل شده است. بنابراین طیف $G(\Omega)$ بصورت زیر بدست می‌آید.



$z[n]$ در حقیقت از فیلتر کردن $g[n]$ توسط یک فیلتر پایین‌گذر حاصل می‌شود. پس طیف $z[n]$ بصورت زیر است.



$y[n]$ یک دنباله مدوله شده دامنه می باشد که ناشی از سوار شدن دنباله مدوله کننده $z[n]$ روی حامل $c[n] = (-1)^n$ می باشد. بنابراین طیف $y[n]$ از یک انتقال به اندازه π در طیف $z[n]$ بدست می آید.

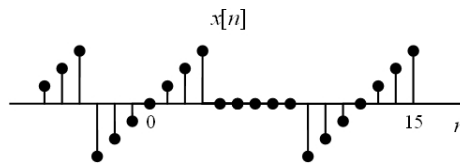
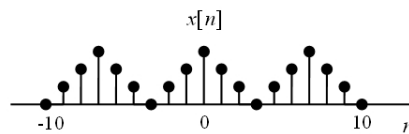


۴-۱۰ مسائل

۴-۱ سری فوریه گسسته زمانی سیگنال های زیر را بیابید.

$$x[n] = 2\cos(3.2\pi(n-3))$$

$$x[n] = 2\cos(2.2\pi n)$$

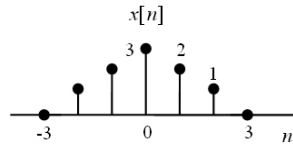


شکل ۴-۵ مربوط به مثال ۴-۱

۴-۲ تبدیل فوریه گسسته زمان دنباله های زیر را بیابید.

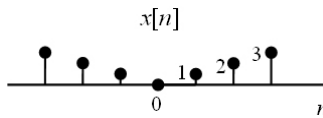
(الف)

فصل چهارم: تبدیل فوریه گسسته زمان



شکل ۴-۵۵ مربوط به مثال ۴-۲

ب) $y[n] = x[n-3]$ که در آن $x[n]$ همان دنباله مذکور در قسمت الف می باشد.
ج)



شکل ۴-۵۶ مربوط به مثال ۴-۲

۴-۳ تبدیل معکوس پاسخ فرکانسی زیر را بیابید (فرض کنید که سیستم علی است)

$$H(\Omega) = \frac{e^{j\Omega} + 0.32}{e^{j2\Omega} + e^{j\Omega} + 0.16}$$

۴-۴ پاسخ معکوس سیستم با معادله تفاضلی

$$y[n] + y[n-1] + \frac{1}{4}y[n-2] = x[n-1] + \frac{1}{2}x[n-2]$$

را به ورودی زیر بیابید.

$$x[n] = (0.5)^n u[n]$$

۴-۵ پاسخ سیستم $H(\Omega)$ را به ورودی $x[n]$ بیابید اگر

$$H(\Omega) = \frac{e^{j\Omega} - 0.5}{(e^{j\Omega} + 0.5)(e^{j\Omega} - 1)} \quad \text{و} \quad x[n] = 3^{-(n+1)} u[n]$$

۴-۶ فرض کنید $x_c(t)$ یک سیگنال پیوسته زمان دوره تناوب با دوره تناوب یک میلی ثانیه باشد. سری فوریه سیگنال مذکور به صورت زیر می باشد.

$$x_c(t) = \sum_{k=-9}^9 a_k e^{j\left(\frac{2\pi k t}{10^{-3}}\right)}$$

ضرایب سری فوریه به ازاء $|k| > 9$ مساوی صفر هستند. مطلوبست ضرایب سری فوریه گسسته زمان سیگنال $x[n]$ که با نمونه برداری از $x_c(t)$ حاصل شده است.

$$x[n] = x_c\left(\frac{n}{6} \times 10^{-3}\right)$$

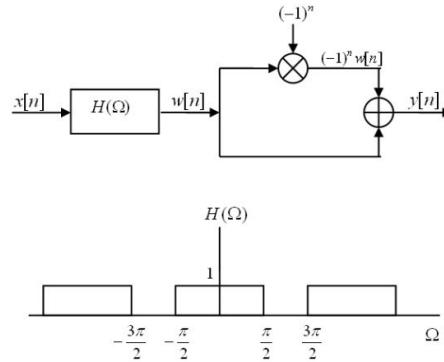
۴-۷ پاسخ سیستم $H(\Omega) = \frac{e^{j\Omega}}{e^{j\Omega} - \frac{1}{2}}$ را به ورودی $x[n] = \left(\frac{8}{10}\right)^k u[n] - 2(2)^2 u[-(n+1)]$ بیابید.

۴-۸ تبدیل فوریه دنباله های زیر را بیابید.

$$x[n] = a^n \text{Cos}(\Omega_0 n) u[n] \quad |a| < 1, \quad x[n] = a^n \text{Sin}(\Omega_0 n) u[n] \quad |a| < 1$$

۹-۴ خروجی سیستم زیر را بیابید اگر ورودی به صورت زیر باشد.

$$x[n] = \delta[n] + 1$$



شکل ۴-۵۷ مربوط به مثال ۹-۴

۱۰-۴ تبدیل فوریه یک دنباله گسسته زمان $x[n]$ را $X(\Omega)$ می‌نامیم. مطلوبست تبدیل فوریه دنباله‌های $x_c[n]$ ، $x_d[n]$ ، $x_s[n]$ بر حسب $X(\Omega)$ اگر

$$x_c[n] = \begin{cases} x\left[\frac{n}{2}\right] & n, \text{ even} \\ 0 & n, \text{ odd} \end{cases}$$

$$x_s[n] = \begin{cases} x[n] & n, \text{ even} \\ 0 & n, \text{ odd} \end{cases}$$

$$x_d[n] = x[2n]$$

۱۱-۴ زوج دنباله‌های $x[n]$ و $y[n]$ را در نظر بگیرید. برای هر زوج تعیین کنید آیا سیستمی LTI یافت می‌شود که ورودی آن $x[n]$ و خروجی آن $y[n]$ باشد؟ (پاسخ خود را با دلیل بیان کنید). اگر چنین سیستمی وجود دارد، آیا این سیستم یگانه است؟ و یا چند سیستم (LTI یا غیر LTI) را می‌توان بگونه‌ای یافت که زوج ورودی و خروجی آن‌ها $[x[n], y[n]]$ باشند.

الف) $x[n] = \left(\frac{1}{2}\right)^n$ ، $y[n] = \left(\frac{1}{4}\right)^n$

ب) $x[n] = \left(\frac{1}{2}\right)^n u[n]$ ، $y[n] = \left(\frac{1}{4}\right)^n u[n]$

ج) $x[n] = \left(\frac{1}{2}\right)^n u[n]$ ، $y[n] = 4^n u[-n]$

د) $x[n] = e^{\frac{jn}{8}}$ ، $y[n] = 2e^{\frac{jn}{8}}$

و) $x[n] = \cos\left(\frac{\pi n}{3}\right)$ ، $y[n] = \cos\frac{\pi n}{3} + \sqrt{3}\sin\frac{\pi n}{3}$

فصل چهارم: تبدیل فوریه گسسته‌زمان

۱۲-۴ تبدیل فوریه هر یک از دنباله‌های زیر را بیابید.

الف) $n\left(\frac{1}{2}\right)^{|n|}$

ب) $\left(\frac{1}{2}\right)^n [u[n+3] - u[n-2]]$

ج) $\sum_{k=-\infty}^{+\infty} \left(\frac{1}{4}\right)^k \delta[n-3k]$

۱۳-۴ $x[n]$ و $y[n]$ دو دنباله حقیقی با تبدیل فوریه $Y(\Omega)$ و $X(\Omega)$ باشند، تابع همبستگی بین دو دنباله به صورت زیر تعریف می‌شود.

$$\phi_{xy}[n] = \sum_{k=-\infty}^{+\infty} x[k+n]y[k]$$

به همین ترتیب می‌توان $\phi_{xx}[n]$ ، $\phi_{yy}[n]$ ، $\phi_{yx}[n]$ را تعریف نمود. مطلوبست ارتباط تبدیل فوریه $\phi_{xx}[n]$ ، $\phi_{yy}[n]$ ، $\phi_{xy}[n]$ ، $\phi_{yx}[n]$ بر حسب $Y(\Omega)$ و $X(\Omega)$.

۱۴-۴ فرض کنید دنباله $x[n] = \text{Sin}\left(\frac{\pi n}{84}\right) - 2\text{Cos}\left(\frac{\pi n}{4}\right)$ ورودی به هر یک از سیستم‌های زیر باشد.

الف) $h[n] = \frac{\text{Sin}\left(\frac{\pi n}{6}\right)}{\pi n}$

ب) $h[n] = \frac{\text{Sin}\left(\frac{\pi n}{6}\right)}{\pi n} + \frac{\text{Sin}\left(\frac{\pi n}{2}\right)}{\pi n}$

ج) $h[n] = \frac{\text{Sin}\left(\frac{\pi n}{6}\right)\text{Sin}\left(\frac{\pi n}{3}\right)}{\pi^2 n^2}$

مطلوبست خروجی هریک از سیستم‌های فوق در حوزه زمان و فرکانس.

۱۵-۴ پاسخ ضربه را برای هر یک از سیستم‌هایی که بوسیله معادلات تفاضلی زیر بیان می‌گردند بدست آورده و سپس سیستم را به کمک بلوک‌های اساسی بسازید (فرض کنید سیستم علی است).

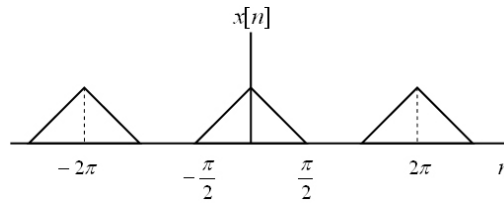
الف) $y[n] + \frac{1}{2}y[n-1] = x[n] - \frac{1}{4}x[n-1]$

ب) $y[n] + \frac{5}{4}y[n-1] - \frac{1}{8}y[n-2] = x[n]$

ج) $y[n] + \frac{5}{4}y[n-1] - \frac{1}{8}y[n-2] = x[n] - \frac{1}{4}x[n-1] - \frac{1}{8}x[n-2]$

۱۶-۴ معکوس سیستم‌های مثال (۱۵-۴) را بدست آورده و به کمک بلوک‌های اساسی بسازید.

۱۷-۴ فرض کنید طیف $x[n]$ به صورت زیر باشد. مطلوبست طیف $z[n] = x[n]p[n]$ اگر



شکل ۴-۵۸ مربوط به مثال ۴-۱۷

الف) $p[n] = \cos \pi n$

ب) $p[n] = \sin \frac{\pi n}{2}$

ج) $p[n] = \cos \frac{\pi n}{2}$

د) $p[n] = \sum_{k=-\infty}^{+\infty} \delta[n - 2k]$

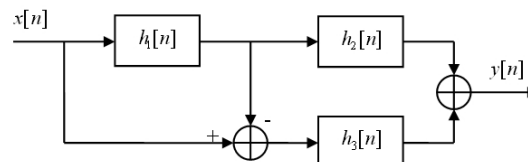
هـ) $p[n] = \sum_{k=-\infty}^{+\infty} \delta[n - 4k]$

۴-۱۸ در سیستم زیر $H(\Omega) = \frac{Y(\Omega)}{X(\Omega)}$ را بیابید.

$$h_1[n] = e^{-|n|}$$

$$H_2(\Omega) = \begin{cases} 1 & |\Omega| < \frac{\pi}{4} \\ 0 & \frac{\pi}{4} < |\Omega| < \frac{\pi}{2} \end{cases}$$

$$H_3(\Omega) = \frac{1}{1 + \frac{1}{2}e^{-j\Omega} + \frac{1}{3}e^{-j2\Omega}}$$



شکل ۴-۵۹ مربوط به مثال ۴-۱۸

۴-۱۹ ورودی یک سیستم مجهول خطی به صورت زیر است.

$$x[n] = \left(\frac{1}{2}\right)^n u[n] - \frac{1}{4} \left(\frac{1}{2}\right)^{n-1} u[n-1]$$

اگر خروجی این سیستم در پاسخ به ورودی فوق برابر مقدار زیر باشد.

$$y[n] = \left(\frac{1}{3}\right)^n u[n]$$

فصل چهارم: تبدیل فوریه گسسته‌زمان

مطلوبست پاسخ فرکانسی سیستم و پاسخ ضربه آن.

۴-۲۰ سیستم مطرح شده در مثال (۴-۱۹) را به کمک بلوک‌های اساسی بسازید.

۴-۲۱ یک سیستم LTI به کمک معادله تفاضلی زیر بیان می‌گردد

$$y[n] - \frac{1}{2}y[n-1] = x[n]$$

الف) مطلوبست پاسخ فرکانسی سیستم.

ب) مطلوبست خروجی سیستم به ازاء ورودی‌های زیر.

$$x[n] = \left(\frac{1}{2}\right)^n u[n] \quad \text{و} \quad x[n] = \left(-\frac{1}{2}\right)^n u[n] \quad \text{و} \quad x[n] = \delta[n] + \left(\frac{1}{2}\right)^n u[n]$$

۴-۲۲ پاسخ ضربه سیستمی با طیفی به صورت‌های زیر را بیابید، همچنین تعیین کنید کدامیک از سیستم‌های زیر علی است.

$$H(\Omega) = \frac{1 - \frac{1}{4}e^{-j\Omega}}{1 + \frac{1}{2}e^{-j\Omega}} \quad \text{و} \quad H(\Omega) = \frac{1 + \frac{1}{2}e^{-j\Omega}}{1 - \frac{1}{4}e^{-j\Omega}} \quad \text{و} \quad H(\Omega) = 1 + 2e^{-j3\Omega}$$

۴-۲۳ دامنه و فاز پاسخ فرکانسی $X(\Omega)$ را رسم کنید اگر

$$X(\Omega) = 1 + 2e^{-j\Omega} \quad X(\Omega) = \frac{1}{\left(1 - \frac{1}{4}e^{-j\Omega}\right)\left(1 + \frac{3}{4}e^{-j\Omega}\right)}$$

$$X(\Omega) = \frac{1 + 2e^{-j\Omega}}{1 + 2e^{-j\Omega}} \quad X(\Omega) = \frac{1}{\left(1 + \frac{1}{2}e^{-j\Omega}\right)^3}$$

۴-۲۴ سیستمی با پاسخ فرکانسی به صورت زیر را به کمک بلوک‌های اساسی بسازید.

$$H(\Omega) = \frac{e^{-j4\Omega}}{\left(1 + \frac{1}{6}e^{-j\Omega} - \frac{1}{6}e^{-j2\Omega}\right)}$$

۴-۲۵ یک سیستم علی LTI توسط معادله تفاضلی زیر بیان می‌گردد

$$y[n] - \frac{\sqrt{2}}{2}y[n-1] + \frac{1}{4}y[n-2] = x[n] - n[n-1]$$

مطلوبست پاسخ فرکانسی و پاسخ ضربه سیستم.

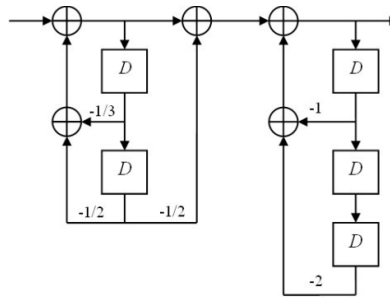
۴-۲۶ یک سیستم علی LTI با معادله تفاضلی زیر را در نظر بگیرید.

$$y[n] - ay[n-1] = bx[n] + x[n-1]$$

مطلوبست محاسبه مقدار b بگونه‌ای که پاسخ فرکانسی سیستم در معادله زیر صدق کند.

$$|H(\Omega)| = 1 \quad \text{ها} \quad \Omega$$

۴-۲۷ پاسخ ضربه سیستم زیر را بیابید.



شکل ۴-۶۰ مربوط به مثال ۴-۲۷

۴-۲۸ یک سیستم LTI علی با ورودی $x[n]$ و خروجی $y[n]$ مفروض است. این سیستم توسط یک زوج معادله تفاضلی به صورت زیر مشخص می‌شود.

$$\begin{cases} y[n] + \frac{1}{4}y[n-1] + w[n] + \frac{1}{2}w[n-1] = \frac{2}{3}x[n] \\ y[n] - \frac{5}{4}y[n-1] + 2w[n] - 2w[n-1] = -\frac{5}{3}x[n] \end{cases}$$

پاسخ ضربه این سیستم را بیابید (در معادله دنباله $w[n]$ یک دنباله واسطه باشد).

۴-۲۹ برنامه‌های کامپیوتری بنویسید که کارهای زیر را انجام دهد.

الف: از روی معادله $x[n] = \sum_{k=\langle N \rangle} a_k e^{jk\frac{2\pi}{N}n}$ و تشکیل N معادله و N مجهول، a_k ها را حساب و رسم کنید.

ب: از روی معادله $a_k = \frac{1}{N} \sum_{k=\langle N \rangle} x[n] e^{-jk\frac{2\pi}{N}n}$ اولاً بتواند با داشتن $x[n]$ ، a_k را حساب کند و ثانیاً با داشتن a_k ، $x[n]$ را محاسبه و رسم کند.

۴-۳۰ سیستمی که دارای پاسخ ضربه به صورت زیر است را به کمک بلوک‌های اساسی بسازید.

$$h[n] = 5 \times (0.8)^{-|n|}$$

۴-۳۱ سیستمی که دارای پاسخ ضربه به صورت زیر است را به کمک بلوک‌های اساسی بسازید.

$$h[n] = e^{-2n}u[n]$$