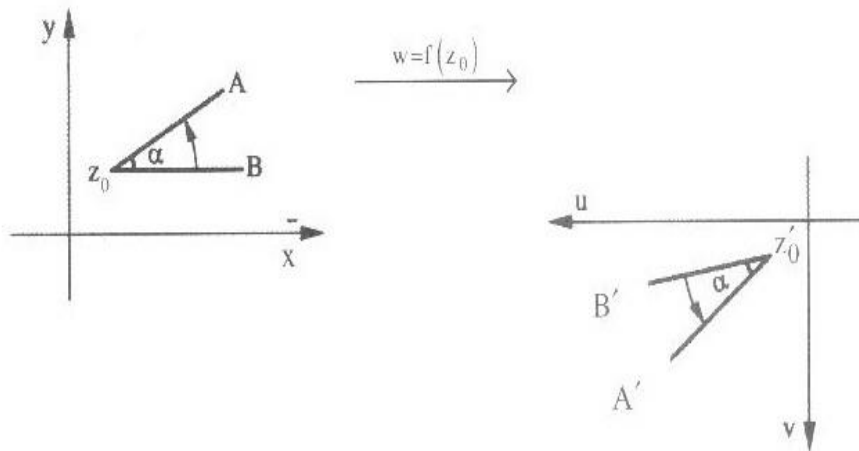


# فصل سوم

## نگاشت‌ها

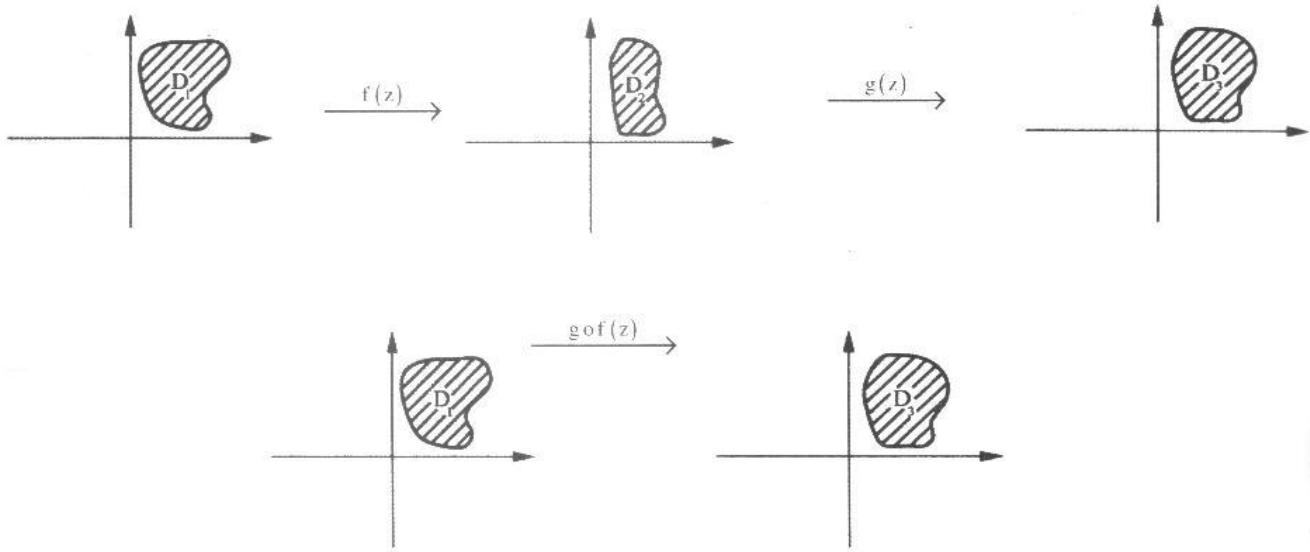
### نگاشت

تابع مختلط  $w = f(z) = u(x, y) + iv(x, y)$  را در نظر بگیرید از نقطه نظر هندسی عملکرد این تابع را می‌توان به صورت یک نگاشت از صفحه  $z$  (صفحه  $(x, y)$ ) به صفحه  $w$  (صفحه  $(u, v)$ ) در نظر گرفت، بدین معنا که تحت این تابع مختلط یک نقطه مشخص  $P(x_0, y_0)$  از صفحه  $z$  به یک نقطه مشخص مانند  $(u_0, v_0)$  از صفحه  $w$  تبدیل می‌شود. می‌گوییم تابع مختلط مانند  $w = f(z)$  دارای نقطه ثابتی مانند  $z_0$  است هرگاه  $f(z_0) = z_0$  باشد. می‌گوییم تابع مختلط  $w = f(z)$  در نقطه  $z_0$  هم‌مدیس است، هرگاه هر زاویه به راس  $z_0$  در صفحه  $xy$  توسط نگاشت مذکور به زاویه‌ای در صفحه  $uv$  تبدیل شود که از حیث اندازه و جهت مانند زاویه اول است.



**قضیه:** هرگاه  $f(z)$  در نقطه  $z_0$  تحلیلی باشد و  $f'(z_0)$  مخالف صفر باشد تابع  $w = f(z)$  در نقطه  $z_0$  هم‌مدیس است.

## اصل ترکیب نگاشتها:



مثال: تابع  $f(z) = \frac{z^2 - 1}{z^2 + 1}$  مفروض است، این تابع در چه نقاطی از صفحه مختلط همدیس نمی باشد؟

حل:

(جاهایی که تابع تحلیلی نیست)  $z^2 + 1 = 0 \rightarrow z = \pm i$

از طرفی داریم:

$$f'(z) = \frac{2z(z^2 + 1) - 2z(z^2 - 1)}{(z^2 + 1)^2} = \frac{4z}{(z^2 + 1)^2}$$

$$f'(z) = 0 \Rightarrow z = 0$$

پس تابع در نقاط  $z = \pm i, 0$  همدیس نمی باشد.

مثال: تابع  $f(z) = \frac{1}{\sin \frac{1}{z}}$  در چه نقاطی همدیس نمی باشد؟

حل:

نقاطی که تابع  $f(z)$  در آنها تحلیلی نمی باشد به صورت زیر مشخص می شوند:

$$\begin{cases} z = 0 \\ \sin \frac{1}{z} = 0 \Rightarrow \frac{1}{z} = k\pi \Rightarrow z = \frac{1}{k\pi} \end{cases}$$

از طرفی نقاطی که مشتق تابع  $f(z)$  در آنها صفر می باشد، بدین ترتیب محاسبه می شوند:

$$f'(z) = \frac{\frac{1}{z^2} \cos \frac{1}{z}}{\left(\sin \frac{1}{z}\right)^2} = 0 \Rightarrow \cos \frac{1}{z} = 0 \Rightarrow \frac{1}{z} = k\pi + \frac{\pi}{2} \Rightarrow z = \frac{1}{\pi \left(k + \frac{1}{2}\right)}$$

بنابراین تمام  $z$  ها به جز  $z = 0$  و  $z = \frac{1}{k\pi}$  و  $z = \frac{1}{\pi \left(k + \frac{1}{2}\right)}$  تابع همدیس خواهد بود.

**(۱) نگاشت خطی  $w = az$  (عدد مختلط دلخواه  $a \neq 0$ )**

طبیعی است نگاشت مذکور همه جا تحلیلی است و از آن جا که  $w' = a \neq 0$ ، این نگاشت همه جا همدیس است.

$$w = az \Rightarrow \rho e^{i\varphi} = re^{i\theta} \cdot r_0 e^{i\theta_0} \Rightarrow \rho e^{i\varphi} = r_0 r e^{i(\theta_0 + \theta)}$$

با فرض  $w = \rho e^{i\varphi}$ ;  $z = re^{i\theta}$ ;  $a = r_0 e^{i\theta_0}$  داریم:

$$\varphi = \theta_0 + \theta \quad \text{و} \quad \rho = r_0 r$$

یعنی نگاشت مذکور انبساط یا انقباضی به اندازه  $|r_0|$  و دورانی به اندازه  $\theta_0$  در جهت مثلثاتی بر روی تابع انجام می دهد. (بدیهی است

اگر  $\theta_0$  منفی باشد جهت دوران خلاف جهت مثلثاتی خواهد بود.)

**(۲) نگاشت خطی  $w = az + b$  (دو عدد مختلط دلخواه  $b, a \neq 0$ )**

می توان گفت که این نگاشت سه عمل زیر را انجام می دهد.

✓ الف) انبساط یا انقباضی به اندازه  $|a|$

✓ ب) دورانی به اندازه  $\text{Arg} a$

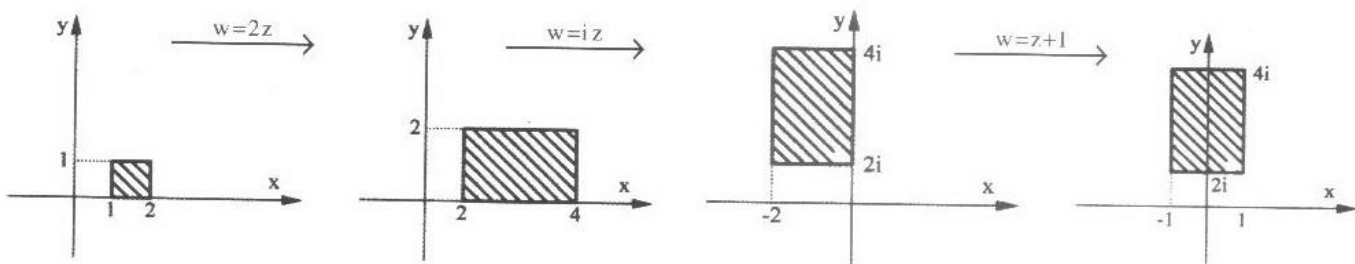
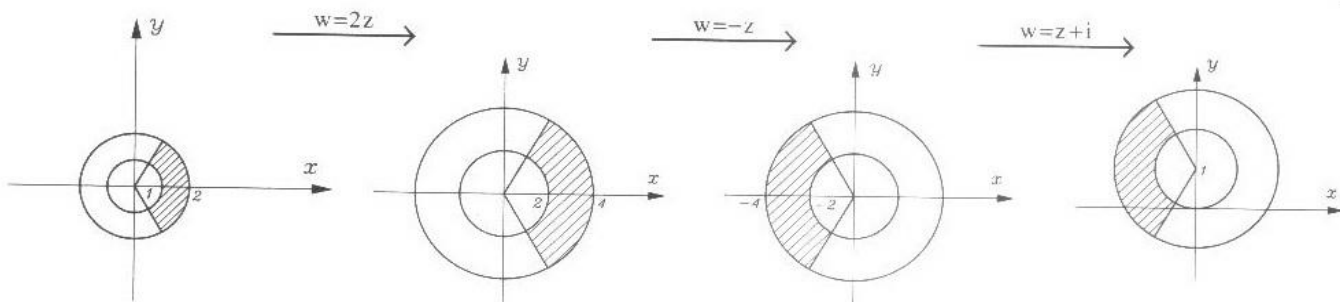
✓ ج) انتقالی به اندازه  $b$

**مثال:** تبدیل یافته ناحیه  $D_1 = \left\{ z \mid 1 < |z| < 2, -\frac{\pi}{3} < \text{Arg} z < \frac{\pi}{3} \right\}$  با نگاشت  $w = -2z + i$  و تبدیل یافته ناحیه

$$D_2 = \left\{ z \mid 1 \leq \text{Re} z \leq 2, 0 \leq \text{Im} z \leq 1 \right\}$$

با نگاشت  $w = 2iz + 1$  را حساب کنید.

**حل:**



**مثال:** معادله منحنی  $xy=1$  مفروض است تحت نگاشت  $w=(1-i)z+2i$  معادله منحنی حاصله در صفحه  $u-v$  چگونه خواهد بود؟

**حل:**  $w=(1-i)z+2i \Rightarrow u+iv=(1-i)(x+iy)+2i \Rightarrow u+iv=x+iy-ix+y+2i$

$$\Rightarrow \begin{cases} u=x+y \\ v=y-x+2 \end{cases} \Rightarrow \begin{cases} y=\frac{u+v-2}{2} \\ x=\frac{u-v+2}{2} \end{cases}$$

پس تبدیل یافته  $xy=1$  با نگاشت مذکور چنین خواهد بود:

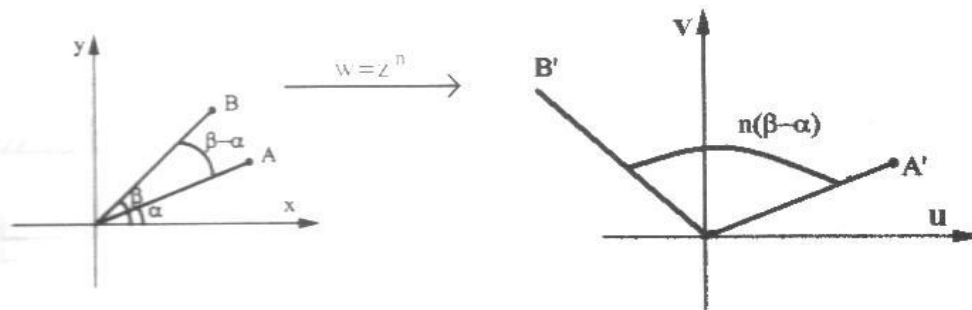
$$\left(\frac{u+v-2}{2}\right)\left(\frac{u-v+2}{2}\right)=1$$

**۳) نگاشت توانی ( $w=z^n$ ) عدد طبیعی مخالف یک)**

طبیعی است این نگاشت همه جا تحلیلی است و مشتق آن  $w'=nz^{n-1}$  به جز در نقطه  $z=0$  همه جا مخالف صفر است. بنابراین نگاشت در همه جا غیر از مبدا مختصات هم‌مدیس است.

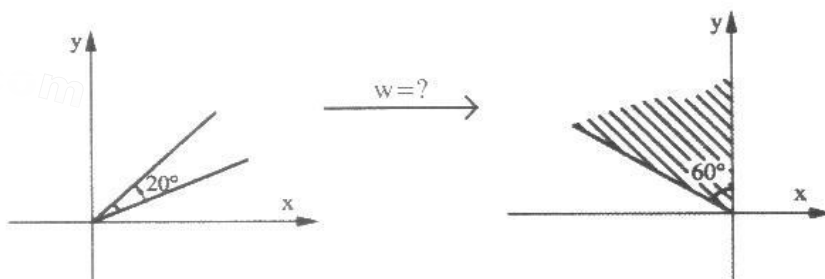
یا فرض  $w=pe^{i\phi}$  و  $z=re^{i\theta}$  داریم:

$$w=z^n \Rightarrow pe^{i\phi}=(re^{i\theta})^n \Rightarrow pe^{i\phi}=r^n e^{in\theta} \Rightarrow \begin{cases} \rho=r^n \\ \phi=n\theta \end{cases}$$

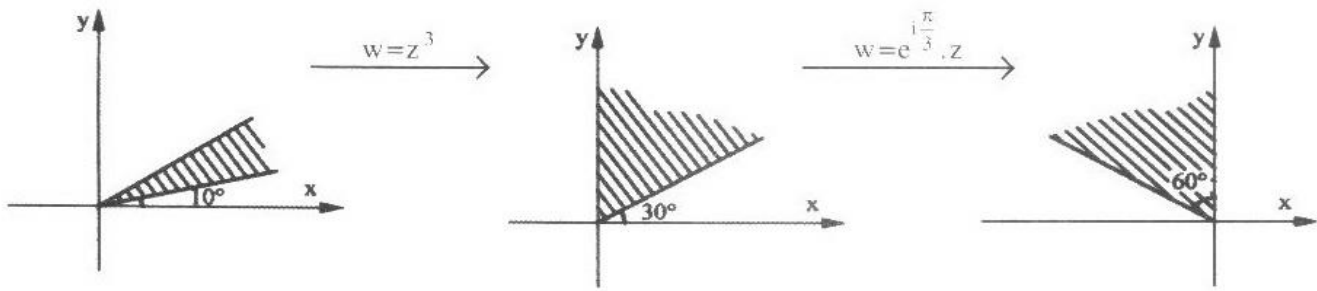


یعنی این نگاشت فاصله هر نقطه تا مبدا را بتوان  $n$  رسانده و زاویه شعاع حامل نقطه را  $n$  برابر می‌کند.

**مثال:** نگاشتی پیدا کنید که ناحیه  $D: \{z \mid 10 \leq \text{Arg}(z) \leq 30\}$  را به ناحیه  $D': \{w \mid 90 \leq \text{Arg}(w) \leq 150\}$  بنگارد.

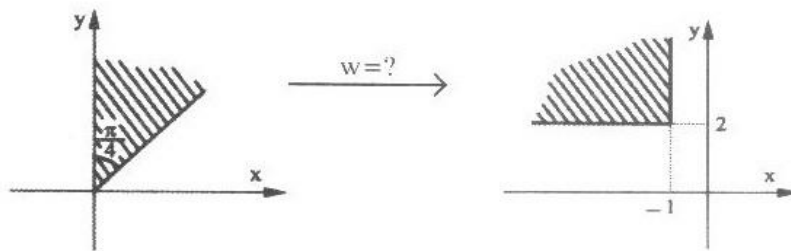


حل: می توان گفت:

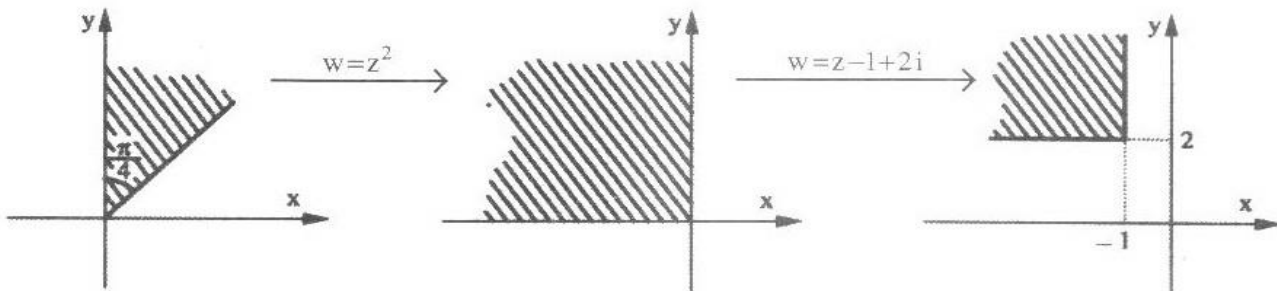


پس نگاشت مورد نظر برابر است با:  $w = e^{i\frac{\pi}{3}} z^3$

مثال: نگاشتی را پیدا کنید که ناحیه  $D = \left\{ z \mid \frac{\pi}{4} \leq \text{Arg}(z) < \frac{\pi}{2} \right\}$  را به ناحیه  $D' = \left\{ w \mid \text{Re}(w) \leq -1, \text{Im}(w) \geq 2 \right\}$  تبدیل کند.



حل:



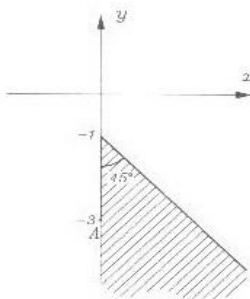
$$w = z^2 - 1 + 2i$$

لذا نگاشت مورد نظر از ترکیب انتهایی دو نگاشت فوق قابل حصول است.

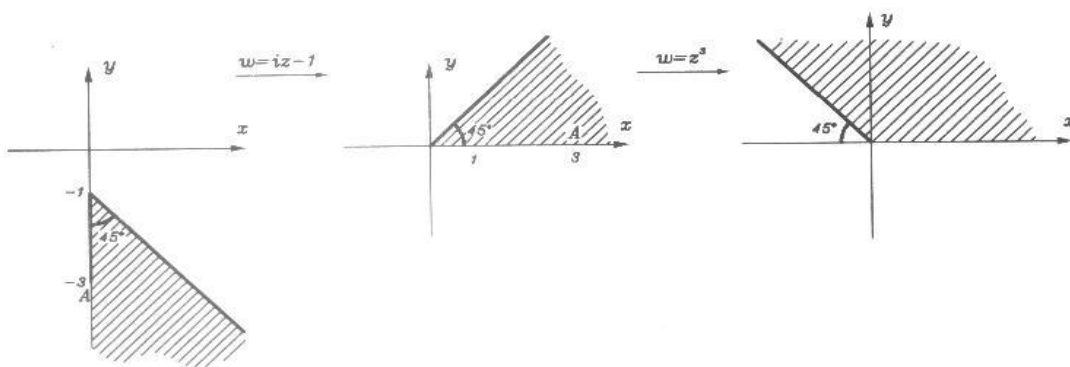
مثال: تبدیل یافته ناحیه نشان داده شده در شکل زیر را تحت نگاشت  $w = (iz - 1)^3$  بیابید.

حل: را می توان با ترکیب از انتهای نگاشت های زیر در نظر گرفت:

$$w = (iz - 1), z^3$$



مطابق با اعمال نگاشت‌های فوق از ابتدا داریم:



سؤال: تحت نگاشت  $w = z^3 - iz$  خط  $x = 2$  به چه معادله‌ای تبدیل می‌شود؟

حل:

$$z^3 = (x + iy)^3 \rightarrow w = (x + iy)^3 - i(x + iy)$$

$$w = x^3 + i3x^2y - 3xy^2 - iy^3 - ix + y$$

$$w = (x^3 - 3xy^2 + y) + (3x^2y - x - y^3)i \rightarrow \begin{cases} u = x^3 - 3xy^2 + y \\ v = 3x^2y - x - y^3 \end{cases}$$

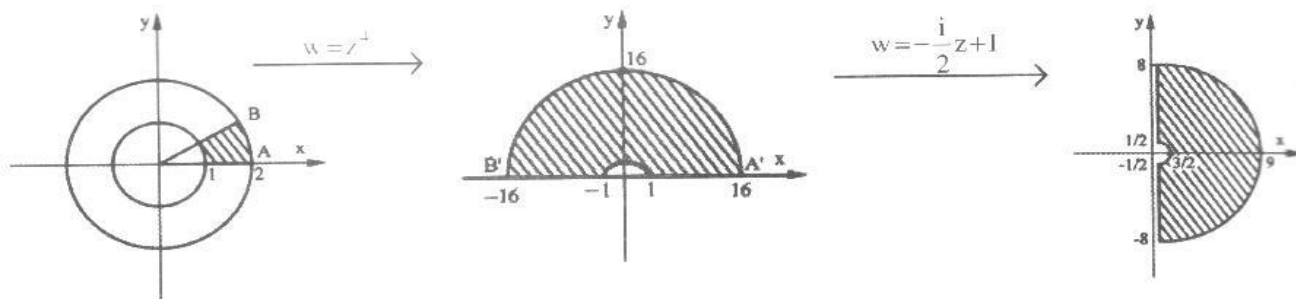
$$\begin{cases} u = 8 - 6y^2 + y \\ v = 12y - y^3 - 2 \end{cases}$$

حل: تبدیل یافته  $x = 2$  را می‌خواهیم، لذا داریم:

سؤال: تبدیل یافته ناحیه  $D = \left\{ z \mid 1 \leq |z| \leq 2, 0 \leq \text{Arg}(z) \leq \frac{\pi}{4} \right\}$  را تحت نگاشت  $w = -\frac{i}{2}z^4 + 1$  بیابید؟

$$w = z^4 - \frac{i}{2}z + 1$$

حل: نگاشت مذکور را می‌توان با ترکیب از انتهای دو نگاشت زیر به دست آورد.



$$D' = \left\{ w \mid 0.5 \leq |w-1| \leq 8, \text{Re}(w) \geq 1 \right\}$$

مکان هندسی ناحیه  $D'$  به صورت مقابل می‌باشد.

۳ نگاشت ریشه  $n$  ام،  $w = \sqrt[n]{z}$  ( $n$  عدد طبیعی مخالف یک)

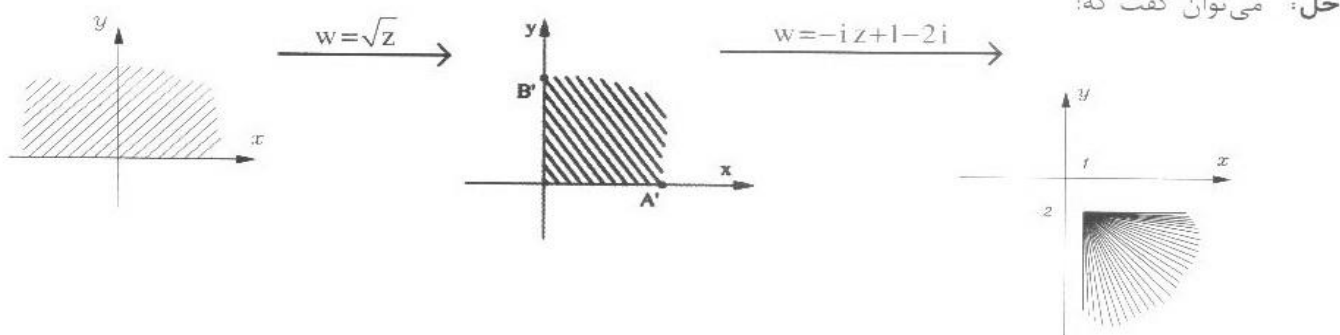
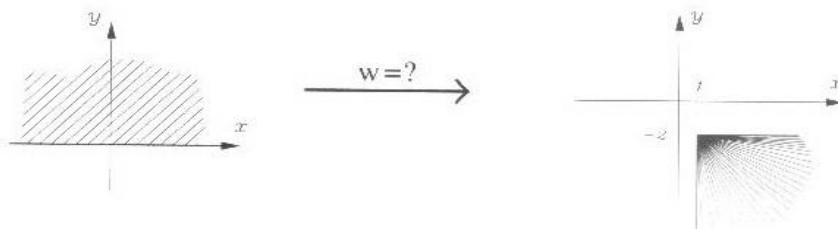
مانند طور که می‌دانیم چنانچه  $z = re^{i\theta}$  باشد در محاسبه ریشه  $n$  ام این عدد مختلط به  $n$  جواب می‌رسیم که از رابطه زیر قابل محاسبه می‌باشد.

$$\sqrt[n]{z} = \sqrt[n]{r} \times e^{i \frac{(\theta + 2k\pi)}{n}} = \sqrt[n]{r} \left\{ \cos \frac{\theta + 2k\pi}{n} - i \sin \frac{\theta + 2k\pi}{n} \right\} \quad (0 \leq k < n, k \in \mathbb{N})$$

با انتخاب  $k=0$  به منظور تک مقدارده شدن حاصل  ${}^n\sqrt{z}$ ، نگاشت  $w = \sqrt[n]{z}$  برابر است با:

$$w = \sqrt[n]{r} e^{i\frac{\theta}{n}} \Rightarrow \begin{cases} \rho = \sqrt[n]{r} \\ \varphi = \frac{\theta}{n} \end{cases}$$

✓ مثال: نگاشتی پیدا کنید که نیم صفحه فوقانی صفحه  $z$  را به ناحیه  $D = \{w \mid \operatorname{Re}(w) \geq 1, \operatorname{Im}(w) \leq -2\}$  بنگارد.



پس نگاشت مورد نظر  $w = -i\sqrt{z} + 1 - 2i$  است.

✓ مثال: مطلوب است محاسبه ریشه چهارم عدد  $z = 1 - \sqrt{3}i$

حل:

$$z = 1 - \sqrt{3}i \Rightarrow \begin{cases} r = 2 \\ \theta = -\frac{\pi}{3} \end{cases}$$

$${}^4\sqrt{z} = \sqrt[4]{2} \left( \cos\left(\frac{2k\pi - \frac{\pi}{3}}{4}\right) + i \sin\left(\frac{2k\pi - \frac{\pi}{3}}{4}\right) \right)$$

حال به ازای  $k=0, 1, 2, 3$ ، چهار ریشه چهارم  $z$  به دست می آید.

$$k=0 \rightarrow z_0 = \sqrt[4]{2} \left( \cos\left(-\frac{\pi}{12}\right) + i \sin\left(-\frac{\pi}{12}\right) \right)$$

$$k=1 \rightarrow z_1 = \sqrt[4]{2} \left( \cos\left(\frac{5\pi}{12}\right) + i \sin\left(\frac{5\pi}{12}\right) \right)$$

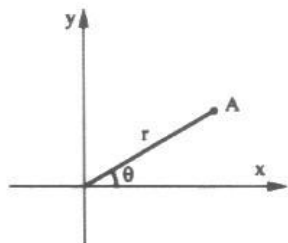
$$k=2 \rightarrow z_2 = \sqrt[4]{2} \left( \cos\left(\frac{11\pi}{12}\right) + i \sin\left(\frac{11\pi}{12}\right) \right)$$

$$k=3 \rightarrow z_3 = \sqrt[4]{2} \left( \cos\left(\frac{17\pi}{12}\right) + i \sin\left(\frac{17\pi}{12}\right) \right)$$

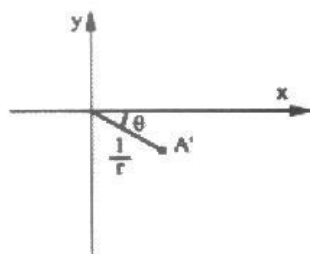
نگاشت کسری

$$w = \frac{1}{z}$$

یعنی است نگاشت مذکور در تمام صفحه مختلط، به جز مبدأ مختصات تحلیلی است و مشتق آن یعنی  $w' = -\frac{1}{z^2}$  همه جا مخالف صفر است پس این نگاشت در همه جا به جز مبدأ مختصات هم‌مدیس است و (می‌توان تصور کرد که تحت نگاشت  $w = \frac{1}{z}$  نقاط  $z_1 = 0$  و  $z_2 = \infty$  به ترتیب به نقاط  $w_1 = \infty$  و  $w_2 = 0$  تبدیل شود).  
حال با فرض  $z = re^{i\theta}$  و  $w = \rho e^{i\phi}$  می‌توان نوشت:



$$w = \frac{1}{z}$$



$$w = \frac{1}{z} \Rightarrow \rho e^{i\phi} = \frac{1}{re^{i\theta}} \Rightarrow \rho e^{i\phi} = \frac{1}{r} e^{-i\theta} \rightarrow \begin{cases} \rho = \frac{1}{r} \\ \phi = -\theta \end{cases}$$

معادله  $A(x^2 + y^2) + Bx + Cy + D = 0$  توصیف کننده یک خط و یا یک دایره در صفحه  $x-y$  می‌باشد، اگر بخواهیم تحت

نگاشت  $w = \frac{1}{z}$  تبدیل یافته این شکل را پیدا کنیم می‌نویسیم:

$$w = \frac{1}{z} \rightarrow z = \frac{1}{w} \rightarrow x + iy = \frac{1}{u + iv} \cdot \frac{u - iv}{u - iv} \rightarrow \begin{cases} x = \frac{u}{u^2 + v^2} \\ y = \frac{-v}{u^2 + v^2} \end{cases}$$

$$D(u^2 + v^2) + Bu - Cv + A = 0$$

به این ترتیب به دست می‌آید:

یک دایره یا خط در صفحه  $u-v$  می‌باشد.

$$A(x^2 + y^2) + Bx + Cy + D = 0$$

$$A = 0, B = 0 \Rightarrow y = -\frac{D}{C}$$

خط  $y = -\frac{D}{C}$  تحت نگاشت  $w = \frac{1}{z}$  تبدیل می‌شود به:

$$u^2 + v^2 - \frac{C}{D}v = 0 \rightarrow u^2 + \left(v - \frac{C}{2D}\right)^2 = \left(\frac{C}{2D}\right)^2$$

$$A = 0, C = 0 \Rightarrow x = -\frac{D}{B}$$

خط  $x = -\frac{D}{B}$  تحت نگاشت  $w = \frac{1}{z}$  تبدیل می‌شود به:

$$u^2 + v^2 + \frac{B}{D}u = 0 \rightarrow u^2 + \left(v + \frac{B}{2D}\right)^2 = \left(\frac{B}{2D}\right)^2$$

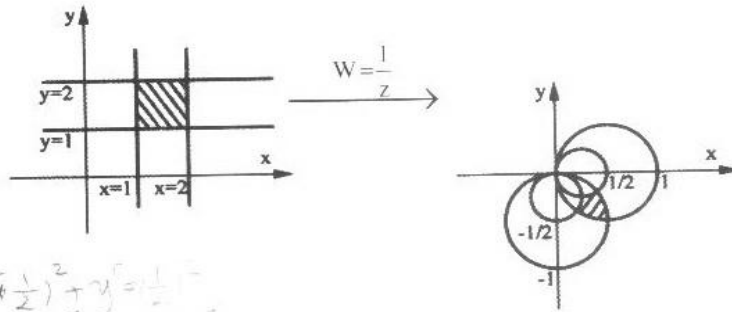
$$\left(u + \frac{B}{2D}\right)^2 + v^2 = \left(\frac{B}{2D}\right)^2$$



از این دو نکته برای حل بسیاری از مسایل در نگاشت  $w = \frac{1}{z}$  می توان استفاده کرد.

به عنوان مثال داریم:

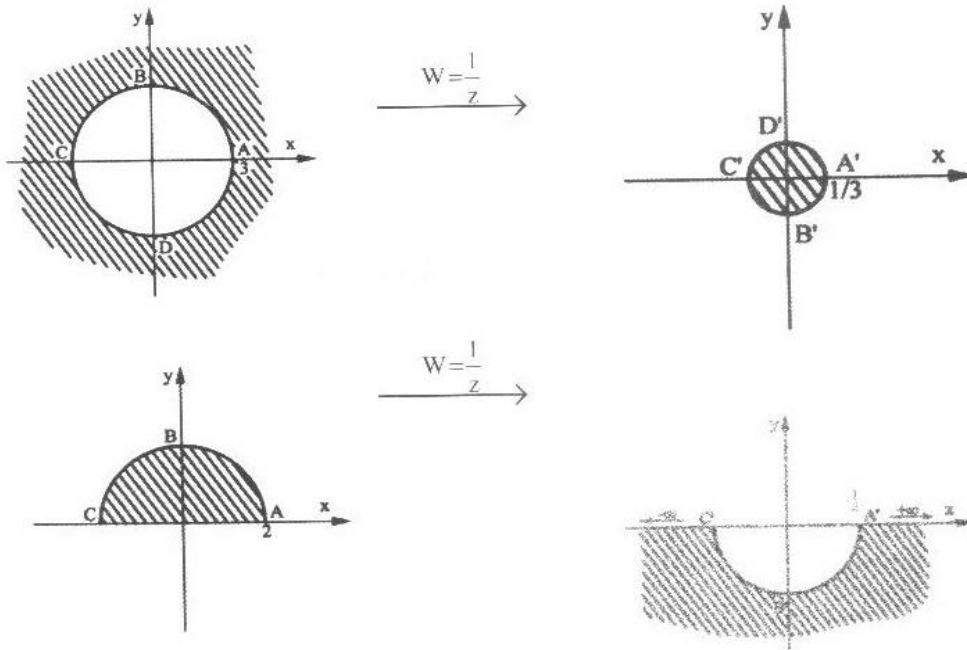
$n=1 \rightarrow n^2 + (y + \frac{1}{2})^2 = (\frac{1}{2})^2$   
 $n=2 \rightarrow n^2 + (y + \frac{1}{2})^2 = (\frac{1}{2})^2$



$n=1 \quad (n + \frac{1}{2})^2 + y^2 = (\frac{1}{2})^2$   
 $n=2 \quad (n + \frac{1}{2})^2 + y^2 = (\frac{1}{2})^2$

مثال: تبدیل یافته نواحی نشان داده شده در شکل زیر را تحت نگاشت  $w = \frac{1}{z}$  مشخص کنید.

حل:



مثال: تحت نگاشت  $w = \frac{1}{z}$ ، دایره  $|z+1-2i|=1$  به یک دایره تبدیل می شود، معادله آن دایره و مساحت آن را بیابید.

حل:

$$|z+1-2i|=1 \Rightarrow (x+1)^2 + (y-2)^2 = 1$$

$$x^2 + y^2 + 2x - 4y + 4 = 0$$

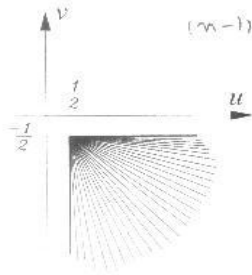
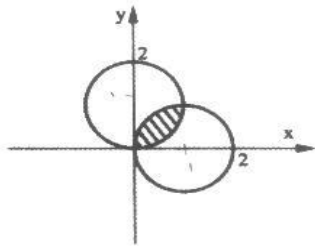
پس تبدیل یافته این دایره تحت نگاشت  $w = \frac{1}{z}$  چنین است:

$$4(u^2 + v^2) + 2u + 4v + 1 = 0$$

$$\left(u + \frac{1}{4}\right)^2 + \left(v + \frac{1}{2}\right)^2 + \frac{1}{4} - \frac{1}{16} - \frac{1}{4} = 0 \Rightarrow \left(u + \frac{1}{4}\right)^2 + \left(v + \frac{1}{2}\right)^2 = \frac{1}{16}$$

پس شعاع دایره حاصل  $R = \frac{1}{4}$  و مساحت آن  $s = \pi \left(\frac{1}{4}\right)^2 = \frac{\pi}{16}$  است.

سوال: تبدیل یافته ناحیه محصور بین دو دایره  $|z-1|=1$  و  $|z-i|=1$  توسط  $w = \frac{1}{z}$  را به دست آورید.

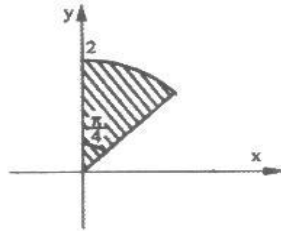


حل:  

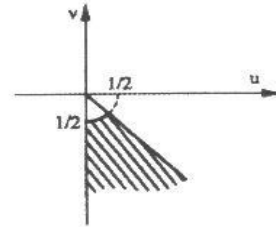
$$x^2 + (y-1)^2 = 1 \Rightarrow y = -\frac{1}{x} \pm 1$$

$$(x-1)^2 + y^2 = 1 \Rightarrow x = \frac{1}{y} \pm 1$$

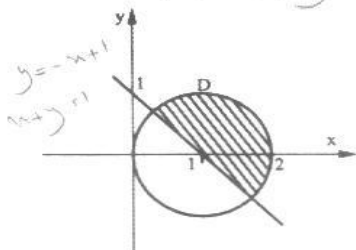
سوال: تبدیل یافته  $D = \left\{ z \mid |z| < 2, \frac{\pi}{4} < \text{Arg}z < \frac{\pi}{2} \right\}$  را تحت نگاشت  $w = \frac{1}{z}$  به دست آورید.



$$W = \frac{1}{z}$$



سوال: تبدیل یافته ناحیه نشان داده شده را تحت نگاشت  $w = \frac{1}{z}$  به دست آورید.



حل: مرزهای ناحیه مورد نظر را مشخص می‌کنیم و سپس با توجه به رابطه بیان شده داریم:

مرز اول:  $x+y=1 \Rightarrow x+y-1=0 \xrightarrow{w=1/z} (A=0, B=1, C=1, D=-1)$

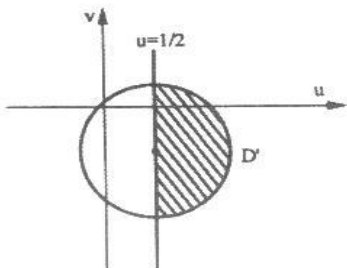
$$-1(u^2+v^2)+lu-lv+0=0 \Rightarrow u^2+v^2-u+v=0 \rightarrow$$

$$\left(u-\frac{1}{2}\right)^2 + \left(v+\frac{1}{2}\right)^2 = \frac{1}{2}$$
 تبدیل یافته خط مورد نظر:

مرز دوم:  $(x-1)^2 + (y-0)^2 = 1 \Rightarrow x^2+y^2-2x=0 \xrightarrow{w=1/z} (A=1, B=-2, C=0, D=0)$

$$0(u^2+v^2)-2u-0v+1=0 \rightarrow u=\frac{1}{2}$$
 تبدیل یافته دایره مورد نظر

در نتیجه تبدیل یافته ناحیه D چنین می‌باشد.



۶) نگاشت خطی کسری (تبدیل موبیوس)  $W = \frac{az+b}{cz+d}$  (با شرط  $ad-bc \neq 0$ )

بدیهی است نگاشت مذکور در تمام صفحه مختلط به جز  $z = -\frac{d}{c}$  تحلیلی است و مشتق آن یعنی  $w' = \frac{ad-bc}{(cz+d)^2}$  همه جا مخالف

صفر است. بنابراین، این نگاشت، در همه جا، جز  $z = -\frac{d}{c}$  همردیس است، می‌توان این طور تصور کرد که تحت نگاشت مذکور تابع

$$z_1 = -\frac{d}{c} \text{ و } z_2 = \infty \text{ به ترتیب به نقاط } w_1 = \infty \text{ و } w_2 = \frac{a}{c} \text{ تبدیل می‌شود.}$$

**نکته ۱)** می‌توان نشان داد اگر از طریق این نگاشت سه نقطه  $z_1, z_2, z_3$  از صفحه  $z$  ها را به ترتیب بر سه نقاط  $w_1, w_2, w_3$  از

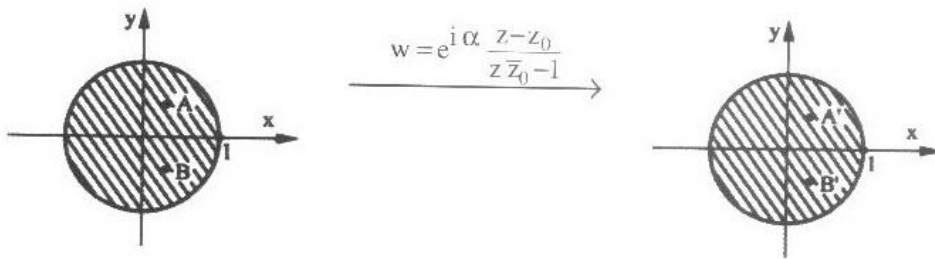
صفحه  $w$  ها بنگاریم نگاشت مذکور از رابطه زیر به دست می‌آید.

$$\frac{z-z_1}{z-z_3} \times \frac{z_2-z_3}{z_2-z_1} = \frac{w-w_1}{w-w_3} \times \frac{w_2-w_3}{w_2-w_1}$$

دقت کنید که اگر یکی از مقادیر  $z_1$  ها یا  $w_1$  ها بی‌نهایت بود صورت و مخرج شامل بی‌نهایت را با هم ساده می‌کنیم.

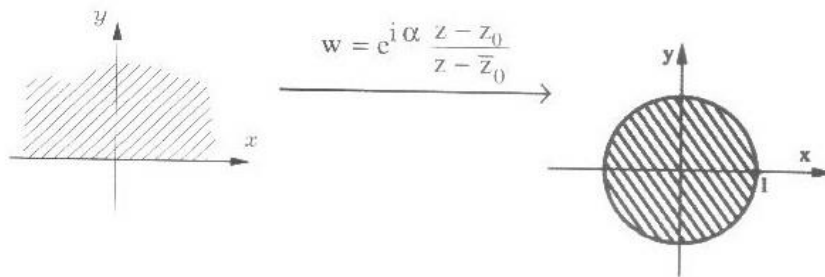
**نکته ۲)** می‌توان نشان داد کلی‌ترین تبدیل موبیوسی که ناحیه  $|z| < 1$  را به ناحیه  $|w| < 1$  تبدیل می‌کند به صورت مقابل است.

که در آن  $\alpha$  عدد حقیقی دلخواه و  $z_0$  عدد مختلط با شرط  $|z_0| < 1$  است.



**نکته ۳)** می‌توان نشان داد کلی‌ترین تبدیل موبیوسی که ناحیه  $\text{Im } z > 0$  را به ناحیه  $|w| < 1$  می‌نگارد به صورت مقابل است.

که در آن  $\alpha$  عدد حقیقی و  $z_0$  عدد مختلط دلخواه با شرط  $\text{Im } z_0 > 0$  است.



**مثال:** با کدام تبدیل می‌توان ربع اول دستگاه مختلط صفحه  $z$  را به داخل دایره واحد در صفحه  $w$  نگاشت به نحوی که تبدیل یافته

نقاط  $1+i$  و  $i\sqrt{2}$  به ترتیب نقاط  $0$  و  $i$  باشد.

**حل:** می‌دانیم نگاشت  $w_1 = z^2$  ربع اول دستگاه مختلط را به نیم صفحه فوقانی تبدیل می‌کند و همچنین نگاشت  $w_2 = e^{i\alpha} \frac{z-z_0}{z-z_0}$

نیم صفحه فوقانی را به داخل دایره واحد می‌نگارد. لذا با تبدیل  $w = e^{i\alpha} \frac{z^2 - z_0}{z^2 - z_0}$  ربع اول صفحه به داخل دایره واحد نگاشته

می‌شود و برای آن که نقاط  $1+i$  و  $i\sqrt{2}$  به ترتیب بر نقاط  $0$  و  $i$  نگاشته شوند باید داشته باشیم:

$$0 = e^{i\alpha} \frac{(1+i)^2 - z_0}{(1+i)^2 - \bar{z}_0} \quad i = e^{i\alpha} \frac{(i\sqrt{2})^2 - z_0}{(i\sqrt{2})^2 - \bar{z}_0}$$

از حل معادله اول نتیجه می‌شود:

$$(1+i)^2 - z_0 = 0 \Rightarrow z_0 = 2i$$

استفاده از این مقدار در معادله دوم نتیجه می‌دهد:

$$i = e^{i\alpha} \frac{-2-2i}{-2+2i} \rightarrow e^{i\alpha} \frac{-2i-2}{-2-2i} = 1 \Rightarrow \alpha = 0$$

بنابراین نگاشت مورد نظر عبارت است از:

$$w = \frac{z^2 - 2i}{z^2 + 2i}$$

حال نگاشت  $w = \frac{z^2 + i}{iz^2 + 1}$ ، ربع اول صفحه  $z$ ها را به کدام ناحیه از صفحه  $w$ ها تبدیل می‌کند:

(۲) خارج از دایره یکه

(۱) نیم دایره بالایی از دایره یکه

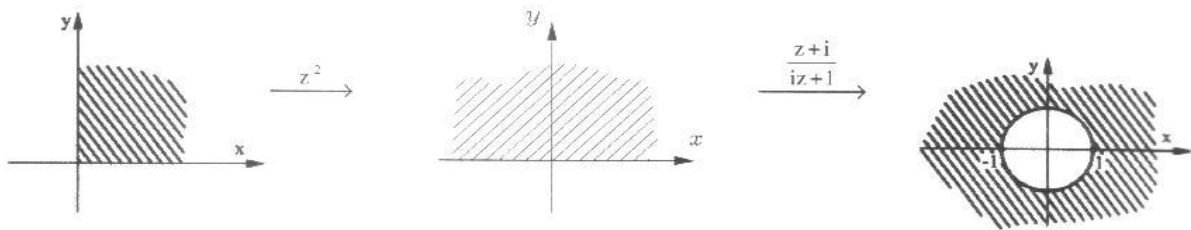
(۴) داخل دایره یکه

(۳) بالای محور  $x$  و خارج نیم دایره یکه

$$w : z^2, \frac{z+i}{iz+1}$$

حل: بدیهی است  $w$  را می‌توان با ترکیب از انتهای نگاشت‌های زیر دید.

بنابراین با دیدن اعمال نگاشت‌های فوق از ابتدا داریم:



تبدیل یافته نقطه  $z = i$  با نگاشت موبیوس  $\frac{z+i}{iz+1}$  چنین است.  $w = \frac{i+i}{i^2+1} = \infty$

لذا قطعاً گزینه‌های ۱ و ۴ غلط است.

تبدیل یافته نقطه  $z = 2i$  با نگاشت موبیوس  $\frac{z+i}{iz+1}$  چنین است.  $w = \frac{2i+i}{i(2i)+1} = -3i$

لذا قطعاً گزینه‌های ۱ و ۳ غلط است.

پس گزینه ب صحیح است.

وقت کنید اگر نمی‌خواستیم با روش نقطه یابی مساله فوق را حل کنیم در حقیقت مساله ما این بود که  $\text{Im } z > 0$  تحت نگاشت

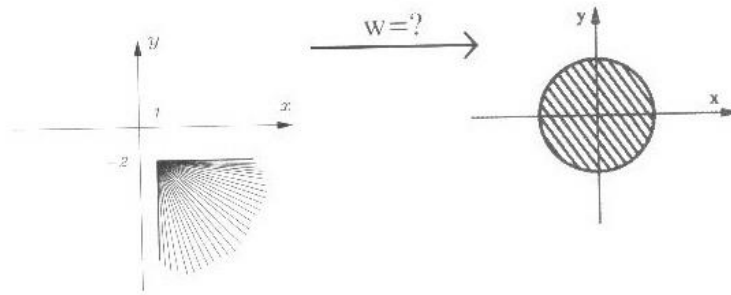
$$w = \frac{z+i}{iz+1} \text{ چیست؟}$$

$$w = \frac{z+i}{iz+1} \Rightarrow w(iz+1) = z+i \Rightarrow z = \frac{i-w}{wi-1} \Rightarrow z = \frac{-u+i(1-v)}{-v-1+ui} \cdot \frac{(-v-1)-iu}{(-v-1)-iu} \Rightarrow \text{Im } z = \frac{i(u^2+v^2-1)}{(v+1)^2+u^2}$$

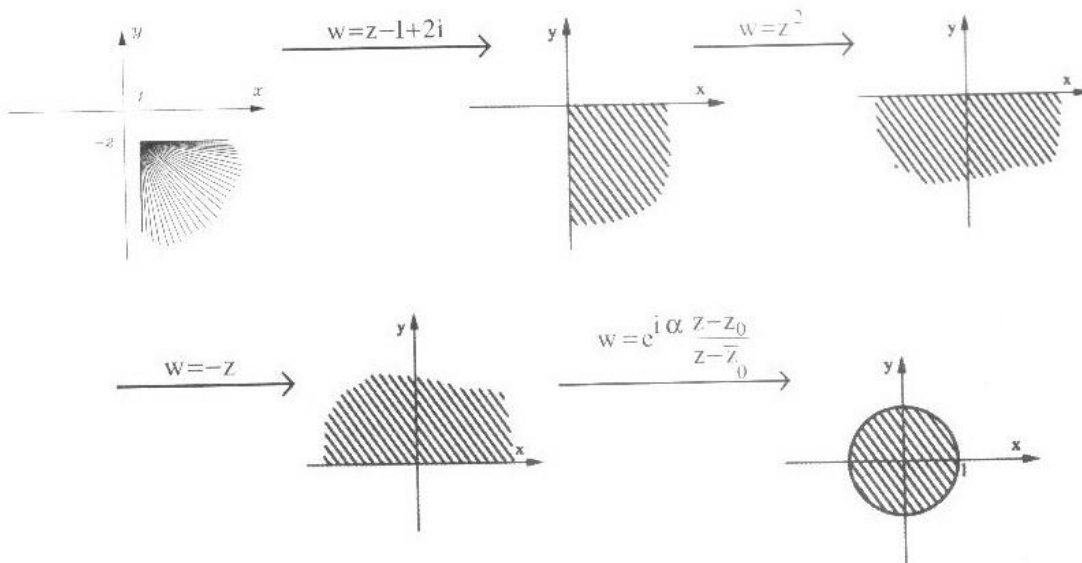
$$u^2+v^2-1 > 0 \Rightarrow u^2+v^2 > 1$$

چون ما تبدیل یافته  $\text{Im } z > 0$  را می‌خواهیم، لذا داریم:

مثال: نگاشتی پیدا کنید که عمل زیر را انجام دهد همچنین مشخص کنید که اگر منظور یافتن نگاشتی باشد که علاوه بر تبدیل فوق نقاط  $z_1 = 2 - 3i$  و  $z_2 = 3 - 3i$  را به ترتیب بر نقاط  $w_1 = 0$  و  $w_2 = \frac{i}{2}$  بنگارد نگاشت ما به چه صورت خواهد بود؟



حل:



لذا نگاشتی که عمل تبدیل هندسه سمت چپ به هندسه سمت راست را انجام می‌دهد با ترکیب از انتهای نگاشتهای فوق به صورت زیر به دست می‌آید:

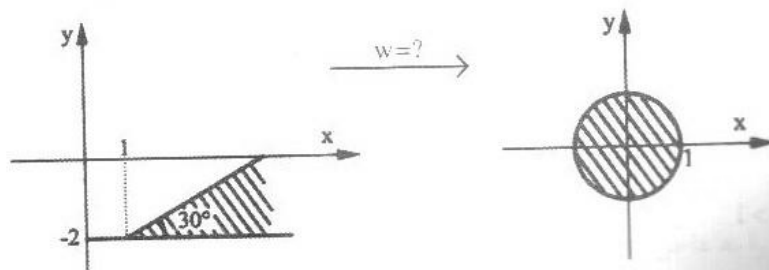
$$w = e^{i\alpha} \frac{-(z-1+2i)^2 - z_0}{-(z-1+2i)^2 - \bar{z}_0}$$

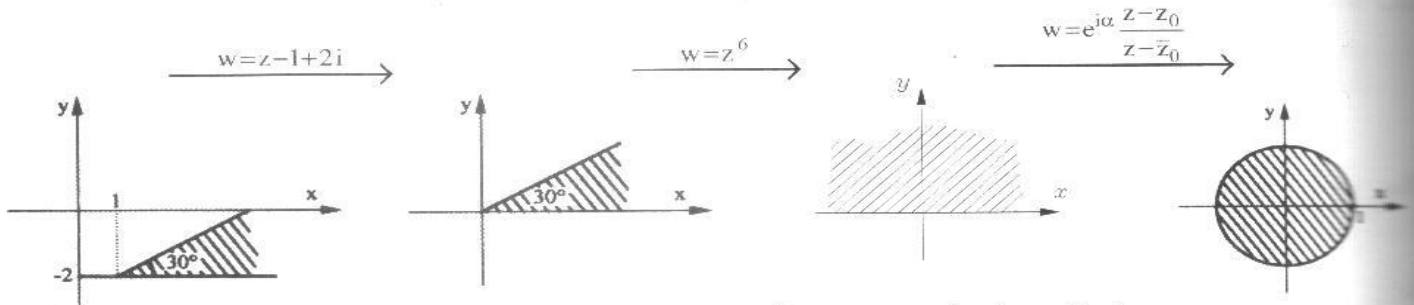
پس نگاشت مورد نظر برابر است با:

### قسمت دوم مسئله:

دقت کنید حال اگر بخواهیم علاوه بر آن که عمل تبدیل نواحی گفته شده صورت می‌گیرد و نقطه  $z_1$  و  $z_2$  مورد نظر به دو نقطه  $w_1$  و  $w_2$  داده شده تبدیل شود کافی است در معادله نگاشت به دست آمده یک بار به جای  $z$  و  $w$  مقادیر  $z_1$  و  $w_1$  و یک بار مقادیر  $z_2$  و  $w_2$  را قرار داده و از حل دو معادله، دو مجهول به دست آمده  $\alpha$  و  $z_0$  است.

مثال: نگاشتی پیدا کنید که عمل زیر را انجام دهد:





پس نگاشت مذکور با ترکیب از نگاشت‌های فوق به دست می‌آید:

$$w = e^{i\alpha} \frac{(z - 1 + 2i)^6 - z_0}{(z - 1 + 2i)^6 - \bar{z}_0}$$

### نگاشت یاکوفسکی $w = z + \frac{1}{z}$

طبیعی است نگاشت مذکور بر تمام صفحه مختلط، به جز  $z = 0$  تحلیلی است و مشتق آن یعنی  $w' = 1 - \frac{1}{z^2}$  در همه جا به جز  $z = \pm 1$  مخالف صفر است. بنابراین نگاشت همه جا به جز  $z = 0, \pm 1$  همدیس است.

$$w = z + \frac{1}{z} \Rightarrow w = re^{i\theta} + \frac{1}{re^{i\theta}} = re^{i\theta} + \frac{1}{r}e^{-i\theta}$$

می‌توان نشان داد:

$$u + iv = r(\cos \theta + i \sin \theta) + \frac{1}{r}(\cos \theta - i \sin \theta)$$

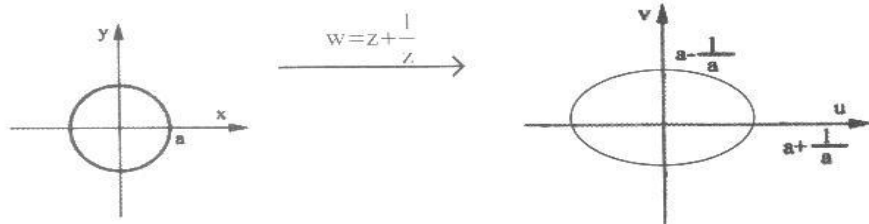
$$u = \left(r + \frac{1}{r}\right) \cos \theta \quad v = \left(r - \frac{1}{r}\right) \sin \theta$$

سوال: تبدیل یافته  $|z| = a$  را با نگاشت  $w = z + \frac{1}{z}$  پیدا کنید و روی حالت خاص  $a = 1$  بحث کنید.

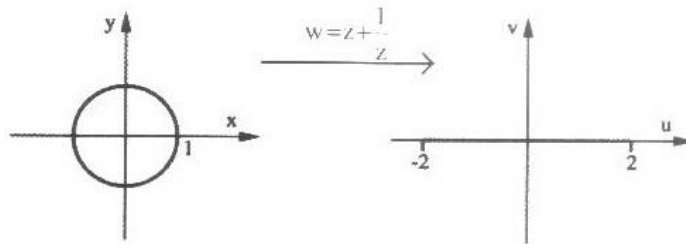
حل: برای  $|z| = a$  داریم:

$$\begin{cases} u = \left(r + \frac{1}{r}\right) \cos \theta \\ v = \left(r - \frac{1}{r}\right) \sin \theta \end{cases}$$

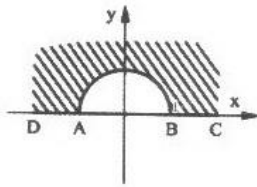
$$\begin{cases} u = \left(a + \frac{1}{a}\right) \cos \theta \\ v = \left(a - \frac{1}{a}\right) \sin \theta \end{cases} \xrightarrow{\sin^2 \theta + \cos^2 \theta = 1} \frac{u^2}{\left(a + \frac{1}{a}\right)^2} + \frac{v^2}{\left(a - \frac{1}{a}\right)^2} = 1$$



برای  $|z|=1$  داریم: (تبدیل یافته دایره  $|z|=1$ ، پاره خط  $v=0$  و  $-2 \leq u \leq 2$  می باشد).

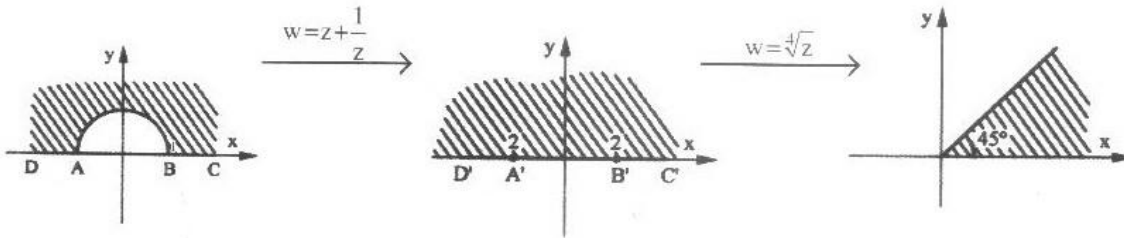


مثال: تبدیل یافته ناحیه زیر را تحت نگاشت  $w = \sqrt{z + \frac{1}{z}}$  را بیابید.



*Handwritten note: حل*

حل:

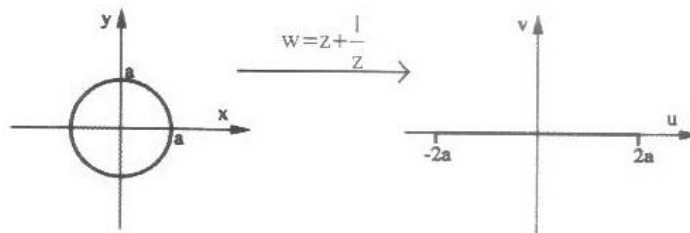


مثال: دایره  $|z|=a$  از صفحه  $z$ ، تحت نگاشت  $w = z + \frac{a^2}{z}$  در صفحه  $w$  به چه ناحیه‌ای تبدیل شود.

$$z = re^{i\theta}, w = re^{i\theta} + \frac{a^2}{re^{i\theta}} = \begin{cases} u = \cos\theta \left( r + \frac{a^2}{r} \right) \\ v = \sin\theta \left( r - \frac{a^2}{r} \right) \end{cases}$$

$$\left. \begin{matrix} |z|=a \\ r=a \end{matrix} \right\} \rightarrow \begin{cases} u = \cos\theta \left( a + \frac{a^2}{a} \right) = 2a \cos\theta \\ v = \sin\theta \left( a - \frac{a^2}{a} \right) = 0 \end{cases}$$

بنابراین روی محور حقیقی فاصله بین نقاط  $-2a$  تا  $+2a$  جواب مطلوب مساله خواهد بود.



۸) نگاشت نمایی  $W = e^z$

بدیهی است این نگاشت همه جا تحلیلی می باشد و مشتق آن یعنی  $w' = e^z$  همه جا مخالف صفر است بنابراین این نگاشت همه جا همدیس است.

داریم:

$$w = e^z = e^{x+iy} = e^x \cdot e^{iy} = u + iv = e^x (\cos y + i \sin y)$$

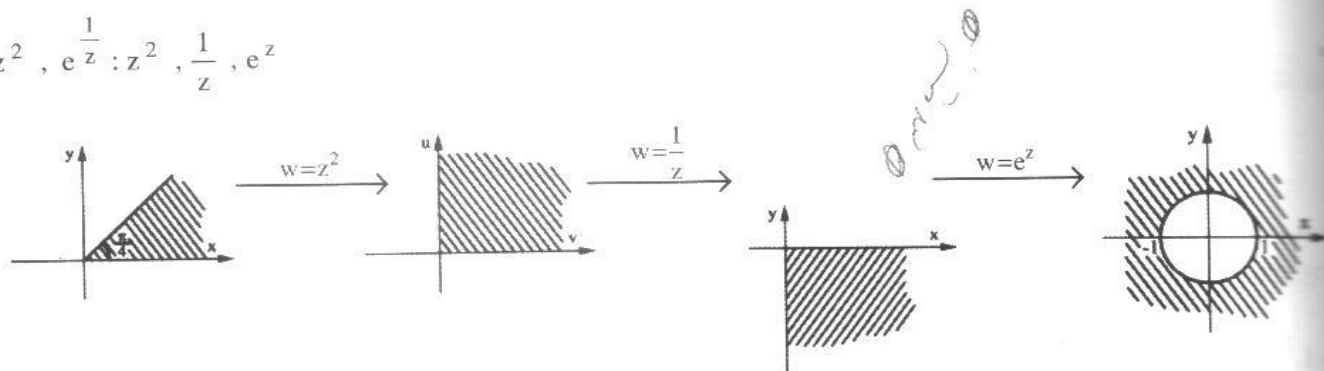
$$\begin{cases} u = e^x \cos y \\ v = e^x \sin y \end{cases}$$

ملاحظه می‌شود با تبدیل  $y$  به  $y + 2\pi$  تغییری در عبارت‌های  $u$  و  $v$  حاصل نمی‌شود. به تعبیر دیگر نگاشت مورد نظر متناوب با دوره  $2\pi$  است.

$$w = e^z = \rho e^{i\varphi} = e^{x+iy} \Rightarrow \rho e^{i\varphi} = e^x \cdot e^{iy} \rightarrow \begin{cases} \rho = e^x \\ \varphi = y \end{cases}$$

مثال: تبدیل یافته ناحیه  $D = \left\{ z \mid 0 < \text{Arg}(z) < \frac{\pi}{4} \right\}$  تحت نگاشت  $e^{z^2}$  را به دست آورید.

$$W: z^2, e^{\frac{1}{z}}: z^2, \frac{1}{z}, e^z$$



۳۹ نگاشت لگاریتمی  $W = \text{Ln}z$

نویس کنید  $z = re^{i\theta}$  و  $(-\pi < \theta \leq \pi)$  باشد، می‌توان نشان داد.

$$\ln z = \ln r + i(\theta + 2k\pi); -\pi < \theta \leq \pi$$

که در آن  $k$  یک عدد صحیح نسبی است، ملاحظه می‌شود رابطه فوق برای هر عدد مختلط، بی‌نهایت مقدار برای  $z$  تولید می‌کند. بنابراین به خودی خود، بیانگر یک تابع نمی‌باشد لذا اگر بخواهیم به معادله  $w = \ln z$  به عنوان یک نگاشت نگاه کنیم باید رابطه فوق را به یک  $k$  خاص که معمولاً  $k = 0$  فرض می‌شود مد نظر قرار دهیم بدین ترتیب می‌توان نگاشت لگاریتمی را تعریف کرد. به مقدار

$$w = \ln z = \ln r + i\theta$$

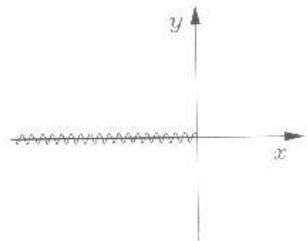
$$-\pi < \theta \leq \pi$$

به دست آمده با فرض زاویه  $-\pi < \theta \leq \pi$  مقدار اصلی تابع می‌گوییم.

حقیقی است در این شرایط داریم  $u = \ln r, v = \theta$ .

معادلات کوشی به فرم قطبی:

$$\begin{cases} \frac{\partial u}{\partial r} = \frac{1}{r} \frac{\partial v}{\partial \theta} \\ \frac{1}{r} \frac{\partial u}{\partial \theta} = -\frac{\partial v}{\partial r} \end{cases}$$



بر این مساله همواره برقرارند.

اما مشکلی که وجود دارد این است که تابع مذکور در نقاط واقع بر نیم محور

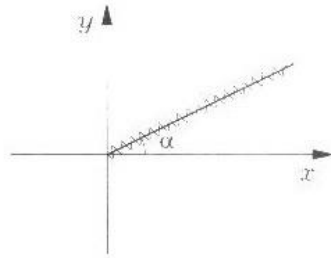
حقیقی منفی اصولاً پیوسته نمی‌باشد.

که به این خط، بریدگی شاخه‌ای تابع  $\ln z$  گفته می‌شود و چنانچه تابع لگاریتمی به صورت زیر تعریف شود.

$$w = \ln z = \ln r + i\theta : \alpha < \theta \leq \alpha + 2\pi$$



آن‌گاه بریدگی شاخه‌ای برای این تابع مطابق شکل زیر است.



دقت کنید که در تمام وضعیت‌ها بریدگی‌های شاخه‌ای تابع  $w = \ln z$  از نقطه  $z = 0$  می‌گذرد که اصطلاحاً  $z = 0$  را نقطه شاخه‌ای این تابع می‌گویند.

**مثال:** مطلوب است محاسبه عبارت‌های زیر:

الف)  $A = \ln(-1)$

**حل:**

$$\begin{cases} r=1 \\ \theta = +\pi \end{cases} \Rightarrow \ln(-1) = \ln 1 + i(+\pi + 2k\pi) = 0 + i\pi(2k+1)$$

دارای بی‌شمار مقدار می‌باشد.

ب)  $B = (1-i)^{2i}$

از دو طرف  $\ln$  می‌گیریم.

$$\ln B = \ln(1-i)^{2i} = 2i \ln(1-i)$$

$$(1-i) = \begin{cases} r = \sqrt{1^2 + 1^2} = \sqrt{2} \\ \theta = -\frac{\pi}{4} \end{cases} \Rightarrow \ln(1-i) = \ln \sqrt{2} + i\left(-\frac{\pi}{4} + 2k\pi\right)$$

$$\ln(B) = 2i \left[ \ln \sqrt{2} + i\left(2k\pi - \frac{\pi}{4}\right) \right] = 2i \ln \sqrt{2} - 2\left(-\frac{\pi}{4} + 2k\pi\right)$$

$$B = \exp\left(-2i \ln \sqrt{2} - 2\left(-\frac{\pi}{4} + 2k\pi\right)\right)$$

**مثال:** تابع  $\ln(e^z + 1)$  در چه نقاطی تحلیلی نیست (با فرض آن‌که منظور شاخه اصلی لگاریتم است یعنی  $\ln z$  با شرط

$$-\pi < \theta \leq +\pi \text{ مد نظر قرار گرفته})$$

$$x \leq 0, y = 2k\pi \quad (۴) \quad x \leq 0, y = (2k+1)\pi \quad (۳) \quad x \geq 0, y = 2k\pi \quad (۲) \quad x \geq 0, y = (2k+1)\pi \quad (۱)$$

**حل:** چون بریدگی شاخه‌ای  $\ln z$  به صورت  $\begin{cases} \operatorname{Im} z = 0 \\ \operatorname{Re} z \leq 0 \end{cases}$  فرض شده پس نقاطی که تابع  $\ln(e^z + 1)$  در آن‌ها تحلیلی نمی‌باشد به فرم

زیر به دست می‌آیند.

$$\begin{cases} \operatorname{Im}(e^z + 1) = 0 \\ \operatorname{Re}(e^z + 1) \leq 0 \end{cases}$$

اما داریم:

$$e^z + 1 = e^{x+iy} + 1 = e^x (\cos y + i \sin y) + 1$$

سی نقاط تکین موردنظر از حل دستگاه زیر حاصل می‌شوند.

$$\begin{cases} e^x \sin y = 0 \\ e^x \cos y + 1 \leq 0 \end{cases}$$

معادله اول چون  $e^x$  هرگز صفر نمی‌شود، داریم:

$$\sin y = 0 \rightarrow \begin{cases} \text{اگر } \cos y = +1 \xrightarrow{\text{معادله دوم}} e^x + 1 \leq 0 \text{ غیر ممکن} \\ \text{اگر } \cos y = -1 \xrightarrow{\text{معادله دوم}} -e^x + 1 \leq 0 \rightarrow e^x \geq 1 \rightarrow x \geq 0 \end{cases}$$

نقاط تکین تابع  $f(z)$  عبارتند از:

$$\begin{cases} x \geq 0 \\ \cos y = -1 \Rightarrow y = (2k+1)\pi \end{cases}$$

نقطه کید نقاط شاخه‌ای تابع  $\ln(e^z + 1)$  عبارتند از:

$$e^z + 1 = 0 \Rightarrow e^z = -1 \Rightarrow z = \ln(-1) = \ln|-1| + i(\arg(-1) + 2k\pi) = i(\pi + 2k\pi) = i\pi(1 + 2k)$$

مشاهده می‌شود بریدگی‌های شاخه‌ای به دست آمده در فوق دقیقاً از این نقاط شاخه‌ای منشعب می‌شوند.

### نگاشت سینوس و کسینوس

توابع مثلثاتی به صورت زیر تعریف می‌گردند:

$$\begin{cases} \sin z = \frac{e^{iz} - e^{-iz}}{2i} \\ \cos z = \frac{e^{iz} + e^{-iz}}{2} \end{cases}$$

$$\begin{cases} \sinh z = \frac{e^z - e^{-z}}{2} \\ \cosh z = \frac{e^z + e^{-z}}{2} \end{cases}$$

توجه به تعاریف، روابط زیر برقرار می‌باشد.

$$\begin{cases} \sin(iz) = i \sinh(z) \\ \cos(iz) = \cosh(z) \end{cases}$$

$$\begin{cases} \sin(z) = \sin x \cosh y + i \cos x \sinh y \\ \cos(z) = \cos x \cosh y - i \sin x \sinh y \end{cases}$$

مثال: فرض کنید  $0 \leq \theta < 2\pi$  و  $z = re^{i\theta}$  روی درستی هر یک از روابط زیر بحث کنید.

$$\overline{e^z} = e^{\bar{z}} \quad (\text{ج}) \quad \overline{\sin z} = \sin \bar{z} \quad (\text{ب}) \quad \overline{\cos z} = \cos \bar{z} \quad (\text{الف})$$

روابط مربوط به گزینه‌های الف) و ب) و ج) اتحادهایی شناخته شده در بحث توابع مختلط هستند، به عنوان مثال:

$$\overline{(e^z)} = \overline{(e^{x+iy})} = \overline{(e^x e^{iy})}$$

$$\overline{(e^z)} = e^x \cdot e^{-iy} = e^{x-iy} = e^{\bar{z}}$$

$$\overline{\sin z} = \overline{(\sin(x+iy))} = \overline{(\sin x \cosh y + i \cos x \sinh y)} = \sin x \cosh y - i \cos x \sinh y$$

$$\sin \bar{z} = \sin(x-iy) = \sin x \cos(iy) - \cos x \sin iy = \sin x \cosh y - i \cos x \sinh y$$

از طرفی:

مثال: تبدیل یافته خطوط  $x=c$  و  $y=k$  را تحت نگاشت  $w = \sin z$  پیدا کنید.

حل:

$$w = \sin z \rightarrow \begin{cases} u = \sin x \cdot \cosh y \\ v = \cos x \cdot \sinh y \end{cases}$$

$$x=c \rightarrow \begin{cases} u = \sin c \cdot \cosh y \\ v = \cos c \cdot \sinh y \end{cases} \xrightarrow{\cosh^2 y - \sinh^2 y = 1} \frac{u^2}{\sin^2 c} - \frac{v^2}{\cos^2 c} = 1$$

$$y=k \rightarrow \begin{cases} u = \sin x \cdot \cosh k \\ v = \cos x \cdot \sinh k \end{cases} \xrightarrow{\sin^2 x + \cos^2 x = 1} \frac{u^2}{\cosh^2 k} + \frac{v^2}{\sinh^2 k} = 1$$

توجه: به یاد داشته باشید سینوس و کسینوس با آرگومان‌های مختلط هرگز محدودیت بین  $(-1)$  و  $1$  را ندارد.

مثال: حاصل  $|\sin z|^2$  کدام است؟

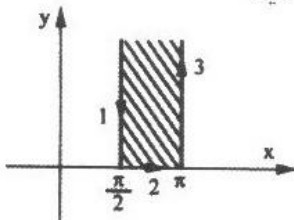
حل: از آن جا که می‌توان نوشت:

$$\sin z = \sin(x + iy) = \sin x \cos iy + \cos x \sin iy = \sin x \cosh y + i \cos x \sinh y$$

در نتیجه:

$$\begin{aligned} |\sin z|^2 &= \sin^2 x \cosh^2 y + \cos^2 x \sinh^2 y = \sin^2 x (1 + \sinh^2 y) + \cos^2 x \sinh^2 y \\ &= \sin^2 x + \sinh^2 y (\sin^2 x + \cos^2 x) = \sin^2 x + \sinh^2 y \end{aligned}$$

مثال: تبدیل یافته ناحیه نشان داده شده در شکل زیر را با نگاشت  $w = -\cos z$  پیدا کنید.



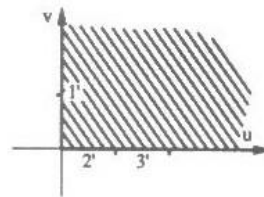
حل:

$$w = -\cos z = -\cos(x + iy) \rightarrow \begin{cases} u = -\cos x \cdot \cosh y \\ v = \sin x \cdot \sinh y \end{cases}$$

$$1) \begin{cases} x = \frac{\pi}{2} \\ y: +\infty \rightarrow 0 \end{cases} \Rightarrow \begin{cases} u = 0 \\ v = \sinh y \end{cases} \quad 0 < v < \infty$$

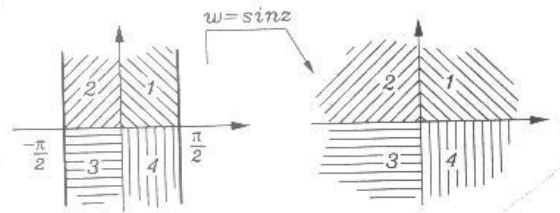
$$2) \begin{cases} y = 0 \\ x: \frac{\pi}{2} \rightarrow \pi \end{cases} \Rightarrow \begin{cases} u = -\cos x \\ v = 0 \end{cases} \quad 0 < u < 1$$

$$3) \begin{cases} x = \pi \\ y: 0 \rightarrow +\infty \end{cases} \Rightarrow \begin{cases} u = \cosh y \\ v = 0 \end{cases} \quad 0 < u < \infty$$



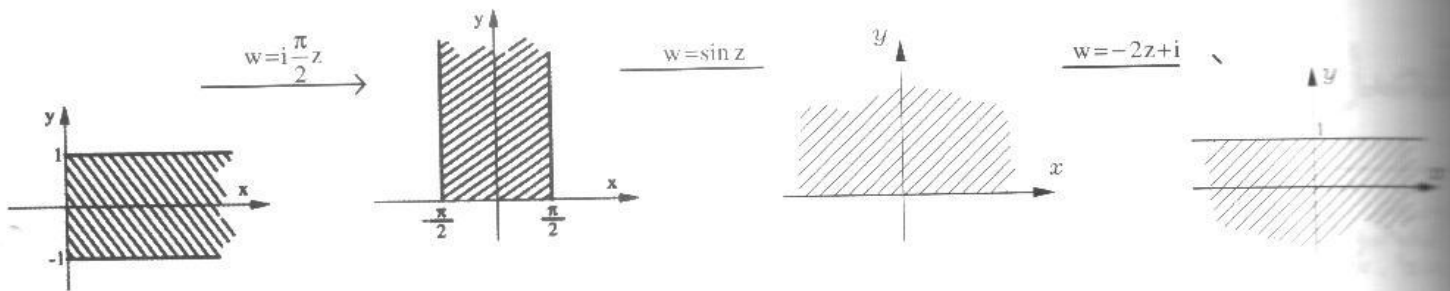
برای نگاشت  $w = \sin z$  حالت خاص زیر در بسیاری موارد در حل مسأله کمک می‌کند.

بسیار مهم

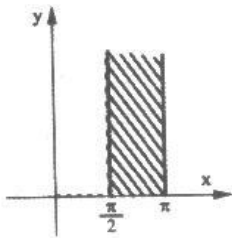


حاله تبدیل یافته ناحیه  $D = \{z \mid -1 \leq \text{Im } z \leq +1; \text{Re } z \geq 0\}$  را تحت نگاشت:  $w = -2 \sin\left(\frac{i\pi}{2}z\right) + i$  بیابید:

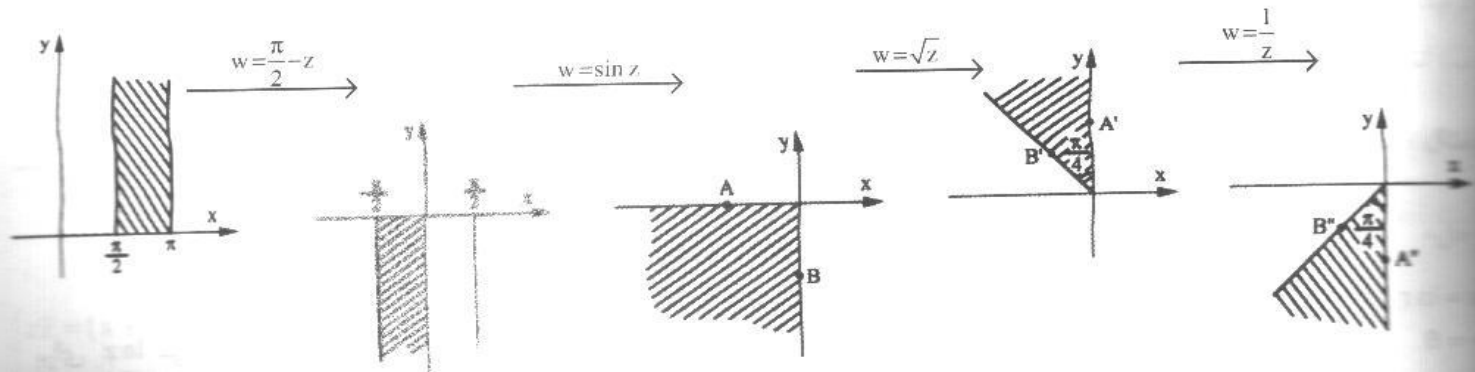
نتیجه را می‌توان با ترکیب‌هایی از انتهای نگاشت‌های زیر به دست آورد.



حاله تبدیل یافته ناحیه نشان داده شده در شکل زیر را با نگاشت  $w = \frac{1}{\sqrt{\cos z}}$  پیدا کنید.

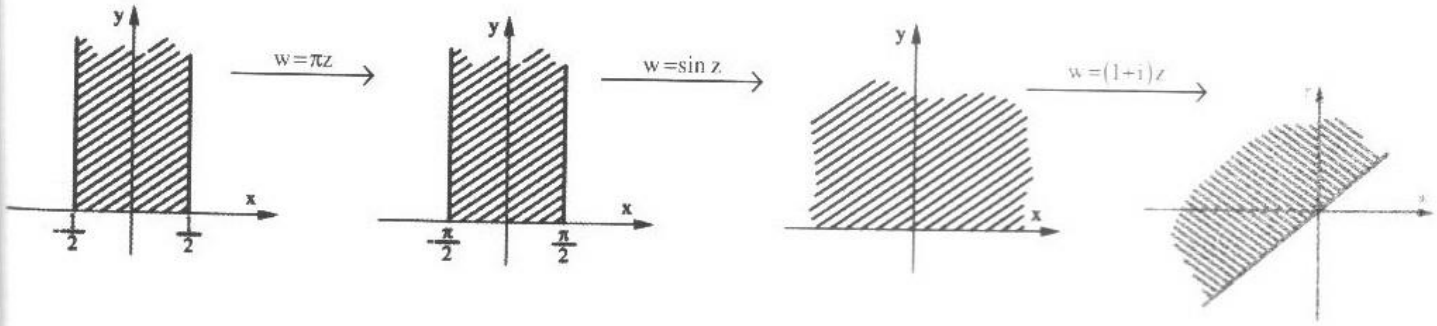


$$W: \frac{\pi}{2} - z, \sin z; \sqrt{z}; \frac{1}{z}$$



حاله ناحیه نشان داده شده در شکل از صفحه  $z$  تحت نگاشت  $w = (1+i)\sin \pi z$  به کدام ناحیه از صفحه مختلط  $w$  تبدیل می‌شود. حل: با استفاده از ترکیب نگاشت‌ها می‌توان نوشت:

$$w = w_1 \circ w_2 \circ w_3, \quad w_1 = \sin z, \quad w_2 = \sqrt{z}, \quad w_3 = (1+i)z$$

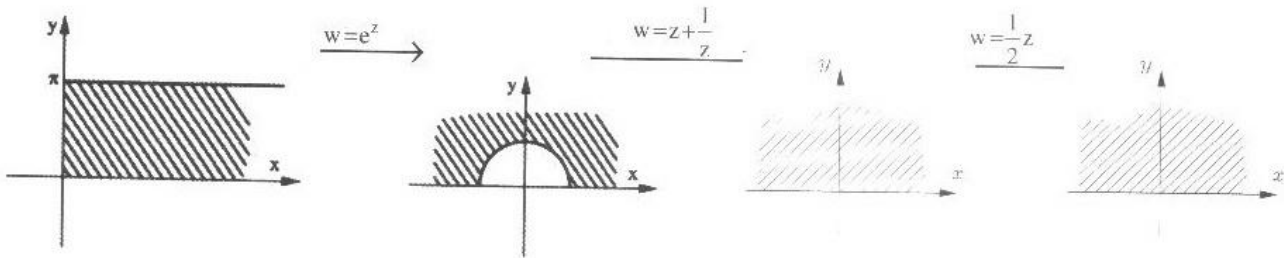


بنابراین تبدیل یافته ناحیه مورد نظر با رابطه  $v + u \geq 0$  توصیف می شود.

مثال: تبدیل  $D = \{z \mid \operatorname{Re} z > 0, 0 \leq \operatorname{Im} z \leq +\pi\}$  با نگاشت  $w = \cosh z$  را به دست آورید.

حل: از آن جایی که  $\cosh z = \frac{e^z + e^{-z}}{2} = \frac{e^z + \frac{1}{e^z}}{2}$  لذا این نگاشت را می توان به صورت ترکیبی از نگاشت های زیر نوشت:

$$w_1 = e^z, w_2 = z + \frac{1}{z}, w_3 = \frac{1}{2}z$$

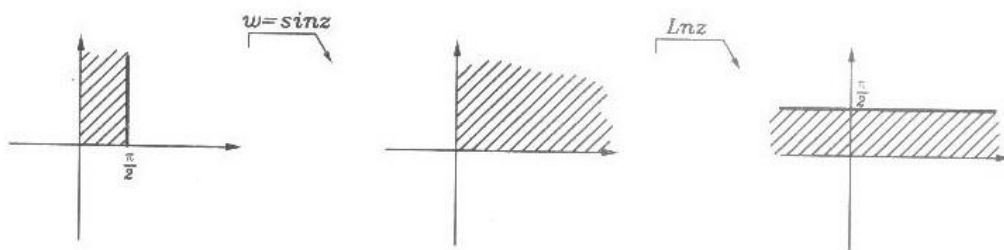


تحت نگاشت  $w = \ln(\sin z)$  ناحیه  $\{0 \leq \operatorname{Re} z \leq \frac{\pi}{2}, \operatorname{Im} z \geq 0\}$  به کدام ناحیه تبدیل می شود؟

$$w = \ln(\sin z) : \sin z, \ln z$$

حل:

لذا می توان گفت:



$$u = \ln r$$

$$v = \theta$$

برای  $\ln z$  می دانیم:

لذا تبدیل یافته ناحیه وسطی را با این نگاشت چنین تعیین کرده ایم.

$$0 < r < +\infty \rightarrow \ln 0^+ < u < \ln(+\infty) \rightarrow -\infty < u < +\infty$$

$$0 \leq \theta \leq \frac{\pi}{2} \rightarrow 0 \leq v \leq \frac{\pi}{2}$$