

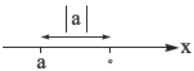
## درس ۴

## قدرمطلق و ویژگی های آن

## تعریف قدرمطلق

سال گذشته با مفهوم قدرمطلق آشنا شدیم. دیدیم که کلاگیر میله مثبت کنه! در واقع کارش اینه که اعدادی که تو دماش میفتن اگر مثبت یا صفر باشن رهاشون می کنه. اما وای به حال عددی که منفی باشه. تو این حالت عدد را میندازه تو یک بند. انقدر نگاهش می داره تا مثبت شه بره بیرون! با این مقدمه وارد بحث بشیم و کمی ریاضی وار قدرمطلق را بررسی کنیم. این طوری دیگه فیلی بچه بازیه!

**تعریف قدرمطلق:**  $|a|$  در حقیقت فاصله نقطه  $a$  به طول  $a$  از مبدأ مختصات است. دقت کنید که  $a$  می تواند مثبت، منفی یا صفر باشد. (به طور کلی قدرمطلق برای بیان مفهوم فاصله مطرح شد.)



بعد از ایجاد مفهوم  $|a|$ ، این عبارت به زبان ریاضی به صورت زیر تعریف شد:

(وقتی  $a$  مثبت یا صفر، قدرمطلق رهاش می کنه،  $|a| = a$ )

(وقتی  $a$  منفیه، قدرمطلق باید مثبتش کنه؛ پس تو یک منفی ضربش می کنه تا مثبت شه، بعد رهاش می کنه،  $|a| = -a$ )

$$|a| = \begin{cases} a & a \geq 0 \\ -a & a < 0 \end{cases}$$

اما نحوه نمایش  $|a|$  به صورت های زیر هم مشاهده شده:

$$|a| = \begin{cases} a & a \geq 0 \\ -a & a \leq 0 \end{cases} = \begin{cases} a & a > 0 \\ 0 & a = 0 \\ -a & a < 0 \end{cases}$$

**مثال** هر یک از عبارات های زیر را بدون قدرمطلق بنویسید.

(ت)  $|\pi - 3\frac{1}{5}|$

(پ)  $|2 - \sqrt{5}|$

(ب)  $|2 - \sqrt{3}|$

(الف)  $|-\sqrt{2}|$

پاسخ

(الف)  $|\underbrace{-\sqrt{2}}_{\text{منفی}}| = -(-\sqrt{2}) = \sqrt{2}$

(ب)  $|\underbrace{2 - \sqrt{3}}_{\text{مثبت}}| = 2 - \sqrt{3}$

(دقت کنید که  $\sqrt{3} = 1/7$ )

(پ)  $|\underbrace{2 - \sqrt{5}}_{\text{منفی}}| = -(2 - \sqrt{5}) = \sqrt{5} - 2$

(دقت کنید که  $\sqrt{5} = 2/2$ )

(ت)  $|\underbrace{\pi - 3\frac{1}{5}}_{\text{منفی}}| = -(\pi - 3\frac{1}{5}) = 3\frac{1}{5} - \pi$

(دقت کنید که  $\pi = 3/14$  و  $3\frac{1}{5} = 3/2$ )

**مثال** حاصل  $|\sqrt{2} - 2| + \sqrt{3 - 2\sqrt{2}}$  را بیابید.

**پاسخ** هر کدام از قدرمطلق ها را بررسی کرده و در صورت امکان ساده می کنیم:

$$|\underbrace{\sqrt{2} - 2}_{\text{منفی}}| = -(\sqrt{2} - 2) = 2 - \sqrt{2}$$

$$\sqrt{3 - 2\sqrt{2}} = \sqrt{(\sqrt{2} - 1)^2} = |\underbrace{\sqrt{2} - 1}_{\text{مثبت}}| = \sqrt{2} - 1$$

$$|\sqrt{2} - 2| + \sqrt{3 - 2\sqrt{2}} = (2 - \sqrt{2}) + (\sqrt{2} - 1) = 1$$

بنابراین:

$$\sqrt{u^2} = |u|, \sqrt[3]{u^3} = u$$

در حالت کلی داریم:

$$\sqrt[2n]{u^{2n}} = |u|, \sqrt[2n+1]{u^{2n+1}} = u$$

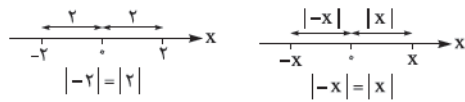
## ویژگی‌های قدرمطلق:

۱)  $|x| \geq 0, (x \in \mathbb{R})$ : چون قدرمطلق مفهوم فاصله دارد و فاصله هم هیچ‌وقت منفی نمی‌شود، پس فاصله هر عدد حقیقی  $x$  از مبدأ مختصات یعنی همان  $|x|$ ، همواره عددی نامنفی است.

چون  $|x|$  فقط در  $x = 0$  صفر می‌شود، در نتیجه برای  $x \neq 0$  داریم  $|x| > 0$ . هم‌چنین:

$$|x| > 0 \Rightarrow x \neq 0$$

۲)  $|x| = |-x|$ : این هم معلوم است. فاصله نقطه به طول  $x$  از مبدأ با فاصله قرینه‌اش از مبدأ برابر است:



### مثال

۳)  $|x| = a \Rightarrow x = \pm a (a \geq 0)$ : با توجه به ویژگی ۲، این ویژگی به راحتی قابل بررسی است. برای مثال، نقطه‌ای که به فاصله ۳ از مبدأ مختصات قرار دارد، هم می‌تواند ۳ باشد و هم -۳.

$$|x| = 3 \Rightarrow x = \pm 3$$

۴)  $|x| = |a| \Rightarrow x = \pm a$ : قابل دستیابی است.

۵)  $|x^2| = x^2$  و  $|x| = x$ : هر دو عبارتهایی نامنفی هستند؛ پس گذاشتن و نگذاشتن قدرمطلق برای  $x^2$  هیچ تأثیری ندارد.

$$|ab| = |a||b| \text{ و در نتیجه: } \left| \frac{a}{b} \right| = \frac{|a|}{|b|}$$

۶)  $-|a| \leq a \leq |a|$ : هر عدد یا برابر قدرمطلقش است (وقتی مثبت یا صفر باشد) یا برابر منفی قدرمطلقش (وقتی منفی باشد).

۸)  $|x| \leq c \Leftrightarrow -c \leq x \leq c$ : برای مثال وقتی  $|x| \leq 2$ ، از سمت راست،  $x$  حداکثر می‌تواند تا ۲ زیاد بشود و از سمت چپ حداقل می‌تواند تا -۲ کم شود. در نتیجه:

$$|x| \leq 2 \Rightarrow -2 \leq x \leq 2$$

$$|x| < c \Leftrightarrow -c < x < c$$

۹)  $|x| \geq c \Leftrightarrow x \geq c$  یا  $x \leq -c$ : با توجه به ویژگی ۸، این فاصله، خارج فاصله حالت ۸ است. برای مثال:

$$|x| \geq 2 \Rightarrow x \geq 2 \text{ یا } x \leq -2$$

$$|x| > c \Leftrightarrow x > c \text{ یا } x < -c$$

۱۰)  $|a+b| \leq |a|+|b|$ : به این نامساوی، نامساوی مثلثی می‌گویند. به صورت زیر هم اثبات می‌شود:

$$\begin{cases} -|a| \leq a \leq |a| \\ -|b| \leq b \leq |b| \end{cases} \xrightarrow{\text{جمع}} -(|a|+|b|) \leq a+b \leq |a|+|b| \xrightarrow{\text{ویژگی (۸)}} |a+b| \leq |a|+|b|$$

از نامساوی مثلثی نتیجه می‌شود که:

$$|a|-|b| \leq |a-b|$$

(برای اثبات در رابطه ۱۰ به جای  $a$ ،  $a-b$  قرار می‌دهیم.)

$$|a|-|b| \leq |a \pm b| \leq |a|+|b|$$

پس در حالت کلی:

**نکات مهم نامساوی مثلثی:** طبق رابطه (۱۰) یعنی نامساوی مثلثی،  $|a+b|$  یا از  $|a|+|b|$  کوچک‌تر است یا با آن مساوی است.

این‌جا بررسی می‌کنیم هر حالت تحت چه شرایطی برقرار می‌شود. پس با توجه به  $|a+b| \leq |a|+|b|$  داریم:

اگر  $a=2$  و  $b=3$  باشد (هر دو مثبت) هر دو طرف مقدارشان ۵ می‌شود.

اگر  $a=-2$  و  $b=-3$  باشد (هر دو منفی)، باز هم هر دو طرف مقدارشان ۵ می‌شود.

اگر  $a=0$  و  $b=2$  (حداقل یکی صفر) هر دو طرف مقدارشان ۲ می‌شود.

اگر  $a=2$  و  $b=-1$  (یکی مثبت و یکی منفی) طرف چپ برابر یک و طرف راست برابر ۳ می‌شود.

پس نکته زیر برقرار خواهد بود:

$$|a+b| \leq |a|+|b| \text{ در نامساوی مثلثی}$$

۱) زمانی که  $a$  و  $b$  هم‌علامت باشند یا حداقل یکی صفر باشد، حالت تساوی برقرار است:

$$a, b \geq 0 \Rightarrow |a+b| = |a|+|b| \text{ و } a, b \text{ هم‌علامت یا حداقل یکی صفر}$$

۲) زمانی که  $a$  و  $b$  علامت‌های مخالف هم داشته باشند، حالت نامساوی برقرار است:

$$a, b < 0 \Rightarrow |a+b| < |a|+|b| \text{ (مخالف)}$$

**مثال** اگر  $|a+b| < |a| + |b|$  عبارت  $\left|\frac{a}{b}\right|$  را بدون قدرمطلق بنویسید.

**پاسخ** چون  $|a+b| < |a| + |b|$  پس با توجه به حالت (۲) نکته نامساوی مثلثی،  $a$  و  $b$  هم علامت نیستند، پس:

$$\left|\frac{a}{b}\right| = \left|\frac{a}{b}\right| \xrightarrow{a \text{ و } b \text{ علامت‌های مخالف}} \underbrace{\left|\frac{a}{b}\right|}_{\text{منفی}} = -\frac{a}{b}$$

## تابع قدرمطلق

حال قدرمطلق را به عنوان یک تابع بررسی می‌کنیم. تابع  $f(x) = |x|$  تابعی است که هر عددی وارد شود، قدرمطلقش خارج می‌شود. حالا اگر عدد مثبت باشد، خودش بیرون می‌آید و اگر عدد منفی باشد، مثبتش بیرون می‌آید.

در حالت کلی با توجه به تعریف قدرمطلق، تابع قدرمطلق به صورت مقابل تعریف می‌شود:

$$f(x) = |x| = \begin{cases} x & x \geq 0 \\ -x & x < 0 \end{cases}$$

**مثال** توابع زیر را به صورت چندضابطه‌ای بنویسید.

**الف)**  $f(x) = |x-2|$       **ب)**  $g(x) = |x^2-1|$

**پاسخ**

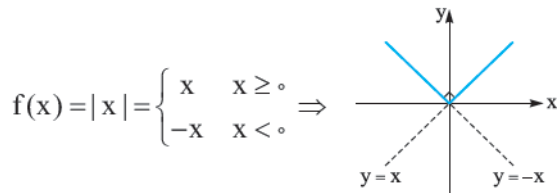
**الف)** ریشه داخلی قدرمطلق،  $x=2$  است، پس:

$$f(x) = |x-2| = \begin{cases} x-2 & x \geq 2 \\ -(x-2) & x < 2 \end{cases}$$

**ب)** ریشه‌های داخلی قدرمطلق  $x = \pm 1$  است. بین دوریشه  $(-1 < x < 1)$  علامت عبارت  $x^2-1$  منفی و خارج دوریشه  $(x > 1$  یا  $x < -1)$  علامت عبارت  $x^2-1$  مثبت یا صفر است، پس:

$$f(x) = \begin{cases} x^2-1 & x \geq 1 \text{ یا } x \leq -1 \\ -(x^2-1) & -1 < x < 1 \end{cases}$$

**رسم نمودار توابع قدرمطلق:** برای بررسی نمودارهای قدرمطلق، ابتدا با نمودار  $f(x) = |x|$  شروع می‌کنیم.



در توابع به فرم کلی  $f(x) = |x-a|+b$  زاویه بین خطوط همواره  $90^\circ$  است.

در حالت کلی برای رسم نمودارهای قدرمطلق، ابتدا با تعیین علامت قدرمطلق، تابع را به صورت یک تابع چندضابطه‌ای می‌نویسیم و سپس هر ضابطه را رسم می‌کنیم:

**مثال** نمودار تابع  $f(x) = |x+1|-2$  را رسم کنید.

**پاسخ**

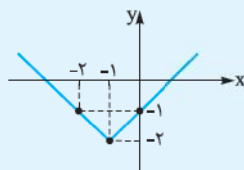
**راه حل اول:** ریشه داخلی قدرمطلق  $-1$  است؛ پس:

$$f(x) = \begin{cases} (x+1)-2 & x \geq -1 \\ -(x+1)-2 & x < -1 \end{cases} = \begin{cases} x-1 & x \geq -1 \\ -x-3 & x < -1 \end{cases}$$

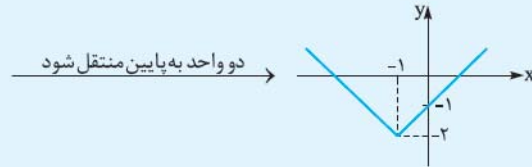
هر یک از خطهای  $y = x-1$  و  $y = -x-3$  را با دادن دو مقدار دلخواه (با توجه به شرطهای آنها) رسم می‌کنیم. نقطه  $x = -1$  در هر دو ضابطه قرار داده شود.

$$x \geq -1: y = x-1 \Rightarrow \begin{array}{c|cc} x & -1 & 0 \\ y & -2 & -1 \end{array} \Rightarrow$$

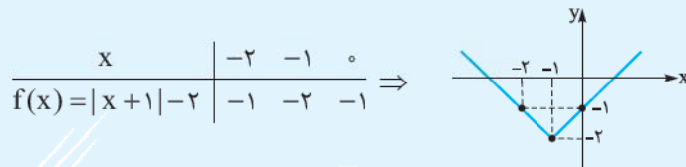
$$x < -1: y = -x-3 \Rightarrow \begin{array}{c|cc} x & -2 & -1 \\ y & -1 & -2 \end{array} \Rightarrow$$



**راه حل دوم:** از انتقال استفاده می‌کنیم. برای رسم کافی است نمودار  $f(x) = |x|$  را یک واحد به چپ و سپس دو واحد به پایین منتقل کنیم تا نمودار  $f(x) = |x+1|-2$  حاصل شود.



راه حل سوم: از روش عددگذاری استفاده می‌کنیم. با دادن سه مقدار (که عدد وسط ریشه داخل قدرمطلق است) و با محاسبه عرض تابع در این نقاط، نمودار را رسم می‌کنیم.

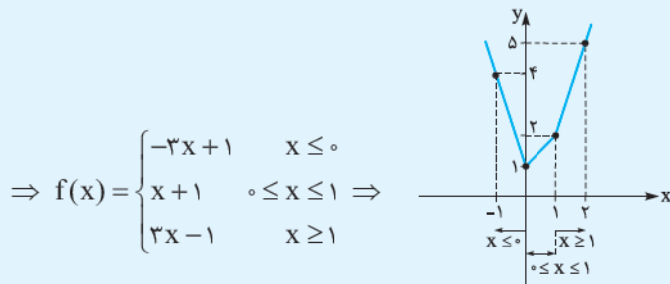


رسم نمودار مجموع یا تفاضل چند قدرمطلق: در این جا در حالت کلی باید قدرمطلق را با تعیین علامت حذف کرده و سپس هر ضابطه را با توجه به شرط آن رسم کرد.

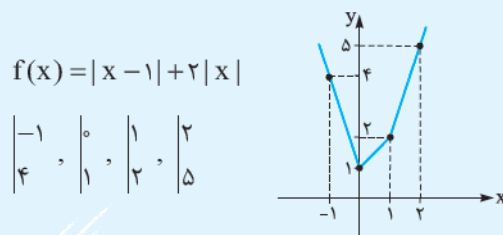
**مثال** نمودار تابع  $f(x) = |x-1| + 2|x|$  را رسم کنید.

**پاسخ** راه حل اول: ریشه داخل قدرمطلق‌ها  $x=0$  و  $x=1$  است، پس سه شرط  $x \leq 0$  و  $0 < x \leq 1$  و  $x \geq 1$  داریم. در فاصله  $x \leq 0$  هر دو قدرمطلق با علامت منفی حذف می‌شوند (چون مثلاً به ازای  $x = -1$  عبارت داخل هر دو قدرمطلق منفی می‌شوند). به همین ترتیب برای سایر شروط نیز عمل کرده و تابع را به صورت یک تابع چندضابطه‌ای می‌نویسیم:

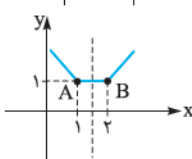
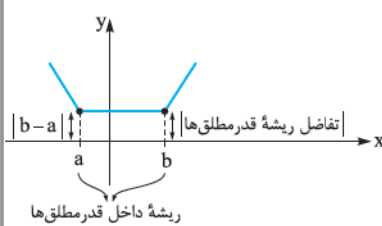
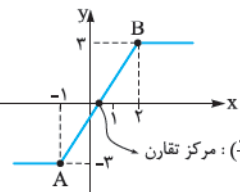
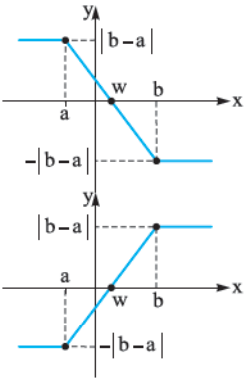
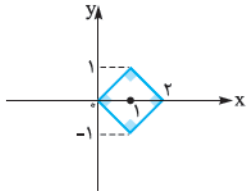
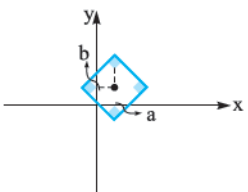
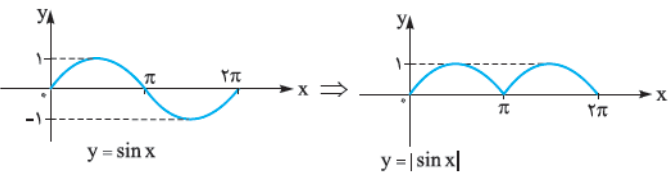
$$f(x) = |x-1| + 2|x| = \begin{cases} -(x-1) + 2(-x) & x \leq 0 \text{ (هر دو رو منفی می‌کنه.)} \\ -(x-1) + 2(x) & 0 < x \leq 1 \text{ (اولی رو منفی می‌کنه.)} \\ (x-1) + 2(x) & x \geq 1 \text{ (هر دو رو مثبت می‌کنه.)} \end{cases}$$



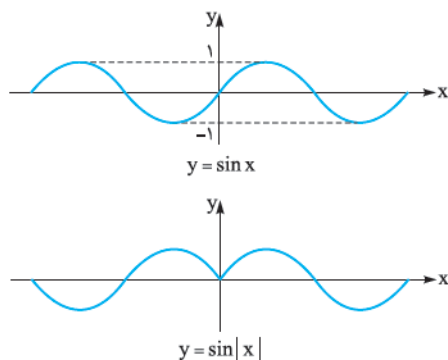
راه حل دوم: ریشه داخل هر قدرمطلق را می‌یابیم: یک عدد بزرگ‌تر از ریشه بزرگ‌تر (مثلاً  $x=2$ ) و یک عدد کوچک‌تر از ریشه کوچک‌تر (مثلاً  $x=-1$ ) را هم در نظر می‌گیریم. مقدار تابع را در این ۴ نقطه محاسبه می‌کنیم و این نقاط را روی محورهای مختصات رسم کرده و به هم وصل می‌کنیم و پاره‌خط‌های انتهایی را امتداد می‌دهیم.



## نمودارهای خاص

مثال	نمودار	توضیح	تابع
$y =  x - 1  +  x - 2 $ ریشه‌ها: $x = 1, 2$ $\Rightarrow  b - a  =  2 - 1  = 1$ $A \begin{vmatrix} 1 \\ 1 \end{vmatrix}$ و $B \begin{vmatrix} 2 \\ 1 \end{vmatrix}$  محور تقارن: $x = \frac{1+2}{2} = \frac{3}{2}$	 تفاضل ریشه قدرمطلقها $ b-a $ ریشه داخل قدرمطلقها • تابع محور تقارن $x = \frac{a+b}{2}$ دارد.	نمودار این توابع به نمودار گلدانی معروف است. برای رسم می‌توانیم از روش کلی یعنی تعیین علامت قدرمطلقها یا از روش عددگذاری استفاده کنیم.	$y =  x - a  +  x + b $
$y =  x + 1  -  x - 2 $ ریشه قدرمطلقها $x = -1$ و $x = 2$ است. برای تشخیص نمودار، مقدار تابع در این نقاط را می‌یابیم: $A \begin{vmatrix} -1 \\ -3 \end{vmatrix}$ و $B \begin{vmatrix} 2 \\ 3 \end{vmatrix}$  مركز تقارن: $(\frac{-1+2}{2}, 0)$	 • تابع مرکز تقارن $(\frac{a+b}{2}, 0)$ دارد.	نمودار این توابع به نمودارهای آبشاری معروف است. این نمودار با توجه به ریشه‌ها، به یکی از دو صورت مقابل رسم می‌شود.	$y =  x - a  -  x - b $
$ x - 1  +  y  = 1$ $\Rightarrow$ طول قطر و $(1, 0)$ : مرکز مربع 		نمودار این تابع، مربعی به مرکز $(a, b)$ و به طول قطر $2k$ است.	$ x - a  +  y - b  = k$ ' ( $k > 0$ )
<b>مثال</b> نمودار تابع $y =  \sin x $ را در فاصله $[0, 2\pi]$ رسم کنید. 		برای رسم نمودار این تابع، ابتدا نمودار $f$ را رسم می‌کنیم. سپس قسمت‌هایی از نمودار که زیر محور $x$ هستند را نسبت به محور $x$ ها قرینه می‌کنیم.	$y =  f(x) $

**مثال** نمودار تابع  $y = \sin |x|$  را رسم کنید.



● توجه کنید نمودار این توابع همواره نسبت به محور  $y$  متقارن است.

برای رسم، ابتدا نمودار تابع  $f$  را رسم می‌کنیم. سپس قسمت‌های سمت چپ محور  $y$ ها را حذف و به جای آن قرینه سمت راست را نسبت به محور  $y$ ها رسم می‌کنیم.

$$y = f(|x|)$$

## معادلات قدرمطلق

برای حل معادلات قدرمطلق یا باید از ویژگی‌های قدرمطلق یا باید از تعریف قدرمطلق و تعیین علامت قدرمطلق استفاده کنیم. البته که روش هندسی هم قابل استفاده هست.

۱- استفاده از ویژگی‌های قدرمطلق: به ویژگی‌هایی که در این قسمت مورد استفاده قرار می‌گیرند، دوباره اشاره می‌کنیم.

۱  $|u| \geq 0$  (یعنی  $|u|$  همواره نامنفیه)

۲  $|u| = |v| \Rightarrow u = \pm v$

۳  $|u| = v \Rightarrow u = \pm v \quad (v \geq 0)$

۴  $|u| = u \Rightarrow u \geq 0$

۵  $|u| = -u \Rightarrow u \leq 0$

۶  $|u+v| = |u|+|v| \Rightarrow u, v \geq 0$

(ویژگی ۶ یکی از حالت‌های نامساوی مثلثی بود.)

**مثال** معادلات زیر را حل کنید.

۱  $|x^2 - 2| = x$

۲  $|3x - 1| = |x + 2|$

۳  $|x - 1| = 2$

۴  $|x^2 - 1| + |x - 1| = 0$

۵  $|x + 1| + |2x - 1| = |3x|$

۶  $x^2 + |x^2 - 1| = 1$

**پاسخ** (الف) از ویژگی ۲ استفاده می‌کنیم:

$$|x - 1| = 2 \Rightarrow x - 1 = \pm 2 \Rightarrow \begin{cases} x - 1 = 2 \Rightarrow x = 3 \\ x - 1 = -2 \Rightarrow x = -1 \end{cases}$$

(ب) از ویژگی ۲ استفاده می‌کنیم:

$$|3x - 1| = |x + 2| \Rightarrow 3x - 1 = \pm(x + 2) \Rightarrow \begin{cases} 3x - 1 = x + 2 \Rightarrow 2x = 3 \Rightarrow x = \frac{3}{2} \\ 3x - 1 = -x - 2 \Rightarrow 4x = -1 \Rightarrow x = -\frac{1}{4} \end{cases}$$

پس معادله دو تا جواب دارد.

(پ) از ویژگی ۲ استفاده می‌کنیم: (شرط  $v \geq 0$  فراموش نشود.)

$$|x^2 - 2| = x \xrightarrow{x \geq 0} x^2 - 2 = \pm x \Rightarrow \begin{cases} x^2 - 2 = x \Rightarrow x^2 - x - 2 = 0 \\ x^2 - 2 = -x \Rightarrow x^2 + x - 2 = 0 \end{cases}$$

$$\Rightarrow \begin{cases} (x - 2)(x + 1) = 0 \Rightarrow x = 2, x = -1 \xrightarrow{x \geq 0} x = 2 \\ (x + 2)(x - 1) = 0 \Rightarrow x = -2, x = 1 \xrightarrow{x \geq 0} x = 1 \end{cases}$$

پس معادله دو تا جواب  $x = 2$  و  $x = 1$  دارد.

(ت) اول قدرمطلق را در طرف چپ نگه می‌داریم. سایر عبارتها را به طرف راست می‌بریم:

$$x^2 + |x^2 - 1| = 1 \Rightarrow \underbrace{|x^2 - 1|}_u = \underbrace{1 - x^2}_{-u}$$

خود ویژگی ۵ است؛ پس باید:

$$u \leq 0 \Rightarrow x^2 - 1 \leq 0 \Rightarrow (x - 1)(x + 1) \leq 0 \Rightarrow -1 \leq x \leq 1$$

هر موقع ۳ تا قدر مطلق دیدید، اول توجهتان به نامساوی مثلثی باشد. این جا داریم:

$$|\frac{x+1}{u}| + |\frac{2x-1}{v}| = |\frac{3x}{u+v}| \Rightarrow$$

طبق ویژگی ۶ داریم:

$$uv \geq 0 \Rightarrow (x+1)(2x-1) \geq 0 \Rightarrow x \leq -1 \text{ یا } x \geq \frac{1}{2}$$

در تعیین علامت عبارت‌های درجه دوم حالت‌های زیر را به خاطر بسپارید: (فرض:  $b > a$ )

۱  $(x-a)(x-b) \leq 0 \xrightarrow{\text{ریشه‌ها: } x=a, x=b} a \leq x \leq b$

$(x+1)(x+2) \leq 0 \xrightarrow{\text{ریشه‌ها: } x=-1, x=-2} -2 \leq x \leq -1$

۲  $(x-a)(x-b) \geq 0 \xrightarrow{\text{ریشه‌ها: } x=a, x=b} x \geq b \text{ یا } x \leq a$

$(2x+1)(x-2) \geq 0 \xrightarrow{\text{ریشه‌ها: } x=-\frac{1}{2}, x=2} x \geq 2 \text{ یا } x \leq -\frac{1}{2}$

قدر مطلق، یک عبارت همواره نامنفی است. مجموع دو عبارت نامنفی هم زمانی صفر می‌شود که هر دو با هم صفر شوند. قبلاً گفتیم در این حالت، ریشه عبارت ساده‌تر را پیدا می‌کنیم. اگر آن یکی عبارت را هم صفر کرد جواب معادله است. در غیر این صورت، معادله جواب ندارد.

چون  $x=1$ ، هم  $|x-1|$  و هم  $|x^2-1|$  را صفر می‌کند پس جواب معادله است. در نتیجه معادله یک جواب  $x=1$  دارد.

۲- استفاده از تعریف قدر مطلق و تعیین علامت: اگر معادله‌ای دیدید که هیچ کدام از ویژگی‌های گفته شده قابل استفاده نبودند می‌توانید با تعیین علامت، معادله را حل کنید.

تست معادله  $|x-1| + |x+2| = 4$  چند جواب دارد؟

۳ (۴)

۲ (۳)

۱ (۲)

صفر (۱)

پاسخ گزینه ۱: ریشه داخل هر قدر مطلق  $x=1$  و  $x=-2$  است. بنابراین سه شرط  $x \leq -2$ ،  $-2 \leq x \leq 1$  و  $x \geq 1$  را داریم:

$$x \leq -2: 2|x-1| + |x+2| = 4 \Rightarrow -2x+2-x-2=4 \Rightarrow -3x=4 \Rightarrow x=-\frac{4}{3} \xrightarrow{x \leq -2} \text{ غ غ}$$

$$-2 \leq x \leq 1: 2|x-1| + |x+2| = 4 \Rightarrow -2x+2+x+2=4 \Rightarrow -x=0 \Rightarrow x=0 \xrightarrow{-2 \leq x \leq 1} x=0 \checkmark$$

$$x \geq 1: 2|x-1| + |x+2| = 4 \Rightarrow 2x-2+x+2=4 \Rightarrow 3x=4 \Rightarrow x=\frac{4}{3} \xrightarrow{x \geq 1} x=\frac{4}{3} \checkmark$$

پس معادله دو تا ریشه  $x=0$  و  $x=\frac{4}{3}$  دارد.

۳- روش هندسی: با این روش هم آشنا هستید.

تست معادله  $|x-2| = x+1$  چند جواب دارد؟

۳ (۴)

۲ (۳)

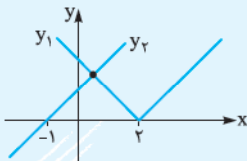
۱ (۲)

صفر (۱)

$$|x-2| = x+1$$

پاسخ گزینه ۱: از روش هندسی استفاده می‌کنیم:

برای رسم  $y_1$  نمودار  $y = |x|$  را دو واحد به راست می‌بریم و برای رسم  $y_2$ ، نمودار  $y = x$  را یک واحد به چپ می‌بریم:



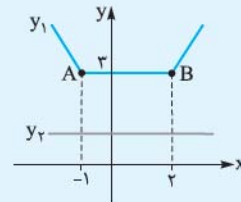
دو نمودار یکدیگر را در یک نقطه قطع می‌کنند. پس معادله یک جواب دارد.

مثال معادله  $|x+1| + |x-2| = 1$  چند ریشه دارد؟

$$|x+1| + |x-2| = 1$$

پاسخ از روش هندسی استفاده می‌کنیم:

نمودار  $y_1$ ، یک نمودار گلدانی است.

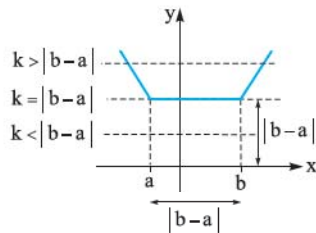


$$y_1 = |x+1| + |x-2| \Rightarrow A \begin{pmatrix} -1 \\ 1 \\ 3 \end{pmatrix}, B \begin{pmatrix} 2 \\ 1 \\ 3 \end{pmatrix} \Rightarrow$$

ریشه:  $x=-1$     ریشه:  $x=2$

دو نمودار یکدیگر را قطع نمی‌کنند؛ پس معادله جواب ندارد.

در حل معادلات به فرم  $|x-a| + |x-b| = k$  حالت‌های زیر را داریم:



۱ اگر  $k > |b-a|$  معادله دو ریشه دارد: (ریشه‌ها:  $x_1 = \frac{a+b+k}{2}, x_2 = \frac{a+b-k}{2}$ )

۲ اگر  $k = |b-a|$  معادله بی‌شمار ریشه دارد. فاصله جواب معادله،  $[a, b]$  است.

۳ اگر  $k < |b-a|$  معادله ریشه ندارد.

### پرسش‌های چهارگزینه‌ای

۱۷۲- حاصل  $|1-\sqrt{3}| + |2-\sqrt{3}|$  کدام است؟

- (۱) ۳    (۲) ۱    (۳)  $3-2\sqrt{3}$     (۴)  $\sqrt{3}+1$

۱۷۳- اگر  $2 < a < 4$  باشد،  $|a-2| + |a-4|$  کدام است؟

- (۱)  $2a+2$     (۲)  $2a-2$     (۳) ۲    (۴) ۳

۱۷۴- اگر  $0 < a < b$ ، حاصل  $|a-b| + |a| + |b+2|$  کدام است؟

- (۱)  $2(1-a)$     (۲)  $2(b+1)$     (۳)  $2(b-a+1)$     (۴)  $2(a-b+1)$

۱۷۵- اگر  $0 < a < b$  و  $|a| > |b|$ ، آن‌گاه حاصل عبارت  $|a+b| + |a| + |b|$  برابر کدام است؟

- (۱)  $-2b$     (۲)  $-2a$     (۳)  $2a$     (۴)  $2b$

۱۷۶- اگر  $|a| < |b|$  و  $b^3$  منفی باشد، آن‌گاه همواره:

- (۱)  $\frac{1}{a} > \frac{1}{b}$     (۲)  $a < b$     (۳)  $a > b$     (۴)  $a^2 > b^2$

۱۷۷- اگر  $x < 0$  باشد، حاصل  $2\sqrt{x^3} + \sqrt{x^4}$  کدام است؟

- (۱)  $3x$     (۲)  $x$     (۳)  $-x$     (۴)  $-3x$

(برگرفته از کتاب درسی)

۱۷۸- حاصل  $\sqrt{7-4\sqrt{3}}$  کدام است؟

- (۱)  $\sqrt{3}-2$     (۲)  $\sqrt{3}-1$     (۳)  $2-\sqrt{3}$     (۴)  $1-\sqrt{3}$

۱۷۹- به ازای هر  $x \in [1, +\infty)$ ، مقدار  $\sqrt{4x^2-4x+1} + \sqrt{x^2-2x+1}$  کدام است؟

- (۱)  $-x$     (۲)  $2-3x$     (۳)  $3x-2$     (۴)  $x$

۱۸۰- اگر  $a(a-3) < -2$ ، آن‌گاه حاصل  $\sqrt{a^2} + \sqrt{a^2-4|a|+4}$  کدام است؟

- (۱) ۲    (۲) ۱    (۳)  $2a+2$     (۴)  $2a-2$

(تجربی ۸۶)

۱۸۱- اگر رابطه  $|x+y+z| \leq |x| + |y| + |z|$  به رابطه تساوی تبدیل شود، الزاماً سه عدد غیر صفر  $x, y, z$  چگونه‌اند؟

- (۱) مساوی هم    (۲) هم علامت    (۳) مثبت    (۴) منفی

۱۸۲- اگر  $|x-1| + |x+1| > |2x|$ ، آن‌گاه حاصل  $\frac{|x^2+x-2|}{x+2}$  کدام است؟

- (۱)  $1-x$     (۲)  $x-1$     (۳)  $x+1$     (۴)  $-x-1$

(برگرفته از کتاب درسی)

۱۸۳- اگر فاصله بین  $x$  و  $2$  روی محور اعداد حقیقی کم‌تر از  $3$  باشد، حدود  $x$  کدام است؟

- (۱)  $(-5, -1)$     (۲)  $(-5, 1)$     (۳)  $(1, 5)$     (۴)  $(-1, 5)$



۱۸۴- اگر نامساوی‌های  $|x-1| < 0/1$  و  $A < 2x-3 < B$  معادل باشند، آن‌گاه  $A+B$  کدام است؟

- (۱)  $-2/1$  (۲)  $-2$  (۳)  $-1/1$  (۴)  $-1$

۱۸۵- مجموعه جواب نامعادله  $x^2 > x+12$  به صورت  $|x-a| > b$  نوشته شده است.  $\frac{a}{b}$  کدام است؟

- (۱)  $\frac{1}{5}$  (۲)  $5$  (۳)  $\frac{1}{7}$  (۴)  $7$

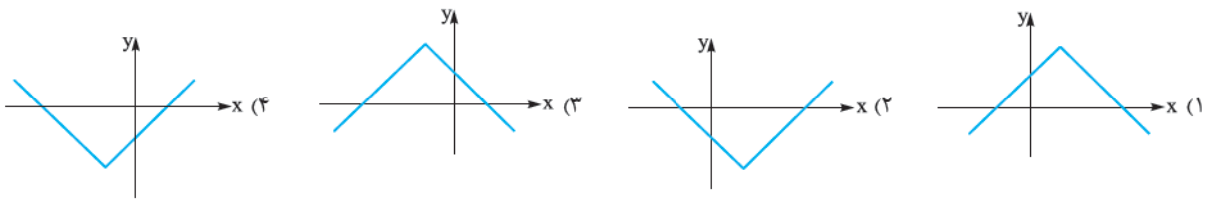
(برگرفته از کتاب درسی)

- (۱)  $12$  (۲)  $14$  (۳)  $4$  (۴)  $2$

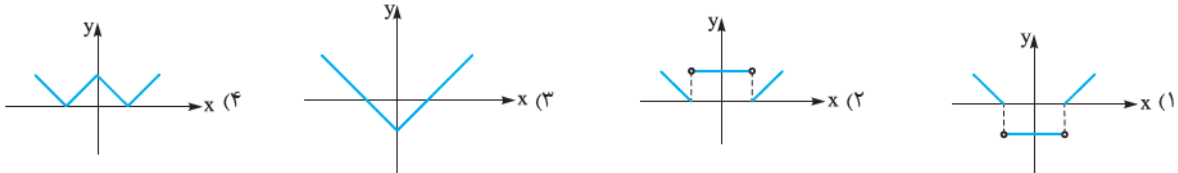
۱۸۷- نمودار تابع با ضابطه  $y = |x| + 2$  از کدام نواحی مختصات می‌گذرد؟

- (۱) اول و دوم (۲) دوم و سوم (۳) اول و سوم (۴) سوم و چهارم

۱۸۸- نمایش هندسی تابع  $y = 2 - |x+1|$  کدام است؟



۱۸۹- منحنی نمایش  $f(x) = ||x| - 2|$  کدام است؟



(برگرفته از کتاب درسی)

- (۱) اول و سوم (۲) دوم و سوم (۳) اول، سوم و چهارم (۴) هر چهار ناحیه

۱۹۰- نمودار تابع  $y = x - \frac{x}{|x|}$  از کدام نواحی مختصات می‌گذرد؟

۱۹۱- نمودار تابع با ضابطه  $y = |\frac{1}{4}x| - 2$ ،  $4$  واحد به طرف  $x$ ‌های منفی و یک واحد به طرف  $y$ ‌های مثبت انتقال می‌دهیم. نمودار جدید و نمودار

(تجربی ۹۳)

اولیه با کدام طول متقاطع‌اند؟

- (۱)  $-3/5$  (۲)  $-3$  (۳)  $-2/5$  (۴)  $-2$

۱۹۲- نمودار تابع  $y = ||3x| - |x||$  بر نمودار کدام تابع منطبق است؟

- (۱)  $|3x| - |2x|$  (۲)  $|3x| - x$  (۳)  $|4x|$  (۴)  $|2x|$

(برگرفته از کتاب درسی)

۱۹۳- نمودار تابع  $f(x) = |x^2 + 2x - 1|$  کدام است؟



۱۹۴- در نمودار تابع  $y = |x-1| - |x-2|$  دو نیم‌خط موازی محور  $x$ ‌ها وجود دارد. شیب پاره‌خطی روی نمودار که دو نیم‌خط را به هم وصل

می‌کند کدام است؟

- (۱)  $1$  (۲)  $-1$  (۳)  $2$  (۴)  $-2$

۱۹۵- مساحت محدود به نمودار تابع  $y = 3 - |x|$  و محور  $x$ ‌ها کدام است؟

- (۱)  $6$  (۲)  $7$  (۳)  $8$  (۴)  $9$

۱۹۶- مساحت محدود به نمودار تابع با ضابطه  $y = 3|x| + x - 4$  و محور  $x$ ‌ها کدام است؟

- (۱)  $12$  (۲)  $8$  (۳)  $6$  (۴)  $4$

(تجربی ۹۵)

۱۹۷- مساحت ناحیه محدود به نمودارهای دو تابع  $y = x + |x|$  و  $y = 2 - |x|$  کدام است؟

- (۱) ۲ (۲)  $\frac{7}{3}$  (۳)  $\frac{8}{3}$  (۴) ۳

(فارج تجربی ۹۵)

۱۹۸- مساحت ناحیه محدود به نمودارهای دو تابع  $y = |x| - x$  و  $y = 2 - \frac{3}{4}x$  کدام است؟

- (۱)  $\frac{8}{3}$  (۲) ۴ (۳)  $\frac{16}{3}$  (۴) ۶

۱۹۹- مساحت محدود به نمودار تابع  $y = |x|$  و  $x + 3y = 12$  کدام است؟

- (۱) ۱۲ (۲) ۱۵ (۳) ۱۶ (۴) ۱۸

۲۰۰- کمترین مقدار تابع  $y = |x| + |x-1| - 2|x+1|$  کدام است؟

- (۱) -۴ (۲) -۳ (۳) -۲ (۴) -۱

۲۰۱- اگر فاصله نقطه  $x$  از  $-1$  روی محور اعداد حقیقی برابر ۳ باشد، مجموع مقادیر  $x$  کدام است؟

- (۱) ۳ (۲) -۳ (۳) ۲ (۴) -۲

۲۰۲- ریشه‌های معادله  $||x| - 3| = 1$  چگونه‌اند؟

- (۱) دو ریشه مثبت و دو ریشه منفی  
(۲) یک ریشه مثبت و یک ریشه منفی  
(۳) فقط یک ریشه مثبت  
(۴) ریشه ندارد.

۲۰۳- قدرمطلق تفاضل ریشه‌های معادله  $|3x+2| = |x-1|$  کدام است؟

- (۱)  $\frac{3}{4}$  (۲)  $\frac{5}{4}$  (۳)  $\frac{3}{2}$  (۴)  $\frac{5}{2}$

۲۰۴- حاصل ضرب طول نقاطی روی محور اعداد حقیقی که فاصله آن‌ها از نقطه‌ای به طول ۳، چهار برابر فاصله آن‌ها از نقطه‌ای به طول  $-1$  می‌باشد، کدام است؟

- (۱)  $\frac{3}{35}$  (۲)  $-\frac{3}{35}$  (۳)  $\frac{7}{15}$  (۴)  $-\frac{7}{15}$

۲۰۵- ریشه‌های معادله  $|x^2 - 1| = 3x + 3$  چگونه‌اند؟

- (۱) فقط یک ریشه مثبت  
(۲) فقط یک ریشه منفی  
(۳) دو ریشه منفی و یک ریشه مثبت  
(۴) یک ریشه مثبت و یک ریشه منفی

۲۰۶- معادله  $|x + \frac{1}{x}| = 2/5$  چند ریشه دارد؟

- (۱) صفر (۲) ۲ (۳) ۳ (۴) ۴

۲۰۷- قدرمطلق تفاضل جواب‌های معادله  $|x - \frac{1}{x}| = |x+1|$  کدام است؟

- (۱)  $0/5$  (۲) ۱ (۳)  $1/5$  (۴) ۲

۲۰۸- جواب‌های معادله  $|x-1| = 2$  چگونه است؟

- (۱) فقط یک جواب منفی  
(۲) یک جواب مثبت و یک جواب منفی  
(۳) فقط یک جواب مثبت  
(۴) جواب ندارد.

۲۰۹- حاصل ضرب ریشه‌های معادله  $|x+1| = 3 - 2x - x^2$  کدام است؟

- (۱) صفر (۲) ۸ (۳) -۱۵ (۴) -۱۲

۲۱۰- معادله  $||x - |x+1|| = 3$  چند ریشه دارد؟

- (۱) صفر (۲) ۱ (۳) ۲ (۴) ۳

۲۱۱- اگر  $|x^2 - 1| + |x^2 - 3| = 2|x - 5|$  حاصل  $|2x - 3| - |2x - 5|$  کدام است؟

- (۱) ۷ (۲) -۷ (۳)  $4x - 7$  (۴)  $7 - 4x$

۲۱۲- ریشه‌های معادله  $|x| + |2x+1| = x^2 - 1$  چگونه‌اند؟

- (۱) یک ریشه مثبت  
(۲) یک ریشه منفی  
(۳) دو ریشه هم‌علامت  
(۴) دو ریشه با علامت‌های مخالف

۲۱۳- معادله  $|x^2 - 4x + 5| + |x - 2| = 1$  چند ریشه دارد؟

- (۱) صفر (۲) ۲ (۳) ۱ (۴) ۳

۲۱۴- تعداد جواب‌های معادله  $|x^2 + x| + |x^2 + 4| = 3$  کدام است؟

- (۱) صفر (۲) ۱ (۳) ۳ (۴) ۴

۲۱۵- معادله  $|x-1| + |2x+1| = 3|x|$  چند جواب طبیعی را شامل می‌شود؟

- (۱) صفر (۲) ۱ (۳) ۲ (۴) بی‌شمار

۲۱۶- مجموع طول نقاطی روی محور طول‌ها که مجموع فاصله‌های آن‌ها از دو نقطه به طول‌های ۲- و ۳ برابر ۶ باشد، کدام است؟

- (۱) ۱ (۲) ۲ (۳) -۱ (۴) -۲ (برگرفته از کتاب درسی)

۲۱۷- کدام گزینه در مورد معادله  $\frac{\sqrt{x^2+6x+9}}{|x|+3} = 1$  صحیح است؟

- (۱) معادله فقط یک ریشه در فاصله  $(-1, 1)$  دارد.  
(۲) معادله بی‌شمار ریشه مثبت دارد.  
(۳) معادله ریشه ندارد.  
(۴) معادله فقط یک ریشه منفی دارد.

۲۱۸- به ازای چه حدودی از  $a$  معادله  $||x|-2| = a$  دو ریشه دارد؟

- (۱)  $(2, +\infty)$  (۲)  $(0, 2)$  (۳)  $[0, 2]$  (۴)  $[2, +\infty)$

۲۱۹- معادله  $|x-2| + \frac{1}{|x|} = 1$  چند جواب دارد؟

- (۱) صفر (۲) ۱ (۳) ۲ (۴) ۳

۲۲۰- مساحت سطح محصور بین نمودار  $y = |x-1| + |x-3|$  و خط  $y = 4$  کدام است؟

- (۱) ۳ (۲) ۴ (۳) ۵ (۴) ۶

(برگرفته از کتاب درسی)

۲۲۱- مساحت محدود بین قسمتی از نمودار تابع  $f(x) = |x-2| + |x-1|$  و خط  $y = x$  چه قدر است؟

- (۱)  $0/5$  (۲) ۱ (۳)  $1/5$  (۴) ۲

## سوئی

۲۲۲- مساحت ناحیه محصور به نمودار تابع  $y = ||x-1| - |x+2||$  و خط  $y = 3$  کدام است؟

- (۱)  $4/5$  (۲) ۹ (۳)  $3/5$  (۴) ۷

۲۲۳- معادله ناحیه محصور بین نمودار توابع  $|x| + |y| = 1$  و  $|x-1| + |y| = 1$  کدام است؟

- (۱)  $|x - \frac{1}{2}| + |y| = \frac{1}{2}$  (۲)  $|x - \frac{1}{2}| + |y| = \frac{1}{4}$  (۳)  $|x| + |y - \frac{1}{2}| = \frac{1}{2}$  (۴)  $|x| + |y - \frac{1}{4}| = \frac{1}{4}$

(برگرفته از کتاب درسی)

۲۲۴- کم‌ترین مقدار تابع  $f(x) = |x^2 - x - 1| + |x^2 - x + 2|$  کدام است؟

- (۱) ۱ (۲) ۲ (۳) ۳ (۴) ۴

۲۲۵- اگر نمودار تابع  $f$  به صورت مقابل باشد، معادله  $\frac{f(x) - |f(x)|}{3} = 1 - |x|$  چند ریشه دارد؟

- (۱) ۱ (۲) ۲ (۳) ۳ (۴) ۴

۲۲۶- معادله  $|ax^2 - 2x| = 2$  چهار جواب دارد. حدود  $a$  کدام است؟

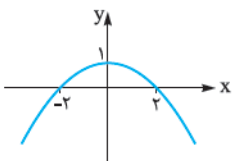
- (۱)  $\emptyset$  (۲)  $(0, \frac{1}{3})$  (۳)  $(-\frac{1}{3}, 0)$  (۴)  $(-\frac{1}{3}, \frac{1}{3}) - \{0\}$

۲۲۷- اگر مساحت ناحیه محصور بین نمودار  $y = x + |x|$  و خط  $y = x + a$  برابر ۴ باشد، مجموع مقادیر  $a$  کدام است؟

- (۱) ۲ (۲) ۳ (۳)  $\pm 2$  (۴)  $\pm 3$

۲۲۸- معادله  $|x-x^2| + |x+1| = x^2 + 1$  چند ریشه صحیح منفی دارد؟

- (۱) صفر (۲) ۱ (۳) ۲ (۴) بی‌شمار



۱۷۵- گزینه راه حل اول:

$$b < 0 < a \Rightarrow \begin{cases} a > 0 \Rightarrow |a| = a \\ b < 0 \Rightarrow |b| = -b \\ |a| > |b| \Rightarrow a > -b \Rightarrow a + b > 0 \end{cases}$$

$$\Rightarrow \underbrace{|a+b|}_{+} + \underbrace{|a|}_{+} + \underbrace{|b|}_{-} = a + b + a - b = 2a$$

راه حل دوم: برای مقاردهی اولاً باید  $a > 0$  و  $b < 0$  باشد، ثانیاً

$$\begin{aligned} |a| > |b| \text{ پس مثلاً } a = 2 \text{ و } b = -1 \text{ در نظر می‌گیریم.} \\ |a+b| + |a| + |b| &= |2-1| + |2| + |-1| \\ &= 1 + 2 + 1 = 4 \end{aligned}$$

پس با توجه به مقادیر  $a$  و  $b$  (۳) درست است.

۱۷۶- گزینه چون  $b^3$  منفی است، پس  $b$  هم منفی

$$|a| < |b| \Rightarrow |a| < -b \quad \text{است. در نتیجه:}$$

حالا از رابطه  $|x| < c \Rightarrow -c < x < c$  استفاده می‌کنیم:

$$|a| < -b \Rightarrow -(-b) < a < -b \Rightarrow b < a < -b$$

همواره  $a > b$  است.

۱۷۷- گزینه می‌دانیم:

$$\begin{aligned} \sqrt[n]{x^{2n}} &= |x|, \sqrt[n+1]{x^{2n+1}} = x \\ \sqrt[2]{x^3} + \sqrt[4]{x^4} &= 2x + |x| \quad \text{در نتیجه:} \\ 2x + \sqrt[4]{x^4} &= 2x - x = x \quad \text{چون } x < 0 \text{ پس:} \end{aligned}$$

باز هم می‌توانید از روش عددگذاری هم استفاده کنید.

۱۷۸- گزینه عبارت زیر رادیکال را می‌توان به صورت

$$\begin{aligned} 7 - 4\sqrt{3} &= (2 - \sqrt{3})^2 \quad \text{مربع دوجمله‌ای نوشت؛ نگاه کنید:} \\ \Rightarrow \sqrt{7 - 4\sqrt{3}} &= \sqrt{(2 - \sqrt{3})^2} = \underbrace{|2 - \sqrt{3}|}_{+} = 2 - \sqrt{3} \end{aligned}$$

۱۷۹- گزینه با استفاده از اتحاد مربع دوجمله‌ای،

عبارت را ساده می‌کنیم:

$$\begin{aligned} \sqrt{4x^2 - 4x + 1} + \sqrt{x^2 - 2x + 1} \\ = \sqrt{(2x-1)^2} + \sqrt{(x-1)^2} \\ = |2x-1| + |x-1| \quad (\sqrt{u^2} = |u|) \end{aligned}$$

چون  $x \in [1, +\infty)$  پس  $x \geq 1$  در نتیجه:

$$x \geq 1 \xrightarrow{\substack{\text{یک عدد دلخواه مثل ۲} \\ \text{در نظر می‌گیریم.}}} \begin{cases} \sqrt{2x-1} = 2x-1 \\ \sqrt{x-1} = x-1 \end{cases}$$

$$\Rightarrow |2x-1| + |x-1| = 2x-1 + x-1 = 3x-2$$

روش عددگذاری هم جواب می‌دهد.

۱۷۲- گزینه مقدار  $\sqrt{3}$  تقریباً  $1/7$  است، پس:

$$\begin{aligned} \underbrace{|1-\sqrt{3}|}_{-} + \underbrace{|2-\sqrt{3}|}_{+} &= -(1-\sqrt{3}) + 2 - \sqrt{3} \\ &= -1 + \sqrt{3} + 2 - \sqrt{3} = 1 \end{aligned}$$

۱۷۳- گزینه راه حل اول:

$$\begin{aligned} 2 < a < 4 \Rightarrow \begin{cases} a > 2 \Rightarrow a - 2 > 0 \\ a < 4 \Rightarrow a - 4 < 0 \end{cases} \\ \Rightarrow \underbrace{|a-2|}_{+} + \underbrace{|a-4|}_{-} &= a - 2 + (-(a-4)) \\ &= a - 2 - a + 4 = 2 \end{aligned}$$

می‌توانید یک عدد در فاصله داده شده انتخاب کنید (مثلاً  $a = 3$ )

براساس آن علامت داخل هر قدرمطلق را تعیین کنید.

راه حل دوم: اصلاً چه کاریه!  $a = 3$  رو قرار می‌دهیم:

$$\begin{aligned} a = 3: |a-2| + |a-4| &= |3-2| + |3-4| = 1 + 1 = 2 \\ \text{تنها گزینه‌ای که به ازای } a = 3 \text{ مقدارش } 2 \text{ می‌شود، (۳) است.} \end{aligned}$$

۱۷۴- گزینه راه حل اول:

$$\begin{aligned} a < 0 < b \Rightarrow \begin{cases} a < 0 \\ b > 0 \\ a < b \Rightarrow a - b < 0 \end{cases} \\ \Rightarrow \underbrace{|a-b|}_{-} + \underbrace{|a|}_{-} + \underbrace{|b+2|}_{+} &= -a + b - a + b + 2 \\ &= -2a + 2b + 2 = 2(b-a+1) \end{aligned}$$

دقت کنید وقتی  $b > 0$ ، حتماً  $b + 2 > 0$ .

راه حل دوم: اگر  $b = 2$  و  $a = -1$  در نظر گرفته شود، آن‌گاه:

$$|a-b| + |a| + |b+2| = |-1-2| + |-1| + |2+2| = 8$$

تنها گزینه‌ای که به ازای این مقادیر دلخواه، مقدارش ۸ می‌شود،

(۳) است.

۱۸۵- گزینه ● اول جواب نامعادله اول را می‌یابیم:

$$x^2 > x + 12 \Rightarrow x^2 - x - 12 > 0$$

$$\Rightarrow (x-4)(x+3) > 0 \Rightarrow \begin{cases} x > 4 \\ \text{یا} \\ x < -3 \end{cases}$$

بعد، جواب نامعادله دوم:

$$|x-a| > b = \begin{cases} x-a > b \Rightarrow x > a+b \\ \text{یا} \\ x-a < -b \Rightarrow x < a-b \end{cases}$$

چون جواب‌های دو نامعادله یکسان است، پس باید:

$$\begin{cases} a+b=4 \\ a-b=-3 \end{cases} \xrightarrow{\text{جمع}} 2a=1 \Rightarrow a=\frac{1}{2}$$

$$\xrightarrow{a+b=4} \frac{1}{2} + b = 4 \Rightarrow b = \frac{7}{2} \Rightarrow \frac{a}{b} = \frac{\frac{1}{2}}{\frac{7}{2}} = \frac{1}{7}$$

۱۸۶- گزینه ●● حدود  $X$  را محاسبه می‌کنیم:

$$|x+2| \leq 2 \Rightarrow -2 \leq x+2 \leq 2 \Rightarrow -4 \leq x \leq 0$$

با توجه به حدود  $X$ ، حدود  $3X-2$  را محاسبه می‌کنیم:

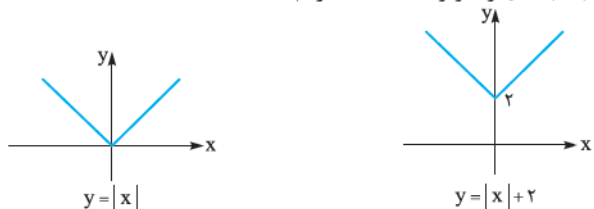
$$-4 \leq x \leq 0 \xrightarrow{\times 3} -12 \leq 3x \leq 0$$

$$\xrightarrow{-2} -14 \leq 3x-2 \leq -2 \Rightarrow 2 \leq |3x-2| \leq 14$$

پس می‌توانیم بگوییم  $|3x-2| \leq 14$  است. پس کم‌ترین مقدار  $k$  ۱۴ است.

۱۸۷- گزینه ● برای رسم نمودار داده‌شده باید نمودار

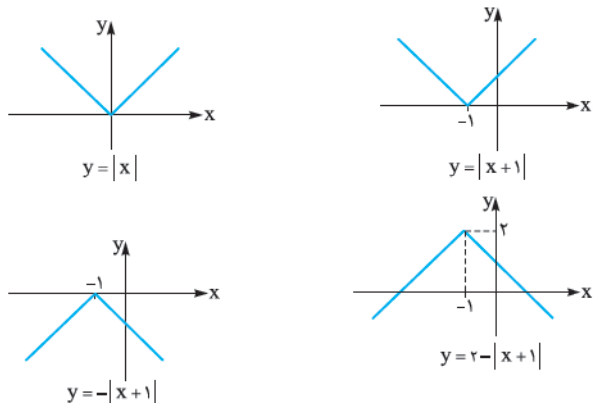
$$y = |x| \text{ را دو واحد به بالا ببریم.}$$



در نتیجه نمودار از نواحی اول و دوم می‌گذرد.

۱۸۸- گزینه ●● راه‌حل اول: برای رسم، نمودار  $y = |x|$

را یک واحد به چپ می‌بریم، سپس آن را نسبت به محور  $X$ ها قرینه می‌کنیم. در نهایت آن را ۲ واحد به بالا می‌بریم.



۱۸۰- گزینه ● اول با حل نامعادله داده‌شده، حدود  $a$  را

پیدا می‌کنیم:

$$a(a-3) < -2 \Rightarrow a^2 - 3a < -2 \Rightarrow a^2 - 3a + 2 < 0$$

$$\Rightarrow (a-2)(a-1) < 0 \Rightarrow 1 < a < 2$$

حالا شروع می‌کنیم به ساده‌تر کردن عبارت:

$$\sqrt{a^2} + \sqrt{a^2 - 4|a| + 4} = |a| + \sqrt{a^2 - 4|a| + 4}$$

چون  $1 < a < 2$  پس  $|a| = a$ ، در نتیجه:

$$a + \sqrt{a^2 - 4a + 4} = a + \sqrt{(a-2)^2} = a + |a-2|$$

دوباره چون  $1 < a < 2$  پس  $a-2 < 0$  و در نتیجه:

$$a + |a-2| = a + (-a+2) = 2$$

۱۸۱- گزینه ●● نامساوی فوق حالت تعمیم‌یافته نامساوی

مثلثی است. گفتیم نامساوی مثلثاتی زمانی به تساوی تبدیل می‌شود که عبارت‌ها هم‌علامت باشند یا حداقل یکی صفر باشد. این‌جا خود طراح گفته اعدادمان غیر صفر هستند؛ پس باید هم‌علامت باشند.

۱۸۲- گزینه ● با توجه به حالت‌های خاص نامساوی

مثلثی داریم:

$$\left| \frac{x-1}{a} \right| + \left| \frac{x+1}{b} \right| > \left| \frac{2x}{a+b} \right| \xrightarrow{a \cdot b < 0} (x-1)(x+1) < 0$$

$$\Rightarrow -1 < x < 1$$

حالا با توجه به حدود  $X$  حاصل عبارت را محاسبه می‌کنیم:

$$\frac{|x^2 + x - 2|}{x+2} = \frac{|(x+2)(x-1)|}{x+2} = \frac{|x+2||x-1|}{x+2}$$

$$\xrightarrow{-1 < x < 1} \frac{\overbrace{|x+2|}^+ \overbrace{|x-1|}^-}{x+2} = \frac{(x+2)(-(x-1))}{x+2}$$

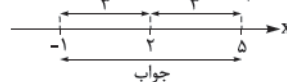
$$= -(x-1) = 1-x$$

۱۸۳- گزینه ●● فاصله بین  $X$  و ۲ روی محور اعداد حقیقی

یعنی  $|x-2|$ . حالا باید این فاصله کم‌تر از ۳ باشد؛ پس:

$$|x-2| < 3 \Rightarrow -3 < x-2 < 3 \xrightarrow{+2} -1 < x < 5$$

از روی نمودار هم می‌توانیم تحلیل کنیم:



۱۸۴- گزینه ●●

$$|x-1| < 0/1 \Rightarrow -0/1 < x-1 < 0/1$$

$$\Rightarrow 0/9 < x < 1/1$$

با توجه به حدود  $X$ ، حدود  $2X-3$  را محاسبه می‌کنیم:

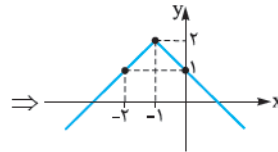
$$0/9 < x < 1/1 \xrightarrow{\times 2} 1/8 < 2x < 2/2 \xrightarrow{-3} -$$

$$\underbrace{-1/2}_{A} < 2x-3 < \underbrace{-0/8}_{B}$$

$$\Rightarrow A+B = -1/2 + (-0/8) = -2$$

راه حل دوم: از روش عددگذاری هم می‌توانیم شکل را رسم کنیم:

$$y = 2 - |x + 1| \Rightarrow \begin{array}{c|c} x & -2 & -1 & 0 \\ \hline y & 1 & 2 & 1 \end{array}$$



راه حل سوم: مقدار تابع در  $x = 0$  مثبت است (تلاقی با محور  $y$ ها عرض مثبت دارد):

$$y = 2 - |x + 1| \stackrel{x=0}{=} 2 - 1 = 1$$

پس (۲) و (۴) حذف می‌شوند. از طرفی ریشه داخل قدرمطلق

$x = -1$  است؛ پس طول نقطه شکستگی نمودار (—) منفی

است. در (۱) طول این نقطه مثبت است؛ پس (۳) جواب است.

### ۱۹۱- گزینه

$$y = \left| \frac{1}{4}x \right| - 2$$

$$\xrightarrow{\text{واحد به طرف } x \text{ های منفی}} y = \left| \frac{1}{4}(x + 4) \right| - 2$$

$$\xrightarrow{\text{یک واحد به طرف } y \text{ های مثبت}} y = \left| \frac{1}{4}(x + 4) \right| - 2 + 1$$

$$\Rightarrow y = \left| \frac{1}{4}x + 2 \right| - 1$$

حالا باید نقطه تلاقی نمودار این تابع را با تابع اولیه محاسبه کنیم:

$$\begin{cases} y = \left| \frac{1}{4}x + 2 \right| - 1 \\ y = \left| \frac{1}{4}x \right| - 2 \end{cases} \Rightarrow \left| \frac{1}{4}x + 2 \right| - 1 = \left| \frac{1}{4}x \right| - 2$$

$$\xrightarrow{\text{با توجه به گزینه‌ها}} x = -3$$

می‌دانیم:

### ۱۹۲- گزینه

$$|xy| = |x||y|$$

$$\Rightarrow |3x| = |3||x| = 3|x|$$

پس:

$$y = ||3x| - |x|| = |3|x| - |x||$$

$$= \underbrace{|2|x||}_{+} = 2|x| = |2x|$$

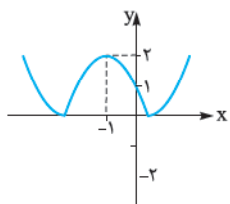
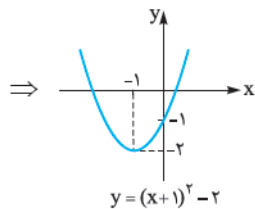
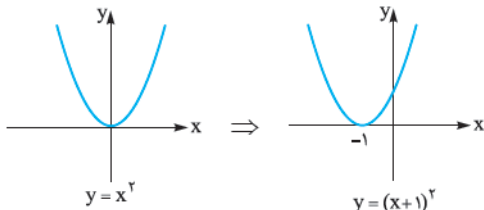
برای رسم نمودار تابع  $f$ ، اول نمودار

### ۱۹۳- گزینه

$y = x^2 + 2x - 1$  را رسم می‌کنیم. پس تابع را مربع کامل می‌کنیم.

$$y = x^2 + 2x - 1 = (x+1)^2 - 1 - 1 = (x+1)^2 - 2$$

پس نمودار  $y = x^2$  را یک واحد به چپ و دو واحد به پایین منتقل می‌کنیم:



$$y = |x^2 + 2x + 1|$$

در آخر هم برای رسم نمودار  $f$ ، قسمت‌های پایین محور  $x$  ها را نسبت به محور  $x$ ها قرینه می‌کنیم:

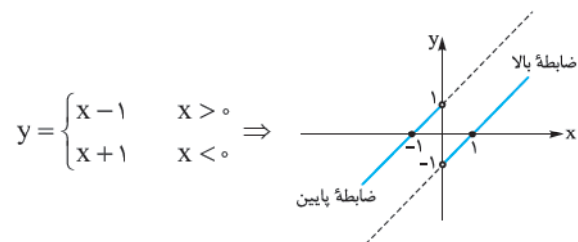
### ۱۹۰- گزینه

با تعیین علامت داخل قدرمطلق، تابع را

به صورت یک تابع دوضابطه‌ای می‌نویسیم:

$$y = x - \frac{x}{|x|} = \begin{cases} x - \frac{x}{x}, x > 0 \\ x - \frac{x}{-x}, x < 0 \end{cases} \Rightarrow y = \begin{cases} x - 1, x > 0 \\ x + 1, x < 0 \end{cases}$$

نمودار تابع را رسم می‌کنیم:



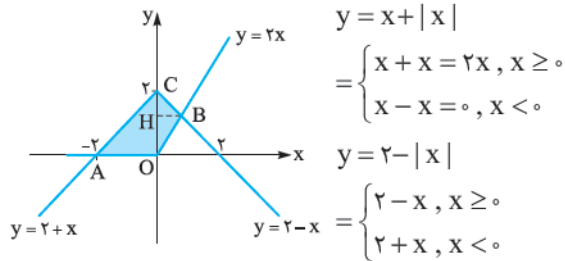
بنابراین نمودار تابع، از هر چهار ناحیه محورهای مختصات می‌گذرد.

رنگی S: مساحت محدود به نمودار و محور Xها

$$\Rightarrow S_{\text{رنگی}} = \frac{(1-(-2)) \times (4)}{2} = \frac{3 \times 4}{2} = 6$$

۱۹۷- کزینه: نمودارهای دو تابع را در یک دستگاه

مختصات رسم می‌کنیم:



باید مساحت چهارضلعی AOCB را محاسبه کنیم:

$$S_{\text{AOCB}} = S_{\text{AOC}} + S_{\text{OBC}} = \frac{OC \times AO}{2} + \frac{OC \times BH}{2}$$

برای محاسبه BH باید طول نقطه B را حساب کنیم. نقطه B از

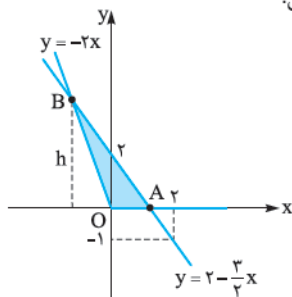
تلاقی دو خط  $y = 2x$  و  $y = 2 - x$  به دست می‌آید:

$$\begin{cases} y = 2x \\ y = 2 - x \end{cases} \Rightarrow 2x = 2 - x \Rightarrow 3x = 2 \Rightarrow x_B = \frac{2}{3}$$

در نتیجه:

$$S_{\text{AOCB}} = \frac{2 \times 2}{2} + \frac{2 \times \frac{2}{3}}{2} = 2 + \frac{2}{3} = \frac{8}{3}$$

۱۹۸- کزینه: اول شکل:



$$y_1 = |x| - x = \begin{cases} x - x & x \geq 0 \\ -x - x & x < 0 \end{cases}$$

$$\Rightarrow y_1 = \begin{cases} 0 & x \geq 0 \Rightarrow (0,0), (1,0) \\ -2x & x < 0 \Rightarrow (0,0), (-1,2) \end{cases}$$

$$y_2 = 2 - \frac{3}{4}x \Rightarrow (0,2), (2,-1)$$

برای محاسبه مساحت ناحیه رنگی (مثلث OAB) باید مختصات نقاط A و B را حساب کنیم.

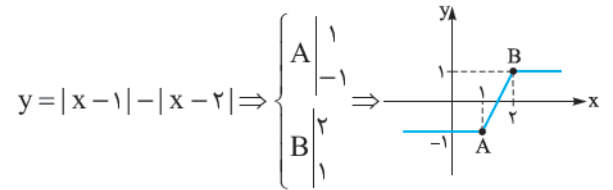
ریشه A است:  $y = 2 - \frac{3}{4}x$  مختصات A

$$\Rightarrow 2 - \frac{3}{4}x = 0 \Rightarrow \frac{3}{4}x = 2 \Rightarrow x_A = \frac{4}{3}$$

تلاقی  $y = -2x$  و  $y = 2 - \frac{3}{4}x$  است: مختصات B

۱۹۴- کزینه: نمودار  $y = |x-1| - |x-2|$  به

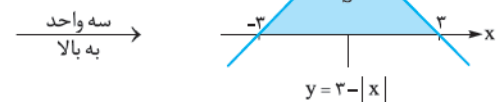
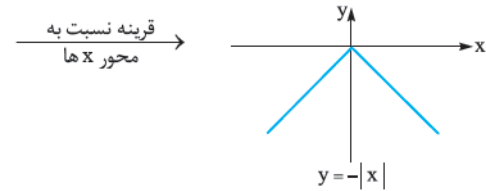
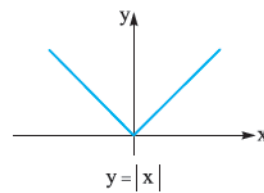
صورت آبخاری است. برای رسم، ریشه قدرمطلقها و سپس عرض تابع در این نقاط را محاسبه می‌کنیم:



پاره‌خطی که دو نیم‌خط موازی محور Xها را به هم وصل می‌کند، همان پاره‌خط AB است.  $m_{AB} = \frac{y_B - y_A}{x_B - x_A} = \frac{1 - (-1)}{2 - 1} = 2$

نمودار تابع را رسم می‌کنیم و ناحیه موردنظر را پیدا می‌کنیم و بعد مساحتش را محاسبه می‌کنیم:

۱۹۵- کزینه: (برای رسم از انتقال استفاده می‌کنیم.)



ناحیه موردنظر ناحیه رنگی است. مساحت این ناحیه برابر است با:

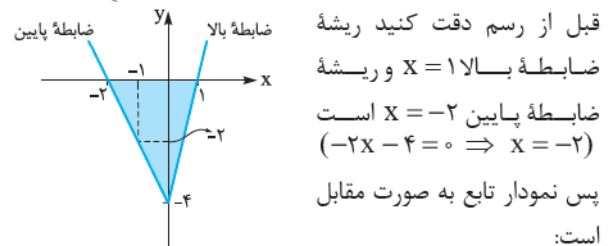
$$S = \frac{\text{ارتفاع} \times \text{قاعده}}{2} = \frac{(3 - (-3)) \times 3}{2} = \frac{6 \times 3}{2} = 9$$

۱۹۶- کزینه: با تعیین علامت عبارت داخل قدرمطلق،

قدرمطلق را حذف و نمودار را رسم می‌کنیم:

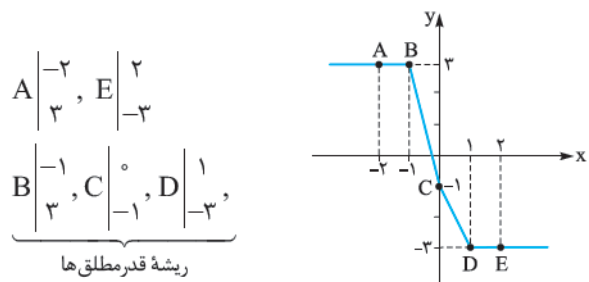
$$y = 3|x| + x - 4 = \begin{cases} 3x + x - 4 & x \geq 0 \\ -3x + x - 4 & x < 0 \end{cases}$$

$$\Rightarrow y = \begin{cases} 4x - 4 & x \geq 0 \Rightarrow (0,-4), (1,0) \\ -2x - 4 & x < 0 \Rightarrow (0,-4), (-1,-2) \end{cases}$$



۲۰۰- گزینه

از روشی که در درس نامه گفتیم، نمودار تابع را سریع رسم می‌کنیم.



در نتیجه کمترین مقدار تابع ۳- است.

۲۰۱- گزینه

فاصله نقطه  $x$  از  $-1$  روی محور اعداد حقیقی  $(|x+1|)$  برابر ۳ است؛ پس:

$$|x+1|=3 \Rightarrow x+1=\pm 3$$

$$\Rightarrow \begin{cases} x+1=3 \Rightarrow x=2 \\ x+1=-3 \Rightarrow x=-4 \end{cases}$$

$$\Rightarrow \text{مجموع مقادیر} = 2 + (-4) = -2$$

از خود محور اعداد حقیقی هم می‌توانید استفاده کنید:

$$\Rightarrow x = 2, x = -4 \text{ : جوابها}$$

۲۰۲- گزینه

$$\begin{aligned} ||x|-3|=1 &\Rightarrow |x|-3=\pm 1 \\ \Rightarrow \begin{cases} |x|-3=1 \Rightarrow |x|=4 \Rightarrow x=\pm 4 \\ |x|-3=-1 \Rightarrow |x|=2 \Rightarrow x=\pm 2 \end{cases} \end{aligned}$$

۲۰۳- گزینه

$$\begin{aligned} |3x+2|=|x-1| &\Rightarrow 3x+2=\pm(x-1) \\ \Rightarrow \begin{cases} 3x+2=x-1 \Rightarrow 2x=-3 \Rightarrow x=-\frac{3}{2} \\ 3x+2=-x+1 \Rightarrow 4x=-1 \Rightarrow x=-\frac{1}{4} \end{cases} \end{aligned}$$

$$\begin{aligned} \Rightarrow \text{قدر مطلق تفاضل ریشه‌ها} &= \left| -\frac{3}{2} - \left(-\frac{1}{4}\right) \right| = \left| -\frac{3}{2} + \frac{1}{4} \right| \\ &= \left| \frac{-6+1}{4} \right| = \frac{5}{4} \end{aligned}$$

۲۰۴- گزینه

طول نقطه را  $x$  در نظر می‌گیریم. فاصله  $x$  از  $3(|x-3|)$ ، چهار برابر فاصله‌اش از  $-1$ ،  $(|x+1|)$  است:

$$|x-3|=4|x+1| \Rightarrow x-3=\pm 4(x+1)$$

$$\Rightarrow \begin{cases} x-3=4(x+1) \Rightarrow x-3=4x+4 \\ \Rightarrow 3x=-7 \Rightarrow x=-\frac{7}{3} \\ x-3=-4(x+1) \Rightarrow x-3=-4x-4 \\ \Rightarrow 5x=-1 \Rightarrow x=-\frac{1}{5} \end{cases}$$

$$\Rightarrow \text{حاصل ضرب جوابها} = \left(-\frac{7}{3}\right)\left(-\frac{1}{5}\right) = \frac{7}{15}$$

$$\Rightarrow -2x = 2 - \frac{3}{2}x$$

$$\Rightarrow -2x + \frac{3}{2}x = 2 \Rightarrow -\frac{x}{2} = 2 \Rightarrow x_B = -4$$

$$\xrightarrow{y=-2x} y_B = 8$$

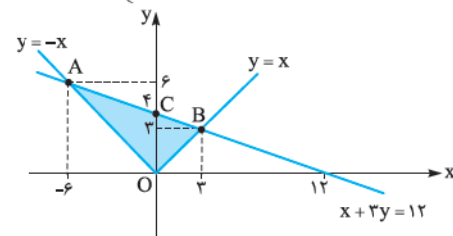
$$\Rightarrow S_{\Delta OAB} = \frac{(OA)(h)}{2} = \frac{(OA)(y_B)}{2} = \frac{\left(\frac{4}{3}\right)(8)}{2} = \frac{16}{3}$$

۱۹۹- گزینه

هر یک از نمودارها را در یک دستگاه مختصات رسم می‌کنیم. رسم نمودار  $y=|x|$  که کاری ندارد. برای رسم خط هم از مقاردهی استفاده می‌کنیم:

$$x+3y=12 \Rightarrow \begin{array}{c|c} x & 12 \\ \hline y & 4 \end{array}$$

$$y=|x| = \begin{cases} x & x \geq 0 \\ -x & x < 0 \end{cases}$$



(روش محاسبه مختصات  $A$  و  $B$  در انتهای حل آمده)

باید مساحت قسمت رنگی را محاسبه کنیم. می‌توانیم به دو طریق زیر عمل کنیم:

۱

$$S_{\Delta OAB} = S_{\Delta OAC} + S_{\Delta OBC} = \frac{4 \times 6}{2} + \frac{4 \times 12}{2} = 12 + 6 = 18$$

۲ چون زاویه بین نیم‌خط‌های  $y=|x|$ ،  $90^\circ$  درجه است، پس مثلث  $OAB$  قائم‌الزاویه است.

با توجه به مختصات نقاط  $A$  و  $B$  و با استفاده از قضیه فیثاغورس طول  $OA$  و  $OB$  را می‌یابیم.

$$\begin{aligned} \{OA\}^2 &= (-6)^2 + 6^2 \Rightarrow OA = 6\sqrt{2} \\ \{OB\}^2 &= 3^2 + 3^2 \Rightarrow OB = 3\sqrt{2} \end{aligned}$$

$$\Rightarrow S_{\Delta OAB} = \frac{(OA)(OB)}{2} = \frac{(6\sqrt{2})(3\sqrt{2})}{2} = 18$$

برای محاسبه مختصات  $A$  و  $B$  به صورت زیر عمل می‌کنیم:

مختصات  $A$ :

$$\begin{cases} y=-x \\ x+3y=12 \xrightarrow{y=-x} -2x=12 \Rightarrow x=-6 \\ \xrightarrow{y=-x} y=6 \Rightarrow A(-6, 6) \end{cases}$$

مختصات  $B$  هم از تلاقی دو خط  $y=x$  و  $x+3y=12$  به دست می‌آید.



$$\text{با شرط } 2x + 3 \geq 0 \text{ داریم:}$$

۲۰۵- گزینه

$$|x^2 - 1| = 3x + 3 \Rightarrow x^2 - 1 = \pm(3x + 3)$$

$$\Rightarrow \begin{cases} x^2 - 1 = 3x + 3 \Rightarrow x^2 - 3x - 4 = 0 \\ x^2 - 1 = -3x - 3 \Rightarrow x^2 + 3x + 2 = 0 \end{cases}$$

$$\Rightarrow \begin{cases} (x-4)(x+1) = 0 \Rightarrow x = -1, x = 4 \\ \xrightarrow{2x+3 \geq 0} x = -1, x = 4 \end{cases}$$

$$\Rightarrow \begin{cases} (x+1)(x+2) = 0 \Rightarrow x = -1, x = -2 \\ \xrightarrow{2x+3 \geq 0} x = -1 \text{ (در شرط صدق نمی‌کند).} \end{cases}$$

پس معادله دو ریشه  $x = -1$  و  $x = 4$  دارد.

۲۰۸- گزینه از تعیین علامت قدرمطلق استفاده می‌کنیم:

$$\begin{cases} x \geq 1: x(x-1) = 2 \Rightarrow x^2 - x = 2 \Rightarrow x^2 - x - 2 = 0 \\ \Rightarrow (x-2)(x+1) = 0 \Rightarrow x = -1, 2 \xrightarrow{x \geq 1} x = 2 \\ x < 1: x(-x+1) = 2 \Rightarrow -x^2 + x = 2 \Rightarrow x^2 - x + 2 = 0 \\ \Delta < 0 \rightarrow \text{ریشه ندارد.} \end{cases}$$

پس معادله تنها یک جواب مثبت  $x = 2$  دارد.

۲۰۹- گزینه باز هم از تعیین علامت استفاده می‌کنیم:

$$\begin{cases} x \geq -1: x^2 + 2x - 3(x+1) = 3 \\ \Rightarrow x^2 + 2x - 3x - 3 = 3 \Rightarrow x^2 - x - 6 = 0 \\ x \leq -1: x^2 + 2x + 3(x+1) = 3 \\ \Rightarrow x^2 + 2x + 3x + 3 = 3 \Rightarrow x^2 + 5x = 0 \\ \Rightarrow \begin{cases} (x-3)(x+2) = 0 \Rightarrow x = 3, x = -2 \\ \xrightarrow{x \geq -1} x = 3 \\ x(x+5) = 0 \Rightarrow x = 0, x = -5 \\ \xrightarrow{x \leq -1} x = -5 \end{cases} \end{cases}$$

$\Rightarrow$  حاصل ضرب ریشهها  $= 3(-5) = -15$

۲۱۰- گزینه از تعیین علامت داخلی‌ترین قدرمطلق

شروع می‌کنیم:

$$\begin{cases} x \geq -1: |x - (x+1)| = 3 \Rightarrow 1 = 3 \quad * \\ x \leq -1: |x - (-(x+1))| = 3 \\ \Rightarrow |x + x + 1| = 3 \Rightarrow |2x + 1| = 3 \Rightarrow 2x + 1 = \pm 3 \end{cases}$$

$$\Rightarrow \begin{cases} 2x + 1 = 3 \Rightarrow 2x = 2 \Rightarrow x = 1 \\ \xrightarrow{x \leq -1} \text{غیرقابل قبول} \\ 2x + 1 = -3 \Rightarrow 2x = -4 \Rightarrow x = -2 \\ \xrightarrow{x \leq -1} x = -2 \end{cases}$$

پس معادله یک جواب  $x = -2$  دارد.

۲۱۱- گزینه با توجه به تساوی داده‌شده داریم:

$$x^2 + |x^2 - 1| = 1 \Rightarrow \underbrace{|x^2 - 1|}_{u} = \underbrace{1 - x^2}_{-u}$$

$$\xrightarrow{|u| = -u \Rightarrow u \leq 0} x^2 - 1 \leq 0 \Rightarrow x^2 \leq 1$$

$$\Rightarrow -1 \leq x \leq 1$$

حالا با توجه به حدود  $x$  حاصل عبارت داده‌شده را محاسبه می‌کنیم:

$$-1 \leq x \leq 1: 2|x-5| - |2x-3|$$

$$= 2(-(x-5)) - (-(2x-3))$$

$$= -2x + 10 + 2x - 3 = 7$$

۲۰۶- گزینه

$$x + \frac{1}{x} = \pm 2/5$$

$$\Rightarrow \begin{cases} x + \frac{1}{x} = \frac{5}{2} \xrightarrow{\times 2x} 2x^2 + 2 = 5x \\ \Rightarrow 2x^2 - 5x + 2 = 0 \\ x + \frac{1}{x} = -\frac{5}{2} \xrightarrow{\times 2x} 2x^2 + 2 = -5x \\ \Rightarrow 2x^2 + 5x + 2 = 0 \end{cases}$$

$$\Rightarrow \begin{cases} x = \frac{5 \pm \sqrt{25 - 4(2)(2)}}{2(2)} = \frac{5 \pm 3}{4} \Rightarrow \begin{cases} x = 2 \\ x = \frac{1}{2} \end{cases} \\ x = \frac{-5 \pm \sqrt{25 - 4(2)(2)}}{2(2)} = \frac{-5 \pm 3}{4} \Rightarrow \begin{cases} x = -\frac{1}{2} \\ x = -2 \end{cases} \end{cases}$$

پس معادله دو ریشه منفی و دو ریشه مثبت دارد.

۲۰۷- گزینه اول مخرج مشترک می‌گیریم و بعد از

روابط  $|xy| = |x||y|$  و  $|\frac{x}{y}| = \frac{|x|}{|y|}$  استفاده می‌کنیم:

$$|x - \frac{1}{x}| = |x+1| \Rightarrow \left| \frac{x^2 - 1}{x} \right| = |x+1|$$

$$\Rightarrow \frac{|x^2 - 1|}{|x|} = |x+1| \Rightarrow \frac{|(x-1)(x+1)|}{|x|} = |x+1|$$

$$\Rightarrow \frac{|x-1||x+1|}{|x|} = |x+1|$$

عبارت یکسان  $|x+1|$  طرفین تساوی وجود دارد، پس با در نظر گرفتن ریشه این عبارت به عنوان ریشه معادله، اجازه حذف داریم:

$$\xrightarrow{|x+1|=0 \Rightarrow x=-1} \frac{|x-1|}{|x|} = 1$$

حالا با شرط  $x \neq 0$ ، طرفین وسطین می‌کنیم:

$$|x-1| = |x| \Rightarrow x-1 = \pm x$$

$$\Rightarrow \begin{cases} x-1 = x \Rightarrow -1 = 0 \quad * \\ x-1 = -x \Rightarrow 2x = 1 \Rightarrow x = \frac{1}{2} \end{cases}$$

پس معادله دو ریشه  $x = -1$  و  $x = \frac{1}{2}$  دارد و در نتیجه:

## ۲۱۲- گزینه ۲

دو مورد این سوال رو حل می‌کنم براتون!

روش اول: ریشه قدرمطلق‌ها  $X=0$  و  $X=-\frac{1}{4}$  است؛ پس سه تا شرط داریم:

$$1 \quad X \leq -\frac{1}{4} : -X - 2X - 1 = X^2 - 1$$

$$\Rightarrow X^2 + 3X = 0 \Rightarrow X(X+3) = 0$$

$$\Rightarrow X = 0, -3 \xrightarrow{X \leq -\frac{1}{4}} X = -3$$

$$2 \quad -\frac{1}{4} \leq X \leq 0 : -X + 2X + 1 = X^2 - 1$$

$$\Rightarrow X^2 - X - 2 = 0 \Rightarrow (X+1)(X-2) = 0$$

$$\Rightarrow X = -1, 2 \xrightarrow{-\frac{1}{4} \leq X \leq 0} \text{غ ق ق}$$

$$3 \quad X \geq 0 : X + 2X + 1 = X^2 - 1$$

$$\Rightarrow X^2 - 3X - 2 = 0$$

چون  $X \geq 0$  است، فقط ریشه مثبت قابل قبول است  $\rightarrow \frac{c}{a}$   
 یک ریشه مثبت  
 و یک ریشه منفی

پس معادله دو تا ریشه دارد. یکی مثبت و یکی منفی.

روش دوم: طرف چپ همواره مثبت است، پس باید طرف راست هم

مثبت باشد:  $X > 1$  یا  $X < -1$   $\Rightarrow X^2 > 1 \Rightarrow X^2 - 1 > 0$

$$\Rightarrow \begin{cases} X < -1 : -X - 2X - 1 = X^2 - 1 \\ \Rightarrow X^2 + 3X = 0 \Rightarrow X = 0, -3 \xrightarrow{X < -1} X = -3 \\ X > 1 : X + 2X + 1 = X^2 - 1 \Rightarrow X^2 - 3X - 2 = 0 \\ \Rightarrow X = \frac{3 \pm \sqrt{9+8}}{2} \xrightarrow{X > 1} X = \frac{3 + \sqrt{17}}{2} \end{cases}$$

پس معادله دو تا ریشه دارد.

## ۲۱۳- گزینه ۲

باید با تعیین علامت قدرمطلق‌ها را حذف

کنیم. اما یک اتفاق خوب این که عبارت  $X^2 - 4X + 5$  یک عبارت

همواره مثبت است (چون  $\Delta < 0$  و  $a > 0$ ). پس:

$$|X^2 - 4X + 5| + |X - 2| = 1$$

$$\Rightarrow X^2 - 4X + 5 + |X - 2| = 1$$

حالا از تعیین علامت استفاده می‌کنیم:

$$\begin{cases} X \geq 2 \Rightarrow X^2 - 4X + 5 + X - 2 = 1 \Rightarrow X^2 - 3X + 2 = 0 \\ \Rightarrow X = 1, X = 2 \xrightarrow{X \geq 2} X = 2 \end{cases}$$

$$\begin{cases} X < 2 \Rightarrow X^2 - 4X + 5 - X + 2 = 1 \Rightarrow X^2 - 5X + 6 = 0 \\ \Rightarrow X = 2, X = 3 \xrightarrow{X < 2} \end{cases}$$

هیچ‌کدام از ریشه‌ها قابل قبول نیستند.

پس معادله فقط یک ریشه ۲ دارد.

## ۲۱۴- گزینه ۲

$$\begin{cases} |X^2 + X| \geq 0 \\ X^2 \geq 0 \Rightarrow X^2 + 4 \geq 4 \Rightarrow |X^2 + 4| \geq 4 \end{cases}$$

$$\Rightarrow |X^2 + X| + |X^2 + 4| \geq 4$$

عبارت طرف چپ هیچ‌وقت برابر ۳ نمی‌شود؛ پس معادله جواب ندارد.

## ۲۱۵- گزینه ۲

از نامساوی مثلثی استفاده می‌کنیم:

$$|X-1| + |2X+1| = 3|X|$$

$$\xrightarrow{3|x|=|3x|} \left| \frac{X-1}{a} \right| + \left| \frac{2X+1}{b} \right| = \left| \frac{3X}{a+b} \right|$$

پس طبق حالت‌های خاص نامساوی مثلثی باید:

$$a, b \geq 0 \Rightarrow (X-1)(2X+1) \geq 0 \Rightarrow X \leq -\frac{1}{2} \text{ یا } X \geq 1$$

پس مجموعه جواب نامعادله، بی‌شمار جواب طبیعی دارد.

## ۲۱۶- گزینه ۲

طول نقطه مورد نظر را  $X$  در نظر می‌گیریم:

$$\begin{cases} |X+2| : \text{فاصله } X \text{ از } -2 \\ |X-3| : \text{فاصله } X \text{ از } 3 \end{cases}$$

$$\xrightarrow{\text{مجموع فاصله‌ها برابر ۶ است}} |X+2| + |X-3| = 6$$

ریشه قدرمطلق‌ها  $X=3$  و  $X=-2$  است پس:

$$\begin{cases} X \leq -2 : -X - 2 - X + 3 = 6 \Rightarrow 2X = -5 \\ \Rightarrow X = -\frac{5}{2} \xrightarrow{X \leq -2} X = -\frac{5}{2} \checkmark \\ -2 \leq X \leq 3 : X + 2 - X + 3 = 6 \Rightarrow 5 = 6 \quad \times \\ X \geq 3 : X + 2 + X - 3 = 6 \Rightarrow 2X = 7 \\ \Rightarrow X = \frac{7}{2} \xrightarrow{X \geq 3} X = \frac{7}{2} \checkmark \end{cases}$$

$$\Rightarrow \text{مجموع طول‌ها} = \frac{7}{2} + \left(-\frac{5}{2}\right) = 1$$

می‌توانید از نکات آخر درس‌نامه هم استفاده کنید و معادله را

$$|X+2| + |X-3| = 6 \quad \text{سریع‌تر حل کنید:}$$

$$\begin{matrix} \downarrow & \downarrow & \downarrow \\ a=-2 & b=3 & k \end{matrix}$$

$$\Rightarrow \begin{cases} X_1 = \frac{a+b+k}{2} = \frac{-2+3+6}{2} = \frac{7}{2} \\ X_2 = \frac{a+b-k}{2} = \frac{-2+3-6}{2} = -\frac{5}{2} \end{cases}$$

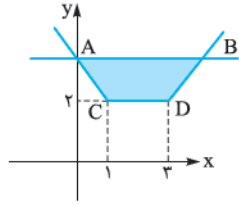
## ۲۱۷- گزینه ۲

با استفاده از اتحاد مربع دو جمله‌ای،

معادله را ساده‌تر می‌کنیم:

$$\frac{\sqrt{(X+3)^2}}{|X|+3} = 1 \Rightarrow \frac{|X+3|}{|X|+3} = 1 \Rightarrow |X+3| = |X|+3$$

$$\Rightarrow \underbrace{|X+3|}_{Y_1} - \underbrace{|X|}_{Y_2} = 3$$



$$\Rightarrow C \begin{vmatrix} 1 \\ 2 \end{vmatrix}, D \begin{vmatrix} 3 \\ 2 \end{vmatrix}$$

برای محاسبه مختصات A و B باید معادله  $|x-1| + |x-3| = 4$  را حل کنیم. از نکات درس نامه استفاده می‌کنیم.

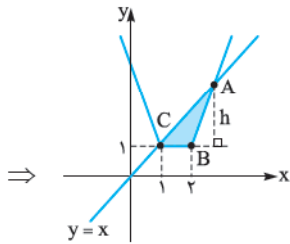
$$\begin{cases} x_1 = \frac{a+b+k}{2} = \frac{1+3+4}{2} = 4 \Rightarrow x_B = 4 \\ x_2 = \frac{a+b-k}{2} = \frac{1+3-4}{2} = 0 \Rightarrow x_A = 0 \end{cases}$$

$$S_{\text{رنگی}} = \frac{\text{مجموع دو قاعده}}{2} \times \text{ارتفاع} \Rightarrow S_{ABCD} = \frac{AB+CD}{2} \times 2 = \frac{4+2}{2} \times 2 = 6$$

۲۲۱- گزینه ۲۲۱ نمودار  $f(x) = |x-2| + |x-1|$  به

صورت گلدانی است. پس نمودار را رسم و با خط  $y=x$  تلاقی می‌دهیم و ناحیه محصور را پیدا می‌کنیم:

$$f(x) = |x-2| + |x-1| \Rightarrow A \begin{vmatrix} 1 \\ 1 \end{vmatrix}, B \begin{vmatrix} 2 \\ 1 \end{vmatrix}$$



برای محاسبه مساحت ناحیه رنگی (مثلث ABC) به عرض نقطه A احتیاج داریم. پس باید نقطه تلاقی دو تابع را پیدا کنیم. اگر دقت کنید طول این نقطه بزرگ‌تر از ۲ است. پس به ازای  $x > 2$  نقطه تلاقی را می‌یابیم:

$$|x-2| + |x-1| = x \xrightarrow{x>2} x-2+x-1=x$$

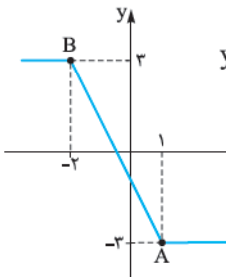
$$\Rightarrow x_A = 3 \xrightarrow{y=x} y_A = 3$$

$$\Rightarrow h = y_A - 1 = 3 - 1 = 2$$

پس مساحت مثلث ABC برابر است با:

$$S_{\Delta ABC} = \frac{BC \times h}{2} = \frac{1 \times 2}{2} = 1$$

۲۲۲- گزینه ۲۲۲



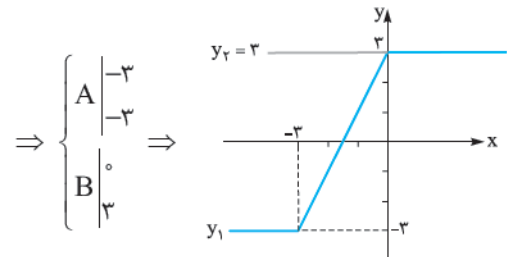
باید نمودار تابع  $y = ||x-1| - |x+2||$  را رسم کنیم. برای رسم، اول

نمودار  $y = |x-1| - |x+2|$  را رسم می‌کنیم. بعد، قسمت‌های

پایین محور Xها را نسبت به

محور Xها قرینه می‌کنیم.

نمودار  $y_1 = |x+3| - |x|$  آبخاری است! پس نمودار را رسم می‌کنیم و با خط  $y=3$  تلاقی می‌دهیم.

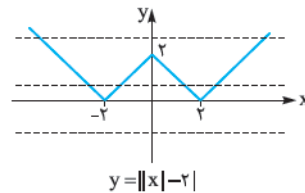


$$y_1 = |x+3| - |x|$$

پس مجموعه جواب معادله  $x \geq 0$  است. پس معادله بی‌شمار ریشه مثبت دارد.

۲۱۸- گزینه ۲۱۸ نمودار سمت چپ تساوی را رسم می‌کنیم.

$|x|$  را دو واحد پایین می‌آوریم، بعد قسمت‌های پایین محور Xها را نسبت به محور Xها قرینه می‌کنیم.



برای این‌که معادله فقط دو تا ریشه داشته باشد، باید خط افقی  $y = a$  نمودار تابع  $y = ||x|-2|$  را در دو نقطه قطع کند. با توجه به خطوط افقی رسم‌شده، باید:

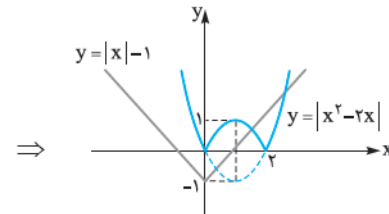
۲۱۹- گزینه ۲۱۹ از روش هندسی استفاده می‌کنیم:

$$|x-2| + \frac{1}{|x|} = 1 \xrightarrow{x \neq 0} |x^2 - 2x| + 1 = |x|$$

$$\Rightarrow \underbrace{|x^2 - 2x|}_{y_1} = \underbrace{|x|}_{y_2}$$

برای رسم  $y_1$ ، اول نمودار  $y = x^2 - 2x$  را رسم می‌کنیم، بعد قسمت‌های پایین محور Xها را نسبت به محور Xها قرینه می‌کنیم:

$$y = x^2 - 2x \Rightarrow \begin{matrix} x & 0 & 1 & 2 \\ y & 0 & -1 & 0 \end{matrix}$$

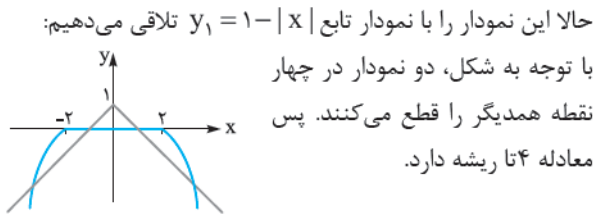
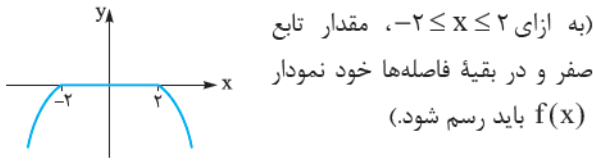


دو نمودار در دو نقطه همدیگر را قطع کردند؛ پس معادله دو ریشه دارد.

۲۲۰- گزینه ۲۲۰ نمودار  $y = |x-1| + |x-3|$  را رسم می‌کنیم. به

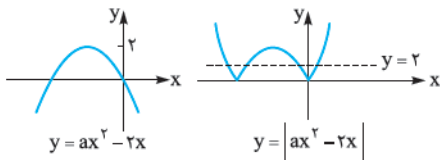
$$y = \underbrace{|x-1|}_{\text{ریشه: } x=1} + \underbrace{|x-3|}_{\text{ریشه: } x=3}$$

صورت گلدانی است!



**۲۲۶- گزینه ۳:** برای این که معادله ۴ جواب داشته باشد دو حالت می‌تواند رخ دهد.

① تابع درجه دوم  $y = ax^2 - 2x$  ماکزیممی بزرگ‌تر از دو داشته باشد تا نمودار  $y = |ax^2 - 2x|$  به صورت زیر شود:

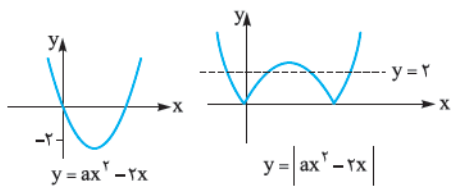


پس باید:

$$\begin{cases} a < 0 : \text{ماکزیمم داره} \\ \Delta > 4 \Rightarrow -\frac{\Delta}{4a} > 2 \Rightarrow -\frac{4}{4a} > 2 \Rightarrow -\frac{1}{a} > 2 \\ \frac{xa}{a < 0} \rightarrow -1 < 2a \Rightarrow a > -\frac{1}{2} \end{cases}$$

$$\Rightarrow -\frac{1}{2} < a < 0$$

② تابع درجه دوم  $y = ax^2 - 2x$  مینیممی کم‌تر از  $-2$  داشته باشد تا نمودار  $y = |ax^2 - 2x|$  به صورت زیر شود:



پس باید:

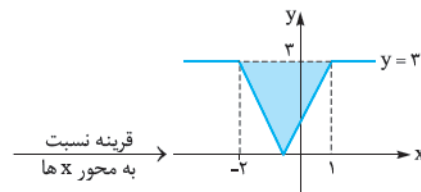
$$\begin{cases} a > 0 \\ -\frac{\Delta}{4a} < -2 \Rightarrow -\frac{4}{4a} < -2 \Rightarrow -\frac{1}{a} < -2 \xrightarrow{a > 0} \\ -2a > -1 \xrightarrow{\div (-2)} a < \frac{1}{2} \end{cases}$$

$$\xrightarrow{\text{اشتراک}} 0 < a < \frac{1}{2}$$

پس حدود  $a$  برابر است با:

$$\left(-\frac{1}{2} < a < 0\right) \cup \left(0 < a < \frac{1}{2}\right) = \left(-\frac{1}{2} < a < \frac{1}{2}\right) - \{0\}$$

$$y = |x-1| - |x+2| \Rightarrow A \begin{vmatrix} 1 \\ -3 \end{vmatrix}, B \begin{vmatrix} -2 \\ 3 \end{vmatrix}$$



$$\Rightarrow S_{\text{رنگی}} = \frac{(1 - (-2)) \times 3}{2} = 4/5$$

**۲۲۳- گزینه ۳:** نمودار  $|x| + |y| = 1$  مربعی به مرکز  $(0, 0)$  و به طول قطر ۲ است.

نمودار  $|x-1| + |y| = 1$  مربعی به مرکز  $(1, 0)$  و به طول قطر ۲ است. پس نمودار این دو تابع در یک دستگاه مختصات به صورت مقابل است:

ناحیه محصور، یک مربع به طول قطر یک و به مرکز  $(\frac{1}{2}, 0)$  است: پس معادله  $|x - \frac{1}{2}| + |y| = \frac{1}{2}$

**۲۲۴- گزینه ۳:** از رابطه نامساوی مثلثی استفاده می‌کنیم و کم‌ترین مقدار تابع را پیدا می‌کنیم. اول دقت کنید که

$$|x^2 - x - 1| = |1 + x - x^2| \quad (*)$$

پس:

$$\begin{aligned} f(x) &= |x^2 - x - 1| + |x^2 - x + 2| \\ (*) &= |1 + x - x^2| + |x^2 - x + 2| \end{aligned}$$

از آن جا که  $|a| + |b| \geq |a + b|$ ، بنابراین:

$$\begin{aligned} |1 + x - x^2| + |x^2 - x + 2| &\geq \\ |(1 + x - x^2) + (x^2 - x + 2)| &= 3 \\ \Rightarrow f(x) &\geq 3 \end{aligned}$$

پس کم‌ترین مقدار تابع برابر ۳ است.

**۲۲۵- گزینه ۳:** اول به عبارت طرف چپ معادله نگاه کنید. در فاصله‌ای که  $f(x) < 0$ ، قدرمطلق را با علامت منفی و در فاصله‌ای که  $f(x) \geq 0$ ، قدرمطلق را با علامت مثبت حذف می‌کنیم:

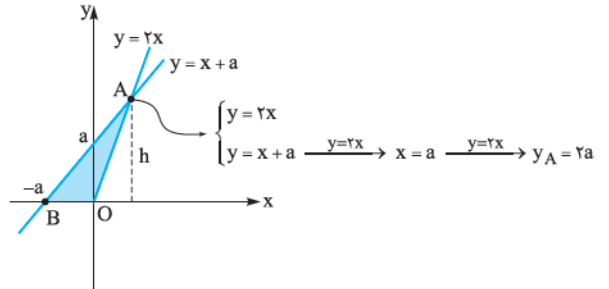
$$\begin{cases} x < -2 \text{ یا } x > 2 \xrightarrow{f(x) < 0} \frac{f(x) - \overline{f(x)}}{2} \\ = \frac{f(x) + f(x)}{2} = f(x) \\ -2 \leq x \leq 2 \xrightarrow{f(x) \geq 0} \frac{f(x) - \overline{f(x)}}{2} = \frac{f(x) - f(x)}{2} = 0 \end{cases}$$

پس نمودار تابع  $y = \frac{f(x) - |f(x)|}{2}$  مطابق شکل است:

$$y = x + |x| = \begin{cases} x + x & x \geq 0 \\ x - x & x < 0 \end{cases}$$

$$\Rightarrow y_1 = \begin{cases} 2x & x \geq 0 \\ 0 & x < 0 \end{cases}$$

خط  $y = x + a$  خطی موازی خط  $y = x$  است. پس وضعیت دو نمودار نسبت به هم در یک دستگاه به صورت زیر است:



$$S_{\triangle OAB} = \frac{(OB) \times h}{2} = \frac{(OB)(y_A)}{2} = \frac{(a)(2a)}{2} = a^2$$

مساحت ناحیه محصور ۴ است؛ پس:

$$a^2 = 4 \Rightarrow a = 2$$

دقت کنید  $a$  نمی‌تواند  $-2$  باشد، چون در این حالت خط  $y = x + a \Rightarrow y = x - 2$  نمودار  $y = x + |x|$  را قطع نمی‌کند.

از نامساوی مثلثی و حالت‌های خاصش استفاده می‌کنیم. اینها: (فقط دقت کنید که چون  $x^2 + 1 > 0$  پس می‌توانیم به جای  $x^2 + 1$ ،  $|x^2 + 1|$  قرار دهیم).

$$\underbrace{|x^2 - x|}_a + \underbrace{|x + 1|}_b = \underbrace{|x^2 + 1|}_{a+b}$$

$$\xrightarrow{ab \geq 0} (x^2 - x)(x + 1) \geq 0$$

$$\Rightarrow x(x - 1)(x + 1) \geq 0$$

$x$	$-1$	$0$	$1$
عبارت	$-$	$+$	$-$

$$\Rightarrow x \in [-1, 0] \cup [1, +\infty)$$

پس تنها ریشه صحیح منفی معادله  $x = -1$  است.