



# مثلثات

## ۴-۳: معادلات مثلثاتی

در این بخش با معادلات مثلثاتی و روش‌های حل آن‌ها آشنا می‌شویم. معادلات مثلثاتی به معادلاتی می‌گویند که در آن‌ها عبارات مثلثاتی حضور داشته باشند. بسیاری از مواقع، حل یک مسأله در هندسه یا علوم دیگر، به حل یک معادله‌ی مثلثاتی می‌انجامد. معادلات مثلثاتی بحثی بسیار گسترده دارند که در این بخش ما تنها بر حل معادلات مقدماتی در محدوده‌ی مطالب کتاب درسی و کمی فراتر از آن تأکید داریم.

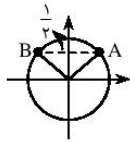
### چهار صورت اصلی معادلات مثلثاتی

معادلات مثلثاتی می‌توانند ساختارهای متفاوتی داشته باشند. معادله‌ای چون  $\sin x = \frac{1}{2}$  یک معادله‌ی بسیار ساده است و معادله‌ای مانند  $\sin^2 x + \tan x = x - \cos x$  یک معادله‌ی پیچیده. معمولاً معادلاتی که ما با آن‌ها سروکار داریم پس از ساده‌کردن و انجام عملیات‌های جبری، به یکی از ۴ صورت زیر تبدیل می‌شوند:

$$\sin x = \sin a \quad (\text{الف}) \quad \cos x = \cos a \quad (\text{ب}) \quad \tan x = \tan a \quad (\text{پ}) \quad \cot x = \cot a \quad (\text{ت})$$

در این بخش ابتدا این چهار حالت کلی و معادلات قابل تبدیل به آن‌ها را بررسی می‌کنیم و سپس چند معادله‌ی پیچیده‌تر را حل می‌کنیم.

### معادلات به شکل $\sin x = \sin a$



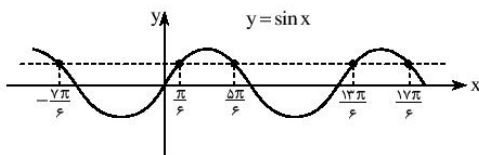
فرض کنید می‌خواهیم معادله‌ی  $\sin x = \frac{1}{2}$  (یا در واقع  $\sin x = \sin \frac{\pi}{6}$ ) را حل کنیم. طبق دایره‌ی مثلثاتی اگر انتهای کمان متناظر زاویه‌ی  $x$  در یکی از دو نقطه‌ی  $A$  و  $B$  باشد، داریم  $\sin x = \frac{1}{2}$ . نقطه‌ی  $A$  متناظر  $x_1 = \frac{\pi}{6}$  و نقطه‌ی  $B$  متناظر  $x_2 = \pi - \frac{\pi}{6}$  است. پس دو جواب معادله به دست آمده است.

از طرفی می‌دانیم نسبت‌های مثلثاتی زوایای  $\alpha$  و  $2k\pi + \alpha$  (که  $k \in \mathbb{Z}$ ) یکسان‌اند، پس هر  $x$  با مقدار  $x = 2k\pi + x_1$  یا  $x = 2k\pi + x_2$  نیز جواب معادله است.

**نکته:** معادله‌ی  $\sin x = \sin a$  دو دسته جواب دارد:  $(k \in \mathbb{Z})$

$$x_1 = 2k\pi + a \quad , \quad x_2 = 2k\pi + \pi - a$$

در حالت‌های خاص  $\sin x = \pm 1$  فقط یک دسته جواب داریم  $(x = 2k\pi + \frac{\pi}{2}$  یا  $x = 2k\pi - \frac{\pi}{2})$



معادله‌ی  $\sin x = \frac{1}{2}$  را با نمودار نیز می‌توانیم حل کنیم. می‌دانیم ریشه‌های این معادله همان طول نقاط برخورد نمودار  $y = \sin x$  و خط  $y = \frac{1}{2}$  هستند. در شکل این نقاط را مشاهده می‌کنید.

○ **مسئله‌ی (۱):** هر یک از معادلات زیر را حل کنید و بگویید در فاصله‌ی  $[0, 2\pi]$  چند جواب دارند.

$$\sqrt{2} \sin 2x + 1 = 0 \quad (\text{ب}) \quad \sin 2x - \sin 4x = 0 \quad (\text{پ}) \quad 2 \sin^2 x - \sin x = 1 \quad (\text{ف})$$

**حل: الف)** داریم:  $\sin 2x = -\frac{1}{\sqrt{2}}$ ، پس  $\sin 2x = \sin(-\frac{\pi}{4})$ . در نتیجه دو دسته جواب داریم:

$$2x = 2k\pi - \frac{\pi}{4} \Rightarrow x = k\pi - \frac{\pi}{8} \quad , \quad 2x = 2k\pi + \pi + \frac{\pi}{4} \Rightarrow x = k\pi + \frac{5\pi}{8}$$

دو دسته جواب وجود دارد. در فاصله‌ی  $[0, 2\pi]$  ریشه‌های  $x_1 = \pi - \frac{\pi}{8}$ ،  $x_2 = 2\pi - \frac{\pi}{8}$ ،  $x_3 = \frac{5\pi}{8}$ ،  $x_4 = \pi + \frac{5\pi}{8}$  حضور دارند.



**ب) داریم:**  $\sin 2x = \sin 4x$ ، بنابراین دو حالت پیش می‌آید:

$$2x = 2k\pi + 4x \Rightarrow -2x = 2k\pi \Rightarrow x = -k\pi$$

$$2x = 2k\pi + \pi - 4x \Rightarrow 6x = 2k\pi + \pi \Rightarrow x = \frac{2k+1}{6}\pi$$

دو دسته جواب به دست می‌آید. در فاصله‌ی  $[0, 2\pi]$  ریشه‌های  $x_1 = 0$ ،  $x_2 = \pi$ ،  $x_3 = 2\pi$ ،  $x_4 = \frac{\pi}{6}$ ،  $x_5 = \frac{3\pi}{6}$ ،  $x_6 = \frac{5\pi}{6}$ ،  $x_7 = \frac{7\pi}{6}$ ،  $x_8 = \frac{9\pi}{6}$  حضور دارند.

**نکته:** دسته جواب اول را می‌توانیم به صورت  $x = k\pi$  نیز نشان دهیم (زیرا  $k \in \mathbb{Z}$ ).

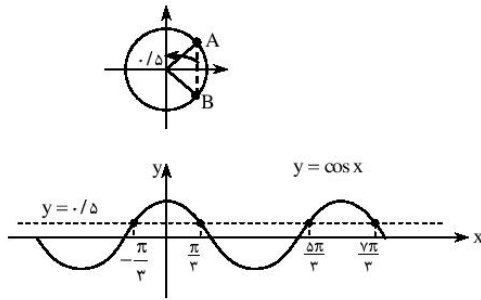
**پ) معادله را می‌توانیم به صورت  $(2\sin x + 1)(\sin x - 1) = 0$  بنویسیم. پس دو معادله حاصل می‌شود:**

$$2\sin x + 1 = 0 \Rightarrow \sin x = -\frac{1}{2} \Rightarrow \sin x = \sin\left(-\frac{\pi}{6}\right) \Rightarrow x = 2k\pi - \frac{\pi}{6} \text{ یا } x = 2k\pi + \pi + \frac{\pi}{6}$$

$$\sin x - 1 = 0 \Rightarrow \sin x = 1 \Rightarrow \sin x = \sin\left(\frac{\pi}{2}\right) \Rightarrow x = 2k\pi + \frac{\pi}{2}$$

پس سه دسته جواب داریم. در فاصله‌ی  $[0, 2\pi]$  جواب‌های  $x_1 = 2\pi - \frac{\pi}{6}$ ،  $x_2 = \pi + \frac{\pi}{6}$  و  $x_3 = \frac{\pi}{2}$  حضور دارند.

### معادلات به شکل $\cos x = \cos a$



فرض کنید می‌خواهیم معادله‌ی  $\cos x = \frac{1}{3}$  (یا در واقع

$\cos x = \cos \frac{\pi}{3}$ ) را حل کنیم. طبق دایره‌ی مثلثاتی اگر انتهای کمان

متناظر  $x$  در یکی از دو نقطه‌ی  $A$  و  $B$  باشد، داریم:  $\cos x = \frac{1}{3}$ .

نقطه‌ی  $A$  متناظر  $\frac{\pi}{3}$  و نقطه‌ی  $B$  متناظر  $-\frac{\pi}{3}$  است، پس دو دسته

جواب  $x = 2k\pi - \frac{\pi}{3}$  و  $x = 2k\pi + \frac{\pi}{3}$  برای معادله به دست می‌آیند.

از نمودار  $y = \cos x$  نیز این نتیجه واضح است که با خط  $y = \frac{1}{3}$  در

نقاطی برخورد می‌کند که طول آن‌ها همان ریشه‌های معادله است.

**نکته:** معادله‌ی  $\cos x = \cos a$  دو دسته جواب دارد:

$$x = 2k\pi + a$$

$$x = 2k\pi - a$$

در حالت‌های خاص  $\cos x = \pm 1$  فقط یک دسته جواب داریم ( $x = 2k\pi$  یا  $x = (2k+1)\pi$ ).

**مسئله (۲):** هر یک از معادلات زیر را حل کنید.

الف)  $\cos 2x = \cos 3x$

ب)  $\cos 2x = \sin 3x$

**حل: الف)** طبق نکته‌ی قبل دو حالت پیش می‌آید:

$$2x = 2k\pi + 3x \Rightarrow -x = 2k\pi \Rightarrow x = -2k\pi$$

$$2x = 2k\pi - 3x \Rightarrow 5x = 2k\pi \Rightarrow x = \frac{2k\pi}{5}$$

تمام جواب‌های دسته جواب اول، در دسته جواب دوم حضور دارند. مثلاً  $x = -4\pi$  یکی از جواب‌های دسته جواب اول است، که به ازای  $k = -10$  تمام جواب‌های دسته جواب اول، در دسته جواب دوم حضور دارند. به این ترتیب جواب کلی معادله  $x = \frac{2k\pi}{5}$  است.

**ب)** می‌دانیم  $\sin \alpha = \cos\left(\frac{\pi}{2} - \alpha\right)$ ، پس می‌توانیم معادله را به صورت  $\cos 2x = \cos\left(\frac{\pi}{2} - 2x\right)$  بنویسیم. بنابراین:

$$2x = 2k\pi + \frac{\pi}{2} - 2x \Rightarrow 4x = 2k\pi + \frac{\pi}{2} \Rightarrow x = \frac{k\pi}{2} + \frac{\pi}{4}$$

$$2x = 2k\pi - \frac{\pi}{2} + 2x \Rightarrow x = -2k\pi + \frac{\pi}{4}$$

**نکته (۱):** می‌توانستید معادله را به صورت  $\sin\left(\frac{\pi}{2} - 2x\right) = \sin 2x$  بنویسید و با استفاده از روش حل  $\sin x = \sin a$  معادله را حل کنید.

**نکته (۲):** جواب‌های به صورت  $x = -2k\pi + \frac{\pi}{4}$  همگی در دسته جواب اول حضور دارند. زیرا این جواب‌ها به صورت  $x = (4k+1)\frac{\pi}{4}$  قابل

بازنویسی‌اند، دسته جواب اول نیز به صورت  $x = (4k+1)\frac{\pi}{4}$  قابل بازنویسی است. حال اگر  $x = (4m+1)\frac{\pi}{4}$  یکی از جواب‌های دسته جواب

دوم باشد، با جای‌گذاری  $k = 4m+1$  داریم:  $(4k+1)\frac{\pi}{4} = (4(4m+1)+1)\frac{\pi}{4}$ ، پس این جواب در دسته اول حضور دارد، پس می‌توانیم دسته جواب اول را به تنهایی به‌عنوان همه‌ی جواب‌های معادله معرفی کنیم.

**نکته (۳):** هنگام حل یک معادله لازم نیست حتماً مانند تذکر قبل، دسته جواب‌ها را با هم مقایسه کنید. انجام ندادن این کار لطمه‌ای به درستی راه‌حل شما وارد نمی‌کند، هر چند که از زیبایی و دقت آن می‌کاهد.

**مسئله (۳):** معادله‌ی  $2\cos^2 x - \sin x - 1 = 0$  را از دو راه‌حل کنید و نشان بدهید جواب‌های دو روش یکسان‌اند.

**راه اول:** با جای‌گذاری  $\cos^2 x = 1 - \sin^2 x$  در معادله به‌دست می‌آوریم:

$$2(1 - \sin^2 x) - \sin x - 1 = 0 \Rightarrow 2\sin^2 x + \sin x - 1 = 0 \Rightarrow (2\sin x - 1)(\sin x + 1) = 0$$

$$\Rightarrow \sin x = \frac{1}{2} \text{ یا } \sin x = -1$$

به این ترتیب دو معادله‌ی زیر به‌دست می‌آید:

$$۱) \sin x = \frac{1}{2} = \sin\left(\frac{\pi}{6}\right) \Rightarrow x = 2k\pi + \frac{\pi}{6} \text{ یا } x = (2k+1)\pi - \frac{\pi}{6}$$

$$۲) \sin x = -1 \Rightarrow x = 2k\pi - \frac{\pi}{2}$$

**راه دوم:** با استفاده از اتحاد  $\cos 2x = 2\cos^2 x - 1$  معادله به‌صورت زیر درمی‌آید:

$$\cos 2x - \sin x = 0 \Rightarrow \cos 2x = \sin x \Rightarrow \cos 2x = \cos\left(\frac{\pi}{2} - x\right) \Rightarrow 2x = 2k\pi \pm \left(\frac{\pi}{2} - x\right)$$

دو معادله‌ی زیر از رابطه‌ی فوق به‌دست می‌آید:

$$۱) 2x = 2k\pi + \left(\frac{\pi}{2} - x\right) \Rightarrow x = \frac{2k\pi + \frac{\pi}{2}}{3}$$

$$۲) 2x = 2k\pi - \left(\frac{\pi}{2} - x\right) \Rightarrow x = 2k\pi - \frac{\pi}{4}$$

حالا باید ثابت کنیم که جواب‌های راه اول و دوم یکسان هستند. برای این منظور باید نشان بدهیم دسته جواب‌های اول هر دو راه‌حل یکسان‌اند.

برای این منظور در دسته جواب  $x = \frac{2k\pi}{3} + \frac{\pi}{6}$  سه وضعیت را برای  $k$  در نظر می‌گیریم:  $k = 3m$ ،  $k = 3m+1$  یا  $k = 3m+2$ . در هر حالت داریم:

$$x = \frac{2k\pi}{3} + \frac{\pi}{6} = \begin{cases} 2m\pi + \frac{\pi}{6} & k = 3m \\ 2m\pi + \frac{5\pi}{6} & k = 3m+1 \\ 2(m+1)\pi - \frac{\pi}{6} & k = 3m+2 \end{cases}$$

با توجه به صحیح بودن  $m$  می‌بینید که دو حالت اول همان جواب‌های بخش (۱) از روش اول را بیان می‌کنند و حالت سوم همان جواب‌های بخش (۲) از راه اول است.



**تست (۱):** جواب‌های کلی معادله‌ی مثلثاتی  $\cos 2x = \sin x$  به صورت  $x = 2k\pi + \frac{i\pi}{6}$  بیان شده است. مجموعه‌ی مقادیر  $i$  کدام است؟ (سراسری-۸۳)

(۱)  $\{7, 9\}$  (۲)  $\{1, 3, 5\}$  (۳)  $\{1, 4, 7\}$  (۴)  $\{1, 5, 9\}$

**هله:** این تست را در مسأله‌ی قبل حل کرده‌ایم. مثلاً با راه‌حل اول سه دسته جواب زیر را نتیجه می‌گیریم:

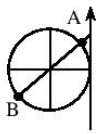
$$x = 2k\pi + \frac{\pi}{6}, \quad x = (2k+1)\pi - \frac{\pi}{6}, \quad x = 2k\pi - \frac{\pi}{4}$$

دسته جواب  $x = 2k\pi - \frac{\pi}{4}$  را به صورت  $x = 2k\pi + \frac{3\pi}{4}$  نیز می‌توانیم نشان دهیم (چون انتهای کمان‌های  $\frac{3\pi}{4}$  و  $-\frac{\pi}{4}$  یکسان‌اند)، پس سه دسته جواب عبارت‌اند از:

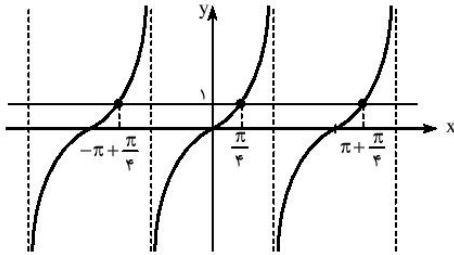
$$x = 2k\pi + \frac{\pi}{6}, \quad x = 2k\pi + \frac{5\pi}{6}, \quad x = 2k\pi + \frac{9\pi}{6}$$

این سه دسته جواب به صورت  $x = 2k\pi + \frac{i\pi}{6}$  قابل بیان‌اند که  $i \in \{1, 5, 9\}$ . بنابراین گزینه‌ی (۴) درست است.

**معادلات به شکل  $\cot x = \cot a$  و  $\tan x = \tan a$**



فرض کنید می‌خواهیم معادله‌ی  $\tan x = 1$  را حل کنیم (در واقع معادله‌ی  $\tan x = \tan \frac{\pi}{4}$  را). طبق دایره‌ی مثلثاتی اگر انتهای کمان متناظر  $x$  در یکی از دو نقطه‌ی  $A$  و  $B$  باشد، داریم:  $\tan x = 1$ . نقطه‌ی  $A$  متناظر  $\frac{\pi}{4}$  و نقطه‌ی  $B$  متناظر  $\pi + \frac{\pi}{4}$  است، پس دو دسته جواب  $x = 2k\pi + \frac{\pi}{4}$  و  $x = (2k+1)\pi + \frac{\pi}{4}$  برای معادله به دست می‌آید.



این دو دسته جواب را به صورت  $x = k\pi + \frac{\pi}{4}$  می‌توانیم ترکیب کنیم. چون  $k$  یا فرد است یا زوج، که در هر حالت  $k\pi + \frac{\pi}{4}$  در یکی از دو دسته‌ی بالا قرار می‌گیرد. از نمودار  $y = \tan x$  نیز که با دوره‌ی تناوب  $\pi$  متناوب است، این امر واضح است. می‌بینید که خط  $y = 1$  نمودار را در نقطه‌ای به طول  $x = \frac{\pi}{4}$  (و در حالت کلی  $x = k\pi + \frac{\pi}{4}$ ) قطع کرده است. مشابه حرف‌های بالا را درباره‌ی معادله‌ی  $\cot x = 1$  نیز می‌توانیم بگوییم.

**نکته:** معادله‌ی  $\tan x = \tan a$  (یا  $\cot x = \cot a$ ) دسته جواب  $x = k\pi + a$  را دارد.

**مسئله‌ی (۱۴):** هر یک از معادلات زیر را حل کنید.

(الف)  $\sin 2x = -\cos 2x$  (ب)  $\cot x - 3 \tan x = 0$

**هله: الف)** می‌توانیم معادله را به صورت  $\sin 2x = -\sin(\frac{\pi}{2} - 2x)$  بنویسیم و حل کنیم. ولی راه دیگر استفاده از نسبت تانژانت است. می‌دانیم  $\cos 2x \neq 0$ . زیرا اگر  $\cos 2x = 0$  داریم  $\sin 2x = \pm 1$ ، پس تساوی برقرار نیست. با فرض  $\cos 2x \neq 0$  دو طرف را بر  $\cos 2x$  تقسیم می‌کنیم و به دست می‌آوریم:

$$\frac{\sin 2x}{\cos 2x} = -1 \Rightarrow \tan 2x = -1 \Rightarrow \tan 2x = \tan(-\frac{\pi}{4}) \Rightarrow 2x = k\pi - \frac{\pi}{4} \Rightarrow x = k\frac{\pi}{2} - \frac{\pi}{8}$$

(ب) با جای گذاری  $\cot x = \frac{1}{\tan x}$  به دست می‌آوریم:

$$\frac{1}{\tan x} - 3 \tan x = 0 \Rightarrow 1 - 3 \tan^2 x = 0 \Rightarrow \tan^2 x = \frac{1}{3} \Rightarrow \tan x = \pm \frac{1}{\sqrt{3}}$$

دو حالت پیش می‌آید:

$$\tan x = \frac{1}{\sqrt{3}} = \tan\left(\frac{\pi}{6}\right) \Rightarrow x = k\pi + \frac{\pi}{6}$$

$$\tan x = -\frac{1}{\sqrt{3}} = \tan\left(\frac{5\pi}{6}\right) \Rightarrow x = k\pi + \frac{5\pi}{6}$$

معمولاً در معادلات دیگر باید با استفاده از اتحادهای مثلثاتی، معادله را به یکی از چهار صورت قبلی تبدیل و سپس آن را حل کنید.

○ **مسئله (۵):** هر یک از معادلات زیر را حل کنید.

$$\sqrt{2} \sin\left(x + \frac{\pi}{\lambda}\right) - \cos^2\left(x - \frac{3\pi}{\lambda}\right) = 1 \quad (\text{ب})$$

$$\sin 2x + \sqrt{2} \sin x = 0 \quad (\text{الف})$$

$$\frac{\sqrt{2}}{\sqrt{3}} (\tan x - \cot x) = \tan^2 x + \cot^2 x - 2 \quad (\text{ت})$$

$$\sqrt{2} \sin\left(\frac{3\pi}{\lambda} - x\right) = \sin\left(3x - \frac{\pi}{\lambda}\right) \quad (\text{پ})$$

$$\cos x - \sqrt{2} \sin x = \frac{1}{\cos x} \quad (\text{ج})$$

$$\tan\left(\frac{\pi}{12} - x\right) \tan\left(x - \frac{\pi}{6}\right) = -1 \quad (\text{ث})$$

**حل: الف)** با توجه به  $\sin 2x = 2 \sin x \cos x$  داریم:

$$\sqrt{2} \sin x \cos x + \sqrt{2} \sin x = 0 \Rightarrow \sqrt{2} \sin x (\cos x + 1) = 0 \Rightarrow \sin x = 0 \quad \text{یا} \quad \cos x = -1$$

می‌دانیم وقتی  $\cos x = -1$ ، قطعاً  $\sin x = 0$ . پس اگر جواب‌های  $\sin x = 0$  را بیابیم، جواب‌های معادله‌ی دوم را نیز یافته‌ایم. در نتیجه تمام جواب‌های معادله عبارت‌اند از:  $x = k\pi \Rightarrow \sin x = 0$

**ب)** با توجه به روابط  $\sin \alpha = \cos\left(\frac{\pi}{2} - \alpha\right)$  و  $\cos(-\alpha) = \cos \alpha$  داریم:

$$\sin\left(x + \frac{\pi}{\lambda}\right) = \cos\left(\frac{\pi}{2} - \left(x + \frac{\pi}{\lambda}\right)\right) = \cos\left(\frac{3\pi}{\lambda} - x\right) = \cos\left(x - \frac{3\pi}{\lambda}\right)$$

با جای‌گذاری این نتیجه در معادله‌ی اولیه به دست می‌آوریم:

$$\sqrt{2} \cos\left(x - \frac{3\pi}{\lambda}\right) - \cos^2\left(x - \frac{3\pi}{\lambda}\right) = 1 \xrightarrow{t = \cos\left(x - \frac{3\pi}{\lambda}\right)} t^2 - \sqrt{2}t + 1 = 0 \Rightarrow t = 1$$

$$\Rightarrow \cos\left(x - \frac{3\pi}{\lambda}\right) = 1 \Rightarrow x - \frac{3\pi}{\lambda} = 2k\pi \Rightarrow x = 2k\pi + \frac{3\pi}{\lambda}$$

**پ)** می‌توانیم  $\sin\left(3x - \frac{\pi}{\lambda}\right)$  را بر حسب  $\sin\left(\frac{3\pi}{\lambda} - x\right)$  بیان کنیم. داریم:

$$\sin\left(3\left(\frac{3\pi}{\lambda} - x\right)\right) = \sin\left(\frac{9\pi}{\lambda} - 3x\right) = \sin\left(\pi + \frac{\pi}{\lambda} - 3x\right) = -\sin\left(\frac{\pi}{\lambda} - 3x\right) = \sin\left(3x - \frac{\pi}{\lambda}\right) \Rightarrow \sin\left(3x - \frac{\pi}{\lambda}\right) = \sin\left(3\left(\frac{3\pi}{\lambda} - x\right)\right)$$

حال اگر قرار دهیم  $\frac{3\pi}{\lambda} - x = t$ ، معادله را به صورت زیر می‌توانیم بیان کنیم:

$$\sqrt{2} \sin t = \sin 3t \Rightarrow \sqrt{2} \sin t = 3 \sin t - 4 \sin^3 t \Rightarrow \sin t (4 \sin^2 t - 1) = 0$$

پس  $\sin t = 0$  یا  $\sin t = \pm \frac{1}{2}$  که هر کدام از معادله‌های حاصل را به راحتی می‌توان حل کرد. (پاسخ نهایی را به خودتان واگذار می‌کنیم).

**ت)** با توجه به تساوی  $(\tan x - \cot x)^2 = \tan^2 x + \cot^2 x - 2$ ، اگر در معادله قرار دهیم  $y = \tan x - \cot x$ ، به دست می‌آوریم:

$$\frac{\sqrt{2}}{\sqrt{3}} y = y^2 \Rightarrow y = 0 \quad \text{یا} \quad y = \frac{\sqrt{2}}{\sqrt{3}}$$

$$y = \tan x - \cot x = \tan x - \frac{1}{\tan x} = \frac{\tan^2 x - 1}{\tan x} = \frac{-2}{\tan 2x} = -2 \cot 2x \Rightarrow \begin{cases} \cot 2x = 0 \Rightarrow 2x = k\pi + \frac{\pi}{2} \\ \cot 2x = \frac{-1}{\sqrt{3}} \Rightarrow 2x = k\pi + \frac{2\pi}{3} \end{cases}$$

پس  $x = \frac{k\pi}{2} + \frac{\pi}{4}$  یا  $x = \frac{k\pi}{2} + \frac{\pi}{3}$

**ث)** **راه اول:** معادله را به صورت  $\tan\left(\frac{\pi}{12} - x\right) = -\cot\left(x - \frac{\pi}{6}\right)$  می‌نویسیم. حال با استفاده از اتحادها داریم:

$$-\cot\left(x - \frac{\pi}{6}\right) = \cot\left(\frac{\pi}{2} - \left(x - \frac{\pi}{6}\right)\right) = \tan\left(\frac{\pi}{2} - \left(x - \frac{\pi}{6}\right)\right) = \tan\left(\frac{\pi}{3} + x\right)$$



بنابراین باید معادله‌ی زیر را حل کنیم:

$$\tan\left(\frac{\pi}{12} - x\right) = \tan\left(\frac{\pi}{3} + x\right) \Rightarrow \frac{\pi}{3} + x = k\pi + \frac{\pi}{12} - x \Rightarrow 2x = k\pi - \frac{\pi}{4} \Rightarrow x = \frac{k\pi}{2} - \frac{\pi}{8}$$

**راه دوم:** فرض کنید:  $\alpha = x - \frac{\pi}{6}$  و  $\beta = \frac{\pi}{12} - x$ ، بنابراین طبق معادله:  $\tan \beta \tan \alpha = -1$ . اتحاد زیر را در نظر بگیرید:

$$\tan(\alpha - \beta) = \frac{\tan \alpha - \tan \beta}{1 + \tan \alpha \tan \beta}$$

پس اگر  $x$  جواب معادله باشد، برای آن  $\tan(\alpha - \beta)$  مقداری تعریف نشده است. می‌دانیم جز برای مقادیر  $\alpha - \beta = k\pi + \frac{\pi}{2}$ ،  $\tan(\alpha - \beta)$  تعریف شده است، در نتیجه:

$$\alpha - \beta = k\pi + \frac{\pi}{2} \Rightarrow \left(x - \frac{\pi}{6}\right) - \left(\frac{\pi}{12} - x\right) = k\pi + \frac{\pi}{2} \Rightarrow 2x = k\pi + \frac{3\pi}{4} \Rightarrow x = \frac{k\pi}{2} + \frac{3\pi}{8}$$

◀ **نکته:** می‌توانید پاسخ راه دوم را دقیقاً به صورت دسته جواب راه اول نشان دهید:

$$x = \frac{k\pi}{2} + \frac{3\pi}{8} = \frac{k\pi}{2} + \frac{\pi}{2} - \frac{\pi}{8} = \frac{(k+1)\pi}{2} - \frac{\pi}{8} \Rightarrow x = \frac{k'\pi}{2} - \frac{\pi}{8}$$

ه) واضح است که  $\cos x \neq 0$ ، حال با تقسیم طرفین بر  $\cos x$  داریم:

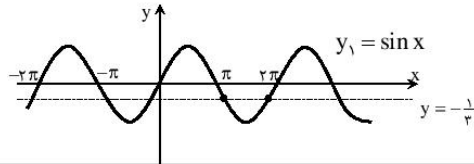
$$1 - 2 \tan x = \frac{1}{\cos^2 x} \Rightarrow 1 - 2 \tan x = 1 + \tan^2 x \Rightarrow \tan^2 x + 2 \tan x = 0 \Rightarrow \tan x = 0 \text{ یا } \tan x = -2$$

هر یک از دو معادله‌ی فوق به راحتی قابل حل است. (برای حل معادله‌ی  $\tan x = -2$  چون زاویه‌ی معروفی ندارید، یک زاویه‌ی فرضی مانند  $\alpha$  با  $\tan \alpha = 2$  در نظر بگیرید.)

**تست (۲):** معادله‌ی  $(\sin x - \frac{1}{3})(\sin x + \frac{1}{3})(\sin x - \frac{1}{4}) = 0$  در بازه‌ی  $[\pi, 2\pi]$  چند ریشه دارد؟ (آزاد-۸۳)

۱) ۸      ۲) ۶      ۳) ۴      ۴) ۲

**حل:** در فاصله‌ی  $[\pi, 2\pi]$  همواره داریم  $\sin x \leq 0$ ، پس عبارت‌های پرانتزهای اول و سوم نمی‌توانند صفر باشند، در نتیجه ریشه‌های معادله فقط در رابطه‌ی  $\sin x = -\frac{1}{3}$  صدق می‌کنند. به راحتی می‌توان مشاهده کرد که خط  $y = -\frac{1}{3}$  نمودار  $y = \sin x$  را در دو نقطه در این فاصله قطع می‌کند. در نتیجه معادله دو ریشه دارد، بنابراین گزینه‌ی (۴) درست است.



**تست (۳):** جواب کلی معادله‌ی مثلثاتی  $\sin 4x - \sin 2x = \sin(\frac{\pi}{3} + 3x)$  کدام است؟ (سراسری-۸۱)

۱)  $\frac{k\pi}{6}$       ۲)  $\frac{k\pi}{3}$       ۳)  $\frac{k\pi}{2} - \frac{\pi}{3}$       ۴)  $\frac{k\pi}{3} + \frac{\pi}{6}$

**حل:** اولاً:  $\sin 4x - \sin 2x = \sin(\frac{\pi}{3} + 3x) = \cos 3x$ ، حال با استفاده از روابط تبدیل به ضرب داریم:

$$2 \sin x \cos 3x = \cos 3x \Rightarrow \cos 3x (2 \sin x - 1) = 0 \Rightarrow \begin{cases} 1) \cos 3x = 0 \Rightarrow 3x = k\pi + \frac{\pi}{2} \Rightarrow x = \frac{k\pi}{3} + \frac{\pi}{6} \\ 2) \sin x = \frac{1}{2} \Rightarrow x = 2k\pi + \frac{\pi}{6} \text{ یا } x = 2k\pi + \frac{5\pi}{6} \end{cases}$$

جواب‌های معادله‌ی دوم زیرمجموعه‌ای از جواب‌های معادله‌ی اول‌اند. پس جواب کلی معادله گزینه‌ی (۴) می‌شود. برای آن که نشان دهید جواب‌های معادله‌ی دوم در معادله‌ی اول حضور دارند، مانند راه مسأله‌ی (۳) عمل کنید. در دسته جواب اول برای  $k$ ، سه حالت فرض کنید  $(k = 3m + 1, k = 3m + 2, k = 3m)$ ، و نشان دهید هر دو حالت دسته جواب دوم به وجود می‌آیند. بنابراین گزینه‌ی (۴) درست است.

○ **مسئله (۶):** هر یک از معادلات زیر را حل کنید.

$$\sin x + \sin 2x + \sin 3x = \cos x + \cos 2x + \cos 3x \quad (\text{الف})$$

$$\frac{1}{\sin x} = \frac{1}{\sin 2x} + \frac{1}{\sin 3x} \quad (\text{ب})$$

$$(\cos 3x + \cos 4x)(\cos 3x + \cos x) = \frac{1}{4} \quad (\text{پ})$$

**هله الف)** با استفاده از روابط تبدیل جمع به ضرب، دو طرف معادله را به ضرب تبدیل می‌کنیم:

$$\begin{aligned} \sin x + \sin 3x + \sin 2x &= \cos x + \cos 3x + \cos 2x \Rightarrow 2 \sin 2x \cos x + \sin 2x = 2 \cos 2x \cos x + \cos 2x \\ \Rightarrow \sin 2x(2 \cos x + 1) &= \cos 2x(2 \cos x + 1) \Rightarrow (2 \cos x + 1)(\sin 2x - \cos 2x) = 0 \end{aligned}$$

به دو معادله می‌رسیم:  $\cos x = -\frac{1}{2}$  و  $\sin 2x = \cos 2x$ . نمونه‌ی هر یک از این معادلات را قبلاً حل کرده‌ایم.

**هله ب)** دو طرف معادله را در  $2 \sin x \sin 2x \sin 3x$  ضرب کنید و سپس از روابط تبدیل به جمع استفاده کنید:

$$\begin{aligned} 2 \sin 2x \sin 3x &= 2 \sin x \sin 3x + 2 \sin x \sin 2x \Rightarrow \cos x - \cos 5x = \cos 2x - \cos 4x + \cos x - \cos 3x \\ \Rightarrow \cos 5x - \cos 3x + \cos 2x - \cos 4x &= 0 \Rightarrow -2 \sin x \sin 4x - 2 \sin(-x) \sin 3x = 0 \\ \Rightarrow \sin x(\sin 3x - \sin 4x) &= 0 \Rightarrow \sin x = 0 \quad \text{یا} \quad \sin 3x = \sin 4x \end{aligned}$$

$\sin x = 0$  در دامنه‌ی معادله نیست، پس فقط ریشه‌های معادله‌ی دوم را پیدا می‌کنیم:

$$\sin 3x = \sin 4x \Rightarrow \begin{cases} 4x = 2k\pi + 3x \Rightarrow x = 2k\pi \\ 4x = 2k\pi + \pi - 3x \Rightarrow x = \frac{(2k+1)\pi}{7} \end{cases}$$

دسته جواب اول غیر قابل قبول است، زیرا به ازای آن‌ها داریم:  $\sin x = 0$ . اما دسته جواب دوم قابل قبول است، مگر حالت‌های خاصی که به ازای آن‌ها  $2k+1$  مضرب ۷ است، زیرا در این حالات نیز داریم:  $\sin x = 0$ .

**هله پ)** ابتدا عبارت سمت چپ را با استفاده از اتحادهای مثلثاتی ساده‌تر می‌کنیم:

$$\begin{aligned} (\cos 3x + \cos 4x)(\cos 3x + \cos x) &= (\cos 3x + \cos 4x)2 \cos x \cos 2x = \cos 2x(2 \cos x \cos 3x + 2 \cos x \cos 4x) \\ &= \cos 2x(\cos 2x + \cos 4x + \cos 3x + \cos 5x) = \cos 2x \cos 2x + \cos 2x \cos 4x + \cos 2x \cos 3x + \cos 2x \cos 5x \\ &= \frac{1}{4}(\cos 4x + 1) + \frac{1}{4}(\cos 6x + \cos 2x) + \frac{1}{4}(\cos 5x + \cos x) + \frac{1}{4}(\cos 7x + \cos 3x) \end{aligned}$$

با توجه به معادله مقدار عبارت بالا برابر  $\frac{1}{4}$  است، پس داریم:

$$1 + \cos x + \cos 2x + \dots + \cos 7x = \frac{1}{4} \Rightarrow 2 \sin \frac{x}{2}(\cos x + \cos 2x + \dots + \cos 7x) = -\sin \frac{x}{2}$$

مانند آنچه در بخش (۳-۳) درباره‌ی محاسبه‌ی مجموع‌های مثلثاتی آموختیم، نتیجه می‌گیریم:

$$\sin \frac{15}{2}x - \sin \frac{x}{2} = -\sin \frac{x}{2} \Rightarrow \sin \frac{15}{2}x = 0 \Rightarrow x = \frac{2k\pi}{15}$$

تنها دقت کنید که در جواب‌های نهایی نباید  $k$  مضرب ۱۵ باشد (چرا؟ در واقع باید همه‌ی حالاتی را که به ازای آن‌ها  $\sin \frac{x}{2} = 0$  از جواب‌ها حذف کنید).

### ◆ معادلات کلاسیک

دسته‌ای خاص از معادلات مثلثاتی را معادلات کلاسیک می‌گویند. فرم کلی این معادلات در مسائل زیاد ظاهر می‌شود و راه‌حل آن‌ها یکسان است. با توجه به این که کتاب درسی سه حالت این معادلات را بررسی کرده (هر چند که نامی از کلاسیک نیاورده)، در این‌جا ما معادلات کلاسیک نوع اول تا سوم را (و علاوه بر آن نوع چهارم را که با معلومات ما قابل حل است) بررسی می‌کنیم.

○ **مسئله (۷):** معادله‌های زیر را حل کنید.

$$\sqrt{3} \sin x + \cos x = \sqrt{2} \quad (\text{الف})$$

$$3 \cos x + 2 \sin x = 2 \quad (\text{ب})$$

**هله الف)** در بخش (۱-۳) دیدید که هر عبارت به شکل  $a \sin x + b \cos x$  را می‌توانیم به صورت  $\sqrt{a^2 + b^2} \sin \alpha$  بازنویسی کنیم. داریم:

$$\sqrt{3} \sin x + \cos x = \sqrt{2} \Rightarrow \frac{\sqrt{3}}{2} \sin x + \frac{1}{2} \cos x = \frac{\sqrt{2}}{2} \Rightarrow \sin(x + \frac{\pi}{6}) = \sin \frac{\pi}{4}$$

$$\Rightarrow x + \frac{\pi}{6} = 2k\pi + \frac{\pi}{4} \quad \text{یا} \quad x + \frac{\pi}{6} = 2k\pi + \frac{3\pi}{4} \Rightarrow x = 2k\pi + \frac{\pi}{12} \quad \text{یا} \quad 2k\pi + \frac{7\pi}{12}$$



**ب) در بخش (۱-۳) دو اتحاد**  $\sin x = \frac{2 \tan \frac{x}{2}}{1 + \tan^2 \frac{x}{2}}$  و  $\cos x = \frac{1 - \tan^2 \frac{x}{2}}{1 + \tan^2 \frac{x}{2}}$  را ثابت کرده ایم. یا جای گذاری این روابط داریم:  $(t = \tan \frac{x}{2})$

$$3 \times \frac{1-t^2}{1+t^2} + 2 \times \frac{2t}{1+t^2} = 2 \Rightarrow \Delta t^2 - 4t - 1 = 0 \Rightarrow (t-1)(\Delta t + 1) = 0$$

پس باید دو معادله ی  $\tan \frac{x}{2} = 1$  و  $\tan \frac{x}{2} = -\frac{1}{\Delta}$  را حل کنیم که حل آن ها را به خودتان واگذار می کنیم.

**تذکره:**

معادلاتی به شکل  $a_1 \sin x + a_2 \cos x = a_3$  را معمولاً معادلات کلاسیک نوع اول می گویند. این گونه معادلات را به دو روش می توانیم حل کنیم:

۱- نوشتن  $a \sin x + b \cos x$  به شکل  $\sqrt{a^2 + b^2} \sin \alpha$

۲- جای گذاری  $\sin x = \frac{2 \tan \frac{x}{2}}{1 + \tan^2 \frac{x}{2}}$  و  $\cos x = \frac{1 - \tan^2 \frac{x}{2}}{1 + \tan^2 \frac{x}{2}}$

○ **مسئله (۸):** معادله ی  $\sin(\pi - 2x) - \sqrt{3} \sin(\frac{\pi}{6} - 2x) = 1$  را حل کنید.

**حل:** با استفاده از روابط مقدماتی داریم:

$$\sin(\frac{\pi}{3} - 2x) = \cos(\frac{\pi}{3} - (\frac{\pi}{3} - 2x)) = \cos(\frac{\pi}{3} + 2x)$$

یا جای گذاری نتیجه ی بالا در معادله به دست می آوریم:

$$\sin(2x + \frac{\pi}{6}) - \sqrt{3} \cos(2x + \frac{\pi}{6}) = 1$$

این معادله نیز شبیه یک معادله ی کلاسیک نوع اول است. در واقع داریم:

$$\frac{1}{2} \sin(2x + \frac{\pi}{6}) - \frac{\sqrt{3}}{2} \cos(2x + \frac{\pi}{6}) = \frac{1}{2} \Rightarrow \sin(2x + \frac{\pi}{6} - \frac{\pi}{3}) = \sin \frac{\pi}{6} \Rightarrow \sin(2x - \frac{\pi}{6}) = \sin \frac{\pi}{6}$$

$$\Rightarrow 2x - \frac{\pi}{6} = 2k\pi + \frac{\pi}{6} \quad \text{یا} \quad 2x - \frac{\pi}{6} = 2k\pi + \frac{5\pi}{6} \Rightarrow x = k\pi + \frac{\pi}{6} \quad \text{یا} \quad x = k\pi + \frac{\pi}{3}$$

**تست (۱۴):** معادله ی  $\sin 2x + \cos 2x = \sqrt{2}$  در فاصله ی  $(0, 4\pi)$  چند ریشه دارد؟ (زاد-۸۱)

(۱) صفر (۲) ۲ (۳) ۳ (۴) ۴

**حل:** از روش ارائه شده برای معادلات کلاسیک نوع اول استفاده می کنیم:

$$\sin 2x + \cos 2x = \sqrt{2} \Rightarrow \sqrt{2} (\frac{1}{\sqrt{2}} \sin 2x + \frac{1}{\sqrt{2}} \cos 2x) = \sqrt{2} \Rightarrow \sqrt{2} \cos(2x - \frac{\pi}{4}) = \sqrt{2}$$

$$\Rightarrow \cos(2x - \frac{\pi}{4}) = 1 \Rightarrow 2x - \frac{\pi}{4} = 2k\pi \Rightarrow x = k\pi + \frac{\pi}{8}$$

در فاصله ی  $(0, 4\pi)$  چهار جواب متمایز برای معادله به دست می آید:

$$x_1 = \frac{\pi}{8}, \quad x_2 = \pi + \frac{\pi}{8}, \quad x_3 = 2\pi + \frac{\pi}{8}, \quad x_4 = 3\pi + \frac{\pi}{8}$$

بنابراین گزینه ی (۴) درست است.

○ **مسئله (۹):** معادله ی  $\tan x - \sqrt{3} \cot x = 1 - \sqrt{3}$  را حل کنید.

**حل:** با ضرب دو طرف معادله در  $\tan x$  داریم:

$$\tan^2 x - \sqrt{3} = (1 - \sqrt{3}) \tan x \xrightarrow{\tan x = t} t^2 + (\sqrt{3} - 1)t - \sqrt{3} = 0 \Rightarrow t_1 = 1, \quad t_2 = -\sqrt{3}$$

۱)  $\tan x = 1 \Rightarrow x = k\pi + \frac{\pi}{4}$

۲)  $\tan x = -\sqrt{3} \Rightarrow x = k\pi + \frac{2\pi}{3}$



**نتیجه:** معادلات به شکل:  $a_1 \tan x + a_2 \cot x = a_3$ ، را اصطلاحاً معادلات کلاسیک نوع دوم می‌گویند. این معادلات به راحتی با تغییر متغیر  $\tan x = t$  قابل حل هستند.

○ **مسئله‌ی (۱۰):** معادله  $(1 + \sqrt{2}) \sin^2 x + (\sqrt{2} - 1) \cos^2 x + \sin 2x = \sqrt{2}$  را حل کنید.

**حل: راه اول:** با توجه به آن که  $\sin^2 x = \frac{1 - \cos 2x}{2}$  و  $\cos^2 x = \frac{1 + \cos 2x}{2}$  نتیجه می‌گیریم:

$$(1 + \sqrt{2}) \frac{1 - \cos 2x}{2} + (\sqrt{2} - 1) \frac{1 + \cos 2x}{2} + \sin 2x = \sqrt{2} \Rightarrow \sin 2x - \cos 2x = 0 \Rightarrow \tan 2x = 1$$

$$\Rightarrow 2x = k\pi + \frac{\pi}{4}$$

$$\Rightarrow x = k\frac{\pi}{2} + \frac{\pi}{8}$$

**راه دوم:** می‌دانیم  $\cos x \neq 0$ ، بنابراین می‌توانیم دو طرف را بر  $\cos^2 x$  تقسیم کنیم:

$$(1 + \sqrt{2}) \tan^2 x + \sqrt{2} - 1 + \frac{2 \sin x \cos x}{\cos^2 x} = \frac{\sqrt{2}}{\cos^2 x} \Rightarrow (1 + \sqrt{2}) \tan^2 x + \sqrt{2} - 1 + 2 \tan x = \sqrt{2}(1 + \tan^2 x)$$

به این ترتیب به یک معادله‌ی درجه‌ی ۲ برحسب  $\tan x$  رسیده‌ایم که می‌توانیم آن را حل کنیم.

**نتیجه:** معادلات به شکل  $a_1 \sin^2 x + a_2 \cos^2 x + a_3 \sin x \cos x = a_4$ ، را اصطلاحاً معادلات کلاسیک نوع سوم می‌گویند. این معادلات را به یکی از این دو روش می‌توانیم حل کنیم:

$$1 - \text{جای‌گذاری‌های } \sin^2 x = \frac{1 - \cos 2x}{2}, \cos^2 x = \frac{1 + \cos 2x}{2} \text{ و } \sin x \cos x = \frac{\sin 2x}{2}$$

۲- با شرط  $\cos x \neq 0$ ، دو طرف معادله را بر  $\cos^2 x$  تقسیم کنیم تا به یک معادله‌ی درجه‌ی ۲ برحسب  $\tan x$  برسیم.

○ **مسئله‌ی (۱۱):** معادله  $\sin x - \cos x + 2 \sin x \cos x = -(1 + \sqrt{2})$  را حل کنید.

**حل: راه اول:** می‌دانیم  $\sin x - \cos x = -\sqrt{2} \cos(x + \frac{\pi}{4})$  و علاوه بر آن:

$$2 \sin x \cos x = \sin 2x = -\cos(\frac{\pi}{4} + 2x) = -(2 \cos^2(x + \frac{\pi}{4}) - 1)$$

با جای‌گذاری این دو نتیجه در معادله‌ی اصلی، به معادله‌ی درجه‌ی دومی برحسب  $\cos(x + \frac{\pi}{4})$  می‌رسیم. ادامه‌ی راه‌حل را به خودتان واگذار

می‌کنیم. (پاسخ نهایی  $x = 2k\pi - \frac{\pi}{4}$  می‌شود).

**راه دوم:** اگر قرار دهیم  $t = \sin x - \cos x$  داریم:  $t^2 = 1 - \sin 2x$ ، پس  $\sin x \cos x = \frac{1 - t^2}{2}$ . با جای‌گذاری این نتیجه به معادله‌ی

درجه‌ی دومی برحسب  $t$  می‌رسیم. با پیدا کردن مقادیر ممکن برای  $t$ ، به یک معادله‌ی کلاسیک نوع اول خواهیم رسید که حل آن را به خودتان واگذار می‌کنیم.

**نتیجه:** معادلات به شکل  $a_1(\sin x \pm \cos x) + a_2 \sin x \cos x = a_3$ ، را اصطلاحاً معادلات کلاسیک نوع چهارم می‌گویند. این معادلات را به یکی از دو روش بیان شده در مسأله‌ی قبل می‌توان حل کرد.

### حل معادلات با استفاده از ناساوی‌ها

بعضی از معادلات را تنها با در نظر گرفتن محبده‌های عبارات می‌توانیم حل کنیم. در این گونه معادلات معمولاً یک طرف تساوی همواره از مقداری بزرگ‌تر و طرف دیگر کوچک‌تر است. به همین دلیل تنها در حالت مساوی بودن با آن مقدار، دو طرف برابر می‌شوند.



○ **مسئله (۱۲):** هر یک از معادلات زیر را حل کنید.

$$\sin \Delta x + \sin x = 2 + \cos^2 x \quad (\text{الف})$$

$$\cos 2x + \cos 4x = 2 \quad (\text{ب})$$

$$\cos 2x \left(1 - \frac{3}{4} \sin^2 2x\right) = 1 \quad (\text{پ})$$

**حل: الف)** می‌دانیم همواره  $\cos 4x \leq 1$ ،  $\cos 2x \leq 1$ . پس همواره  $2 \leq \cos 2x + \cos 4x \leq 2$ . در معادله‌ی صورت سؤال چون  $\cos 2x + \cos 4x$  در بیش‌ترین مقدار خود یعنی ۲ قرار دارد پس باید هر دو مقدار  $\cos 2x$  و  $\cos 4x$  در بیش‌ترین مقدار خود یعنی ۱ باشند. بنابراین جواب‌های معادله اشتراک جواب‌های دو معادله‌ی  $\cos 2x = 1$  و  $\cos 4x = 1$  هستند. از طرفی داریم:

$$\cos 2x = 1 \Rightarrow 2 \cos^2 2x - 1 = 1 \Rightarrow \cos^2 2x = 1$$

یعنی جواب‌های معادله‌ی  $\cos 2x = 1$ ، بخشی از جواب‌های معادله‌ی  $\cos 4x = 1$  هستند و اشتراک جواب‌ها، همان جواب‌های  $\cos 2x = 1$  است. پس تنها این معادله را حل می‌کنیم:

$$\cos 2x = 1 \Rightarrow 2x = 2k\pi \Rightarrow x = k\pi$$

**ب)** مانند قسمت قبل استدلال کنید. همواره داریم:  $2 \leq \sin \Delta x + \sin x \leq 2$  و علاوه بر آن:  $2 \leq 2 + \cos^2 x \leq 3$  (چرا؟). همان‌طور که می‌بینید دو عبارت تنها در یک حالت می‌توانند برابر باشند که هر دو برابر ۲ باشند. نتیجه می‌گیریم باید هر سه تساوی زیر هم‌زمان برقرار باشند:

$$\sin x = 1, \quad \sin \Delta x = 1, \quad \cos x = 0$$

وقتی  $\sin x = 1$ ، داریم:  $\cos x = 0$  و چون باید از سه جواب اشتراک بگیریم، لازم نیست معادله‌ی  $\cos x = 0$  را بررسی کنیم. دو معادله‌ی دیگر را حل می‌کنیم:

$$\sin x = 1 \Rightarrow x = 2k\pi + \frac{\pi}{2}, \quad \sin \Delta x = 1 \Rightarrow \Delta x = 2k'\pi + \frac{\pi}{2}$$

می‌دانیم اگر  $x = 2k\pi + \frac{\pi}{2}$  داریم:

$$\Delta x = 1 \cdot k\pi + \frac{\Delta\pi}{2} = (1 \cdot k + 2)\pi + \frac{\pi}{2} = 2(\frac{\Delta k + 1}{2})\pi + \frac{\pi}{2} = 2m\pi + \frac{\pi}{2}$$

پس جواب‌های دسته‌ی اول جزئی از جواب‌های دسته‌ی دوم نیز هستند. یعنی اشتراک دو جواب،  $x = 2k\pi + \frac{\pi}{2}$  می‌شود.

**پ)** با توجه به این که:  $\frac{1}{4} \leq 1 - \frac{3}{4} \sin^2 2x \leq 1$  (چرا؟) و  $-1 \leq \cos 2x \leq 1$ ، تنها وقتی حاصل ضرب دو عبارت برابر ۱ می‌شود که هر دو برابر ۱ باشند. یعنی:  $\cos 2x = 1$  و  $\sin 2x = 0$ . پس:  $\sin 2x = 0 \Rightarrow x = k\pi$

**تست (۵):** حاصل جمع جواب‌های معادله‌ی  $2 \sin^2 x - \cos x - 1 = 0$  روی بازه‌ی  $[\pi, 2\pi]$  کدام است؟

$$\frac{11\pi}{3} \quad (\text{ع})$$

$$3\pi \quad (\text{ز})$$

$$\frac{10\pi}{3} \quad (\text{ح})$$

$$\frac{8\pi}{3} \quad (\text{ط})$$

**حل:** با توجه به آن که  $2 \sin^2 x - 1 = -\cos 2x$  داریم:

$$-\cos 2x - \cos x = 0 \Rightarrow \cos 2x = -\cos x = \cos(\pi + x) \Rightarrow \begin{cases} 2x = 2k\pi + \pi + x \Rightarrow x = (2k+1)\pi \\ 2x = 2k\pi - (\pi + x) \Rightarrow x = \frac{(2k-1)\pi}{3} \end{cases}$$

در فاصله‌ی  $[\pi, 2\pi]$  دو جواب متمایز برای معادله به دست می‌آید:  $\{\pi, \frac{5\pi}{3}\}$ . مجموع این دو ریشه برابر است با  $\frac{8\pi}{3}$ . بنابراین گزینه‌ی (ط) درست است.

○ **مسئله (۱۳):** اگر معادله‌ی زیر ریشه داشته باشد، محدوده‌ی مقادیر  $m$  را بیابید.

$$\sin^8 x + \sin^2 x \cos^2 x + \cos^8 x = m \cos^4 x$$

**حل:** عبارت سمت چپ را ساده می‌کنیم:

$$\sin^8 x + \sin^2 x \cos^2 x + \cos^8 x = (\sin^2 x + \cos^2 x)^2 - \sin^2 x \cos^2 x = 1 - \frac{1}{4} \sin^2 2x = 1 - \frac{1}{4} \left(\frac{1 - \cos^2 2x}{2}\right) = \frac{7}{8} + \frac{1}{8} \cos^2 2x$$

با جای‌گذاری این نتیجه در معادله به دست می‌آوریم:

$$\frac{7}{8} + \frac{1}{8} \cos^2 2x = m \cos^4 x \Rightarrow \frac{7}{8} = (m - \frac{1}{8}) \cos^4 x \Rightarrow \cos^4 x = \frac{7}{8m-1}$$

برای آن که معادله جواب داشته باشد، باید:  $1 \geq \frac{7}{8m-1} \geq -1$  و حل این نامعادله نتیجه می‌دهد:  $m \in (-\infty, -\frac{3}{4}] \cup [1, +\infty)$

○ **مسئله (۱۴):** الف) معادله  $m \tan x + \cot x = 4$ ، در فاصله  $(0, \frac{\pi}{4})$  دو جواب متمایز دارد. محدوده  $m$  مقادیر  $m$  را بیابید.

\* ب) در معادله مثلثاتی  $\lambda \sin^2 x + k \sin 2x = 1$ ، مجموع جواب‌های متمایز در فاصله  $[0, \pi]$  برابر  $\frac{3\pi}{4}$  است. مقدار  $k$  را بیابید.

**حل: الف)** اگر قرار دهیم:  $\tan x = t$ ، داریم:  $\cot x = \frac{1}{t}$  و با جای‌گذاری به یک معادله درجه‌ی دوم می‌رسیم:

$$mt^2 - 4t + 1 = 0 \Rightarrow t = \frac{2 \pm \sqrt{4 - m}}{m}$$

معادله اصلی دو ریشه‌ی متمایز  $x_1$  و  $x_2$  در فاصله  $(0, \frac{\pi}{4})$  دارد. چون  $t_1 = \tan x_1$  و  $t_2 = \tan x_2$ ، پس هر دو مقدار  $t_1$  و  $t_2$  مثبت و متمایزند. یعنی معادله درجه‌ی دوم بر حسب  $t$ ، باید دو ریشه‌ی مثبت و متمایز داشته باشد.

اولاً باید  $\Delta > 0$ ، یعنی:  $m < 4$ . ثانیاً باید هم حاصل جمع ریشه‌ها و هم حاصل ضرب ریشه‌ها مثبت باشند.  $\frac{4}{m} > 0$  و  $\frac{1}{m} > 0$ . پس  $m > 0$  و اشتراک این محدوده با شرط قبلی عبارت است از:  $0 < m < 4$

**ب)** ابتدا دقت کنید که  $\cos x \neq 0$ . زیرا اگر  $\cos x = 0$ ، آن‌گاه با جای‌گذاری در معادله به دست می‌آوریم:  $\lambda = 1$ ، که تناقض است. حال دو طرف معادله را بر  $\cos^2 x$  تقسیم می‌کنیم که معادله بر حسب  $\tan x$  مرتب شود:

$$\lambda \tan^2 x + k \tan x = \frac{1}{\cos^2 x} = 1 + \tan^2 x \Rightarrow \lambda \tan^2 x + k \tan x - 1 = 0$$

اگر قرار دهیم  $\tan x = t$ ، معادله درجه‌ی دوم حاصل حداکثر دو جواب دارد که هر کدام به یک دسته جواب برای معادله اصلی منجر می‌شود. در هر حال در فاصله  $(0, \pi)$  این جواب‌ها منحصر به فردند (چرا؟). می‌خواهیم بین ریشه‌ها رابطه‌ی  $x_1 + x_2 = \frac{3\pi}{4}$  برقرار باشد. در نتیجه:

$$\tan(x_1 + x_2) = -1 \Rightarrow \frac{\tan x_1 + \tan x_2}{1 - \tan x_1 \tan x_2} = -1$$

در معادله  $\lambda t^2 + kt - 1 = 0$  مجموع دو ریشه برابر است با  $-\frac{k}{\lambda}$  و حاصل ضرب آن دو  $-\frac{1}{\lambda}$  می‌شود. پس داریم:

$$\frac{-\frac{k}{\lambda}}{1 - (-\frac{1}{\lambda})} = -\frac{k}{\lambda} \Rightarrow -\frac{k}{\lambda} = -1 \Rightarrow k = \lambda$$

به راحتی می‌توان بررسی کرد که به ازای این مقدار، معادله ریشه هم دارد.

### تمرین‌های بخش ۳-۴

۱- هر یک از معادلات مثلثاتی زیر را حل کنید. سپس تعیین کنید که هر معادله در فاصله  $[0, 4\pi]$  چند جواب دارد.

الف)  $\sin 2x = \cos x$  (ب)  $\cos 2x \sin x = \cos 2x$

پ)  $\tan 3x = \tan 2x$  (ت)  $\sin^3(\pi x) + \cos^3(\pi x) = 0$

ث)  $\tan x = 2 \sin x$  (ج)  $\frac{2}{\sin x} - 2 \sin x = 3$

چ)  $\sin^2 x = 1 + \cos x$  (ح)  $\frac{2 \sin(2\pi - x)}{\cos x} - \frac{\sin(2\pi + x)}{\cos(-x)} = \tan(\frac{\pi}{4} + x)$

۲- هر یک از معادلات زیر را حل کنید.

الف)  $\cos 6x = \cos x \cos 5x$

پ)  $\frac{\sin 2x - \sin x}{\sin 3x} = 2$

ث)  $\sin 2x + \cos 2x = \sqrt{2} \sin x$

ج)  $\cos 4x - \sin 3x + 1 = 2 \cos^2 2x$

خ)  $\sqrt{2} \sin(\frac{\pi}{4} - x) = 1 + \sin(\frac{5\pi}{4} + x)$

ب)  $\sin x \cos 4x - \sin 3x + \sin 4x \cos x = 0$

ت)  $\sin 2x + \sqrt{3} \cos 2x = 2$

ج)  $2 \sin^2 x - \sin 2x = 1$

ح)  $\sin x \cos x = \cos^2 x - \frac{1}{4}$

د)  $\sin^6 x + \cos^6 x = \frac{5}{4} \sin^2 2x$

۳- نقاط تلاقی نمودار تابع  $f(x) = -2\sin^2 x + \sqrt{3}\sin^2 x + 2\sin^2 x - \sqrt{3}\sin x$  با محور  $x$  ها را به دست آورید.

۴- هر یک از معادلات زیر را حل کنید.

الف)  $3\sqrt{2}(\sin x + \cos x) + \sin 2x = -5$  (ب)  $\sin^2 x + \cos^2 x = \frac{1}{\sqrt{2}} \sin 2x$

ب)  $\tan(\frac{\pi}{4} \cos x) = \cot(\pi \sin x)$  (ت)  $\sin 2x - \cos 2x = 1 - \sin 4x$

ج)  $\cos^2 x + \cos^2 2x + \cos^2 3x + \cos^2 4x = 2$  (ج)  $\sin(x - \frac{7\pi}{11}) + \cos(\frac{15\pi}{22} - x) = 1$

د)  $\sqrt{3} \sin(3x + \frac{4\pi}{9}) + \sin(\frac{\pi}{18} - 3x) = 2 \sin 2x$  (ح)  $\tan 3x + \tan 2x \tan 2x \tan x = \tan 2x + \tan x$

۵- هر یک از معادلات زیر در فاصله  $[0, 2\pi]$  چند جواب دارد؟

الف)  $\sin^4 x + \cos^4 x = \frac{3}{4}$  (ب)  $\tan^2 x \cot x + \cot^2 x \tan x = 4$

ب)  $(2\sin^2 x - 1)(2\sin^2 x - 2) \dots (2\sin^2 x - 10) = 0$

۶- الف) اگر معادله  $\tan x + (a-1)\cot x = \sqrt{2}$ ، در بازه  $(0, \frac{\pi}{4})$  دو جواب متمایز داشته باشد، حدود مقادیر  $a$  را بیابید.

ب) اگر معادله  $(2a-3)\tan x + (a-1)\cot x = 2$  ریشه‌ی مضاعف داشته باشد، مقدار  $a$  را بیابید.

پ) اگر  $x_1$  و  $x_2$  ریشه‌های معادله  $2\tan x + \cot x = k-1$  در فاصله  $[0, \pi]$  باشند و بدلتیم  $x_1 + x_2 = \frac{3\pi}{4}$ ، مقدار  $k$  را به دست آورید.

۷- معادلات زیر را حل کنید.


الف)  $\sin x \cos^2 x + \cos x \sin^2 x = \frac{1}{\sqrt{2}}$  (ب)  $2\sin(x + \frac{\pi}{4}) = \tan x + \cot x$

ب)  $\sin 18x + \sin 10x + \sin 20x = 3 + \cos^2 2x$  (ت)  $\tan^2 4x + \cot^2 4x + 2\tan 4x + 2\cot 4x = 6$

ج)  $\sin x + \cos x = \sqrt{2} + \sin^2 x$  (ج)  $4\sin 2x - \tan^2(x - \frac{\pi}{4}) = 4$

\* ج)  $8\sin^2 x \cos x - 3\sin^2 x + 2\cos^2 x \sin^2 x + \cos^4 x = 1$

\* ح)  $2(\sin 2x - \cos 2x) = \frac{\cos x + \cos 3x}{\cos x - \sin x}$




# معادلات مثلثاتی

## پرسش‌های چهارگزینه‌ای

- ۱- معادله  $2 \sin^2 x = 3 \cos x$  در بازه  $[0, \frac{5\pi}{4}]$ ، چند جواب متمایز دارد؟  
 ۱) ۳      ۲) ۲      ۳) ۴      ۴) ۵
- ۲- حاصل جمع جواب‌های معادله  $\sin x - \cos x = \cos 2x$  در بازه  $[0, 2\pi]$  چند است؟  
 ۱)  $\frac{9\pi}{4}$       ۲)  $4\pi$       ۳)  $\frac{9\pi}{2}$       ۴)  $\frac{7\pi}{2}$
- ۳- جواب عمومی معادله  $\sin(x + \frac{\pi}{6}) \sin(x - \frac{\pi}{6}) = \frac{1}{4}$  کدام است؟  
 ۱)  $k\pi + \frac{\pi}{4}$       ۲)  $\frac{k\pi}{2}$       ۳)  $k\pi$       ۴)  $\frac{k\pi}{2} + \frac{\pi}{4}$
- ۴- انتهای کمان‌های متناظر به جواب‌های معادله  $2 \cos^2 x + 3 \sin x - 3 = 0$ ، روی دایره‌ی مثلثاتی رئوس یک ..... هستند.  
 ۱) مثلث متساوی‌الاضلاع      ۲) مثلث قائم‌الزاویه      ۳) مثلث متساوی‌الساقین      ۴) مستطیل
- ۵- جواب معادله  $\sin 2x \cos x = \cos 2x \sin x$  به چه شکل است؟  
 ۱)  $k\pi$       ۲)  $k\pi + \frac{\pi}{2}$       ۳)  $2k\pi \pm \frac{\pi}{2}$       ۴)  $\frac{k\pi}{2}$
- ۶- مجموع جواب‌های حاده‌ی معادله  $\tan 4x = \cot x$  کدام است؟  
 ۱)  $\frac{\pi}{5}$       ۲)  $\frac{2\pi}{5}$       ۳)  $\frac{3\pi}{5}$       ۴)  $\frac{4\pi}{5}$
- ۷- مجموع جواب‌های بین صفر و  $2\pi$  در معادله  $2 \sin^2(x - \frac{\pi}{8}) + 3 \cos(x - \frac{5\pi}{8}) = 5$  کدام است؟  
 ۱)  $\frac{3\pi}{4}$       ۲)  $\frac{5\pi}{4}$       ۳)  $\frac{5\pi}{8}$       ۴)  $\frac{7\pi}{8}$
- ۸- حاصل جمع جواب‌های معادله  $\cot \frac{x}{2} - \tan \frac{x}{2} = 2\sqrt{3}$ ، در بازه  $[0, 2\pi]$  کدام است؟  
 ۱)  $\pi$       ۲)  $\frac{2\pi}{3}$       ۳)  $\frac{4\pi}{3}$       ۴)  $\frac{5\pi}{3}$
- ۹- جواب‌های معادله  $\cos 4x - \cos 2x = \cos(2x - \frac{3\pi}{2})$  چند نقطه را بر روی دایره‌ی مثلثاتی مشخص می‌کنند؟  
 ۱) ۳      ۲) ۴      ۳) ۶      ۴) ۸
- ۱۰- حاصل جمع جواب‌های معادله  $\cos 2x = \cos x + 2$  در بازه  $[-\pi, \pi]$  کدام است؟  
 ۱)  $2\pi$       ۲)  $3\pi$       ۳) صفر      ۴)  $\frac{3\pi}{2}$
- ۱۱- معادله  $\sin x(1 + \sin x) + \cos x(1 + \cos x) = 0$  در بازه  $[-\pi, 0]$  چند ریشه دارد؟  
 ۱) ۱      ۲) ۲      ۳) ۳      ۴) ۴
- ۱۲- انتهای کمان‌های  $x$  از معادله  $\cos 2x(1 - \sin x) = 0$ ، بر روی دایره‌ی مثلثاتی رئوس یک ..... ضلعی ..... را معین می‌کند.  
 ۱) ۵ - منظم      ۲) ۴ - منظم      ۳) ۵ - غیر منظم      ۴) ۴ - غیر منظم

- ۱۳- جواب کلی معادله  $\sin(x + \frac{\pi}{4}) - \cos(x + \frac{\pi}{4}) = \sqrt{2}$  کدام است؟  
 (۱)  $2k\pi + \frac{\pi}{4}$  (۲)  $k\pi - \frac{\pi}{4}$  (۳)  $k\pi + \frac{\pi}{4}$  (۴)  $(2k+1)\pi$
- ۱۴- جواب عمومی معادله  $\sin(\frac{\pi}{4} + x) \cos(2\pi - x) = \sin^2(\frac{\sqrt{\pi}}{6})$  کدام است؟  
 (۱)  $2k\pi - \frac{\pi}{4}$  (۲)  $2k\pi + \frac{\pi}{4}$  (۳)  $2k\pi + \frac{\pi}{2}$  (۴)  $k\pi \pm \frac{\pi}{4}$
- ۱۵- جواب عمومی معادله  $\sin 2x + \sin x = 0$  کدام است؟  
 (۱)  $\frac{k\pi}{2}$  (۲)  $k\pi$  (۳)  $k\pi + \frac{\pi}{4}$  (۴)  $2k\pi + \frac{\pi}{4}$
- ۱۶- جواب کلی معادله  $\frac{\sin 3x + \sin x}{\sin x} = 1$  مثلثاتی به کدام شکل است؟ (سراسری-۸۲)  
 (۱)  $\frac{k\pi}{3}$  (۲)  $k\pi + \frac{\pi}{3}$  (۳)  $k\pi \pm \frac{\pi}{3}$  (۴)  $2k\pi \pm \frac{\pi}{3}$
- ۱۷- جواب کلی معادله  $\frac{\cos 2x}{\cos(x + \frac{\pi}{4})} = 0$  به کدام شکل است؟ (سراسری-۸۳)  
 (۱)  $2k\pi \pm \frac{\pi}{4}$  (۲)  $k\pi \pm \frac{\pi}{4}$  (۳)  $k\pi + \frac{\pi}{4}$  (۴)  $k\pi - \frac{\pi}{4}$
- ۱۸- معادله  $(\sin x + \frac{9}{4})(\sin x - \frac{9}{4}) \dots (\sin x + \frac{9}{4})(\sin x - \frac{9}{4}) = 0$  در بازه  $(0, 2\pi)$  چند ریشه دارد؟  
 (۱) ۴ (۲) ۲۰ (۳) ۲ (۴) صفر
- ۱۹- معادله  $\tan x \tan 2x = \sin x \sin 2x$ ، روی  $[\frac{\pi}{4}, \frac{9\pi}{4}]$  چند جواب دارد؟ (آزاد-۸۱)  
 (۱) ۱ (۲) ۴ (۳) ۳ (۴) صفر
- ۲۰- معادله  $\cos x + \cos 2x + \cos 3x = 3 + \sin^2 x$  در بازه  $[\pi, 5\pi]$  چند جواب دارد؟ (آزاد-۸۱)  
 (۱) ۵ (۲) ۴ (۳) ۱ (۴) ۲
- ۲۱- جواب عمومی معادله  $\tan^2 x - \cos 2x = 1$ ، کدام شکل است؟ (آزاد-۸۲)  
 (۱)  $k\pi + \frac{\pi}{4}$  (۲)  $2k\pi + \frac{\pi}{4}$  (۳)  $\frac{k\pi}{2} + \frac{\pi}{4}$  (۴)  $\frac{(k+1)\pi}{4}$
- ۲۲- معادله  $\tan^2 x - 2\cot^2 x = 1$  در بازه  $[0, 2\pi]$  چند ریشه دارد؟ (آزاد-۸۲)  
 (۱) صفر (۲) ۲ (۳) ۴ (۴) ۸
- ۲۳- معادله  $\sin^2 x = \cos^2 x + \frac{1}{4}$  در بازه  $[0, \pi]$  چند ریشه دارد؟ (آزاد-۸۳)  
 (۱) ۲ (۲) ۴ (۳) ۱ (۴) ۳
- ۲۴- برای چه مقادیر  $a$ ، معادله  $\sin^2 x - 2(1+a)\sin x + 4a = 0$  در فاصله  $(\frac{\pi}{6}, \frac{5\pi}{6})$  دارای جواب است؟  
 (۱)  $|a| < \frac{1}{4}$  (۲)  $a \in [\frac{1}{4}, \frac{1}{2}]$  (۳)  $a \in (\frac{1}{4}, \frac{1}{2}]$  (۴)  $a \in (\frac{1}{4}, \frac{1}{2})$
- ۲۵- معادله  $1 + \cos 2x = 4\cos 4x$  در فاصله  $[0, \frac{\pi}{4}]$  چند جواب دارد؟  
 (۱) ۶ (۲) ۲ (۳) ۵ (۴) ۳

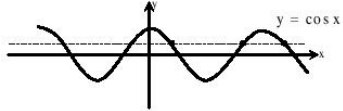
- ۲۶- معادله ی  $\cos x + \cos 2x + \cos 3x = 0$  در فاصله ی  $(0, \pi)$  چند جواب دارد؟  
 ۱ (۱) ۲ (۲) ۳ (۳) ۴ (۴)
- ۲۷- اگر  $\tan(x + \alpha) \tan(\frac{3\pi}{4} - x) = 1$  ، حاصل  $\sin(2\alpha - \frac{\pi}{6})$  کدام است؟  
 ۱ (۱)  $-\frac{\sqrt{3}}{2}$  (۲)  $-\frac{1}{2}$  (۳)  $\frac{\sqrt{3}}{2}$  (۴)  $\frac{1}{2}$
- ۲۸- معادله ی  $\tan x + \cot x = 2\sqrt{2}$  ، چند ریشه در فاصله ی  $[0, 2\pi]$  دارد؟  
 ۲ (۱) ۳ (۲) ۴ (۳) ۵ (۴)
- ۲۹- معادله ی  $\cos^6 x + \cos^2 x - 2 = 0$  در بازه ی  $(\frac{\pi}{4}, \frac{3\pi}{4})$  چند جواب دارد؟ (ازاد-۸۶)  
 ۱ (۱) ۲ (۲) ۳ (۳) ۴ (۴)
- ۳۰- جواب کلی معادله ی  $2\sin^2 x = 3\cos x$  به چه شکل است؟ (سراسری-۸۶)  
 ۱ (۱)  $k\pi \pm \frac{\pi}{6}$  (۲)  $k\pi \pm \frac{\pi}{3}$  (۳)  $2k\pi \pm \frac{\pi}{6}$  (۴)  $2k\pi \pm \frac{\pi}{3}$
- ۳۱- جواب کلی معادله ی مثلثاتی  $\frac{1 - \cos 2x}{\sin 2x} = \sqrt{3}$  به کدام صورت است؟ (سراسری-۸۶)  
 ۱ (۱)  $2k\pi + \frac{5\pi}{6}$  (۲)  $2k\pi + \frac{\pi}{3}$  (۳)  $k\pi + \frac{5\pi}{6}$  (۴)  $k\pi + \frac{\pi}{3}$
- ۳۲- معادله ی  $\cos 2x \cos 3x = 0$  در بازه ی  $[0, 2\pi]$  چند ریشه دارد؟ (ازاد-۸۶)  
 ۶ (۱) ۸ (۲) ۱۰ (۳) ۱۲ (۴)
- ۳۳- معادله ی  $\sin 2x \cos 2x \cos 4x = 2\sin x$  در بازه ی  $[0, 2\pi]$  چند ریشه دارد؟ (ازاد-۸۶)  
 ۱ (۱) ۲ (۲) ۳ (۳) ۵ (۴)
- ۳۴- جواب کلی معادله ی مثلثاتی  $\sin \frac{5\pi}{6} + \sin(\frac{\pi}{4} + x) \sin(\pi + x) = 0$  کدام است؟ (سراسری-۸۷)  
 ۱ (۱)  $k\pi + \frac{\pi}{4}$  (۲)  $k\pi - \frac{\pi}{4}$  (۳)  $2k\pi + \frac{\pi}{4}$  (۴)  $2k\pi + \frac{\pi}{3}$
- ۳۵- معادله ی  $\sin^2 x + \cos^2 x + 3\sin^2 x \cos x + 3\cos^2 x \sin x = \frac{1}{3}$  در بازه ی  $(\frac{\pi}{4}, \frac{3\pi}{4})$  چند جواب دارد؟ (ازاد-۸۷)  
 ۲ (۱) ۴ (۲) ۳ (۳) ۱ (۴)
- ۳۶- معادله ی  $\frac{\sin x + \sin 3x}{\cos x} = 1$  در بازه ی  $(0, 2\pi)$  چند ریشه دارد؟ (ازاد-۸۸)  
 ۲ (۱) ۱ (۲) ۴ (۳) ۳ (۴)
- ۳۷- معادله ی  $\cos^4 x = 1 + \sqrt{\sin x}$  چند ریشه در بازه ی  $[\frac{\pi}{4}, 3\pi]$  دارد؟ (ازاد-۸۹)  
 ۱ (۱) ۳ (۲) ۱ (۳) ۲ (۴)
- ۳۸- جواب کلی معادله ی مثلثاتی  $\tan(x + \frac{\pi}{4}) + \tan(x - \frac{\pi}{4}) = 2\sqrt{3}$  به کدام صورت است؟ (سراسری-۸۹)  
 ۱ (۱)  $k\pi + \frac{\pi}{6}$  (۲)  $\frac{k\pi}{2} + \frac{\pi}{3}$  (۳)  $\frac{k\pi}{2} + \frac{\pi}{6}$  (۴)  $k\pi + \frac{\pi}{3}$



# معادلات مثلثاتی

## پایه‌های تشریحی

۱- گزینه‌ی (1) با توجه به  $\sin^2 x = 1 - \cos^2 x$  داریم:



$$2(1 - \cos^2 x) = 3 \cos x \Rightarrow 2 \cos^2 x + 3 \cos x - 2 = 0 \Rightarrow \cos x = \frac{1}{2}, \cos x = -2$$

معادله‌ی  $\cos x = -2$  ریشه ندارد و معادله‌ی  $\cos x = \frac{1}{2}$  در فاصله‌ی مورد نظر ۳ ریشه دارد.

۲- گزینه‌ی (۶) با توجه به  $\cos 2x = \cos^2 x - \sin^2 x$  داریم:

$$\sin x - \cos x = \cos^2 x - \sin^2 x \Rightarrow (\cos x - \sin x)(\cos x + \sin x + 1) = 0$$

۱)  $\sin x = \cos x \Rightarrow \tan x = 1 \Rightarrow x = k\pi + \frac{\pi}{4}$

۲)  $\cos x + \sin x = -1 \Rightarrow \sin(x + \frac{\pi}{4}) = \frac{-1}{\sqrt{2}} \Rightarrow x + \frac{\pi}{4} = 2k\pi - \frac{\pi}{4}$  یا  $2k\pi + \pi + \frac{\pi}{4} \Rightarrow x = 2k\pi - \frac{\pi}{2}$  یا  $2k\pi + \pi$

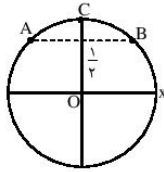
در فاصله‌ی  $[0, 2\pi]$  ریشه‌ها عبارت‌اند از:  $x_1 = \frac{\pi}{4}$ ,  $x_2 = \frac{5\pi}{4}$ ,  $x_3 = \frac{3\pi}{2}$ ,  $x_4 = \pi$  که حاصل جمع آن‌ها  $4\pi$  می‌شود.

۳- گزینه‌ی (۴) با استفاده از تبدیل ضرب به جمع داریم:

$$\sin(x + \frac{\pi}{6}) \sin(x - \frac{\pi}{6}) = \frac{1}{4} (\cos(\frac{\pi}{3}) - \cos 2x) = \frac{1}{4} (\frac{1}{2} - \cos 2x) \Rightarrow \frac{1}{4} (\frac{1}{2} - \cos 2x) = \frac{1}{4}$$

$$\Rightarrow \frac{1}{4} - \cos 2x = \frac{1}{4} \Rightarrow \cos 2x = 0 \Rightarrow 2x = k\pi + \frac{\pi}{2} \Rightarrow x = \frac{k\pi}{2} + \frac{\pi}{4}$$

۴- گزینه‌ی (۳) با جای‌گذاری  $\cos^2 x = 1 - \sin^2 x$  معادله را حل می‌کنیم:



$$2(1 - \sin^2 x) + 3 \sin x - 3 = 0 \Rightarrow 2 \sin^2 x - 3 \sin x + 1 = 0 \Rightarrow (\sin x - 1)(2 \sin x - 1) = 0$$

$$\Rightarrow \sin x = 1 \text{ یا } \sin x = \frac{1}{2}$$

در شکل، نقاط A، B و C انتهای کمان‌های مورد نظر را مشخص می‌کنند. واضح است که مثلث ABC متساوی‌الساقین است.

۵- گزینه‌ی (۴) معادله را به صورت زیر می‌نویسیم:

$$\sin 3x \cos x - \cos 3x \sin x = 0 \Rightarrow \sin(3x - x) = 0 \Rightarrow \sin 2x = 0 \Rightarrow 2x = k\pi \Rightarrow x = \frac{k\pi}{2}$$

۶- گزینه‌ی (۶) از این‌که  $\cot x = \tan(\frac{\pi}{2} - x)$  داریم:

$$\tan 4x = \tan(\frac{\pi}{2} - x) \Rightarrow 4x = k\pi + \frac{\pi}{2} - x \Rightarrow x = \frac{(2k+1)\pi}{10}$$

زاویه‌های حاده‌ی جواب عبارت‌اند از:  $\frac{\pi}{10}$  و  $\frac{3\pi}{10}$  که مجموع آن‌ها  $\frac{2\pi}{5}$  می‌شود.

۷- گزینه‌ی (۳) می‌توانیم به جای  $\cos(x - \frac{5\pi}{8})$  همان  $\sin(x - \frac{\pi}{8})$  را قرار دهیم، زیرا:

$$\cos(x - \frac{5\pi}{8}) = \cos((x - \frac{\pi}{8}) - \frac{\pi}{2}) = \sin(x - \frac{\pi}{8}) \Rightarrow 2 \sin^2(x - \frac{\pi}{8}) + 3 \sin(x - \frac{\pi}{8}) = 5$$

$$\Rightarrow (2 \sin(x - \frac{\pi}{8}) + 5)(\sin(x - \frac{\pi}{8}) - 1) = 0$$

از دو معادله‌ی حاصل، تنها  $\sin(x - \frac{\pi}{8}) = 1$  جواب دارد (چرا؟)، بنابراین:

$$x - \frac{\pi}{8} = 2k\pi + \frac{\pi}{2} \Rightarrow x = 2k\pi + \frac{5\pi}{8} \xrightarrow{x \in [0, 2\pi]} x = \frac{5\pi}{8}$$



**راه دوم:** بیش‌ترین مقدار عبارت سمت چپ برابر ۵ است (چرا؟). چون در معادله عبارت برابر ۵ شده است، پس هر دو جزء عبارت سمت چپ در بیش‌ترین حالت خود قرار دارند. یعنی باید اشتراک جواب‌های دو معادله‌ی زیر را پیدا کنیم:

$$\sin\left(x - \frac{\pi}{8}\right) = \pm 1, \quad \cos\left(x - \frac{5\pi}{8}\right) = 1$$

**۸- گزینه‌ی (۳)** می‌دانیم  $\tan \alpha - \cot \alpha = -2 \cot 2\alpha$ ، بنابراین:

$$\cot \frac{x}{\sqrt{2}} - \tan \frac{x}{\sqrt{2}} = 2 \cot x \xrightarrow{\text{از معادله}} \cot x = \sqrt{2} \Rightarrow x = k\pi + \frac{\pi}{6} \xrightarrow{x \in [0, 2\pi]} x \in \left\{ \frac{\pi}{6}, \frac{7\pi}{6} \right\}$$

**۹- گزینه‌ی (۴)** می‌دانیم  $\cos(3x - \frac{2\pi}{3}) = -\sin 3x$ ، بنابراین:

$$\cos 3x - \cos 2x = -\sin 3x \Rightarrow -2 \sin x \sin 3x = -\sin 3x$$

$$\Rightarrow \sin 3x (2 \sin x - 1) = 0 \Rightarrow \begin{cases} \sin 3x = 0 \Rightarrow x = \frac{k\pi}{3} \rightarrow \{0, \frac{\pi}{3}, \frac{2\pi}{3}, \pi, \frac{4\pi}{3}, \frac{5\pi}{3}, 2\pi\} \\ \sin x = \frac{1}{2} \Rightarrow x \in \{2k\pi + \frac{\pi}{6}, 2k\pi + \frac{5\pi}{6}\} \rightarrow \{\frac{\pi}{6}, \frac{5\pi}{6}\} \end{cases}$$

۹ جواب در بازه‌ی  $[0, 2\pi]$  وجود دارد، که چون انتهای کمان دو جواب  $x = 2\pi$  و  $x = 0$  یکسان است، روی دایره‌ی مثلثاتی ۸ نقطه را معین می‌کنند.  
**۱۰- گزینه‌ی (۳)** چون  $-1 \leq \cos 2x \leq 1$  و  $1 \leq \cos x + 2 \leq 3$ ، پس تنها در حالتی دو عبارت مساوی‌اند که هر دو برابر ۱ باشند. یعنی:  
 $\cos 2x = 1$  و  $\cos x = 1$ .

$$\cos 2x = 1 \Rightarrow 2x = 2k\pi \Rightarrow x = k\pi, \quad \cos x = 1 \Rightarrow x = (2k+1)\pi$$

اشتراک دو دسته جواب فوق همان  $x = (2k+1)\pi$  است، که در فاصله‌ی  $[-\pi, \pi]$ ، دو جواب  $x = \pm\pi$  می‌شوند.

**۱۱- گزینه‌ی (۲)** با ضرب عبارت در پراترها داریم:

$$\sin x + \sin^2 x + \cos x + \cos^2 x = 0 \Rightarrow \sin x + \cos x + 1 = 0 \Rightarrow \sin x + \cos x = -1$$

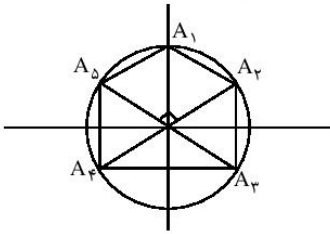
$$\Rightarrow \sqrt{2} \sin\left(x + \frac{\pi}{4}\right) = -1 \Rightarrow x + \frac{\pi}{4} = 2k\pi - \frac{\pi}{4} \text{ یا } 2k\pi + \pi + \frac{\pi}{4} \Rightarrow x \in \left\{ 2k\pi - \frac{\pi}{2}, (2k+1)\pi \right\} \xrightarrow{x \in [-\pi, \pi]} \left\{ -\frac{\pi}{2}, -\pi \right\}$$

**۱۲- گزینه‌ی (۳)** دو معادله حاصل می‌شود:

$$\sin x = 1 \Rightarrow x = 2k\pi + \frac{\pi}{2} \xrightarrow{[0, 2\pi]} \left\{ \frac{\pi}{2} \right\}$$

$$\cos 2x = 0 \Rightarrow 2x = k\pi + \frac{\pi}{2} \Rightarrow x = \frac{k\pi}{2} + \frac{\pi}{4} \rightarrow \left\{ \frac{\pi}{4}, \frac{3\pi}{4}, \frac{5\pi}{4}, \frac{7\pi}{4} \right\}$$

واضح است که این ۵ ضلعی منتظم نیست.



**۱۳- گزینه‌ی (۱)** با استفاده از اتحادها داریم:

$$\sin\left(x + \frac{\pi}{4}\right) - \cos\left(x + \frac{\pi}{4}\right) = \sqrt{2} \sin\left(x + \frac{\pi}{4} - \frac{\pi}{4}\right) \Rightarrow \sqrt{2} \sin x = \sqrt{2} \Rightarrow \sin x = 1 \Rightarrow x = 2k\pi + \frac{\pi}{2}$$

**۱۴- گزینه‌ی (۴)** می‌دانیم  $\cos(\frac{\pi}{2} + x) = \cos x$  و  $\cos(2\pi - x) = \cos x$ ، بنابراین:

$$\cos^2 x = \sin^2\left(\frac{7\pi}{6}\right) \Rightarrow \cos^2 x = \frac{1}{4} \Rightarrow \cos x = \pm \frac{1}{2}$$

جواب‌های معادله‌ی اول به فرم  $2k\pi \pm \frac{\pi}{3}$  و جواب‌های معادله‌ی دوم به فرم  $2k\pi \pm \frac{2\pi}{3}$  می‌باشند. دسته جواب  $2k\pi + \frac{2\pi}{3}$  به شکل

$2k\pi - \frac{2\pi}{3}$  قابل بیان است، همچنین جواب  $2k\pi - \frac{2\pi}{3}$  به شکل  $(2(k-1)+1)\pi + \frac{\pi}{3}$  قابل بیان است. پس می‌توان اجتماع همه‌ی

جواب‌ها را با صورت کلی  $k\pi \pm \frac{\pi}{3}$  بیان کرد.



**۱۵- گزینهی (۱)** از معادله داریم:  $\sin 3x = -\sin x$ ، بنابراین:

$$\sin 3x = \sin(\pi + x) \Rightarrow \begin{cases} 3x = 2k\pi + (\pi + x) \Rightarrow x = \frac{(2k+1)\pi}{2} \\ 3x = 2k\pi + \pi - (\pi + x) \Rightarrow x = \frac{k\pi}{2} \end{cases} \Rightarrow x = \frac{k\pi}{2}$$

**۱۶- گزینهی (۳)** داریم  $\sin x \neq 0$ ، حال با این شرط می‌توان نوشت:

$$\sin 3x + \sin x = \sin x \Rightarrow \sin 3x = 0 \Rightarrow 3x = k\pi \Rightarrow x = \frac{k\pi}{3}$$

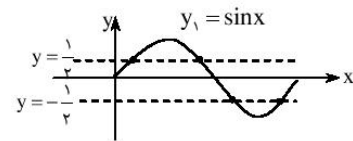
در جواب به دست آمده نباید  $k$  بر ۳ قابل قسمت باشد، چون در آن صورت:  $\sin x = 0$ ، پس دو حالت زیر ممکن است پیش بیاید:

$$۱) k = 3m + 1 \Rightarrow x = m\pi + \frac{\pi}{3} \quad ۲) k = 3m + 2 \Rightarrow x = (m+1)\pi - \frac{\pi}{3} = m'\pi - \frac{\pi}{3}$$

**۱۷- گزینهی (۴)** معادله را به صورت زیر می‌نویسیم:

$$\frac{\cos 2x}{\sqrt{2}(\cos x - \sin x)} = 0 \Rightarrow \frac{(\cos x - \sin x)(\cos x + \sin x)}{\cos x - \sin x} = 0$$

$$\xrightarrow{\cos x - \sin x \neq 0} \cos x + \sin x = 0 \Rightarrow \tan x = -1 \Rightarrow x = k\pi - \frac{\pi}{4}$$



**۱۸- گزینهی (۱)** چون  $-1 \leq \sin x \leq 1$ ، پس تنها دو تا از عبارات داخل پرانتز می‌توانند صفر باشند:

$$(\sin x - \frac{1}{2})(\sin x + \frac{1}{2}) = 0 \Rightarrow \sin x = \pm \frac{1}{2}$$

مطابق شکل در فاصله‌ی  $(0, 2\pi)$ ، دو معادله روی هم ۴ ریشه دارند.

**۱۹- گزینهی (۲)** با نوشتن تانژانت‌ها برحسب سینوس و کسینوس داریم:

$$\frac{\sin x}{\cos x} \times \frac{\sin 2x}{\cos 2x} - \sin x \sin 2x = 0 \Rightarrow \sin x \sin 2x \left( \frac{1}{\cos x \cos 2x} - 1 \right) = 0 \Rightarrow \sin x \sin 2x = 0 \text{ یا } \cos x \cos 2x = 1$$

ریشه‌های معادله‌ی  $\sin x \sin 2x = 0$  در فاصله‌ی  $[\frac{\pi}{4}, \frac{9\pi}{4}]$  را به دست می‌آوریم:

$$\sin x = 0 \Rightarrow \{\pi, 2\pi\} \quad \sin 2x = 0 \Rightarrow \{\frac{\pi}{2}, \pi, \frac{3\pi}{2}, 2\pi\}$$

برای حل معادله‌ی  $\cos x \cos 2x = 1$  دقت کنید که این تساوی تنها وقتی برقرار است که مقادیر  $\cos x$  و  $\cos 2x$  یا هر دو ۱ باشند یا هر دو -۱. زیرا همواره  $-1 \leq \cos x$ ،  $\cos 2x \leq 1$ . همچنین اگر  $\cos x = \pm 1$ ، آن‌گاه  $\cos 2x = 2\cos^2 x - 1 = 1$ ، پس حالت هر دو برابر -۱ امکان ندارد. برای حالت دیگر نیز تنها کافی است ریشه‌های معادله‌ی  $\cos x = 1$  را بررسی کنیم:

$$\cos x = 1 \Rightarrow x = 2k\pi \xrightarrow{\text{در فاصله‌ی موردنظر}} 2\pi$$

**۲۰- گزینهی (۴)** با توجه به دو نامساوی:  $\cos x + \cos 2x + \cos 3x \leq 3$  و  $3 \leq 3 + \sin^2 x \leq 4$ ، تنها در حالتی دو عبارت می‌توانند مساوی باشند که هم‌زمان داشته باشیم:  $\sin x = 0$ ،  $\cos x = \cos 2x = \cos 3x = 1$ ،

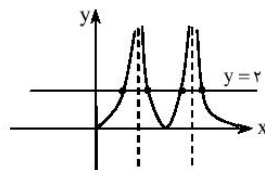
می‌دانیم وقتی  $\cos x = 1$ ، داریم:  $\sin x = 0$  و  $\cos 2x = 1$ ، و علاوه بر آن:  $\cos 3x = 4\cos^3 x - 3\cos x = 1$ ، پس نیازی به بررسی ریشه‌های معادلات دیگر نیست، و تنها باید جواب‌های  $\cos x = 1$  را به دست بیاوریم:  $x = 2\pi, 4\pi \leftarrow x = 2k\pi$

**۲۱- گزینهی (۳)** معادله را به صورت زیر می‌نویسیم:

$$-\cos 2x = 1 - \tan^2 x \Rightarrow \frac{1 - \tan^2 x}{1 + \tan^2 x} = 1 - \tan^2 x \Rightarrow (1 - \tan^2 x) \left( 1 + \frac{1}{1 + \tan^2 x} \right) = 0$$

$$\Rightarrow \tan^2 x = 1 \Rightarrow \tan x = \pm 1 \Rightarrow x = k\pi \pm \frac{\pi}{4} \Rightarrow x = k\frac{\pi}{2} + \frac{\pi}{4}$$

**۲۲- گزینهی (۳)** با نوشتن کتانژانت برحسب تانژانت داریم:



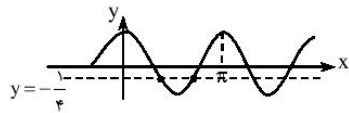
$$\tan^2 x - \frac{2}{\tan^2 x} = 1 \xrightarrow{\tan^2 x = t} t - \frac{2}{t} = 1 \Rightarrow t^2 - t - 2 = 0$$

$$\Rightarrow (t+1)(t-2) = 0 \xrightarrow{t > 0} t = 2$$

برای به دست آوردن تعداد ریشه‌های  $\tan^2 x = 2$ ، نمودار تابع  $y = \tan^2 x$  را با خط  $y = 2$  تقاطع می‌دهیم.

۳۳- گزینه‌ی (۱) معادله را به صورت زیر می‌نویسیم:

$$\sin^2 x - \cos^2 x = \frac{1}{4} \Rightarrow \cos 2x = -\frac{1}{4}$$



نمودار تابع  $y = \cos 2x$  را در بازه‌ی  $[0, \pi]$  رسم کرده با خط  $y = -\frac{1}{4}$  تقاطع می‌دهیم:

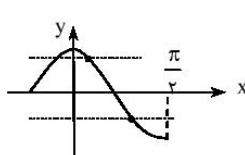
۳۴- گزینه‌ی (۳) معادله‌ی درجه‌ی دوم برحسب  $\sin x$  را حل می‌کنیم:

$$\sin^2 x - 2(1+a)\sin x + 4a = 0 \Rightarrow \sin x = \frac{2(1+a) \pm \sqrt{4(a-1)^2}}{2} = (1+a) \pm |a-1|$$

اگر  $a \geq 1$ ، نتیجه می‌گیریم:  $|a-1| = a-1$ ، بنابراین:  $\sin x = 2$  یا  $\sin x = 2a$ ، که در هر حالت  $\sin x \geq 2$  و معادله ریشه‌ای ندارد. اگر  $a < 1$ ، باز هم همان نتایج برای  $\sin x$  به دست می‌آید. ولی این بار معادله‌ی  $\sin x = 2a$  شاید جواب داشته باشد. با توجه به شرط مسأله داریم:

$$\frac{\pi}{6} < x < \frac{5\pi}{6} \Rightarrow \frac{1}{2} < \sin x \leq 1 \Rightarrow \frac{1}{2} < 2a \leq 1 \Rightarrow a \in \left(\frac{1}{4}, \frac{1}{2}\right]$$

۳۵- گزینه‌ی (۶) از این‌که  $\cos 4x = 2\cos^2 2x - 1$  داریم:



$$1 + \cos 2x = 4(2\cos^2 2x - 1) \Rightarrow 8\cos^2 2x - \cos 2x - 5 = 0 \Rightarrow \cos 2x = \frac{1 \pm \sqrt{161}}{16}$$

می‌توان به راحتی نشان داد که:  $0 < \frac{1 + \sqrt{161}}{16} < 1$  و  $-1 < \frac{1 - \sqrt{161}}{16} < 0$ . نمودار  $y = \cos 2x$  را در

$(0, \frac{\pi}{2})$  رسم کرده، با خطوط تقاطع دهید. دو نقطه‌ی برخورد به دست می‌آید.

۳۶- گزینه‌ی (۳) با تبدیل جمع به ضرب داریم:

$$\cos x + \cos 2x + \cos 3x = 2\cos 2x \cos x + \cos 2x = \cos 2x(1 + 2\cos x) = 0$$

$$\Rightarrow \cos 2x = 0 \text{ یا } \cos x = -\frac{1}{2} \Rightarrow \begin{cases} 2x = k\pi + \frac{\pi}{2} \Rightarrow x = \frac{k\pi}{2} + \frac{\pi}{4} \rightarrow \{\frac{\pi}{4}, \frac{3\pi}{4}\} \\ x = 2k\pi \pm \frac{2\pi}{3} \rightarrow \{\frac{2\pi}{3}\} \end{cases}$$

۳۷- گزینه‌ی (۶) می‌دانیم  $\tan(\frac{3\pi}{4} - x) = \cot x$ ، بنابراین:

$$\tan(x + \alpha) \cot x = 1 \Rightarrow \tan(x + \alpha) = \tan x$$

$$\Rightarrow x + \alpha = k\pi + x \Rightarrow \alpha = k\pi \Rightarrow \sin(2\alpha - \frac{\pi}{6}) = \sin(2k\pi - \frac{\pi}{6}) = \sin(-\frac{\pi}{6}) = -\frac{1}{2}$$

۳۸- گزینه‌ی (۳) از اتحادها استفاده می‌کنیم:

$$\tan x + \cot x = 2\sqrt{2} \Rightarrow \frac{2}{\sin 2x} = 2\sqrt{2} \Rightarrow \sin 2x = \frac{1}{\sqrt{2}} \Rightarrow 2x \in \{2k\pi + \frac{\pi}{4}, 2k\pi + \frac{3\pi}{4}\} \Rightarrow x \in \{k\pi + \frac{\pi}{8}, k\pi + \frac{3\pi}{8}\}$$

۳۹- گزینه‌ی (۳) می‌دانیم همواره:

$$\cos^2 x, \cos^6 x \leq 1 \Rightarrow \cos^2 x + \cos^6 x \leq 2 \Rightarrow \cos^2 x + \cos^6 x - 2 \leq 0$$

بنابراین وقتی تساوی برقرار است که  $\cos^6 x = \cos^2 x = 1$ ، یعنی  $\cos x = \pm 1$ . تنها ریشه‌ی معادله در بازه‌ی مفروض  $x = \pi$  است.

۴۰- گزینه‌ی (۴) با جای‌گذاری  $\sin^2 x = 1 - \cos^2 x$  داریم:

$$2(1 - \cos^2 x) = 3\cos x \Rightarrow 2\cos^2 x + 3\cos x - 2 = 0 \Rightarrow (2\cos x - 1)(\cos x + 2) = 0 \Rightarrow \cos x = \frac{1}{2} \Rightarrow x = 2k\pi \pm \frac{\pi}{3}$$

۴۱- گزینه‌ی (۴) با استفاده از اتحادها داریم:

$$\frac{1 - \cos 2x}{\sin 2x} = \frac{2\sin^2 x}{2\sin x \cos x} = \tan x \xrightarrow{\text{از معادله}} \tan x = \sqrt{2} \Rightarrow x = k\pi + \frac{\pi}{4}$$

۴۲- گزینه‌ی (۳) معادله‌ی اصلی به دو معادله‌ی دیگر تبدیل می‌شود:

$$\begin{aligned} \cos 2x = 0 &\Rightarrow 2x = k\pi + \frac{\pi}{2} \Rightarrow x = \frac{(2k+1)\pi}{4} \rightarrow \{\frac{\pi}{4}, \frac{3\pi}{4}, \frac{5\pi}{4}, \frac{7\pi}{4}, \frac{9\pi}{4}, \frac{11\pi}{4}, \frac{13\pi}{4}, \frac{15\pi}{4}\} \\ \cos 3x = 0 &\Rightarrow 3x = k\pi + \frac{\pi}{2} \Rightarrow x = \frac{(2k+1)\pi}{6} \end{aligned}$$



**۳۳- گزینه‌ی (ب)** معادله را به این شکل بازنویسی می‌کنیم:  $2 \sin x (\cos x \cos 2x \cos 4x - 1) = 0$

اگر  $\sin x = 0$  که معادله دارای جواب‌های  $\{0, \pi, 2\pi\}$  است. در غیر این صورت داریم:  $\cos x \cos 2x \cos 4x = 1$  که طبق آن حاصل ضرب سه مقدار بین ۱ و -۱، برابر ۱ شده است. مانند بحث‌های مشابهی که پیش از این داشته‌ایم، باید هر سه مقدار برابر ۱ یا -۱ باشند. ولی می‌دانیم اگر  $\cos x = \pm 1$ ، داریم:  $\sin x = 0$ ، پس ریشه‌های این حالت را پیش از این پیدا کرده‌ایم.

**۳۴- گزینه‌ی (ا)** می‌دانیم  $\sin(\frac{\pi}{4} + x) = \cos x$ ،  $\sin(\pi + x) = -\sin x$  و  $\sin \frac{5\pi}{6} = \frac{1}{2}$ ، بنابراین:

$$\frac{1}{2} - \sin x \cos x = 0 \Rightarrow 2 \sin x \cos x = 1 \Rightarrow \sin 2x = 1 \Rightarrow 2x = 2k\pi + \frac{\pi}{2} \Rightarrow x = k\pi + \frac{\pi}{4}$$

**۳۵- گزینه‌ی (ب)** سمت چپ تساوی همان  $(\sin x + \cos x)^2$  است. پس باید تعداد جواب‌های

معادله  $\sin x + \cos x = \frac{1}{\sqrt{2}}$  را بیابیم. با توجه به آن که  $\sin x + \cos x = \sqrt{2} \sin(x + \frac{\pi}{4})$

نمودار  $y = \sin x + \cos x$  در فاصله‌ی  $[\frac{\pi}{4}, \frac{3\pi}{4}]$  مانند شکل روبه‌رو می‌شود. واضح است که خط

$y = \frac{1}{\sqrt{2}}$  این نمودار را در فاصله‌ی  $[\frac{\pi}{4}, \frac{3\pi}{4}]$  تنها در یک نقطه قطع می‌کند.

**۳۶- گزینه‌ی (ب)** با توجه به روابط تبدیل جمع به ضرب داریم:

$$\sin x + \sin 3x = 2 \sin 2x \cos x \Rightarrow \frac{2 \sin 2x \cos x}{\cos x} = 1 \Rightarrow \sin 2x = \frac{1}{2}, \cos x \neq 0$$

چون  $0 < 2x < 4\pi$ ، مقدار برای  $2x$  وجود دارد که  $\sin 2x = \frac{1}{2}$ .

**۳۷- گزینه‌ی (ب)** می‌دانیم بیش‌ترین مقدار  $\cos^4 x$  برابر ۱ و کم‌ترین مقدار  $1 + \sqrt{\sin x}$  نیز برابر ۱ است. پس وقتی دو طرف با هم برابر می‌شوند که هر دو برابر ۱ باشند. در این صورت  $\sin x = 0$  و  $\cos x = \pm 1$ . در فاصله‌ی موردنظر، برای  $x_1 = \pi$ ،  $x_2 = 2\pi$  و  $x_3 = 3\pi$  این شرایط برقرار است.

**۳۸- گزینه‌ی (ب)** دو زاویه‌ی  $\frac{\pi}{4} + x$  و  $\frac{\pi}{4} - x$  متمم‌اند، پس  $\tan(\frac{\pi}{4} - x) = \cot(x + \frac{\pi}{4})$ ، بنابراین معادله به صورت

$$\tan(x + \frac{\pi}{4}) - \cot(x + \frac{\pi}{4}) = 2\sqrt{3}$$

$$-2 \cot(2x + \frac{\pi}{4}) = 2\sqrt{3} \Rightarrow \cot(2x + \frac{\pi}{4}) = -\sqrt{3} \Rightarrow -\tan 2x = -\sqrt{3} \Rightarrow 2x = k\pi + \frac{\pi}{3} \Rightarrow x = \frac{k\pi}{2} + \frac{\pi}{6}$$



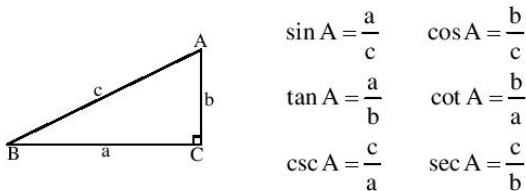
## مثلثات

### ۳-۱: توابع مثلثاتی

بحث مثلثات یکی از بحث‌های بسیار مهم ریاضی است که اهمیت ویژه‌ای در حساب دیفرانسیل و انتگرال و علوم مهندسی دارد. شما در درس ریاضی (۱) با تعریف نسبت‌های مثلثاتی و بعضی از اتحادهای مقدماتی مربوط به آن‌ها آشنا شده‌اید. در درس ریاضی (۲) نیز دایره‌ی مثلثاتی و کاربردهای مثلثات در مسائل هندسی را آموخته‌اید. به این ترتیب حال آماده‌اید که با مثلثات به شکل مجرد و جبری‌تر از سال‌های قبل روبه‌رو شوید. در این بخش ضمن مروری کوتاه و مختصر بر آنچه پیش از این آموخته‌اید، چهار تابع اصلی مثلثاتی و نمودار آن‌ها را یاد می‌گیریم و اتحادهای مقدماتی را خواهیم آموخت.

#### تعریف نسبت‌های مثلثاتی برای زوایای حاده

مثلث قائم‌الزاویه ABC را با زاویه‌ی قائم  $\hat{C}$  و اضلاع  $a$ ،  $b$  و  $c$  در نظر بگیرید. از روی این شکل نسبت‌های سینوس (sin) و کسینوس (cos)، تانژانت (tan) و کتانژانت (cot)، سکانت (sec) و کسکانت (csc) به صورت زیر تعریف می‌شوند:



#### ارتباط بین نسبت‌ها

با استفاده از تعریف اولیه‌ی نسبت‌های مثلثاتی می‌توان رابطه‌ی بین آن‌ها را پیدا کرد:

$$\tan \alpha = \frac{\sin \alpha}{\cos \alpha}, \quad \cot \alpha = \frac{\cos \alpha}{\sin \alpha}$$

$$\sec \alpha = \frac{1}{\cos \alpha}, \quad \csc \alpha = \frac{1}{\sin \alpha}$$

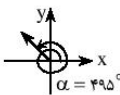
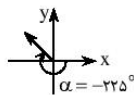
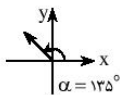
همچنین با استفاده از رابطه‌ی فیثاغورث و استفاده از اولین تساوی فوق دو اتحاد بدیهی زیر به دست می‌آید:

$$۱) \sin^2 \alpha + \cos^2 \alpha = ۱$$

$$۲) \tan \alpha \cdot \cot \alpha = ۱$$

#### زاویه‌ی مثلثاتی

در مثلثات ما فقط با زاویه‌های حاده سروکار نداریم. برای این منظور، مفهوم زاویه را به شکل جبری گسترش می‌دهیم. چنانچه می‌دانید، در صفحه‌ی مختصات یک زاویه‌ی استاندارد با جهت چرخش و میزان چرخش یک نیم‌خط مشخص می‌شود. حرکت در خلاف جهت عقربه‌های ساعت (پاد ساعتگرد) با علامت + و در جهت ساعتگرد با علامت - مشخص می‌شود. میزان چرخش نیز اندازه‌ی عددی زاویه را تعیین می‌کند. در شکل‌های زیر سه زاویه‌ی مختلف را مشخص کرده‌ایم که همگی با یک نیم‌خط مشخص شده‌اند (میزان چرخش از محور  $x$  ها تا نیم‌خط در نظر گرفته می‌شود).



<sup>۱</sup> - نسبت‌های مثلثاتی سکانت و کسکانت کاربرد زیادی ندارند. در این‌جا فقط برای کامل بودن بحث به آن‌ها اشاره کرده‌ایم.

### واحد رادیان

در حساب دیفرانسیل و انتگرال، برخلاف هندسه معمولاً برای زاویه از واحد رادیان استفاده می‌کنیم. در مباحث حد و مشتق در توابع مثلثاتی و فرمول‌های آن‌ها، زاویه‌ها برحسب رادیان هستند. به‌طور کلی اگر در مسأله‌ای عددی بدون علامت درجه برای اندازه‌ی یک زاویه دیدید، آن را بر حسب رادیان باید در نظر بگیرید.

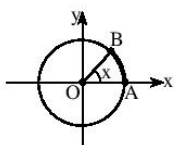
**یادآوری:** اگر زاویه‌ای برحسب درجه اندازه‌ی  $D$  و برحسب رادیان اندازه‌ی  $R$  داشته باشد، این دو عدد را می‌توانیم با رابطه‌ی

$$\frac{D}{180} = \frac{R}{\pi}$$

به هم مربوط سازیم.

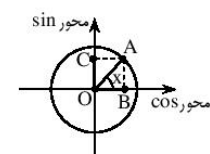
◀ **مثال:** زاویه‌ی  $270^\circ$  برحسب رادیان برابر است با:  $\pi \times \frac{270}{180} = \frac{3\pi}{2}$  رادیان.

### دایره‌ی مثلثاتی



با استفاده از دایره‌ی مثلثاتی می‌توانیم مقادیر نسبت‌های مثلثاتی را برای هر زاویه‌ی مثلثاتی (نه فقط زاویه‌های حاده) بیابیم. منظور از دایره‌ی مثلثاتی، دایره‌ای به شعاع ۱ و به مرکز مبدأ مختصات است که محورهای  $x$  و  $y$  دو قطر آن هستند. با توجه به آن که شعاع دایره ۱ است، پس طول کمان  $AB$ ، از نظر عددی با اندازه‌ی زاویه‌ی مقابل آن (یعنی  $x$ ) برابر است.

### محورهای سینوس و کسینوس

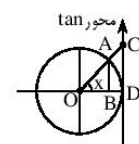


می‌توانیم دو محور عمودی قطر دایره را به‌عنوان محورهای  $\sin x$  و  $\cos x$  در نظر بگیریم. به این ترتیب برای به‌دست آوردن سینوس و کسینوس یک زاویه مانند  $x$ ، کافی است از نقطه‌ی انتهایی کمان متناظر آن روی دایره (یعنی نقطه‌ی  $A$  در شکل) به این دو محور خط‌هایی عمود کنیم. پله‌های عمود مقادیر  $\sin x$  و  $\cos x$  را نشان می‌دهند. برای زاویه‌های حاده مانند شکل بالا، به راحتی می‌توان نشان داد که این تعریف با تعریف اولیه‌ی نسبت‌ها سازگار است. چون  $OA = 1$  و در مثلث قائم‌الزاویه  $OAB$  داریم:  $\cos x = \frac{OB}{OA}$ . با توجه به  $OA = 1$  نتیجه می‌گیریم  $OB = \cos x$ .

◀ **نکته:** با توجه به تعریف بالا اگر انتهایی کمان  $x$  در یکی از چهار ربع دایره باشد، می‌توانیم علامت نسبت‌ها را به راحتی تعیین کنیم:

انتهای کمان متناظر $x$	ربع اول	ربع دوم	ربع سوم	ربع چهارم
$\sin x$	+	+	-	-
$\cos x$	+	-	-	+

### محورهای تانژانت و کتانژانت



برای دایره‌ی مثلثاتی می‌توانیم خطی مماس بر دایره مطابق شکل رسم کنیم و آن را محور تانژانت در نظر بگیریم. به این ترتیب برای به‌دست آوردن تانژانت یک زاویه مانند  $x$  کافی است نیم‌خط آن زاویه را امتداد دهیم تا محور را در نقطه‌ای قطع کند (در شکل نقطه‌ی  $C$ ). این نقطه همان  $\tan x$  را روی محور نشان می‌دهد. برای توجیه دقت کنید  $AB = \sin x$  و  $OB = \cos x$ . از طرفی طبق قضیه‌ی تالس در مثلث  $OCD$  داریم:

$$\frac{AB}{CD} = \frac{OB}{OD} \xrightarrow{OD=1} \frac{AB}{CD} = OB \Rightarrow CD = \frac{AB}{OB} \Rightarrow CD = \frac{\sin x}{\cos x} \Rightarrow CD = \tan x$$

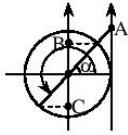
شبهه محور تانژانت، می‌توانیم خطی مماس بر دایره مانند شکل روبه‌رو رسم کنیم و آن را محور کتانژانت در نظر بگیریم. برای پیدا کردن کتانژانت هر زاویه کافی است نیم‌خط آن زاویه را امتداد دهیم تا محور را قطع کند. به این ترتیب نقطه‌ی قطع شده، مقدار  $\cot x$  را نشان می‌دهد.

برای تمرین با روش مشابه روش ما برای تانژانت، در شکل روبه‌رو نشان دهید که  $\cot x = -CD$ . (چرا از علامت - استفاده کرده‌ایم؟)



◀ **نکته:** با توجه به محور تانژانت واضح است که اگر  $n \in \mathbb{Z}$ ، آن گاه  $\tan(n\pi + \frac{\pi}{4})$  تعریف نشده است، زیرا نیم‌خط زاویه با محور تانژانت موازی می‌شود. به همین ترتیب  $\cot(n\pi)$  نیز تعریف نشده است.

### روابط بین نسبت‌های مثلثاتی بر اساس دایره‌ی مثلثاتی



با استفاده از دایره‌ی مثلثاتی می‌توانیم به راحتی ارتباط بین نسبت‌های مثلثاتی زوایایی چون  $\alpha$ ،  $\pi \pm \alpha$ ،  $\frac{\pi}{4} \pm \alpha$  و ... را به دست آوریم.

برای مثال زاویه‌ی  $\alpha$  و  $\pi + \alpha$  را در نظر بگیرید. انتهای کمان این دو زاویه نسبت به مبدأ متقارن است. مثلاً با توجه به شکل، اگر نیم‌خط‌های این دو زاویه را امتداد دهیم هر دو در یک نقطه محور تانژانت را قطع می‌کنند (نقطه‌ی A در شکل)، پس  $\tan(\pi + \alpha) = \tan \alpha$ .

به همین ترتیب، می‌بینید که پای عمودهای انتهای کمان‌ها بر محور سینوس‌ها دو نقطه‌ی قرینه می‌شود (نقاط B و C)، پس  $\sin(\pi + \alpha) = -\sin \alpha$ .

با استفاده از دایره‌ی مثلثاتی روابط متنوعی از این نوع می‌توانیم به دست آوریم که مهم‌ترین آن‌ها در نکته‌ی زیر آمده است (اثبات آن‌ها به خودتان واگذار شده است).

#### نکته:

برای هر زاویه‌ی  $\alpha$  و هر عدد صحیح  $n$  روابط زیر برقرار است:

۱- تمام نسبت‌های مثلثاتی  $\alpha$  و  $2n\pi + \alpha$  کاملاً یکسان‌اند.

۲- داریم:  $\sin(n\pi + \alpha) = (-1)^n \sin \alpha$  و  $\cos(n\pi + \alpha) = (-1)^n \cos \alpha$ .

همچنین داریم:  $\tan(n\pi + \alpha) = \tan \alpha$  و  $\cot(n\pi + \alpha) = \cot \alpha$ .

۳- داریم:  $\cos(-\alpha) = \cos \alpha$ ، ولی سه نسبت دیگر زاویه‌های  $\alpha$  و  $-\alpha$  قرینه‌اند.

۴- داریم:  $\sin(\pi - \alpha) = \sin \alpha$ ، ولی سه نسبت دیگر زاویه‌های  $\alpha$  و  $\pi - \alpha$  قرینه‌اند.

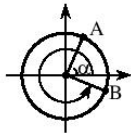
◀ **نکته:** توصیه می‌کنیم که از حفظ کردن روابط بالا خودداری کنید. با هر بار رجوع به دایره‌ی مثلثاتی، هر چند در ابتدا سرعت کمی دارید، ولی به مرور بر این روابط به خودی‌خود مسلط می‌شوید و البته هیچ‌وقت آن‌ها را فراموش نمی‌کنید.

#### نکته:

ارتباط نسبت‌های مثلثاتی  $\alpha$  و  $n\frac{\pi}{4} \pm \alpha$  ( $n$  عدد فرد)

در این موارد جای سینوس و کسینوس (و همچنین تانژانت و کتانژانت) در دو زاویه عوض می‌شود. ممکن است علاوه بر تعویض، علامت هم عوض شود که تغییر علامت را با توجه به جایگاه زاویه در دایره‌ی مثلثاتی می‌توان متوجه شد.

◀ **مثال:** فرض کنید می‌خواهیم ارتباط نسبت‌های مثلثاتی  $\alpha$  و  $\frac{3\pi}{4} + \alpha$  را به دست آوریم.



برای  $\sin(\frac{3\pi}{4} + \alpha)$  می‌دانیم باید از  $\cos \alpha$  استفاده کنیم (تغییر sin و cos)، همچنین با توجه به شکل برای یک

زاویه‌ی مثالی  $\alpha$ ،  $\cos \alpha$  مثبت و  $\sin(\frac{3\pi}{4} + \alpha)$  منفی است. بنابراین:  $\sin(\frac{3\pi}{4} + \alpha) = -\cos \alpha$

با استدلالی مشابه نتیجه می‌گیریم  $\cos(\frac{3\pi}{4} + \alpha) = \sin \alpha$  (چرا این‌جا علامت منفی نداریم؟)، همچنین

$\tan(\frac{3\pi}{4} + \alpha) = -\cot \alpha$  و  $\cot(\frac{3\pi}{4} + \alpha) = -\tan \alpha$ .

○ **مسئله‌ی (۱):** حاصل هر یک از عبارات زیر را بیابید.

$$B = \sin(\frac{n\pi}{4}) + \cos(\frac{n\pi}{4}) \quad (n \in \mathbb{N})$$

$$A = 2 \cos(-\frac{125\pi}{4}) + 3 \tan(\frac{125\pi}{4}) + 4 \cot(-\frac{125\pi}{4}) \quad (\text{الف})$$

**هله الف)** با توجه به دایره‌ی مثلثاتی داریم:  $\cot(-\alpha) = -\cot \alpha$  و  $\cos(-\alpha) = \cos \alpha$ . در نتیجه:

$$A = 2 \cos\left(3\pi + \frac{\pi}{4}\right) + 3 \tan\left(3\pi + \frac{\pi}{4}\right) - 4 \cot\left(3\pi + \frac{\pi}{4}\right)$$

$$= 2 \times (-1)^3 \cos\left(\frac{\pi}{4}\right) + 3 \tan\left(\frac{\pi}{4}\right) - 4 \cot\left(\frac{\pi}{4}\right) = 2 \times (-1)^3 \times \frac{1}{\sqrt{2}} + 3 \times 1 - 4 \times 1 = -\sqrt{2} - 1$$

**ب)** مسأله را به دو حالت تقسیم می‌کنیم (حالت زوج بودن  $n$  و حالت فرد بودن  $n$ ):

$$1) n = 2k \rightarrow B = \sin k\pi + \cos k\pi = 0 + (-1)^k = (-1)^k$$

$$2) n = 2k + 1 \rightarrow B = \sin\left(k\pi + \frac{\pi}{2}\right) + \cos\left(k\pi + \frac{\pi}{2}\right) = (-1)^k + 0 = (-1)^k$$

**نتیجه:** با توجه به این‌که در هر دو حالت  $n = 2k$  و  $n = 2k + 1$ ، داریم  $k = \lfloor \frac{n}{2} \rfloor$ ، پس می‌توان دو نتیجه‌ی بالا را به صورت زیر با هم ترکیب کرد:

$$\sin\left(\frac{n\pi}{2}\right) + \cos\left(\frac{n\pi}{2}\right) = (-1)^{\lfloor \frac{n}{2} \rfloor}$$

### ◆ اتحادهای مثلثاتی مقدماتی

با استفاده از دو رابطه‌ی اصلی  $\sin^2 \alpha + \cos^2 \alpha = 1$  و  $\tan \alpha \cot \alpha = 1$  و ارتباط مقدماتی بین نسبت‌های مثلثاتی می‌توانیم چند اتحاد ساده و پرکاربرد را به دست آوریم: (اثبات این اتحادهای ساده را به خودتان واگذار می‌کنیم)

$$1) 1 + \tan^2 \alpha = \frac{1}{\cos^2 \alpha} \quad 2) 1 + \cot^2 \alpha = \frac{1}{\sin^2 \alpha}$$

$$3) \cos^2 \alpha = \frac{1}{1 + \tan^2 \alpha} \quad 4) \sin^2 \alpha = \frac{\tan^2 \alpha}{1 + \tan^2 \alpha}$$

○ **مسأله‌ی (۲):** هر یک از اتحادهای زیر را ثابت کنید.

$$\frac{(1 - \sin x \cos x)(1 + \sin x \cos x) - \sin^2 x \cos^2 x}{\cos^2 x + \sin^2 x} = 1 \quad \text{الف)}$$

$$\frac{\sin^2 x + \cos^2 x}{\sin x + \cos x} = 1 - \sin x \cos x \quad \text{ب)}$$

$$\frac{\sin^2 x}{1 + \tan^2 x} - \frac{\cos^2 x}{1 + \cot^2 x} + \sec^2 x = 1 + \tan^2 x \quad \text{پ)}$$

$$\frac{2(1 - \sin^2 x - \cos^2 x)}{\sin x + \cos x + 2} = (1 - \sin x - \cos x)^2 \quad \text{ت)}$$

**هله الف)** از یک طرف تساوی (در این مثال طرف چپ که آن را  $A$  می‌نامیم) شروع می‌کنیم و با ساده‌کردن آن به طرف دیگر می‌رسیم:

$$A = \frac{1 - \sin^2 x \cos^2 x - \sin^2 x \cos^2 x}{\sin^2 x + \cos^2 x} = \frac{1 - 2 \sin^2 x \cos^2 x}{\sin^2 x + \cos^2 x}$$

حال با توجه به  $\sin^2 x + \cos^2 x = 1$  داریم:

$$A = \frac{(\sin^2 x + \cos^2 x)^2 - 2 \sin^2 x \cos^2 x}{\sin^2 x + \cos^2 x} = \frac{\sin^2 x + \cos^2 x}{\sin^2 x + \cos^2 x} = 1$$

**ب)** طبق اتحاد چاق و لاغر می‌توان نوشت:

$$\sin^2 x + \cos^2 x = (\sin x + \cos x)(\sin^2 x - \sin x \cos x + \cos^2 x)$$

$$\Rightarrow \sin^2 x + \cos^2 x = (\sin x + \cos x)(1 - \sin x \cos x)$$

با تقسیم دو طرف تساوی بر  $\sin x + \cos x$  اتحاد ثابت می‌شود.





**پ)** ابتدا با ساده کردن دو جزء از مجموع سمت چپ تساوی داریم:

$$\frac{\sin^2 x}{1 + \tan^2 x} - \frac{\cos^2 x}{1 + \cot^2 x} = \frac{\sin^2 x}{\frac{1}{\cos^2 x}} - \frac{\cos^2 x}{\frac{1}{\sin^2 x}} = (\sin x \cos x)^2 - (\sin x \cos x)^2 = 0$$

بنابراین طرف چپ برابر است با:

$$0 + \sec^2 x = \frac{1}{\cos^2 x} = 1 + \tan^2 x$$

**ت)** فرض می‌کنیم  $\sin x + \cos x = t$  و  $\sin^2 x + \cos^2 x = 1$  می‌یابیم. داریم:

$$t^2 = (\sin x + \cos x)^2 = 1 + 2 \sin x \cos x \Rightarrow \sin x \cos x = \frac{t^2 - 1}{2}$$

از طرفی مانند قسمت (ب) می‌توان ثابت کرد:

$$\sin^2 x + \cos^2 x = (\sin x + \cos x)(1 - \sin x \cos x) \Rightarrow \sin^2 x + \cos^2 x = t \left(1 - \frac{t^2 - 1}{2}\right) = \frac{t}{2}(3 - t^2)$$

به این ترتیب با شروع از طرف چپ تساوی داریم:

$$\frac{2(1 - (\sin^2 x + \cos^2 x))}{\sin x + \cos x + 2} = \frac{2(1 - \frac{t}{2}(3 - t^2))}{t + 2} = \frac{2 - 3t + t^3}{t + 2} = \frac{(t + 2)(t^2 - 2t + 1)}{t + 2} = (t - 1)^2 = (\sin x + \cos x - 1)^2$$

**تست (۱):** حاصل عبارت  $\frac{\sin^2 x + \cos^2 x}{\sin^2 x \cos^2 x} - (\tan x + \cot x)^2$  کدام است؟ (آزاد - ۸۳)

(۱) -۲ (۲) ۲ (۳) -۱ (۴) صفر

**حل:** با استفاده از تساوی  $\sin^2 x + \cos^2 x = 1 - 2 \sin^2 x \cos^2 x$  داریم:

$$\begin{aligned} \frac{\sin^2 x + \cos^2 x}{\sin^2 x \cos^2 x} - (\tan x + \cot x)^2 &= \frac{1 - 2 \sin^2 x \cos^2 x}{\sin^2 x \cos^2 x} - \left(\frac{\sin^2 x + \cos^2 x}{\sin x \cos x}\right)^2 \\ &= \frac{1 - 2 \sin^2 x \cos^2 x}{\sin^2 x \cos^2 x} - \frac{1}{\sin^2 x \cos^2 x} = -2 \end{aligned}$$

بنابراین گزینه‌ی (۱) درست است.

**مسئله (۳):** اگر عبارت زیر برای تمام مقادیر  $x$  یک اتحاد باشد،  $a$  و  $b$  را بیابید.

$$(a + b \sin x - b \cos x)^2 = 2(1 - \sin x)(1 + \cos x)$$

**حل:** یک تساوی در صورتی اتحاد است که برای تمام مقادیر دامنه‌ی آن برقرار باشد.

**راه اول:** فرض کنید:  $\sin x - \cos x = t$ . در این صورت داریم (برای سادگی محاسبات قرار داده‌ایم  $\sin x \cos x = y$ ):

$$t^2 = (\sin x - \cos x)^2 = 1 - 2 \sin x \cos x = 1 - 2y$$

با جای‌گذاری این نتیجه در تساوی اولیه به‌دست می‌آوریم:

$$(a + bt)^2 = 2(1 - t - y) \Rightarrow a^2 + b^2 t^2 + 2abt = 2 - 2t - 2y \xrightarrow{t^2 = 1 - 2y} a^2 + b^2(1 - 2y) + 2abt = 2 - 2t - 2y$$

با مرتب‌کردن دو طرف تساوی به‌دست می‌آوریم:

$$a^2 + b^2 + (2ab)t + (-2b^2)y = 2 - 2t - 2y$$

برای آن که تساوی فوق یک اتحاد باشد، باید ضرایب دو طرف مساوی باشند. یعنی:

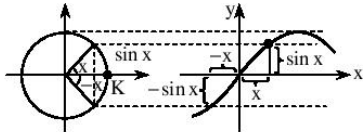
$$\{a^2 + b^2 = 2, 2ab = -2, -2b^2 = -2\} \Rightarrow (a, b) = (1, -1) \text{ یا } (-1, 1)$$

**راه دوم:** چون تساوی باید برای هر مقدار  $x$  برقرار باشد، برای  $x = 0$  و  $x = \pi$  نیز صادق است. با جای‌گذاری این مقادیر به دو معادله می‌رسیم که از حل دستگاه آن‌ها مقادیر  $a$  و  $b$  به‌دست می‌آید.

### توابع مثلثاتی

اگر ورودی یک تابع، زاویه‌ای برحسب رادیان باشد و خروجی آن یکی از نسبت‌های مثلثاتی قبل یا عبارتی شامل آن‌ها، در واقع با یک تابع مثلثاتی مواجه‌ایم. با استفاده از توابع مثلثاتی می‌توانیم بسیاری از پدیده‌های طبیعی را مدل کنیم، چرا که در بسیاری پدیده‌ها با روندی تناوبی مواجه‌ایم و چنانچه در فصل ۲ دیده‌اید، بخش مهمی از توابع متناوب، تابع‌های مثلثاتی هستند.

با استفاده از دایره‌ی مثلثاتی می‌توانیم درکی از نمودار توابع مثلثاتی داشته باشیم. برای مثال، تابع  $f(x) = \sin x$  را در نظر بگیرید. این تابع به هر زاویه‌ی  $x$ ، مقدار  $\sin x$  را نسبت می‌دهد. به شکل روبه‌رو دقت کنید.

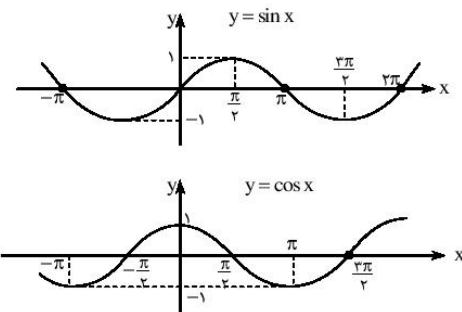


می‌بینید که چگونه  $x$ ،  $-\sin x$  و  $\sin(-x)$  را روی نمودار تابع  $f$  با طول‌های متناظر روی دایره تطبیق داده‌ایم. در واقع اگر شما از نقطه‌ی  $K$  روی دایره شروع به حرکت در خلاف جهت حرکت عقربه‌های ساعت کنید، مانند آن است که از مبدأ مختصات روی نمودار تابع  $y = \sin x$  در حال حرکت کنید. در هر لحظه فاصله‌ی عمودی شما تا محور  $x$  ها برابر فاصله‌ی عمودی شما در دایره تا محور  $x$  ها است.

با توجه به این توضیح می‌توانیم نمودار توابع مثلثاتی را رسم کنیم. در ادامه ما نمودار چهار تابع اصلی را بررسی می‌کنیم.

### توابع $y = \sin x$ و $y = \cos x$

نمودار این دو تابع را در دو شکل مقابل مشاهده می‌کنید. چنانچه می‌بینید دو نمودار شباهت‌هایی دارند. هر دو دارای بیش‌ترین مقدار ۱ و کم‌ترین مقدار -۱ هستند.



در واقع نمودار  $y = \cos x$  همان نمودار  $y = \sin x$  است که به اندازه‌ی  $\frac{\pi}{2}$  واحد به چپ انتقال یافته است. این نتیجه معادل اتحاد

$$\cos x = \sin\left(x + \frac{\pi}{2}\right)$$

### نکته:

ویژگی‌های اصلی نمودارهای  $y = \sin x$  و  $y = \cos x$

۱- هر دو نمودار بین خطوط  $y = 1$  و  $y = -1$  واقع‌اند (این دو خط بر نمودارها مماس‌اند).

۲- نمودار  $y = \sin x$  در نقاط  $x = n\pi$  و نمودار  $y = \cos x$  در نقاط  $x = n\pi + \frac{\pi}{2}$  با محور  $x$  ها برخورد می‌کنند.  $(n \in \mathbb{Z})$

۳- نمودار  $y = \sin x$  در نقاط به طول  $x = n\pi + \frac{\pi}{2}$  بر یکی از دو خط  $y = \pm 1$  مماس است و نمودار  $y = \cos x$  در نقاط به طول  $x = n\pi$ .  $(n \in \mathbb{Z})$

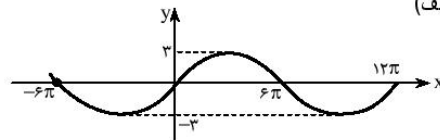
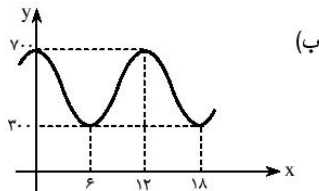
۴- دوره‌ی تناوب هر دو نمودار  $T = 2\pi$  است.

۵- تابع  $y = \sin x$  فرد است و نمودار آن نسبت به مبدأ متقارن است.

۶- تابع  $y = \cos x$  زوج است و نمودار آن نسبت به محور  $y$  ها متقارن است.



○ **مسئله (۱۴):** در شکل‌های زیر نمودار توابعی مثلثاتی رسم شده است. ضابطه‌ی آن‌ها را بیابید. (دقت کنید که مقیاس‌های دو محور مساوی نیستند!) (الف)



**هـ: الف)** نمودار تابع شبیه نمودار  $y = \sin x$  است که در جهت افقی و عمودی باز شده است. اگر قرار دهیم  $f(x) = a \sin bx$  داریم:

۱- چون بیش‌ترین و کم‌ترین مقدار تابع برابر ۳ و -۳ است، پس  $a = 3$ .

۲- چون دوره‌ی تناوب تابع  $12\pi$  است، پس  $\frac{2\pi}{|b|} = 12\pi$ ، بنابراین  $b = \frac{1}{6}$  (چرا  $b > 0$ ؟). به این ترتیب نتیجه می‌گیریم  $f(x) = 3 \sin \frac{x}{6}$ .

**ب)** نمودار تابع شبیه نمودار  $y = \cos x$  است که در جهت افقی و عمودی تغییر مقیاس داده و سپس به بالا منتقل شده است. اگر قرار دهیم  $f(x) = a \cos bx + c$  داریم:

۱- بیش‌ترین و کم‌ترین مقدار تابع از روی نمودار  $300$  و  $700$  و از روی ضابطه  $a + c$  و  $-a + c$  است، پس  $a = 200$  و  $c = 500$ .

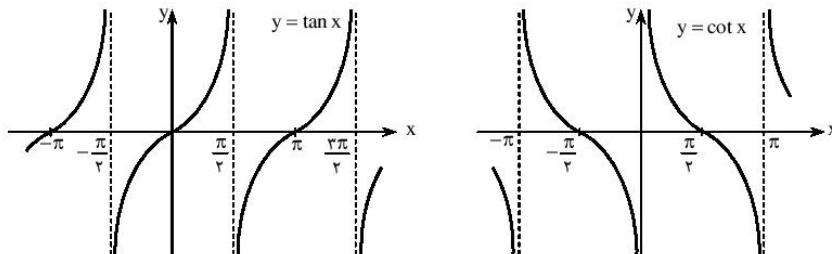
۲- دوره‌ی تناوب تابع  $12$  است، پس  $\frac{2\pi}{|b|} = 12$ ، بنابراین  $b = \frac{\pi}{6}$ .

به این ترتیب نتیجه می‌گیریم  $f(x) = 200 \cos\left(\frac{\pi}{6}x\right) + 500$ .

### توابع $y = \tan x$ و $y = \cot x$

در شکل‌های مقابل نمودار این دو تابع را رسم کرده‌ایم. چنان‌چه می‌بینید نمودار این دو تابع شبیه یکدیگر است. در واقع اگر نمودار  $y = \tan x$  را نسبت به محور لها قرینه کنیم و سپس آن را به اندازه‌ی  $\frac{\pi}{4}$  واحد به راست منتقل کنیم به نمودار  $y = \cot x$  می‌رسیم. این نتیجه معادل اتحاد

$$\cot x = \tan\left(\frac{\pi}{4} - x\right) \text{ است.}$$



از نکات قابل توجه در نمودارهای دو تابع بالا، وجود خط‌چین‌های عمودی است. می‌دانیم دامنه‌ی این توابع  $R$  نیست، به همین دلیل برای بعضی مقادیر تعریف نشده‌اند. در این مقادیر خط‌چین‌های عمودی رسم شده‌اند. اصطلاحاً به این خط‌چین‌های عمودی «مجانبات قائم» می‌گوییم. می‌بینید که وقتی به این خطوط نزدیک می‌شویم، مقدار تابع به سرعت زیاد یا به سرعت کم می‌شود (اصطلاحاً به  $+\infty$  یا  $-\infty$  میل می‌کند).

### نکته:

ویژگی‌های اصلی نمودارهای  $y = \tan x$  و  $y = \cot x$

۱- تابع  $y = \tan x$  مجانب‌های قائمی در نقاط  $x = n\pi + \frac{\pi}{2}$  دارد و تابع  $y = \cot x$  در نقاط  $x = n\pi$  (که  $n \in Z$ ). به ازای این

مقادیر توابع تعریف نشده‌اند.

۲- دوره‌ی تناوب هر دو تابع برابر  $\pi$  است.

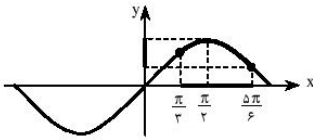
۳- در یک دوره‌ی تناوب با شروع از یک خط مجانب، تابع  $y = \tan x$  صعودی اکید و تابع  $y = \cot x$  نزولی اکید است.

۴- هر دو تابع فرد و نمودارهای آن‌ها نسبت به مبدأ مختصات متقارن هستند.

○ **مسئله‌ی (۵):** الف) اگر  $x \in (\frac{\pi}{3}, \frac{5\pi}{6})$  و  $\sin x = \frac{3-m^2}{3+m^2}$ ، مقدار  $m$  در چه فاصله‌ای قرار دارد؟

ب) اگر  $\alpha \in (\frac{\pi}{4}, \frac{3\pi}{4})$  و  $\sin 2\alpha = \frac{m}{1+2m}$ ، حدود تغییرات  $m$  را بیابید.

**هزینه الف)** به نمودار تابع  $y = \sin x$  توجه کنید:

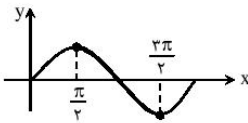


فاصله‌ی  $x \in (\frac{\pi}{3}, \frac{5\pi}{6})$  روی محور طول‌ها فاصله‌ای را مشخص می‌کند که متناظر آن روی نمودار قسمت مورد نظر پررنگ‌تر شده است. به این ترتیب محدوده‌ی تغییرات  $\sin x$  (یا همان برد تابع) نیز مشخص شده است. با توجه به این‌که  $\sin(\frac{\pi}{3}) = \frac{\sqrt{3}}{2}$  و  $\sin(\frac{5\pi}{6}) = \frac{1}{2}$ ، در این فاصله داریم:

$$\frac{1}{2} \leq \sin x \leq 1. \text{ پس باید نامعادله‌ی } \frac{1}{2} \leq \frac{3-m^2}{3+m^2} \leq 1 \text{ را حل کنیم:}$$

$$\left. \begin{aligned} \frac{1}{2} \leq \frac{3-m^2}{3+m^2} &\Rightarrow \frac{3-m^2}{3+m^2} - \frac{1}{2} \geq 0 \Rightarrow \frac{3-3m^2}{3+m^2} \geq 0 \xrightarrow{3+m^2 > 0} 3-3m^2 \geq 0 \Rightarrow |m| \leq 1 \\ \frac{3-m^2}{3+m^2} \leq 1 &\Rightarrow \frac{3-m^2}{3+m^2} - 1 \leq 0 \Rightarrow \frac{-2m^2}{3+m^2} \leq 0 \xrightarrow{3+m^2 > 0} -2m^2 \leq 0 \Rightarrow m \in \mathbb{R} \end{aligned} \right\} \Rightarrow m \in [-1, 1]$$

**ب)** داریم:  $\frac{\pi}{2} \leq 2\alpha \leq \frac{3\pi}{2}$ . این فاصله را در نمودار تابع  $y = \sin x$  پررنگ کرده‌ایم. بنابراین:

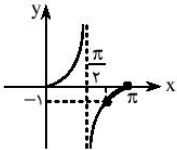


$$\begin{aligned} -1 \leq \sin 2\alpha \leq 1 &\Rightarrow \left| \frac{m}{1+2m} \right| \leq 1 \Rightarrow m^2 \leq 4m^2 + 4m + 1 \Rightarrow 3m^2 + 4m + 1 \geq 0 \\ &\Rightarrow (m+1)(3m+1) \geq 0 \Rightarrow m \in \mathbb{R} - (-1, -\frac{1}{3}) \end{aligned}$$

**گسست (۶):** با فرض  $\frac{3\pi}{4} < \alpha < \pi$  و  $\tan \alpha = \frac{2}{m-1}$ ، حدود تغییرات  $m$  کدام است؟

(۱)  $m < -1$       (۲)  $m < 1$       (۳)  $-1 < m < 1$       (۴)  $-2 < m < 2$       (۵)  $-2 < m < 2$

**هزینه:** با توجه به نمودار  $y = \tan x$ ، در فاصله‌ی  $\frac{3\pi}{4} < x < \pi$ ، داریم:  $-1 < y < 0$ . پس می‌توان نوشت:



$$\begin{aligned} -1 < \frac{2}{m-1} < 0 &\Rightarrow \begin{cases} \frac{2}{m-1} > -1 \Rightarrow \frac{m+1}{m-1} > 0 \Rightarrow m \in (-\infty, -1) \cup (1, +\infty) \\ \frac{2}{m-1} < 0 \Rightarrow m \in (-\infty, 1) \end{cases} \end{aligned}$$

اشتراک دو جواب بالا برابر است با:  $m \in (-\infty, -1)$ . بنابراین گزینه‌ی (۱) درست است.

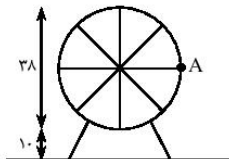
### مدل‌سازی ریاضی با توابع مثلثاتی

بسیاری از حرکت‌ها و تغییرات تناوبی را می‌توانیم با توابع مثلثاتی مدل کنیم.

○ **مسئله‌ی (۶):** پایین‌ترین نقطه‌ی یک چرخ و فلک به قطر ۳۸ متر از سطح زمین ۱۰ متر فاصله

دارد. این چرخ و فلک در هر ۸ دقیقه یک دور می‌زند. اگر در نخستین لحظه در نقطه‌ی A باشیم، با هر دور چرخش چرخ و فلک به نقطه‌ی A بازمی‌گردیم.

الف) اگر زاویه‌ی چرخش را به صورت تابعی از زمان نشان دهیم، دوره‌ی تناوب این تابع چقدر است؟  
ب) اگر ارتفاع خود از سطح زمین را یا  $h(t)$  (تابعی از زمان) نشان دهیم، ضابطه‌ی  $h(t)$  را به‌دست آورید و نمودار آن را رسم کنید.



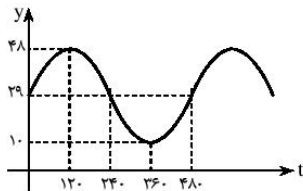


**هله الف)** در هر  $۸ \times ۶۰ = ۴۸۰$  ثانیه،  $۲\pi$  رادیان دور می‌زنیم. پس دوره‌ی تناوب  $\frac{۲\pi}{۴۸۰} = \frac{\pi}{۲۴۰}$  می‌شود.

**ب)** بیش‌ترین ارتفاع  $۳۸$  و کم‌ترین  $۱۰$  است. در لحظه‌ی اول نیز در ارتفاع  $۲۹$  متری هستیم. به این ترتیب نمودار تابع به شکل روبه‌رو می‌شود (هر ربع حرکت در  $۲$  دقیقه یا  $۱۲۰$  ثانیه طی می‌شود). می‌توانیم قرار دهیم  $h(t) = a \sin bt + c$  پس  $a + c = ۴۸$  و  $-a + c = ۱۰$ .

یعنی  $c = ۲۹$  و  $a = ۱۹$ . همچنین با توجه به دوره‌ی تناوب تابع، داریم  $\frac{۲\pi}{b} = ۴۸۰$ ، پس

$$b = \frac{\pi}{۲۴۰} \text{ به این ترتیب نتیجه می‌گیریم:}$$



$$h(t) = 19 \sin\left(\frac{\pi}{240}t\right) + 29$$

### تمرین‌های بخش ۱-۳

۱- هر یک از تساوی‌های زیر را ثابت کنید.

$$\frac{\sin ۶۰^\circ \cos ۶۰^\circ \tan ۶۰^\circ \csc ۶۰^\circ \sec ۶۰^\circ \cot ۶۰^\circ}{\sin ۸۰^\circ \cos ۸۰^\circ \tan ۸۰^\circ \csc ۸۰^\circ \sec ۸۰^\circ \cot ۸۰^\circ} = ۱ \text{ (الف)}$$

$$\sin ۲۴^\circ + \sin ۲۱^\circ + \sin ۱۸^\circ + \sin ۱۵^\circ + \sin ۱۲^\circ + \sin ۹^\circ = ۱ \text{ (ب)}$$

۲- حاصل هریک از عبارات زیر را به ساده‌ترین صورت بنویسید.

$$A = \cos\left(a + ۳\pi\right) \sin\left(a + \frac{\pi}{۴}\right) + \tan\left(a - ۵\pi\right) \cot\left(a + ۷\pi\right) \text{ (الف)}$$

$$B = \frac{\log_a(\tan ۱^\circ) + \log_a(\tan ۲^\circ) + \dots + \log_a(\tan ۸۹^\circ)}{۱ + \log_a(\tan ۱^\circ) \times \log_a(\tan ۲^\circ) \times \dots \times \log_a(\tan ۸۹^\circ)} \text{ (ب)}$$

۳- هریک از اتحادهای زیر را ثابت کنید.

$$(x \sin \theta - y \cos \theta)^2 + (x \cos \theta + y \sin \theta)^2 = x^2 + y^2 \text{ (الف)}$$

$$(r \sin \theta \cos \varphi)^2 + (r \sin \theta \sin \varphi)^2 + (r \cos \theta)^2 = r^2 \text{ (ب)}$$

$$\sin x \cos x (1 + \tan x)(1 + \cot x) = (\sin x + \cos x)^2 \text{ (پ)}$$

$$\sec^2 x - \sec^2 x = \tan^2 x + \tan^2 x \text{ (ت)}$$

$$(\sin^6 x + \cos^6 x - ۱)^2 = ۲ \sin^6 x \cos^6 x \text{ (ث)}$$

$$\frac{1}{\sin^4 x} + \frac{1}{\tan^4 x} = ۱ + ۲ \cot^2 x + ۲ \cot^4 x \text{ (ج)}$$

۴- هریک از اتحادهای زیر را ثابت کنید.

$$\left(\frac{1 + \sin x}{1 - \sin x}\right)^{\frac{1}{2}} - \left(\frac{1 - \sin x}{1 + \sin x}\right)^{\frac{1}{2}} = ۲ \tan x \text{ (الف)}$$

$$\frac{\sin x + \cos x}{\sin x - \cos x} + \frac{2 \cos^2 x - 1}{\cos^2 x (1 - \tan^2 x)} = \frac{2 \tan x}{\tan x - 1} \text{ (ب)}$$

$$\frac{1 - \cos \alpha}{(1 + \tan^2 \alpha)^2} = \frac{1}{(1 + \cos \alpha)(3 + \cot^2 \alpha + 3 \tan^2 \alpha + \tan^4 \alpha)} \text{ (پ) *}$$

$$\text{اگر } \tan \alpha = \frac{۲}{۳} \text{، حاصل } \frac{\sin\left(\alpha - \frac{\pi}{۲}\right) + \sin(3\pi + \alpha)}{\cos\left(\frac{3\pi}{۲} + \alpha\right) + \cos(\alpha - \pi)} \text{ را به دست آورید.} \text{ (ت)}$$

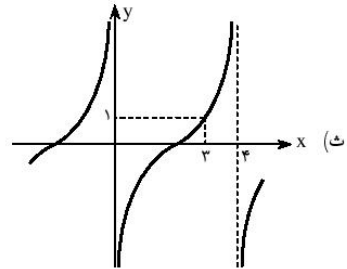
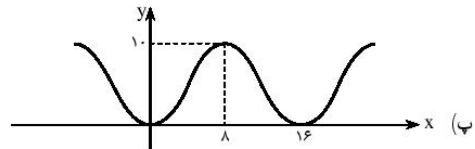
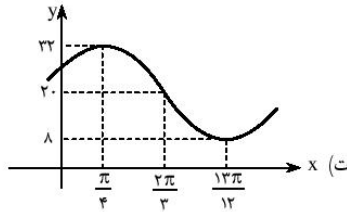
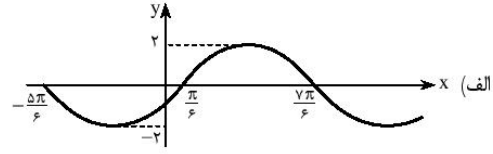
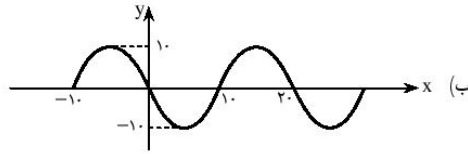
۶- اگر  $\begin{cases} \tan x + \tan y = 3 \\ \cot x + \cot y = 5 \end{cases}$ ، آن گاه حاصل  $\frac{\tan x}{\tan y} + \frac{\cot x}{\cot y}$  را به دست آورید.

۷- با فرض  $\tan\left(\frac{\pi}{1386}\right) \approx 0.002$  حاصل  $\frac{1}{1 + \tan\left(\frac{\pi}{1386}\right)} + \frac{1}{1 + \cot\left(\frac{\pi}{1386}\right)}$  را به دست آورید.

۸- مقدار  $m$  را چنان بیابید که تابع زیر، تابعی ثابت باشد.

$$F(x) = \sin^6 x + \cos^6 x + m(\sin^4 x + \cos^4 x)$$

۹- در شکل‌های زیر نمودار چند تابع مثلثاتی رسم شده است. ضابطه‌ی آن‌ها را به دست آورید. (مقیاس‌های روی محورها برابر نیستند!)



۱۰- اگر  $x \in \left(-\frac{\pi}{6}, \pi\right)$  و  $\sin x = \frac{4-m}{m+1}$ ، محدوده‌ی تغییرات  $m$  را به دست آورید.

۱۱- اگر  $\alpha \in \left(-\frac{\pi}{4}, \frac{\pi}{3}\right)$  و  $2m \cos 2\alpha - 1 = m$ ، محدوده‌ی تغییرات  $m$  را به دست آورید.

۱۲- اگر  $x \in \left(\frac{\pi}{4}, \frac{3\pi}{4}\right)$ ، برد توابع  $y = \tan x$ ،  $y = \cot x$ ،  $y = 2 \cos^3 x - 1$  و  $y = \pi \sin\left(-x + \frac{\pi}{4}\right)$  را به دست آورید.

۱۳- عمق آب در یک منطقه‌ی دریایی در ساعات مختلف شبانه روز مطابق جدول زیر تغییر می‌کند:


زمان (ساعت)	۰	۲	۴	۶	۸	۱۰	۱۲
عمق (متر)	۳/۱	۷/۸	۱۱/۳	۱۰/۹	۶/۶	۱/۷	۰/۹

می‌دانیم بیش‌ترین و کم‌ترین عمق آب را یادداشت کرده‌ایم. همچنین می‌دانیم روند تغییر عمق متناوب با مدلی مثلثاتی است.

الف) اگر عمق آب را بر حسب زمان به صورت تابع  $h(t)$  بیان کنیم، دوره‌ی تناوب و ضابطه‌ی  $h(t)$  را بیابید.

ب) اگر یک قایق برای حرکت در این منطقه به حداقل عمق ۱۰ متر آب نیاز داشته باشد، در چه ساعت‌هایی از شبانه‌روز می‌تواند در این منطقه حرکت کند؟

# توابع مثلثاتی



## پرسش‌های چهارگزینه‌ای

- ۱- اگر  $\sin \alpha = -\frac{2\sqrt{2}}{3}$  و انتهای کمان  $\alpha$  در ناحیه‌ی چهارم دایره‌ی مثلثاتی باشد، مقدار  $\sin(\frac{3\pi}{2} - \alpha)$  کدام است؟  
 (۱)  $-\frac{1}{3}$  (۲)  $\frac{1}{3}$  (۳)  $\frac{\sqrt{2}}{3}$  (۴)  $-\frac{\sqrt{2}}{3}$
- ۲- اگر  $\cot 34^\circ = 1/5$ ، حاصل  $A = \frac{2 \sin 326^\circ + 3 \sin 56^\circ}{\cos 304^\circ}$  چقدر است؟  
 (۱)  $2/5$  (۲)  $2$  (۳)  $1$  (۴)  $-1/5$
- ۳- اگر  $2 \sin x - 3 \sin y = 5$ ، حاصل  $\tan(\frac{x+y}{2})$  کدام است؟  
 (۱) صفر (۲)  $\pm 1$  (۳)  $1$  (۴)  $-1$
- ۴- با فرض  $-\frac{\pi}{9} < x < \frac{\pi}{9}$  و  $\cos 3x = \frac{m-1}{2}$ ، مقادیر  $m$  در کدام فاصله قرار می‌گیرد؟  
 (۱)  $(1, 2]$  (۲)  $(0, 2)$  (۳)  $(2, 3]$  (۴)  $[3, 4)$
- ۵- برای کدام مقدار  $A$ ، تساوی  $\tan^4 x - 1 = \frac{A}{\cos^2 x} + \frac{1}{\cos^4 x}$  برای تمام مقادیر  $x \neq n\pi + \frac{\pi}{2}$  یک اتحاد است؟  
 (۱)  $2$  (۲)  $1$  (۳)  $-1$  (۴)  $-2$
- ۶- حاصل عبارت  $A = (\cos^4 x - \sin^4 x)(1 + \tan^2 x) + \tan^2 x$  کدام است؟  
 (۱) صفر (۲)  $1$  (۳)  $2$  (۴)  $3$
- ۷- اگر  $\sin x + \cos x = \frac{1}{3}$ ، آن‌گاه حاصل  $A = \cos^4 x - \sin^4 x$  کدام می‌تواند باشد؟  
 (۱)  $\frac{\sqrt{17}}{9}$  (۲)  $\frac{64}{81}$  (۳)  $\frac{8}{9}$  (۴)  $\frac{17}{81}$
- ۸- اگر  $\frac{\sin x + \cos x}{\sin x - \cos x} + \frac{\sin x - \cos x}{\sin x + \cos x} = 4$ ، آن‌گاه حاصل  $\tan^2 x + \cot^2 x$  کدام است؟  
 (۱)  $1$  (۲)  $\frac{5}{2}$  (۳)  $\frac{17}{4}$  (۴)  $\frac{10}{3}$
- ۹- اگر  $x \in [0, \frac{\pi}{4}]$ ، آن‌گاه حاصل  $f(x) = \sqrt{1 + 2\sqrt{\cos^2 x(1 - \cos^2 x)}}$  کدام است؟  
 (۱)  $\sin x - \cos x$  (۲)  $\sin 2x$  (۳)  $-\sin x - \cos x$  (۴)  $\sin x + \cos x$
- ۱۰- مقدار  $B = \sin(\pi \cos \frac{16\pi}{3}) - \tan(\pi \cot(\frac{171\pi}{4}))$  کدام است؟  
 (۱)  $1$  (۲)  $-1$  (۳) صفر (۴) تعریف نشده
- ۱۱- حاصل عبارت  $\frac{1}{\cos^6 x} - \frac{3 \tan^2 x}{\cos^2 x}$ ، برای همه‌ی مقادیر  $x \neq n\pi + \frac{\pi}{2}$  با کدام عبارت برابر است؟  
 (۱)  $\tan^6 x$  (۲)  $1 + \tan^6 x$  (۳)  $1 - \tan^6 x$  (۴)  $(\sin x \cos x)^6$

-۱۲ هرگاه داشته باشیم:  $a \sin^2 x - b \cos^2 x = a - b$ ، آن‌گاه حاصل  $b \sin^4 x + a \cos^4 x$  در کدام گزینه آمده است؟

(۱)  $\frac{a+b}{a-b}$  (۲)  $\frac{a-b}{ab}$  (۳)  $\frac{ab}{a+b}$  (۴)  $\frac{a+b}{ab}$

-۱۳ اگر  $\sin^4 x + \cos^4 x = \frac{3}{5}$ ، حاصل  $\sin^6 x + \cos^6 x$  کدام است؟ (آزاد - ۸۷)

(۱)  $\frac{1}{5}$  (۲)  $\frac{2}{3}$  (۳)  $\frac{2}{5}$  (۴)  $\frac{3}{7}$

-۱۴ اگر  $(\sin x - \cos x)^2 = 1 - \cos x$  و  $x \in [0, \frac{\pi}{4}]$ ، حاصل  $2 \cos x + \sin x$  چند مقدار متفاوت می‌تواند داشته باشد؟

(۱) صفر (۲) ۱ (۳) ۲ (۴) ۳

-۱۵ اگر  $\tan x + \cot x = 2$ ، آن‌گاه حاصل  $\tan^3 x + \cot^3 x$  کدام است؟

(۱) ۲ (۲) ۳ (۳) ۴ (۴) ۶

-۱۶ اگر  $\frac{\pi}{4} < x < \frac{\pi}{2}$ ، آن‌گاه مقدار  $C = \frac{\sqrt{1 - 2 \sin x \cos x}}{\sin^2 x - \cos^2 x} + \frac{2}{\sec x + \csc x}$  کدام است؟

(۱)  $\sin x \pm \cos x$  (۲)  $\sin x + \cos x$  (۳)  $\sin x - \cos x$  (۴)  $\cos x - \sin x$

-۱۷ کدام نابرابری درست است؟

(۱)  $\sin 17^\circ < \sin 2^\circ$  (۲)  $\cos 2^\circ < \cos 16^\circ$  (۳)  $\tan 2^\circ < \sin 2^\circ$  (۴)  $\cot 2^\circ < \cos 2^\circ$

-۱۸ اگر  $\sin x \cos x < 0$ ، آن‌گاه کدام نامساوی درست است؟

(۱)  $\sin(x - \frac{\pi}{4}) \cos(x - \frac{\pi}{4}) < 0$  (۲)  $\sin(x + \frac{\pi}{4}) \cos(x - \frac{\pi}{4}) > 0$   
 (۳)  $\sin(x + \frac{\pi}{4}) \cos(x + \frac{\pi}{4}) > 0$  (۴)  $\sin(x - \frac{\pi}{4}) \cos(x + \frac{\pi}{4}) > 0$

-۱۹ اگر  $\sqrt{\sin x}$  مقداری تعریف شده باشد، آن‌گاه کدام رابطه درست است؟

(۱)  $\sin x \leq \sin^2 x$  (۲)  $\sqrt{\sin x} \geq \sin^2 x$  (۳)  $\sqrt{\sin x} \geq \sqrt[3]{\sin x}$  (۴)  $\frac{1}{\sin x} \leq \sqrt{\sin x}$

-۲۰ حاصل عبارت  $\cos(\frac{3\pi}{4} + x) + \sin(\pi + x) + \cos(\frac{\pi}{4} + x) + \sin(\pi - x)$  کدام است؟

(۱)  $-2 \sin x$  (۲) صفر (۳)  $2 \sin x$  (۴)  $2 \cos x$

-۲۱ اگر  $\sin^2 x + 2 \cos^2 x + 3 \sin x \cos x = 3$ ، آن‌گاه مقدار  $\cot x$  کدام است؟

(۱)  $-1$  و  $-2$  (۲)  $1$  و  $-2$  (۳)  $-1$  و  $2$  (۴)  $1$  و  $2$

-۲۲ حاصل کسر  $A = \frac{1 + \sin x \cos x}{\sin^2 x - \cos^2 x}$  برابر کدام است؟

(۱)  $\sin x + \cos x$  (۲)  $\frac{1}{\sin x + \cos x}$  (۳)  $\cos x - \sin x$  (۴)  $\frac{1}{\sin x - \cos x}$

-۲۳ اگر  $\sin x + \frac{1}{\sin x} = 2$ ، آن‌گاه حاصل عبارت  $\sin^5 x + \cos^5 x$  کدام است؟

(۱) ۲ (۲) ۱ (۳)  $2 - \sqrt{2}$  (۴)  $\sqrt{2} - 1$

-۲۴ اگر  $\tan x = \frac{1}{4}$ ، آن‌گاه حاصل  $D = \frac{\sin x}{\sin x - \cos x} + \frac{\sin x + \cos x}{\cos x}$  کدام است؟

(۱) ۱ (۲) ۴ (۳)  $\frac{1}{12}$  (۴)  $\frac{11}{12}$



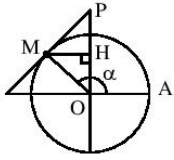
۲۵- عبارت  $\frac{1 + \cos \theta}{\sin^3 \theta}$ ، با کدام گزینه برابر است؟

$\frac{1}{\cos^2 \theta - \sin^2 \theta}$  (۴)

$\frac{1}{\sin \theta \cos \theta}$  (۳)

$\frac{\cos \theta}{1 + \sin \theta}$  (۲)

$\frac{1}{\sin \theta - \sin \theta \cos \theta}$  (۱)



۲۶- در دایره‌ی مثلثاتی مطابق شکل روبه‌رو، در نقطه‌ی M مماسی بر دایره رسم کرده‌ایم تا امتداد قطر عمودی را در

P قطع کند. با فرض  $\hat{AOM} = \alpha$ ، طول پاره‌خط HP کدام است؟


$|\cos \alpha|$  (۲)

$|\sin \alpha \tan \alpha|$  (۱)

$|\sin \alpha|$  (۴)

$|\cos \alpha \cot \alpha|$  (۳)

# توابع مثلثاتی



## پاسخ‌های تشریحی

۱- گزینه‌ی (ب) اگر  $\alpha$  در ربع چهارم باشد، داریم:  $\sin \alpha < 0$ ، ولی  $\cos \alpha > 0$ . با توجه به  $\sin(\frac{7\pi}{3} - \alpha) = -\cos \alpha$  باید  $\cos \alpha$  را بیابیم:

$$\sin \alpha = -\frac{2\sqrt{2}}{3} \Rightarrow \cos \alpha = \sqrt{1 - \sin^2 \alpha} = \frac{1}{3}$$

۲- گزینه‌ی (ا) مقادیر زوایا را به  $34^\circ$  ربط می‌دهیم:

$$A = \frac{2 \sin(36^\circ - 34^\circ) + 3 \sin(90^\circ - 34^\circ)}{\cos(37^\circ + 34^\circ)} = \frac{-2 \sin 34^\circ + 3 \cos 34^\circ}{\sin 34^\circ} = -2 + 3 \cot 34^\circ = 2/5$$

۳- گزینه‌ی (ا) می‌دانیم همواره  $-1 \leq \sin x \leq 1$  و  $-1 \leq \sin y \leq 1$ ، پس:  $2 \sin x - 3 \sin y \leq 5$ ، بنابراین برای برقراری فرض سؤال باید داشته باشیم:

$$2 \sin x = 2, \quad -3 \sin y = 3 \Rightarrow \sin x = 1, \quad \sin y = -1$$

$$\Rightarrow x = 2m\pi + \frac{\pi}{2}, \quad y = 2n\pi - \frac{\pi}{2} \Rightarrow \frac{x+y}{2} = (m+n)\pi \Rightarrow \tan\left(\frac{x+y}{2}\right) = 0$$

۴- گزینه‌ی (ب) اگر  $-\frac{\pi}{9} < x < \frac{\pi}{9}$ ، آن‌گاه  $-\frac{\pi}{3} < 3x < \frac{\pi}{3}$ . بنابراین طبق نمودار تابع  $y = \cos x$  داریم:

$$\frac{1}{2} < \cos 3x \leq 1 \Rightarrow \frac{1}{2} < \frac{m-1}{2} \leq 1 \Rightarrow 1 < m-1 \leq 2 \Rightarrow 2 < m \leq 3 \Rightarrow m \in (2, 3]$$

۵- گزینه‌ی (ب) با توجه به  $\frac{1}{\cos^2 x} = 1 + \tan^2 x$  داریم:

$$\frac{1}{\cos^2 x} + \frac{A}{\cos^2 x} = (1 + \tan^2 x)^2 + A(1 + \tan^2 x) = \tan^4 x + (2+A)\tan^2 x + 1 + A$$

$$\Rightarrow \tan^4 x + (2+A)\tan^2 x + 1 + A = \tan^4 x - 1 \Rightarrow A = -2$$

۶- گزینه‌ی (ب) با توجه به اتحاد مزدوج داریم:

$$\cos^4 x - \sin^4 x = (\cos^2 x - \sin^2 x)(\cos^2 x + \sin^2 x) = \cos^2 x - \sin^2 x$$

$$\Rightarrow A = (\cos^2 x - \sin^2 x)\left(\frac{1}{\cos^2 x}\right) + \tan^2 x = 1 - \tan^2 x + \tan^2 x = 1$$

۷- گزینه‌ی (ا) مشابه تست قبیل می‌توان نوشت:  $\cos^4 x - \sin^4 x = \cos^2 x - \sin^2 x = (\cos x - \sin x)(\cos x + \sin x)$ ، پس باید حاصل  $\cos x - \sin x$  را بیابیم. از فرض داریم:

$$(\sin x + \cos x)^2 = \frac{1}{9} \Rightarrow 1 + 2 \sin x \cos x = \frac{1}{9} \Rightarrow \sin x \cos x = -\frac{4}{9}$$

حال می‌توانیم بنویسیم:

$$(\sin x - \cos x)^2 = 1 - 2 \sin x \cos x \Rightarrow (\sin x - \cos x)^2 = \frac{17}{9} \Rightarrow \sin x - \cos x = \pm \frac{\sqrt{17}}{3} \Rightarrow A = \pm \frac{\sqrt{17}}{9}$$

۸- گزینه‌ی (ب) می‌دانیم:  $\frac{\sin x + \cos x}{\sin x - \cos x} = \frac{\cos x(\tan x + 1)}{\cos x(\tan x - 1)} = \frac{\tan x + 1}{\tan x - 1}$ ، به همین ترتیب داریم:

$$\frac{\sin x + \cos x}{\sin x - \cos x} + \frac{\sin x - \cos x}{\sin x + \cos x} = \frac{\tan x + 1}{\tan x - 1} + \frac{\tan x - 1}{\tan x + 1} = \frac{2(1 + \tan^2 x)}{\tan^2 x - 1} \Rightarrow \frac{2(1 + \tan^2 x)}{\tan^2 x - 1} = 4$$

$$\Rightarrow 1 + \tan^2 x = 2 \tan^2 x - 2 \Rightarrow \tan^2 x = 3 \Rightarrow \tan^2 x + \cot^2 x = 3 + \frac{1}{3} = \frac{10}{3}$$



۹- گزینه‌ی (۴) با توجه به آن که  $\cos^2 x(1 - \cos^2 x) = \cos^2 x \sin^2 x$  داریم:

$$f(x) = \sqrt{1 + 2|\sin x \cos x|} \xrightarrow{x \in [0, \frac{\pi}{4}]} f(x) = \sqrt{1 + 2\sin x \cos x} = \sqrt{(\sin x + \cos x)^2} = |\sin x + \cos x| = \sin x + \cos x$$

۱۰- گزینه‌ی (۷) مقادیر مورد نظر را حساب می‌کنیم:

$$\left. \begin{aligned} \cos\left(\frac{16\pi}{3}\right) &= \cos\left(\Delta\pi + \frac{\pi}{3}\right) = -\cos\frac{\pi}{3} = -\frac{1}{2} \\ \cot\left(\frac{171\pi}{4}\right) &= \cot\left(42\pi + \frac{3\pi}{4}\right) = \cot\frac{3\pi}{4} = -1 \end{aligned} \right\} \Rightarrow B = \sin\left(-\frac{\pi}{2}\right) - \tan(-\pi) = -1 - 0 = -1$$

۱۱- گزینه‌ی (۷) با توجه به  $\frac{1}{\cos^2 x} = 1 + \tan^2 x$  داریم:

$$\frac{1}{\cos^2 x} - \frac{2 \tan^2 x}{\cos^2 x} = (1 + \tan^2 x) - 2 \tan^2 x (1 + \tan^2 x) = 1 + \tan^2 x$$

۱۲- گزینه‌ی (۳) با توجه به فرض و این که  $\cos^2 x = 1 - \sin^2 x$  داریم:

$$a \sin^2 x - b(1 - \sin^2 x) = a - b \Rightarrow \sin^2 x = \frac{a}{a+b} \Rightarrow \cos^2 x = 1 - \sin^2 x = \frac{b}{a+b}$$

$$\Rightarrow b \sin^2 x + a \cos^2 x = \frac{ba^2 + ab^2}{(a+b)^2} = \frac{ab}{a+b}$$

۱۳- گزینه‌ی (۳) با توجه به  $\sin^2 x + \cos^2 x = (\sin^2 x + \cos^2 x)^2 - 2 \sin^2 x \cos^2 x$  داریم:

$$\frac{3}{5} = 1 - 2 \sin^2 x \cos^2 x \Rightarrow \sin^2 x \cos^2 x = \frac{1}{5}$$

$$\sin^2 x + \cos^2 x = (\sin^2 x + \cos^2 x)(\sin^2 x + \cos^2 x - \sin^2 x \cos^2 x) \Rightarrow \sin^2 x + \cos^2 x = 1 \times \left(\frac{3}{5} - \frac{1}{5}\right) = \frac{2}{5}$$

۱۴- گزینه‌ی (۳) می‌دانیم:  $(\sin x - \cos x)^2 = 1 - 2 \sin x \cos x$ ، پس از فرض داریم:  $1 - 2 \sin x \cos x = 1 - \cos x$ ، بنابراین  $\cos x(2 \sin x - 1) = 0$  و دو حالت می‌تواند پیش بیاید:

$$\cos x = 0 \xrightarrow{x \in [0, \frac{\pi}{2}]} \sin x = 1 \Rightarrow 2 \cos x + \sin x = 1$$

$$\sin x = \frac{1}{2} \Rightarrow \cos x = \frac{\sqrt{3}}{2} \Rightarrow 2 \cos x + \sin x = \sqrt{3} + \frac{1}{2}$$

۱۵- گزینه‌ی (۱) با توجه به اتحادها داریم:

$$\tan^2 x + \cot^2 x = (\tan x + \cot x)^2 - 2 \tan x \cot x (\tan x + \cot x) \Rightarrow \tan^2 x + \cot^2 x = \lambda - 3 \times 2 = 2$$

۱۶- گزینه‌ی (۷) می‌دانیم:

$$1 - 2 \sin x \cos x = (\sin x - \cos x)^2 \Rightarrow \sqrt{1 - 2 \sin x \cos x} = |\sin x - \cos x|$$

از روی دایره‌ی مثلثاتی می‌توان تشخیص داد که در فاصله‌ی  $\frac{\pi}{4} < x < \frac{\pi}{2}$  داریم:

$$\sin x > \cos x \Rightarrow \sin x - \cos x > 0 \Rightarrow |\sin x - \cos x| = \sin x - \cos x$$

$$\sec x + \csc x = \frac{1}{\sin x} + \frac{1}{\cos x} = \frac{\sin x + \cos x}{\sin x \cos x} \Rightarrow C = \frac{1}{\sin x + \cos x} + \frac{2 \sin x \cos x}{\sin x + \cos x} = \frac{(\sin x + \cos x)^2}{\sin x + \cos x} = \sin x + \cos x$$

۱۷- گزینه‌ی (۱) گزینه‌ها را بررسی می‌کنیم:

گزینه‌ی (۱): می‌دانیم  $\sin 170^\circ = \sin 10^\circ$  و با توجه به صعودی بودن تابع  $y = \sin x$  در فاصله‌ی  $[0, \frac{\pi}{2}]$  داریم:  $\sin 10^\circ < \sin 20^\circ$

گزینه‌ی (۲): می‌دانیم  $\cos 160^\circ = -\cos 20^\circ$  و  $\cos 20^\circ > 0$ ، پس این گزینه نادرست است.

گزینه‌ی (۳): چون  $\tan 20^\circ = \frac{\sin 20^\circ}{\cos 20^\circ}$  و مخرج کسر عددی بین صفر و یک است، پس  $\tan 20^\circ > \sin 20^\circ$  و این گزینه نادرست است. به

شیوه‌ای مشابه گزینه‌ی (۴) نیز رد می‌شود.

۱۸- گزینه‌ی (ب) با توجه به دایره‌ی مثلثاتی روابط زیر به وضوح برقرار است:

$$\sin\left(x - \frac{\pi}{4}\right)\cos\left(x - \frac{\pi}{4}\right) = -\sin\left(\frac{\pi}{4} - x\right)\cos\left(\frac{\pi}{4} - x\right) = -\cos x \times \sin x > 0 \quad \sin\left(x + \frac{\pi}{4}\right)\cos\left(x - \frac{\pi}{4}\right) = \cos x \times \sin x < 0$$

$$\sin\left(x + \frac{\pi}{4}\right)\cos\left(x + \frac{\pi}{4}\right) = \cos x \times (-\sin x) > 0 \quad \sin\left(x - \frac{\pi}{4}\right)\cos\left(x + \frac{\pi}{4}\right) = -\cos x \times (-\sin x) < 0$$

۱۹- گزینه‌ی (ب) داریم:  $0 \leq \sqrt{\sin x} < 1$ ، و می‌دانیم هر چقدر توان یک عدد بین صفر و یک بزرگ‌تر باشد، حاصل کوچک‌تر خواهد بود، بنابراین:

$$\frac{1}{\sin x} = (\sin x)^{-1} \geq 1 \geq \sqrt[3]{\sin x} \geq \sqrt{\sin x} \geq \sin x \geq \sin^2 x$$

۲۰- گزینه‌ی (ب) با جای‌گذاری نتایج زیر حاصل عبارت صفر می‌شود:

$$\cos\left(\frac{3\pi}{4} + x\right) = \sin x, \quad \sin(\pi + x) = -\sin x, \quad \cos\left(x + \frac{\pi}{4}\right) = -\sin x, \quad \sin(\pi - x) = \sin x$$

۲۱- گزینه‌ی (ب) طرفین تساوی فرض را بر  $\sin^2 x$  تقسیم کنید:

$$\sin^2 x + 2\cos^2 x + 3\sin x \cos x = 3 \Rightarrow 1 + 2\cot^2 x + 3\cot x = \frac{3}{\sin^2 x} = 3(1 + \cot^2 x)$$

$$\Rightarrow \cot^2 x - 3\cot x + 2 = 0 \Rightarrow (\cot x - 1)(\cot x - 2) = 0 \Rightarrow \cot x = 1, 2$$

۲۲- گزینه‌ی (ب) با توجه به اتحاد چاقی و لاغر داریم:

$$\sin^3 x - \cos^3 x = (\sin x - \cos x)(1 + \sin x \cos x) \Rightarrow A = \frac{1}{\sin x - \cos x}$$

۲۳- گزینه‌ی (ب) می‌دانیم همواره  $a + \frac{1}{a} \geq 2$  و تنها در حالت  $a = 1$  تساوی برقرار است (برای  $a > 0$ ). پس از فرض سؤال نتیجه می‌گیریم

$\sin x = 1$ ، پس  $\cos x = 0$  و حاصل عبارت ۱ می‌شود.

۲۴- گزینه‌ی (ب) با فاکتورگیری از  $\cos x$  در صورت و مخرج کسر اول داریم:

$$\frac{\sin x}{\sin x - \cos x} = \frac{\cos x \tan x}{\cos x (\tan x - 1)} \Rightarrow D = \frac{\tan x}{\tan x - 1} + \tan x + 1 = \frac{1}{\frac{-3}{4}} + \frac{5}{4} = \frac{11}{12}$$

۲۵- گزینه‌ی (ا) داریم:

$$\frac{1 + \cos \theta}{\sin^2 \theta} = (1 + \cos \theta) \times \frac{1}{\sin^2 \theta} = \frac{1 - \cos^2 \theta}{1 - \cos \theta} \times \frac{1}{\sin^2 \theta} = \frac{\sin^2 \theta}{(1 - \cos \theta) \sin^2 \theta} = \frac{1}{\sin \theta - \sin \theta \cos \theta}$$

۲۶- گزینه‌ی (ب) با توجه به دایره‌ی مثلثاتی داریم:  $OH = \sin \alpha$  و  $MH = |\cos \alpha|$ . چون  $OM$  بر خط مماس عمود است، در مثلث

قائم‌الزاویه  $OMP$ ،  $OH$  ارتفاع وارد بر وتر است. بنابراین:

$$MH^2 = HP \times OH \Rightarrow \cos^2 \alpha = HP \times \sin \alpha \Rightarrow HP = \frac{\cos^2 \alpha}{\sin \alpha} = \cos \alpha \cot \alpha$$