

آیا جزوه را از سایت ما دانلود کرده اید؟

کتابخانه الکترونیکی **PNUEB**

پیام نوری ها بشتابید

مزایای عضویت در کتابخانه **PNUEB**:

دانلود رایگان و نامحدود خلاصه درس و جزوه

دانلود رایگان و نامحدود حل المسائل و راهنما

دانلود کتابچه نمونه سوالات دروس مختلف پیام نور با جواب

WWW.PNUEB.COM

کتابچه نمونه سوالات چیست:

سایت ما **افتخار** دارد برای اولین بار در ایران توانسته است کتابچه نمونه سوالات تمام دروس پیام نور که هر یک حاوی تمامی آزمون های برگزار شده پیام نور (تمامی نیمسالهای موجود **فتی الامکان** با **جواب**) را در یک فایل به نام کتابچه جمع آوری کند و هر ترم نیز آن را آپدیت نماید.

مراحل ساخت یک کتابچه نمونه سوال

(برای آشنایی با زحمت بسیار زیاد تولید آن در هر ترم):

دسته بندی فایلها - سرچ بر اساس کد درس - پسابندن سوال و جواب - پیدا کردن یک درس در نیمسالهای مختلف و پسابندن به کتابچه همان درس - پسابندن نیمسالهای مختلف یک درس به یکدیگر - وارد کردن اطلاعات تک تک نیمسالها در سایت - آپلود کتابچه و فیلدی موارد دیگر..

همچنین با توجه به تغییرات کدهای درسی دانشگاه استثنائات زیادی در ساخت کتابچه بوجود می آید که کار ساخت کتابچه را بسیار پیچیده می کند.

WWW.PNUEB.COM

بِسْمِ اللَّهِ الرَّحْمَنِ الرَّحِيمِ

کتابخانه الکترونیکی **PNUEB**

WWW.PNUEB.COM



تهیه و تنظیم :
دکتر مسعود یارمحمدی



نام درس : سرپهاي زماني

تعداد واحد : 4

منبع درس : كتاب سرپهاي زماني

مolfان :

دکتر حسينعلي نيرومند

دکتر ابولقاسم بزرگ نيا

تهيه و تنظيم اسلايد : دکتر مسعود يارمحمدي

Payam Noor University Ebook

PNUeb

...کتابخانه الکترونیک پیام نور....

عناوین فصلها :

فصل اول : سریهای زمانی

فصل دوم : تحلیل توصیفی سریهای زمانی

فصل سوم : آشنایی با مفاهیم بنیادی

فصل چهارم : فرآیندهای تصادفی والگوهای سری زمانی مانا

فصل پنجم : الگوهای سریهای زمانی مانا

فصل ششم : الگو سازی برای یک سری زمانی

فصل هفتم : فرآیندهای مانا در قلمرو فرکانس

فصل هشتم : استفاده از نرم افزار آماری برای یک مثال کاربردی

راهنمای کاربران

خروج

Payam Noor University Ebook

PNUEB

...کتابخانه الکترونیک پیام نور....

فصل اول

سریه‌های زمانی

WWW*PNUWEB*COM

...in Noor University Ebook

PNUweb

...کتابخانه الکترونیک پیام نور....

فصل اول : تعريف سري زمانى

اهداف فصل

تعريف سري زمانى

انواع سري زمانى

اجزا تشكيل دهنده سري زمانى

محاسبه روند

روش كمترين مربعات

تعيين تغييرات فصلى

هدف کلی

آشنایی با سربهای زمانی و روشهای آمار توصیفی مورد استفاده.

هدفهای رفتاری

پس از مطالعه این فصل می‌توانید:

- سری زمانی را تعریف کنید و انواع آن را بیان کنید،
- نمودار یک سری زمانی را رسم و اجزاء تشکیل دهنده سری زمانی را مشخص کنید،
- مقدار روند را با روشهای مشاهده مستقیم، میانگین محرک، نصف کردن داده‌ها و کمترین مربعات به دست آورید،
- با کمک روش کمترین مربعات، یک منحنی مناسب را به داده‌ها برازش دهید،
- تغییرات فصلی را با روشهای درصد متوسط، درصد روند و درصد میانگین متحرک تعیین کنید،
- تغییرات فصلی را از داده‌ها حذف کنید،
- روند را از یک سری زمانی حذف کنید،
- سری زمانی را برای آینده پیش‌بینی کنید.



PNU University Ebook

PNUweb

تعریف

سری زمانی مجموعه‌ای از مشاهدات است که برحسب زمان (یا هر کمیت دیگر) مرتب شده باشد. و معمولاً آن را به صورت زیر نشان می‌دهند

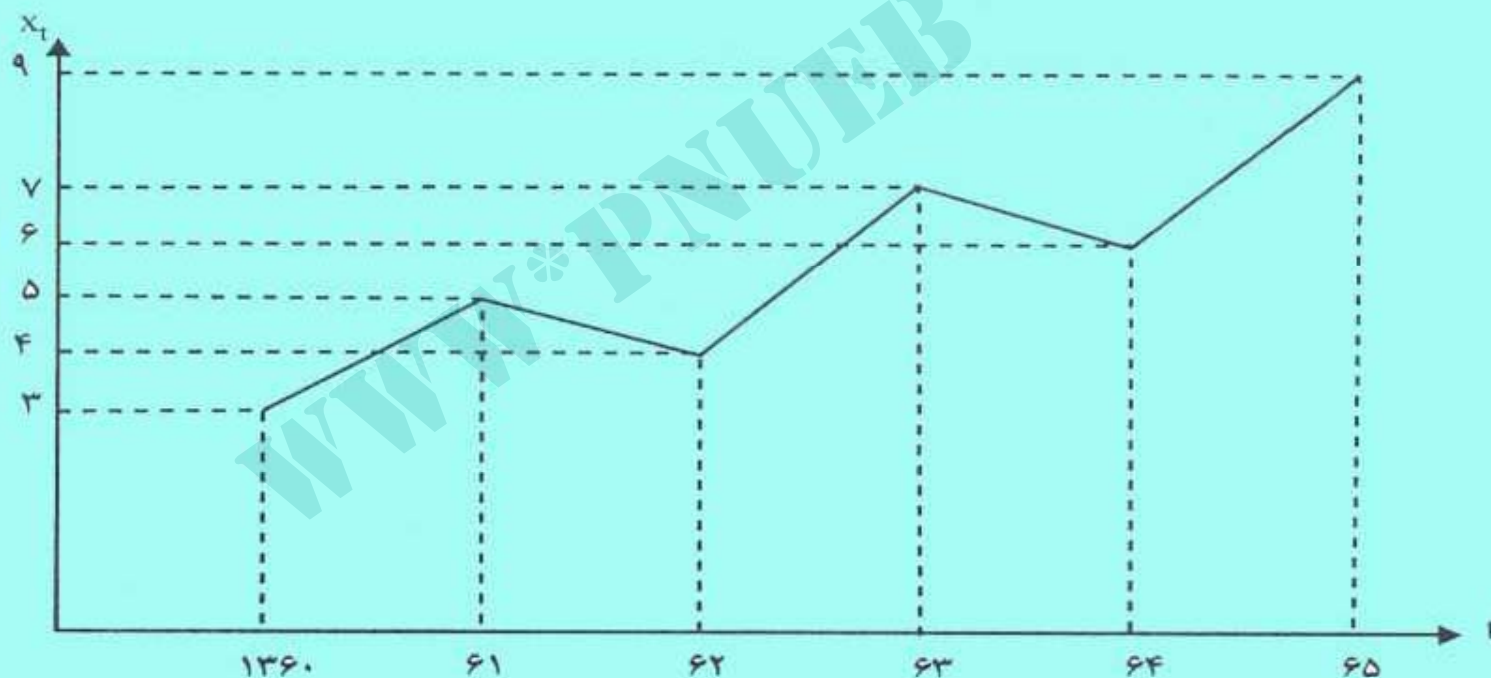
$$X_{t_1}, X_{t_2}, \dots, X_{t_N}$$

این قبیل مشاهدات معمولاً در کسب و کار، اقتصاد، قیمت سهام در بازار بورس، شاخصهای قیمت ماهانه، ارقام فروش سالانه و غیره به دست می‌آیند. مثلاً،
در اقتصاد: قیمت گندم در سالهای متوالی.
در فیزیک: درجه حرارت در ساعات مختلف روز.
در تجارت: ارقام فروش در هفته‌های متوالی یا روزهای متوالی.
در سرشماری: گزارشهای متوالی آمارگر.
در صنعت: تولید فولاد کشور در سالهای مختلف.
در کنترل کیفیت: تغییرات تولید.

مثال

فروش کل یک فروشگاه برحسب میلیون ریال در سالهای ۱۳۶۰ تا ۱۳۶۵ در جدول زیر داده شده است. نمودار سری زمانی را در این فاصله زمانی رسم کنید.

زمان	۱۳۶۰	۶۱	۶۲	۶۳	۶۴	۶۵
مبلغ فروش	۳	۵	۴	۷	۶	۹

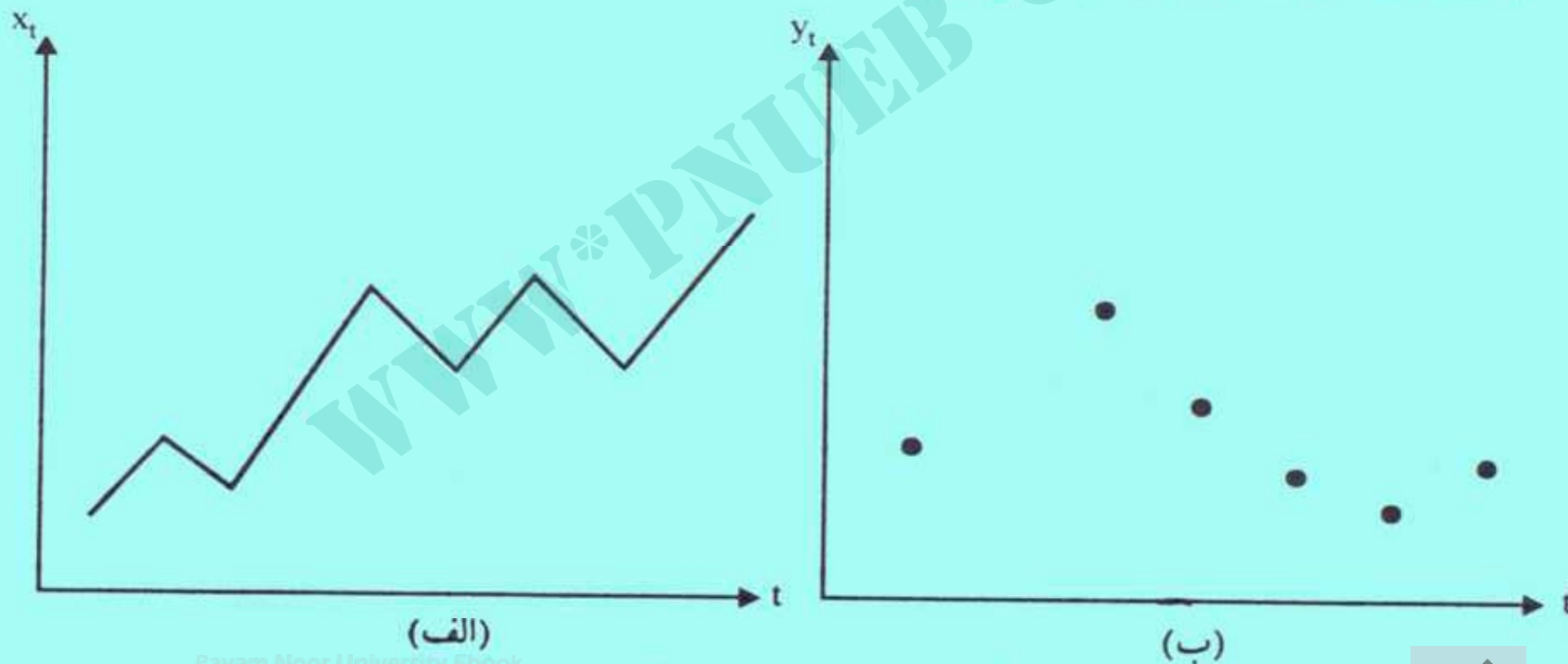


نمودار سری زمانی برحسب زمان Payam Noor University



انواع سریهای زمانی

سریهای زمانی را معمولاً به صورت گسسته یا پیوسته بررسی می‌کنند. اگر مشاهدات به طور پیوسته بر حسب زمان در نظر گرفته شوند سری زمانی حاصل را پیوسته می‌نامند. مانند سری زمانی شکل الف که اغلب در جریانهای الکتریکی پیش می‌آید. اگر مشاهدات را به طور منظم در فاصله‌های مساوی ثبت کنیم یک سری زمانی گسسته به دست می‌آید. مانند میزان صادرات در سالهای ۱۳۵۰ تا ۱۳۷۳ (شکل ب).



(الف)

(ب)

نمودار سری زمانی پیوسته و گسسته



اجزاء تشکیل دهنده سری زمانی

تغییرات سری زمانی می تواند به علت تغییرات بعضی از عوامل زیر باشد که تعدادی از آنها طبیعی و بعضی ناشی از عوامل اقتصادی و اجتماعی هستند.

۱- روند

۲- تغییرات فصلی

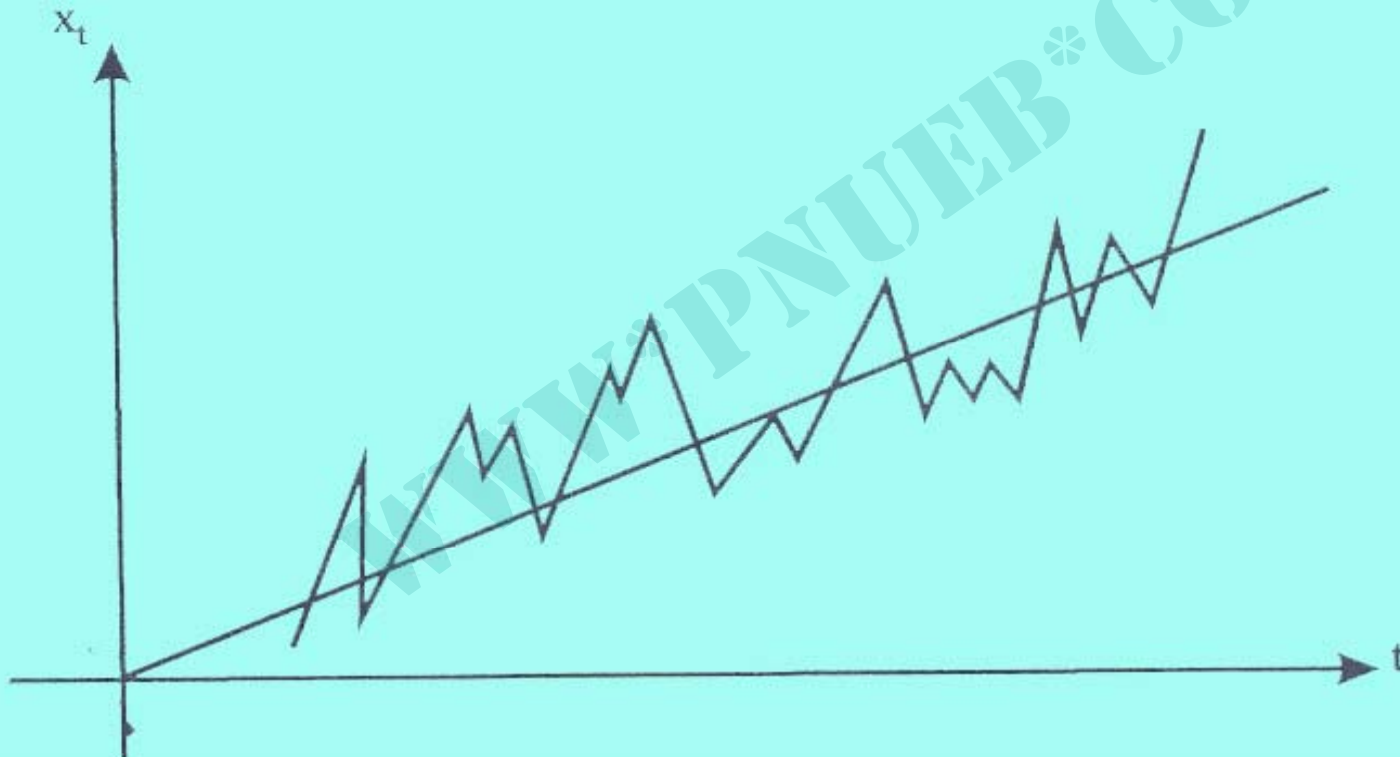
۳- تغییرات دوره‌ای

۴- تغییرات نامنظم



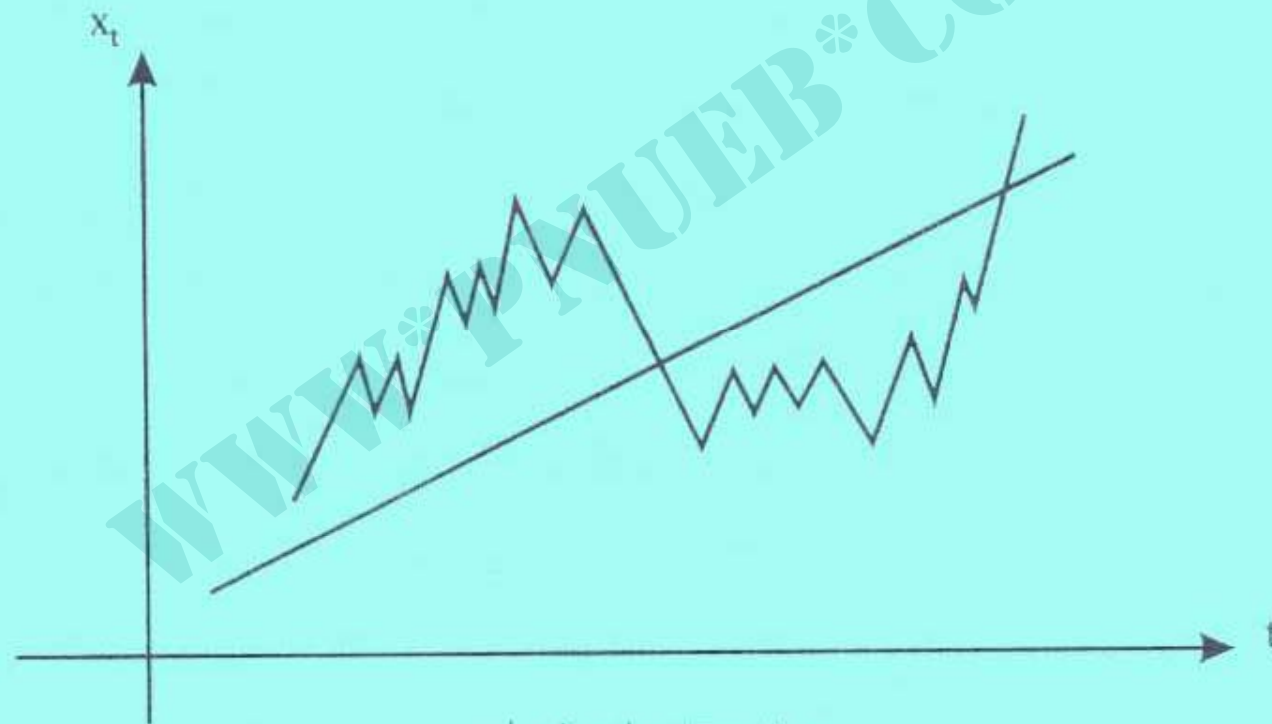
روند

روند عبارت از تغییرات درازمدت در میانگین سری زمانی است. به عبارت دیگر سیر طبیعی سری زمانی را در درازمدت روند می‌گویند.



تغییرات فصلی

تغییرات فصلی تغییراتی هستند که در دوره‌های تناوبی کوتاه پیش می‌آیند. این تغییرات مربوط به عواملی هستند که به طریقی منظم و چرخه‌ای روی یک دوره کمتر از یک سال عمل می‌کنند.



روند و تغییرات فصلی

تغییرات دوره‌ای

حرکات نوسانی در یک سری زمانی با دوره نوسان بیشتر از یک سال را تغییرات دوره‌ای می‌نامند. این تغییرات در سریهای زمانی به واسطه افت و خیزهایی است که بعد از یک دوره بیشتر از یک سال رجعت می‌کنند.



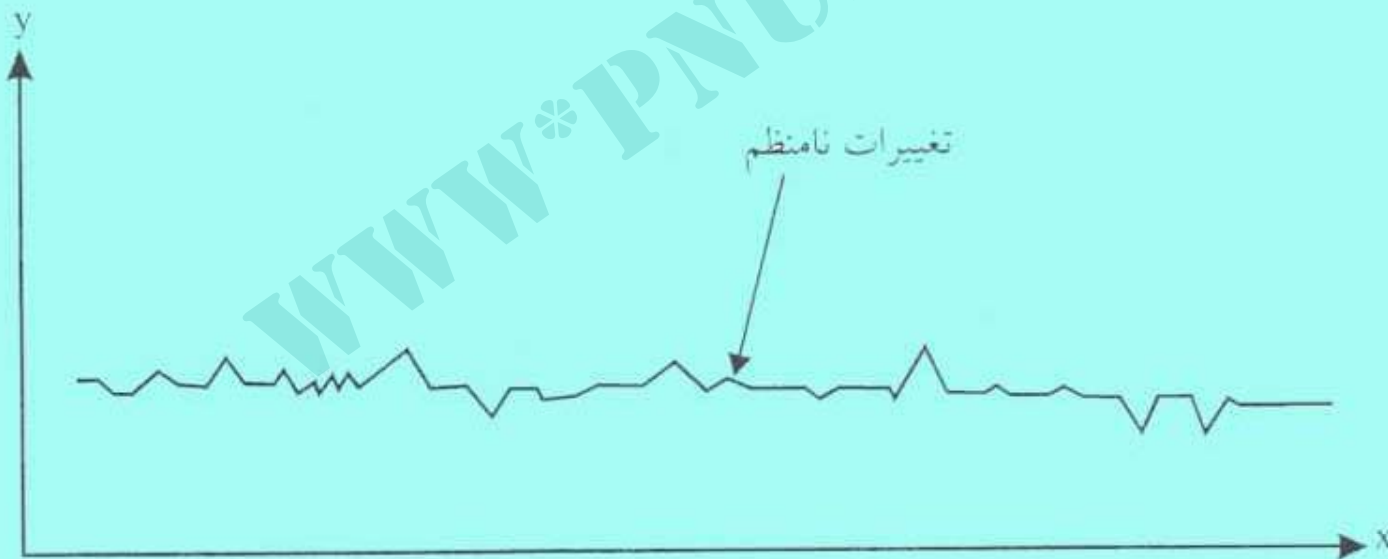
Payam Noor University Ebook

PNUweb



تغییرات نامنظم

در هر سری زمانی عامل دیگری وجود دارد که آن را تغییرات نامنظم یا تصادفی می نامند. این تغییرات کاملاً تصادفی بوده و نتیجه عواملی غیرقابل پیش بینی هستند که به طریقی نامنظم عمل می کند. این تغییرات به وسیله عواملی مانند سیلها، زلزله، اعتصابها و ... به وجود می آیند که رفتار آنها نامنظم و غیرقابل پیش بینی است.



Payam Noor University Ebook

PNUeb

...کتابخانه الکترونیک پیام نور...



محاسبهٔ روند

مقدار روند را به روشهایی مختلف می توان محاسبه کرد که در زیر به چند روش اشاره می کنیم.

الف) مشاهدهٔ مستقیم:

ب) روش میانگین متحرک:

ج) روش نصف کردن داده‌ها:



الف) مشاهده مستقیم: یک منحنی یا یک خط راست را با توجه به نمودار سری زمانی به طور نظری می‌برازانیم. برای رسم این خط ابتدا دو نقطه دلخواه ولی مناسب مانند A و B را به قسمی انتخاب می‌کنیم که خط رسم شده از این دو نقطه تقریباً مقادیر داده‌ها را شامل باشد. سپس معادله این خط را با در دست داشتن دو نقطه نوشته، مقادیر روند را از روی آن به دست می‌آوریم. حال اگر x نقاط خط را به ترتیب مقادیر معین t بگیریم عرضهای متناظر با این x ها معرف مقادیر روند هستند.

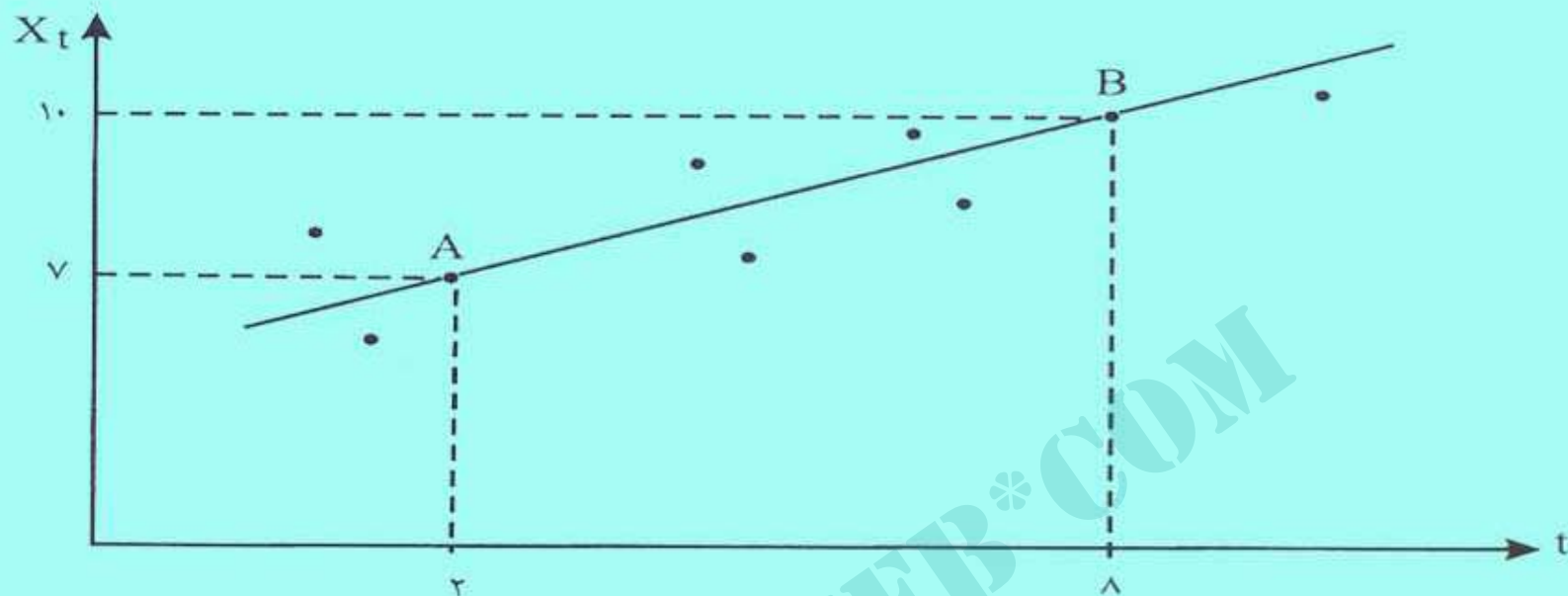
مثال

مطلوب است خط روند مربوط به داده‌های زیر با روش مشاهده مستقیم.

t	۱	۲	۳	۴	۵	۶	۷	۸	۹
X_t	۵	۷	۶	۹	۷	۱۰	۶	۱۰	۱۱

حل:





با توجه به نقاط روی شکل دو نقطه $A(2, 7)$ و $B(8, 10)$ را که مناسب تر به نظر می رسند انتخاب کرده و معادله خط AB را می نویسیم.

$$X_t = \frac{1}{2}t + 6$$

این معادله خط روند است. حال مقادیر روند را در زمانهای مختلف می توان به کمک این خط محاسبه کرده آنها را در جدول زیر نوشت:

t	1	2	3	4	5	6	7	8	9
X_t	5	7	6	9	7	10	6	10	11
روند T	6/5	7	7/5	8	8/5	9	9/5	10	10/5



ب) روش میانگین متحرک: اگر X_1, X_2, \dots مشاهدات یک سری زمانی باشند،
مشاهدات میانگین متحرک مرتبه N به صورت زیر تعریف می شود

$$Y_1 = \frac{X_1 + \dots + X_N}{N}, Y_2 = \frac{X_2 + \dots + X_{N+1}}{N}, Y_3 = \frac{X_3 + \dots + X_{N+2}}{N}, \dots$$

مثال

با توجه به داده های زیر مشاهدات میانگین متحرک مرتبه ۳ را مشخص کنید.

$$X_t: 2, 6, 1, 5, 3, 7, 2$$

حل:



$$Y_1 = \frac{2+6+1}{3} = 3, Y_2 = \frac{6+1+5}{3} = 4, Y_3 = \frac{1+5+3}{3} = 3, \dots$$

در نتیجه مشاهدات میانگین متحرک مزبور عبارت‌اند از ۳، ۴، ۳، ۴، ۵، ۴. معمولاً این میانگینهای متحرک را در جایی مناسب نسبت به مشاهدات مربوط قرار می‌دهند. مثلاً در مثال فوق می‌نویسیم.

سری زمانی	۲	۶	۱	۵	۳	۷	۲
میانگین متحرک	-	۳	۴	۳	۵	۴	-

عدد ۳ را که میانگین اعداد ۱، ۶، ۲ است در زیر عدد وسط یعنی ۶ قرار می‌دهیم.

اگر برای محاسبه میانگینهای متحرک به جای میانگین ساده مشاهدات از میانگین موزون استفاده کنیم، وزنها باید از قبل معین شوند. در این صورت مقادیر حاصل را مشاهدات میانگین موزون متحرک مرتبه N می نامند.

مثال

اگر در مثال قبل از وزنها ۱، ۴ و ۱ استفاده کنیم مقادیر میانگینهای موزون مرتبه ۳ به صورت زیر به دست می آیند.

$$\frac{1(2) + 4(6) + 1(1)}{1 + 4 + 1}, \frac{1(6) + 4(1) + 1(5)}{1 + 4 + 1}, \frac{1(1) + 4(5) + 1(3)}{1 + 4 + 1}, \dots$$

به این ترتیب میانگینهای متحرک موزون عبارت اند از $3/5$ ، $2/5$ ، $4/5$.

خاصیت و عیب روش میانگین متحرک

خاصیت میانگین متحرک این است که تغییرات موجود در یک مجموعه را کاهش می دهد. در سریهای زمانی از این خاصیت برای حذف نوسانات غیر ضروری استفاده می شود. عیب روش میانگین متحرک حذف شدن بعضی از مشاهدات از ابتدا و انتهای سری زمانی است. در مثال قبل که با هفت مشاهده شروع شد بعد از محاسبه میانگینهای متحرک مرتبه ۳ فقط ۵ عدد نتیجه شد. یک عیب دیگر این است که ممکن است باعث تغییرات دوره‌ای یا سایر تغییرات شود که در داده‌های اولیه وجود نداشته‌اند. عیب سوم میانگین متحرک این است که به شدت تحت تأثیر ماکسیمم و مینیمم مشاهدات قرار دارد. برای رفع این عیب از میانگین متحرک موزون می توان استفاده کرد. در این حالت به مشاهدات مرکزی بیشترین وزن و به مشاهدات انتهایی کمترین وزن را می دهند.

تبصره

در مورد محاسبه میانگینهای متحرک با مرتبه K دو حالت اتفاق می افتد.

۱ - عدد K فرد است. در این حالت مقادیر متوالی میانگینهای متحرک را در مقابل مقادیر مشاهدات متناظر می توان قرار داد. مثلاً اگر $K = 5$ ، اولین مقدار میانگین متحرک در مقابل مشاهده سوم و دومین مقدار میانگین متحرک در مقابل مشاهده چهارم و الی آخر قرار می گیرد.

۲ - عدد K زوج است. در این حالت مقادیر محاسبه شده میانگینهای متحرک دقیقاً در مقابل مشاهدات سری زمانی قرار نمی گیرند بلکه بین دو مشاهده متوالی واقع می شوند در این مورد با در نظر گرفتن متوسط دو میانگین متحرک و قرار دادن آن در مقابل مشاهده متناظر، آنها را با داده های اولیه همزمان می کنند. این روش را مرکزی کردن و مقادیر میانگینهای متحرک حاصل را میانگینهای متحرک مرکزی می نامند. ۱

مثال



داده‌های جدول زیر متوسط تولید ماهانه زغال سنگ را برحسب هزار تن در سالهای ۱۳۵۰ تا ۱۳۵۸ به دست می‌دهد. مطلوب است محاسبه:

الف) میانگین متحرک ۴ ساله

ب) میانگین متحرک مرکزی چهارساله

سال	۵۰	۵۱	۵۲	۵۳	۵۴	۵۵	۵۶	۵۷	۵۸
میانگین تولید ماهانه	۳	۵	۴	۷	۶	۱۰	۹	۱۲	۱۱



میانگینهای متحرک ۴ ساله در جدول زیر محاسبه شده‌اند همان‌طور که دیده می‌شود این مقادیر در فاصله سالهای متوالی واقع می‌شوند و از تقسیم مجموع متحرک ۴ ساله بر ۴ به دست می‌آیند.

سال	مشاهدات	مجموع متحرک ۴ ساله	میانگین متحرک ۴ ساله
۱۳۵۰	۳	—	—
۱	۵	—	—
۲	۴	۱۹	۴/۷۵
۳	۷	۲۲	۵/۵
۴	۶	۲۷	۶/۷۵
۵	۱۰	۳۲	۸
۶	۹	۳۷	۹/۲۵
۷	۱۲	۴۲	۱۰/۵
۸	۱۱	—	—

Payam Noor University Ebook

PNUweb



برای محاسبه میانگینهای متحرک مرکزی ۴ ساله دو روش معمول است. در روش اول ابتدا میانگین متحرک ۴ ساله را محاسبه می‌کنند و سپس میانگینهای متحرک دوساله مقادیر حاصل را به دست می‌آورند. در روش دوم ابتدا مجموع متحرک ۴ ساله را محاسبه می‌کنند سپس میانگین متحرک دوساله اعداد حاصل را به دست می‌آورند و در نتیجه این اعداد را بر ۸ تقسیم می‌کنند. در زیر میانگین متحرک مرکزی ۴ ساله را با روش دوم حساب می‌کنیم.

سال	مشاهدات	مجموع متحرک ۴ ساله	مجموع متحرک ۲ ساله	میانگین متحرک ۴ ساله مرکزی
۱۳۵۰	۳	—	—	—
۱	۵	—	—	—
۲	۴	۱۹	→ ۴۱	→ ۵/۱۲۵
۳	۷	۲۲	→ ۴۹	→ ۶/۱۲۵
۴	۶	۲۷	→ ۵۹	→ ۷/۳۷۵
۵	۱۰	۳۲	→ ۶۹	→ ۸/۶۳۵
۶	۹	۳۷	→ ۷۹	→ ۹/۸۷۵
۷	۱۲	۴۲	—	—
۸	۱۱	—	—	—

Payam Noor University Ebook



ج) روش نصف کردن داده‌ها: در این روش مشاهدات سری زمانی را به دو قسمت تقسیم می‌کنیم (بهتر است در صورت امکان دو قسمت مساوی باشند). سپس متوسط هر قسمت را محاسبه می‌کنیم. به این ترتیب دو نقطه به دست می‌آید. خط روند خطی است که از این دو نقطه می‌گذرد و به کمک آن می‌توان مقادیر روند را محاسبه کرد. هرچند این روش ساده است ولی ممکن است نتایج حاصل دقیق نباشد و باید وقتی از آن استفاده کرد که روند خطی یا تقریباً خطی است. در صورت لزوم داده‌ها را به چند قسمت تقسیم می‌کنیم به قسمی که روند در هر قسمت تقریباً خطی باشد.

مثال



مثال

مقادیر روند مشاهدات مثال قبل را با استفاده از روش نصف داده‌ها به دست آورید. در محاسبه مقدار متوسط الف) از میانگین ب) از میانه استفاده کنید.

سال	مشاهدات	سال	مشاهدات
۱۳۵۰	۳	۱۳۵۵	۱۰
۱۳۵۱	۵	۶	۹
۱۳۵۲	۴	۷	۱۲
۱۳۵۳	۷	۸	۱۱
۱۳۵۴	۶	۹	۱۳
جمع	۲۵	جمع	۵۵

حل:

سال	مشاهدات	سال	مشاهدات
۱۳۵۰	۳	۱۳۵۵	۱۰
۱۳۵۱	۵	۶	۹
۱۳۵۲	۴	۷	۱۲
۱۳۵۳	۷	۸	۱۱
۱۳۵۴	۶	۹	۱۳
جمع	۲۵	جمع	۵۵

با توجه به مقادیر فوق می‌توان روند سری زمانی را محاسبه کرد. این نتایج را می‌توان با رسم خطی که از نقاط (۵۲, ۵) و (۵۷, ۱۱) می‌گذرد به دست آورد. میانه هر یک از دو قسمت مشاهدات به ترتیب عبارت است از: ۵ و ۱۱ پس در نتیجه مقدار کاهش سالانه عبارت است از

$$\text{مقدار کاهش سالانه} = \frac{۱۱ - ۵}{۵} = \frac{۶}{۵} = ۱/۲$$

که در آن ۵ نصف فاصله زمانی است. در نتیجه مقادیر روند به صورت زیر خواهد بود.

سال	۵۰	۵۱	۵۲	۵۳	۵۴	۵۵	۵۶	۵۷	۵۸	۵۹
روند	۲/۶	۳/۸	۵	۶/۲	۷/۴	۸/۶	۹/۸	۱۱	۱۲/۲	۱۳/۴

مثال

تولید فولاد کشور برحسب هزار تن در سالهای ۱۳۶۶ تا ۱۳۷۶ در جدول زیر داده شده است. اولاً نمودار داده‌ها را رسم کنید. ثانياً مقدار فولاد را در سالهای ۱۳۷۷ و ۱۳۷۸ پیش‌بینی و با مقادیر واقعی ۱۳۰ و ۱۵۵ مقایسه کنید.

سالها	۶۶	۶۷	۶۸	۶۹	۷۰	۷۱	۷۲	۷۳	۷۴	۷۵	۷۶
تولید	۵۰	۷۰	۶۰	۸۰	۷۰	۱۰۰	۸۰	۹۰	۱۲۰	۱۰۰	۱۲۰

حل:



چون تعداد سالها فرد است می توان سال وسط یعنی ۷۱ را صفر در نظر گرفت. بعد از این تبدیل متغیر سال را با X و میزان تولید را با Y نشان می دهیم، در این صورت داده ها به صورت زیر مرتب می شوند.

سال	X	Y	X^2	XY
۱۳۶۶	-۵	۵۰	۲۵	-۲۵۰
۱۳۶۷	-۴	۷۰	۱۶	-۲۸۰
۱۳۶۸	-۳	۶۰	۹	-۱۸۰
۱۳۶۹	-۲	۸۰	۴	-۱۶۰
۱۳۷۰	-۱	۷۰	۱	-۷۰
۱۳۷۱	۰	۱۰۰	۰	۰
۱۳۷۲	۱	۸۰	۱	۸۰
۱۳۷۳	۲	۹۰	۴	۱۸۰
۱۳۷۴	۳	۱۲۰	۹	۳۶۰
۱۳۷۵	۴	۱۰۰	۱۶	۴۰۰
۱۳۷۶	۵	۱۲۰	۲۵	۶۰۰
	$\bar{X} = ۰$	$\bar{Y} = ۸۵/۴۵$	$\sum X^2 = ۱۱۰$	$\sum XY = ۶۸۰$

Payam Noor University Ebook

$$Y = \bar{Y} + \left[\frac{\sum XY}{\sum X^2} \right] X \quad \text{یا} \quad Y = ۸۵/۴۵ + \frac{۶۸۰}{۱۱۰} X$$

که در آن $X = ۰$ معادل است با سال ۱۳۷۱. برای انتقال به سال مبدأ، کافی است به جای X ، $X - ۵$ قرار دهیم. حال مقدار پیش‌بینی برای سال ۱۳۷۷ به ازای $X = ۶$ برابر $۱۲۲/۴۷$ و در سال ۱۳۷۸ یعنی $X = ۷$ برابر $۱۲۸/۷۲$ به دست می‌آید.



روش کمترین مربعات

برازش یک منحنی

برازش کمترین مربعات

خط کمترین مربعات

چند مثال حل شده

WWW*PNU.EDU*IR.COM

Payam Noor University Ebook

PNUeb

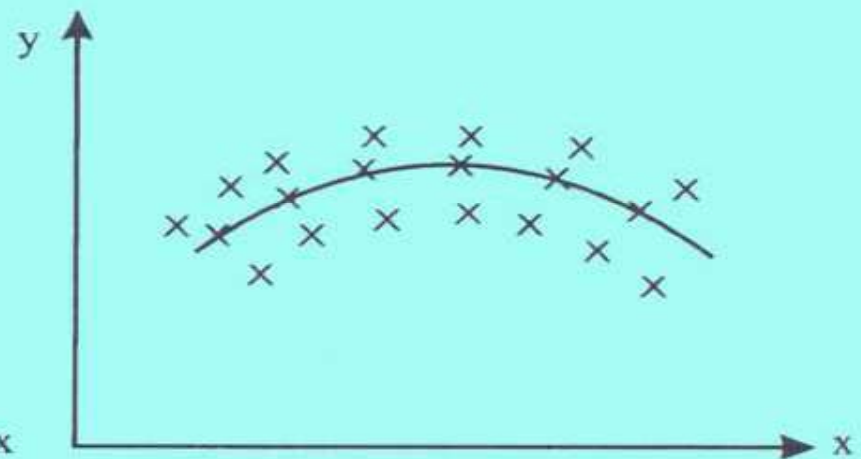
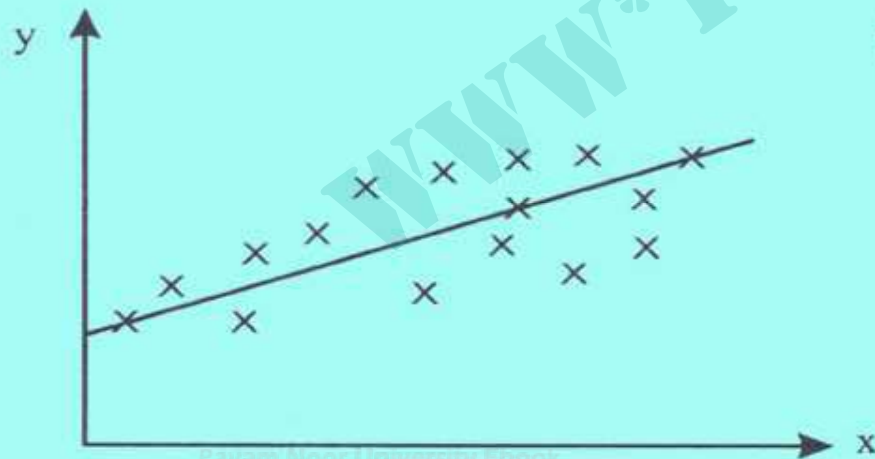


برازش یک منحنی

فرض کنید x و y به ترتیب اندازهٔ قد و وزن هر فرد باشد. حال به کمک نمونه‌ای به حجم n مشاهدات زیر را به دست می‌آوریم

$$x_1, x_2, \dots, x_n \quad , \quad y_1, y_2, \dots, y_n$$

سپس در صفحهٔ مختصات قائم نقاط (x_i, y_i) را مشخص می‌کنیم، مجموعهٔ این نقاط را نمودار پراکنندگی گوییم. با توجه به این نمودار اغلب می‌توان یک منحنی هموار به مشاهدات برازش داد. بخصوص اگر بتوان یک خط راست به داده‌ها برازش داد یک رابطهٔ خطی بین متغیرها برقرار است. به شکل‌های توجه کنید.



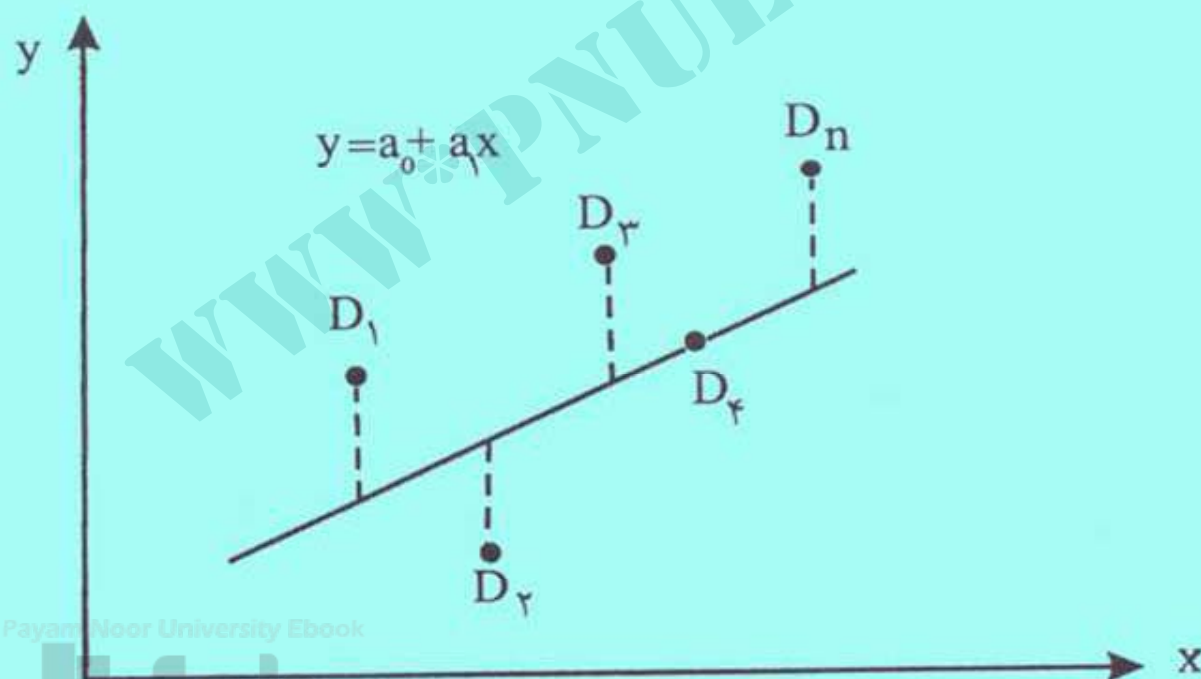
Payam Noor University Ebook

PNUweb



برازش کمترین مربعات

با توجه به شکل زیر از تمام منحنیهایی که تقریباً به داده‌ها برازش دارند آن منحنی را که برای حاصل جمع انحرافهای $D_1^2 + D_2^2 + \dots + D_n^2$ مینیمم باشد بهترین منحنی برازش داده شده می‌نامند. هر برازش که به این ترتیب انجام شود برازش کمترین مربعات نامیده می‌شود.



خط کمترین مربعات

خط کمترین مربعات را که به داده‌های (X_1, Y_1) (X_n, Y_n) برازش داده می‌شود به صورت زیر در نظر می‌گیریم

$$Y = a_0 + a_1 X$$

برای محاسبه a_1 و a_0 دستگاه زیر را تشکیل داده و آن را حل می‌کنیم. معادلات این دستگاه را معادلات نرمال می‌گویند.

$$\begin{cases} \sum y_i = n a_0 + a_1 \sum x_i \\ \sum x_i y_i = a_0 \sum x_i + a_1 \sum x_i^2 \end{cases}$$

حال با جایگذاری مشاهدات در این دستگاه و حل آن نسبت به a_1 و a_0 مقادیر زیر به عنوان برآورد ضرایب به دست می‌آیند

$$\hat{a}_0 = \frac{(\sum Y)(\sum X^2) - (\sum X)(\sum XY)}{n \sum X^2 - (\sum X)^2}$$

$$\hat{a}_1 = \frac{n \sum XY - \sum X \sum Y}{n \sum X^2 - (\sum X)^2}$$

گاهی اوقات با تبدیلهای $x = X - \bar{X}$, $y = Y - \bar{Y}$ معادله خط رگرسیون به صورت ساده‌تر زیر نوشته می‌شود.

$$y = \left[\frac{\sum XY}{\sum X^2} \right] x$$

بخصوص اگر مشاهدات X_i به قسمی باشند که $\sum X_i = 0$ در این صورت معادله خط رگرسیون عبارت است از

$$y = \bar{Y} + \left[\frac{\sum XY}{\sum X^2} \right] x$$



مثال ۱- داده‌های زیر تعداد فروشندگانهایی را نشان می‌دهد که در یک فروشگاه کار می‌کنند. با استفاده از روش کمترین مربعات خط روند را به داده‌ها برازش دهید و تعداد فروشندگانه را در سال ۱۳۷۵ برآورد کنید.

سال	۱۳۷۰	۱۳۷۱	۱۳۷۲	۱۳۷۳	۱۳۷۴
تعداد فروشندگانه	۲۸	۳۸	۴۶	۴۰	۵۶

حل: خط روند را به صورت $y = a + bx$ در نظر می‌گیریم. برای سهولت محاسبات فرض می‌کنیم $x = t - ۱۳۷۲$ یعنی مبدأ را سال ۱۳۷۲ در نظر می‌گیریم.

سال t	تعداد فروشندگانه y	$X = t - ۱۳۷۲$	XY	X^2	مقادیر روند $Y_e = ۴۱/۶ + ۵/۸X$
۱۳۷۰	۲۸	-۲	-۵۶	۴	$۴۱/۶ - ۱۱/۶ = ۳۰$
۱۳۷۱	۳۸	-۱	-۳۸	۱	$۴۱/۶ - ۵/۸ = ۳۵/۸$
۱۳۷۲	۴۶	۰	۰	۰	$۴۱/۶$
۱۳۷۳	۴۰	۱	۴۰	۱	$۴۱/۶ + ۵/۸ = ۴۷/۴$
۱۳۷۴	۵۶	۲	۱۱۲	۴	$۴۱/۶ + ۱۱/۶ = ۵۳/۸$
	$\Sigma Y = ۲۰۸$	$\Sigma X = ۰$	$\Sigma XY = ۵۸$	$\Sigma X^2 = ۱۰$	$\Sigma Y_e = ۲۰۸$

حال با استفاده از معادلات نرمال a و b را برآورد می‌کنیم

$$(i) \sum Y = na + b \sum X$$

$$208 = 5a + 0 \rightarrow a = \frac{208}{5} = 41/6 \rightarrow \hat{a} = 41/6$$

$$(ii) \sum XY = a \sum X + b \sum X^2$$

$$58 = a \times 0 + 10b \rightarrow \hat{b} = 5/8$$

پس خط روند عبارت است از:

$$Y = 41/6 + 5/8X$$

اگر در معادله خط روند به ترتیب مقادیر ۲، ۱، ۰، -۱، -۲ را قرار دهیم مقادیر روند برای سالهای ۱۳۷۰ تا ۱۳۷۴ به دست می‌آیند مقادیر روند در ستون آخر جدول فوق داده شده است. برآوردی از تعداد فروشندگان در سال ۱۳۷۵ با قرار دادن $X = t - 1372 = 1375 - 1372 = 3$ در معادله خط روند حاصل می‌شود که عبارت است از $41/6 + 3 \times 5/8 = 59$. بنابراین برآورد تعداد فروشندگان در سال ۱۳۷۵ برابر ۵۹ است.

مثال ۲- در یک کشور، تولید فولاد به میلیون تن در سالهای ۱۳۵۶ تا ۱۳۶۶ در جدول زیر داده شده است.

الف) نمودار داده‌ها را رسم کنید.

ب) خط روندی را که به داده‌ها برازش داده می‌شود با روش کمترین مربعات به دست آورده آن را در همان صفحه مختصات رسم کنید.

ج) مقادیر روند را برای سال ۱۳۶۲ محاسبه کرده و تولید فولاد را برای سالهای ۱۳۶۷ و ۱۳۶۸ برآورد کنید.

سال	۱۳۵۶	۱۳۵۷	۱۳۵۸	۱۳۵۹	۱۳۶۰	۱۳۶۱	۱۳۶۲	۱۳۶۳	۱۳۶۴	۱۳۶۵	۱۳۶۶
تولید فولاد به میلیون تن	۶۶/۶	۸۴/۹	۸۸/۶	۷۸	۹۶/۸	۱۰۵/۲	۹۳/۲	۱۱۱/۶	۸۸/۳	۱۱۷	۱۱۵/۲

حل: چون $n = 11$ فرد است، مبدأ را به وسط دوره زمانی یعنی سال ۱۳۶۱ انتقال

می دهیم. فرض می کنیم:

$$X = t - 1361$$

سال (t)	تعداد Y	$X = t - 1361$	XY	X^2	مقادیر روند y
۱۳۵۶	۶۶/۶	-۵	-۳۳۳	۲۵	۷۵/۷۴
۱۳۵۷	۸۴/۹	-۴	-۳۹۹/۶	۱۶	۷۹/۶۹
۱۳۵۸	۸۸/۶	-۳	-۲۶۵/۸	۹	۸۳/۶۴
۱۳۵۹	۷۸	-۲	-۱۵۶	۴	۸۷/۵۹
۱۳۶۰	۹۶/۸	-۱	-۹۶/۸	۱	۹۱/۵۴
۱۳۶۱	۱۰۵/۲	۰	۰	۰	۹۵/۴۹
۱۳۶۲	۹۳/۱	۱	۹۳/۲	۱	۹۹/۴۴
۱۳۶۳	۱۱۱/۶	۲	۲۲۳/۲	۴	۱۰۳/۳۹
۱۳۶۴	۸۸/۳	۳	۲۶۴/۹	۹	۱۹۷/۳۴
۱۳۶۵	۱۱۷	۴	۴۶۸	۱۶	۱۱۱/۲۹
۱۳۶۶	۱۱۵/۲	۵	۵۷۶	۲۵	۱۱۵/۲۴
	$\Sigma Y = 1045/3$	$\Sigma X = 0$	$\Sigma XY = 434/1$	$\Sigma X^2 = 110$	

خط روند را به صورت $Y = a + bX$ در نظر می‌گیریم. معادلات نرمال عبارت‌اند از:

$$\sum Y = na + b \sum X, \quad \sum XY = a \sum X + b \sum X^2$$

با توجه به این معادلات مقادیر a و b را به دست می‌آوریم.

$$1045/3 = 11a \rightarrow a = 95/0.3$$

$$434/1 = 110b \rightarrow b = 3/95$$

پس خط کمترین مربعات که به داده‌ها برازش داده می‌شود عبارت است از:

$$Y = 95/0.3 + 3/95X$$

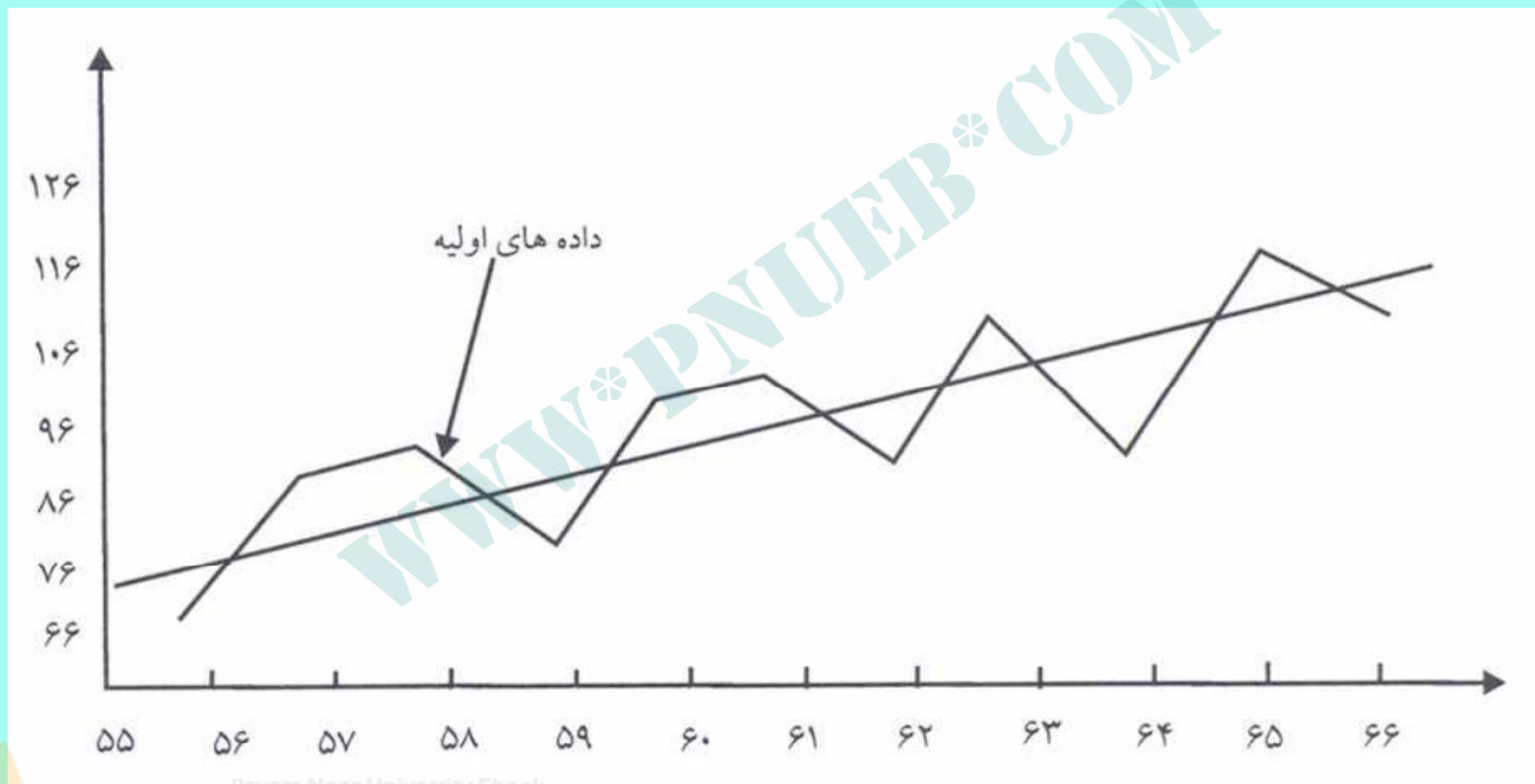
با قرار دادن $X = 1$ در معادله خط روند مقدار روند برای سال ۱۳۶۲ به دست می‌آید.

$$(Y)_{1362} = 95/0.3 + 3/95 \times 1 = 98/98 \text{ (میلیون تن)}$$

مقادیر روند برای سالهای ۱۳۵۶ تا ۱۳۶۶ به ترتیب با قرار دادن ۵ و ۴ و ... و -۴ و -۵ $X =$

در معادله خط روند به دست می‌آید

به طور مشابه اگر $X = 7$ ($X = 1368 - 1361 = 7$) را در معادله خط روند قرار دهیم برآورد سال 1368 به دست می آید. (میلیون تن) $Y(1368) = 95/03 - 3/95 \times 7 = 122/68$ نمودار داده‌ها و خط روند به صورت زیر است:



Payam Noor University Ebook

PNUweb

...کتابخانه الکترونیک پیام نور...

مثال ۳- سری زمانی زیر را رسم کنید و براساس اطلاعات جدول زیر یک خط راست و یک منحنی درجه دوم به داده‌ها برازش دهید.

سال	۱۹۰۱	۱۹۱۱	۱۹۲۱	۱۹۳۱	۱۹۴۱	۱۹۵۱	۱۹۶۱	۱۹۷۱
جمعیت (میلیون)	۲۳۸/۳	۲۵۲	۲۵۱/۲	۲۷۸/۹	۳۱۸/۵	۳۶۱	۴۳۹/۱	۵۴۷/۹

حل: $y = ۳۳۵/۸۶ + ۲۰/۶۶x$ ، $y = ۲۹۳/۰۲۲ + ۲۰/۶۶x + ۲/۰۴x^۲$

مثال ۴- منحنی روند $y = ab^x$ را به داده‌های زیر برازش دهید و مقدار روند را به ازاء $x = ۱$ حساب کنید.

x	۱	۲	۳	۴	۵
y	۱/۶	۴/۵	۱۳/۸	۴۰/۲	۱۳۵

حل: $\log y = \log a + x \log B \rightarrow y = A + Bx, y = \log y, A = \log a, B = \log b$

Payam Noor University Ebook

$y = ۱/۵۵۷۳$ ، $y = ۰/۵۲۳۱ \times (۲/۹۷۷)^x$

مثال ۵ - براساس اطلاعات جدول زیر:

سال (x)	۱۳۱۱	۱۳۲۱	۱۳۳۱	۱۳۴۱	۱۳۵۱	۱۳۶۱	۱۳۷۱
جمعیت (y)	۲۵	۲۵/۱	۲۷/۹	۳۱/۹	۳۶/۱	۴۳/۹	۵۴/۷

یک منحنی روند نمایی مانند $y = ab^x$ را با روش کمترین مربعات به داده‌ها برازش داده و مقادیر روند را به دست آورید. جمعیت را در سال ۱۳۸۱ برآورد کنید.

حل: منحنی روند $y = ۳۳/۶۰ \times (۱/۱۴۲)^u$ است، که در آن $u = \frac{x - ۱۹۴۱}{۱۰}$ ، $(y)_{u=۰} = ۳۳/۶۰$. مقادیر روند در سالهای ۱۳۱۱ تا ۱۳۷۱ به ترتیب عبارت‌اند از ۲۲/۵۶، ۲۵/۷۶، ۲۹/۴۲، ۳۳/۶۰، ۳۸/۳۷، ۴۳/۸۲، ۵۰/۰۴.



تعیین تغییرات فصلی

تعیین تغییرات فصلی

محاسبه تغییرات فصلی

WWW*PNUeB*COM

Payam Noor University Ebook

PNUeB

...کتابخانه الکترونیک پیام نور...



تعیین تغییرات فصلی S

برای تعیین تغییرات فصلی در معادله $Y = T.S.C.I$ باید مشخص کنیم که داده‌های یک سری زمانی چگونه از یک ماه به ماه دیگر در طول یک سال تغییر می‌کند. مجموعه‌ای از اعداد که مقادیر نسبی یک متغیر را در ماههای سال نشان می‌دهد شاخص فصلی آن متغیر می‌نامیم. مثلاً اگر مقدار فروش در فروردین، اردیبهشت، خرداد، ... به ترتیب ۵۰، ۱۲۰، ۹۰، ... درصد متوسط ماهانه در تمام سال باشد، اعداد ۵۰، ۱۲۰ و ۹۰ را شاخص فصلی آن سال می‌نامند. متوسط شاخص فصلی در تمام سال باید ۱۰۰٪ شود یعنی مجموع اعداد شاخص باید ۱۲۰۰٪ باشد.



برای محاسبه شاخص فصلی نیز روشهای مختلفی وجود دارد که بعضی از آنها را در زیر به اختصار شرح می دهیم.

۱- روش درصد متوسط سالانه

۲- روش ارتباط نسبی

۳- روش درصد میانگین متحرک

۴- روش درصد روند



روش درصد متوسط سالانه

در این روش داده‌های هر ماه را به صورت متوسط سالانه محاسبه می‌کنیم سپس درصدهای حاصل هر ماه را در سالهای مختلف در نظر گرفته میانگین یا میانۀ آنها را به دست می‌آوریم. اگر از میانگین استفاده کنیم بهتر آن است که از مقادیر فرین صرف‌نظر کنیم. درصدهای محاسبه‌شده در ۱۲ ماه شاخص فصلی خواهد بود اگر میانگین برابر ۱۰۰٪ شود. (اگر مجموع برابر ۱۲۰۰٪ نشود آن را با ضرب در یک عامل مناسب تصحیح می‌کنیم).

WWW*PNU*IR

روش ارتباط نسبی

در این روش داده هر ماه را به صورت درصد داده ماه قبل بیان می‌کنیم، سپس متوسط مقادیر حاصل را برای ماههای متناظر محاسبه می‌کنیم. در این صورت برحسب آنکه روند سری زمانی صعودی یا نزولی باشد درصد فروردین آینده ممکن است کمتر یا بیشتر از ۱۰۰٪ باشد با توجه به این اختلاف می‌توان درصدهای حاصل را تصحیح کرد. درصدهای حاصل همان شاخص فصلی خواهد بود.



روش درصد میانگین متحرک

در این روش میانگین متحرک ۱۲ ماهه محاسبه می‌شود. چون مقادیر حاصل در فاصله هر دو ماه قرار می‌گیرد، مجدداً یک میانگین متحرک ۲ ماهه را محاسبه می‌کنیم تا مقادیر حاصل در مقابل ماههای متناظر قرار گیرند. پس از محاسبه مقادیر فوق داده‌های اولیه را به صورت درصد میانگین متحرک ماهانه بیان می‌کنیم سپس متوسط درصدهای حاصل را به عنوان شاخص فصلی مطلوب در نظر می‌گیریم.

دقت کنید که در این محاسبات از مقادیر Y تغییرات مؤلفه فصلی S و نامنظم I حذف می‌شود و ارقام حاصل معادل TC خواهد بود. سپس با تقسیم مشاهدات اولیه بر TC خارج قسمت برابر SI می‌شود که با در نظر گرفتن متوسط آنها تغییرات نامنظم I نیز از مشاهدات حذف شده و نتیجه شاخص مناسبی برای S خواهد بود.



فصل دوم

تحلیل توصیفی سریهای زمانی

Payam Noor University Ebook

PNUeb

...کتابخانه الکترونیک پیام نور....



فصل دوم : تحلیل توصیفی سریهای زمانی

اهداف فصل

رسم نمودار سری زمانی

تبدیلها

برازش منحنی

صافی کردن

عملگر پسر

تفاضلی کردن

حذف تغییرات فصلی

خود همبستگی

همبستگی نگار

هدف کلی

آشنایی با روشهای توصیفی تحلیل سریهای زمانی.

هدفهای رفتاری

پس از مطالعه این فصل می‌توانید:

- اهداف تحلیل یک سری زمانی را بیان کنید،
- هدف از تحلیل یک سری زمانی را در موارد مختلف تشخیص دهید،
- روشهای توصیفی تحلیل سریهای زمانی را بیان کنید،
- سری زمانی مانا را تعریف کنید،
- با استفاده از نمودار حاصل از داده‌ها تبدیل مناسبی را برای داده‌ها بیابید،
- تبدیلهای مناسب را برای پایدار کردن واریانس و جمع‌ی کردن اثرهای فصلی استفاده کنید،

- به داده‌های غیرفصلی که شامل یک روند سالانه‌اند منحنی مناسبی را برازش دهید،
- از صافیهای خطی برای بررسی روند سری زمانی استفاده کنید،
- صافی تفاضلی کردن را برای مانا کردن سریهای زمانی به کار برید،
- صافی مناسبی برای حذف تغییرات فصلی به کار برید،
- ضریب خودهمبستگی را تعریف کنید،
- ضریب خودهمبستگی بین مشاهدات را به دست آورید،
- نمودار همبستگی نگار را رسم کنید،
- با استفاده از نمودار همبستگی نگار، سری تصادفی، سری با همبستگی کوتاه‌مدت، سری متناوب و سری نامانا را تشخیص دهید و تعبیر و تفسیر کنید،



رسم نمودار سری زمانی

اولین مرحله در تحلیل مجموعه‌ای از داده‌ها این است که نمودار مشاهدات را نسبت به زمان رسم کنیم. این کار اغلب مهمترین خواص یک سری زمانی مانند روند، تغییرات فصلی، ناپیوستگیها و مشاهدات دورافتاده را آشکار می‌سازد. رسم نمودار زمانی داده‌ها به آن سهولت که به نظر می‌رسد نیست. انتخاب مقیاسها، اندازه عرض از مبدأ و نحوه مشخص کردن داده‌ها ممکن است به‌طور اساسی تلقی شخصی از سری زمانی را تحت تأثیر قرار دهد و لذا تحلیل‌گر باید قضاوت دقیق را با تمرین فراگیرد.



تبدیلها

گاهی نمودار حاصل از داده‌ها تبدیلهای مناسبی را پیشنهاد می‌کنند. دلایل مختلف برای استفاده از این تبدیلهای مانند لگاریتم یا ریشه دوم عبارتند از:

الف) پایدار کردن واریانس:

ب) جمع کردن اثرهای فصلی:

WWW*PNUeB*COM



الف) پایدار کردن واریانس: اگر در سری روند وجود داشته باشد و به نظر برسد که با افزایش میانگین واریانس زیاد می شود، تبدیل داده ها توصیه می شود. بخصوص اگر انحراف معیار با میانگین نسبت مستقیم داشته باشد یک تبدیل لگاریتمی مناسب است.

WWW*PNUeB.COM



ب) جمع‌ی کردن اثرهای فصلی: اگر در سری، روند وجود داشته باشد و به نظر برسد که اثرهای فصلی با میانگین افزایش پیدا می‌کند، باید از تبدیلی استفاده کنیم که اثر فصلی را به صورت ثابت درآورد. بخصوص اگر اثر فصلی با میانگین نسبت مستقیم داشته باشد در آن صورت اثر فصلی را ضربی گوئیم و با یک تبدیل لگاریتمی این اثر به صورت جمع‌ی درمی‌آید

WWW*PNUeB.COM

سه الگوی فصلی که معمولاً به کار برده می شود عبارت اند از:

(الف) $X_t = m_t + S_t + \varepsilon_t$

(ب) $X_t = m_t S_t + \varepsilon_t$

(ج) $X_t = m_t S_t \varepsilon_t$

که در آنها X_t مقدار مشاهده در زمان t ، m_t میانگین، S_t اثر فصلی و ε_t خطای تصادفی است. الگوی (الف) کاملاً جمعی است و احتیاج به تبدیل ندارد. الگوی (ج) کاملاً ضربی است و به وضوح یک تبدیل لگاریتمی مناسب است. الگوی (ب) دارای مؤلفه فصلی ضربی و خطای جمعی است. اندازه نسبی این اثرها تبدیل مطلوب را تعیین می کند.



برازش منحنی

به داده‌های غیرفصلی که شامل یک روند سالانه‌اند می‌توان یک منحنی ساده مانند چند جمله‌ای (خطی، درجه دو، درجه سه و غیره)، یک منحنی گمپرتز یا یک منحنی لجستیک برازش داد. منحنی گمپرتز با معادله زیر تعریف می‌شود.

$$\text{Log} X_t = a - br^t$$

که در آن a ، b و r پارامترند و $0 < r < 1$. منحنی لجستیک با معادله زیر تعریف می‌شود.

$$X_t = \frac{a}{1 + be^{-ct}}$$

این دو منحنی به شکل S هستند و اگر $t \rightarrow \infty$ به یک مقدار مجانبی میل می‌کنند. تابعی که برازش داده شده است مقدار روند را مشخص می‌سازد و مانده‌ها تفاوت بین مشاهدات و این مقادیر روند هستند که برآورد نوسانات موضعی را نشان می‌دهند.

تبصره: منحنی مناسب با توجه به نمودار داده‌های سری زمانی انتخاب می‌شود. به خصوص اگر شکل نمودار شبیه S باشد منحنی لجستیک یا گمپرتز برازش داده می‌شود.



صافی کردن

روش دیگر برای بررسی روند یک سری زمانی استفاده از یک «صافی خطی» است که سری زمانی $\{X_t\}$ را به یک سری زمانی $\{Y_t\}$ تبدیل می‌کند. (به فصل اول مراجعه شود)

$$Y_t = \sum_{r=-q}^q a_r X_{t+r}$$

که در آن دنباله $\{a_r\}$ مجموعه وزنهایی است که به مشاهدات سری زمانی داده می‌شود. برای برآورد میانگین و هموار کردن نوسانات موضعی واضح است که باید وزنها را طوری انتخاب کنیم که $\sum_r a_r = 1$ که اغلب آن را «میانگین متحرک» می‌نامند. میانگینهای متحرک اغلب متقارن اختیار می‌شوند یعنی $q = s$ و $a_j = a_{-j}$ ساده‌ترین مثال از یک صافی متقارن میانگین متحرک ساده است که در آن

$$r = -q, -q+1, \dots, +q, \quad a_r = \frac{1}{2q+1}$$



عملگر پسرو و تفاضلی کردن

عملگر پسرو که به B نشان داده می‌شد روی شاخص زمانی عمل کرده و آن را به اندازه یک واحد زمانی عقب می‌برد و سری جدیدی را حاصل می‌کند. بخصوص اگر $\{X_t\}$ یک سری زمانی باشد داریم

$$B X_t = X_{t-1}$$

$$B^2(X_t) = X_{t-2}$$

به طور کلی برای هر عدد درست m داریم

$$B^m(X_t) = X_{t-m}$$

عملگر پسرو به صورت خطی عمل می‌کند، زیرا برای ثابتهای a ، b ، c و سریهای X_t و Y_t به آسانی می‌توان نوشت

$$B(aX_t + bY_t + c) = a[B(X_t)] + b[B(Y_t)] + c$$



تفاضلی کردن

یک صافی خاص که بخصوص برای حذف روند مفید است، عبارت از تفاضلی کردن سریهای زمانی است تا وقتی مانا شوند.

برای داده‌های غیرفصلی معمولاً تفاضلی کردن مرتبه اول کافی خواهد بود. عمل تفاضلی کردن در ضمیمه الف به تفصیل شرح داده شده است. در اینجا با توجه به سری زمانی X_1, X_2, \dots, X_N سری جدید تفاضلی شده را به صورت زیر تعریف می‌کنیم:

$$Y_t = X_{t+1} - X_t = \nabla X_{t+1}$$

گاهی تفاضلی کردن مرتبه دوم لازم می‌شود که آن را به صورت زیر تعریف می‌کنیم.

$$\nabla^2 X_{t+2} = \nabla X_{t+2} - \nabla X_{t+1} = (X_{t+2} - X_{t+1}) - (X_{t+1} - X_t) = X_{t+2} - 2X_{t+1} + X_t$$

مثال

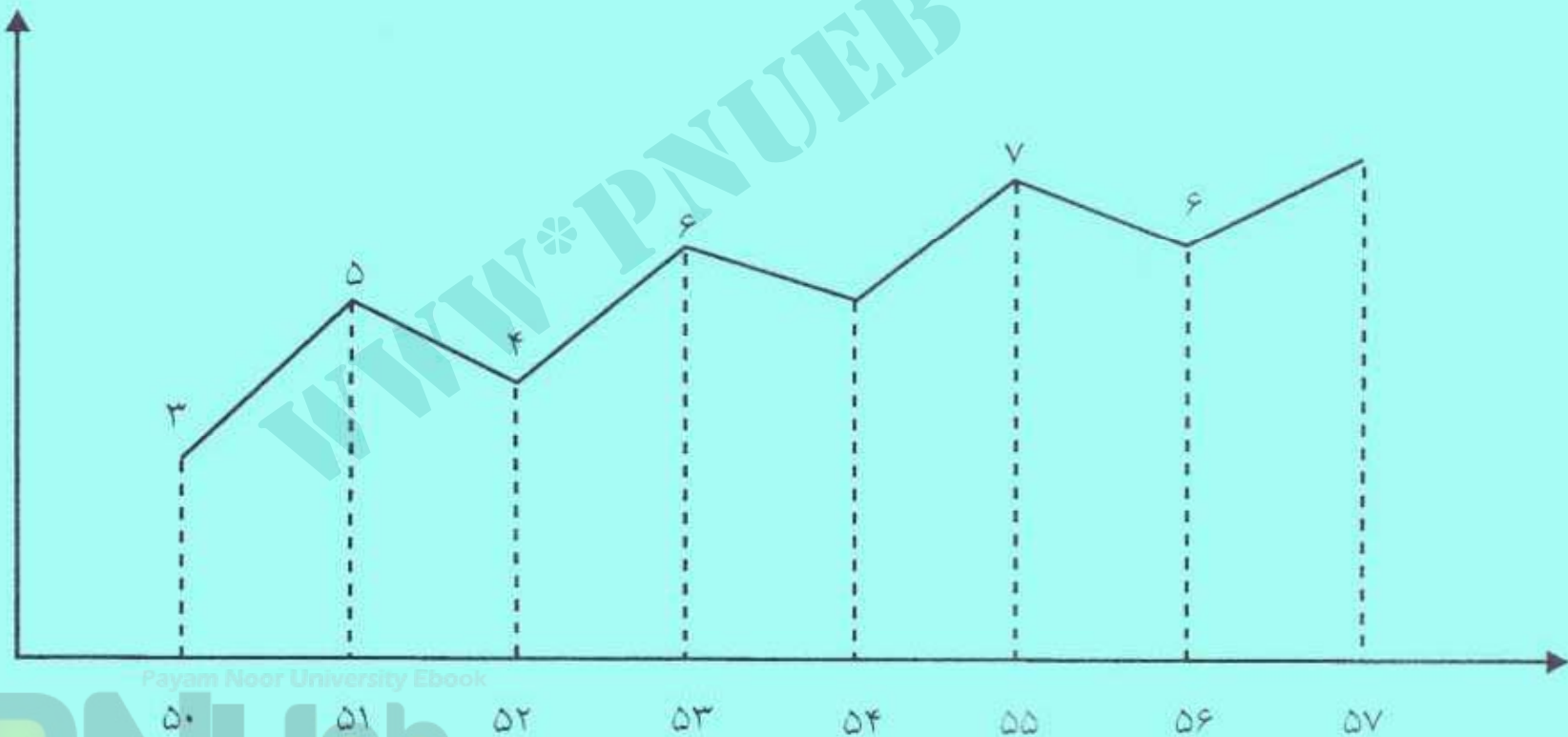


مثال

سری زمانی زیر را رسم کنید. سری حاصل از تفاضلی کردن مرتبه اول و دوم را نیز محاسبه کنید.

حل:

t	۱۳۵۰	۵۱	۵۲	۵۳	۵۴	۵۵	۵۶	۱۳۵۷
X_t	۳	۵	۴	۶	۵	۷	۶	۸



حل: سری حاصل از تفاضلی کردن مرتبه اول: اگر مشاهدات را به ترتیب

با X_1, X_2, \dots, X_9 نشان دهیم

$$Y_t = \nabla X_{t+1} = X_{t+1} - X_t$$

$$Y_1 = \nabla X_2 = X_2 - X_1 = 5 - 3 = 2$$

$$Y_2 = \nabla X_3 = X_3 - X_2 = 4 - 5 = -1$$

$$Y_3 = \nabla X_4 = X_4 - X_3 = 6 - 4 = 2$$

$$Y_4 = \nabla X_5 = X_5 - X_4 = 5 - 6 = -1$$

$$Y_5 = \nabla X_6 = X_6 - X_5 = 7 - 5 = 2$$

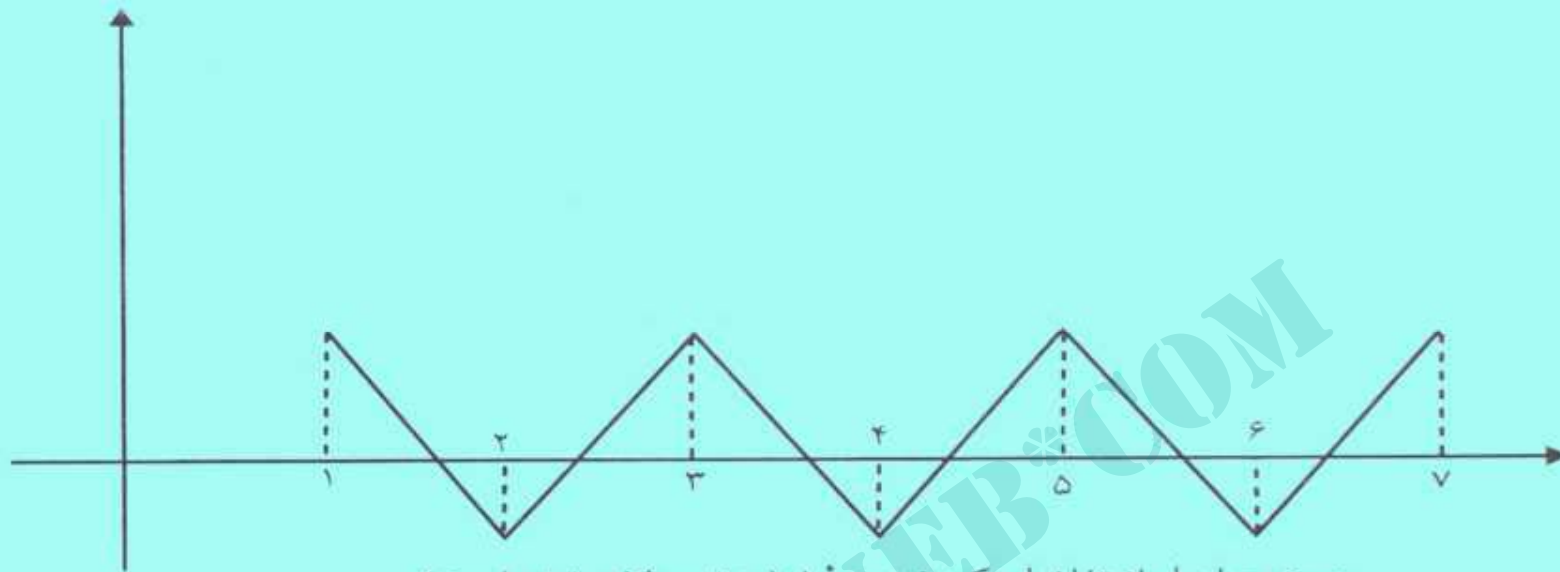
$$Y_6 = \nabla X_7 = X_7 - X_6 = 6 - 7 = -1$$

$$Y_7 = \nabla X_8 = X_8 - X_7 = 8 - 6 = 2$$

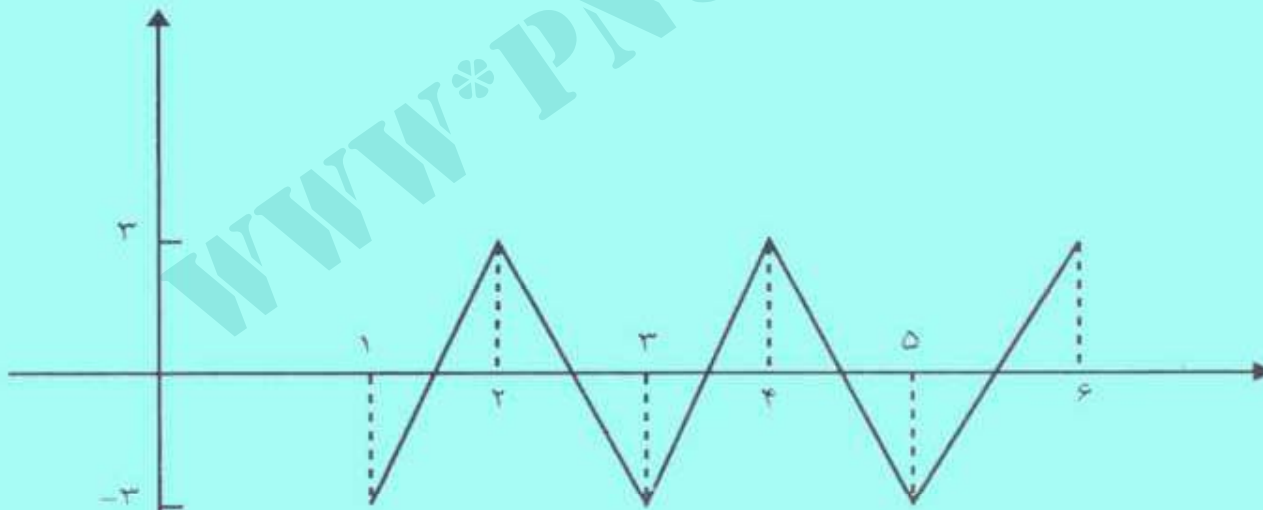
شکل

به همین ترتیب می توان سری حاصل از تفاضلی کردن مرتبه ۲ را به دست آورد

$$Y_1 = -3 \quad Y_2 = 3 \quad Y_3 = -3 \quad Y_4 = 3 \quad Y_5 = -3 \quad Y_6 = 3$$



سری حاصل از تفاضلی کردن مرتبه ۱ (روند حذف شده است)



سری حاصل از تفاضلی کردن مرتبه ۲ (روند حذف شده است)



حذف تغییرات فصلی

برای حذف تغییرات فصلی از داده‌های ماهانه معمولاً از یک صافی به صورت زیر استفاده می‌کنیم.

$$Y_t = \frac{\frac{1}{2}X_{t-6} + X_{t-5} + \dots + \frac{1}{2}X_{t+6}}{12}$$

و برای داده‌های ۳ ماهه از یک صافی به صورت زیر استفاده می‌کنیم.

$$Y_t = \frac{\frac{1}{2}X_{t-2} + X_{t-1} + \dots + \frac{1}{2}X_{t+2}}{4}$$

اثر فصلی را می‌توان با تفاضلی کردن نیز حذف کرد. مثلاً اگر داده‌ها ماهانه باشد از عملگر ∇_{12} استفاده می‌شود که تعریف آن به صورت زیر است:

$$\nabla_{12}X_t = X_t - X_{t-12}$$



خود همبستگی

تعریف خود همبستگی

تعریف ضریب خود همبستگی

مثال

WWW*PNUED*COM

Payam Noor University Ebook

PNUeb



خودهمبستگی

قبلاً با ضریب همبستگی دو متغیر X و Y آشنا شده‌اید. اگر $(X_1, Y_1), (X_2, Y_2), \dots, (X_N, Y_N)$ جفت مشاهده باشد ضریب همبستگی r به صورت زیر تعریف می‌شود

$$r = \frac{\sum (X_i - \bar{X})(Y_i - \bar{Y})}{\sqrt{\sum (X_i - \bar{X})^2 \sum (Y_i - \bar{Y})^2}}$$

برای آن که بینیم مشاهدات متوالی یک سری زمانی همبسته‌اند می‌توانیم از ایده‌ی بالا استفاده کنیم.



ضریب خودهمبستگی

ضریب خودهمبستگی بین مشاهداتی را که از هم به فاصله k قرار دارند به صورت زیر تعریف می شود:

$$r_k = \frac{\sum_{t=1}^{N-k} (X_t - \bar{X})(X_{t+k} - \bar{X})}{\sum_{t=1}^N (X_t - \bar{X})^2}, \quad k = 0, 1, 2, 3, \dots$$

که آن را همبستگی با تأخیر k نامند.

در عمل ضرایب خودهمبستگی را با محاسبه ضرایب اتوکواریانس، C_k ها به دست می آوریم که در مقایسه با فرمول کوواریانس به صورت زیر تعریف می شود

$$C_K = \frac{1}{N} \sum_{t=1}^{N-K} (X_t - \bar{X})(X_{t+k} - \bar{X}), \quad K \geq 0.$$

در این صورت با توجه به تعریف r_k داریم

$$r_k = \frac{C_k}{C_0}, \quad k = 0, 1, 2, \dots$$

معمولاً برای مقادیر k بزرگتر از $\frac{N}{4}$ نباید r_k ها را محاسبه کرد. (زیرا در این صورت خیلی از اطلاعات سری زمانی را از دست می دهیم.)

مثال

Payam Noor University Ebook

PNUweb



مثال

۵۰ مشاهده یک سری زمانی در جدول زیر داده شده‌اند.

الف) مقدار \hat{x}_{31} را با استفاده از ۸ مشاهده اول حساب کنید. ب) به منظور به دست آوردن $\hat{x}_{31}, \hat{x}_{32}, \dots, \hat{x}_{50}$ برای ۵۰ مشاهده، یک برنامه کامپیوتری بنویسید و مقادیر مطلوب را حساب کنید.

t	X_t									
۱-۱۰	۲۸۹	۲۸۵	۲۸۹	۲۸۶	۲۸۸	۲۸۷	۲۸۸	۲۹۲	۲۹۱	۲۹۱
۱۱-۲۰	۲۹۲	۲۹۶	۲۹۷	۳۰۱	۳۰۴	۳۰۴	۳۰۳	۳۰۷	۲۹۹	۲۹۶
۲۱-۳۰	۲۹۳	۳۰۱	۲۹۳	۳۰۱	۲۹۵	۲۸۴	۲۸۶	۲۸۶	۲۸۷	۲۸۴
۳۱-۴۰	۲۸۲	۲۷۸	۲۸۱	۲۷۸	۲۷۷	۲۷۹	۲۷۸	۲۷۰	۲۶۸	۲۷۲
۴۱-۵۰	۲۷۳	۲۷۹	۲۷۳	۲۸۰	۲۷۵	۲۷۱	۲۷۷	۲۷۸	۲۷۹	۲۸۳

حل:



حل: الف)

$$\bar{X} = 288 + \frac{1}{8}(1 - 3 + 1 - 2 + 0 - 1 + 0 + 4) = 288$$

$$C_0 = \frac{1}{8}(1 + 9 + \dots + 16) = 4$$

$$C_1 = \frac{1}{8}(-3 - 3 - \dots + 0) = -1$$

در نتیجه

$$r_1 = \frac{C_1}{C_0} = -0.25$$

ب) حال با نوشتن برنامه کامپیوتری و محاسبه r_i برای ۵۰ مشاهده سری زمانی جدول زیر به دست می آید

K	۱	۲	۳	۴	۵	۶	۷	۸	۹	۱۰	۱۱	۱۲
r_k	۰/۸۴	۰/۷۳	۰/۴۱	۰/۵۴	۰/۴۷	۰/۴۶	۰/۳۸	۰/۲۹	۰/۱۷	۰/۵	۰/۰۴	-۰/۰۱



همبستگی نگار

برای تعبیر و تفسیر سری زمانی، نمودار مجموعه‌ای از ضرایب خودهمبستگی را رسم می‌کنیم که آن را همبستگی نگار می‌نامند. برای این کار مقادیر k را روی محور x ها و مقادیر r_k ها را در مقابل آنها رسم می‌کنیم. معمولاً بررسی حالات زیر پیشنهاد می‌شود.

۱- سری تصادفی

۲- همبستگی کوتاه‌مدت

۳- سری متناوب

۴- سری نامانا



۱- سری تصادفی

اگر یک سری زمانی کاملاً تصادفی باشد، آنگاه به ازای مقادیر بزرگ N و تمام مقادیر $k \neq 0$ داریم

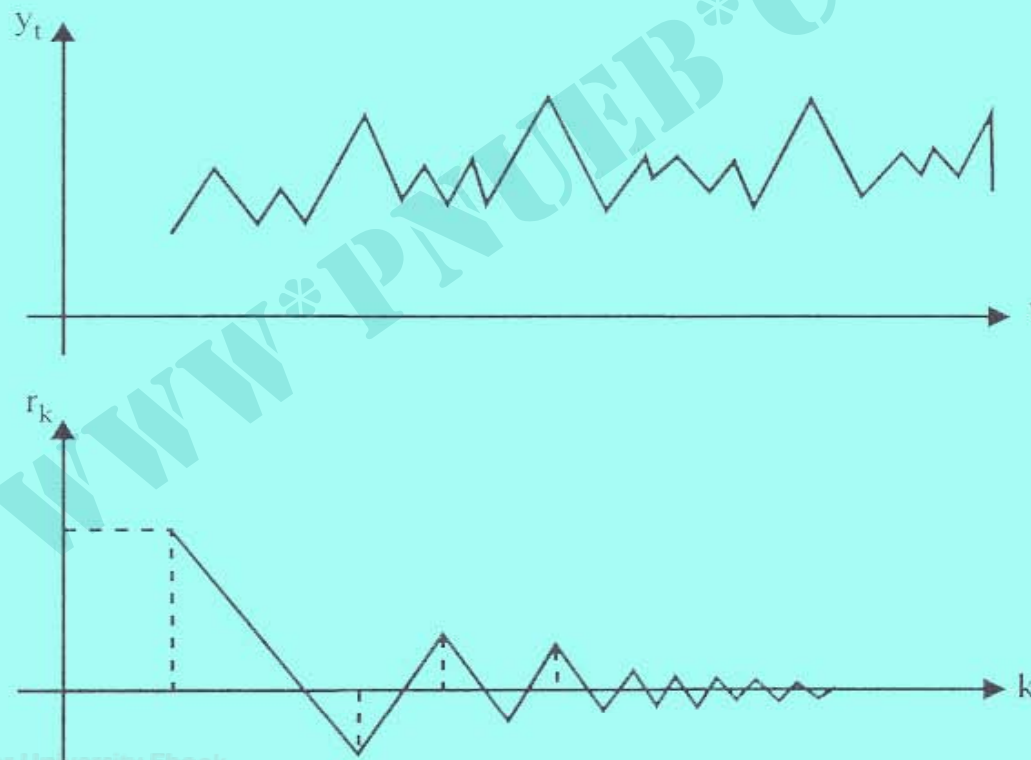
$$r_k = 0$$

در واقع ثابت می‌شود که توزیع متغیر تصادفی r_k تقریباً به صورت $N(0, 1/N)$ است. بنابراین، اگر یک سری زمانی تصادفی باشد انتظار داریم که ۱۹ مقدار از ۲۰ مقدار r_k در فاصله $\pm \frac{2}{\sqrt{N}}$ قرار گیرد (با احتمال ۹۵٪). یعنی اگر ۲۰ مقدار اولیه r_k را رسم کنیم انتظار داریم به طور متوسط یک مقدار معنی‌دار وجود داشته باشد حتی اگر سری زمانی واقعاً تصادفی باشد.



۲ - همبستگی کوتاه مدت

سریهای مانا اغلب همبستگی کوتاه مدت را نشان می دهند ، که به وسیله یک مقدار نسبتاً بزرگ r_1 و دو یا سه مقدار معنی دار دیگر r که به ترتیب کوچک می شوند مشخص می شود. برای تأخیرهای بزرگتر، مقادیر r_k تقریباً به صفر میل می کند. برای روشن شدن مطلب به شکل سری زمانی و همبستگی نگار متناظر آن توجه کنید.



Payam Noor University Ebook

سری زمانی، همبستگی کوتاه مدت را نشان می دهد.



۳ - سری متناوب

اگر یک سری زمانی در دو طرف میانگین به تناوب نوسان کند آن را سری متناوب می‌گویند و در این صورت همبستگی نگار نیز متناوب خواهد بود.

WWW*PNUWEB*COM



۴- سری نامانا

اگر سری زمانی دارای روند باشد مقادیر r_k نزولی نخواهد بود، مگر به ازای مقادیر بزرگ k دلیلش این است که مشاهده‌ای واقع در یک طرف میانگین کل باعث می‌شود که تعداد زیادی مشاهدات واقع در همان طرف میانگین به علت وجود روند قرار گیرند.



فصل سوم

آشنایی با مفاهیم بنیادی

Payam Noor University Ebook

PNUEB

...کتابخانه الکترونیک پیام نور...



فصل سوم : آشنایی با مفاهیم بنیادی

اهداف فصل

تعریف مانای اکید

تعریف مانای ضعیف

تعریف تابع اتوکواریانس

خواص توابع اتوکواریانس و همبستگی

تابع مشخصه

تابع خود همبستگی جزئی

برآورد توابع خود همبستگی

هدف کلی

آشنایی با توابع اتوکوواریانس و خودهمبستگی و خواص آنها.

هدفهای رفتاری

پس از مطالعه این فصل می‌توانید:

- تابع توزیع توأم سری زمانی $\{X_t: t \in T\}$ را تعریف کنید،
- شرایط مانایی اکید را برای یک سری زمانی بررسی کنید،
- شرایط مانایی ضعیف را برای یک سری زمانی بررسی کنید،
- تابع اتوکوواریانس و تابع خودهمبستگی را برای یک سری زمانی مانا به دست آورید،
- خواص تابع اتوکوواریانس و خودهمبستگی را بیان و ثابت کنید،
- ارتباط بین تابع مشخصه، تابع خودهمبستگی و تابع توزیع یک سری زمانی مانا را بنویسید،
- ماتریس خودهمبستگی را برای یک سری مانا بنویسید،
- خواص ماتریس خودهمبستگی را بیان و اثبات کنید،
- توابع خودهمبستگی را برآورد کنید،

تعریف

سری زمانی $\{X_t: t \in T\}$ را مانای اکید گوئیم اگر

$$F_{X_{t_1}, \dots, X_{t_n}}(x_{t_1}, \dots, x_{t_n}) = F_{X_{t_1+k}, \dots, X_{t_n+k}}(x_{t_1}, \dots, x_{t_n})$$

به ازای هر مجموعه از اندیسهای (t_1, \dots, t_n) و $(t_1 + k, \dots, t_n + k)$ متعلق به T و تمام $(x_{t_1}, \dots, x_{t_n})$ متعلق به حوزه مقادیر متغیر تصادفی X_t برقرار باشد.
بخصوص به ازای $n = 1$ و هر k داریم

$$F_{X_{t_1}}(x_{t_1}) = F_{X_{t_1+k}}(x_{t_1})$$

یعنی تابع توزیع در هر نقطه مجموعه اندیس گذار یکسان است. در نتیجه تمام X_t ها هم توزیع اند.

اگر سری $\{X_t, t \in T\}$ اکیداً مانا باشد و $E(X_t) < \infty$ ، آنگاه میانگین X_t به ازای هر مقدار t ثابت است زیرا تابع توزیع آن به ازای تمام t ها یکسان است.

$$E(X_t) = \mu, \quad \forall t \in T$$

همین طور اگر $EX_t^2 < \infty$ واریانس X_t ها به ازای هر t ثابت خواهد بود،

$$V(X_t) = \sigma^2, \quad \forall t \in T$$

اگر به ازای هر مجموعه متناهی از متغیرهای $(X_{t_1}, \dots, X_{t_n})$ تابع توزیع توأم آنها معلوم باشد، سری زمانی از نظر احتمال کاملاً معین است. ولی در بیشتر کاربردها تابع توزیع مجهول است. در این صورت مشخصات لازم سری زمانی را به کمک دو گشتاور اول و دوم به دست می آوریم.



تعریف

سری زمانی $\{X_t, t \in T\}$ را مانای ضعیف گوئیم اگر

۱ - میانگین X_t به t بستگی نداشته باشد، $EX_t = \mu$.

۲ - ماتریس کوواریانس $(X_{t_1}, \dots, X_{t_n})$ با ماتریس کوواریانس

$(X_{t_1+k}, \dots, X_{t_n+k})$ به ازای هر مجموعه (t_1, \dots, t_n) از مجموعه اندیس گذار و هر n برابر باشد.

چون میانگین X_t ثابت است می توان آن را برابر صفر فرض کرد. همچنین ماتریس

کوواریانس تابعی از فاصله بین مشاهدات است. یعنی کوواریانس X_t و X_{t+k} فقط به k بستگی

دارد و می توان نوشت

$$\text{cov}(X_t, X_{t+k}) = E(X_t \cdot X_{t+k}) = \gamma(k)$$



تعریف

تابع $\gamma(k)$ را تابع اتوکواریانس سری $\{X_t\}$ نامند و آن را با نماد اختصاری $acv.f$ نشان می دهند. معمولاً برای مقایسه خواص اساسی سریهای زمانی اغلب مفید است تابعی داشته باشیم که از واحد اندازه گیری مستقل باشد. برای این منظور تابع خودهمبستگی را به صورت زیر تعریف می کنیم

$$\rho(k) = \frac{\gamma(k)}{\gamma(0)}$$

و آن را با نماد اختصاری $ac.f$ نشان می دهند. همان طور که ملاحظه می شود مقدار $\rho(k)$ در نقطه $k = 0$ برابر ۱ است.



خواص توابع اتوکوواریانس و خودهمبستگی

تعریف. تابع $f(n)$ را نیمه معین مثبت گوئیم اگر به ازای هر مجموعه از اعداد حقیقی (a_1, \dots, a_n) و (t_1, \dots, t_n) داشته باشیم

$$\sum \sum a_i a_j f(t_i - t_j) \geq 0.$$

الف) تابع اتوکوواریانس یک سری زمانی مانا نیمه معین مثبت است.

ب) همواره داریم $|\rho(k)| \leq 1$

ج) تابع اتوکوواریانس یک سری زمانی حقیقی مانا، زوج است. یعنی

$$\gamma(k) = \gamma(-k)$$



قضیه

تابع اتوکوواریانس یک سری زمانی مانا نیمه معین مثبت است.

برهان: وقتی که $(t_1, \dots, t_n) \in T, EX_t = 0$ اگر $\gamma(t_i - t_j)$ تابع اتوکوواریانس X_{t_j}, X_{t_i}

باشد آنگاه

$$\begin{aligned} \sigma^2 \leq V \left[\sum a_i X_{t_i} \right] &= E \left\{ \sum_i \sum_j a_i a_j X_{t_i} X_{t_j} \right\} \\ &= \sum_i \sum_j a_i a_j E X_{t_i} X_{t_j} = \sum_i \sum_j a_i a_j \gamma(t_i - t_j) \end{aligned}$$



نتیجه

$$|\rho(k)| \leq 1 \quad \text{همواره داریم}$$

$$\leq \sum_i \sum_j a_i a_j \gamma(t_i - t_j) \quad \text{برهان: به ازای } n=2 \text{ رابطه}$$

را می توان به صورت زیر نوشت:

$$\leq a_1^2 \gamma(0) + a_2^2 \gamma(0) + 2 a_1 a_2 \gamma(t_1 - t_2)$$

$$\frac{1}{2}(a_1^2 + a_2^2) \geq -a_1 a_2 \frac{\gamma(t_1 - t_2)}{\gamma(0)}$$

که به ازای $t_1 - t_2 = k$ و $a_1 = a_2 = 1$ نتیجه می شود $\rho(k) \geq -1$ و به ازای $a_1 = a_2 = 1$

نتیجه می شود

$$\rho(k) \leq 1$$



قضیه

تابع اتوکواریانس یک سری زمانی حقیقی مانا، زوج است. یعنی

$$\gamma(k) = \gamma(-k)$$

برهان: فرض کنید $EX_t = \mu$ ، از مانایی سری زمانی نتیجه می شود

$$E(X_t, X_{t+h}) = \gamma(h), \forall t, t+h \in T$$

یا

$$\gamma(-h) = E(X_t X_{t-h})$$

حال با تبدیل t به $t+h$ نتیجه می شود

$$\gamma(-h) = E(X_{t+h}, X_t) = E(X_t X_{t+h}) = \gamma(h)$$



تابع مشخصه

اگر $G(x)$ تابع توزیع یک متغیر تصادفی X باشد تابع

$$\phi(h) = \int e^{ixh} dG(x)$$

را تابع مشخصه X می نامند که در آن

$$e^{ixh} = \cos xh + i \sin xh$$

به آسانی دیده می شود تابع $\phi(h)$ دارای خواص زیر است:

$$\text{الف) } \phi(0) = 1$$

$$\text{ب) همواره } |\phi(h)| \leq 1$$

ج) تابع ϕ پیوسته یکنواخت است.



تابع خود همبستگی جزئی

تعریف ماتریس خود همبستگی

قضیه

تعریف تابع خود همبستگی جزئی

WWW*PNUeB*COM

Payam Noor University Ebook

PNUeB



ماتریس خودهمبستگی

ماتریس خودهمبستگی برای یک سری مانا به طول N به صورت زیر تعریف می شود

$$P_N = \begin{bmatrix} 1 & \rho_1 & \rho_2 & \dots & \rho_{N-1} \\ \rho_1 & 1 & \rho_1 & \dots & \rho_{N-2} \\ \cdot & \cdot & \cdot & \dots & \cdot \\ \cdot & \cdot & \cdot & \dots & \cdot \\ \rho_{N-1} & \cdot & \cdot & \dots & 1 \end{bmatrix}$$

که در آن سطر اول به صورت زیر نوشته می شود

$$\rho(1, k), k = 1, \dots, N, \rho(1, 1) = \rho_{11} = \frac{\gamma(0)}{\gamma(0)} = 1, \rho(1, 2) = \rho_{12} = \frac{\gamma(1)}{\gamma(0)} = \rho_1, \dots$$

سطر دوم با محاسبه $\rho(2, k), \dots$ ، سطر آخر با محاسبه $\rho(N, K)$ به دست می آید.



قضیه

ماتریس خودهمبستگی معین مثبت است.

برهان: به ازای هر مجموعه از اعداد $\lambda_1, \lambda_2, \dots, \lambda_N$ که همه صفر نباشند

می نویسیم

$$Y_i = \lambda_1 X_{i_1} + \dots + \lambda_N X_{i_N} = \lambda' X_i$$

که در آن λ' یک بردار سطری و X_i یک بردار ستونی است.

واریانس این متغیر که در ضمن منفی نخواهد بود عبارت است از

$$\sigma_{Y_i}^2 = V((Y_i)) = V(\lambda' X_i) = \lambda' V(X_i) \lambda = \lambda' P_N \lambda \sigma_{X_i}^2$$

چون $\sigma_{X_i}^2$ مثبت است داریم $\lambda' P_N \lambda > 0$ یعنی P_N معین مثبت است.



تابع خودهمبستگی جزئی

وسیله مهم دیگری برای مطالعه سربهای زمانی تابع خودهمبستگی جزئی است که آن را با نماد اختصاری ($\rho_{ac.f}$) نشان می‌دهیم.

ماتریس خودهمبستگی برای یک سری مانا به طول K به صورت زیر تعریف می‌شود

$$P_k = \begin{bmatrix} 1 & \rho_1 & \rho_2 & \dots & \rho_{k-1} \\ \rho_1 & 1 & \rho_1 & \dots & \rho_{k-2} \\ \vdots & \vdots & \vdots & \dots & \vdots \\ \vdots & \vdots & \vdots & \dots & \vdots \\ \rho_{k-1} & \cdot & \cdot & \dots & 1 \end{bmatrix}$$

حال می‌توانیم تابع خودهمبستگی جزئی با تأخیر K را به صورت زیر تعریف کنیم

$$\varphi_{kk} = \frac{|P_k^*|}{|P_k|}$$

که در آن P_k ماتریس خودهمبستگی $K \times K$ و P_k^* همان ماتریس قبلی است که ستون آخر آن با بردار $(\rho_1, \rho_2, \dots, \rho_k)'$ عوض می‌شود.

برآورد توابع خودهمبستگی

فرض کنید سری زمانی X_{t_1}, \dots, X_{t_N} داده شده است. ابتدا مقادیر زیر را به کمک این نمونه محاسبه می‌کنیم

$$\hat{\mu} = \bar{X}_t = \frac{1}{N} \sum_{v=1}^N X_{t_v}$$

$$\begin{aligned} \hat{\gamma}(k) = C_k &= \frac{1}{N} \sum_{t=K+1}^N (X_t - \bar{X}_t)(X_{t-k} - \bar{X}_t) \\ &= \frac{1}{N} \sum_{t=1}^{N-k} (X_t - \bar{X}_t)(X_{t+k} - \bar{X}_t) \end{aligned}$$

برای $K = 0$ داریم

$$\hat{\gamma}(0) = C_0 = \frac{1}{N} \sum_{t=1}^N (X_t - \bar{X}_t)^2$$

$$\hat{\rho} = \frac{C_k}{C_0} = \frac{\hat{\gamma}(k)}{\hat{\gamma}(0)}$$



فصل چهارم

فرآیندهای تصادفی و الگوهای سری زمانی مانا

Payam Noor University Ebook

PNUEB

...کتابخانه الکترونیک پیام نور...



فصل چهارم : فرآیند های تصادفی والگوهای سری زمانی مانا

اهداف فصل

فرآیند تصادفی محض

فرآیند قدم زدن تصادفی

فرآیندهای اتورگرسیو

معادلات یول واکر

فرآیند های میانگین متحرک

نمایش سری زمانی به صورت فرآیند میانگین متحرک اتورگرسیو

دوگانگی بین فرآیند میانگین متحرک و اتورگرسیو

فرآیندهای اتورگرسیو میانگین متحرک

هدف کلی

معرفی الگوهای سری زمانی مانا

هدفهای رفتاری

پس از مطالعه این فصل می‌توانید:

- فرآیند تصادفی محض را تعریف کنید،
- فرآیند قدم زدن تصادفی را تعریف و شرط مانایی آن را بیان کنید،
- فرآیند اتورگرسیو مرتبه p ، $AR(p)$ را تعریف و شرط مانایی آن را بیان کنید،
- فرآیند اتورگرسیو مرتبه اول، $AR(1)$ را تعریف و تابع اتوکوواریانس، خودهمبستگی میانگین و واریانس آن را به دست آورید،
- تابع خودهمبستگی جزئی فرآیند $AR(1)$ را به دست آورید،

- فرآیند اتورگرسیو مرتبه دوم $AR(2)$ را تعریف و تابع اتوکوواریانس، خودهمبستگی و میانگین و واریانس آن را به دست آورید،
- تابع خودهمبستگی جزئی فرآیند $AR(2)$ را به دست آورید،
- تابع خودهمبستگی و خودهمبستگی جزئی و واریانس فرآیند $AR(p)$ را به دست آورید،
- فرآیندهای میانگین متحرک مرتبه q ، $MA(q)$ را تعریف کنید،
- تابع خودهمبستگی و خودهمبستگی جزئی را برای فرآیندهای $MA(1)$ و $MA(2)$ به دست آورید،
- تابع اتوکوواریانس و خودهمبستگی را برای فرآیند $MA(q)$ در حالت کلی به دست آورید،
- سری زمانی را به صورت فرآیند میانگین متحرک و اتورگرسیو نمایش دهید،
- موارد دوگانگی فرآیندهای AR و فرآیندهای MA را بنویسید و اثبات کنید،

فرآیند تصادفی محض

تعریف

هر فرآیند گسسته $\{Z_t, t \in T\}$ را که به صورت دنباله‌ای از متغیرهای تصادفی ناهمبسته از توزیعی با میانگین ثابت $E(Z_t) = \mu_z$ (که معمولاً صفر فرض می‌شود)، با واریانس ثابت $\text{var}(Z_t) = \sigma_z^2$ و تابع اتوکوواریانس $\gamma_k = \text{COV}(Z_t, Z_{t-k}) = 0$ (به ازای $k \neq 0$) است یک فرآیند تصادفی محض می‌نامند. از این تعریف نتیجه می‌گیریم که فرآیند تصادفی محض $\{Z_t\}$ ماناست با تابع اتوکوواریانس

$$\gamma_k = \text{COV}(Z_t, Z_{t-k}) = \begin{cases} \sigma_z^2 & k = 0 \\ 0 & k \neq 0 \end{cases}$$

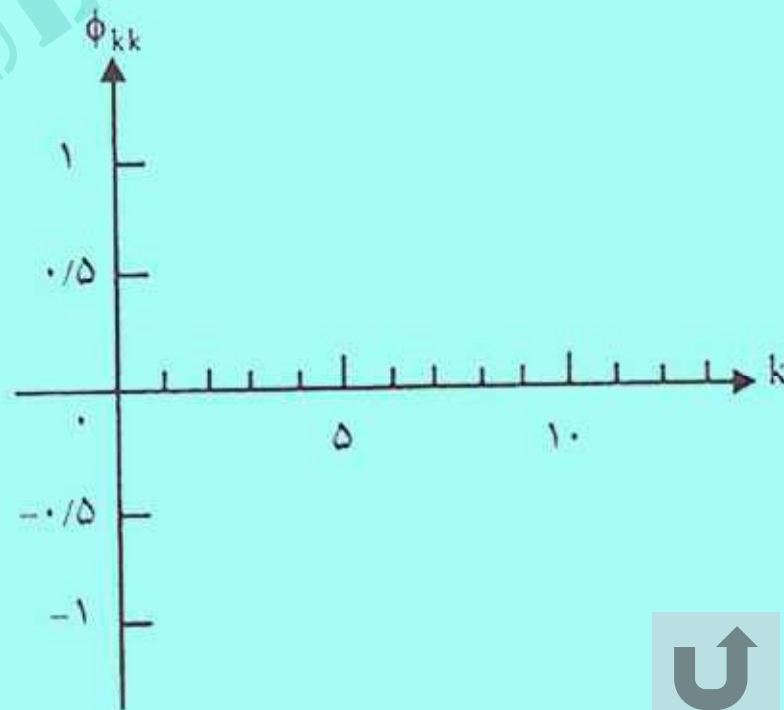
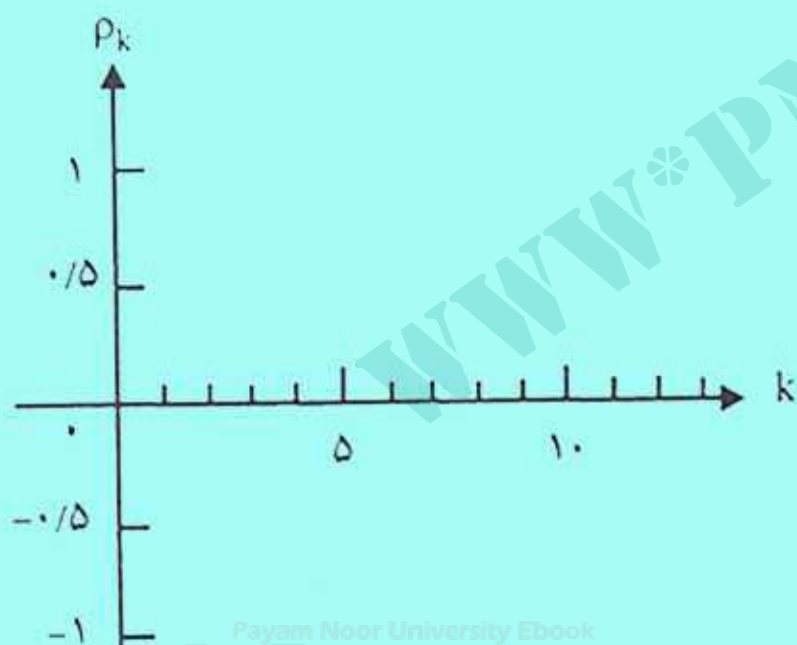
و تابع خودهمبستگی

$$\rho_k = \frac{\gamma_k}{\gamma_0} = \begin{cases} 1 & k = 0 \\ 0 & k \neq 0 \end{cases}$$

و تابع خودهمبستگی جزئی

$$\phi_{kk} = \frac{|P_k^*|}{|P_k|} = \begin{cases} 1, & k = 0 \\ 0, & k \neq 0 \end{cases}$$

چون مطابق تعریف برای هر فرآیند داریم $\rho_0 = \phi_{00} = 1$ لذا وقتی درباره خودهمبستگی و خودهمبستگی جزئی صحبت می شود منظور مقادیر ρ_k ، ϕ_{kk} برای $k \neq 0$ است. پدیده اصلی فرآیند اغتشاش این است که توابع خودهمبستگی و خودهمبستگی جزئی آن برابر صفر است. تابع خودهمبستگی $(ac.f)$ و تابع خودهمبستگی جزئی $(pac.f)$ یک فرآیند اغتشاش در شکل زیر نشان داده شده است



Payam Noor University Ebook

PNUweb

فرآیند قدم زدن تصادفی

فرآیند $\{X_t\}$ را فرآیند قدم زدن تصادفی گویند هرگاه

$$* \quad X_t = X_{t-1} + Z_t$$

که در آن $\{Z_t\}$ فرآیند تصادفی ناهمبسته محض با میانگین μ_Z و واریانس σ_Z^2 است و معمولاً وقتی $t = 0$ است فرآیند از صفر شروع می‌شود ($X_0 = 0$) لذا با جایگذاریهای متوالی به جای X_{t-1} ، X_{t-2} ، ... در رابطه (*) خواهیم داشت.

$$X_t = \sum_{i=1}^t Z_i$$

$$\text{var}(X_t) = t\sigma_z^2$$

$$E(X_t) = t\mu$$

لذا این فرآیند مانا نیست زیرا میانگین و واریانس آن با زمان تغییر می‌کند. اگر این فرآیند را یک بار تفاضلی کنیم نتیجه‌اش فرآیند تصادفی محض است که ماناست، یعنی داریم

$$Z_t = \nabla X_t = X_t - X_{t-1}$$

قیمت سهام از معروفترین مثالهایی از سریهای زمانی است که رفتار آن بسیار شبیه قدم زدن تصادفی است.

خطای تصادفی + قیمت آن سهم در روز $(t - 1)$ = قیمت هر سهم در روز t



فرآیند اتورگرسو

تعریف فرآیند اتورگرسو

فرآیند اتورگرسو مرتبه اول

فرآیند اتورگرسو مرتبه دوم

فرآیند اتورگرسو مرتبه p

چند مثال حل شده

فرآیندهای اتورگرسیو

فرض می‌کنیم $\{Z_t\}$ یک فرآیند تصادفی محض با میانگین صفر و واریانس σ_Z^2 باشد، فرآیند $\{X_t\}$ را فرآیند اتورگرسیو مرتبه p گویند هرگاه

$$X_t = \alpha_1 X_{t-1} + \alpha_2 X_{t-2} + \dots + \alpha_p X_{t-p} + Z_t$$

اگر به مسئله رگرسیون فکر کنیم می‌بینیم که الگوی بالا در واقع یک الگوی رگرسیون چندگانه است با این تفاوت که در اینجا X_t روی متغیرهای مستقل رگرسیون نشده بلکه روی مقادیر گذشته X_t رگرسیون شده است و به این دلیل است که فرآیند $\{X_t\}$ را اتورگرسیو نامیده‌اند. یک

فرآیند اتورگرسیو مرتبه p را با نماد اختصاری $AR(p)$ نمایش می دهند. این قبیل فرآیندها را یول در سال ۱۹۲۰ معرفی کرده است. این فرآیند همواره وارون پذیر است، یعنی همواره بدون گذاشتن شرط یا شرایطی روی α_i ها می توان Z_t را به صورت یک ترکیب خطی موزون از مشاهدات حال و گذشته فرآیند نوشت. این فرآیند را با توجه عملگر انتقال پسرو می توان به صورت زیر نوشت

$$\phi(B)X_t = Z_t$$

که در آن

$$\phi(B) = 1 - \alpha_1 B - \alpha_2 B^2 - \dots - \alpha_p B^p$$

ثابت می شود که برای مانایی فرآیند اتورگرسیو باید ریشه های $\phi(B) = 0$ از لحاظ قدر مطلق بزرگتر از واحد باشند (خارج دایره واحد باشند).



فرآیند اتورگرسو مرتبه اول

فرآیند اتورگرسو مرتبه اول

تابع خود همبستگی فرآیند اتورگرسو مرتبه اول

میانگین و واریانس فرآیند اتورگرسو مرتبه اول

تابع خود همبستگی جزئی فرآیند اتورگرسو مرتبه اول

خلاصه

مثال

فرآیند اتورگرسیو مرتبه اول $AR(1)$

اگر در فرآیند $AR(p)$ قرار دهیم $p = 1$ ، فرآیند $AR(1)$ حاصل می شود که به صورت زیر است

$$X_t = \alpha_1 X_{t-1} + Z_t$$

با استفاده از عملگر پسرو می توان نوشت

$$(1 - \alpha_1 B)X_t = Z_t$$

این فرآیند همواره وارون پذیر است، برای این که فرآیند مانا باشد باید ریشه های $1 - \alpha_1 B = 0$ از لحاظ قدر مطلق بزرگتر از واحد باشند که از آن $|\alpha_1| < 1$ نتیجه می شود. به دلیل این که مقدار X_t به طور کامل به وسیله X_{t-1} تعیین می شود، گاهی اوقات فرآیند $AR(1)$ را فرآیند مارکوف نیز می نامند.



تابع خودهمبستگی فرآیند $AR(1)$

اگر طرفین معادله $X_t = \alpha_1 X_{t-1} + Z_t$ را در X_{t-k} ضرب کنیم و امیدهای ریاضی جملات طرفین تساوی را به دست آوریم خواهیم داشت.

$$E(X_{t-k} X_t) = E(\alpha_1 X_{t-1} X_{t-k}) + E(Z_t X_{t-k})$$

برای $k \geq 1$ چون خطای زمان حال مستقل از گذشته فرآیند است ($E Z_t X_{t-k} = 0, k > 0$)، به صورت

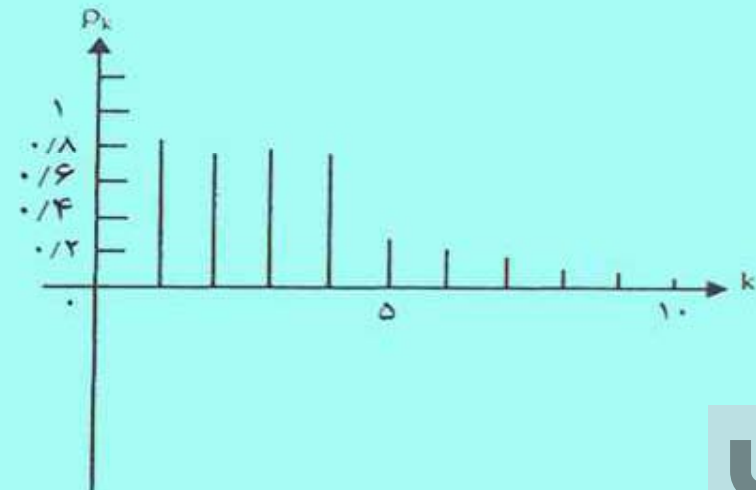
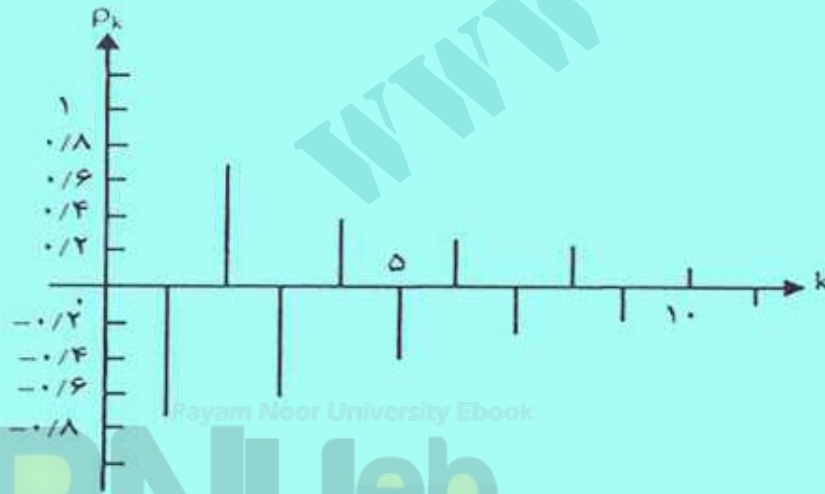
$$\gamma_k = \alpha_1 \gamma_{k-1}, \quad k \geq 1$$

درمی آید. اگر طرفین این تساوی را بر واریانس فرآیند (یعنی $\sigma_x^2 = \gamma_0$) تقسیم کنیم تابع خودهمبستگی فرآیند $AR(1)$ به دست می آید

$$\frac{\gamma_k}{\gamma_0} = \alpha_1 \frac{\gamma_{k-1}}{\gamma_0}, \quad k \geq 1$$

یا

$$\rho_k = \alpha_1 \rho_{k-1}, \quad k \geq 1$$



میانگین و واریانس فرآیند اتورگرسیو مرتبه اول

اگر از طرفین تساوی $X_t = \alpha_1 X_{t-1} + Z_t$ امید ریاضی بگیریم داریم

$$EX_t = \alpha_1 EX_{t-1} + 0 \quad \text{یا}$$

$$\mu_x - \alpha_1 \mu_x = 0 \rightarrow (1 - \alpha_1) \mu_x = 0$$

ولی چون $0 \neq 1 - \alpha_1 = \phi(1)$ ، باید داشته باشیم $EX_t = \mu_x = 0$

برای به دست آوردن واریانس فرآیند $AR(1)$ در عبارت

$$EX_t X_{t-k} = E(\alpha_1 X_{t-1} X_{t-k}) + E(X_{t-k} Z_t)$$

مقدار $k = 0$ را قرار داده و با توجه به $EX_t^2 = \sigma_x^2$ (چون میانگین صفر است) و

$$EZ_t X_t = \sigma_z^2 \quad \text{داریم،}$$

$$\sigma_x^2 = \alpha_1 \gamma_1 + \sigma_z^2$$

از طرفی به ازاء $k = 1$ عبارت بالا نتیجه می دهد $\gamma_1 = \alpha_1 \gamma_0 = \alpha_1 \sigma_x^2$ پس

$$\sigma_x^2 = \alpha_1 (\alpha_1 \sigma_x^2) + \sigma_z^2$$

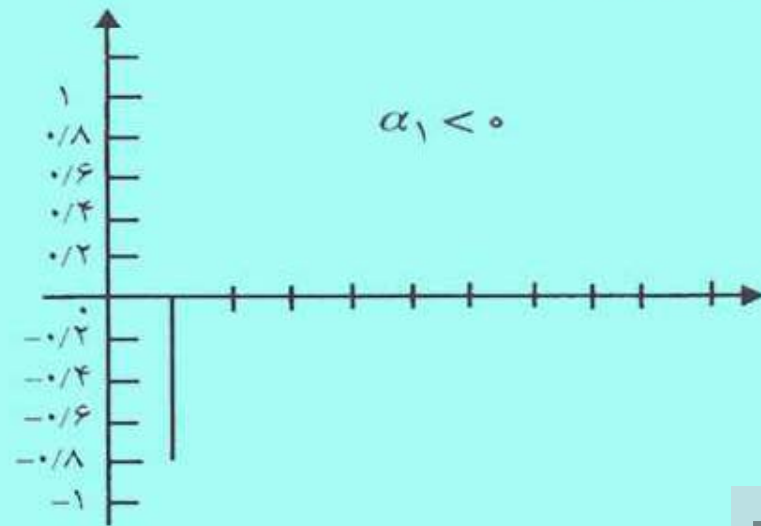
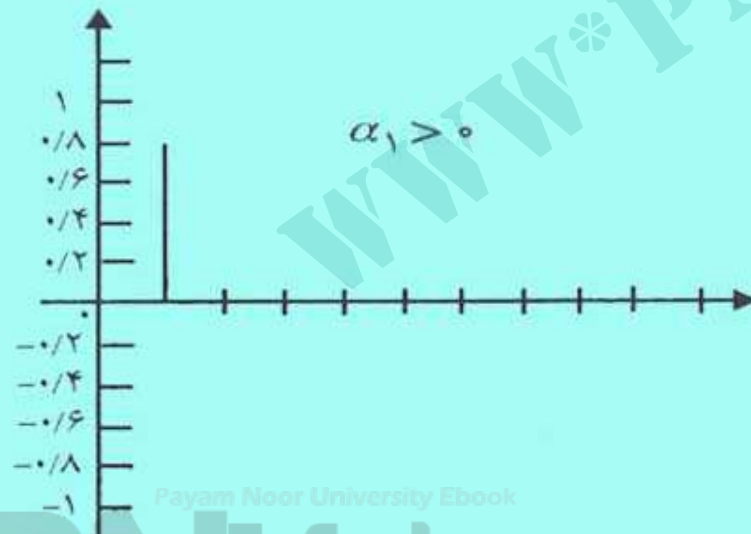
$$\sigma_x^2 = \gamma_0 = \frac{\sigma_z^2}{1 - \alpha_1^2} \quad \text{و با } \alpha_1 \neq 1 \text{ داریم}$$

تابع خودهمبستگی جزئی فرآیند اتورگرسیو مرتبه اول

با توجه به تعریف تابع خودهمبستگی جزئی $\phi_{kk} = |P_k^*| / |P_k|$ می توان نوشت،

$$\phi_{kk} = \begin{cases} \rho_1 = \alpha_1, & k=1 \\ 0, & k \geq 2 \end{cases}$$

ملاحظه می کنیم که وقتی تأخیر بین مشاهدات سری زمانی مساوی ۲ یا بیش از ۲ است تابع خودهمبستگی جزئی برابر صفر است (قطع می شود) ولی تابع خودهمبستگی جزئی وقتی $k=1$ است برابر ضریب همبستگی بین مشاهدات متوالی سری زمانی است که با توجه به علامت α_1 مقدار آن مثبت یا منفی است. تابع خودهمبستگی جزئی فرآیند $AR(1)$ در شکل زیر نشان داده شده است.



Payam Noor University Ebook

PNUweb



به طور خلاصه میانگین، واریانس، تابع اتوکواریانس، تابع خودهمبستگی و تابع خودهمبستگی جزئی فرآیند $AR(1)$ به صورت زیرند.

$$\mu_x = EX_t = 0$$

$$\sigma_x^2 = \gamma_0 = \frac{\sigma_z^2}{1 - \alpha_1^2}, \quad \alpha_1 \neq 1$$

$$\gamma_k = \alpha_1 \gamma_{k-1}, \quad k \geq 1$$

$$\rho_k = \alpha_1^k, \quad k = 0, 1, 2, \dots$$

$$\phi_{kk} = \begin{cases} \rho_1 = \alpha_1, & k = 1 \\ \cdot, & k \geq 2 \end{cases}$$



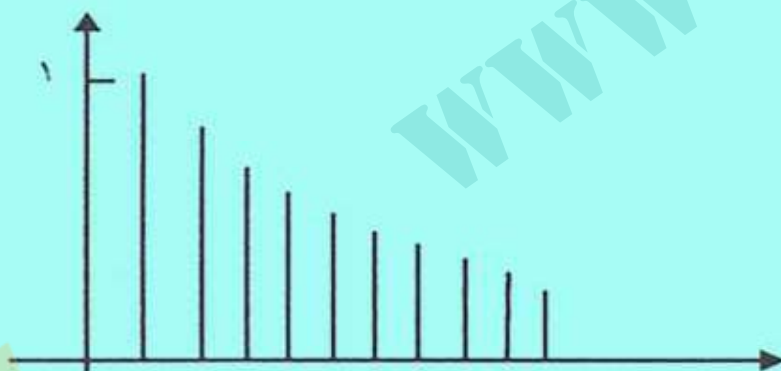
مثال

تابع خودهمبستگی فرآیند $X_t = 0/4 X_{t-1} + Z_t$ ، $X_t = 0/9 X_{t-1} + Z_t$ را به دست آورده و آنها را رسم کنید (به ازاء $k = 1, 2, 3, \dots, 10$)
 حل: با توجه به تابع خودهمبستگی فرآیند یعنی $k = 0, 1, 2, \dots$ داریم $\rho_k = \alpha_1^k$

$$\rho_k = 0/9^k \quad , \quad k = 0, 1, 2, \dots, 10$$

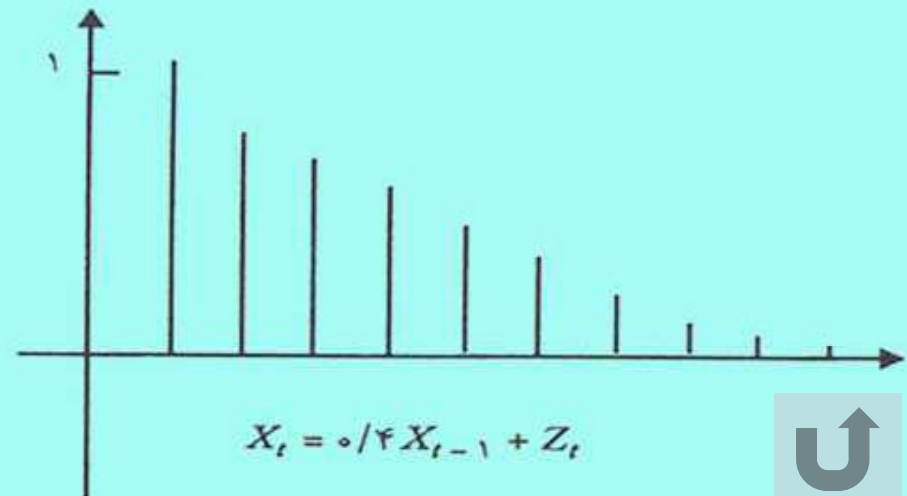
$$\rho_k = 0/4^k \quad , \quad k = 0, 1, 2, \dots, 10$$

توجه می‌کنیم که برای α_1 نزدیک به ± 1 تنزل نمایی خودهمبستگیها کاملاً کند بوده $(0/9^6 = 0/53)$ ولی برای α_1 کوچکتر این تنزل سریع است $(0/4^6 = 0/0041)$. سری نسبتاً هموار و برای α_1 های منفی، یک سری دنداندار داریم. شبیه‌سازی کامپیوتری این سریها مطالب بالا را در نمودارهای زیر مشخص می‌کند.



Payam Noor University Ebook

$$X_t = 0/9 X_{t-1} + Z_t$$



$$X_t = 0/4 X_{t-1} + Z_t$$



فرآیند اتورگرسو مرتبه دوم

فرآیند اتورگرسو مرتبه دوم

میانگین و تابع اتوکواریانس فرآیند اتورگرسو مرتبه دوم

تابع خود همبستگی فرآیند اتورگرسو مرتبه دوم

واریانس فرآیند اتورگرسو مرتبه دوم

تابع خود همبستگی جزئی فرآیند اتورگرسو مرتبه دوم

نمودار توابع خود همبستگی و خودهمبستگی جزئی چند فرآیند

اتورگرسو مرتبه دوم



فرآیند اتورگرسیو مرتبه دوم

اگر در فرآیند کلی $AR(p)$ قرار دهیم $p = 2$ ، فرآیند $AR(2)$ نتیجه می شود که به صورت زیر است

$$X_t = \alpha_1 X_{t-1} + \alpha_2 X_{t-2} + Z_t$$

با استفاده از عملگر پسرو (عملگر B) فرآیند را به صورت زیر می توان نوشت

$$(1 - \alpha_1 B - \alpha_2 B^2) X_t = Z_t$$

یا

$$\phi(B) X_t = Z_t$$

که در آن $\phi(B) = 1 - \alpha_1 B - \alpha_2 B^2$. این فرآیند متناهی همواره وارون پذیر است و برای این که مانا شود باید ریشه های $\phi(B) = 0$ از لحاظ قدر مطلق بزرگتر از واحد باشند (ریشه های خارج دایره واحد).



میانگین و تابع اتوکواریانس فرآیند $AR(2)$

با توجه به فرض $EZ_t = 0$

$$\mu_x = \alpha_1 \mu_x + \alpha_2 \mu_x + 0$$

در نتیجه

$$(1 - \alpha_1 - \alpha_2) \mu_x = 0$$

که در آن با توجه به شرط مانایی فرآیند $\Phi(1) = 1 - \alpha_1 - \alpha_2 \neq 0$ ، نتیجه می‌شود

$$\mu_x = 0$$

برای به دست آوردن تابع اتوکواریانس طرفین تساوی بالا را در k ضرب نموده و امیدهای ریاضی طرفین تساوی را به دست آوریم،

$$EX_t X_{t-k} = \alpha_1 E(X_{t-1} X_{t-k}) + \alpha_2 E(X_{t-2} X_{t-k}) + E(Z_t X_{t-k})$$

و با توجه به

$$E(Z_t X_{t-k}) = 0, \quad k \geq 1$$

داریم

$$\gamma_k = \alpha_1 \gamma_{k-1} + \alpha_2 \gamma_{k-2}, \quad k \geq 1$$

از حل این معادله تفاضلی، γ_k تعیین می‌شود.



تابع خودهمبستگی فرآیند اتورگرسیو مرتبه دوم

اگر طرفین تابع اتوکوواریانس را بر σ_x^2 بخش کنیم خواهیم داشت،

$$\rho_k = \alpha_1 \rho_{k-1} + \alpha_2 \rho_{k-2}, \quad k \geq 1$$

در حالت خاص، اگر $k = 1, 2$ داریم،

$$\rho_1 = \frac{\alpha_1}{1 - \alpha_2}$$

$$\rho_2 = \frac{\alpha_1^2}{1 - \alpha_2} + \alpha_2 = \frac{\alpha_1^2 + \alpha_2 - \alpha_2^2}{1 - \alpha_2}$$

و برای $k \geq 3$ ، ρ_k به طور بازگشتی از معادله $k \geq 1$ و $\rho_k = \alpha_1 \rho_{k-1} + \alpha_2 \rho_{k-2}$ به دست می آید. از حل این معادله تفاضلی یا $(1 - \alpha_1 B - \alpha_2 B^2) \rho_k = 0$ می توان ρ_k را به دست آورد.

برای تعیین ρ_k از معادله تفاضلی خطی با ضرایب ثابت $\rho_k = \alpha_1 \rho_{k-1} + \alpha_2 \rho_{k-2}$ ، سه حالت اتفاق می افتد.

حالت اول: اگر معادله مفسر $y^2 - \alpha_1 y - \alpha_2 = 0$ دارای دو ریشه حقیقی و متمایز باشد، یعنی $a_1^2 + 4a_2 > 0$ ، در این صورت تابع خودهمبستگی به صورت زیر خواهد بود.

$$\rho_k = A_1 G_1^k + A_2 G_2^k = A_1 \left[\frac{a_1 + \sqrt{a_1^2 + 4a_2}}{2} \right]^k + A_2 \left[\frac{a_1 - \sqrt{a_1^2 + 4a_2}}{2} \right]^k$$

حالت دوم: اگر ریشه های معادله مفسر مکرر باشند یعنی $a_1^2 + 4a_2 = 0$ ، در این صورت جواب معادله تفاضلی یعنی ρ_k به صورت زیر خواهد بود.

$$\rho_k = (A + Bk) G_*^k$$

حالت سوم: اگر $a_1^2 + 4a_2 < 0$ ، در این صورت معادله مفسر دارای ریشه های مختلط است و جواب معادله تفاضلی یعنی ρ_k به صورت زیر خواهد بود

$$\rho_k = s^k C \cos(\alpha k + D)$$



واریانس فرآیند $AR(2)$

$$\sigma_x^2 = \frac{(1 - \alpha_2) \sigma_z^2}{(1 + \alpha_2)(1 - \alpha_1 - \alpha_2)(1 + \alpha_1 - \alpha_2)}$$

برای این که سمت راست مثبت باشد لازم است هریک از عوامل صورت و مخرج کسر مثبت باشند یعنی باید داشته باشیم

$$\begin{cases} \alpha_1 + \alpha_2 < 1 \\ \alpha_2 - \alpha_1 < 1 \\ 1 > \alpha_2 > -1 \end{cases}$$

که همان شرایط مانایی فرآیند $AR(2)$ است.



تابع خودهمبستگی جزئی فرآیند $AR(2)$

با توجه به تعریف تابع خودهمبستگی جزئی

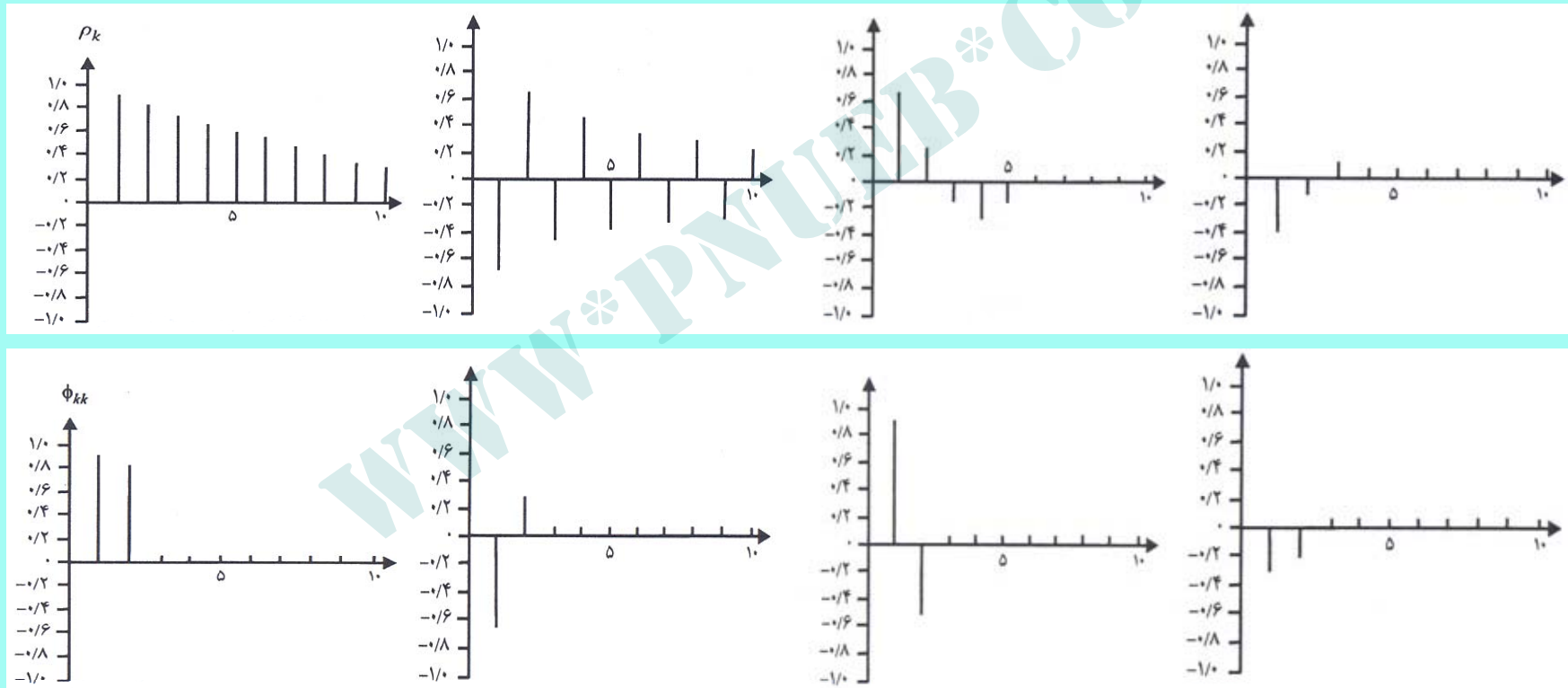
$$\phi_{kk} = \frac{|P_k^*|}{|P_k|} = \frac{\begin{vmatrix} 1 & \rho_1 & \rho_2 & \dots & \rho_1 \\ \rho_1 & 1 & \rho_1 & \dots & \rho_2 \\ \rho_2 & \rho_1 & 1 & \dots & \rho_2 \\ \cdot & \cdot & \cdot & \dots & \cdot \\ \rho_{k-1} & \rho_{k-2} & \rho_{k-3} & \dots & \rho_k \end{vmatrix}}{\begin{vmatrix} 1 & \rho_1 & \rho_2 & \dots & \rho_{k-1} \\ \rho_1 & 1 & \rho_1 & \dots & \rho_{k-2} \\ \cdot & \cdot & \cdot & \dots & \cdot \\ \cdot & \cdot & \cdot & \dots & \cdot \\ \rho_{k-1} & \rho_{k-2} & \rho_{k-3} & \dots & 1 \end{vmatrix}}$$

و با توجه به $\rho_k = \alpha_1 \rho_{k-1} + \alpha_2 \rho_{k-2}, k \geq 1$ داریم،

$$\phi_{11} = \rho_1 = \frac{\alpha_1}{1 - \alpha_2} \quad \text{و} \quad \phi_{22} = \frac{\begin{vmatrix} 1 & \rho_1 \\ \rho_1 & \rho_2 \end{vmatrix}}{\begin{vmatrix} 1 & \rho_1 \\ \rho_1 & 1 \end{vmatrix}} = \alpha_2 \quad \text{و} \quad \phi_{kk} = 0, k \geq 3$$



شکل زیر تابع خودهمبستگی جزئی و تابع خودهمبستگی مربوط به چند فرآیند $AR(2)$ را نشان می‌دهد. بنابراین ملاحظه می‌کنیم که تابع خودهمبستگی جزئی یک فرآیند $AR(2)$ بعد از تأخیر ۲ قطع می‌شود.



فرآیند $AR(p)$

تابع خود همبستگی فرآیند $AR(p)$

تابع خود همبستگی جزئی فرآیند $AR(p)$

واریانس فرآیند $AR(p)$

WWW*PNU*EB*COM



تابع خودهمبستگی فرآیند $AR(p)$

تابع خودهمبستگی ρ_k با توجه به معادله تفاضلی زیر تعیین می شود

$$\phi_p(B)\rho_k = (1 - \alpha_1 B - \alpha_2 B^2 - \dots - \alpha_p B^p)\rho_k = 0, \quad k > 0$$

بنابراین می توان نوشت،

$$\phi_p(B) = \prod_{i=1}^m (1 - G_i B)^{d_i}$$

که در آن $\sum_{i=1}^m d_i = p$, G_i^{-1} , $i = 1, 2, \dots, m$ ریشه های مرتبه d_i معادله $\phi(B) = 0$ است، با

استفاده از نتیجه قضیه مربوط به ضمیمه ب داریم،

$$\rho_k = \sum_{i=1}^m G_i^k \sum_{j=0}^{d_i-1} A_{ij} K^j$$

اگر به ازای هر i , $d_i = 1$ ، آنگاه تمام G_i^{-1} ها متمایز بوده و عبارت بالا به صورت زیر خلاصه می شود.

$$\rho_k = \sum_{i=1}^p A_i G_i^k, \quad k > 0$$

$$\rho_k = \sum_{i=1}^m G_i^k \sum_{j=0}^{d_i-1} A_{ij} K^j$$

چون برای یک فرآیند مانا $|G_i| < 1$ یا $|G_i^{-1}| > 1$ ، بنابراین تابع خودهمبستگی ρ_k

ترکیبی از افتهای نمایی و موجهای سینوسی میراست (که بستگی به ریشه‌های $\phi_p(B) = 0$

دارد) موجهای سینوسی وقتی ظاهر می‌شوند که ریشه‌ها مختلط باشند.



تابع خودهمبستگی جزئی فرآیند کلی $AR(p)$

با توجه به معادله $\rho_k = \alpha_1 \rho_{k-1} + \alpha_2 \rho_{k-2} + \dots + \alpha_p \rho_{k-p}, k > 0$ می بینیم که

برای $K > P$ ستون آخر ماتریس P_k^* در ϕ_{kk} را می توان به صورت یک ترکیب خطی از ستونهای

قبلی آن نوشت. بنابراین تابع خودهمبستگی جزئی بعد از تأخیر P صفر می شود و این یک

خاصیت مهم برای شناسایی یک الگوی AR در ساختن الگوی سری زمانی است.



واریانس فرآیند $AR(p)$

اگر طرفین معادله $X_t = \alpha_1 X_{t-1} + \alpha_2 X_{t-2} + \dots + \alpha_p X_{t-p} + Z_t$ را در X_t ضرب کرده و امید ریاضی بگیریم خواهیم داشت،

$$E(X_t^2) = E(\alpha_1 X_t X_{t-1}) + E(\alpha_2 X_t X_{t-2}) + \dots + E(\alpha_p X_t X_{t-p}) + E Z_t X_t$$

و از آن نتیجه می شود

$$\gamma_0 = \alpha_1 \gamma_1 + \alpha_2 \gamma_2 + \dots + \alpha_p \gamma_p + \sigma_z^2$$

که با استفاده از $\rho_k = \frac{\gamma_k}{\gamma_0}$ به صورت زیر نوشته می شود،

$$\gamma_0 (1 - \alpha_1 \rho_1 - \alpha_2 \rho_2 - \dots - \alpha_p \rho_p) = \sigma_z^2$$

و یا

$$\gamma_0 = \frac{\sigma_z^2}{1 - \alpha_1 \rho_1 - \alpha_2 \rho_2 - \dots - \alpha_p \rho_p}$$

که واریانس فرآیند یعنی $\gamma_0 = \sigma_x^2$ را بر حسب σ_z^2 و پارامترهای $\alpha_1, \alpha_2, \dots, \alpha_p$ و مقادیر $\rho_1, \rho_2, \dots, \rho_p$ بیان می کند.

- چند مثال حل شده

مثال ۱- تابع خودهمبستگی فرآیند اتورگرسیو مرتبه اول $X_t = 0.7X_{t-1} + Z_t$ را پیدا کرده و آن را به ازاء $k = 0, 1, 2, 3, 4, 5, 6$ رسم کنید.

حل:

مثال ۲- تابع خودهمبستگی فرآیند $AR(2)$ ، $X_t = \frac{1}{12}X_{t-1} + \frac{1}{12}X_{t-2} + Z_t$ را به دست آورید.

حل:

مثال ۳- تابع خودهمبستگی فرآیند $X_t = \frac{1}{2}X_{t-1} - \frac{1}{16}X_{t-2} + Z_t$ را به دست آورید.

حل:



مثال ۱- تابع خودهمبستگی فرآیند اتورگرسیو مرتبه اول $X_t = 0.7X_{t-1} + Z_t$ را پیدا کرده و آن را به ازاء $k = 0, 1, 2, 3, 4, 5, 6$ رسم کنید.


حل: تابع خودهمبستگی فرآیند $AR(1)$ ، $X_t = \alpha_1 X_{t-1} + Z_t$ به صورت زیر است

$$\rho_k = \alpha_1^k$$

بنابراین تابع خودهمبستگی فرآیند $X_t = 0.7X_{t-1} + Z_t$ عبارت است از

$$\rho_k = 0.7^k$$

$$\left\{ \begin{array}{l} k=0 \\ \rho_0=1 \end{array} \right. \left\{ \begin{array}{l} k=1 \\ \rho_1=0.7 \end{array} \right. \left\{ \begin{array}{l} k=2 \\ \rho_2=0.7^2 \end{array} \right. \left\{ \begin{array}{l} k=3 \\ \rho_3=0.7^3 \end{array} \right. \left\{ \begin{array}{l} k=4 \\ \rho_4=0.7^4 \end{array} \right. \left\{ \begin{array}{l} k=5 \\ \rho_5=0.7^5 \end{array} \right. \left\{ \begin{array}{l} k=6 \\ \rho_6=0.7^6 \end{array} \right.$$



مثال ۲- تابع خودهمبستگی فرآیند $AR(2)$ ، $\frac{1}{12}X_{t-1} + \frac{1}{12}X_{t-2} + Z_t$ را به دست آورید.

حل: معادله مفسر عبارت است از $y^2 - \frac{1}{12}y - \frac{1}{12} = 0$

$$\Delta = \alpha_1^2 + 4\alpha_2 = \frac{1}{144} + \frac{4}{12} = \frac{49}{144} > 0$$

پس معادله مفسر دو ریشه حقیقی متمایز دارد، در نتیجه جواب معادله تفاضلی

$$\rho_k = \frac{1}{12}\rho_{k-1} + \frac{1}{12}\rho_{k-2}$$

به صورت زیر است،

$$\rho_k = A_1 G_1^k + A_2 G_2^k$$

$$G_i = \frac{+\frac{1}{12} \pm \frac{\sqrt{49}}{12}}{2}, \quad i = 1, 2$$

$$G_1 = \frac{1}{24} = \frac{1}{24}, \quad G_2 = -\frac{6}{24} = -\frac{1}{4}$$

با استفاده از شرایط مرزی $\rho_0 = 1$ و $\rho_1 = \frac{\alpha_1}{1 - \alpha_2}$ مقادیر A_1 و A_2 را تعیین می‌کنیم.

$$\rho_0 = 1 \rightarrow A_1 + A_2 = 1$$

$$\rho_1 = \frac{1/12}{1 - 1/12} \rightarrow \frac{1}{3}A_1 - \frac{1}{4} = \frac{1}{11}$$

$$\frac{1}{3}A_1 - \frac{1}{4}(1 - A_1) = \frac{1}{11}$$

$$\frac{1}{3}A_1 + \frac{1}{4}A_1 = \frac{1}{11} + \frac{1}{4} = \frac{4 + 11}{44} = \frac{15}{44}$$

$$\frac{7A_1}{12} = \frac{15}{44} \rightarrow A_1 = \frac{15}{44} \times \frac{12}{7} = \frac{45}{77}$$

$$A_2 = 1 - A_1 = 1 - \frac{45}{77} = \frac{32}{77}$$

پس تابع خودهمبستگی عبارت خواهد بود از

$$\rho_k = \frac{45}{77} \left(\frac{1}{3}\right)^k + \frac{32}{77} \left(-\frac{1}{4}\right)^k, \quad k = 0, 1, 2, \dots$$

Payam Noor University Ebook

PNUweb

...کتابخانه الکترونیک پیام نور...



مثال ۳ - تابع خودهمبستگی فرآیند $X_t = \frac{1}{2}X_{t-1} - \frac{1}{16}X_{t-2} + Z_t$ را به دست آورید.

حل: تابع خودهمبستگی در معادله تفاضلی $\rho_k = \frac{1}{2}\rho_{k-1} - \frac{1}{16}\rho_{k-2}, k = 0$ صدق می‌کند. برای حل آن ابتدا معادله مفسر را تشکیل می‌دهیم

$$y^2 - \frac{1}{2}y + \frac{1}{16} = 0$$

$$\alpha_1^2 + 4\alpha_2 = \frac{1}{4} - \frac{1}{4} = 0$$

پس این معادله ریشه مکرر دارد و در این حالت تابع خودهمبستگی به صورت زیر است

$$\rho_k = (A + Bk)G_0^k$$

در اینجا

$$G_0 = \frac{\frac{1}{2} \pm \sqrt{\frac{1}{4} - \frac{1}{4}}}{2} = \frac{1}{4}$$

حال با توجه به شرایط مرزی $\rho_0 = 1$ و $\rho_1 = \frac{\alpha_1}{1 - \alpha_2}$ داریم،

$$\rho_0 = 1 \quad (A + B \times 0) G^0 = 1 \quad , \quad A = 1$$

$$\rho_1 = \frac{\frac{1}{2}}{1 + \frac{1}{16}} = \frac{1}{17} \rightarrow \frac{1}{17} = (1 + B) \left(\frac{1}{4}\right)^1$$

پس تابع خودهمبستگی به صورت زیر است

$$1 + B = \frac{32}{17} \rightarrow B = \frac{32}{17} - 1 = \frac{15}{17}$$

$$\rho_k = \left(1 + \frac{15}{17}k\right) \left(\frac{1}{4}\right)^k$$



معادلات یول - والکر

اگر در معادله $\rho_k = \alpha_1 \rho_{k-1} + \alpha_2 \rho_{k-2} + \dots + \alpha_p \rho_{k-p}$, $k \geq 1$ قرار دهیم، $k = 1, 2, \dots, p$ و توجه کنیم که $\rho_0 = 1$ و $\rho_{-k} = 0$ خواهیم داشت

$$\rho_1 = \alpha_1 + \alpha_2 \rho_1 + \dots + \alpha_p \rho_{p-1}$$

$$\rho_2 = \alpha_1 \rho_1 + \alpha_2 + \dots + \alpha_p \rho_{p-2}$$

.....

.....

$$\rho_p = \alpha_1 \rho_{p-1} + \alpha_2 \rho_{p-2} + \dots + \alpha_p$$

این دستگاه معادلات را معادلات یول - والکر می نامند. با داشتن مقادیر $\alpha_1, \alpha_2, \dots, \alpha_p$ از حل این معادلات خطی می توانیم $\rho_1, \rho_2, \dots, \rho_p$ را به دست آوریم، با استفاده از معادله

$$\rho_k = \alpha_1 \rho_{k-1} + \alpha_2 \rho_{k-2} + \dots + \alpha_p \rho_{k-p}, \quad k \geq 1$$

می توانیم ρ_k را برای تأخیرهای بالاتر به دست آوریم.



فرآیند های میانگین متحرک

تعریف فرآیند میانگین متحرک

فرآیند میانگین متحرک مرتبه اول

فرآیند میانگین متحرک مرتبه دوم

فرآیند میانگین متحرک مرتبه q

چند مثال حل شده



فرآیندهای میانگین متحرک

اگر $\{Z_t\}$ فرآیند تصادفی محض با میانگین صفر و واریانس σ_z^2 باشد در آن صورت فرآیند $\{X_t\}$ را میانگین متحرک تا مرتبه q گوئیم هرگاه،

$$X_t = \beta_0 Z_t - \beta_1 Z_{t-1} - \dots - \beta_q Z_{t-q}$$

که در آن β_i ها ثابت اند و معمولاً $\beta_0 = 1$ در نظر گرفته می شود. با استفاده از عملگر پسرو، این فرآیند به صورت زیر نوشته می شود.

$$X_t = \theta(B)Z_t$$

که در آن

$$\theta(B) = 1 - \beta_1 B - \beta_2 B^2 - \dots - \beta_q B^q$$

این فرآیند همواره ماناست و برای این که وارون پذیر باشد باید ریشه های $\theta(B) = 0$ از لحاظ قدر مطلق بزرگتر از واحد باشند.



فرآیند میانگین متحرک مرتبه اول

تعریف فرآیند میانگین متحرک مرتبه اول

تابع خود همبستگی فرآیند میانگین متحرک مرتبه اول

تابع خود همبستگی جزئی فرآیند میانگین متحرک مرتبه اول

WWW*PNU*COM



فرآیند میانگین متحرک مرتبه اول

فرآیند $\{X_t\}$ میانگین متحرک مرتبه اول است هرگاه داشته باشیم،

$$\begin{aligned} X_t &= Z_t - \beta_1 Z_{t-1} \\ &= (1 - \beta_1 B) Z_t \end{aligned}$$

که در آن $\{Z_t\}$ فرآیند اغتشاش با میانگین صفر و واریانس ثابت σ_z^2 است. با توجه به $EZ_t = 0$ معلوم می شود که میانگین فرآیند صفر خواهد بود یعنی $\mu_x = EX_t = 0$. فرآیند میانگین متحرک مرتبه اول با فرض $q = 1$ از فرآیند $MA(q)$ به دست می آید.



تابع خودهمبستگی فرآیند $MA(1)$

$$\begin{aligned}\gamma_k &= \text{cov}(X_t, X_{t-k}) = \text{cov}(Z_t - \beta_1 Z_{t-1}, Z_{t-k} - \beta_1 Z_{t-k-1}) \\ &= EZ_t Z_{t-k} - \beta_1 EZ_t Z_{t-k-1} - \beta_1 EZ_{t-1} Z_{t-k} + \beta_1^2 EZ_{t-1} Z_{t-k-1}\end{aligned}$$

تابع γ_k را به ازای $k = 0, 1, 2, \dots$ مورد مطالعه قرار می‌دهیم. به ازای $k = 0$ داریم،

$$\gamma_0 = EZ_t^2 + \beta_1^2 EZ_{t-1}^2 = \sigma_z^2 + \beta_1^2 \sigma_z^2$$

پس واریانس فرآیند $MA(1)$ عبارت است از

$$\text{var}(X_t) = \gamma_0 = \sigma_z^2 (1 + \beta_1^2)$$

$$\gamma_1 = -\beta_1 \sigma_z^2$$

اگر $k = 1$ ، داریم

به همین ترتیب می‌توان دید که به ازای $k \geq 2$ ، $\gamma_k = 0$. پس تابع اتوکواریانس فرآیند $MA(1)$

به‌طور خلاصه عبارت است از

$$\gamma_k = \begin{cases} \sigma_z^2 (1 + \beta_1^2) & k = 0 \\ -\beta_1 \sigma_z^2 & k = 1 \\ 0 & k \geq 2 \end{cases}$$



تابع خودهمبستگی جزئی فرآیند $MA(1)$

با توجه به تعریف تابع خودهمبستگی جزئی $\phi_{kk} = |P_k^*| / |P_k|$ و با استفاده از تابع خودهمبستگی فرآیند می توان نوشت

$$\phi_{kk} = \frac{-\beta_1^k (1 - \beta_1^2)}{1 - \beta_1^2 (k+1)}, \quad k \geq 1$$

برخلاف تابع خود همبستگی که بعد از تاخیر یک، صفر می شود، تابع خودهمبستگی جزئی فرآیند $MA(1)$ ، بسته به علامت β_1 (در نتیجه علامت ρ_1)، به طور نمایی تنزل می کند. می توان دید که مانند تابع خودهمبستگی در مورد تابع خودهمبستگی جزئی نیز داریم

$$|\phi_{kk}| < \frac{1}{2}$$



فرآیند میانگین متحرک مرتبه دوم

تعریف فرآیند میانگین متحرک مرتبه دوم

واریانس فرآیند میانگین متحرک مرتبه دوم

تابع اتوکواریانس فرآیند میانگین متحرک مرتبه دوم

تابع خود همبستگی فرآیند میانگین متحرک مرتبه دوم

تابع خود همبستگی جزئی فرآیند میانگین متحرک مرتبه دوم

نمودار توابع خود همبستگی و خود همبستگی جزئی چند فرآیند

میانگین متحرک مرتبه دوم

فرآیند میانگین متحرک مرتبه دوم

فرآیند میانگین متحرک مرتبه دوم به صورت زیر است

$$X_t = Z_t - \beta_1 Z_{t-1} - \beta_2 Z_{t-2}$$

که در آن $\{Z_t\}$ فرآیند تصادفی محض با میانگین صفر است. یک فرآیند میانگین متحرک مرتبه دوم $\{X_t\}$ همواره ماناست. شرط وارون‌پذیری این فرآیند این است که ریشه‌های $\phi(B) = 1 - \beta_1 B - \beta_2 B^2 = 0$ از لحاظ قدر مطلق بزرگتر از واحد باشند، که از آن نتیجه می‌شود

$$\begin{cases} \beta_2 + \beta_1 < 1 \\ \beta_2 - \beta_1 < 1 \\ -1 < \beta_2 < 1 \end{cases}$$

با توجه به عملگر پسرو، فرآیند $MA(2)$ به صورت زیر نوشته می‌شود

$$X_t = \phi(B)Z_t$$

که در آن $\phi(B) = 1 - \beta_1 B - \beta_2 B^2$.



واریانس فرآیند $MA(2)$

با توجه به مقدار $X(t)$ داریم:

$$\gamma_0 = \text{var}(X_t) = \text{var}(Z_t - \beta_1 Z_{t-1} - \beta_2 Z_{t-2})$$

$$= E \left[(Z_t - \beta_1 Z_{t-1} - \beta_2 Z_{t-2}) - 0 \right]^2$$

$$= E \left[Z_t - \beta_1 Z_{t-1} - \beta_2 Z_{t-2} \right]^2$$

$$= E Z_t^2 + \beta_1^2 E Z_{t-1}^2 + \beta_2^2 E Z_{t-2}^2 + \text{امید ریاضی جملات حاصل ضرب که صفر است}$$

$$= (1 + \beta_1^2 + \beta_2^2) \sigma_z^2$$

پس

$$\gamma_0 = \sigma_x^2 = \sigma_z^2 (1 + \beta_1^2 + \beta_2^2)$$



تابع اتوکواریانس فرآیند میانگین متحرک مرتبه دوم $MA(2)$

می توان نوشت،

$$\gamma_k = \text{COV}(X_t, X_{t-k})$$

$$= E X_t X_{t-k}$$

(زیرا میانگین صفر است)

$$= E (Z_t - \beta_1 Z_{t-1} - \beta_2 Z_{t-2})(Z_{t-k} - \beta_1 Z_{t-k-1} - \beta_2 Z_{t-k-2})$$

$$= E Z_t Z_{t-k} - \beta_1 E Z_t Z_{t-k-1} - \beta_2 E Z_t Z_{t-k-2} - \beta_1 E (Z_{t-1} Z_{t-k})$$

$$+ \beta_1^2 E (Z_{t-1} Z_{t-k-1}) + \beta_1 \beta_2 E (Z_{t-1} Z_{t-k-2}) - \beta_2 E (Z_{t-2} Z_{t-k})$$

$$+ \beta_2 \beta_1 E (Z_{t-2} Z_{t-k-1}) + \beta_2^2 E (Z_{t-2} Z_{t-k-2})$$

به ازای مقادیر $k \geq 0$ به طور خلاصه داریم

$$\gamma_k = \begin{cases} (1 + \beta_1^2 + \beta_2^2) \sigma_z^2 & k = 0 \\ (-\beta_1 + \beta_1 \beta_2) \sigma_z^2 & k = 1 \\ -\beta_2 \sigma_z^2 & k = 2 \\ 0 & k \geq 3 \end{cases}$$

Payam Noor University Ebook

PNUweb



تابع خودهمبستگی فرآیند $MA(2)$

اگر تابع اتوکوواریانس را بر γ_0 یعنی واریانس فرآیند تقسیم کنیم تابع خودهمبستگی حاصل می شود. پس می توان نوشت،

$$\rho_k = \frac{\gamma_k}{\gamma_0} = \begin{cases} 1 & k=0 \\ \frac{-\beta_1(1-\beta_2)}{1+\beta_1^2+\beta_2^2} & k=1 \\ \frac{-\beta_2}{1+\beta_1^2+\beta_2^2} & k=2 \\ 0 & k>2 \end{cases}$$

ملاحظه می کنیم که تابع خودهمبستگی این فرآیند بعد از تأخیر ۲ صفر می شود. (به

خاطر دارید که تابع خودهمبستگی جزئی فرآیند $AR(2)$ بعد از تأخیر ۲ صفر می شود.)



تابع خودهمبستگی جزئی $MA(2)$

با توجه به تعریف $\phi_{kk} = |P_k^*| / |P_k|$ و با توجه به این که برای $k > 2$ ، $\rho_k = 0$ می توان نوشت،

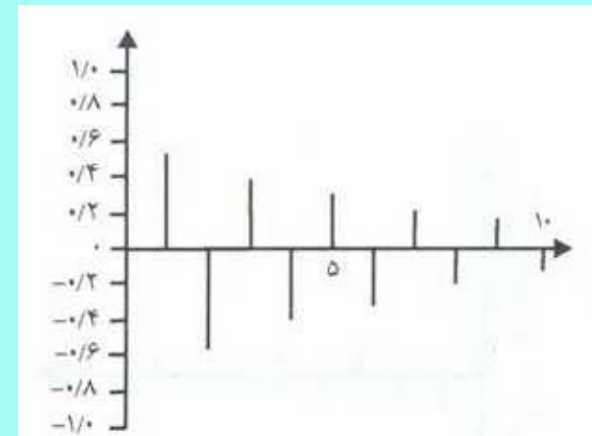
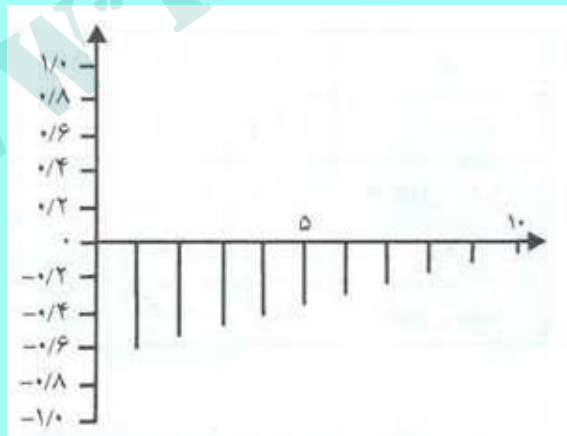
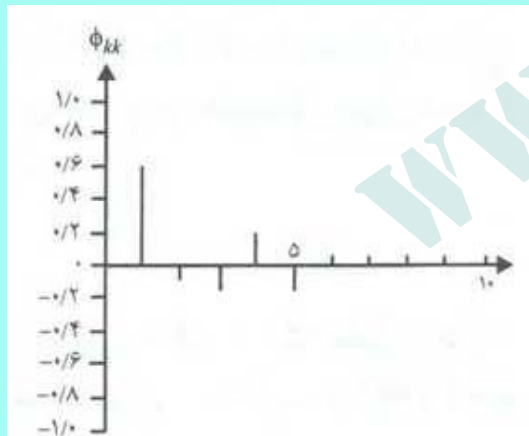
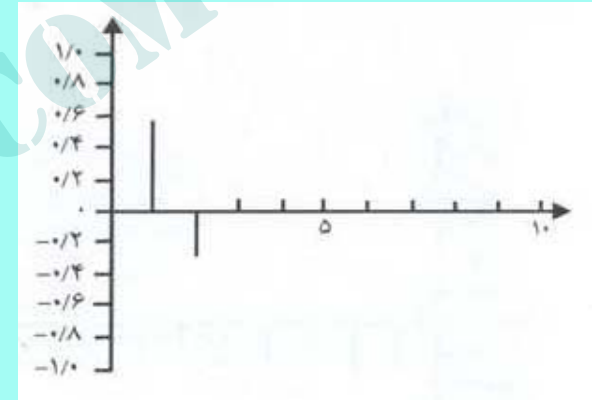
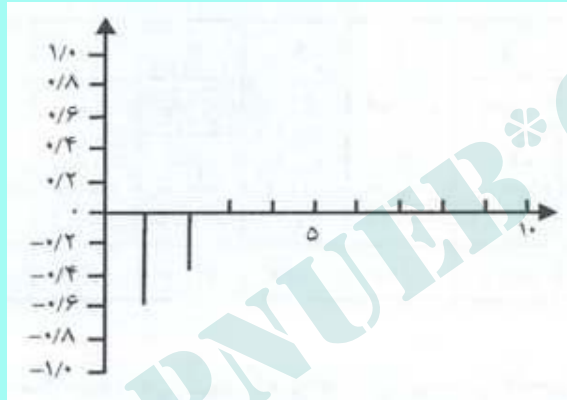
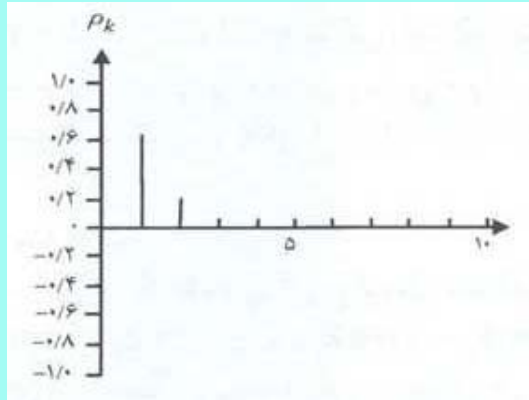
$$\phi_{11} = \rho_1$$

$$\phi_{22} = \frac{\rho_2 - \rho_1^2}{1 - \rho_1^2}$$

$$\phi_{33} = \frac{\rho_1^3 - \rho_1 \rho_2 (2 - \rho_2)}{1 - \rho_1^2 - 2\rho_1^2(1 - \rho_2)}$$



شکل زیر تابع خودهمبستگی جزئی و تابع خودهمبستگی مربوط به چند فرآیند $MA(2)$ را نشان می‌دهد. بنابراین ملاحظه می‌کنیم که تابع خودهمبستگی جزئی یک فرآیند $MA(2)$ بعد از تأخیر ۲ قطع می‌شود.



Payam Noor University Ebook

PNUweb

...کتابخانه الکترونیک پیام نور...



فرآیند میانگین متحرک مرتبه q

واریانس و تابع اتوکواریانس فرآیند میانگین متحرک مرتبه q

تابع خود همبستگی فرآیند میانگین متحرک مرتبه q



واریانس و تابع اتوکوواریانس فرآیند میانگین متحرک مرتبه q

واریانس فرآیند $MA(q)$ عبارت است از

$$\gamma_0 = \text{var}(X_t) = \sigma_z^2 \sum_{j=0}^q \beta_j^2, \quad \beta_0 = 1$$

و به طور خلاصه تابع اتوکوواریانس فرآیند $MA(q)$ به صورت زیر است.

$$\gamma_k = \begin{cases} \sigma_z^2 (-\beta_k + \beta_1 \beta_{k+1} + \dots + \beta_{q-k} \beta_q) & k = 1, 2, \dots, q \\ 0 & k > q \end{cases}$$



تابع خودهمبستگی $MA(q)$

طبق معمول اگر تابع اتوکوواریانس را بر واریانس فرآیند یعنی γ تقسیم کنیم تابع خودهمبستگی نتیجه می شود پس داریم،

$$\rho_k = \begin{cases} \frac{-\beta_k + \beta_1 \beta_{k+1} + \dots + \beta_{q-k} \beta_q}{1 + \beta_1^2 + \dots + \beta_q^2} & k = 1, 2, \dots, q \\ 0 & k > q \end{cases}$$

توجه داریم که چون تابع اتوکوواریانس (γ_k) به زمان بستگی نداشته و تنها به k بستگی دارد و میانگین فرآیند نیز ثابت است لذا به ازای تمام مقادیر $\{\beta_i\}$ فرآیند، مانای مرتبه دوم است.



چند مثال حل شده

مثال ۱- تابع اتوکواریانس و خودهمبستگی هریک از فرآیندهای زیر را به دست آورده و همبستگی نگار آنها را رسم کنید.

$$X_t = Z_t - 0.8Z_{t-1} \quad (\text{الف})$$

$$X_t = Z_t - 1/2Z_{t-1} + 0.5Z_{t-2} \quad (\text{ب})$$

حل: الف)

حل: ب)

مثال ۲- فرآیند $MA(2)$ ، $X_t = Z_t - 0.8Z_{t-1} + 0.21Z_{t-2}$ مفروض است

الف) آیا این فرآیند ماناست؟ چرا؟

ب) آیا فرآیند وارون پذیر است؟ چرا؟

ج) تابع خودهمبستگی فرآیند را به دست آورید.

حل: الف)

حل: ب و ج)




حل: الف) این فرآیند میانگین متحرک مرتبه اول است، لذا با توجه به این که تابع اتوکواریانس این فرآیند به طور کلی می توان نوشت،

$$\gamma_k = \begin{cases} 1/64 \sigma_z^2 & k=0 \\ -0.1/8 \sigma_z^2 & k=1 \\ 0 & k \geq 2 \end{cases}$$

پس، تابع خودهمبستگی این فرآیند عبارت است از

$$\rho_k = \frac{\gamma_k}{\gamma_0} = \begin{cases} 1 & k=0 \\ -0.1/8 & k=1 \\ 0 & k \geq 2 \end{cases}$$

همبستگی نگار فرآیند به صورت زیر است



Payan Noor University Ebook



حل: ب) این فرآیند میانگین متحرک مرتبه دوم است و لذا با توجه به این که تابع

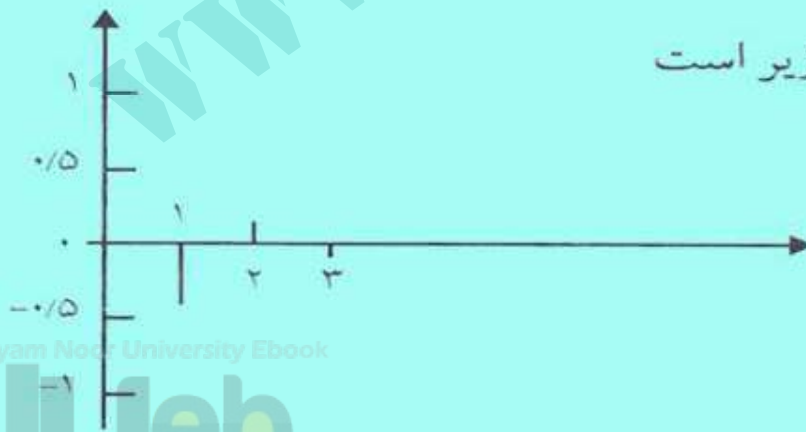
اتوکواریانس این فرآیند به طور کلی به صورت زیر است

$$\gamma_k = \begin{cases} (1 + 1/44 + 0/25) \sigma_z^2 & k=0 \\ -1/2(1 + 0/5) \sigma_z^2 & k=1 \\ 0/5 \sigma_z^2 & k=2 \\ 0 & k \geq 3 \end{cases}$$

و تابع خودهمبستگی فرآیند عبارت است از،

$$\rho_k = \begin{cases} 1 & k=0 \\ -1/8 & k=1 \\ 2/49 & k=2 \\ 0 & k \geq 3 \end{cases}$$

همبستگی نگار فرآیند به صورت زیر است



حل: الف) این فرآیند ماناست، زیرا $EX_t = 0$ به زمان بستگی ندارد و تابع اتوکوواریانس

آن نیز به زمان بستگی نداشته و فقط به k بستگی دارد

$$\gamma_k = \begin{cases} (1 + 0/01 + 0/0441)\sigma_z^2, & k=0 \\ -0/1(1 - 0/21)\sigma_z^2, & k=1 \\ 0/21\sigma_z^2, & k=2 \\ 0, & k \geq 3 \end{cases}$$



حل: ب) این فرآیند وارون پذیر است زیرا β_i ، $i = 1, 2$ در شرط وارون پذیری

$$\begin{cases} \beta_2 + \beta_1 < 1 \\ \beta_2 - \beta_1 < 1 \\ |\beta_2| < 1 \end{cases}$$

صدق می کند.

حل: ج) تابع خودهمبستگی آن به صورت زیر است

$$\rho_k = \begin{cases} 1 & , k = 0 \\ \frac{-0/079}{1/0541} & , k = 1 \\ \frac{0/21}{1/0541} & , k = 2 \\ 0 & , k \geq 3 \end{cases}$$



نمایش سری زمانی به صورت فرآیند میانگین متحرک و اتورگرسیو

(۱) فرآیند X_t را می‌توان به صورت ترکیبی خطی دنباله‌ای از متغیرهای تصادفی ناهمبسته نوشت، یعنی

$$X_t = \psi(B)Z_t$$

(۲) شکل مفید دیگر این است که فرآیند X_t را به صورت اتورگرسیو نمایش دهیم که در آن رگرسیون مقدار X_t در زمان t روی مقادیر گذشته آن به علاوه یک خطای تصادفی باشد. یعنی

$$\pi(B)X_t = Z_t$$



(۱) فرآیند X_t را می‌توان به صورت ترکیبی خطی دنباله‌ای از متغیرهای تصادفی ناهمبسته نوشت، یعنی

$$X_t = \mu + Z_t + \psi_1 Z_{t-1} + \psi_2 Z_{t-2} + \dots = \mu + \sum_{j=0}^{\infty} \psi_j Z_{t-j}$$

که در آن $\psi_0 = 1$ و $\{Z_t\}$ فرآیند اغتشاش با میانگین صفر است.

با معرفی عملگر پسرو $B^j X_t = X_{t-j}$ می‌توانیم $X_t = \psi(B)Z_t$ را به شکلی بنویسیم که در آن

$$\psi(B) = \sum_{j=0}^{\infty} \psi_j B^j$$

به سهولت می‌توان نشان داد که

$$\gamma_k = E(X_t X_{t+k}) = \sigma_z^2 \sum_{i=0}^{\infty} \psi_i \psi_{i+k}$$

برای این که فرآیند مانا باشد باید γ_k برای هر k متناهی باشد. در نتیجه $\sum_{j=0}^{\infty} \psi_j^2 < \infty$ زیرا

$$|\gamma_k| = |E(X_t X_{t+k})| \leq [\text{var}(X_t) \text{var}(X_{t+k})]^{1/2} = \sigma_z^2 \sum_{j=0}^{\infty} \psi_j^2$$



(۲) شکل مفید دیگر این است که فرآیند X_t را به صورت اتورگرسیو نمایش دهیم که در آن

رگرسیون مقدار X_t در زمان t روی مقادیر گذشته آن به علاوه یک خطای تصادفی باشد. یعنی

$$X_t = \pi_1 X_{t-1} + \pi_2 X_{t-2} + \dots + Z_t$$

با استفاده از عملگر پسرو می توان نوشت

$$\pi(B)X_t = Z_t$$

که در آن $\pi(B) = 1 - \sum_{j=0}^{\infty} \pi_j B^j$. نمایش اتورگرسیو در فهم مکانیسم پیش بینی مفید است.

باکس و جینکینس فرآیندی را وارون پذیر می نامند که آن را بتوان به این شکل نوشت. بحث آنها

این است که فرآیندی که دارای وارون نیست در پیش بینی مفهومی ندارد. برای این که فرآیند

خطی $X_t = \psi(B)Z_t$ وارون پذیر باشد و بتوان آن را برحسب AR بنویسیم باید ریشه های

$\psi(B) = 0$ از لحاظ قدر مطلق بیشتر از واحد باشند.



دوگانگی بین فرآیندهای $AR(p)$ و $MA(q)$

موارد دوگانگی که بین فرآیندهای اتورگرسیو میانگین متحرک وجود دارند به شرح زیرند. فرآیند $AR(p)$ مانای متناهی را می‌توان به صورت فرآیند MA نامتناهی نوشت و برعکس فرآیند متناهی وارون‌پذیر $MA(q)$ را می‌توان به صورت فرآیند AR نامتناهی نوشت و موضوع را به طریق زیر پی می‌گیریم. برای فرآیند اتورگرسیو متحرک مرتبه p مانای $\phi_p(B)X_t = Z_t$ که در آن $\phi_p(B) = 1 - \alpha_1 B - \dots - \alpha_p B^p$ می‌توان نوشت

$$X_t = \frac{1}{\phi_p(B)} Z_t = \psi(B) Z_t$$

که در آن $\psi(B) = 1 + \psi_1 B + \psi_2 B^2 + \dots$ به طوری که $\phi_p(B)\psi(B) = 1$ و زندهای ψ را با مساوی قرار دادن ضرایب B^j در دو طرف این تساوی می‌توان به دست آورد.



فرآیندهای اتورگرسیو میانگین متحرک

تعریف فرآیند اتورگرسیو میانگین متحرک

شرط وارون پذیری و مانایی $ARMA(p, q)$

فرآیند $ARMA(1,1)$

تابع خود همبستگی فرآیند $ARMA(1,1)$

تبصره

نمودار توابع خود همبستگی و خود همبستگی جزئی مربوط به

چند فرآیند $ARMA(1,1)$



فرآیندهای اتورگرسیو میانگین متحرک

فرآیند مرکب اتورگرسیو و میانگین متحرک زیر را، که p جمله اتورگرسیو و q جمله میانگین متحرک دارد را با نماد اختصاری $ARMA(p, q)$ می‌نویسند.

$$X_t = \alpha_1 X_{t-1} + \alpha_2 X_{t-2} + \dots + \alpha_p X_{t-p} + Z_t - \beta_1 Z_{t-1} - \beta_2 Z_{t-2} - \dots - \beta_q Z_{t-q}$$

که با استفاده از عملگر پسرو به صورت زیر نوشته می‌شود

$$\phi_p(B)X_t = \theta_q(B)Z_t$$

که

$$\phi_p(B) = 1 - \alpha_1 B - \dots - \alpha_p B^p$$

و

$$\theta_q(B) = 1 - \beta_1 B - \beta_2 B^2 - \dots - \beta_q B^q$$



شرط وارون پذیری فرآیند $ARMA(p, q)$

برای این که فرآیند وارون پذیر باشد باید ریشه‌های $\theta_q(B) = 0$ از لحاظ قدر مطلق بزرگتر از واحد باشند.

شرط مانایی فرآیند $ARMA(p, q)$

برای این که فرآیند مانا باشد باید ریشه‌های $\phi_p(B) = 0$ از لحاظ قدر مطلق بزرگتر از واحد باشند. ضمناً باید توجه داشت که $\phi_p(B) = 0$ و $\theta_q(B) = 0$ نباید ریشه‌های مشترک داشته باشند.



فرآیند $ARMA(1, 1)$

اگر در فرآیند کلی $ARMA(p, q)$ قرار دهیم $p = q = 1$ ، فرآیند $ARMA(1, 1)$ نتیجه می‌شود یعنی

$$X_t = \alpha_1 X_{t-1} + Z_t - \beta_1 Z_{t-1}$$

که با استفاده از عملگر پسرو می‌توان نوشت،

$$(1 - \alpha_1 B)X_t = (1 - \beta_1 B)Z_t$$

از شرط مانایی فرآیند یعنی $1 - \alpha_1 B = 0$ ، $|\alpha_1| < 1$ نتیجه می‌شود و از شرط وارون‌پذیری $1 - \beta_1 B = 0$ ، $|\beta_1| < 1$ حاصل می‌شود. اگر $\alpha_1 = 0$ نتیجه فرآیند $ARMA(0, 1)$ یک فرآیند $MA(1)$ است و به ازای $\beta_1 = 0$ یک فرآیند $AR(1)$ به دست می‌آید، در نتیجه فرآیندهای $AR(1)$ و $MA(1)$ حالت خاص فرآیندهای $ARMA(1, 1)$ هستند.



تابع خودهمبستگی فرآیند $ARMA(1, 1)$

ابتدا تابع اتوکواریانس فرآیند را به دست آورده و سپس آن را بر واریانس فرآیند تقسیم می‌کنیم تا تابع خودهمبستگی حاصل شود برای این کار طرفین تساوی

$$X_t = \alpha_1 X_{t-1} + Z_t - \beta_1 Z_{t-1}$$

را در X_{t-k} ضرب کرده و امید ریاضی طرفین تساوی را به دست می‌آوریم. به طور خلاصه تابع اتوکواریانس فرآیند $ARMA(1, 1)$ عبارت است از

$$\gamma_k = \begin{cases} \frac{(1 + \beta_1^2 - 2\alpha_1\beta_1)\sigma_z^2}{(1 - \alpha_1^2)} & k = 0 \\ \frac{(\alpha_1 - \beta_1)(1 - \alpha_1\beta_1)\sigma_z^2}{(1 - \alpha_1^2)} & k = 1 \\ \alpha_1 \gamma_{k-1} & k \geq 2 \end{cases}$$



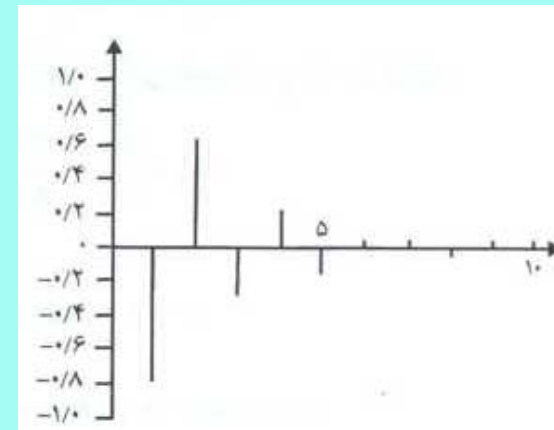
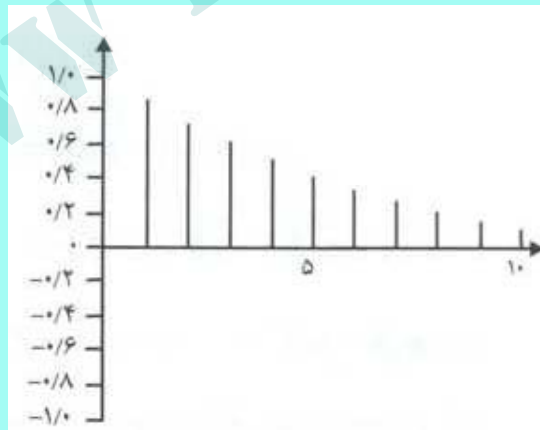
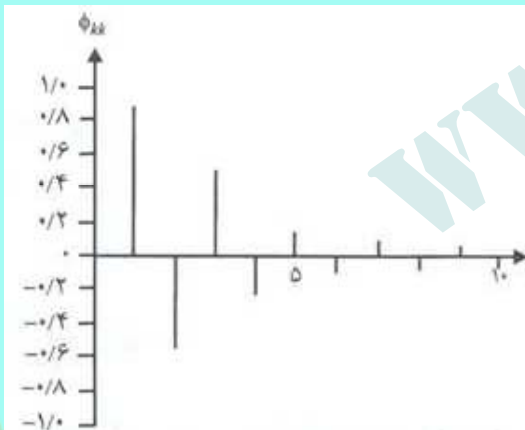
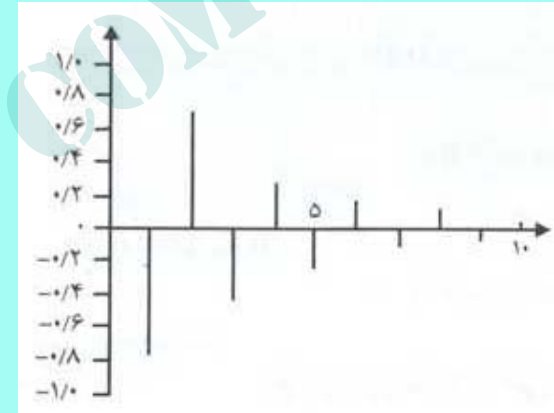
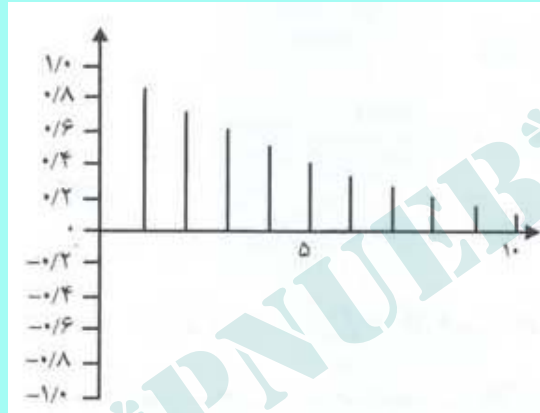
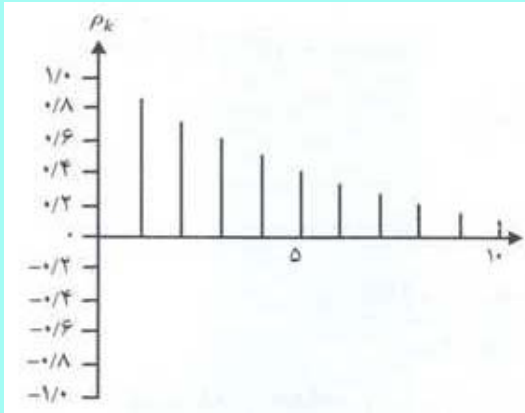
تبصره

تابع خودهمبستگی یک الگوی $ARMA(1, 1)$ ویژگیهای فرآیندهای $AR(1)$ و $MA(1)$ را دارد. پارامتر میانگین متحرک β_1 در محاسبه ρ_1 ظاهر شده و نافذ است و تابع خودهمبستگی الگوی $ARMA(1, 1)$ به ازای $k \geq 2$ همان رفتار تابع خودهمبستگی فرآیند $AR(1)$ را داراست.



تابع خودهمبستگی جزئی فرآیند $ARMA(1, 1)$

شکل زیر تابع خودهمبستگی جزئی و تابع خودهمبستگی مربوط به چند فرآیند $ARMA(1, 1)$ را نشان می‌دهد.



Payam Noor University Ebook

(الف)

(ب)

(ج)



فصل پنجم

الگوهای سری زمانی نامانا

Payam Noor University Ebook

PNUeb

...کتابخانه الکترونیک پیام نور....



فصل پنجم : الگوهای سری زمانی نامانا

اهداف فصل

نامانایی در میانگین

الگوهای اتورگرسیو میانگین متحرک تلفیق شده

نامانایی در واریانس و اتوکواریانس



هدف کلی

معرفی الگوهای سریهای زمانی نامانا

هدفهای رفتاری

پس از مطالعه این فصل می توانید:

- الگوی روند قطعی را برای یک فرآیند نامانا در میانگین به دست آورید،
- فرآیند نامانای همگن را تعریف کنید،
- الگوی روند تصادفی را برای سری زمانی نامانای همگن با روش تفاضلی کردن به دست آورید،
- الگوی $ARIMA(p, d, q)$ را تعریف کنید،
- الگوی قدم زدن تصادفی را تعریف کنید،
- الگوی $ARIMA(0, 1, 1)$ یا $IMA(1, 1)$ را تعریف کنید،
- نامانایی واریانس و اتوکواریانس الگوی $IMA(1, 1)$ را بررسی کنید،
- تبدیل پایداری واریانس را برای یک سری زمانی مانا در میانگین و نامانا در واریانس به دست آورید،

نامانایی در میانگین

یک فرآیند نامانا در میانگین می تواند مسئله ای بسیار جدی برای برآورد تابع میانگین وابسته به زمان را به وجود آورد. دوره از الگوهای را که در به الگو درآوردن سریهای زمانی نامانا مفیدند در این بخش ارائه می کنیم.

۱ - الگوهای روند قطعی

۲ - الگوی روند تصادفی و تفاضلی کردن



۱ - الگوهای روند قطعی

تابع میانگین یک فرآیند نامانا را با یک روند قطعی از زمان می توان نشان داد. در این حالت از یک الگوی رگرسیون استاندارد برای بیان پدیده می توان استفاده کرد. برای مثال اگر تابع میانگین (μ_t) از یک روند خطی $\mu_t = \alpha_0 + \alpha_1 t$ تبعیت کند از الگوی خطی قطعی زیر که $\{Z_t\}$ تصادفی محض با میانگین صفر است می توان استفاده نمود.

$$X_t = \alpha_0 + \alpha_1 t + Z_t$$

به طور کلی اگر روند قطعی را با یک چند جمله ای مرتبه k از زمان بتوان نشان داد، فرآیند را می توان با

$$X_t = \alpha_0 + \alpha_1 t + \dots + \alpha_k t^k + Z_t$$



۲ - الگوی روند تصادفی و تفاضلی کردن

با توجه به الگوهای $ARMA$ ، فرایند ناماناست هرگاه ریشه‌های چندجمله‌ای AR آن از لحاظ قدر مطلق بزرگتر از واحد نباشد. با وجود این بنا به طبیعت همگن بودن، رفتار این نوع سریهای نامانای همگن مستقل از سطح آن است. بنابراین اگر $\phi(B)$ عملگر اتورگرسیو باشد که رفتار را بیان می‌کند، برای هر ثابت C داریم

$$\psi(B)(X_t + C) = \psi(B)X_t$$

از این نتیجه می‌شود برای $d > 0$ که $\phi(B)$ یک عملگر اتورگرسیو ماناست باید $\psi(B)$ به صورت زیر باشد

$$\psi(B) = \phi(B)(1 - B)^d$$

بنابراین یک سری نامانای همگن را با تفاضلی کردن مناسب به یک سری مانا تبدیل می‌کنیم. به عبارت دیگر سری $\{X_t\}$ ناماناست ولی سری تفاضلی شده مرتبه d یعنی $\{(1 - B)^d X_t\}$ برای عدد درست $d \geq 1$ ماناست.



الگوهای اتورگرسیو میانگین متحرک تلفیق شده

تعریف الگوهای اتورگرسیو میانگین متحرک تلفیق شده

الگوی قدم زدن تصادفی $ARIMA(0,1,0)$

الگوی $ARIMA(0,1,1)$ یا $IMA(1,1)$



الگوهای اتورگرسیو میانگین متحرک تلفیق شده

الگوی نامانای همگن $ARIMA$ را یک الگوی اتورگرسیو تلفیق شده با میانگین متحرک از مرتبه (p, d, q) می نامند که به صورت

$$\phi_p(B)(1 - B)^d X_t = \theta_0 + \theta_q(B)Z_t$$

که در آن $\phi_p(B) = (1 - \phi_1 B - \dots - \phi_p B^p)$ عملگر AR (مانا) و $\theta_q(B) = (1 - \theta_1 B - \dots - \theta_q B^q)$ عملگر MA (وارون پذیر) ریشه مشترک ندارد. پارامتر θ_0 برای $d = 0$ و $d > 0$ نقشهای بسیار متفاوتی بازی می کند. اگر $d = 0$ فرآیند اولیه ماناست و θ_0 به میانگین فرآیند وابسته است، یعنی $\theta_0 = \mu(1 - \phi_1 - \dots - \phi_p)$ معهذاً وقتی $d \geq 1$ ، θ_0 را جمله روند قطعی می نامند و اغلب آن را از الگو حذف می کنند مگر این که واقعاً لازم باشد.



الگوی قدم زدن تصادفی

اگر درالگوی $ARIMA(p, d, q)$ ، $p = 0$ ، $d = 1$ ، $q = 0$ قرار دهیم الگوی قدم زدن تصادفی

$$(1 - B)X_t = Z_t$$

یا

$$X_t = X_{t-1} + Z_t$$

را داریم. $E(X_t) = t\mu$ و $\text{var}(X_t) = t\sigma_z^2$ لذا این فرآیند مانا نیست زیرا میانگین و واریانس آن با زمان تغییر می کند. اگر این فرآیند را یک بار تفاضلی کنیم نتیجه اش فرآیند تصادفی محض است که ماناست، یعنی داریم

$$Z_t = \nabla X_t = X_t - X_{t-1}$$

از این الگو به طور وسیعی برای بیان رفتار سریهای قیمت سهام استفاده می شود. در الگوی قدم زدن تصادفی مقدار X در زمان t برابر مقدار آن در زمان $(t - 1)$ به علاوه یک ضربه تصادفی است.

توجه می کنیم که وقتی $\alpha \rightarrow 1$ حد فرآیند $AR(1)$ ، $(1 - B)X_t = Z_t$ یک الگوی قدم زدن تصادفی است.

الگوی $ARIMA(0, 1, 1)$ یا $IMA(1, 1)$

به ازای $p = 0, d = 1, q = 1$ فرض کنیم الگوی $ARIMA(p, d, q)$ به صورت زیر درمی آید که در آن $-1 < \theta < 1$ یا $(1 - B)X_t = (1 - \theta B)Z_t$ یا

$$X_t = X_{t-1} + Z_t - \theta Z_{t-1}$$

این الگوی $IMA(1, 1)$ پس از یک بار تفاضلی کردن به صورت فرآیند $MA(1)$ مانا درمی آید. الگوی قدم زدن تصادفی حالت خاص این الگوی $IMA(1, 1)$ با $\theta = 0$ است. بنابراین پدیده اصلی الگوی $IMA(1, 1)$ با این حقیقت مشخص می شود که تابع خودهمبستگی نمونه سری اولیه به سمت صفر میل نکند و تابع خودهمبستگی نمونه سری تفاضلی مرتبه اول طرح یک پدیده میانگین متحرک مرتبه اول را نشان می دهد.



نامانایی در واریانس و اتوکواریانس

واریانس و اتوکواریانس الگوهای ARIMA

مثال

نتیجه گیری

تبدیلات پایداری واریانس

چند تذکر مهم در مورد تبدیلات پایداری واریانس



نامانایی در واریانس و اتوکوواریانس

واریانس و اتوکوواریانس الگوهای *ARIMA*

فرآیندی که در میانگین مانا است الزاماً در و امثال و کوواریانس مانا نیست. با وجود این یک فرآیند نامانای در میانگین نامانای در واریانس و کوواریانس خواهد بود. ملاحظه کردیم تابع میانگین الگوی *ARIMA* به زمان وابسته است. اکنون نشان می‌دهیم که الگوی *ARIMA* نیز نامانا در توابع واریانس و اتوکوواریانس است.

مثال



برای مثال فرض کنید الگوی $IMA(1, 1)$ ، یعنی $(1 - B)X_t = (1 - \theta B)Z_t$

$$X_t = X_{t-1} + Z_t - \theta Z_{t-1} \quad \text{یا}$$

را به سری n_0 مشاهده‌ای برازش می‌دهیم با توجه به این مبدأ زمان n_0 ، برای $t > n_0$ با جایگزینی‌های متوالی می‌توان نوشت

$$X_t = X_{n_0} + Z_t + (1 - \theta)Z_{t-1} + \dots + (1 - \theta)Z_{n_0+1} - \theta Z_{n_0}$$

به طور مشابه برای $t - k > n_0$ داریم،

$$X_{t-k} = X_{n_0} + Z_{t-k} + (1 - \theta)Z_{t-k-1} + \dots + (1 - \theta)Z_{n_0+1} - \theta Z_{n_0}$$

بنابراین نسبت به مبدأ زمان n_0 داریم

$$\text{var}(X_t) = [1 + (t - n_0 - 1)(1 - \theta)^2] \sigma_z^2$$

$$\text{var}(X_{t-k}) = [1 + (t - k - n_0 - 1)(1 - \theta)^2] \sigma_z^2$$

$$\text{cov}(X_{t-k}, X_t) = [(1 - \theta) + (t - k - n_0 - 1)(1 - \theta)^2] \sigma_z^2$$

$\text{corr}(X_{t-k}, X_t)$ و $\text{cov}(X_{t-k}, X_t)$ ، $\text{var}(X_{t-k})$ ، $\text{var}(X_t)$ فرآیند نیز به زمان بستگی دارند

و لذا نسبت به تبدیل زمان پایا نیستند.

به طور کلی می توان نشان داد که

۱- $\text{var}(X_t)$ فرآیند $ARIMA$ به زمان وابسته است و برای $k \neq 0$ ، $\text{var}(X_t) \neq \text{var}(X_{t-k})$

۲- $\text{var}(X_t)$ وقتی $t \rightarrow \infty$ نامحدود است.

۳- $\text{cov}(X_{t-k}, X_t)$ و خودهمبستگی $\text{corr}(X_{t-k}, X_t)$ فرآیند نیز به زمان بستگی دارند و لذا

نسبت به تبدیل زمان پایا نیستند. به بیان دیگر آنها فقط توابعی از اختلاف زمان k نیستند بلکه توابعی از مبدأ زمان t و نقطه مرجع اولیه n نیز هستند.

۴- اگر n نسبت به k بزرگ باشد داریم

$$\text{corr}(X_{t-k}, X_t) = \frac{\text{cov}(X_{t-k}, X_t)}{\sqrt{\text{var}(X_{t-k}) \text{var}(X_t)}} \approx 1$$

از $\text{corr}(X_{t-k}, X_t) \leq 1$ نتیجه می شود که اگر k زیاد شود تابع خودهمبستگی به کندی از

بین می رود.



تبدیلات پایداری واریانس

۱. تفاضلی کردن مرتبه ۲

۲. استفاده از تبدیلات باکس و کاکس

$$T(X_t) = X_t^{(\lambda)} = \frac{X_t^\lambda - 1}{\lambda} \quad \text{برای پایداری واریانس از تبدیل توانی}$$

که به وسیله باکس و کاکس (۱۹۶۴) معرفی شده است می توان استفاده کرد. λ را پارامتر تبدیل می نامند. چند مقدار λ که معمولاً از آن استفاده می شود و تبدیلات مربوط به آن به شرح زیر است

مقادیر λ	تبدیل
-۱	$1/X_t$
-۰/۵	$1/\sqrt{X_t}$
۰	$\ln X_t$
۰/۵	$\sqrt{X_t}$
۱	X_t (بدون تبدیل)



به چند تذکر مهم زیر توجه کنید

۱. تبدیلات پایداری واریانس که در بالا تعریف شد فقط برای سریهای مثبت است. معهدا به طوری که به نظر می رسد محدودیتی وجود ندارد زیرا همیشه می توان ثابتی را به سری افزود بدون این که ساختمان همبستگی تغییر کند.
۲. اگر یک تبدیل پایداری واریانس لازم باشد باید قبل از هرگونه تحلیلی نظیر تفاضلی کردن به اجرا درآید.
۳. در تبدیل توانی λ را به صورت یک پارامتر الگو که از سری مشاهده شده برآورد می شود می توان در نظر گرفت. برآورد درستنمایی λ آن است که مجموع مربعات باقیمانده را مینیمم کند. برای هر مقدار معلوم λ ، مجموع مربعات از الگوی برازش شده محاسبه می شود...
۴. غالباً تبدیل کردن فقط برای پایداری واریانس نیست بلکه تقریب برای نرمال بودن را بهتر می کند.



فصل ششم

الگو سازی برای یک سری زمانی

Payam Noor University Ebook

PNUeb

...کتابخانه الکترونیک پیام نور...



فصل ششم : الگوسازی برای یک سری زمانی

اهداف فصل

مراحل شناخت الگو

برآورد پارامترهای یک الگوی سری زمانی

پیش بینی

WWW*PNUeB*COM

Payam Noor University Ebook

PNUeB



هدف کلی

شناختن یک الگوی مناسب و برازش آن به داده‌های سری زمانی.

هدفهای رفتاری

پس از مطالعه این فصل می‌توانید:

- در طی چند مرحله، الگوی مناسبی را برای داده‌ها شناسایی کنید،
- درجه لازم تفاضلی کردن توابع $ac.f$ و $pac.f$ را محاسبه و امتحان کنید،
- مرتبه‌های p و q در الگوهای اتورگرسیو و میانگین متحرک را تعیین کنید،
- پارامترهای فرآیند میانگین متحرک مرتبه اول را برآورد کنید،
- پارامترهای فرآیندهای $MA(2)$ ، $AR(1)$ ، $AR(2)$ و $ARMA(1, 1)$ را برآورد کنید،
- فرآیند $AR(1)$ را در l مرحله بعد پیش‌بینی کنید،
- واریانس خطای پیش‌بینی را برای فرآیند $AR(1)$ به دست آورید،
- فرآیند میانگین متحرک مرتبه اول را پیش‌بینی کنید،
- فرآیند $ARMA(p, q)$ را برای l مرحله بعد پیش‌بینی کنید،



مراحل شناخت الگوى يك سرى زمانى

مرحله اول

مرحله دوم

مرحله سوم

WWW*PNUeB*COM

Payam Noor University Ebook

PNUeB

...کتابخانه الکترونیک پیام نور....



مرحله اول

در یک تحلیل سری زمانی اولین مرحله رسم نمودار داده‌هاست. با امتحان و بررسی دقیق نمودار سری زمانی می‌توانیم ایده خوبی در مورد این که روند، نوسانات فصلی، نقاط پرت و واریانس غیرثابت و ... وجود دارند یا خیر، به دست آوریم.

WWW*PNU*IR



مرحله دوم

برای تعیین درجه لازم تفاضلی کردن، توابع $ac.f$ و $pac.f$ را برای سری اولیه محاسبه و امتحان می‌کنیم. برای این کار می‌توان از چند قاعده کلی زیر استفاده کرد:

الف) اگر $ac.f$ بسیار کند تنزل کند و $pac.f$ نمونه بعد از تأخیر یک قطع شود. داده‌ها ناماننا بوده و پیشنهاد می‌شود از تبدیل تفاضلی کردن استفاده شود.

ب) برای حذف نامانایی ممکن است تفاضلی کردن مرتبه بالاتر $Z_t^d (1 - B)^d$ ، $d > 1$ ، لازم باشد.



مرحله سوم

برای تعیین مرتبه‌های p و q در الگوهای اتورگرسیو و میانگین متحرک، که p بالاترین مرتبه چند جمله‌ای اتورگرسیو $(1 - \phi_1 B - \dots - \phi_p B^p)$ و q بالاترین مرتبه در چند جمله‌ای میانگین متحرک $(1 - \phi_1 B - \dots - \phi_q B^q)$ است،

در جدول زیر ویژگیهای نظری $ac.f$ و $pac.f$ را در سریهای مانا به اختصار می‌آوریم.

فرآیند	$ac.f$	$pac.f$
$AR(p)$	به صورت نمایی یا موج سینوسی میرا به سمت صفر میل می‌کند	بعد از تأخیر p قطع می‌شود
$MA(q)$	بعد از تأخیر q قطع می‌شود	به صورت نمایی یا موج سینوسی میرا به سمت صفر میل می‌کند
$ARMA(p, q)$	بعد از تأخیر $(q-p)$ به سمت صفر میل می‌کند	بعد از تأخیر $(p-q)$ به سمت صفر میل می‌کند



برآورد پارامترهای یک الگوی سری زمانی

برآورد پارامترهای یک الگوی سری زمانی

برآورد پارامترهای فرآیند میانگین متحرک مرتبه اول

برآورد پارامترهای فرآیند اتورگرسیو مرتبه دوم

WWW*PNU*IR



برآورد پارامترهای یک الگوی سری زمانی

پس از شناسایی نوع و مرتبه سری زمانی (مرحله شناخت) باید پارامترهای مربوطه را برآورد کنیم. برای برآورد کردن پارامترهای یک الگوی سری زمانی می توانیم از روشهای متداول برآورد نظیر روش گشتاورها، روش درستنمایی ماکزیمم و روش کمترین مربعات استفاده می‌کنیم. البته باید توجه داشت که بعضی از این روشها برای بعضی از الگوها کارایی لازم را ندارند



برآورد پارامترهای فرآیند میانگین متحرک مرتبه اول.

برای این کار از تابع خودهمبستگی فرآیند میانگین متحرک مرتبه اول یعنی

$$\rho_k = \begin{cases} 1 & k = 0 \\ \frac{-\beta}{1 + \beta^2} & k = 1 \end{cases} \quad (1)$$

استفاده می‌کنیم اگر در (1) به جای ρ_1 برآورد نمونه‌ای آن r_1 را قرار دهیم خواهیم داشت:

$$r_1 = \frac{-\hat{\beta}}{1 + \hat{\beta}^2}$$

از حل این معادله $\hat{\beta}$ برآورد β را محاسبه می‌کنیم $r_1 \hat{\beta}^2 + \hat{\beta} + r_1 = 0$

$$\hat{\beta}_1 = \frac{-1 \pm \sqrt{1 - 4r_1^2}}{2r_1}$$

ضمناً باید توجه کنیم که این برآوردها باید در شرط وارون‌پذیری $|\hat{\beta}| < 1$ صدق کنند. برای برآورد σ_z^2 از رابطه $\sigma_x^2 = (1 + \beta^2)\sigma_z^2$ استفاده می‌کنیم و در آن به جای β ، $\hat{\beta}$ و به جای σ_x^2 از واریانس نمونه‌ای C استفاده می‌کنیم لذا خواهیم داشت؛

$$\hat{\sigma}_z^2 = \frac{C}{1 + \hat{\beta}^2}$$

(ب) برآورد مقدماتی پارامترهای فرآیند $MA(2)$.

از توابع خودهمبستگی ρ_k و واریانس σ_x^2 می توان نوشت

$$\sigma_x^2 = \text{var}(X_t) = \sigma_z^2 (1 + \beta_1^2 + \beta_2^2) \quad \text{و} \quad \rho_k = \begin{cases} 1 & k=0 \\ \frac{-\beta_1(1+\beta_2)}{1+\beta_1^2+\beta_2^2} & k=1 \\ \frac{-\beta_2}{1+\beta_1^2+\beta_2^2} & k=2 \\ 0 & k>2 \end{cases}$$

$$\begin{cases} r_1 = \frac{-\hat{\beta}_1(1+\hat{\beta}_2)}{1+\hat{\beta}_1^2+\hat{\beta}_2^2} \\ r_2 = \frac{-\hat{\beta}_2}{1+\hat{\beta}_1^2+\hat{\beta}_2^2} \end{cases}$$

حال از حل دستگاه معادلات غیرخطی

برآوردهای مقدماتی پارامترهای β_1 و β_2 یعنی $\hat{\beta}_1$ و $\hat{\beta}_2$ را به دست می آوریم و سپس $\hat{\sigma}_z^2$ را از رابطه زیر محاسبه می کنیم.

$$\hat{\sigma}_z^2 = \frac{C_0}{1+\hat{\beta}_1^2+\hat{\beta}_2^2}$$



پیش بینی

۱ - پیش بینی با فرآیند $AR(1)$

۲ - پیش بینی برای فرآیند میانگین متحرک مرتبه اول

۳ - پیش بینی برای فرآیند اتورگرسیو و میانگین متحرک کلی مانا

WWW*PNUeB.COM



پیش بینی با فرآیند $AR(1)$

$$X_t - \mu = \alpha(X_{t-1} - \mu) + Z_t \quad (1)$$

ابتدا پیش‌بینی یک واحد زمان بعد ($l = 1$) را در نظر می‌گیریم. اگر در (1) را به $t + 1$ تبدیل کنیم داریم:

$$X_{t+1} - \mu = \alpha(X_t - \mu) + Z_{t+1} \quad (2)$$

اگر از طرفین این تساوی امید شرطی بگیریم خواهیم داشت:

$$\hat{X}_{t+1} - \mu = \alpha[E(X_t | X_t, X_{t-1}, \dots, X_1) - \mu] + E(Z_{t+1} | X_t, X_{t-1}, \dots, X_1) \quad (3)$$

با توجه به این که

$$E(X_t | X_t, X_{t-1}, \dots, X_1) = X_t \quad (4)$$

و چون Z_{t+1} مستقل از $X_1, X_2, \dots, X_{t-1}, X_t$ است لذا

$$E(Z_{t+1} | X_t, X_{t-1}, \dots, X_1) = E(Z_{t+1}) = 0$$

در نتیجه معادله (3) را به صورت زیر می‌توان نوشت

$$\hat{X}_{t+1} = \mu + \alpha(X_t - \mu) \quad (5)$$

یا

$$\hat{X}_t(l) = \mu + \alpha^l (X_t - \mu) \quad , \quad l \geq 1 \quad (6)$$

مثال

Payam Noor University Ebook

PNUweb



مثال

فرآیند $X_t - 10/2 = 0/7(X_{t-1} - 10/2) + Z_t$ را در نظر می‌گیریم و فرض می‌کنیم مقدار فعلی فرآیند $10/6$ باشد. در این صورت پیش‌بینی یک واحد زمان بعد عبارت است از

$$\hat{X}_t(1) = 10/2 + 0/7(10/6 - 10/2) = 10/2 + 0/28 = 10/48$$

و برای $l = 2$ از معادله (۶) داریم:

$$\begin{aligned}\hat{X}_t(2) &= 10/2 + 0/7(10/48 - 10/2) \\ &= 10/2 + 0/196 \\ &= 10/396\end{aligned}$$



پیش‌بینی برای فرآیند میانگین متحرک مرتبه اول

فرآیند $X_t = \mu + Z_t - \theta Z_{t-1}$ که در آن میانگین فرآیند و $\{Z_t\}$ فرآیند تصادفی محض با میانگین صفر و واریانس σ_z^2 است را در نظر می‌گیریم. اگر t را به $t+1$ تبدیل کنیم و امیدهای شرطی دو طرف را محاسبه کنیم خواهیم داشت:

$$X_{t+1} = \mu + Z_{t+1} - \theta Z_t$$

$$E(X_{t+1} | X_t, X_{t-1}, \dots, X_1) = \mu + E(Z_{t+1} | X_t, X_{t-1}, \dots, X_1) - \theta E(Z_t | X_t, X_{t-1}, \dots, X_1)$$

یا

$$\hat{X}_t(1) = \mu - \theta E(Z_t | X_t, X_{t-1}, \dots, X_1)$$

می‌دانیم Z_t (خطای در زمان حال) تابعی است از $X_1, X_2, \dots, X_{t-1}, X_t$. لذا داریم:

$$E(Z_t | X_t, X_{t-1}, \dots, X_1) = Z_t$$

پیش‌بینی یک مرحله بعد برای الگوی $MA(1)$ عبارت است از:

$$\hat{X}_t(1) = \mu - \theta Z_t$$



پیش بینی برای فرآیند اتورگرسیو و میانگین متحرک کلی مانا

برای یک الگوی $ARMA(p, q)$ معادله تفاضلی برای محاسبه پیش بینی ها عبارت است از

$$\begin{aligned} \hat{X}_t(l) = & \alpha_1 \hat{X}_t(l-1) + \alpha_2 \hat{X}_t(l-2) + \dots + \alpha_p \hat{X}_t(l-p) + \theta_0 \\ & - \theta_1 E(Z_{t+l-1} | X_t, X_{t-1}, \dots, X_1) - \theta_2 E(Z_{t+l-2} | X_t, X_{t-1}, \dots, X_1) \\ & - \dots - \theta_q E(Z_{t+l-q} | X_t, X_{t-1}, \dots, X_1) \end{aligned}$$

که در آن

$$E(Z_{t+j} | X_t, X_{t-1}, \dots, X_1) = \begin{cases} 0 & j \geq 1 \\ Z_{t+j} & j \leq 0 \end{cases}$$

مثال

توجه می کنیم که $\hat{X}_t(j)$ یک پیش بینی واقعی برای $0 > j$ است لیکن

$$\hat{X}_t(j) = X_{t+j} \quad -(P-1) \leq j \leq 0$$



مثال

برای الگوی $X_t = \alpha_1 X_{t-1} + Z_t - \theta Z_{t-1}$ داریم:

$$\hat{X}_t(1) = \alpha X_t + \theta_0 - \theta Z_t \quad (1)$$

و به طور کلی،

$$\hat{X}_t(2) = \alpha \hat{X}_t(1) + \theta_0$$

$$\hat{X}_t(l) = \alpha \hat{X}_t(l-1) + \theta_0 \quad l \geq 2 \quad (2)$$

از حل معادلات (1) و (2) و همچنین با تکرار می توان عبارت صریح زیر را پیدا کرد.

$$\hat{X}_t(l) = \mu + \alpha^l (X_t - \mu) - \alpha^{l-1} \theta Z_t \quad l \geq 1$$

در عین حال به ازای $l > q$ داریم:

$$\hat{X}_t(l) = \alpha_1 \hat{X}_t(l-1) + \alpha_2 \hat{X}_t(l-2) + \dots + \alpha_p \hat{X}_t(l-p) + \theta_0 \quad l > q$$



فصل هفتم

فرآیند های مانا در قلمرو فرکانس

Payam Noor University Ebook

PNueb

...کتابخانه الکترونیک پیام نور....



فصل هفتم : فرآیند های مانا در قلمرو فرکانس

اهداف فصل

مقدمه

تابع توزیع طیفی

تابع چگالی طیفی

تابع مولد اتوکواریانس

WWW*PNUeB*COM



هدف کلی

آشنایی با تابع چگالی طیفی و تحلیل نوسانات سری زمانی در فرکانسهای مختلف.

هدفهای رفتاری

پس از مطالعه این فصل می‌توانید:

- الگویی برای یک سری زمانی با مؤلفه‌های دوره‌ای ارائه دهید،
- قضیه وینر - خنیتشین را درباره وجود تابع توزیع طیفی بنویسید،
- تابع توزیع طیفی را تعریف کنید،
- قضیه تجزیه والد یک فرآیند مانا را بنویسید،
- شکل نرمال شده تابع توزیع طیفی را بنویسید،
- تابع چگالی طیفی (طیف) را تعریف کنید،

- تابع اتوکوواریانس و تابع چگالی طیفی را مقایسه کنید و رابطه بین آنها را بنویسید،
- تابع چگالی طیفی نرمال شده را تعریف کنید،
- طیف یک فرآیند تصادفی محض را به دست آورید،
- فرآیند *white noise* را تعریف کنید،
- طیف فرآیند اتورگرسیو مرتبه اول را به دست آورید،
- طیف فرآیند میانگین متحرک مرتبه اول را به دست آورید،
- تابع مولد اتوکوواریانس را تعریف کنید،
- رابطه بین طیف و تابع مولد اتوکوواریانس را بیان کنید،
- با استفاده از تابع مولد اتوکوواریانس، واریانس و اتوکوواریانس فرآیند را به دست آورید،

مقدمه

روشهای سری زمانی در فصول گذشته که ارائه گردید از توابع اتوکوواریانس و خودهمبستگی و خودهمبستگی جزئی برای مطالعهٔ تکامل تدریجی یک سری زمانی با توجه به الگوهای پارامتری استفاده می‌کند که این روشها را تحلیل در قلمرو زمان می‌نامند. تحلیل در قلمرو فرکانس روش دیگری است که نوسانات سری زمانی را برحسب رفتار سینوسی در فرکانسهای مختلف بیان می‌کند. در این فصل تابع مهم دیگری که «تابع چگالی طیفی» یا به اختصار «طیف» نامیده می‌شود و در واقع مکمل تابع اتوکوواریانس است را معرفی می‌کنیم. ضرورت روشهای فرکانس در زمینه‌هایی چون مهندسی برق، ژئوفیزیک و هواشناسی به‌طور گسترده‌ای احساس می‌شود.



تابع توزیع طیفی

تابع توزیع طیفی

تذکر

قضیه وینر و خنیتشن

شکل نرمال شده تابع توزیع طیفی

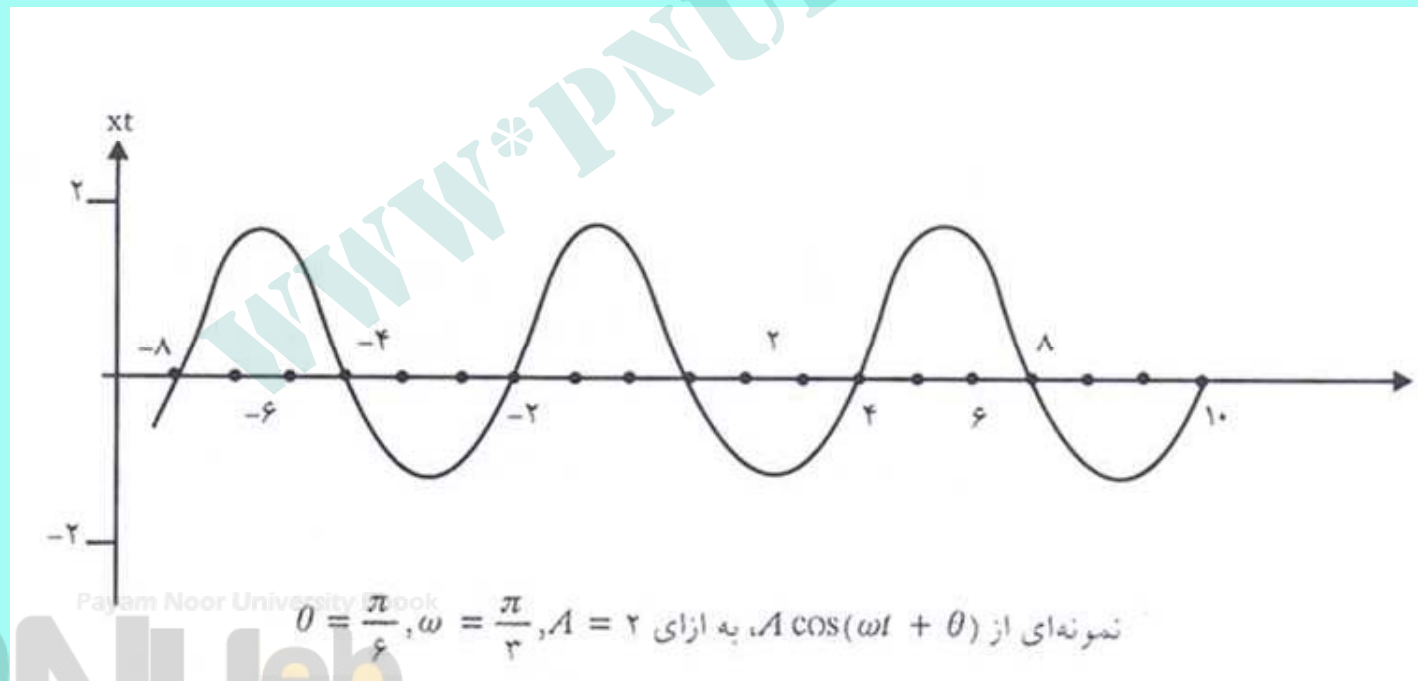
WWW*PNUeB*.COM

تابع توزیع طیفی

فرض کنید یک سری زمانی شامل مؤلفه‌ای دوره‌ای با فرکانس معلوم است، در این صورت الگوی طبیعی زیر را داریم،

$$X_t = A \cos(\omega t + \theta) + Z_t$$

در این الگو ω فرکانس تغییرات دوره‌ای، A دامنه تغییرات، θ فاز و Z_t یک سری تصادفی مانا را نشان می‌دهد شکل زیر مثالی از مؤلفه دوره‌ای را نشان می‌دهد.



در این صورت می توان نشان داد که هر فرآیند مانای گسسته‌ای که در فاصله زمانی واحد اندازه‌گیری می شود را می توانیم به شکل

$$X_t = \int_0^{\pi} \cos \omega t dv(\omega) + \int_0^{\pi} \sin \omega t du(\omega)$$

نمایش دهیم که در آن $U(\omega)$ و $V(\omega)$ فرآیندهای نابسته با نمودهای متعامدی هستند که به ازای هر ω واقع در فاصله $(0, \pi)$ تعریف شده باشند. منظور از این مطلب آن است که متغیرهای تصادفی $[U(\omega_2) - U(\omega_1)]$ و $[U(\omega_4) - U(\omega_3)]$ در بازه‌های غیرمقاطع (ω_1, ω_2) و (ω_3, ω_4) ناهمبسته‌اند. معادله فوق را نمایش طیفی فرآیند می‌نامند. نکته اصلی در معرفی نمایش طیفی فوق این است که نشان دهیم هر فرکانس واقع در فاصله $(0, \pi)$ در تغییرات فرآیند می‌تواند چقدر سهمیم باشد.



تذکر:

باید توجه داشته باشیم که زاویه $(\omega t + \theta)$ برحسب رادیان اندازه گیری می شود. چون ω برابر است با تعداد رادیانها در واحد زمان لذا بعضی اوقات فرکانس «زاویه‌ای» یا به اختصار فرکانس نامیده می شود. بعضی ها فرکانس را به صورت $f = \omega / 2\pi$ یعنی «تعداد دوره‌ها در واحد زمان» در نظر می گیرند، این فرکانس اغلب برای تعبیر و تفسیر داده‌ها به کار برده می شود و $2\pi / \omega$ را «طول موج» می نامند.



قضیه وینر و خنیتشین (مربوط به فرآیندهای حقیقی)

برای هر فرآیند تصادفی مانا با تابع اتوکوواریانس γ_k ، تابع یکنوای افزایشی $F(\omega)$ وجود دارد به طوری که

$$\gamma_k = \int \cos k\omega dF(\omega)$$

این معادله را نمایش طیفی تابع اتوکوواریانس و $F(\omega)$ را تابع توزیع طیفی می نامند. تابع توزیع طیفی را به صورت زیر نیز می توان تعریف کرد.



شکل نرمال شده تابع توزیع طیفی

گاهی اوقات از شکل نرمال شده $F(\omega)$ که با رابطه

$$F^*(\omega) = \frac{F(\omega)}{\sigma_x^2}$$

یعنی نسبت واریانس حاصل از فرکانس در بازه (ω, ∞) داده می شود استفاده می شود. چون $F^*(\pi) = 1$ و $F^*(\omega)$ یکنوایی افزایشی است لذا $F^*(\omega)$ خواصی مشابه با تابع توزیع تجمعی دارد. حال تابع چگالی طیفی را معرفی می کنیم.



تابع چگالی طیفی

تعریف تابع چگالی طیفی

رابطه بین تابع اتوکواریانس و تابع چگالی طیفی

تابع چگالی طیفی یک فرآیند تصادفی محض

طیف فرآیند اتورگرسیو مرتبه اول

طیف فرآیند میانگین متحرک مرتبه اول

WWW.PNUeB.COM

تابع چگالی طیفی (طیف)

برای یک فرآیند مانای گسسته تصادفی، تابع توزیع طیفی تابعی پیوسته بر $(0, \pi)$ است و می‌توانیم از آن نسبت به ω مشتق بگیریم. مشتق این تابع توزیع طیفی را با $f(\omega)$ نمایش داده و به صورت زیر تعریف می‌کنیم

$$f(\omega) = \frac{dF(\omega)}{d\omega}$$

و آن را تابع چگالی طیفی (طیف) می‌نامیم.

اگر $f(\omega)$ وجود داشته باشد از رابطه

$$\gamma(k) = \int_0^{\pi} \cos k\omega dF(\omega)$$

خواهیم داشت

$$\gamma(k) = \int_0^{\pi} \cos k\omega f(\omega) d\omega$$

که از آن با فرض $k = 0$ عبارت زیر حاصل می شود

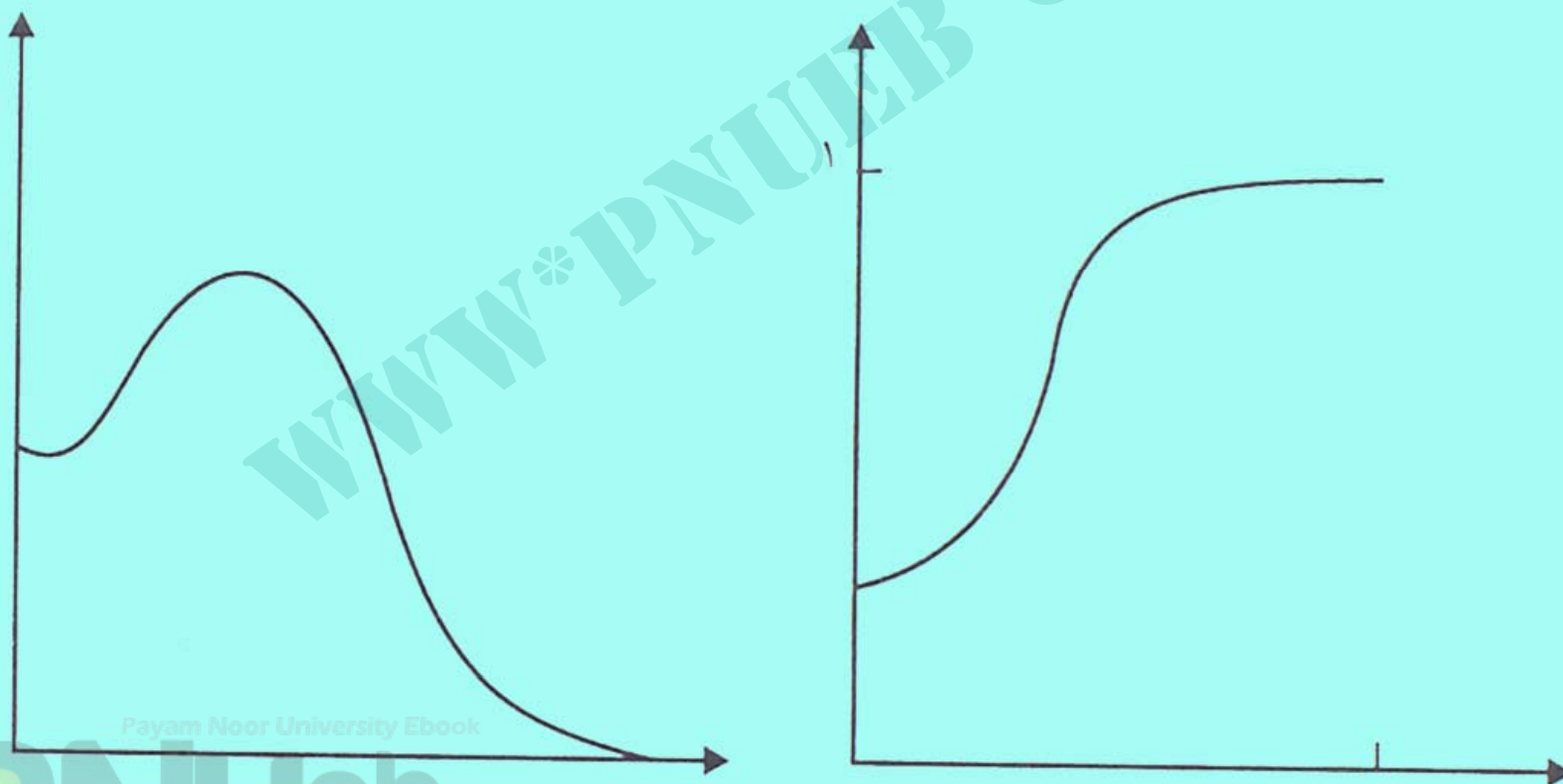
$$\gamma_0 = \sigma_x^2 = \text{واریانس فرآیند}$$

$$= \int_0^{\pi} f(\omega) d\omega = F(\pi)$$

$f(\omega)d\omega$ را می توان به عنوان سهم واریانس مؤلفه های با فرکانسهای واقع

در فاصله $(\omega, \omega + d\omega)$ تعبیر نمود.

اگر تابع چگالی طیفی را داشته باشیم و آن را رسم کنیم سطح زیر منحنی آن برابر واریانس فرآیند خواهد بود. مثالی از تابع چگالی طیفی همراه با تابع توزیع طیفی نرمال شده مربوط به آن در شکل زیر نشان داده شده است.



Payam Noor University Ebook

PNUJeb

رابطه بین تابع اتوکوواریانس و تابع چگالی طیفی

به چند نکته مهم زیر توجه کنید.

۱. تابع اتوکوواریانس و تابع چگالی طیفی (طیف) راههای معادل بیان یک فرآیند تصادفی مانا هستند که یکدیگر را در عمل تکمیل می‌کنند.

۲. دو تابع اتوکوواریانس و چگالی طیفی اطلاعات یکسانی دارند لیکن بیان آنها متفاوت است، گاهی اوقات یک روش در قلمرو زمان که بر پایه تابع اتوکوواریانس قرار دارد مفیدتر است در حالی که بعضی اوقات یک روش در قلمرو فرکانس ترجیح داده می‌شود.

۳. رابطه بین این دو تابع تا اندازه‌ای مشابه رابطه بین چگالی احتمال و تابع مشخصه یک توزیع احتمال پیوسته است.

$$\gamma(k) = \int_{-\pi}^{\pi} \cos k\omega f(\omega) d\omega \Leftrightarrow f(\omega) = \frac{1}{\pi} \sum_{k=-\infty}^{\infty} \gamma(k) e^{-ik\omega}$$

Payam Noor University Ebook

PNUweb

تابع چگالی طیفی «تبدیل فوریه» تابع اتوکوواریانس است. با توجه به زوج بودن تابع اتوکوواریانس ($\gamma(k) = \gamma(-k)$) می توان نوشت

$$\begin{aligned}
 f(\omega) &= \frac{1}{\pi} \left[\gamma(\cdot) + \sum_{k=-\infty}^{-1} \gamma(k) e^{-ik\omega} + \sum_{k=1}^{\infty} \gamma(k) e^{-ik\omega} \right] \\
 &= \frac{1}{\pi} \left[\gamma(\cdot) + \sum_{k=1}^{\infty} \gamma(-k) e^{ik\omega} + \sum_{k=1}^{\infty} \gamma(k) e^{-ik\omega} \right] \\
 &= \frac{1}{\pi} \left[\gamma(\cdot) + 2 \sum_{k=1}^{\infty} \gamma(k) \{e^{ik\omega} + e^{-ik\omega}\} \right] \\
 &= \frac{1}{\pi} \left[\gamma(\cdot) + 2 \sum_{k=1}^{\infty} \gamma(k) \cos k\omega \right]
 \end{aligned}$$

Payam Noor University Ebook

PNUweb



تابع چگالی طیفی (طیف) یک فرآیند تصادفی محض

تابع اتوکوواریانس فرآیند تصادفی محض $\{Z_t\}$ عبارت است از:

$$\gamma(k) = \begin{cases} \sigma_z^2 & , k = 0 \\ 0 & , k \neq 0 \end{cases}$$

بنابراین با توجه به

$$f(\omega) = \frac{1}{\pi} \left[\gamma(0) + 2 \sum_{k=1}^{\infty} \gamma(k) \cos k\omega \right]$$

می توان نوشت

$$f(\omega) = \frac{1}{\pi} [\sigma_z^2 + 0] = \frac{\sigma_z^2}{\pi}$$

که از آن نتیجه می شود که طیف در فاصله $(0, \pi)$ مقدار ثابتی است و این بدان معنی است که سهم واریانس در تمام فرکانسها مساوی است.



طیف فرآیند اتورگرسیو مرتبه اول

این فرآیند را به صورت $X_t = \alpha X_{t-1} + Z_t$ تعریف کردیم و دیدیم که تابع اتوکواریانس آن به صورت زیر است

$$\gamma(k) = \sigma_z^2 \alpha^{|k|}, \quad k = 0, \pm 1, \dots$$

بنابراین با توجه به


$$f(\omega) = \frac{1}{\pi} \sum_{k=-\infty}^{\infty} \gamma(k) e^{-ik\omega}$$

تابع چگالی طیفی عبارت است از

$$f(\omega) = \frac{\sigma_z^2}{\pi(1 - 2\alpha \cos \omega + \alpha^2)}$$



ملاحظه می‌کنیم که شکل طیف بستگی به علامت α دارد. به طوری که در شکل زیر نشان داده شده وقتی $\alpha > 0$ و در نتیجه خودهمبستگی سری مثبت است، طیف تحت تأثیر مؤلفه‌های با فرکانس پایین واقع می‌شود. اگر $\alpha < 0$ خودهمبستگی سری است و طیف تحت تأثیر مؤلفه‌های با فرکانس بالا واقع می‌شود. به بیان دیگر تحت تأثیر قرار گرفتن طیف به وسیله فرکانسهای پایین نسبتاً هموار بودن سری را نشان می‌دهد، در صورتی که تحت تأثیر قرار گرفتن طیف با فرکانسهای بالا ناهموار بودن سری را نتیجه می‌دهد.



طیف فرآیند میانگین متحرک مرتبه اول

این فرآیند را به صورت $X_t = Z_t - \beta Z_{t-1}$ تعریف نمودیم و ثابت کردیم تابع خودهمبستگی آن عبارت است از

$$\rho_k = \begin{cases} 1 & k = 0 \\ \frac{-\beta}{1 + \beta^2} & k = 1 \\ 0 & k \geq 2 \end{cases}$$

بنابراین با توجه به

$$f^*(\omega) = \frac{1}{\pi} \left[1 + 2 \sum_{k=1}^{\infty} \rho_k \cos k\omega \right]$$

تابع چگالی طیفی نرمال شده در فاصله $(0, \pi)$ به صورت زیر است

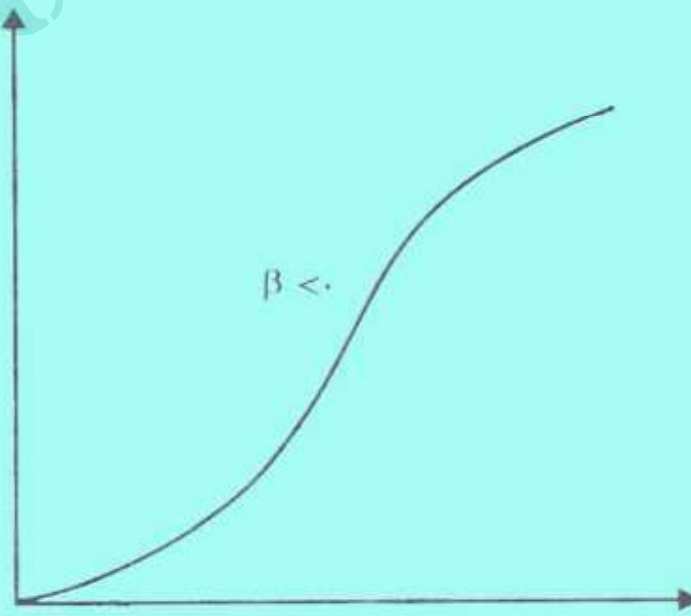

$$f^*(\omega) = \frac{1}{\pi} \left[1 - \frac{2\beta \cos \omega}{1 + \beta^2} \right]$$

بنابراین تابع چگالی طیفی عبارت است از

$$f(\omega) = \sigma_x^2 f^*(\omega) = \frac{\sigma_z^2}{\pi} [1 + \beta^2 - 2\beta \cos \omega]$$



ملاحظه می‌کنیم که شکل $f(\omega)$ به علامت β بستگی دارد. بنابراین وقتی β مثبت است خودهمبستگی سری منفی بوده و در نتیجه نسبتاً ناهموار است که با یک طیف با مقادیر بالا در فرکانسهای بالا نشان داده می‌شود. همین‌طور وقتی β منفی است خودهمبستگی سری مثبت بوده و در نتیجه نسبتاً هموار است. این دو حالت در شکل زیر نشان داده می‌شود و به طوری که انتظار داشتیم تابع خودهمبستگی در قلمرو زمان و طیف در قلمرو فرکانس درست اطلاعات یکسانی را در مورد فرآیند دارا می‌باشند.



تابع مولد اتوکوواریانس

تابع مولد اتوکوواریانس یک فرآیند مانای گسسته که آن را به $\Gamma(B)$ نمایش می‌دهیم یا

$$\Gamma(B) = \sum_{k=-\infty}^{\infty} \gamma(k) B^k$$

رابطه بین طیف و تابع مولد اتوکوواریانس

اگر دنباله اتوکوواریانسهای معلوم $\gamma(k)$ مطلقاً جمع‌پذیر باشد آنگاه طیف یا چگالی طیفی وجود دارد و دیدیم که طیف به صورت زیر است

$$f(\omega) = \frac{1}{\pi} \sum_{k=-\infty}^{\infty} \gamma(k) e^{-ik\omega}$$

تذکر

مثال

بنابراین در مقایسه این تابع با تابع مولد اتوکوواریانس رابطه زیر عاید می‌شود

$$f(\omega) = \frac{1}{\pi} \Gamma(e^{-i\omega})$$

از این نتیجه می‌توان برای به دست آوردن طیف بسیاری از فرآیندهایی که معمولاً مورد استفاده قرار می‌گیرند استفاده کرد.

تذکر ۱: با استفاده از تابع مولد اتوکوواریانس $\Gamma(B) = \sum_{k=-\infty}^{\infty} \gamma(k) B^k$ می توان

واریانس (γ_0) و اتوکوواریانس در تأخیر k ، $(\gamma(k))$ را به دست آورد. می توان نوشت،

$$\Gamma(B) = \dots + \gamma(-2)B^{-2} + \gamma(-1)B^{-1} + \gamma(0)B^0 + \gamma(1)B^1 + \gamma(2)B^2 + \dots$$

ملاحظه می کنیم که واریانس فرآیند یعنی γ_0 ضریب $B^0 = 1$ و اتوکوواریانس در تأخیر

k ، $\gamma(k)$ ضریب B^k و B^{-k} است.



تذکر ۲: می توان نشان داد که برای یک فرآیند میانگین متحرک نامتناهی $X_t = \theta(B)Z_t$

که در آن $\{Z_t\}$ فرآیند تصادفی محض و $\theta(B) = \sum_{j=0}^{\infty} b_j B^j$ است تابع مولد اتوکواریانس

به صورت زیر است

$$\Gamma(B) = \sigma_z^2 \theta(B)\theta(B^{-1})$$



مثال

تابع مولد اتوکوواریانس یک فرآیند اتورگرسیو مرتبه اول را به دست آورده پس با توجه به رابطه‌ای که بین این تابع و طیف فرآیند وجود دارد تابع چگالی طیفی فرآیند را به دست آورید.
حل: فرآیند $AR(1)$ مانای $(1 - \phi B)X_t = Z_t$ را که در آن $\{Z_t\}$ فرآیند تصادفی محض است در نظر می‌گیریم. داریم

$$X_t = \frac{Z_t}{(1 - \phi B)}$$

تذکر : می‌توان نشان داد که برای یک فرآیند میانگین متحرک نامتناهی

$$X_t = \theta(B)Z_t$$

که در آن $\{Z_t\}$ فرآیند تصادفی محض و $\theta(B) = \sum_{j=0}^{\infty} b_j B^j$ است تابع مولد اتوکوواریانس به

صورت زیر است

$$\Gamma(B) = \sigma_z^2 \theta(B) \theta(B^{-1})$$

$$\Gamma(B) = \sigma_z^2 \frac{1}{(1-\phi B)} \times \frac{1}{(1-\phi B^{-1})}$$

حال از رابطه $f(\omega) = \frac{1}{\pi} \Gamma(e^{-i\omega})$ استفاده کرده و طیف فرآیند $AR(1)$ را به صورت زیر پیدا می‌کنیم

$$f(\omega) = \frac{\sigma_z^2}{\pi} \times \frac{1}{(1-\phi e^{-i\omega})(1-\phi e^{i\omega})}$$

$$= \frac{\sigma_z^2}{\pi} \times \frac{1}{(1+\phi^2 - 2\phi \cos \omega)}$$



راهنمای استفاده از برنامه پاورپوینت برای سری زمانی :


دسترسی به کلیه مطالب از طریق لینکهای موجود در صفحات امکان پذیرمی باشد . و علاوه بر عناوین فصلها و بخشها که به صورت زیر خط دار مشخص شده اند سایر کلمات موجود در صفحات که با شماره و یا حرف مشخص شده اند و همچنین کلماتی نظیر مثال، حل، تذکر، شکل، تبصره،... لینکهایی هستند که صفحات مرتبط با هر کلمه را نشان می دهند.

شناسایی لینکهای صفحه با استفاده از ماوس :

با حرکت و ثابت نگه داشتن نشانگر بر روی متن مورد نظر چنانچه آن متن دارای لینک باشد علامت دست ظاهر میشود. که با کلیک بر روی آن می توان به صفحات مرتبط با آن لینک رفت.

شناسایی لینکهای صفحه با استفاده از صفحه کلید :

با زدن دکمه *Tab* از صفحه کلید، کلیه لینکهای موجود در صفحه به ترتیب به وسیله یک مستطیل خط چین شده به نمایش در می آیند که با زدن دکمه *Enter* میتوان به صفحات مرتبط با آن لینک رفت.

با زدن دکمه بازگشت به شکل  در هر مرحله می توان به صفحه لینک مرتبط بازگشت